

Notations :

- Options shown in green color and with ✓ icon are correct.
- Options shown in red color and with ✖ icon are incorrect.

Question Paper Name:	GSMA 18 Feb 20 S1
Subject Name:	General Studies Mental Ability
Creation Date:	2020-02-18 15:18:14
Duration:	150
Total Marks:	150
Display Marks:	Yes
Share Answer Key With Delivery Engine:	No
Actual Answer Key:	Yes
Calculator:	None
Magnifying Glass Required?:	No
Ruler Required?:	No
Eraser Required?:	No
Scratch Pad Required?:	No
Rough Sketch/Notepad Required?:	No
Protractor Required?:	No
Show Watermark on Console?:	Yes
Highlighter:	No
Auto Save on Console?:	No

Sub-Section Number:	1
Sub-Section Id:	7164479
Question Shuffling Allowed :	Yes

Question Number : 1 Question Id : 716447751 Question Type : MCQ Option Shuffling : Yes Negative Marks Display Text : 1/3 Correct Marks : 1 Wrong Marks : 0.33

In which of the following countries did the India and Japan 2+2 Ministerial Dialogue take place in November 2019?

ఈ క్రింది ఏ దేశంలో భారతదేశం మరియు జపాన్ 2+2 మంత్రివర్గ సంభాషణ 2019 నవంబర్లో జరిగింది?

Options :

India

1. ✓ భారతదేశం

Japan

2. ✖ జపాన్

China

3. ✖ చైనా

Bangkok

4. ✖ బ్యాంకాక్

Question Number : 2 Question Id : 716447752 Question Type : MCQ Option Shuffling : Yes Negative Marks Display Text : 1/3
Correct Marks : 1 Wrong Marks : 0.33

When is International Human Rights Day observed?

అంతర్జాతీయ మానవ హక్కుల దినోత్సవం ఎప్పుడు జరుపుకుంటారు?

Options :

2 October

1. ✖ 2 అక్టోబర్

14 November

2. ✖ 14 నవంబర్

10 December

3. ✔ 10 డిసెంబర్

6 December

4. ✖ 6 డిసెంబర్

Question Number : 3 Question Id : 716447753 Question Type : MCQ Option Shuffling : Yes Negative Marks Display Text : 1/3
Correct Marks : 1 Wrong Marks : 0.33

Which of the following beauty pageants did Jamaica's Toni-Ann Singh win?

ఈ క్రింది అందాల పోటీలలో దేనిని జమైకా యొక్క టోని-ఆన్ సింగ్ గెలుచుకుంది?

Options :

Miss Universe 2019

1. ✖ మిస్ యూనివర్స్ 2019

Miss World 2019

2. ✔ మిస్ వరల్డ్ 2019

Miss Asia Pacific 2019

3. ✖ మిస్ ఆసియా పసిఫిక్ 2019

Mrs. World 2019

4. ✖ మిసెస్ వరల్డ్ 2019

Question Number : 4 Question Id : 716447754 Question Type : MCQ Option Shuffling : Yes Negative Marks Display Text : 1/3

Correct Marks : 1 Wrong Marks : 0.33

Which of the following countries will host the '2nd Global Summit on Earth Science and Climate Change' in September 2020?

కింది దేశాలలో ఏ దేశం సెప్టెంబరు 2020లో '2nd గ్లోబల్ సమ్మిట్ ఆన్ ఎర్త్ సైన్స్ అండ్ క్లైమేట్ చేంజ్' ను నిర్వహిస్తుంది?

Options :

Czech Republic

1. ✔ చెక్ రిపబ్లిక్

Germany

2. ✖ జర్మనీ

India

3. ✖ భారతదేశం

Singapore

4. ✖ సింగపూర్

Question Number : 5 Question Id : 716447755 Question Type : MCQ Option Shuffling : Yes Negative Marks Display Text : 1/3

Correct Marks : 1 Wrong Marks : 0.33

Indian Navy Day is celebrated on _____.

భారత నేవీ దినోత్సవం _____ న జరుపుకుంటారు.

Options :

5 October

1. ✘ 5 అక్టోబర్

17 November

2. ✘ 17 నవంబర్

19 July

3. ✘ 19 జూలై

4 December

4. ✔ 4 డిసెంబర్

Question Number : 6 Question Id : 716447756 Question Type : MCQ Option Shuffling : Yes Negative Marks Display Text : 1/3

Correct Marks : 1 Wrong Marks : 0.33

In which of the following cities was the 'All India Conference of Directors General and Inspectors General of Police' held in December 2019?

ఈ క్రింది నగరాలలో 2019 డిసెంబరులో జరిగిన 'ఆల్ ఇండియా కాన్ఫరెన్స్ ఆఫ్ డైరెక్టర్స్ జనరల్ మరియు ఇన్స్పెక్టర్ జనరల్ ఆఫ్ పోలీస్' ఏక్కడ జరిగింది?

Options :

Pune

1. ✔ పూణే

Nashik

2. ✘ నాసిక్

Bengaluru

3. ✘ బెంగళూరు

Patna

4. ✖ పాట్నా

Question Number : 7 Question Id : 716447757 Question Type : MCQ Option Shuffling : Yes Negative Marks Display Text : 1/3
Correct Marks : 1 Wrong Marks : 0.33

Which of the following days is observed as International Volunteer Day?

ఈ క్రింద పేర్కొన్న ఏ రోజున అంతర్జాతీయ వాలంటీర్ దినోత్సవం జరుపుకుంటారు?

Options :

5 December

1. ✔ 5 డిసెంబర్

7 December

2. ✖ 7 డిసెంబర్

10 May

3. ✖ 10 మే

30 July

4. ✖ 30 జూలై

Question Number : 8 Question Id : 716447758 Question Type : MCQ Option Shuffling : Yes Negative Marks Display Text : 1/3
Correct Marks : 1 Wrong Marks : 0.33

In which of the following states will the '23rd National Conference on e-Governance' be held in February 2020?

ఈ క్రింది రాష్ట్రాల్లో 2020 ఫిబ్రవరిలో 'ఇ-గవర్నెన్స్ పై 23 వ జాతీయ సదస్సు' ఎక్కడ జరుగుతుంది?

Options :

Sikkim

1. ✖ సిక్కిం

New Delhi

2. ✖ న్యూఢిల్లీ

Maharashtra

3. ✓ మహారాష్ట్ర

Punjab

4. ✘ పంజాబ్

Question Number : 9 Question Id : 716447759 Question Type : MCQ Option Shuffling : Yes Negative Marks Display Text : 1/3
Correct Marks : 1 Wrong Marks : 0.33

Which of the following countries hosted the '2019 NATO (North Atlantic Treaty Organization) Summit'?

కింది దేశాలలో '2019 నాటో (నార్థ్ అట్లాంటిక్ ట్రీటీ ఆర్గనైజేషన్) సమ్మిట్' నిర్వహించిన దేశం?

Options :

The UK

1. ✓ యునైటెడ్ కింగ్ డమ్

The US

2. ✘ యుఎస్

Germany

3. ✘ జర్మనీ

Russia

4. ✘ రష్యా

Question Number : 10 Question Id : 716447760 Question Type : MCQ Option Shuffling : Yes Negative Marks Display Text : 1/3
Correct Marks : 1 Wrong Marks : 0.33

Which party won the general election in Britain?

బ్రిటన్లో జరిగిన సార్వత్రిక ఎన్నికల్లో ఏ పార్టీ గెలిచింది?

Options :

Labour Party

1. ✘ లేబర్ పార్టీ

Scottish National Party

2. ✖ స్కాటిష్ నేషనల్ పార్టీ

Conservative Party

3. ✔ కన్జర్వేటివ్ పార్టీ

Liberal Democrats

4. ✖ లిబరల్ డెమోక్రాట్స్

Question Number : 11 Question Id : 716447761 Question Type : MCQ Option Shuffling : Yes Negative Marks Display Text : 1/3
Correct Marks : 1 Wrong Marks : 0.33

In December 2019, _____ announced that it would be setting up 45 new fast-track courts to hear cases of sexual crimes against women and children in the state.

రాష్ట్రంలో మహిళలు మరియు పిల్లలపై లైంగిక నేరాల కేసులను విచారించడానికి కొత్తగా 45 ఫాస్ట్ ట్రాక్ కోర్టులను ఏర్పాటు చేయనున్నట్లు 2019 డిసెంబర్లో _____ ప్రకటించింది.

Options :

West Bengal

1. ✖ పశ్చిమ బెంగాల్

Odisha

2. ✔ ఒడిషా

Maharashtra

3. ✖ మహారాష్ట్ర

Tamil Nadu

4. ✖ తమిళనాడు

Question Number : 12 Question Id : 716447762 Question Type : MCQ Option Shuffling : Yes Negative Marks Display Text : 1/3
Correct Marks : 1 Wrong Marks : 0.33

In December 2019, the Union cabinet gave its approval to India for the country to sign an MoU with _____ on Bioenergy Cooperation.

బయోఎనర్జీ సహకారం మీద _____ తో ఒక అవగాహన ఒప్పందంపై సంతకం చేయడానికి 2019 డిసెంబర్‌లో కేంద్ర మంత్రివర్గం భారతదేశానికి అనుమతి ఇచ్చింది.

Options :

Australia

1. ✘ ఆస్ట్రేలియా

Brazil

2. ✔ బ్రెజిల్

UAE

3. ✘ యుఎఇ

China

4. ✘ చైనా

Question Number : 13 Question Id : 716447763 Question Type : MCQ Option Shuffling : Yes Negative Marks Display Text : 1/3 Correct Marks : 1 Wrong Marks : 0.33

In November 2019, _____ was sworn in as the 18th Chief Minister of Maharashtra.

నవంబర్ 2019 లో, మహారాష్ట్ర 18 వ ముఖ్యమంత్రిగా _____ ప్రమాణ స్వీకారం చేశారు.

Options :

Uddhav Thackeray

1. ✔ ఉద్ధవ్ ఠాకే

Gopinath Munde

2. ✘ గోపీనాథ్ ముండే

Chhagan Bhujbal

3. ✘ చగన్ భుజ్బల్

4. ✖ ప్రమోద్ సావంత్

Question Number : 14 Question Id : 716447764 Question Type : MCQ Option Shuffling : Yes Negative Marks Display Text : 1/3
Correct Marks : 1 Wrong Marks : 0.33

Who topped Forbes' 2019 list of 100 Most Powerful Women of the World?

ప్రపంచంలోని 100 అత్యంత శక్తివంతమైన మహిళల ఫోర్బ్స్ 2019 జాబితాలో ఎవరు అగ్రస్థానంలో ఉన్నారు?

Options :

Mary Barra

1. ✖ మేరీ బార్రా

Nancy Pelosi

2. ✖ నాన్సీ పేలోసి

Angela Merkel

3. ✓ ఏంజెలా మెర్కెల్

Nirmala Sitharaman

4. ✖ నిర్మలా సీతారామన్

Question Number : 15 Question Id : 716447765 Question Type : MCQ Option Shuffling : Yes Negative Marks Display Text : 1/3
Correct Marks : 1 Wrong Marks : 0.33

Who was appointed as the next High Commissioner of India to Ghana?

ఘనాకు భారత తదుపరి హైకమిషనర్ గా ఎవరు నియమించబడ్డారు?

Options :

Renu Pall

1. ✖ రేణు పాల్

Vinay Kumar

2. ✖ వినయ్ కుమార్

Prakash Javdekar

3. ✖ ప్రకాష్ జవ్దేకర్

C Sugandh Rajaram

4. ✔ సి సుగంధ్ రాజారామ్

Question Number : 16 Question Id : 716447766 Question Type : MCQ Option Shuffling : Yes Negative Marks Display Text : 1/3
Correct Marks : 1 Wrong Marks : 0.33

How many communities are eligible for Indian citizenship, according to Citizenship Amendment Bill, 2019?

పౌరసత్వ సవరణ బిల్లు, 2019 ప్రకారం ఎన్ని వర్గాలు భారత పౌరసత్వానికి అర్హులు?

Options :

14

1. ✖ 14

8

2. ✖ 8

6

3. ✔ 6

9

4. ✖ 9

Question Number : 17 Question Id : 716447767 Question Type : MCQ Option Shuffling : Yes Negative Marks Display Text : 1/3
Correct Marks : 1 Wrong Marks : 0.33

Which of the following countries took full control of its air space in December 2019 for the first time ever after its 1990s war of independence?

1990ల స్వాతంత్ర్య యుద్ధం తరువాత మొదటిసారిగా కింది దేశాలలో 2019 డిసెంబర్లో దాని వాయు స్థలం (ఎయిర్ స్పేస్) పై పూర్తి నియంత్రణను తీసుకుంది?

Options :

Sri Lanka

1. ✖ శ్రీలంక

Bosnia

2. ✓ బోస్నియా

Egypt

3. ✘ ఈజిప్ట్

Australia

4. ✘ ఆస్ట్రేలియా

Question Number : 18 Question Id : 716447768 Question Type : MCQ Option Shuffling : Yes Negative Marks Display Text : 1/3
Correct Marks : 1 Wrong Marks : 0.33

As of November 2019, which of the following countries is on the top position in terms of gold reserves according to World Gold Council?

నవంబర్ 2019 నాటికి, వరల్డ్ గోల్డ్ కౌన్సిల్ ప్రకారం బంగారు నిల్వల విషయంలో ఈ క్రింది దేశాలలో ఏది అగ్రస్థానంలో ఉంది?

Options :

UAE

1. ✘ యుఎఇ

The US

2. ✓ యుఎస్

Japan

3. ✘ జపాన్

India

4. ✘ భారతదేశం

Question Number : 19 Question Id : 716447769 Question Type : MCQ Option Shuffling : Yes Negative Marks Display Text : 1/3
Correct Marks : 1 Wrong Marks : 0.33

In December 2019, _____ closed down its subsidiary in Botswana.

డిసెంబర్ 2019 లో, _____ బోట్స్వానాలోని దాని అనుబంధ సంస్థను మూసివేసింది.

Options :

Bank of India

1. ✓ బ్యాంక్ ఆఫ్ ఇండియా

Federal Bank of India

2. ✘ ఫెడరల్ బ్యాంక్ ఆఫ్ ఇండియా

Union Bank of India

3. ✘ యూనియన్ బ్యాంక్ ఆఫ్ ఇండియా

Punjab National Bank

4. ✘ పంజాబ్ నేషనల్ బ్యాంక్

Question Number : 20 Question Id : 716447770 Question Type : MCQ Option Shuffling : Yes Negative Marks Display Text : 1/3
Correct Marks : 1 Wrong Marks : 0.33

Who was appointed as the chairman of NSE (National Stock Exchange) in December 2019?

2019 డిసెంబర్లో, ఎన్ఎస్ఇ (నేషనల్ స్టాక్ ఎక్స్చేంజ్) చైర్మన్గా ఎవరు నియమించబడ్డారు?

Options :

K Vijay Kumar

1. ✘ కె విజయ్ కుమార్

Vineet Jain

2. ✘ వినీత్ జైన్

Ashok Chawla

3. ✘ అశోక్ చావ్లా

Girish Chandra Chaturvedi

4. ✓ గిరీష్ చంద్ర చతుర్వేది

Question Number : 21 Question Id : 716447771 Question Type : MCQ Option Shuffling : Yes Negative Marks Display Text : 1/3

Correct Marks : 1 Wrong Marks : 0.33

Who among the following was appointed as senior security advisor in the Union Home Ministry?

కింది వారిలో ఎవరు కేంద్ర హోం మంత్రిత్వ శాఖలో సీనియర్ సెక్యూరిటీ అడ్వైజర్‌గా నియమితులయ్యారు?

Options :

Ashok Chawla

1. ✘ అశోక్ చావ్లా

K Vijay Kumar

2. ✔ కె విజయ్ కుమార్

Vineet Jain

3. ✘ వినీత్ జైన్

Jagdeep Dhankhar

4. ✘ జగదీప్ ధంఖర్

Question Number : 22 Question Id : 716447772 Question Type : MCQ Option Shuffling : Yes Negative Marks Display Text : 1/3

Correct Marks : 1 Wrong Marks : 0.33

Who among the following Indian actresses received UNICEF's 'Danny Kaye Humanitarian Award' in December 2019?

కింది భారతీయ నటీమణులలో ఎవరు 2019 డిసెంబర్‌లో యునిసెఫ్ యొక్క 'డానీ కే హ్యూమానిటేరియన్ అవార్డు' అందుకున్నారు?

Options :

Shabana Azmi

1. ✘ షబానా అజ్మీ

Alia Bhatt

2. ✘ ఆలియా భట్

Priyanka Chopra

3. ✔ ప్రియాంక చోప్రా

4. ✖ మాధురి దీక్షిత్

Question Number : 23 Question Id : 716447773 Question Type : MCQ Option Shuffling : Yes Negative Marks Display Text : 1/3
Correct Marks : 1 Wrong Marks : 0.33

Who was elected as the President of Asian Development Bank (ADB) in December 2019?

2019 డిసెంబర్లో, ఏషియన్ డెవలప్ మెంట్ బ్యాంకు (ADB) అధ్యక్షుడిగా ఎవరు ఎన్నికయ్యారు?

Options :

Takehiko Nakao

1. ✖ టికెహికో నాకావో

Masatsugu Asakawa

2. ✓ మసాత్సుగు అసకావా

David Malpass

3. ✖ డేవిడ్ మాల్పాస్

Ravi Mittal

4. ✖ రవి మిట్టల్

Question Number : 24 Question Id : 716447774 Question Type : MCQ Option Shuffling : Yes Negative Marks Display Text : 1/3
Correct Marks : 1 Wrong Marks : 0.33

Who among the following actors was appointed as the brand ambassador of NADA (National Anti-Doping Agency) in December 2019?

డిసెంబర్ 2019లో, కింది నటులలో ఎవరు నాడా (నేషనల్ యాంటి డోపింగ్ ఏజెన్సీ) బ్రాండ్ అంబాసిడర్గా నియమించబడ్డారు?

Options :

Suniel Shetty

1. ✓ సునీల్ శెట్టి

Akshay Kumar

2. ✖ అక్షయ్ కుమార్

Salman Khan

3. ✖ సల్మాన్ ఖాన్

Aamir Khan

4. ✖ అమీర్ ఖాన్

Question Number : 25 Question Id : 716447775 Question Type : MCQ Option Shuffling : Yes Negative Marks Display Text : 1/3
Correct Marks : 1 Wrong Marks : 0.33

Who was re-elected as the President of Namibia in November 2019?

2019 నవంబర్లో, నమీబియా అధ్యక్షుడిగా తిరిగి ఎన్నికైనది ఎవరు?

Options :

Nickey Lyambo

1. ✖ నిక్కి లియాంబో

Nahas Angula

2. ✖ నహాస్ అంగుల

Sam Nujoma

3. ✖ సామ్ నుజోమా

Hage Geingob

4. ✔ హేజ్ జింగోబ్

Question Number : 26 Question Id : 716447776 Question Type : MCQ Option Shuffling : Yes Negative Marks Display Text : 1/3
Correct Marks : 1 Wrong Marks : 0.33

The _____ in the iris that make pigment are called melanocytes.

వర్ణపదార్థం తయారు చేయు కనుపాపలోని _____ ను మెలనోసైట్లు అంటారు.

Options :

veins

1. ✖ సిరలు

blood

2. ✖ రక్తం

cells

3. ✔ కణాలు

protein

4. ✖ ప్రోటీన్

Question Number : 27 Question Id : 716447777 Question Type : MCQ Option Shuffling : Yes Negative Marks Display Text : 1/3
Correct Marks : 1 Wrong Marks : 0.33

Which type of blood group is known as universal donor?

ఏ రక్తమైన బ్లడ్ గ్రూప్ ని విశ్వ దాత అని పిలుస్తారు?

Options :

A

1. ✖ A

B

2. ✖ B

AB

3. ✖ AB

O

4. ✔ O

Question Number : 28 Question Id : 716447778 Question Type : MCQ Option Shuffling : Yes Negative Marks Display Text : 1/3
Correct Marks : 1 Wrong Marks : 0.33

The deficiency of the mineral _____ causes anaemia.

_____ మినరల్ లోపం రక్తహీనతకు కారణమవుతుంది.

Options :

copper

1. ✖ రాగి (కాపర్)

calcium

2. ✖ కాల్షియం

iron

3. ✔ ఇనుము

iodine

4. ✖ అయోడిన్

Question Number : 29 Question Id : 716447779 Question Type : MCQ Option Shuffling : Yes Negative Marks Display Text : 1/3

Correct Marks : 1 Wrong Marks : 0.33

Which of the following countries was left out of EU's 2050 climate neutrality targets in December 2019?

2019 డిసెంబర్లో, EU యొక్క 2050 క్లైమేట్ న్యూట్రాలిటీ (వాతావరణ తటస్థత) లక్ష్యాల నుండి క్రింది ఏ దేశం వదిలివేయబడింది?

Options :

Poland

1. ✔ పోలాండ్

Spain

2. ✖ స్పెయిన్

Sweden

3. ✖ స్వీడన్

The UK

4. ✖ యునైటెడ్ కింగ్ డమ్

Question Number : 30 Question Id : 716447780 Question Type : MCQ Option Shuffling : Yes Negative Marks Display Text : 1/3

Correct Marks : 1 Wrong Marks : 0.33

In which of the following cities did ISRO begin preparations in December 2019 for setting up a third launch pad to undertake the manned space flight programme 'Gaganyaan'?

2019 డిసెంబర్‌లో, క్రింద పేర్కొన్న ఏ నగరంలో మనుషుల అంతరిక్ష విమాన కార్యక్రమం 'గగన్ యాన్'ను చేపట్టడానికి మూడవ లాంచ్ ప్యాడ్ ఏర్పాట్ల సన్నాహాలను ఇస్తో ప్రారంభించింది?

Options :

Sriharikota

1. ✓ శ్రీహరికోట

Bengaluru

2. ✘ బెంగళూరు

Hyderabad

3. ✘ హైదరాబాద్

Rajasthan

4. ✘ రాజస్థాన్

Question Number : 31 Question Id : 716447781 Question Type : MCQ Option Shuffling : Yes Negative Marks Display Text : 1/3

Correct Marks : 1 Wrong Marks : 0.33

Which of the following companies launched the Audible Suno app in India in December 2019?

ఈ క్రింది వాటిలో ఏ సంస్థ (కంపెనీ) 2019 డిసెంబర్‌లో భారతదేశంలో ఆడిబుల్ సునో యాప్‌ను విడుదల చేసింది?

Options :

Amazon

1. ✓ అమెజాన్

Infosys

2. ✘ ఇన్ఫోసిస్

Microsoft

3. ✘ మైక్రోసాఫ్ట్

4. ✖ సామ్ సంగ్

Question Number : 32 Question Id : 716447782 Question Type : MCQ Option Shuffling : Yes Negative Marks Display Text : 1/3
Correct Marks : 1 Wrong Marks : 0.33

Which type of blood group is a universal recipient?

ఏ రక్తమైన బ్లడ్ గ్రూప్ విశ్వ గ్రహీత?

Options :

AB

1. ✓ AB

O

2. ✖ O

B

3. ✖ B

A

4. ✖ A

Question Number : 33 Question Id : 716447783 Question Type : MCQ Option Shuffling : Yes Negative Marks Display Text : 1/3
Correct Marks : 1 Wrong Marks : 0.33

Which of the following Earth observation satellites was successfully launched by ISRO from Sriharikota in December 2019?

కింది ఎర్త్ అబ్జర్వేషన్ శాటిలైట్లలో దేనిని 2019 డిసెంబర్లో ఇస్రో శ్రీహరికోట నుండి విజయవంతంగా ప్రయోగించింది?

Options :

GSAT-15

1. ✖ జిసాట్ - 15

RISAT-2

2. ✖ రిసాట్ - 2

INSAT-3

3. ✖ ఇస్కాట్ - 3

RISAT-2BR1

4. ✔ రిశాట్ - 2బిఆర్1

Question Number : 34 Question Id : 716447784 Question Type : MCQ Option Shuffling : Yes Negative Marks Display Text : 1/3
Correct Marks : 1 Wrong Marks : 0.33

Who was appointed as CEO of Google parent company Alphabet Inc.?

గూగుల్ మాతృ సంస్థ ఆల్ఫాబెట్ ఇంక్ యొక్క CEO గా ఎవరు నియమించబడ్డారు?

Options :

Sundar Pichai

సుందర్ పిచాయ్

1. ✔

Larry Page

2. ✖ లారీ పేజ్

Sergey Brin

3. ✖ సెర్గే బ్రిన్

Vineet Jain

4. ✖ వినీత్ జైన్

Question Number : 35 Question Id : 716447785 Question Type : MCQ Option Shuffling : Yes Negative Marks Display Text : 1/3
Correct Marks : 1 Wrong Marks : 0.33

Which of the following states launched e-learning mobile phone app 'Madhu' in December 2019?

2019 డిసెంబర్లో, ఈ క్రింది ఏ రాష్ట్రం ఈ-లెర్నింగ్ మొబైల్ ఫోన్ యాప్ 'మధు' ను ప్రారంభించింది?

Options :

Assam

1. ✖ అస్సాం

Odisha

2. ✓ ఒడిషా

Kerala

3. ✘ కేరళ

Punjab

4. ✘ పంజాబ్

Question Number : 36 Question Id : 716447786 Question Type : MCQ Option Shuffling : Yes Negative Marks Display Text : 1/3
Correct Marks : 1 Wrong Marks : 0.33

In November 2019, _____ collaborated with ISRO to set up a Space Technology Cell at its campus.

నవంబర్ 2019 లో, తన క్యాంపస్‌లో స్పేస్ టెక్నాలజీ సెల్‌ను ఏర్పాటు చేయడానికి _____ ఇస్తోతో కలిసింది.

Options :

IIT Delhi

1. ✓ ఐఐటి ఢిల్లీ

IIT Hyderabad

2. ✘ ఐఐటి హైదరాబాద్

IIT Roorkee

3. ✘ ఐఐటి రూర్కీ

IIT Guwahati

4. ✘ ఐఐటి గువహాతి

Question Number : 37 Question Id : 716447787 Question Type : MCQ Option Shuffling : Yes Negative Marks Display Text : 1/3
Correct Marks : 1 Wrong Marks : 0.33

In which year was the Andhra Bank established?

ఏ సంవత్సరంలో ఆంధ్ర బ్యాంక్ స్థాపించబడింది?

Options :

1956

1. ✖ 1956

1945

2. ✖ 1945

1923

3. ✔ 1923

1934

4. ✖ 1934

Question Number : 38 Question Id : 716447788 Question Type : MCQ Option Shuffling : Yes Negative Marks Display Text : 1/3
Correct Marks : 1 Wrong Marks : 0.33

In which year was the Dowleswaram dam constructed on the Godavari river?

గోదావరి నదిపై, ధవళేశ్వరం ఆనకట్ట ఏ సంవత్సరంలో నిర్మించబడింది?

Options :

1876

1. ✖ 1876

1879

2. ✖ 1879

1845

3. ✖ 1845

1852

4. ✔ 1852

Question Number : 39 Question Id : 716447789 Question Type : MCQ Option Shuffling : Yes Negative Marks Display Text : 1/3
Correct Marks : 1 Wrong Marks : 0.33

Who became the first Chief Minister of Andhra Pradesh on the formation of the state on 1 November 1956?

1 నవంబర్ 1956 న రాష్ట్ర అవతరణ రోజు, ఆంధ్రప్రదేశ్ మొదటి ముఖ్యమంత్రిగా ఎవరు నియమితులయ్యారు?

Options :

Neelam Sanjiva Reddy

1. ✓ నీలం సంజీవ రెడ్డి

Surjeet Singh Barnala

2. ✘ సుర్జీత్ సింగ్ బర్నాలా

Bhimsen Sachar

3. ✘ బీమ్ సేన్ సచర్

CM Trivedi

4. ✘ CM త్రివేది

Question Number : 40 Question Id : 716447790 Question Type : MCQ Option Shuffling : Yes Negative Marks Display Text : 1/3 Correct Marks : 1 Wrong Marks : 0.33

In which of the following years was the Shri Venkateswara University established in Andhra Pradesh?

క్రింద పేర్కొన్న ఏ సంవత్సరంలో, ఆంధ్రప్రదేశ్‌లో శ్రీ వెంకటేశ్వర విశ్వవిద్యాలయం స్థాపించబడింది?

Options :

1956

1. ✘ 1956

1939

2. ✘ 1939

1945

3. ✘ 1945

1954

4. ✓ 1954

Question Number : 41 Question Id : 716447791 Question Type : MCQ Option Shuffling : Yes Negative Marks Display Text : 1/3
Correct Marks : 1 Wrong Marks : 0.33

In the year 1953, Andhra Pradesh was reorganised on _____ basis.

1953 సంవత్సరంలో, _____ ప్రాతిపదికన ఆంధ్రప్రదేశ్ పునర్వ్యవస్థీకరించబడింది.

Options :

administrative

1. ✖ పరిపాలనా

geographic

2. ✖ భౌగోళిక

religious

3. ✖ మత

linguistic

4. ✔ భాష

Question Number : 42 Question Id : 716447792 Question Type : MCQ Option Shuffling : Yes Negative Marks Display Text : 1/3
Correct Marks : 1 Wrong Marks : 0.33

In the first Madras Legislative Assembly, 1937 elections, which of the following parties came into power?

మద్రాస్ మొదటి శాసనసభ 1937 ఎన్నికలలో, ఈ క్రింది పార్టీలలో ఏది అధికారంలోకి వచ్చింది?

Options :

Justice Party

1. ✖ జస్టిస్ పార్టీ

Communist Party

2. ✖ కమ్యూనిస్ట్ పార్టీ

Indian National Congress

3. ✔ ఇండియన్ నేషనల్ కాంగ్రెస్

4. ✖ సోషలిస్ట్ పార్టీ

Question Number : 43 Question Id : 716447793 Question Type : MCQ Option Shuffling : Yes Negative Marks Display Text : 1/3
Correct Marks : 1 Wrong Marks : 0.33

When was a separate Andhra Pradesh High Court established after the bifurcation of the earlier state into Telangana and Andhra Pradesh?

మునుపటి రాష్ట్రాన్ని తెలంగాణ మరియు ఆంధ్రప్రదేశ్ గా విభజించిన తరువాత ప్రత్యేక ఆంధ్రప్రదేశ్ హైకోర్టు ఎప్పుడు స్థాపించబడింది?

Options :

1 January 2018

1. ✖ 1 జనవరి 2018

1 January 2019

2. ✓ 1 జనవరి 2019

15 March 2015

3. ✖ 15 మార్చి 2015

15 August 2017

4. ✖ 15 ఆగస్టు 2017

Question Number : 44 Question Id : 716447794 Question Type : MCQ Option Shuffling : Yes Negative Marks Display Text : 1/3
Correct Marks : 1 Wrong Marks : 0.33

Andhra Pradesh headed by how many seats in Rajya Sabha?

ఆంధ్రప్రదేశ్ కు, రాజ్యసభలో ఎన్ని సీట్లు ఉన్నాయి?

Options :

11

1. ✓ 11

16

2. ✖ 16

31

3. ✖ 31

23

4. ✖ 23

Question Number : 45 Question Id : 716447795 Question Type : MCQ Option Shuffling : Yes Negative Marks Display Text : 1/3
Correct Marks : 1 Wrong Marks : 0.33

As of December 2019, who was the governor of Andhra Pradesh?

2019 డిసెంబర్ నాటికి, ఆంధ్రప్రదేశ్ గవర్నర్ ఎవరు?

Options :

Ganeshi Lal

1. ✖ గణేశి లాల్

Kalraj Mishra

2. ✖ కలరాజ్ మిశ్రా

Biswabhusan Harichandan

3. ✓ బిస్వభూషణ్ హరిచందన్

ND Tiwari

4. ✖ ఎన్.డి తివారీ

Question Number : 46 Question Id : 716447796 Question Type : MCQ Option Shuffling : Yes Negative Marks Display Text : 1/3
Correct Marks : 1 Wrong Marks : 0.33

Which of the following government schemes did Andhra Pradesh chief minister YS Jagan Mohan Reddy launch in December 2019 for the benefit of junior advocates?

కింద పేర్కొన్న వాటిలో, 2019 డిసెంబర్లో జూనియర్ న్యాయవాదుల ప్రయోజనం కోసం ఆంధ్రప్రదేశ్ ముఖ్యమంత్రి వైయస్ జగన్ మోహన్ రెడ్డి ప్రారంభించిన ప్రభుత్వ పథకం ఏది?

Options :

Arogyasri

1. ✖ ఆరోగ్యశ్రీ

YSR Law Nestham scheme

2. ✓ వైయస్ఆర్ లా నేస్తం పథకం

Meesewa

3. ✘ మీ సేవ

CARD

4. ✘ కార్డ్

Question Number : 47 Question Id : 716447797 Question Type : MCQ Option Shuffling : Yes Negative Marks Display Text : 1/3
Correct Marks : 1 Wrong Marks : 0.33

How many welfare schemes are run by the government of Andhra Pradesh?

ఆంధ్రప్రదేశ్ ప్రభుత్వం ఎన్ని సంక్షేమ పథకాలను నిర్వహిస్తోంది?

Options :

6

1. ✘ 6

16

2. ✘ 16

13

3. ✘ 13

9

4. ✓ 9

Question Number : 48 Question Id : 716447798 Question Type : MCQ Option Shuffling : Yes Negative Marks Display Text : 1/3
Correct Marks : 1 Wrong Marks : 0.33

As of December 2019, who was the DGP of Andhra Pradesh?

డిసెంబర్ 2019 నాటికి, ఆంధ్రప్రదేశ్ డిజిపి ఎవరు?

Options :

Amit Garg

1. ✖ అమిత్ గార్గ్

Harish Kumar Gupta

2. ✖ హరీష్ కుమార్ గుప్తా

Kasi Reddy

3. ✖ కాశీ రెడ్డి

Damodar Gautam Sawang

4. ✔ దామోదర్ గౌతమ్ సావంగ్

Question Number : 49 Question Id : 716447799 Question Type : MCQ Option Shuffling : Yes Negative Marks Display Text : 1/3
Correct Marks : 1 Wrong Marks : 0.33

Which of the following is the web portal of Andhra Pradesh through which people can view land records online?

కింద పేర్కొన్న ఆంధ్రప్రదేశ్ వెబ్ పోర్టల్ లలో దేని ద్వారా ప్రజలు ఆన్‌లైన్‌లో భూ రికార్డులను చూడవచ్చు?

Options :

YSR Law Nestham scheme

1. ✖ వైయస్‌ఆర్ లా నేస్తం పథకం

YSR Asara

2. ✖ వైయస్‌ఆర్ ఆసరా

Amma Vodi

3. ✖ అమ్మ ఒడి

Bhuseva and Bhudaar

4. ✔ భూసేవ మరియు భూదార్

Question Number : 50 Question Id : 716447800 Question Type : MCQ Option Shuffling : Yes Negative Marks Display Text : 1/3
Correct Marks : 1 Wrong Marks : 0.33

Which of the following is an e-Government project started by state government of Andhra Pradesh that aims at the complete computerization of the land registration process?

భూ రిజిస్ట్రేషన్ ప్రక్రియ యొక్క పూర్తి కంప్యూటరీకరణను లక్ష్యంగా చేసుకుని ఆంధ్రప్రదేశ్ రాష్ట్ర ప్రభుత్వం ప్రారంభించిన ఇ-గవర్నమెంట్ ప్రాజెక్ట్ ఏది?

Options :

CARD

1. ✓ కార్డ్

MeeSewa

2. ✘ మీ సేవ

CFST

3. ✘ సి ఎఫ్ ఎస్ టి

Prajavani

4. ✘ ప్రజావాణి

Question Number : 51 Question Id : 716447801 Question Type : MCQ Option Shuffling : Yes Negative Marks Display Text : 1/3 Correct Marks : 1 Wrong Marks : 0.33

Who was sworn in as the Chief Justice of Andhra Pradesh High Court on 7 October 2019?

7 అక్టోబర్ 2019 న, ఆంధ్రప్రదేశ్ హైకోర్టు ప్రధాన న్యాయమూర్తిగా ఎవరు ప్రమాణ స్వీకారం చేసారు?

Options :

Chagari Praveen Kumar

1. ✘ చాగరి ప్రవీణ్ కుమార్

Vikram Nath

2. ✘ విక్రమ్ నాథ్

Govind Mathur

3. ✘ గోవింద్ మాథుర్

4. ✓ జితేంద్ర కుమార్ మహేశ్వరి

Question Number : 52 Question Id : 716447802 Question Type : MCQ Option Shuffling : Yes Negative Marks Display Text : 1/3
Correct Marks : 1 Wrong Marks : 0.33

Which of the following is an e-Governance initiative of Andhra Pradesh which is a web based system of on-line
receival, replying and monitoring of Public Grievances at District Collectorates?

జిల్లా కలెక్టరేట్ల వద్ద పబ్లిక్ గ్రీవియన్స్ ల ఆన్లైన్ రిసీవల్, రిప్లయింగ్ మరియు మానిటరింగ్ పర్యవేక్షిత వెబ్ ఆధారిత వ్యవస్థ అయిన
ఆంధ్రప్రదేశ్ యొక్క ఇ-గవర్నెన్స్ కార్యక్రమం ఏది?

Options :

MeeSeva

1. ✘ మీ సేవ

Prajavani

2. ✓ ప్రజావాణి

CFST

3. ✘ సిఎఫ్ఎస్ టి

Arogyasri

4. ✘ ఆరోగ్యశ్రీ

Question Number : 53 Question Id : 716447803 Question Type : MCQ Option Shuffling : Yes Negative Marks Display Text : 1/3
Correct Marks : 1 Wrong Marks : 0.33

Which of the following villages became the first digital village in Andhra Pradesh in 2016?

2016 లో, ఈ క్రింది గ్రామాలలో ఏది ఆంధ్రప్రదేశ్లో మొదటి డిజిటల్ గ్రామంగా మారింది?

Options :

Amadpur

1. ✘ అమద్ పూర్

Narpala

2. ✘ నార్పాలా

Pamidi

3. ✘ పమిడి

Mori

4. ✔ మోరీ

Question Number : 54 Question Id : 716447804 Question Type : MCQ Option Shuffling : Yes Negative Marks Display Text : 1/3
Correct Marks : 1 Wrong Marks : 0.33

How many operational Special Economic Zones are there in Andhra Pradesh across the diversified sectors as of January 2019?

2019 జనవరి నాటికి, ఆంధ్రప్రదేశ్ లో వైవిధ్యభరితమైన రంగాలలో ఎన్ని కార్యాచరణ ప్రత్యేక ఆర్థిక మండలాలు ఉన్నాయి?

Options :

67

1. ✘ 67

19

2. ✔ 19

23

3. ✘ 23

12

4. ✘ 12

Question Number : 55 Question Id : 716447805 Question Type : MCQ Option Shuffling : Yes Negative Marks Display Text : 1/3
Correct Marks : 1 Wrong Marks : 0.33

Which of the following is the main occupation of the people in Andhra Pradesh?

కిందివాటిలో ఆంధ్రప్రదేశ్ ప్రజల ప్రధాన వృత్తి ఏది?

Options :

Agriculture

1. ✓ వ్యవసాయం

Arts

2. ✘ కళలు

Service

3. ✘ సేవ

Manufacturing

4. ✘ తయారీ

Question Number : 56 Question Id : 716447806 Question Type : MCQ Option Shuffling : Yes Negative Marks Display Text : 1/3
Correct Marks : 1 Wrong Marks : 0.33

What was the average agricultural and allied sector's growth rate in Andhra Pradesh in the year 2018 since the bifurcation?

విభజన తరువాత 2018 సంవత్సరంలో, ఆంధ్రప్రదేశ్‌లో సగటు వ్యవసాయ మరియు అనుబంధ రంగాల వృద్ధి రేటు ఎంత?

Options :

17%

1. ✘ 17%

12%

2. ✘ 12%

14%

3. ✘ 14%

11%

4. ✓ 11%

Question Number : 57 Question Id : 716447807 Question Type : MCQ Option Shuffling : Yes Negative Marks Display Text : 1/3
Correct Marks : 1 Wrong Marks : 0.33

What is the per capita income of Andhra Pradesh in 2017-2018 (at current prices)?

2017-2018లో (ప్రస్తుత ధరలకు) ఆంధ్రప్రదేశ్ తలసరి ఆదాయం ఎంత?

Options :

₹ 1,89,500

1. ✘ ₹ 1,89,500

₹ 1,67,823

2. ✘ ₹ 1,67,823

₹ 1,42,054

3. ✔ ₹ 1,42,054

₹ 1,12,764

4. ✘ ₹ 1,12,764

Question Number : 58 Question Id : 716447808 Question Type : MCQ Option Shuffling : Yes Negative Marks Display Text : 1/3

Correct Marks : 1 Wrong Marks : 0.33

Visakhapatnam (Vizag) Steel Plant was established with the technical support of which of the following?

ఈ క్రింది వాటిలో దేని సాంకేతిక సహకారంతో విశాఖపట్నం (వైజాగ్) స్టీల్ ప్లాంట్ స్థాపించబడింది?

Options :

USSR

1. ✔ యుఎస్ఎస్ఆర్

UAE

2. ✘ యుఎఇ

The US

3. ✘ యుఎస్

The UK

4. ✖ యునైటెడ్ కింగ్ డమ్

Question Number : 59 Question Id : 716447809 Question Type : MCQ Option Shuffling : Yes Negative Marks Display Text : 1/3
Correct Marks : 1 Wrong Marks : 0.33

Which organisation ranked Andhra Pradesh at the top position in Energy Efficiency Implementation Readiness?

శక్తి సామర్థ్యం అమలు సంసిద్ధత (ఎనర్జీ ఎఫీషియన్సీ ఇంప్లిమెంటేషన్ రెడీనెస్) లో ఏ సంస్థ ఆంధ్రప్రదేశ్‌ను మొదటి స్థానంలో నిలిపింది?

Options :

World Bank

1. ✔ ప్రపంచ బ్యాంక్

WHO

2. ✖ డబ్ల్యు.హెచ్.ఓ

UNESCO

3. ✖ యునెస్కో

UNO

4. ✖ యు.ఎన్.ఓ

Question Number : 60 Question Id : 716447810 Question Type : MCQ Option Shuffling : Yes Negative Marks Display Text : 1/3
Correct Marks : 1 Wrong Marks : 0.33

Indian sub-continent is divided into _____ physiographic divisions based on its varied physiographic features.

భారతీయ ఉప ఖండం దాని వైవిధ్యమైన ఫిజియోగ్రాఫిక్ (నైసర్గిక) లక్షణాల ఆధారంగా _____ ఫిజియోగ్రాఫిక్ (నైసర్గిక) విభాగాలుగా విభజించబడింది.

Options :

9

1. ✖ 9

4

2. ✖ 4

6

3. ✓ 6

10

4. ✖ 10

Question Number : 61 Question Id : 716447811 Question Type : MCQ Option Shuffling : Yes Negative Marks Display Text : 1/3
Correct Marks : 1 Wrong Marks : 0.33

As of January 2020, how many districts are there in Andhra Pradesh?

జనవరి 2020 నాటికి, ఆంధ్రప్రదేశ్‌లో ఎన్ని జిల్లాలు ఉన్నాయి?

Options :

23

1. ✖ 23

12

2. ✖ 12

13

3. ✓ 13

18

4. ✖ 18

Question Number : 62 Question Id : 716447812 Question Type : MCQ Option Shuffling : Yes Negative Marks Display Text : 1/3
Correct Marks : 1 Wrong Marks : 0.33

How many countries are included in SAARC (South Asian Association for Regional Cooperation) as of January 2020?

జనవరి 2020 నాటికి సార్క (సౌత్ ఏషియన్ అసోసియేషన్ ఫర్ రీజినల్ కోఆపరేషన్) లో ఎన్ని దేశాలు చేర్చబడ్డాయి?

Options :

9

1. ✖ 9

8

2. ✓ 8

12

3. ✖ 12

6

4. ✖ 6

Question Number : 63 Question Id : 716447813 Question Type : MCQ Option Shuffling : Yes Negative Marks Display Text : 1/3
Correct Marks : 1 Wrong Marks : 0.33

Which is the smallest state in India in terms of area?

విస్తీర్ణం పరంగా భారతదేశంలో అతిచిన్న రాష్ట్రం ఏది?

Options :

Gujarat

1. ✖ గుజరాత్

Goa

2. ✓ గోవా

Punjab

3. ✖ పంజాబ్

Assam

4. ✖ అస్సాం

Question Number : 64 Question Id : 716447814 Question Type : MCQ Option Shuffling : Yes Negative Marks Display Text : 1/3
Correct Marks : 1 Wrong Marks : 0.33

What type of climate does Andhra Pradesh have?

ఆంధ్రప్రదేశ్‌లో ఎలాంటి వాతావరణాన్ని కలిగి ఉంది?

Options :

Tropical

1. ✓ ఉష్ణమండల

Tundra

2. ✘ టండ్రా

Sub-Tropical

3. ✘ ఉప ఉష్ణమండల

Sub-Arctic

4. ✘ ఉప ఆర్కిటిక్

Question Number : 65 Question Id : 716447815 Question Type : MCQ Option Shuffling : Yes Negative Marks Display Text : 1/3

Correct Marks : 1 Wrong Marks : 0.33

On the basis of relief, alignment of ranges and other geomorphological features, the Himalayas can be divided into how many sub-divisions?

పర్వతాల ఎత్తు పల్లాలు (రిలీఫ్), శ్రేణుల అమరిక మరియు ఇతర భౌగోళిక లక్షణాల ఆధారంగా, హిమాలయాలను ఎన్ని ఉపవిభాగాలుగా విభజించవచ్చు?

Options :

9

1. ✘ 9

12

2. ✘ 12

11

3. ✘ 11

5

4. ✓ 5

Question Number : 66 Question Id : 716447816 Question Type : MCQ Option Shuffling : Yes Negative Marks Display Text : 1/3

Correct Marks : 1 Wrong Marks : 0.33

Andhra Pradesh has a coastline of _____ km.

ఆంధ్రప్రదేశ్ _____ కి.మీ. తీరప్రాంతాన్ని కలిగి ఉంది

Options :

974

1. ✓ 974

890

2. ✘ 890

678

3. ✘ 678

231

4. ✘ 231

Question Number : 67 Question Id : 716447817 Question Type : MCQ Option Shuffling : Yes Negative Marks Display Text : 1/3

Correct Marks : 1 Wrong Marks : 0.33

Andhra Pradesh has largest deposits of which of the following mineral?

ఆంధ్రప్రదేశ్ అత్యధిక నిక్షేపాలుగా, ఈ క్రింది ఖనిజాలలో దేనిని కలిగి ఉంది?

Options :

Iron ore

1. ✘ ఇనుము ధాతువు

Chrysotile asbestos

2. ✓ క్రిసోటైల్ ఆస్బెస్టాస్

Uranium

3. ✘ యురేనియం

Marble

4. ✖ మార్బుల్

Question Number : 68 Question Id : 716447818 Question Type : MCQ Option Shuffling : Yes Negative Marks Display Text : 1/3
Correct Marks : 1 Wrong Marks : 0.33

The Bay of Bengal island group of India consists of how many islands/islets?

భారతదేశపు బంగాళాకాతం ద్వీప సమూహంలో ఎన్ని ద్వీపాలు/దీవులు ఉన్నాయి?

Options :

456

1. ✖ 456

680

2. ✖ 680

572

3. ✓ 572

234

4. ✖ 234

Question Number : 69 Question Id : 716447819 Question Type : MCQ Option Shuffling : Yes Negative Marks Display Text : 1/3
Correct Marks : 1 Wrong Marks : 0.33

As of January 2020, how many wildlife sanctuaries are there in Andhra Pradesh?

జనవరి 2020 నాటికి, ఆంధ్రప్రదేశ్‌లో ఎన్ని వన్యప్రాణుల అభయారణ్యాలు ఉన్నాయి?

Options :

23

1. ✖ 23

13

2. ✓ 13

9

3. ✖ 9

18

4. ✖ 18

Question Number : 70 Question Id : 716447820 Question Type : MCQ Option Shuffling : Yes Negative Marks Display Text : 1/3
Correct Marks : 1 Wrong Marks : 0.33

According to 2011 census, population of Andhra Pradesh is approximately _____.

2011 జనాభా లెక్కల ప్రకారం, ఆంధ్రప్రదేశ్ జనాభా సుమారు _____.

Options :

34.89 million

1. ✖ 34.89 మిలియన్

78.89 million

2. ✖ 78.89 మిలియన్

49.67 million

3. ✔ 49.67 మిలియన్

54.36 million

4. ✖ 54.36 మిలియన్

Question Number : 71 Question Id : 716447821 Question Type : MCQ Option Shuffling : Yes Negative Marks Display Text : 1/3
Correct Marks : 1 Wrong Marks : 0.33

India measures the coastline of approximate _____ km (inclusive of island territories).

భారతదేశం సుమారు _____ కిమీ (ద్వీప భూభాగాలను కలుపుకొని) తీరప్రాంతాన్ని కలిగివుంది.

Options :

9,087

1. ✖ 9,087

6,908

2. ✘ 6,908

7,516

3. ✔ 7,516

3,056

4. ✘ 3,056

Question Number : 72 Question Id : 716447822 Question Type : MCQ Option Shuffling : Yes Negative Marks Display Text : 1/3
Correct Marks : 1 Wrong Marks : 0.33

Which of the following delta is the largest mangrove forest of the world?

ఈ క్రింది ఏ డెల్టా, ప్రపంచంలోనే అతిపెద్ద మడ అడవి?

Options :

The Sunderbans

1. ✔ సుందర్బాన్స్

Pichavaram Mangroves

2. ✘ పిచవరం మడ అడవులు

Godavari-Krishna Mangroves

3. ✘ గోదావరి-కృష్ణ మడ అడవులు

Bhitarkanika Mangroves

4. ✘ భీటర్కానికా మడ అడవులు

Question Number : 73 Question Id : 716447823 Question Type : MCQ Option Shuffling : Yes Negative Marks Display Text : 1/3
Correct Marks : 1 Wrong Marks : 0.33

Which of the following institution is contributing to Disaster management?

ఈ క్రింది వాటిలో ఏ సంస్థ విపత్తు నిర్వహణకు తోడ్పడుతోంది?

Options :

ISRO

1. ✘ ఇస్రో (ISRO)

INDR

2. ✘ ఐఎన్ డి ఆర్ (INDR)

NDMA

3. ✔ ఎన్ డి ఎమ్ ఎ (NDMA)

CDMA

4. ✘ సిడిఎమ్ఎ (CDMA)

Question Number : 74 Question Id : 716447824 Question Type : MCQ Option Shuffling : Yes Negative Marks Display Text : 1/3
Correct Marks : 1 Wrong Marks : 0.33

_____ resolution refers to how often a remote sensing platform can provide coverage of an area.

ఒక రిమోట్ సెన్సింగ్ ప్లాట్‌ఫాం ఎంత తరచుగా ఒక ప్రాంతం యొక్క కవరేజీని అందించగలదో _____ రిజల్యూషన్ సూచిస్తుంది.

Options :

Radiometric

1. ✘ రేడియోమెట్రిక్

Temporal

2. ✔ టెంపోరల్

Spatial

3. ✘ స్పేషియల్

Thermal

4. ✘ థర్మల్

Question Number : 75 Question Id : 716447825 Question Type : MCQ Option Shuffling : Yes Negative Marks Display Text : 1/3
Correct Marks : 1 Wrong Marks : 0.33

In which of the following cities is the National Institute of Disaster Management situated?

ఈ క్రింది నగరాల్లో నేషనల్ ఇన్స్టిట్యూట్ ఆఫ్ డిజాస్టర్ మేనేజ్మెంట్ ఎక్కడ ఉంది?

Options :

Jaipur

1. ✘ జైపూర్

Hyderabad

2. ✘ హైదరాబాద్

Bengaluru

3. ✘ బెంగళూరు

New Delhi

4. ✔ న్యూ డిల్లీ

Question Number : 76 Question Id : 716447826 Question Type : MCQ Option Shuffling : Yes Negative Marks Display Text : 1/3
Correct Marks : 1 Wrong Marks : 0.33

What is the full form of NRSC?

ఎన్ఆర్ఎస్ సి (NRSC) యొక్క విస్తరణ రూపం ఏమిటి?

Options :

National Research Scientific Council

1. ✘ నేషనల్ రీసెర్చ్ సైంటిఫిక్ కౌన్సిల్

National Research Scientific Centre

2. ✘ నేషనల్ రీసెర్చ్ సైంటిఫిక్ సెంటర్

National Remote Scientific Centre

3. ✘ నేషనల్ రిమోట్ సైంటిఫిక్ సెంటర్

4. ✓ నేషనల్ రిమోట్ సెన్సింగ్ సెంటర్

Question Number : 77 Question Id : 716447827 Question Type : MCQ Option Shuffling : Yes Negative Marks Display Text : 1/3
Correct Marks : 1 Wrong Marks : 0.33

_____ is a satellite that provides weather forecasting, cyclone prediction and tracking services to India.

_____ భారతదేశానికి వాతావరణ అంచనా, తుఫాను అంచనా మరియు ట్రాకింగ్ సేవలను అందించే ఉపగ్రహం.

Options :

GSAT-31

1. ✘ జిసాట్ - 31

SCATSAT-1

2. ✓ స్కాట్ సాట్ - 1

GSAT-7A

3. ✘ జిసాట్ - 7ఎ

Cartosat-2C

4. ✘ కార్టోసాట్ - 2సి

Question Number : 78 Question Id : 716447828 Question Type : MCQ Option Shuffling : Yes Negative Marks Display Text : 1/3
Correct Marks : 1 Wrong Marks : 0.33

Natural resource depletion and resource degradation are the key aspects of _____ vulnerability.

సహజ వనరుల వినియోగం మరియు వనరుల అధోకరణం _____ దుర్బలత్వం(వల్నరబిలిటీ) యొక్క ముఖ్య అంశాలు.

Options :

physical

1. ✘ భౌతిక

social

2. ✘ సామాజిక

economic

3. ✖ ఆర్థిక

environmental

4. ✔ పర్యావరణ

Question Number : 79 Question Id : 716447829 Question Type : MCQ Option Shuffling : Yes Negative Marks Display Text : 1/3
Correct Marks : 1 Wrong Marks : 0.33

Who among the following heads the NDMA (National Disaster Management Authority) in India?

ఈ క్రిందివారిలో ఎవరు భారతదేశంలో ఎన్డిఎంఎ (నేషనల్ డిజాస్టర్ మేనేజ్మెంట్ అథారిటీ) అధ్యక్షుడిగా ఉన్నారు?

Options :

President

1. ✖ రాష్ట్రపతి

Prime Minister

2. ✔ ప్రధాన మంత్రి

Governor

3. ✖ గవర్నర్

Vice-President

4. ✖ ఉప-రాష్ట్రపతి

Question Number : 80 Question Id : 716447830 Question Type : MCQ Option Shuffling : Yes Negative Marks Display Text : 1/3
Correct Marks : 1 Wrong Marks : 0.33

_____ is a collaboration between five federal agencies that are major users and producers of satellite land remote sensing data.

ఉపగ్రహ ల్యాండ్ రిమోట్ సెన్సింగ్ డేటా యొక్క ప్రధాన ఉత్పత్తిదారులు మరియు వినియోగదారులు అయిన ఐదు ఫెడరల్ ఏజెన్సీల మధ్య సహకారం (కోలాబరేషన్) _____.

Options :

Indian Institute of Remote Sensing

1. ✖ ఇండియన్ ఇన్స్టిట్యూట్ ఆఫ్ రిమోట్ సెన్సింగ్

Indian Agricultural Research Institute

2. ✖ భారతీయ వ్యవసాయ పరిశోధన సంస్థ

Joint Agency Commercial Imagery Evaluation

జాయింట్ ఏజెన్సీ కమర్షియల్ ఇమేజరీ ఎవల్యూషన్

3. ✔

National Institute of Disaster Management

4. ✖ నేషనల్ ఇన్స్టిట్యూట్ ఆఫ్ డిజాస్టర్ మేనేజ్మెంట్

Question Number : 81 Question Id : 716447831 Question Type : MCQ Option Shuffling : Yes Negative Marks Display Text : 1/3
Correct Marks : 1 Wrong Marks : 0.33

_____ is the most complete information system for modeling, analysing spatial data and displaying community vulnerability.

మోడలింగ్, ప్రాదేశిక డేటాను విశ్లేషించడం మరియు కమ్యూనిటీ దుర్బలత్వాన్ని ప్రదర్శించడం కోసం _____ అనేది అత్యంత పూర్తి సమాచార వ్యవస్థ.

Options :

GNS

1. ✖ GNS

GPS

2. ✖ GPS

Remote sensing

3. ✖ రిమోట్ సెన్సింగ్

GIS

4. ✓ GIS

Question Number : 82 Question Id : 716447832 Question Type : MCQ Option Shuffling : Yes Negative Marks Display Text : 1/3
Correct Marks : 1 Wrong Marks : 0.33

As of December 2019, who is the director of Indian Institute of Remote Sensing (IIRS)?

డిసెంబర్ 2019 నాటికి, ఇండియన్ ఇన్స్టిట్యూట్ ఆఫ్ రిమోట్ సెన్సింగ్ (IIRS) డైరెక్టర్ ఎవరు?

Options :

Dr SK Srivastava

1. ✘ డాక్టర్ ఎస్.కె.శ్రీవాస్తవ

Dr Satendra Singh

2. ✘ డాక్టర్ సతేంద్ర సింగ్

Dr Prakash Chauhan

3. ✓ డాక్టర్ ప్రకాష్ చౌహాన్

Dr VK Sehgal

4. ✘ డాక్టర్ వికె సెహగల్

Question Number : 83 Question Id : 716447833 Question Type : MCQ Option Shuffling : Yes Negative Marks Display Text : 1/3
Correct Marks : 1 Wrong Marks : 0.33

When was the Disaster Management Act passed by the Government of India?

విపత్తు నిర్వహణ చట్టాన్ని భారత ప్రభుత్వం ఎప్పుడు ఆమోదించింది?

Options :

23 December 2005

1. ✓ 23 డిసెంబర్ 2005

14 October 2003

2. ✘ 14 అక్టోబర్ 2003

12 September 2001

3. * 12 సెప్టెంబర్ 2001

5 May 1999

4. * 5 మే 1999

Question Number : 84 Question Id : 716447834 Question Type : MCQ Option Shuffling : Yes Negative Marks Display Text : 1/3 Correct Marks : 1 Wrong Marks : 0.33

In December 2019, Indian Council of Agricultural Research (ICAR) signed a Memorandum of Understanding (MoU) with _____ in New Delhi to promote sustainable agriculture and a climate-resilient farming system.

నూ్యా డిసెంబర్, డిసెంబర్ 2019 లో, సుస్థిర వ్యవసాయం మరియు వాతావరణ-అనుకూల వ్యవసాయ వ్యవస్థను ప్రోత్సహించడానికి, ఇండియన్ కౌన్సిల్ ఆఫ్ అగ్రికల్చరల్ రీసెర్చ్ (ఐసిఆర్) _____ తో అవగాహన ఒప్పందం (ఎంఓయూ) పై సంతకం చేసింది.

Options :

NDMA

1. * ఎన్ డి ఎమ్ ఎ

CDMA

2. * సిడిఎమ్ఎ

INDR

3. * ఐఎన్ డి ఆర్

NABARD

4. ✓ నాబార్డ్

Question Number : 85 Question Id : 716447835 Question Type : MCQ Option Shuffling : Yes Negative Marks Display Text : 1/3 Correct Marks : 1 Wrong Marks : 0.33

Which of the following was the first country to declare the climate emergency?

వాతావరణ అత్యవసర పరిస్థితిని ప్రకటించిన మొదటి దేశం ఏది?

Options :

UK

1. ✓ యుకె

USA

2. ✖ యుఎస్ఎ

Russia

3. ✖ రష్యా

Japan

4. ✖ జపాన్

Question Number : 86 Question Id : 716447836 Question Type : MCQ Option Shuffling : Yes Negative Marks Display Text : 1/3

Correct Marks : 1 Wrong Marks : 0.33

As per United Nations Organization, how many global Sustainable Development Goals are designed to be a 'blueprint to achieve a better and more sustainable future to all'?

ఐక్యరాజ్యసమితి సంస్థ ప్రకారం, 'అందరికీ మెరుగైన మరియు సుస్థిర భవిష్యత్తును సాధించడానికి బ్లూప్రింట్'గా ఎన్ని అంతర్జాతీయ సుస్థిర అభివృద్ధి లక్ష్యాలు రూపొందించబడ్డాయి?

Options :

12

1. ✖ 12

17

2. ✓ 17

8

3. ✖ 8

19

4. ✖ 19

Question Number : 87 Question Id : 716447837 Question Type : MCQ Option Shuffling : Yes Negative Marks Display Text : 1/3

Correct Marks : 1 Wrong Marks : 0.33

As per the United Nations website, how many countries signed the Sustainable Development Goals (SDGs) to be achieved by the year 2030?

ఐక్యరాజ్యసమితి వెబ్‌సైట్ ప్రకారం, 2030 నాటికి, సుస్థిర అభివృద్ధి లక్ష్యాలు (ఎస్డిజి) సాధించడానికి ఎన్ని దేశాలు సంతకం చేశాయి?

Options :

123

1. ✖ 123

156

2. ✖ 156

193

3. ✔ 193

110

4. ✖ 110

Question Number : 88 Question Id : 716447838 Question Type : MCQ Option Shuffling : Yes Negative Marks Display Text : 1/3
Correct Marks : 1 Wrong Marks : 0.33

_____ development meets the needs of the present without compromising the ability of future generations to meet their own needs.

భవిష్యత్ తరాలు వారి స్వంత అవసరాలను తీర్చగల సామర్థ్యాన్ని రాజీ పడకుండా ప్రస్తుత తరం వారి అవసరాలను _____ అభివృద్ధి తీరుస్తుంది.

Options :

Social

1. ✖ సామాజిక

Sustainable

2. ✔ సుస్థిర

Economic

3. ✖ ఆర్థిక

Environmental

4. ✖ పర్యావరణ

Question Number : 89 Question Id : 716447839 Question Type : MCQ Option Shuffling : Yes Negative Marks Display Text : 1/3

Correct Marks : 1 Wrong Marks : 0.33

A gradual increase in the average temperature of Earth's atmosphere and its oceans that is permanently changing Earth's climate is known as _____.

భూమి యొక్క వాతావరణం మరియు దాని మహాసముద్రాల సగటు ఉష్ణోగ్రతలో క్రమమైన పెరుగుదల, భూమి యొక్క వాతావరణాన్ని శాశ్వతంగా మారుస్తుంది. దీనిని _____ అంటారు.

Options :

Depletion of habitats

1. ✘ ఆవాసాల క్షీణత

Loss of biodiversity

2. ✘ జీవవైవిధ్యం కోల్పోవడం

Global warming

3. ✔ గ్లోబల్ వార్మింగ్

Forest degradation

అటవ్ అధోకరణం

4. ✘

Question Number : 90 Question Id : 716447840 Question Type : MCQ Option Shuffling : Yes Negative Marks Display Text : 1/3

Correct Marks : 1 Wrong Marks : 0.33

When is World Environment Day celebrated across the world?

ప్రపంచ పర్యావరణ దినోత్సవాన్ని, ప్రపంచవ్యాప్తంగా ఎప్పుడు జరుపుకుంటారు?

Options :

5 June

1. ✔ 5 జూన్

17 November

2. ✘ 17 నవంబర్

6 May

3. ✘ 6 మే

20 July

4. ✖ 20 జూలై

Question Number : 91 Question Id : 716447841 Question Type : MCQ Option Shuffling : Yes Negative Marks Display Text : 1/3
Correct Marks : 1 Wrong Marks : 0.33

In which of the following years did the United Nations Sustainable Development Summit adopt the 17 Sustainable Development Goals (SDGs)?

క్రింద పేర్కొన్న ఏ సంవత్సరంలో ఐక్యరాజ్యసమితి సుస్థిర అభివృద్ధి సదస్సు, 17 సుస్థిర అభివృద్ధి లక్ష్యాలను (ఎస్డిజి) ఏ సంవత్సరంలో స్వీకరించింది?

Options :

2017

1. ✖ 2017

2013

2. ✖ 2013

2010

3. ✖ 2010

2015

4. ✔ 2015

Question Number : 92 Question Id : 716447842 Question Type : MCQ Option Shuffling : Yes Negative Marks Display Text : 1/3
Correct Marks : 1 Wrong Marks : 0.33

_____ is aimed at maintaining (and recovering when necessary) a healthy natural environment.

_____ ఆరోగ్యకరమైన సహజ వాతావరణాన్ని నిర్వహించడాన్ని (మరియు అవసరమైనప్పుడు కోలుకోవడం) లక్ష్యంగా పెట్టుకుంది.

Options :

Economic growth

1. ✖ ఆర్థిక ఎదుగుదల (ఎకనామిక్ గ్రోత్)

Economic development

2. ✘ ఆర్థికాభివృద్ధి (ఎకనామిక్ డెవలప్ మెంట్)

Environmental protection

3. ✔ పర్యావరణ పరిరక్షణ (ఎన్విరాన్ మెంట్ ప్రొటెక్షన్)

Sustainable development

4. ✘ స్థిరమైన అభివృద్ధి (సస్టెయినబుల్ డెవలప్ మెంట్)

Question Number : 93 Question Id : 716447843 Question Type : MCQ Option Shuffling : Yes Negative Marks Display Text : 1/3
Correct Marks : 1 Wrong Marks : 0.33

_____ is a policy intervention endeavor with aims of economic and social well-being of people.

_____ అనేది ప్రజల ఆర్థిక మరియు సామాజిక శ్రేయస్సు లక్ష్యాలతో వెళుతున్న ఒక విధానం.

Options :

Economic growth

1. ✘ ఆర్థిక ఎదుగుదల (ఎకనామిక్ గ్రోత్)

Environmental protection

2. ✘ పర్యావరణ పరిరక్షణ (ఎన్విరాన్ మెంట్ ప్రొటెక్షన్)

Sustainable growth

3. ✘ స్థిరమైన అభివృద్ధి (సస్టెయినబుల్ డెవలప్ మెంట్)

Economic development

4. ✔ ఆర్థికాభివృద్ధి (ఎకనామిక్ డెవలప్ మెంట్)

Question Number : 94 Question Id : 716447844 Question Type : MCQ Option Shuffling : Yes Negative Marks Display Text : 1/3
Correct Marks : 1 Wrong Marks : 0.33

Which of the following is the only environment treaty that deals with a particular ecosystem?

కిందివాటిలో నిర్దిష్ట పర్యావరణ వ్యవస్థలో వ్యవహరించే ఏకైక పర్యావరణ ఒప్పందం ఏది?

Options :

Ramsar Convention

1. ✓ రామ్సర్ కన్వెన్షన్

UN Convention

2. ✘ UN కన్వెన్షన్

Convention on Biological Diversity

3. ✘ జీవ వైవిధ్యంపై కన్వెన్షన్

Geneva Conventions

4. ✘ జెనీవా కన్వెన్షన్స్

Question Number : 95 Question Id : 716447845 Question Type : MCQ Option Shuffling : Yes Negative Marks Display Text : 1/3

Correct Marks : 1 Wrong Marks : 0.33

In which of the following year The Montreal Protocol (an International Treaty, to protect the stratospheric ozone layer by phasing out the production and consumption of ozone depleting substances) was finalized and signed?

క్రింది ఏ సంవత్సరంలో మాంట్రీయల్ ప్రోటోకాల్ (ఓజోన్ ను క్షీణింపజేసే పదార్థాల ఉత్పత్తి మరియు వినియోగాన్ని దశలవారీగా తగ్గించడం ద్వారా స్ట్రాటో ఆవరణ ఓజోన్ పొరను రక్షించడానికి చేసుకున్న ఒక అంతర్జాతీయ ఒప్పందం) ఖరారు చేయబడింది మరియు సంతకం చేయబడింది?

Options :

1985

1. ✘ 1985

1999

2. ✘ 1999

1987

3. ✓ 1987

1965

4. ✖ 1965

Question Number : 96 Question Id : 716447846 Question Type : MCQ Option Shuffling : Yes Negative Marks Display Text : 1/3 Correct Marks : 1 Wrong Marks : 0.33

According to the IPCC (Intergovernmental Panel on Climate Change) report on global warming, global net human-caused emissions of carbon dioxide would need to reach _____ by 2050 from 2010 levels.

గ్లోబల్ వార్మింగ్ పై IPCC (ఇంటర్ గవర్నమెంటల్ ప్యానెల్ ఆన్ క్లైమేట్ చేంజ్) నివేదిక ప్రకారం, గ్లోబల్ నెకర మానవ-కార్బన్ డై ఆక్షైడ్ ఉద్గారాలు 2010 స్థాయిల నుండి 2050 నాటికి _____ కి చేరుకోవలసి ఉంటుంది.

Options :

45%

1. ✖ 45%

12%

2. ✖ 12%

net zero

3. ✔ నికర సున్నా

5%

4. ✖ 5%

Question Number : 97 Question Id : 716447847 Question Type : MCQ Option Shuffling : Yes Negative Marks Display Text : 1/3 Correct Marks : 1 Wrong Marks : 0.33

Which day is observed as National Energy Conservation Day?

జాతీయ శక్తి పరిరక్షణ దినోత్సవంగా, ఏ రోజును పాటిస్తారు?

Options :

14 December

1. ✔ 14 డిసెంబర్

20 December

2. ✖ 20 డిసెంబర్

12 October

3. ✖ 12 అక్టోబర్

13 September

4. ✖ 13 సెప్టెంబర్

Question Number : 98 Question Id : 716447848 Question Type : MCQ Option Shuffling : Yes Negative Marks Display Text : 1/3
Correct Marks : 1 Wrong Marks : 0.33

Published annually since 2005, the Climate Change Performance Index (CCPI) tracks countries' efforts to combat climate change. What was India's rank on the index in 2019?

2005 నుండి ఏటా ప్రచురించబడే, క్లైమేట్ చేంజ్ పెర్ఫార్మన్స్ ఇండెక్స్ (సిసిపిఐ) వాతావరణ మార్పులను ఎదుర్కోవటానికి దేశాలు చేసే ప్రయత్నాలను త్రాక్ చేస్తుంది. 2019 సూచికలో భారతదేశం యొక్క ర్యాంక్ ఏమిటి?

Options :

7th

1. ✖ 7 వ

9th

2. ✔ 9 వ

12th

3. ✖ 12 వ

10th

4. ✖ 10 వ

Question Number : 99 Question Id : 716447849 Question Type : MCQ Option Shuffling : Yes Negative Marks Display Text : 1/3
Correct Marks : 1 Wrong Marks : 0.33

Which of the following articles of the Constitution of India defines the duty of every Indian citizen to protect and improve the natural environment of the country including forests, lakes, rivers and wildlife, and to have compassion for life?

అడవులు, సరస్సులు, నదులు మరియు వన్యప్రాణులతో సహా దేశంలోని సహజ వాతావరణాన్ని పరిరక్షించడం మరియు మెరుగుపరచడం మరియు జీవితంపై కరుణ కలిగి ఉండటం ప్రతి భారత పౌరుడి కర్తవ్యాన్ని భారత రాజ్యాంగంలోని ఈ క్రింది ఆర్టికల్స్ లో ఏది నిర్వచిస్తుంది?

Options :

Article 31-D

1. ✖ ఆర్టికల్ 31-D

Article 31-C

2. ✖ ఆర్టికల్ 31-C

Article 34-A

3. ✖ ఆర్టికల్ 34-A

Article 51-A

4. ✔ ఆర్టికల్ 51-A

Question Number : 100 Question Id : 716447850 Question Type : MCQ Option Shuffling : Yes Negative Marks Display Text : 1/3
Correct Marks : 1 Wrong Marks : 0.33

According to the Andhra Pradesh Reorganization Act, 2014 which is the appointed day for Andhra Pradesh's formation?

ఆంధ్రప్రదేశ్ పునర్వ్యవస్థీకరణ చట్టం, 2014 ప్రకారం, ఆంధ్రప్రదేశ్ అవతరణకు నియోగించిన రోజు ఏది?

Options :

2 June 2014

1. ✔ 2 జూన్ 2014

15 August 2013

2. ✖ 15 ఆగస్టు 2013

1 July 1998

3. ✖ 1 జూలై 1998

3 October 2014

4. ✖ 3 అక్టోబర్ 2014

Question Number : 101 Question Id : 716447851 Question Type : MCQ Option Shuffling : Yes Negative Marks Display Text : 1/3
Correct Marks : 1 Wrong Marks : 0.33

Section 94(3) of the Andhra Pradesh Reorganization Act, 2014 provides that _____ shall provide special financial support for the creation of essential facilities in the new capital of the successor state of Andhra Pradesh.

ఆంధ్రప్రదేశ్ పునర్వ్యవస్థీకరణ చట్టం, 2014 లోని సెక్షన్ 94 (3) ప్రకారం, ఆంధ్రప్రదేశ్ రాష్ట్ర కోత్త రాజధానిలో అవసరమైన సౌకర్యాల కల్పనకు _____ ప్రత్యేక ఆర్థిక సహాయాన్ని అందిస్తుంది/ స్థారు.

Options :

State Government

1. * రాష్ట్ర ప్రభుత్వం

Central Government

2. ✓ కేంద్ర ప్రభుత్వం

Public

3. * ప్రజలు

Political Parties

4. * రాజకీయ పార్టీలు

Question Number : 102 Question Id : 716447852 Question Type : MCQ Option Shuffling : Yes Negative Marks Display Text : 1/3 Correct Marks : 1 Wrong Marks : 0.33

Andhra Pradesh is represented by how many seats in Lok Sabha?

లోక్ సభలో ఎన్ని సీట్లకు ఆంధ్రప్రదేశ్ ప్రాతినిధ్యం వహిస్తుంది?

Options :

13

1. * 13

25

2. ✓ 25

29

3. * 29

4. ✖ 16

Question Number : 103 Question Id : 716447853 Question Type : MCQ Option Shuffling : Yes Negative Marks Display Text : 1/3 Correct Marks : 1 Wrong Marks : 0.33

_____ is the Telugu New Year festively observed by the Hindus of Andhra Pradesh, Karnataka and Telangana states in India.

భారతదేశంలోని ఆంధ్రప్రదేశ్, కర్ణాటక మరియు తెలంగాణ రాష్ట్రాల హిందువులు జరుపుకునే తెలుగు నూతన సంవత్సర పండుగ _____.

Options :

Dasara

1. ✖ దసరా

Makar Sankranti

2. ✖ మకర సంక్రాంతి

Ugadi

3. ✓ ఉగాది

Panduga

4. ✖ పండుగ

Question Number : 104 Question Id : 716447854 Question Type : MCQ Option Shuffling : Yes Negative Marks Display Text : 1/3 Correct Marks : 1 Wrong Marks : 0.33

Which of the following was declared as the new state bird by the state government in June 2018 after Andhra Pradesh's bifurcation?

ఆంధ్రప్రదేశ్ యొక్క విభజన తరువాత ఈ క్రింది వాటిలో దేనిని, జూన్ 2018 లో రాష్ట్ర ప్రభుత్వం నూతన రాష్ట్ర పక్షిగా ప్రకటించింది?

Options :

Rose-Ringed Parakeet

1. ✓ రోజ్-రింగ్డ్ పారాకీట్

Indian Roller

ఇండియన్ రోలర్ (పాలపిట్ట)

2. ✖

Peacock

3. ✖ నెమలి

Flamingo

4. ✖ ఫ్లెమింగో

Question Number : 105 Question Id : 716447855 Question Type : MCQ Option Shuffling : Yes Negative Marks Display Text : 1/3
Correct Marks : 1 Wrong Marks : 0.33

Who was the first Chief Minister of bifurcated Andhra Pradesh?

విభజించబడిన ఆంధ్రప్రదేశ్ యొక్క మొదటి ముఖ్యమంత్రి ఎవరు?

Options :

K Rosaiah

1. ✖ కె రోశయ్య

YS Jagan Mohan Reddy

2. ✖ వైయస్ జగన్ మోహన్ రెడ్డి

Nara Chandrababu Naidu

3. ✔ నారా చంద్రబాబు నాయుడు

N Bhaskara Rao

4. ✖ ఎన్ భాస్కర రావు

Question Number : 106 Question Id : 716447856 Question Type : MCQ Option Shuffling : Yes Negative Marks Display Text : 1/3
Correct Marks : 1 Wrong Marks : 0.33

Which of the following flowers was declared as the state symbol of Andhra Pradesh after bifurcation?

విభజన తరువాత కింది వాటిలో ఏది ఆంధ్రప్రదేశ్ రాష్ట్ర చిహ్నంగా ప్రకటించబడింది?

Options :

Rose

1. ✖ గులాబి

Water Lily

2. ✖ కలువ

Jasmine

మల్లెపూవు (జాస్మిన్)

3. ✔

Mogra

4. ✖ మోగ్రా

Question Number : 107 Question Id : 716447857 Question Type : MCQ Option Shuffling : Yes Negative Marks Display Text : 1/3 Correct Marks : 1 Wrong Marks : 0.33

_____ is being constructed to serve as the new capital city of Andhra Pradesh, after Telangana was split off as a separate state in 2014.

2014 లో తెలంగాణ ప్రత్యేక రాష్ట్రంగా విడిపోయిన తరువాత ఆంధ్రప్రదేశ్ కోల్త రాజధాని నగరంగా పనిచేయడానికి _____ ను నిర్మిస్తున్నారు.

Options :

Guntur

1. ✖ గుంటూరు

Amravati

2. ✔ అమరావతి

Vijayawada

3. ✖ విజయవాడ

Visakhapatnam

4. ✖ విశాఖపట్నం

Question Number : 108 Question Id : 716447858 Question Type : MCQ Option Shuffling : Yes Negative Marks Display Text : 1/3 Correct Marks : 1 Wrong Marks : 0.33

What is the full form of SAAP?

SAAP యొక్క విస్తరణ రూపం ఏమిటి?

Options :

Sports Administration of Andhra Pradesh

1. ✘ స్పోర్ట్స్ అడ్మినిస్ట్రేషన్ ఆఫ్ ఆంధ్రప్రదేశ్

System Administration of Andhra Pradesh

2. ✘ సిస్టమ్ అడ్మినిస్ట్రేషన్ ఆఫ్ ఆంధ్రప్రదేశ్

Sports Authority of Andhra Pradesh

3. ✔ స్పోర్ట్స్ అథారిటీ ఆఫ్ ఆంధ్రప్రదేశ్

Scientific Authority of Andhra Pradesh

4. ✘ సైంటిఫిక్ అథారిటీ ఆఫ్ ఆంధ్రప్రదేశ్

Question Number : 109 Question Id : 716447859 Question Type : MCQ Option Shuffling : Yes Negative Marks Display Text : 1/3

Correct Marks : 1 Wrong Marks : 0.33

Which of the following government initiatives was launched on 2 June 2015 with the objective of inspiring and calling people for their participation in the overall development of the state, post bifurcation?

2 జూన్ 2015 న. విభజనానంతరం రాష్ట్ర సమగ్ర అభివృద్ధి కోరకు పాల్గొనేలా ప్రజలను ప్రేరేపించడం మరియు పిలవడం ఉద్దేశ్యంగా ప్రారంభించబడిన ప్రభుత్వ కార్యక్రమం ఏది?

Options :

Nava Nirmana Deeksha

1. ✔ నవ నిర్మాణ దీక్ష

Nadu-Nedu

2. ✘ నాడు-నేడు

Rythu Bharosa

3. ✘ రైతు భరోసా

MeeSeva

4. ✘ మీ సేవ

Question Number : 110 Question Id : 716447860 Question Type : MCQ Option Shuffling : Yes Negative Marks Display Text : 1/3 Correct Marks : 1 Wrong Marks : 0.33

In what ratio did Andhra Pradesh and Telangana agree to amicably divide the assets and institutions, on the basis of population?

జనాభా ఆధారంగా ఆంధ్రప్రదేశ్ మరియు తెలంగాణ ఏ నిష్పత్తిలో ఆస్తులు మరియు సంస్థలను స్నేహపూర్వకంగా విభజించడానికి అంగీకరించాయి?

Options :

58 : 42

1. ✓ 58 : 42

57 : 43

2. ✗ 57 : 43

56 : 44

3. ✗ 56 : 44

45 : 55

4. ✗ 45 : 55

Sub-Section Number: 2
Sub-Section Id: 71644710
Question Shuffling Allowed : Yes

Question Number : 111 Question Id : 716447861 Question Type : MCQ Option Shuffling : Yes Negative Marks Display Text : 1/3 Correct Marks : 1 Wrong Marks : 0.33

Pointing towards a boy, X tells Y, "You are his only maternal cousin but I am his only maternal uncle. Your mother doesn't have siblings and her father-in-law has only two children." How is Y related to X?

ఒక బాలుని వైపు చూపిస్తూ X అను వ్యక్తి Y కి "నువ్వు అతని ఏకైక తల్లి తరుపు బంధువువి, కానీ నేను అతని ఏకైక మేనమామను. మీ తల్లికి తోబుట్టువులు లేరు మరియు ఆమె మామగారికి ఇద్దరు పిల్లలు మాత్రమే ఉన్నారు" అని చెబుతున్నారు. Y అను వ్యక్తి X కి ఏమవుతారు?

Options :

Nephew

1. ✗ మేనల్లుడు

Son

2. ✓ కుమారుడు

Cousin

3. ✘ బంధువు (కజిన్)

Brother

4. ✘ సోదరుడు

Question Number : 112 Question Id : 716447862 Question Type : MCQ Option Shuffling : Yes Negative Marks Display Text : 1/3

Correct Marks : 1 Wrong Marks : 0.33

Select the option that is related to the third word in the same way as the second word is related to the first word.

Teacher : School :: Barber : ?

రెండవ పదం మొదటి పదానికి సంబంధించిన విధముగానే మూడవ పదానికి సంబంధించిన ఐచ్ఛికాన్ని ఎంచుకోండి.

Teacher : School :: Barber : ?

Options :

Haircut

1. ✘ Haircut

Scissor

2. ✘ Scissor

Hair

3. ✘ Hair

Salon

4. ✓ Salon

Question Number : 113 Question Id : 716447863 Question Type : MCQ Option Shuffling : Yes Negative Marks Display Text : 1/3

Correct Marks : 1 Wrong Marks : 0.33

Pick the odd one out.

భిన్నమైన దానిని ఎంచుకోండి.

Options :

Curious

1. ✘ Curious

Interested

2. ✘ Interested

Confused

3. ✔ Confused

Inquisitive

4. ✘ Inquisitive

Question Number : 114 Question Id : 716447864 Question Type : MCQ Option Shuffling : Yes Negative Marks Display Text : 1/3

Correct Marks : 1 Wrong Marks : 0.33

Select the fraction that will come next in the following series.

$$\frac{L}{12} \quad \frac{16}{P} \quad \frac{T}{20} \quad \frac{24}{X} \quad \frac{B}{2} \quad \frac{?}{?}$$

క్రింది శ్రేణిలో ఆదుపరి వచ్చు భిన్నమును ఎంచుకోండి.

$$\frac{L}{12} \quad \frac{16}{P} \quad \frac{T}{20} \quad \frac{24}{X} \quad \frac{B}{2} \quad \frac{?}{?}$$

Options :

$\frac{6}{F}$

$\frac{6}{F}$

$\frac{6}{F}$

1. ✔ $\frac{6}{F}$

$\frac{6}{E}$

$\frac{6}{E}$

$\frac{6}{E}$

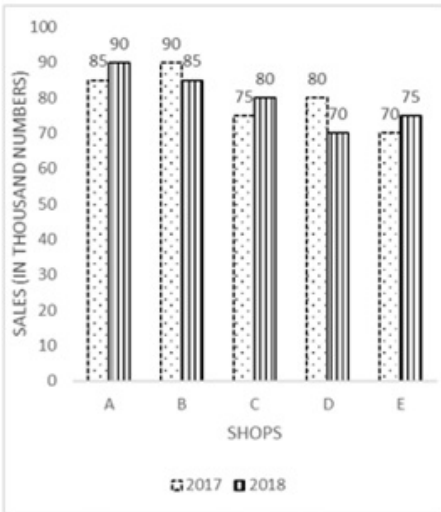
2. ✘ $\frac{6}{E}$

3. * $\frac{5}{F}$

4. * $\frac{E}{5}$

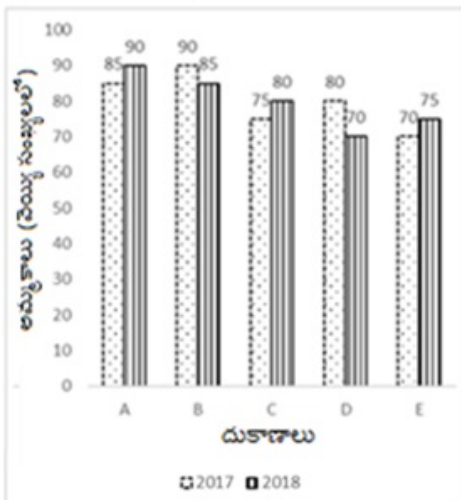
Question Number : 115 Question Id : 716447865 Question Type : MCQ Option Shuffling : Yes Negative Marks Display Text : 1/3 Correct Marks : 1 Wrong Marks : 0.33

The given column graph shows the sales of wireless keyboards (in thousand numbers) from five different shops A, B, C, D and E in the years of 2017 and 2018. Study the graph and answer the following question.



What is the average sale from all the shops (in thousand numbers) for the year 2018?

ఇచ్చిన కాలమ్ గ్రాఫ్ 2017 మరియు 2018 సంవత్సరాలలో A, B, C, D మరియు E అను ఐదు వేర్వేరు దుకాణాల వైర్లెస్ కీబోర్డుల అమ్మకాలను (వెయ్యి అంకెలలో) చూపిస్తుంది. గ్రాఫ్‌ను అధ్యయనం చేసి క్రింది ప్రశ్నకు సమాధానం ఇవ్వండి.



2018 సంవత్సరానికి గాను అన్ని దుకాణాల నుండి జరిగిన సగటు అమ్మకం (వెయ్యి అంకెలలో) ఎంత?

Options :

100

1. ✖ 100

90

2. ✖ 90

85

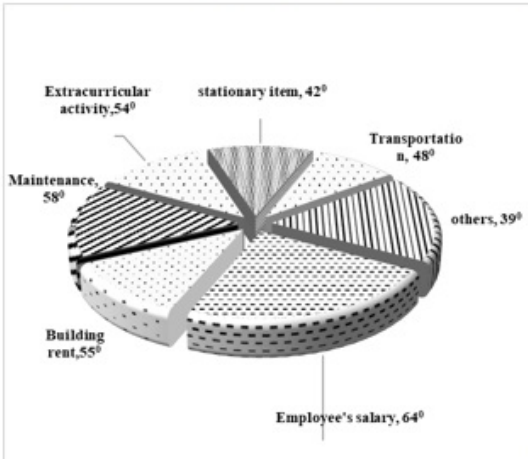
3. ✖ 85

80

4. ✔ 80

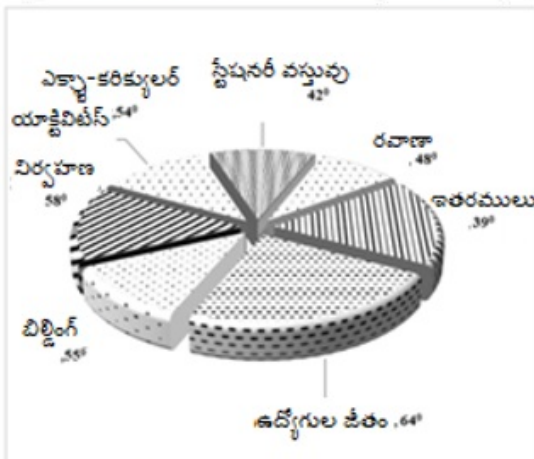
Question Number : 116 Question Id : 716447866 Question Type : MCQ Option Shuffling : Yes Negative Marks Display Text : 1/3 Correct Marks : 1 Wrong Marks : 0.33

Study the following circle graph carefully which shows the annual expenditure of a certain Private School.



If the total annual expenditure during the year was 8 crores, then what was the approximate amount spent on Building rent and extra-curricular activity?

ఒక నిర్దిష్ట ప్రైవేటు పాఠశాల యొక్క వార్షిక వ్యయాన్ని చూపించే కింది వృత్తాకార రేఖాపటాన్ని జాగ్రత్తగా అధ్యయనం చేయండి.



సంవత్సరం మొత్తం వార్షిక వ్యయం 8 కోట్లు అయితే, బిల్డింగు అద్దె మరియు ఎక్స్ట్రా-కరీకులర్ యాక్టివిటీ కోసం ఖర్చు చేసిన మొత్తం సుమారుగా ఎంత?

Options :

3.5 crores

1. ✘ 3.5 ಕೋಟಿ

3.0 crores

2. ✘ 3.0 ಕೋಟಿ

2.5 crores

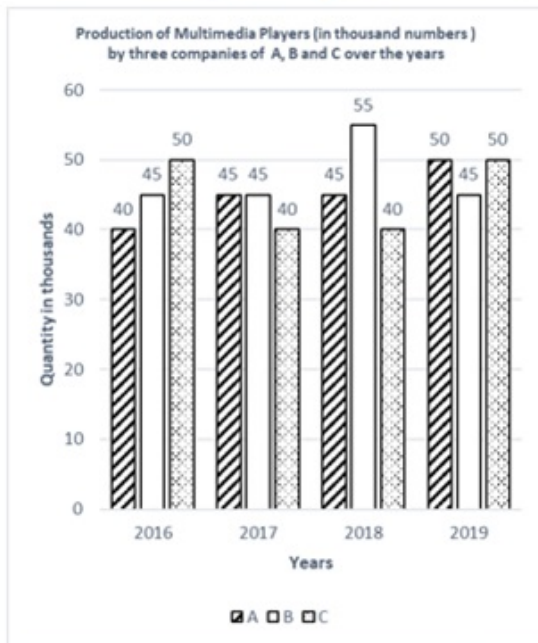
3. ✘ 2.5 ಕೋಟಿ

2.4 crores

4. ✔ 2.4 ಕೋಟಿ

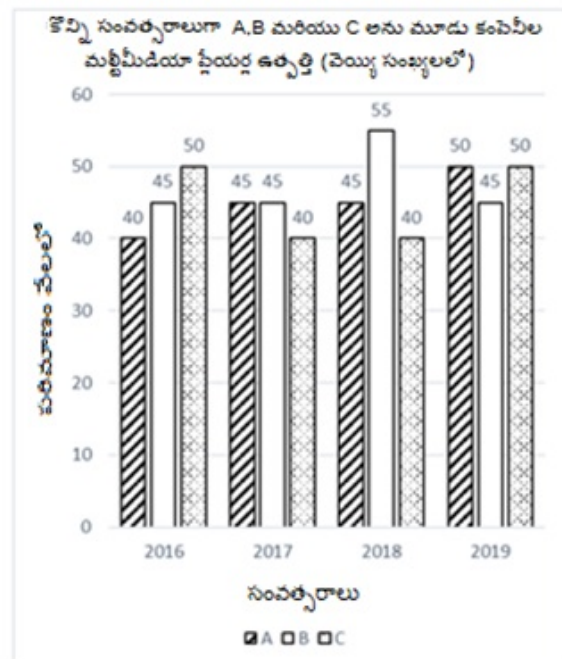
Question Number : 117 Question Id : 716447867 Question Type : MCQ Option Shuffling : Yes Negative Marks Display Text : 1/3
Correct Marks : 1 Wrong Marks : 0.33

Study the given graph of the production of multimedia players by three companies A, B and C over the years.



What is the difference between the production of company B in 2019 and company A in 2016?

కొన్ని సంవత్సరాలుగా A, B మరియు C అనే మూడు కంపెనీలచే ఉత్పత్తి కాబడ్డ మల్టీమీడియా ప్లేయర్స్ గ్రాఫును అధ్యయనం చేయండి.



2019 లో కంపెనీ B ఉత్పత్తికి, 2016 లో కంపెనీ A ఉత్పత్తికి మధ్య గల వ్యత్యాసం ఎంత?

Options :

85,000

1. ✖ 85,000

10,000

2. ✖ 10,000

5,000

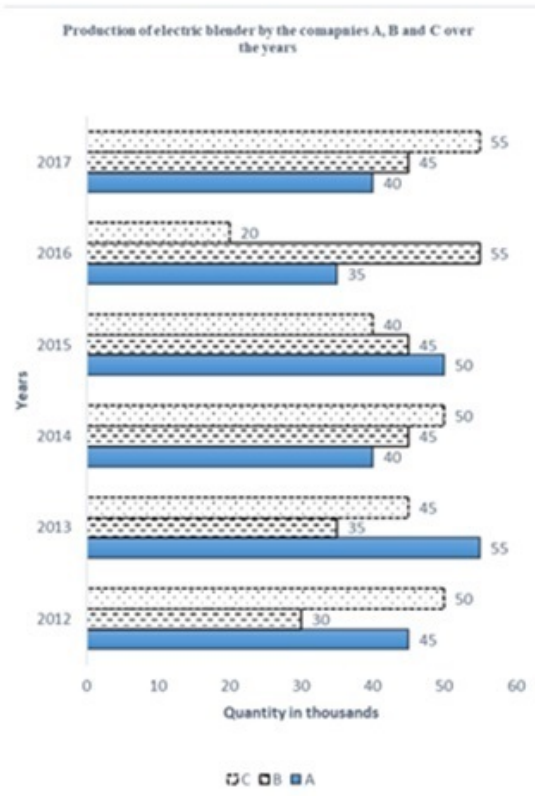
3. ✓ 5,000

1,000

4. ✗ 1,000

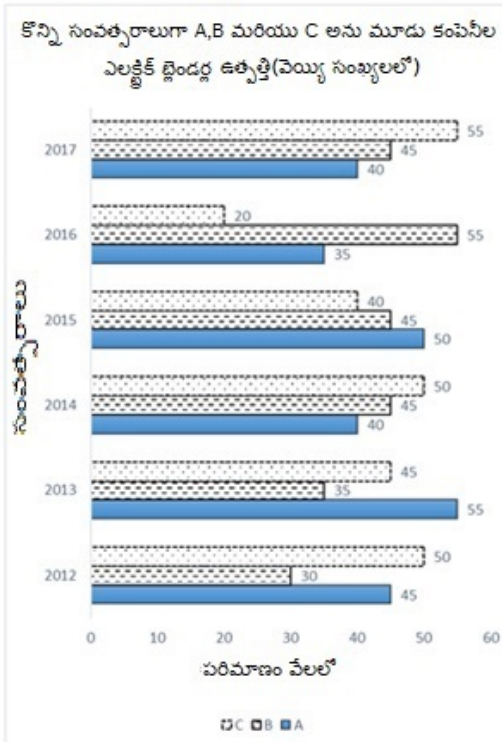
Question Number : 118 Question Id : 716447868 Question Type : MCQ Option Shuffling : Yes Negative Marks Display Text : 1/3
Correct Marks : 1 Wrong Marks : 0.33

Study the given graph of the production of electric blenders by three different companies namely A, B and C over the years and answer the following question.



In which year was the percentage of production of company A to the production of company C the minimum?

A, B మరియు C అనే మూడు వేర్వేరు సంస్థలచే ఎలక్ట్రిక్ బ్లెండర్ల ఉత్పత్తికి సంబంధించిన గ్రాఫును అధ్యయనం చేసి, ఈ క్రింది ప్రశ్నకు సమాధానం ఇవ్వండి.



A కంపెనీ ఉత్పత్తి శాతంకు, C కంపెనీ ఉత్పత్తి ఏ సంవత్సరంలో కనిష్టంగా ఉంది?

Options :

2015

1. ✖ 2015

2014

2. ✖ 2014

2016

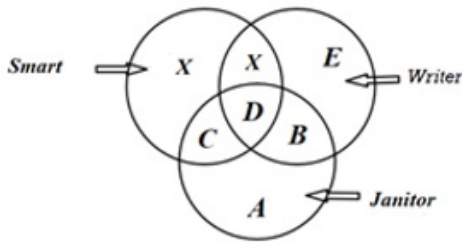
3. ✔ 2016

2017

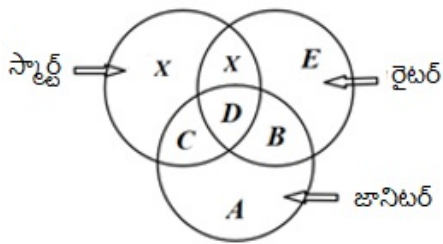
4. ✖ 2017

Question Number : 119 Question Id : 716447869 Question Type : MCQ Option Shuffling : Yes Negative Marks Display Text : 1/3 Correct Marks : 1 Wrong Marks : 0.33

Study the given Venn diagram and choose the region that best represents the following relation: A smart janitor who is not a writer.



ఇచ్చిన వెన్ రేఖాచిత్రాన్ని అధ్యయనం చేసి కింది సంబంధాన్ని ఉత్తమంగా సూచించే ప్రాంతాన్ని ఎంచుకోండి: రైటర్(రచయిత) కాని స్మార్ట్ జానిటర్ (కాపలాదారు).



Options :

D

1. ✖ D

C

2. ✔ C

D and B

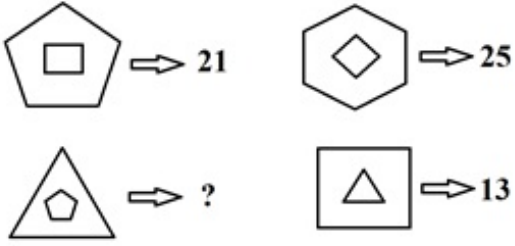
3. ✖ D మరియు B

B

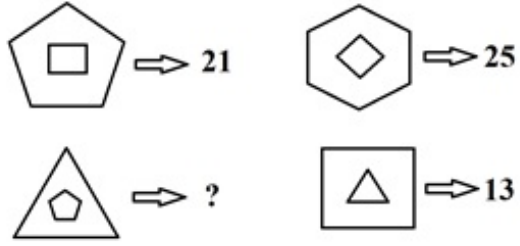
4. ✖ B

Question Number : 120 Question Id : 716447870 Question Type : MCQ Option Shuffling : Yes Negative Marks Display Text : 1/3 Correct Marks : 1 Wrong Marks : 0.33

Select the option that will correctly replace the question mark (?) in the given figure.



ఇచ్చిన శ్రేణిలోని ప్రశ్నార్థకం (?) గుర్తును సరిగ్గా భర్తీ చేయగల ఐచ్ఛికాన్ని ఎంచుకోండి.



Options :

36

1. ✖ 36

16

2. ✓ 16

9

3. ✖ 9

15

4. ✖ 15

Question Number : 121 Question Id : 716447871 Question Type : MCQ Option Shuffling : Yes Negative Marks Display Text : 1/3

Correct Marks : 1 Wrong Marks : 0.33

The given table shows the number of students who graduated from four different subjects, namely mathematics, chemistry, bioscience and physics during five consecutive years. Study the table and answer the following question.

Name of the subjects	Years				
	2014	2015	2016	2017	2018
Mathematics	60	62	75	55	45
Chemistry	80	60	55	85	75
Bio-science	58	64	50	60	55
Physics	40	35	52	38	30

What is the ratio of the number of students who graduated in the subject of mathematics in the year 2017 to the total number of students who graduated in all the subjects in that year?

ఇచ్చిన పట్టిక ఐదు వరుస సంవత్సరాలలో గణితం, రసాయన శాస్త్రం, బయోసైన్స్ మరియు భౌతిక శాస్త్రం అను నాలుగు వేర్వేరు సబ్జెక్టుల నుండి పట్టభద్రులైన విద్యార్థుల సంఖ్యను చూపిస్తుంది. పట్టికను అధ్యయనం చేసి క్రింది ప్రశ్నకు సమాధానం ఇవ్వండి.

సబ్జెక్టుల పేర్లు	సంవత్సరాలు				
	2014	2015	2016	2017	2018
గణితం	60	62	75	55	45
రసాయన శాస్త్రం	80	60	55	85	75
బయోసైన్స్	58	64	50	60	55
భౌతిక శాస్త్రం	40	35	52	38	30

2017 సంవత్సరంలో గణితంలో పట్టభద్రులైన విద్యార్థుల సంఖ్య, ఆ సంవత్సరంలో అన్ని సబ్జెక్టులలో పట్టభద్రులైన విద్యార్థుల సంఖ్యకు గల నిష్పత్తి ఎంత?

Options :

15 : 29

1. ✘ 15 : 29

55 : 238

2. ✔ 55 : 238

46 : 287

3. ✘ 46 : 287

85 : 281

4. ✘ 85 : 281

Study the given table carefully and answer the following question.

Company	Production of Air Purifiers (in thousand numbers)	
	2017	2018
A	26	23
B	22	22
C	18	20
D	21	28

What is the ratio of the production of air purifiers by the company A in 2017 to the production of air purifiers by company D in 2018?

ఇచ్చిన పట్టికను జాగ్రత్తగా అధ్యయనం చేసి, కింది ప్రశ్నకు సమాధానం ఇవ్వండి.

కంపెనీ	ఎయిర్ ప్యూరిఫైయర్ల ఉత్పత్తి (వెయ్యి అంకెలలో)	
	2017	2018
A	26	23
B	22	22
C	18	20
D	21	28

2017 లో కంపెనీ A చేత ఉత్పత్తైన ఎయిర్ ప్యూరిఫైయర్లకు, 2018 లో కంపెనీ D చేత ఉత్పత్తైన ఎయిర్ ప్యూరిఫైయర్ల మధ్య గల నిష్పత్తి ఎంత?

Options :

8 : 9

1. ✘ 8 : 9

11 : 21

2. ✘ 11 : 21

3 : 5

3. ✘ 3 : 5

13 : 14

4. ✔ 13 : 14

Question Number : 123 Question Id : 716447873 Question Type : MCQ Option Shuffling : Yes Negative Marks Display Text : 1/3 Correct Marks : 1 Wrong Marks : 0.33

Study the given table carefully and answer the following question.

Expenditure of a company (in lakh) per annum over the year

Items of expenditure	Years			
	2014	2015	2016	2017
Manufacturing cost	200	215	250	255
Labor cost	48	60	71	82
Transport	15	18	14	13
Taxes	2.5	3	4	5.5

What is the ratio of the expenditure on manufacturing cost in the year 2014 to the total expenditure on manufacturing cost for all the years respectively?

ఇచ్చిన పట్టికను జాగ్రత్తగా అధ్యయనం చేసి, కింది ప్రశ్నకు సమాధానం ఇవ్వండి.

సంవత్సరానికి ఒక సంస్థ యొక్క ఖర్చు (లక్షలలో)

వ్యయ అంకాలు	సంవత్సరాలు			
	2014	2015	2016	2017
ఉత్పాదక వ్యయం	200	215	250	255
లేబర్ ఖర్చు	48	60	71	82
రవాణా	15	18	14	13
టాక్సులు	2.5	3	4	5.5

2014 సంవత్సరంలో ఉత్పాదక వ్యయం మరియు వరుసగా అన్ని సంవత్సరాల మొత్తం ఉత్పాదక వ్యయంకు మధ్య గల నిష్పత్తి ఎంత?

Options :

1 : 2

1. ✖ 1 : 2

5 : 83

2. ✖ 5 : 83

10 : 11

3. ✖ 10 : 11

5 : 23

4. ✔ 5 : 23

In the given table, production of mangoes (in thousand tons) of three different states X, Y and Z over the years 2016 to 2019 is shown. Study the table and answer the following question.

Years States	2016	2017	2018	2019
X	5	4.6	5.3	4.8
Y	5.8	5.4	4	5.6
Z	4.6	4.3	5.6	6.6

What is the difference between the total production of mangoes (in tons) of all the three states X, Y and Z together in 2017 and 2018, respectively?

ఇచ్చిన పట్టికలో 2016 నుండి 2019 వరకు మూడు వేర్వేరు రాష్ట్రాలు X, Y మరియు Z యొక్క మామిడిపండ్ల ఉత్పత్తి (వెయ్యి టన్నులలో) చూపబడింది. పట్టికను అధ్యయనం చేసి క్రింది ప్రశ్నకు సమాధానం ఇవ్వండి.

సంవత్సరాలు రాష్ట్రాలు	2016	2017	2018	2019
X	5	4.6	5.3	4.8
Y	5.8	5.4	4	5.6
Z	4.6	4.3	5.6	6.6

వరుసగా 2017 మరియు 2018 సంవత్సరాల్లో X, Y మరియు Z మూడు రాష్ట్రాల మామిడి పండ్ల మొత్తం ఉత్పత్తిలో (టన్నులలో) వ్యత్యాసం ఎంత?

Options :

220 tons

1. ✘ 220 టన్నులు

450 tons

2. ✘ 450 టన్నులు

270 tons

3. ✘ 270 టన్నులు

600 tons

4. ✔ 600 టన్నులు

The given table shows the marks obtained by two students A and B in different subjects.

Subject	A	Maximum Marks	B	Maximum marks
Mathematics	40	50	35	50
Physics	42	50	33	50
Chemistry	40	50	40	50
Biology	35	50	42	50

What is the difference in the mean aggregate percentage marks of students A and B?

ఇచ్చిన పట్టిక A, B అనే ఇద్దరు విద్యార్థులు వేర్వేరు సబ్జెక్టులలో పొందిన మార్కులను చూపుతుంది.

సబ్జెక్టు	A	గరిష్ట మార్కులు	B	కనిష్ట మార్కులు
మ్యాథమాటిక్స్	40	50	35	50
ఫిజిక్స్	42	50	33	50
కెమిస్ట్రీ	40	50	40	50
బయాలజీ	35	50	42	50

A మరియు B విద్యార్థుల మొత్తం సగటు మార్కుల శాతంలో వ్యత్యాసం ఎంత?

Options :

2%

1. ✘ 2%

1.5%

2. ✘ 1.5%

5%

3. ✘ 5%

3.5%

4. ✔ 3.5%

The given table shows the number of students who graduated from five different faculties P, Q, R, S and T of a certain university A. Study the table and answer the following question.

University Years	P	Q	R	S	T
2012	410	300	250	280	440
2013	500	400	280	320	400
2014	450	450	240	260	350
2015	320	500	400	400	380
2016	500	430	540	350	420

The number of students who graduated from faculty Q in 2013 is approximately how much percent of the total number of students who graduated from all the faculties in that year?

ఇచ్చిన పట్టిక ఒక నిర్దిష్ట యూనివర్సిటీ యొక్క ఐదు వేర్వేరు అధ్యాపక వర్గాలు P, Q, R, S మరియు T నుండి పట్టభద్రులైన విద్యార్థుల సంఖ్యను చూపుతుంది. పట్టికను అధ్యయనం చేసి క్రింది ప్రశ్నకు సమాధానం ఇవ్వండి.

సంవత్సరాలు యూనివర్సిటీ	P	Q	R	S	T
2012	410	300	250	280	440
2013	500	400	280	320	400
2014	450	450	240	260	350
2015	320	500	400	400	380
2016	500	430	540	350	420

2013 లో అధ్యాపక వర్గం Q నుండి పట్టభద్రులైన విద్యార్థుల సంఖ్యకు, ఆ సంవత్సరంలో అన్ని అధ్యాపక వర్గాల నుండి పట్టభద్రులైన మొత్తం విద్యార్థుల సంఖ్యకు గల శాతం ఎంత?

Options :

15%

1. ✖ 15%

21.5%

2. ✖ 21.5%

40%

3. ✖ 40%

26.3%

4. ✔ 26.3%

The given table shows the number of students who applied to five different colleges A, B, C, D and E and those who were shortlisted. Study the table carefully and answer the following question.

College	Appeared	Shortlisted
A	1300	1000
B	1200	1050
C	1500	1350
D	1000	800
E	900	750

In which of the following colleges was there a minimum percentage of selection?

ఇచ్చిన పట్టిక A, B, C, D మరియు E అను ఐదు వేర్వేరు కళాశాలలకు దరఖాస్తు చేసుకున్న విద్యార్థుల సంఖ్య మరియు షార్ట్‌లిస్ట్ అయిన వారి సంఖ్యను చూపిస్తుంది. పట్టికను జాగ్రత్తగా అధ్యయనం చేసి కింది ప్రశ్నకు సమాధానం ఇవ్వండి.

కాలేజీ	హాజరైన వారు	షార్ట్ లిస్టెడ్
A	1300	1000
B	1200	1050
C	1500	1350
D	1000	800
E	900	750

కింది కాలేజీలలో ఏది కనీస ఎంపిక శాతాన్ని కలిగి ఉంది?

Options :

A

1. ✓ A

E

2. ✗ E

C

3. ✗ C

D

4. ✗ D

The given table shows the number of different brands of a digital weighing machine: A, B, C and D sold during four consecutive years.

Name of the Brands	Years				
	2014	2015	2016	2017	2018
A	250	150	275	255	310
B	80	60	55	85	75
C	58	64	50	60	55
D	40	35	52	38	30

What is the ratio of the number of Brand B digital weighing machines sold in 2015 to the total number of weighing machines of the same brand sold in all the years?

ఇచ్చిన పట్టిక వరుసగా నాలుగు సంవత్సరాలలో విక్రయించబడ్డ, వివిధ రకాల బ్రాండ్లైన A, B, C మరియు D ల డిజిటల్ వేయింగ్(బరువు) మెషీన్ లను చూపుతుంది.

బ్రాండ్	సంవత్సరాలు				
	2014	2015	2016	2017	2018
A	250	150	275	255	310
B	80	60	55	85	75
C	58	64	50	60	55
D	40	35	52	38	30

2015 లో అమ్మబడిన బ్రాండ్ B డిజిటల్ వేయింగ్ మెషీన్ల సంఖ్యకు, అన్ని సంవత్సరాల్లో విక్రయించిన అదే బ్రాండ్ యొక్క మొత్తం వేయింగ్ మెషీన్ల సంఖ్యకు గల నిష్పత్తి ఎంత?

Options :

12 : 71

1. ✓ 12 : 71

5 : 28

2. ✗ 5 : 28

4 : 28

3. ✗ 4 : 28

5 : 31

4. ✗ 5 : 31

The given table shows the number of stationary items sold by six different stationary shops A, B, C, D, E and F in five consecutive months.

Shops	A	B	C	D	E	F
1 st Month	160	134	140	128	126	148
2 nd Month	124	140	160	122	138	120
3 rd Month	132	138	148	164	140	126
4 th Month	128	142	150	129	128	152
5 th Month	145	120	142	121	110	124

The number of stationary items sold by Shop D in the 3rd month is approximately how much percent more than number of stationary items sold by Shop B in the same month?

ఇచ్చిన పట్టిక వరుసగా ఐదు నెలల్లో ఆరు వేర్వేరు స్టేషనరీ దుకాణాలు A, B, C, D, E మరియు F లు విక్రయించిన స్టేషనరీ వస్తువుల సంఖ్యను చూపిస్తుంది.

దుకాణాలు	A	B	C	D	E	F
కాల వ్యవధి						
1వ నెల	160	134	140	128	126	148
2వ నెల	124	140	160	122	138	120
3వ నెల	132	138	148	164	140	126
4వ నెల	128	142	150	129	128	152
5వ నెల	145	120	142	121	110	124

3వ నెలలో దుకాణం D విక్రయించిన స్టేషనరీ వస్తువుల సంఖ్య, అదే నెలలో దుకాణం B విక్రయించిన స్టేషనరీ వస్తువుల సంఖ్య కంటే సుమారు ఎంత శాతం ఎక్కువ?

Options :

5.5%

1. ✘ 5.5%

6%

2. ✘ 6%

18.8%

3. ✔ 18.8%

15%

4. ✘ 15%

Correct Marks : 1 Wrong Marks : 0.33

Study the given table carefully and answer the following question.

Number of candidates from five different states A, B, C, D and E who appeared for an interview for a certain post in a bank over the years.

States \ Years	A	B	C	D	E
2014	300	410	280	320	440
2015	400	500	320	350	400
2016	450	450	260	410	350
2017	500	320	400	480	380
2018	430	500	350	500	420

The number of candidates who appeared from State E in 2017 is approximately how much percent of the total number of candidates who appeared from all the states together in that year?

ఇచ్చిన పట్టికను జాగ్రత్తగా అధ్యయనం చేసి, కింది ప్రశ్నకు సమాధానం ఇవ్వండి.

A, B, C, D మరియు E అనే ఐదు వేర్వేరు రాష్ట్రాల నుండి ఒక బ్యాంకులోని ఒక నిర్దిష్ట పోస్టు కోసం ఇంటర్వ్యూకి హాజరైన అభ్యర్థుల సంఖ్య చూపబడినది.

రాష్ట్రాలు \ సంవత్సరాలు	A	B	C	D	E
2014	300	410	280	320	440
2015	400	500	320	350	400
2016	450	450	260	410	350
2017	500	320	400	480	380
2018	430	500	350	500	420

2017 లో రాష్ట్రం E నుండి హాజరైన అభ్యర్థుల సంఖ్య, ఆ సంవత్సరంలో అన్ని రాష్ట్రాల నుండి కలిసి హాజరైన మొత్తం అభ్యర్థులలో ఎంత శాతం?

Options :

18%

1. ✓ 18%

25%

2. ✗ 25%

10%

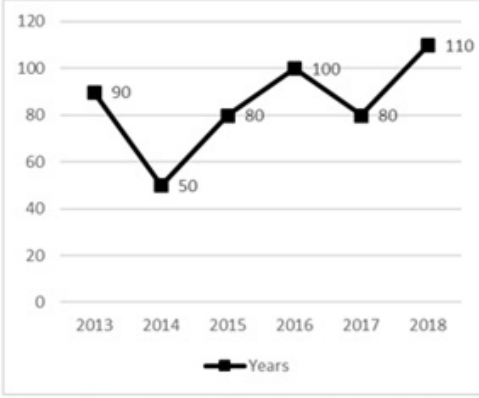
3. ✗ 10%

30%

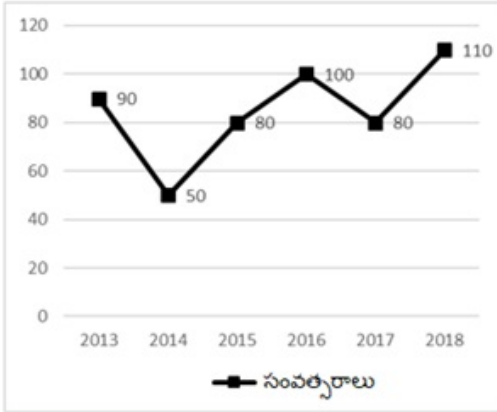
4. ✖ 30%

Question Number : 131 Question Id : 716447881 Question Type : MCQ Option Shuffling : Yes Negative Marks Display Text : 1/3 Correct Marks : 1 Wrong Marks : 0.33

The given bar chart shows data pertaining to the production of air conditioners over the years by a company. Study the graph carefully and find out the approximate percentage drop in air conditioner production between the years 2016 and 2017.



ఇచ్చిన బార్ చార్టు, ఒక సంస్థ యొక్క కొన్ని సంవత్సరాల నుండి ఉత్పత్తి చేస్తున్న ఎయిర్ కండిషనర్లకు సంబంధించిన దత్తాంశాన్ని చూపిస్తుంది. గ్రాఫును జాగ్రత్తగా అధ్యయనం చేయండి మరియు 2016 మరియు 2017 సంవత్సరాల మధ్య ఎయిర్ కండిషనర్ ఉత్పత్తిలో తగ్గుదల శాతంను సుమారుగా కనుగొనండి.



Options :

10%

1. ✖ 10%

11%

2. ✖ 11%

15%

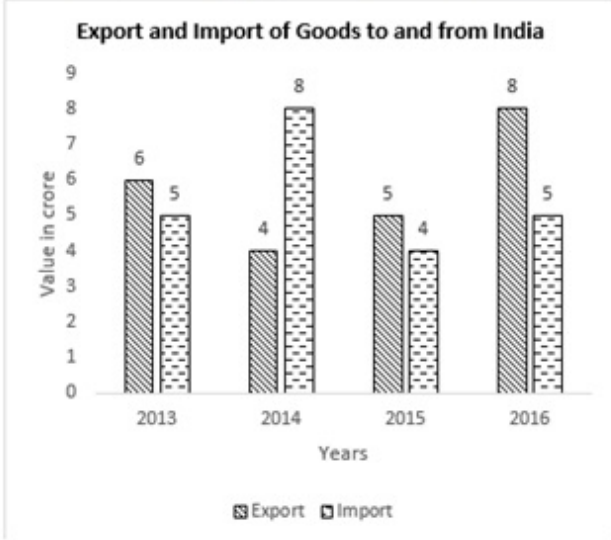
3. ✖ 15%

20%

4. ✓ 20%

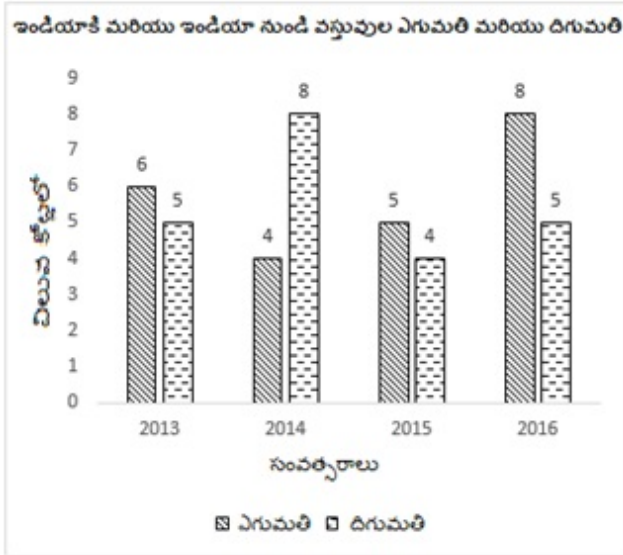
Question Number : 132 Question Id : 716447882 Question Type : MCQ Option Shuffling : Yes Negative Marks Display Text : 1/3 Correct Marks : 1 Wrong Marks : 0.33

Study the given graph carefully and answer the following question.



What is the ratio of the total export and import of the good in terms of value in India?

ఇచ్చిన గ్రాఫ్‌ను జాగ్రత్తగా అధ్యయనం చేసి, కింది ప్రశ్నకు సమాధానం ఇవ్వండి.



భారతదేశంలో విలువ పరంగా ఒక నిర్దిష్ట వస్తువు యొక్క మొత్తం ఎగుమతి మరియు దిగుమతుల నిష్పత్తి ఎంత?

Options :

8 : 7

1. ✖ 8 : 7

17 : 13

2. ✖ 17 : 13

23 : 21

3. ✖ 23 : 21

23 : 22

4. ✔ 23 : 22


Question Number : 133 Question Id : 716447883 Question Type : MCQ Option Shuffling : Yes Negative Marks Display Text : 1/3
Correct Marks : 1 Wrong Marks : 0.33

Study the given scatter graph and answer the following question.



In which year was the value per container the minimum?

ఇచ్చిన వ్యాకీర్ణ రేఖాపటాన్ని అధ్యయనం చేసి, కింది ప్రశ్నకు సమాధానం ఇవ్వండి.



ప్రతి కంటైనర్ విలువ ఏ సంవత్సరంలో కనిష్టంగా ఉంది?

Options :

2007

1. * 2007

2004

2. ✖ 2004

2005

3. ✖ 2005

2006

4. ✔ 2006

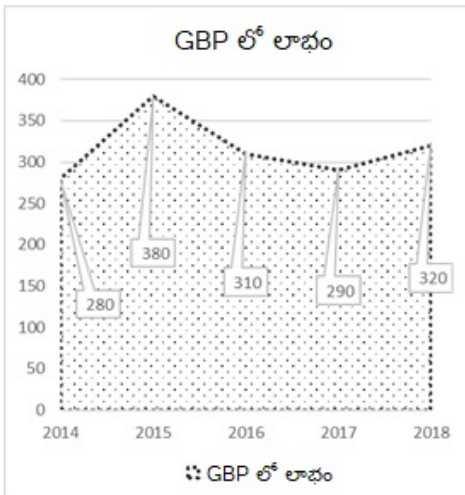
Question Number : 134 Question Id : 716447884 Question Type : MCQ Option Shuffling : Yes Negative Marks Display Text : 1/3 Correct Marks : 1 Wrong Marks : 0.33

The given area graph shows the profit made by a software company (in thousand GBP) from 2014 to 2018.



The profit made by the software company in 2015 was approximately how much percent of the average profit over the period under review?

ఇచ్చిన ఏరియా గ్రాఫు, 2014 నుండి 2018 వరకు ఒక సాఫ్ట్‌వేర్ సంస్థ పొందిన లాభాలను (వెయ్యి జిబిపిలో) చూపుతుంది.



2015 లో సాఫ్ట్‌వేర్ కంపెనీ పొందిన లాభం, రివ్యూ కాలంలోని సగటు లాభంలో సుమారు ఎంత శాతం?

Options :

100%

1. ✖ 100%

95%

2. ✖ 95%

89%

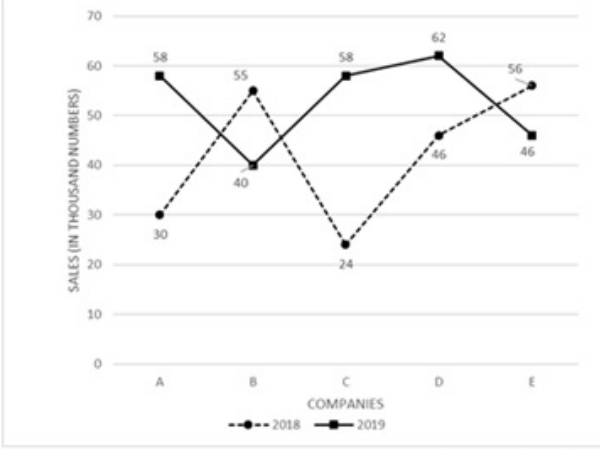
3. ✖ 89%

120%

4. ✔ 120%

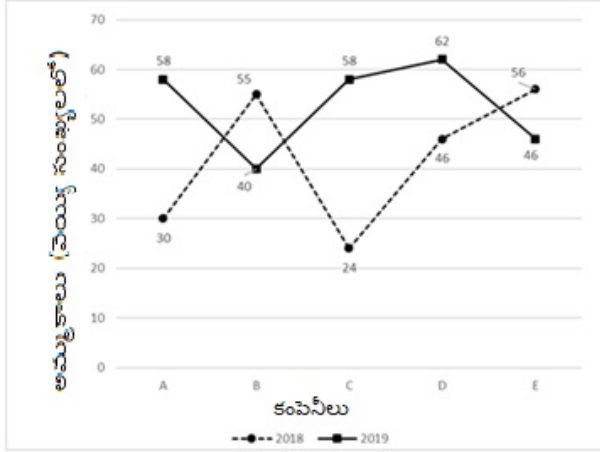
Question Number : 135 Question Id : 716447885 Question Type : MCQ Option Shuffling : Yes Negative Marks Display Text : 1/3
Correct Marks : 1 Wrong Marks : 0.33

The given line graph shows the number of gaming routers (in thousand numbers) manufactured by five different branches A, B, C, D and E of a company in the years 2018 and 2019. Study the graph and answer the following question.



How many gaming routers were manufactured by the three branches A, C, and E together in both the years?

ఇచ్చిన లైన్ గ్రాఫు 2018 మరియు 2019 సంవత్సరాల్లో ఒక సంస్థ యొక్క ఐదు వేర్వేరు బ్రాంచీలు A, B, C, D మరియు E చేత తయారు చేయబడిన గేమింగ్ రౌటర్ల సంఖ్యను (వెయ్యి సంఖ్యలలో) చూపిస్తుంది. గ్రాఫును అధ్యయనం చేసి క్రింది ప్రశ్నకు సమాధానం ఇవ్వండి.



రెండు సంవత్సరాలలో A, C మరియు E అనే మూడు బ్రాంచీలు కలిసి ఎన్ని గేమింగ్ రౌటర్లను తయారు చేశాయి?

Options :

266,000

1. ✘ 266,000

328,000

2. ✘ 328,000

272,000

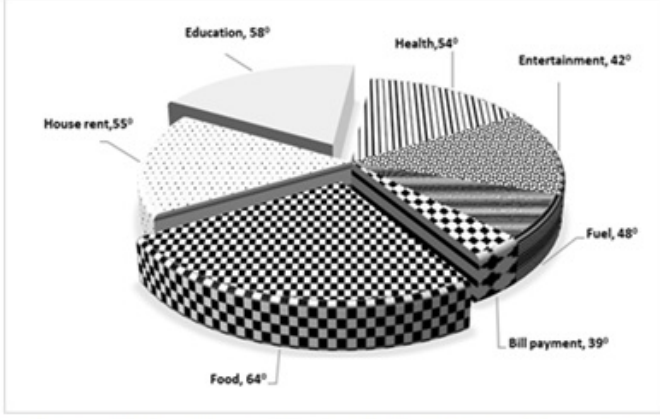
3. ✔ 272,000

300,000

4. ✖ 300,000

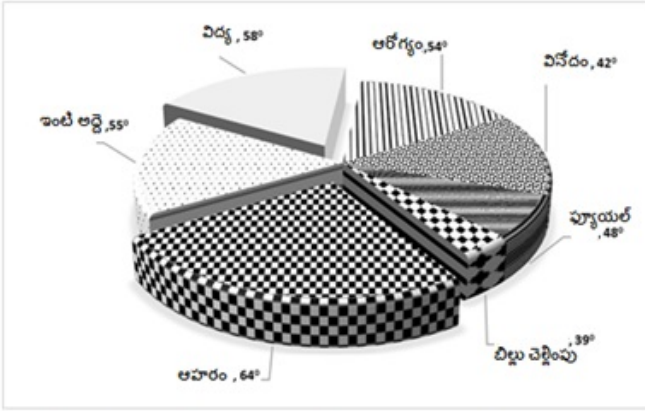
Question Number : 136 Question Id : 716447886 Question Type : MCQ Option Shuffling : Yes Negative Marks Display Text : 1/3 Correct Marks : 1 Wrong Marks : 0.33

Study the given circle graph carefully which shows the monthly expenditure of a family and answer the following question.



If the total monthly expenditure during the month was ₹ 60,000, then what was the approximate amount spent on food and education together?

ఒక కుటుంబం యొక్క నెలవారీ ఖర్చును చూపిస్తున్న వృత్తాకార రేఖాపటాన్ని జాగ్రత్తగా అధ్యయనం చేసి క్రింది ప్రశ్నకు సమాధానం ఇవ్వండి.



నెలలో మొత్తం నెలవారీ ఖర్చు ₹ 60,000 అయితే, ఆహారం మరియు విద్య కోసం కలిపి ఖర్చు చేసిన మొత్తం ఎంత?

Options :

₹ 15,000

1. ✖ ₹ 15,000

₹ 16,900

2. ✖ ₹ 16,900

₹ 14,500

3. ✖ ₹ 14,500

₹ 20,300

4. ✔ ₹ 20,300

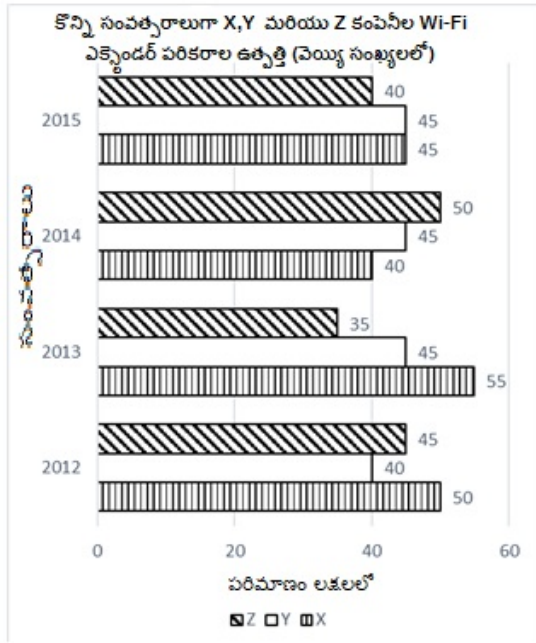
Question Number : 137 Question Id : 716447887 Question Type : MCQ Option Shuffling : Yes Negative Marks Display Text : 1/3
Correct Marks : 1 Wrong Marks : 0.33

The given graph shows the production of Wi-Fi extender devices by three companies X, Y and Z over the years. Study the graph and answer the following question.



What is the difference between the production of company X in 2013 and company Z in 2015?

ఇచ్చిన గ్రాఫు, సంవత్సరానికి X, Y మరియు Z అనే మూడు కంపెనీల ద్వారా ఉత్పత్తి అవుతున్న Wi-Fi ఎక్స్టెండర్ పరికరాల ఉత్పత్తిని చూపిస్తుంది. గ్రాఫును అధ్యయనం చేసి క్రింది ప్రశ్నకు సమాధానం ఇవ్వండి.



2013 లో కంపెనీ X ఉత్పత్తికి, 2015 లో కంపెనీ Z కి మధ్య వ్యత్యాసం ఎంత?

Options :

10,00,000

1. ✘ 10,00,000

1,500,000

2. ✔ 1,500,000

10,000

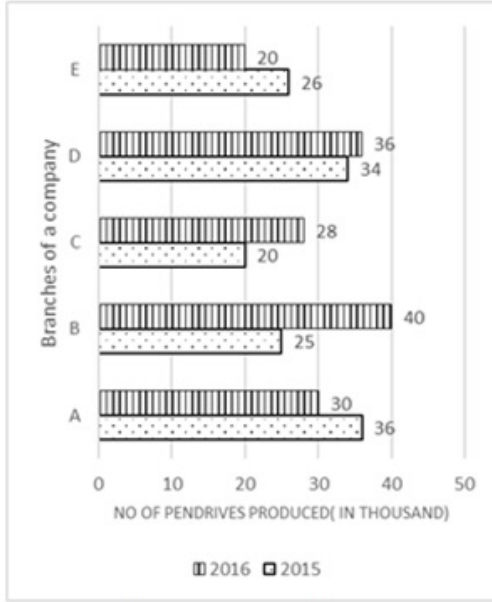
3. ✖ 10,000

500,000

4. ✖ 500,000

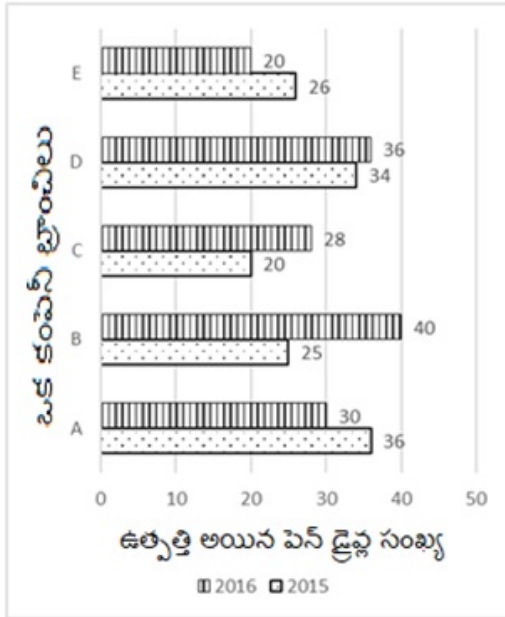
Question Number : 138 Question Id : 716447888 Question Type : MCQ Option Shuffling : Yes Negative Marks Display Text : 1/3
Correct Marks : 1 Wrong Marks : 0.33

The given bar graph shows the total number of pen drives (in thousand) produced by five different branches of a company: A, B, C, D and E in 2015 and 2016. Study the graph carefully and answer the following question.



The number of pen drives produced by branch A in 2016 is how much percent of pen drives produced by branch E in the same year?

ఇచ్చిన బార్ గ్రాఫు ఒక సంస్థ యొక్క ఐదు వేర్వేరు బ్రాంచీలు A, B, C, D మరియు E లచే 2015 మరియు 2016 లో ఉత్పత్తి చేయబడిన మొత్తం పెన్ డ్రైవ్ల సంఖ్యను (వెయ్యిలో) చూపిస్తుంది. గ్రాఫును జాగ్రత్తగా అధ్యయనం చేసి క్రింది ప్రశ్నకు సమాధానం ఇవ్వండి.



2016 లో బ్రాంచ్ A చేత ఉత్పత్తి చేయబడిన పెన్ డ్రైవ్ల సంఖ్య అదే సంవత్సరంలో బ్రాంచ్ E చేత ఉత్పత్తి చేయబడిన పెన్ డ్రైవ్లలో ఎంత శాతం?

Options :
150%

1. ✓ 150%

50%

2. ✗ 50%

100%

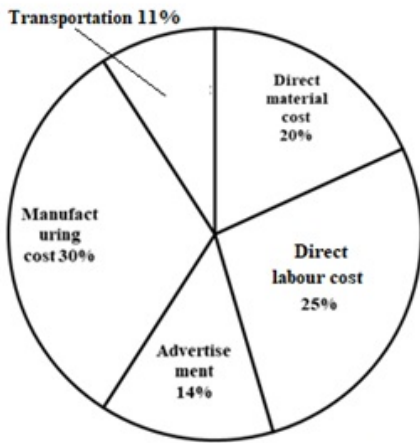
3. ✖ 100%

66%

4. ✖ 66%

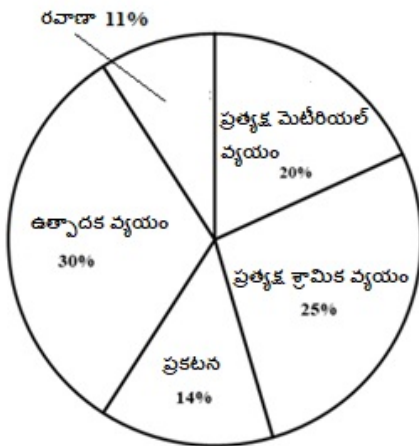
Question Number : 139 Question Id : 716447889 Question Type : MCQ Option Shuffling : Yes Negative Marks Display Text : 1/3 Correct Marks : 1 Wrong Marks : 0.33

The given pie chart shows the percentage distribution of the expenditure incurred in manufacturing product A. Study the pie chart and answer the following question.



If 100 units of product A are manufactured and their manufacturing cost amounts to ₹ 10,000, then what should be the selling price of each product so that the manufacturer can earn a profit of 20%?

ఇచ్చిన 'పై చార్ట్' ప్రోడక్ట్ A తయారీపై చేసిన వ్యయం యొక్క పంపిణీ శాతాన్ని చూపిస్తుంది. 'పై చార్టు'ను అధ్యయనం చేసి క్రింది ప్రశ్నకు సమాధానం ఇవ్వండి.



ప్రోడక్ట్ A 100 యూనిట్లు తయారు చేయబడి, వాటి తయారీ వ్యయం ₹ 10,000 అయితే, తయారీదారు 20% లాభం పొందగలిగేలా ఉత్పత్తి అమ్మకపు ధర ఎంత ఉండాలి?

Options :

₹ 80

1. ✖ ₹ 80

₹ 400

2. ✓ ₹ 400

₹ 145

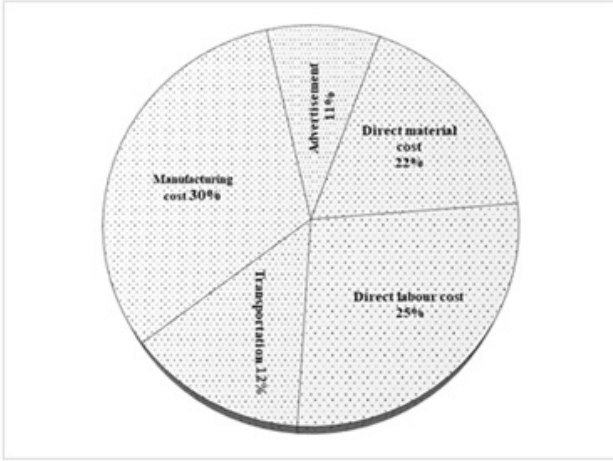
3. ✘ ₹ 145

₹ 160

4. ✘ ₹ 160

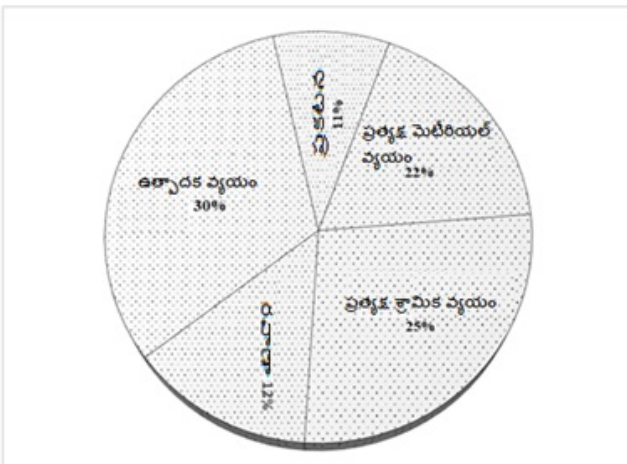
Question Number : 140 Question Id : 716447890 Question Type : MCQ Option Shuffling : Yes Negative Marks Display Text : 1/3 Correct Marks : 1 Wrong Marks : 0.33

The given pie chart shows the percentage distribution of the expenditure incurred in manufacturing product X. Study the pie chart and answer the following question.



If for a certain quantity of product X, the manufacturer has to pay ₹ 10,000 for direct labor cost, then what would be the manufacturing cost to be paid for product X?

ఇచ్చిన 'పై చార్టు', ఉత్పత్తి X తయారీపై చేసిన వ్యయం యొక్క పంపిణీ శాతాన్ని చూపుతుంది. 'పై చార్టు'ను అధ్యయనం చేసి క్రింది ప్రశ్నకు సమాధానం ఇవ్వండి.



ఉత్పత్తి X యొక్క నిర్దిష్ట పరిమాణానికి, తయారీదారు ప్రత్యక్ష శ్రామిక వ్యయం కోసం ₹ 10,000 చెల్లించాల్సి ఉంటే, అప్పుడు ఉత్పత్తి X కోసం చెల్లించాల్సిన తయారీ వ్యయం ఎంత?

Options :

₹ 25,000

1. ✖ ₹ 25,000

₹ 24,000

2. ✖ ₹ 24,000

₹ 12,000

3. ✔ ₹ 12,000

₹ 40,000

4. ✖ ₹ 40,000

Question Number : 141 Question Id : 716447891 Question Type : MCQ Option Shuffling : Yes Negative Marks Display Text : 1/3 Correct Marks : 1 Wrong Marks : 0.33

The goal scored in a semi-final football tournament by 11 players is as follows:

7, 13, 9, 5, 10, 13, 1, 7, 3, 7, 1

Which of the following options is the mode of the above mentioned data?

ఒక సెమీ-ఫైనల్ ఫుట్బాల్ టోర్నమెంట్‌లో 11 మంది ఆటగాళ్ళు సాధించిన గోల్స్ ఈ క్రింది విధంగా ఉన్నాయి:

7, 13, 9, 5, 10, 13, 1, 7, 3, 7, 1

కింది వాటిలో ఏది పైన పేర్కొన్న దత్తాంశం యొక్క బాహుళకం?

Options :

1

1. ✖ 1

7

2. ✔ 7

13

3. ✖ 13

9

4. ✖ 9

Question Number : 142 Question Id : 716447892 Question Type : MCQ Option Shuffling : Yes Negative Marks Display Text : 1/3
Correct Marks : 1 Wrong Marks : 0.33

The given numbers represent the weights of people on a minibus:

18, 65, 108, 78, 89, 45, 68, 94, 85, 82, 43.

What is the mean of their weights?

ఇచ్చిన సంఖ్యలు ఒక మినీ బస్సులోని ప్రజల బరువును సూచిస్తాయి:

18, 65, 108, 78, 89, 45, 68, 94, 85, 82, 43.

వారి బరువుల సరాసరి ఎంత?

Options :

70.45

1. ✔ 70.45

68.35

2. ✖ 68.35

75

3. ✖ 75

80.95

4. ✖ 80.95

Question Number : 143 Question Id : 716447893 Question Type : MCQ Option Shuffling : Yes Negative Marks Display Text : 1/3
Correct Marks : 1 Wrong Marks : 0.33

What is the value of Y if the mean of 8, 9, Y + 2, 10, 2Y - 1, and 2 is 9?

8, 9, Y + 2, 10, 2Y - 1, మరియు 2 యొక్క సరాసరి 9 అయినచో Y విలువ ఎంత?

Options :

7

1. ✖ 7

8

2. ✓ 8

9

3. ✖ 9

10

4. ✖ 10

Question Number : 144 Question Id : 716447894 Question Type : MCQ Option Shuffling : Yes Negative Marks Display Text : 1/3
Correct Marks : 1 Wrong Marks : 0.33

Which of the given options will be the median of the given set of numbers?

7, 9, 10, 21, 11, 17, 19, 23, 5, 13

ఇచ్చిన సంఖ్యల సమూహంలో మధ్యగతం ఏది అవుతుంది?

7, 9, 10, 21, 11, 17, 19, 23, 5, 13

Options :

11

1. ✖ 11

10.5

2. ✖ 10.5

12

3. ✓ 12

17

4. ✖ 17

Question Number : 145 Question Id : 716447895 Question Type : MCQ Option Shuffling : Yes Negative Marks Display Text : 1/3
Correct Marks : 1 Wrong Marks : 0.33

What will be the approximate value of variance of the given set of numbers?

10, 30, 20, 23

ఇచ్చిన సంఖ్యల సమితుల విస్తృతి యొక్క సుమారు విలువ ఎంత?

10, 30, 20, 23

Options :

30.25

1. ✘ 30.25

90.5

2. ✘ 90.5

51.6

3. ✔ 51.6

80.9

4. ✘ 80.9

Question Number : 146 Question Id : 716447896 Question Type : MCQ Option Shuffling : Yes Negative Marks Display Text : 1/3
Correct Marks : 1 Wrong Marks : 0.33

Which of the following options will be the approximate co-efficient of variation of the given data?

{202, 204, 206, 208, 210}

కింది వాటిలో ఇచ్చిన దత్తాంశం యొక్క విచరణ గుణకం సుమారుగా ఎంత?

{202, 204, 206, 208, 210}

Options :

0.0529

1. ✘ 0.0529

0.0251

2. ✘ 0.0251

0.0459

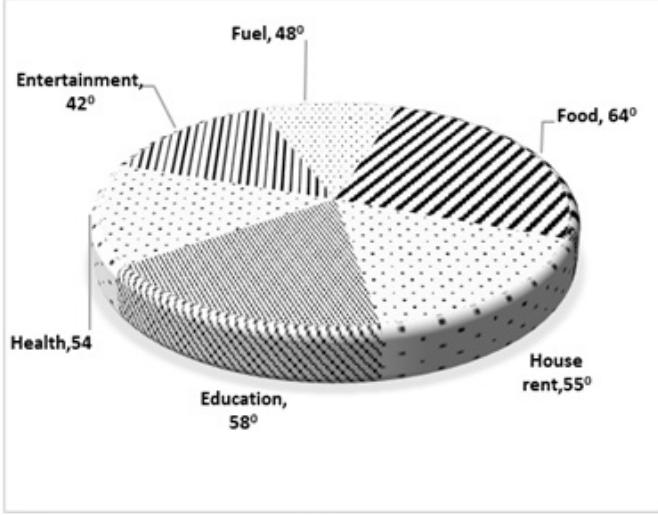
3. ✘ 0.0459

0.0137

4. ✓ 0.0137

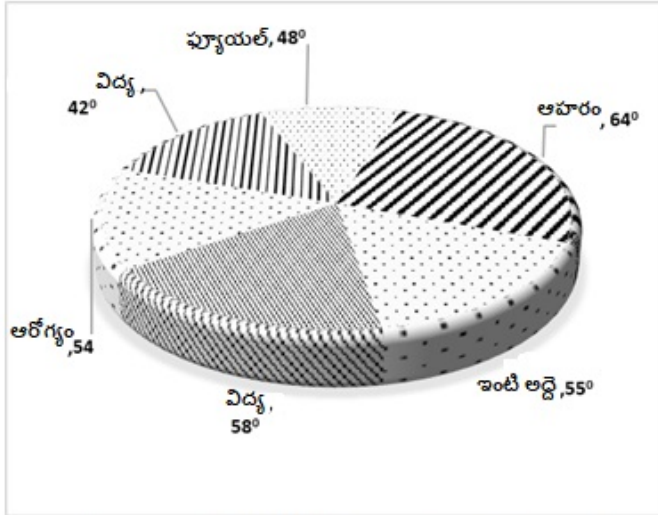
Question Number : 147 Question Id : 716447897 Question Type : MCQ Option Shuffling : Yes Negative Marks Display Text : 1/3 Correct Marks : 1 Wrong Marks : 0.33

Study the given pie chart carefully which shows the monthly expenditure of a middle class family and answer the following question.



If the total monthly expenditure was ₹ 40,000, then what was the amount spent on food and education together?

మధ్యతరగతి కుటుంబం యొక్క నెలవారీ ఖర్చును చూపించే పై చార్టును జాగ్రత్తగా అధ్యయనం చేసి క్రింది ప్రశ్నకు సమాధానం ఇవ్వండి.



మొత్తం నెలవారీ ఖర్చు ₹ 40,000 అయితే, ఆహారం మరియు విద్య కోసం కలిపి ఖర్చు చేసిన మొత్తం ఎంత?

Options :

14580

1. ✘ 14580

13555

2. ✓ 13555

18666

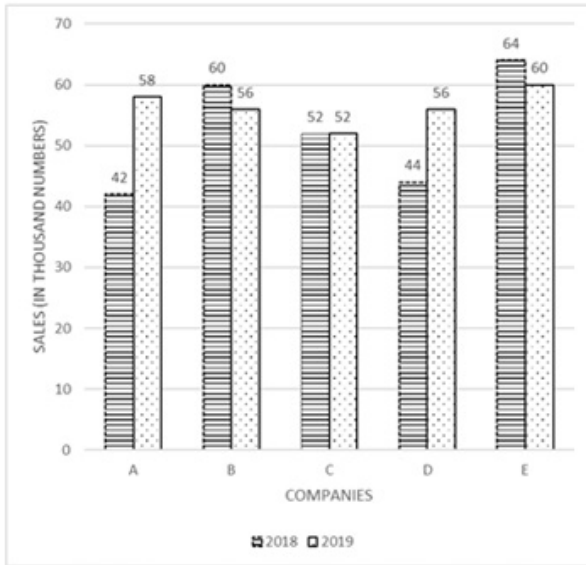
3. ✖ 18666

20000

4. ✖ 20000

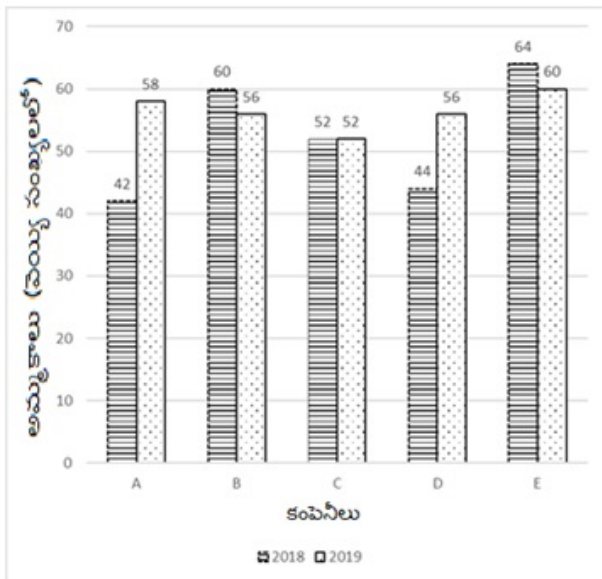
Question Number : 148 Question Id : 716447898 Question Type : MCQ Option Shuffling : Yes Negative Marks Display Text : 1/3
Correct Marks : 1 Wrong Marks : 0.33

The given bar graph shows the number of hard drives (in thousand numbers) manufactured by five different companies A, B, C, D and E in the years 2018 and 2019. Study the graph and answer the following question.



How many hard drives were manufactured by the three companies: B, C and D together in both the years?

ఇచ్చిన బార్ గ్రాఫు, 2018 మరియు 2019 సంవత్సరాల్లో A, B, C, D మరియు E అనే ఐదు వేర్వేరు సంస్థలచే తయారు చేయబడిన హార్డ్ డ్రైవ్ల సంఖ్యను (వెయ్యి సంఖ్యలో) చూపిస్తుంది. గ్రాఫును అధ్యయనం చేసి క్రింది ప్రశ్నకు సమాధానం ఇవ్వండి.



రెండు సంవత్సరాలలో B, C మరియు D అనే మూడు కంపెనీలు కలిపి ఎన్ని హార్డ్ డ్రైవ్ లను తయారు చేశాయి?

Options :

354,000

1. ✘ 354,000

320,000

2. ✔ 320,000

224,000

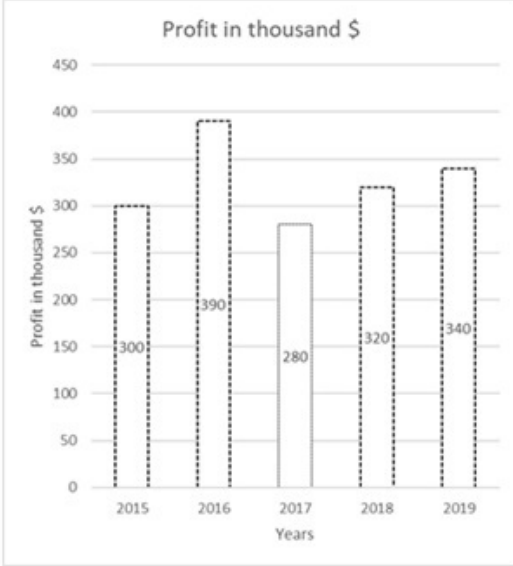
3. ✘ 224,000

112,000

4. ✖ 112,000


Question Number : 149 Question Id : 716447899 Question Type : MCQ Option Shuffling : Yes Negative Marks Display Text : 1/3 Correct Marks : 1 Wrong Marks : 0.33

The given bar graph shows the profit made by a certain company (in thousand \$) from 2015 to 2019.



The profit made by the company in 2018 was approximately how much percent of the average profit over the period under review (2015-2019)?

ఇచ్చిన బార్ గ్రాఫు, 2015 నుండి 2019 వరకు ఒక నిర్దిష్ట సంస్థ చేసిన లాభాలను (వెయ్యి \$ లో) చూపుతుంది.



రివ్యూ కాలంలోని (2015-2019) సగటు లాభం, కంపెనీ 2018 లో సాధించిన లాభంలో ఎంత శాతం?

Options :

107.5%

1. ✖ 107.5%

113%

2. ✖ 113%

98.15%

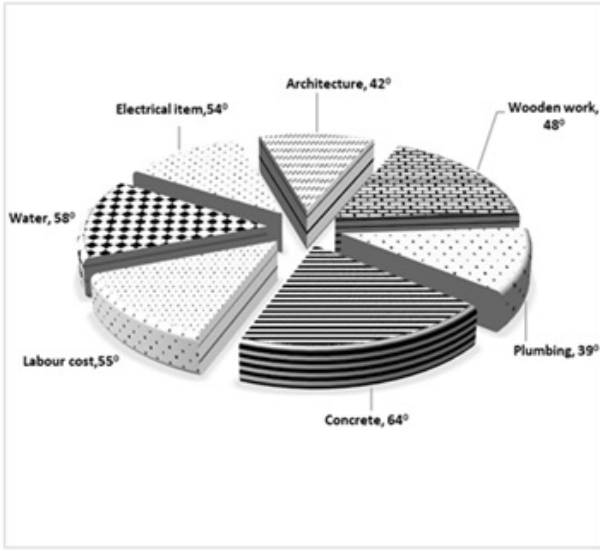
3. ✔ 98.15%

125.25%

4. ✖ 125.25%

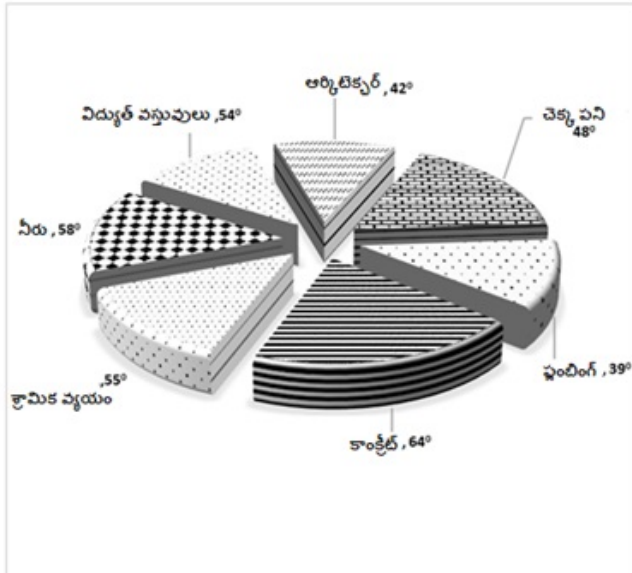
Question Number : 150 Question Id : 716447900 Question Type : MCQ Option Shuffling : Yes Negative Marks Display Text : 1/3
Correct Marks : 1 Wrong Marks : 0.33

Study the given pie chart carefully which shows the expenditure in constructing a house and answer the following question.



If electrical items and wooden work together cost ₹ 10 lakhs, then what is total approximate amount spent on completing the construction of the house?

ఒక ఇల్లు నిర్మించటానికి అయ్యే ఖర్చును చూపించే 'పై చార్టు'ను జాగ్రత్తగా అధ్యయనం చేసి కింది ప్రశ్నకు సమాధానం ఇవ్వండి.



ఎలక్ట్రికల్ వస్తువులు మరియు చెక్క పనికి కలిసి ₹ 10 లక్షలు ఖర్చు చేస్తే, అప్పుడు ఇంటి నిర్మాణం పూర్తి చేయడానికి ఖర్చు చేసిన మొత్తం సుమారుగా ఎంత?

Options :

22.5 lakhs

1. ✖ 22.5 లక్షలు

45 lakhs

2. ✖ 45 లక్షలు

35.3 lakhs

3. ✓ 35.3 ಲಕ್ಷ

50.25 lakhs

4. ✗ 50.25 ಲಕ್ಷ