

Notations :

- 1.Options shown in green color and with ✓ icon are correct.
- 2.Options shown in red color and with ✖ icon are incorrect.

Question Paper Name:	GSMA 17 Feb 20 S1
Subject Name:	General Studies Mental Ability
Creation Date:	2020-02-17 13:20:13
Duration:	150
Total Marks:	150
Display Marks:	Yes
Share Answer Key With Delivery Engine:	No
Actual Answer Key:	Yes
Calculator:	None
Magnifying Glass Required?:	No
Ruler Required?:	No
Eraser Required?:	No
Scratch Pad Required?:	No
Rough Sketch/Notepad Required?:	No
Protractor Required?:	No
Show Watermark on Console?:	Yes
Highlighter:	No
Auto Save on Console?:	No

Sub-Section Number:	1
Sub-Section Id:	7164477
Question Shuffling Allowed :	Yes

Question Number : 1 Question Id : 7164471 Question Type : MCQ Option Shuffling : Yes Negative Marks Display Text : 1/3 Correct Marks : 1 Wrong Marks : 0.33

Pearl Harbor is a US naval base near Honolulu, Hawaii, that was the scene of a devastating surprise attack on 7 December 1941. Name the country that attacked Pearl Harbor.

పెర్ల్ హార్బర్ అనేది హావాయిలోని హోనోలులుకు సమీపంలో ఉన్న ఒక యుఎస్ (US) నావికా స్థావరం, ఇది 7 డిసెంబర్ 1941 న వినాశకరమైన, ఆశ్చర్యకరమైన దాడికి పాల్పడింది. పెర్ల్ నౌకాశ్రయంపై దాడి చేసిన దేశం పేరు:

Options :

China

1. ✖ చైనా

Japan

2. ✓ జపాన్

Israel

3. ✘ ఇజ్రాయెల్

Russia

4. ✘ రష్యా

Question Number : 2 Question Id : 7164472 Question Type : MCQ Option Shuffling : Yes Negative Marks Display Text : 1/3  
Correct Marks : 1 Wrong Marks : 0.33

What was the rivalry between the US and the Soviet Union called that lasted for decades and resulted in anti-communist suspicions and international incidents that led the two superpowers to the brink of nuclear disaster?

రెండు సూపర్ పవర్లను అణు విపత్తు అంచు వరకు నడిపించిన, దీనివల్ల కమ్యూనిస్ట్ వ్యతిరేక అనుమానాలు మరియు అంతర్జాతీయ సంఘటనలకు దారితీసిన యుఎస్ (US) మరియు సోవియట్ యూనియన్ మధ్య దశాబ్దాలుగా కొనసాగిన శత్రుత్వం (రైవలరీ) ఏమిటి?

Options :

The Space Race

1. ✘ ద స్పేస్ రేస్

The Mad Rush

2. ✘ ద మ్యాడ్ రష్

The Missile Crisis

3. ✘ ద మిస్సైల్ క్రైసిస్

The Cold War

4. ✓ ద కోల్డ్ వార్ (ప్రచ్ఛన్న యుద్ధం)

Question Number : 3 Question Id : 7164473 Question Type : MCQ Option Shuffling : Yes Negative Marks Display Text : 1/3  
Correct Marks : 1 Wrong Marks : 0.33

What was the codename of the operation that was launched in 1984 to drive out the Sikh extremist religious leader Jarnail Singh Bhindranwale and his armed followers from the premises of the Golden Temple in Amritsar?

అమృత్ సర్ లోని గోల్డెన్ టెంపుల్ ప్రాంగణం నుండి సీక్కు అతివాద మత నాయకుడు జర్నైల్ సింగ్ భింద్రాన్‌వాలే మరియు అతని సాయుధ అనుచరులను తరిమికొట్టడానికి 1984 లో ప్రారంభించిన ఆపరేషన్ యొక్క కోడ్ నేమ్ (సంకేత నామం) ఏమిటి?

Options :

Operation Python

1. ✘ ఆపరేషన్ పైథాన్

Operation Trident

2. ✘ ఆపరేషన్ ట్రిడెంట్

Operation Parakram

3. ✘ ఆపరేషన్ పరాక్రమ్

Operation Blue Star

4. ✔ ఆపరేషన్ బ్లూ స్టార్

Question Number : 4 Question Id : 7164474 Question Type : MCQ Option Shuffling : Yes Negative Marks Display Text : 1/3 Correct Marks : 1 Wrong Marks : 0.33

What was the theme of the first 'International Day of the Girl Child' that was observed on 11 October 2012?

11 అక్టోబర్ 2012 న మొదటిసారి పాటించిన 'బాలికల అంతర్జాతీయ దినోత్సవం' యొక్క నేపథ్యం (థీం) ఏమిటి?

Options :

1. ✘

Empowering Adolescent Girls: Ending the Cycle of Violence

ఎంపవరింగ్ అడాలసెంట్ గర్ల్స్ : ఎండింగ్ ది సైకిల్ ఆఫ్ వయలెన్స్ (కొమార బాలికలను శక్తివంతం చేయడం: హింసా వలయాన్ని రూపుమాపడం)

GirlForce: Unscripted and Unstoppable

2. ✘ గర్ల్ ఫోర్స్: అన్స్క్రిప్టెడ్ అండ్ అన్ స్టాపబుల్

Ending Child Marriage

3. ✔ ఎండింగ్ చైల్డ్ మ్యారేజ్ (బాల్య వివాహాలను రూపుమాపడం)

4. \* ద పవర్ ఆఫ్ ద అడోలెస్సెంట్ గర్ల్: విజన్ ఫర్ 2030

Question Number : 5 Question Id : 7164475 Question Type : MCQ Option Shuffling : Yes Negative Marks Display Text : 1/3  
Correct Marks : 1 Wrong Marks : 0.33

7th December is observed as \_\_\_\_\_.

7 డిసెంబర్ ను \_\_\_\_\_ గా పాటిస్తారు.

Options :

International Migrants Day

1. \* అంతర్జాతీయ వలసదారుల దినోత్సవం

International Mountain Day

2. \* అంతర్జాతీయ పర్వత దినోత్సవం

International Day of Sign Languages

3. \* అంతర్జాతీయ సంకేత భాషల దినోత్సవం

International Civil Aviation Day

4. ✓ అంతర్జాతీయ పౌర విమానయాన దినోత్సవం

Question Number : 6 Question Id : 7164476 Question Type : MCQ Option Shuffling : Yes Negative Marks Display Text : 1/3  
Correct Marks : 1 Wrong Marks : 0.33

Which of the following began in 1845 when a fungus-like organism called *Phytophthora infestans* spread rapidly throughout Ireland?

1845 లో ఫైటోఫ్టోరా ఇన్ఫెస్టెన్స్ అని పిలువబడే ఫంగస్ లాంటి జీవి ఐర్లాండ్ అంతటా వేగంగా వ్యాపించినప్పుడు, కింది వాటిలో ఏది ప్రారంభమైంది?

Options :

The Dust Bowl

1. \* ది డస్ట్ బౌల్



The Irish Potato Famine

2. ✓ ది ఐరిష్ పొటాటో ఫెమిన్

Red Scare

3. ✘ రెడ్ స్కేర్

The Great Depression

4. ✘ గ్రేట్ డిప్రెషన్

Question Number : 7 Question Id : 7164477 Question Type : MCQ Option Shuffling : Yes Negative Marks Display Text : 1/3

Correct Marks : 1 Wrong Marks : 0.33

On 16 January 1991, President George HW Bush made an announcement about a military operation called \_\_\_\_\_ to expel occupying Iraqi forces from Kuwait, which Iraq had invaded and annexed months earlier.

16 జనవరి 1991 న, కోన్ని నెలల ముందే కువైట్ ను ముట్టడించి మరియు ఆక్రమించిన ఆక్రమిత ఇరాకీ దళాలను వెళ్ళగొట్టడానికి అధ్యక్షుడు జార్జ్ హెచ్ డబ్ల్యు బుష్ \_\_\_\_\_ అనే సైనిక చర్య గురించి ఒక ప్రకటన చేశారు.

Options :

Operation Wrath of God

1. ✘ ఆపరేషన్ రాథ్ ఆఫ్ గాడ్

Operation Desert Storm

2. ✓ ఆపరేషన్ డిజర్ట్ స్టోర్మ్

Operation Rolling Thunder

3. ✘ ఆపరేషన్ రోలింగ్ థండర్

Operation Red Dawn

4. ✘ ఆపరేషన్ రెడ్ డాన్

Question Number : 8 Question Id : 7164478 Question Type : MCQ Option Shuffling : Yes Negative Marks Display Text : 1/3

Correct Marks : 1 Wrong Marks : 0.33

Titanic had its own newspaper, which was printed every day and included news, stock prices and horseracing results, as well as the day's menu. What was the name of the newspaper?

టైటానిక్ కు, ప్రతిరోజూ ప్రచురించబడే మరియు వార్తలు, స్టాక్ ధరలు మరియు గుర్రపుస్వారి ఫలితాలు, అలాగే రోజువారీ మెనూను కలిగి ఉండే ఒక స్వంత వార్తాపత్రిక కలిగి ఉంది. ఆ వార్తాపత్రిక పేరు ఏమిటి?

Options :

The Atlantic Daily Bulletin

1. ✓ ది అట్లాంటిక్ డైలీ బులెటిన్

The Final Word

2. ✘ ది ఫైనల్ వర్డ్

The Guided Light

3. ✘ ది గైడెడ్ లైట్

My Two Cents

4. ✘ మై టు సెంట్స్

Question Number : 9 Question Id : 7164479 Question Type : MCQ Option Shuffling : Yes Negative Marks Display Text : 1/3

Correct Marks : 1 Wrong Marks : 0.33

During the \_\_\_\_\_ Gandhi and his lawyers travelled to different villages, meeting farmers and taking note of their sufferings and complaints against the forced indigo cultivation.

గాంధీ మరియు అతని న్యాయవాదులు \_\_\_\_\_ సమయంలో వేర్వేరు గ్రామాలకు వెళ్లి, రైతులను కలుసుకుని, బలవంతపు ఇండిగో (నీలిమందు) సాగుపై వారి బాధలు మరియు ఫిర్యాదులను గమనించారు.

Options :

Peasant's Revolt

1. ✘ రైతుల తిరుగుబాటు

Bardoli Satyagraha

2. ✘ బర్డోలి సత్యాగ్రహం

Champaran Satyagraha

3. ✓ చంపారన్ సత్యాగ్రహం

## The Non Cooperation Movement

### 4. ✖ సహాయ నిరాకరణోద్యమం

Question Number : 10 Question Id : 71644710 Question Type : MCQ Option Shuffling : Yes Negative Marks Display Text : 1/3  
Correct Marks : 1 Wrong Marks : 0.33

Which two Indian cities are among the 66 urban settlements designated as creative cities by the United Nations Educational, Scientific and Cultural Organization (UNESCO)?

ఐక్యరాజ్యసమితి విద్యా, శాస్త్రీయ మరియు సాంస్కృతిక సంస్థ (యునైటెడ్ నేషన్స్ ఎడ్యుకేషనల్, సైంటిఫిక్ అండ్ కల్చరల్ ఆర్గనైజేషన్: యునెస్కో) చేత సృజనాత్మక నగరాలుగా నియమించబడిన 66 పట్టణ స్థావరాలలో రెండు భారతీయ నగరాలు ఏవి?

Options :

Delhi and Chennai

### 1. ✖ ఢిల్లీ మరియు చెన్నై

Mumbai and Hyderabad

### 2. ✔ ముంబై మరియు హైదరాబాద్

Pune and Kolkata

### 3. ✖ పూణే మరియు కోల్కతా

Banaras and Jaipur

### 4. ✖ బనారస్ మరియు జైపూర్

Question Number : 11 Question Id : 71644711 Question Type : MCQ Option Shuffling : Yes Negative Marks Display Text : 1/3  
Correct Marks : 1 Wrong Marks : 0.33

Which cricketer became the first Indian to hit 400 international sixes?

400 అంతర్జాతీయ సిక్సర్లు కొట్టిన తొలి భారతీయుడు ఎవరు?

Options :

Rohit Sharma

### 1. ✔ రోహిత్ శర్మ

Virat Kohli

2. ✖ విరాట్ కోహ్లా

Shikhar Dhawan

3. ✖ శిఖర్ ధావన్

MS Dhoni

4. ✖ ఎంఎస్ ధోని

Question Number : 12 Question Id : 71644712 Question Type : MCQ Option Shuffling : Yes Negative Marks Display Text : 1/3  
Correct Marks : 1 Wrong Marks : 0.33

Which Pakistani political figure was sentenced to death by the Pakistan court in December 2019 for high treason?

2019 డిసెంబర్లో పాకిస్తాన్ కోర్టు ఏ పాకిస్తాన్ రాజకీయ నాయకునికి అధిక దేశద్రోహానికి పాల్పడినందుకుగాను మరణశిక్ష విధించింది?

Options :

Imran Khan

1. ✖ ఇమ్రాన్ ఖాన్

Pervez Musharraf

2. ✔ పర్వేజ్ ముషారఫ్

Nawaz Sharif

3. ✖ నవాజ్ షరీఫ్

Bilawal Bhutto Zardari

4. ✖ బిలావల్ భుట్టో జర్దారీ

Question Number : 13 Question Id : 71644713 Question Type : MCQ Option Shuffling : Yes Negative Marks Display Text : 1/3  
Correct Marks : 1 Wrong Marks : 0.33

Which supersonic cruise missile was successfully test-fired from a base in Odisha's Chandipur on 17 December 2019?

17 డిసెంబర్ 2019 న ఒడిశాలోని చండీపూర్ లో ఒక స్థావరం నుండి ఏ సూపర్సోనిక్ క్రూయిజ్ క్షిపణిని విజయవంతంగా పరీక్షించారు?

Options :



Akash

1. ✖ ఆకాష్

Trishul 8

2. ✖ త్రిశూల్ 8

Barak 8

3. ✖ బరాక్ 8

BrahMos

4. ✔ బ్రహ్మోస్

Question Number : 14 Question Id : 71644714 Question Type : MCQ Option Shuffling : Yes Negative Marks Display Text : 1/3

Correct Marks : 1 Wrong Marks : 0.33

Which Hindi film was officially selected for screening at the 11th edition of the 'WIND International Film Festival' that was held in December 2019?

2019 డిసెంబర్‌లో జరిగిన 'విండ్ (WIND) ఇంటర్నేషనల్ ఫిల్మ్ ఫెస్టివల్' యొక్క 11 వ ఎడిషన్‌లో స్క్రీనింగ్ కోసం ఏ హిందీ చిత్రం అధికారికంగా ఎంపిక చేయబడింది?

Options :

Uri – The Surgical Strike

1. ✖ ఉరి – ద సర్జికల్ స్ట్రైక్

Andhadhun

2. ✖ అంధాధున్

Gully Boy

3. ✖ గల్లీ బాయ్

Antardhwani – The Inner Voice

4. ✔ అంతర్ధ్వనీ – ద ఇన్నర్ వాయిస్

Question Number : 15 Question Id : 71644715 Question Type : MCQ Option Shuffling : Yes Negative Marks Display Text : 1/3

Correct Marks : 1 Wrong Marks : 0.33

In the year 2019, 16-year-old activist \_\_\_\_\_ became the youngest individual ever to be named 'Time's Person of the Year'.

2019 సంవత్సరంలో, 'టైమ్స్ పర్సన్ ఆఫ్ ది ఇయర్' గా అతి పిన్న వయస్కురాలుగా పేరుపొందిన 16 ఏళ్ల కార్యకర్త (యాక్టివిస్ట్) \_\_\_\_\_.

Options :

Malala Yousafzai

1. ✘ మలాలా యూసఫ్జాయ్

Greta Thunberg

2. ✔ గ్రేటా థన్బర్గ్

Emma Gonzalez

3. ✘ ఎమ్మా గొంజాలెజ్

Marley Dias

4. ✘ మార్లే డయాస్

Question Number : 16 Question Id : 71644716 Question Type : MCQ Option Shuffling : Yes Negative Marks Display Text : 1/3

Correct Marks : 1 Wrong Marks : 0.33

In December 2019, at the age of 34, Sanna Marin became the world's youngest prime minister of the country \_\_\_\_\_.

2019 డిసెంబర్లో, 34 సంవత్సరాల వయసులో సన్నా మారిన \_\_\_\_\_ దేశానికి ప్రపంచంలోనే అతి పిన్న వయస్కుడైన ప్రధాని అయ్యారు.

Options :

New Zealand

1. ✘ న్యూజిలాండ్

Iceland

2. ✘ ఐస్లాండ్

Thailand

3. ✘ థాయ్ లాండ్

Finland

4. ✓ ఫిన్లాండ్

Question Number : 17 Question Id : 71644717 Question Type : MCQ Option Shuffling : Yes Negative Marks Display Text : 1/3  
Correct Marks : 1 Wrong Marks : 0.33

Which of the following contestants was crowned 'Miss Universe 2019'?

కింది పోటీదారులలో ఎవరు 'మిస్ యూనివర్స్ 2019' కిరీటం పొందారు?

Options :

Vartika Singh

1. ✘ వర్తిక సింగ్

Zozibini Tunzi

2. ✓ జోజిబిని తుంజీ

Sofia Aragon

3. ✘ సోఫియా అరగోన్

Diamond Langi

4. ✘ డైమండ్ లాంగి

Question Number : 18 Question Id : 71644718 Question Type : MCQ Option Shuffling : Yes Negative Marks Display Text : 1/3  
Correct Marks : 1 Wrong Marks : 0.33

In November 2019, \_\_\_\_\_ became the first country in the world to introduce the World Health Organization (WHO) recommended typhoid conjugate vaccine (TCV) into its national immunisation programme.

నవంబర్ 2019 లో, ప్రపంచంలోనే మొట్టమొదటిసారిగా ప్రపంచ ఆరోగ్య సంస్థ (WHO) సిఫార్సు చేసిన టైఫాయిడ్ కంజుగేట్ వ్యాక్సిన్ (TCV) ను తన జాతీయ రోగనిరోధక కార్యక్రమంలో ప్రవేశపెట్టిన దేశంగా \_\_\_\_\_ అవతరించింది.

Options :

Pakistan

1. ✓ పాకిస్తాన్

Bangladesh

2. ✖ బంగ్లాదేశ్

Sri Lanka

3. ✖ శ్రీలంక

Afghanistan

4. ✖ ఆఫ్ఘనిస్తాన్

Question Number : 19 Question Id : 71644719 Question Type : MCQ Option Shuffling : Yes Negative Marks Display Text : 1/3

Correct Marks : 1 Wrong Marks : 0.33

Which city was selected as the 'World's leading Sports Tourism Destination' at the 26th edition of the World Travel Awards (WTA) held in Muscat in December 2019?

2019 డిసెంబర్లో, మస్కట్లో జరిగిన వరల్డ్ ట్రావెల్ అవార్డ్స్ (WTA) 26 వ ఎడిషన్లో 'ప్రపంచ ప్రముఖ క్రీడా పర్యాటక గమ్యం' గా ఏ నగరాన్ని ఎంపిక చేశారు?

Options :

Barcelona

1. ✖ బార్సిలోనా

Rio de Janeiro

2. ✖ రియో డి జనీరో

Abu Dhabi

3. ✔ అబుధాబీ

Sydney

4. ✖ సిడ్నీ

Question Number : 20 Question Id : 71644720 Question Type : MCQ Option Shuffling : Yes Negative Marks Display Text : 1/3

Correct Marks : 1 Wrong Marks : 0.33

Who was the Chief Guest at the Republic Day 2020 celebrations in India?

భారతదేశంలో, గణతంత్ర దినోత్సవం 2020 వేడుకలకు ముఖ్య అతిథిగా ఎవరు హాజరయ్యారు?



Options :

Benjamin Netanyahu, Israel

1. ✘ బెంజమిన్ నెతన్యాయు, ఇజ్రాయెల్

Vladimir Putin, Russia

2. ✘ వ్లాదిమిర్ పుతిన్, రష్యా

Jair Bolsonaro, Brazil

3. ✔ జైర్ బోల్సోనారో, బ్రెజిల్

Boris Johnson, United Kingdom

4. ✘ బోరిస్ జాన్సన్, యునైటెడ్ కింగ్డమ్

Question Number : 21 Question Id : 71644721 Question Type : MCQ Option Shuffling : Yes Negative Marks Display Text : 1/3

Correct Marks : 1 Wrong Marks : 0.33

In December 2019, UNESCO added 'Nuad Thai' to its list of "Intangible Cultural Heritage" practices. What is Nuad Thai?

డిసెంబర్ 2019 లో, యునెస్కో తన "అసంపూర్తి సాంస్కృతిక వారసత్వ (ఇంటాన్జిబుల్ కల్చరల్ హెరిటేజ్)" పద్ధతుల జాబితాలో 'నువాడ్ థాయ్' ను చేర్చింది. నువాడ్ థాయ్ అంటే ఏమిటి?

Options :

Ancient medical system

1. ✘ ప్రాచీన వైద్య విధానం

Traditional craft and art

2. ✘ సాంప్రదాయ హస్తకళ మరియు కళ

Massage technique

3. ✔ మసాజ్ టెక్నిక్

4. ✘ ఆహార సంరక్షణ సాంకేతికత

Question Number : 22 Question Id : 71644722 Question Type : MCQ Option Shuffling : Yes Negative Marks Display Text : 1/3  
Correct Marks : 1 Wrong Marks : 0.33

Name the famous US climber who fell to his death while rappelling in Mexico in November 2019.

నవంబర్ 2019 లో మెక్సికోలో రాపెల్లింగ్ చేస్తున్నప్పుడు మరణించిన ప్రసిద్ధ US అధిరోహకుడి పేరు ఏమిటి?

Options :

Brad Gobright

1. ✓ బ్రాడ్ గోబ్రైట్

Dean Potter

2. ✘ డీన్ పాటర్

Alex Honnold

3. ✘ అలెక్స్ హోనాల్డ్

Tommy Caldwell

4. ✘ టామీ కాల్వెల్

Question Number : 23 Question Id : 71644723 Question Type : MCQ Option Shuffling : Yes Negative Marks Display Text : 1/3  
Correct Marks : 1 Wrong Marks : 0.33

Which language was used in Rajya Sabha for the first time in the recent winter session of Parliament in December 2019?

2019 డిసెంబర్లో, ఇటీవల జరిగిన పార్లమెంటు శీతాకాల సమావేశాల్లో రాజ్యసభలో మొదటిసారి ఏ భాష ఉపయోగించబడింది?

Options :

Sanskrit

1. ✘ సంస్కృతం

Bhojpuri

2. ✘ భోజ్ పురి

Gujarati

3. ✖ గుజరాతీ

Santhali

4. ✔ సంఠాలీ

Question Number : 24 Question Id : 71644724 Question Type : MCQ Option Shuffling : Yes Negative Marks Display Text : 1/3  
Correct Marks : 1 Wrong Marks : 0.33

In December 2019, Shashi Tharoor won the 'Sahitya Akademi Award' for his book \_\_\_\_\_.

2019 డిసెంబర్‌లో, శశి థరూర్ తను రచించిన \_\_\_\_\_ పుస్తకం కోసం 'సాహిత్య అకాడమీ అవార్డు'ను గెలుచుకున్నారు.

Options :

Why I am a Hindu

1. ✖ వై ఐయామ్ ఎ హిందూ

An Era of Darkness

2. ✔ యాస్ ఎరా ఆఫ్ డార్క్ నెస్

Inglorious Empire

3. ✖ ఇంగ్లోరియస్ ఎంపైర్

The Paradoxical Prime Minister

4. ✖ ది పారాడాక్సికల్ ప్రైమ్ మినిస్టర్

Question Number : 25 Question Id : 71644725 Question Type : MCQ Option Shuffling : Yes Negative Marks Display Text : 1/3  
Correct Marks : 1 Wrong Marks : 0.33

Which of the following awards has NOT been won by Australian cricket all-rounder Ellyse Perry?

ఆస్ట్రేలియా క్రికెట్ ఆల్ రౌండర్ ఎల్లిస్ పెర్రీ ఈ క్రింది అవార్డులలో దేనిని గెలుచుకొన లేదు?

Options :

ICC Women's ODI Player of the Year 2019

1. ✖ ఐసిసి (ICC )ఉమెన్స్ వన్డే ప్లేయర్ ఆఫ్ ది ఇయర్ 2019

Rachael Heyhoe-Flint Award 2017

2. ✖ రాచెల్ హేహో-ఫ్లింట్ అవార్డు 2017

ICC Women's Emerging Player of the Year 2019

3. ✔ ఐసిసి (ICC)ఉమెన్స్ ఎమర్జింగ్ ప్లేయర్ ఆఫ్ ది ఇయర్ 2019

Rachael Heyhoe-Flint Award 2019

4. ✖ రాచెల్ హేహో-ఫ్లింట్ అవార్డు 2019

Question Number : 26 Question Id : 71644726 Question Type : MCQ Option Shuffling : Yes Negative Marks Display Text : 1/3 Correct Marks : 1 Wrong Marks : 0.33

Which of the following institutions launched India's first indigenously designed standing wheelchair called 'Arise'?

కింది విద్యాసంస్థలలో ఏది 'ఆరైస్ (Arise)' అని పిలువబడే భారతదేశం యొక్క మొట్టమొదటి దేశీయంగా ఆయారైన ప్లాండింగ్ వీల్ చైర్ ను ప్రారంభించింది?

Options :

IIT Kharagpur

1. ✖ IIT ఖరగ్ పూర్

IIT Mumbai

2. ✖ IIT ముంబై

IIT Roorkee

3. ✖ IIT రూర్కీ

IIT Madras

4. ✔ IIT మద్రాస్

Question Number : 27 Question Id : 71644727 Question Type : MCQ Option Shuffling : Yes Negative Marks Display Text : 1/3 Correct Marks : 1 Wrong Marks : 0.33

Which was the first UN organisation to start accepting crypto currency donations?

క్రిప్టో కరెన్సీ విరాళాలను అంగీకరించడం ప్రారంభించిన మొదటి ఐక్యరాజ్యసమితి (UN) సంస్థ ఏది?

Options :



UNICEF

1. ✓ యునిసెఫ్

UNESCO

2. ✘ యునెస్కో

UNDP

3. ✘ యు ఎన్ డిపి

UNWTO

4. ✘ యు ఎన్ డబ్ల్యు టి ఒ

Question Number : 28 Question Id : 71644728 Question Type : MCQ Option Shuffling : Yes Negative Marks Display Text : 1/3

Correct Marks : 1 Wrong Marks : 0.33

The Telangana government will celebrate 2020 as the year of \_\_\_\_\_ to promote its use in various sectors such as agriculture, urban transportation and healthcare.

వ్యవసాయం, పట్టణ రవాణా మరియు ఆరోగ్య సంరక్షణ వంటి వివిధ రంగాలలో దాని వినియోగాన్ని ప్రోత్సహించడానికి తెలంగాణ ప్రభుత్వం 2020 ను \_\_\_\_\_ సంవత్సరంగా జరుపుకోనుంది.

Options :

Machine Learning (ML)

1. ✘ మెషిన్ లెర్నింగ్ (ML)

Data Science (DS)

2. ✘ డేటా సైన్స్ (DS)

Artificial Intelligence (AI)

3. ✓ ఆర్టిఫిషియల్ ఇంటెలిజెన్స్ (AI)

Virtual Reality (VR)

4. ✘ వర్చువల్ రియాలిటీ (VR)

Question Number : 29 Question Id : 71644729 Question Type : MCQ Option Shuffling : Yes Negative Marks Display Text : 1/3 Correct Marks : 1 Wrong Marks : 0.33

What is the name of the unique bar-coding software adopted by Haryana Police to ensure that thousands of forensic reports that form the backbone of the criminal investigation system and subsequent trials in the courts of law are not tampered with?

క్రిమినల్ ఇన్వెస్టిగేషన్ సిస్టమ్ యొక్క వెన్నెముకగా ఏర్పడే వేలాది ఫోరెన్సిక్ నివేదికలు మరియు న్యాయస్థానాలలో తడుపరి విచారణలు దెబ్బతినకుండా చూసేందుకు హర్యానా పోలీసులు అనుసరించిన ప్రత్యేకమైన బార్-కోడింగ్ సాఫ్ట్వేర్ పేరు ఏమిటి?

Options :

SIGNiX

1. ✘ SIGNiX

eNotary

2. ✘ eNotary

eSuraksha

3. ✘ eSuraksha

Trakea

4. ✔ Trakea

Question Number : 30 Question Id : 71644730 Question Type : MCQ Option Shuffling : Yes Negative Marks Display Text : 1/3 Correct Marks : 1 Wrong Marks : 0.33

Name the vulnerability in Android devices that caught the eye of the cybersecurity wing of India's Ministry of Home Affairs in December 2019.

2019 డిసెంబర్లో భారత హోం మంత్రిత్వ శాఖ సైబర్ సెక్యూరిటీ విభాగం దృష్టిని ఆకర్షించిన ఆండ్రాయిడ్ పరికరాల్లోని దుర్బలత్వం (వల్నరబిలిటీ) పేరు:

Options :

Trojan Horse

1. ✘ ట్రోజన్ హోర్స్

The Morris Worm

2. ✘ మోరిస్ వార్మ్

3. ✓ స్ట్రాండ్ హాగ్

Timofonica

4. ✘ టిమోఫోనికా

Question Number : 31 Question Id : 71644731 Question Type : MCQ Option Shuffling : Yes Negative Marks Display Text : 1/3  
Correct Marks : 1 Wrong Marks : 0.33

What is the name of the experimental and educational space satellite developed by high school students of Israel which was launched by ISRO's PSLV-C48?

ఇజ్రాయెల్ యొక్క ఉన్నత పాఠశాల విద్యార్థులు అభివృద్ధి చేసిన ప్రయోగాత్మక మరియు విద్యా అంతరిక్ష ఉపగ్రహం, ఇస్రోకు సంబంధించిన PSLV-C48 ద్వారా ప్రయోగించబడింది. దాని పేరు ఏమిటి?

Options :

EDUSAT

1. ✘ EDUSAT

Duchifat-3

2. ✓ Duchifat -3

TecSAR

3. ✘ TecSAR

Intelsat 24

4. ✘ Intelsat 24

Question Number : 32 Question Id : 71644732 Question Type : MCQ Option Shuffling : Yes Negative Marks Display Text : 1/3  
Correct Marks : 1 Wrong Marks : 0.33

The government of India is testing a prototype of an Indian equivalent of popular messaging platforms, such as WhatsApp and Telegram, for secure internal use. What is the name of this platform?

సురక్షితమైన అంతర్గత ఉపయోగం కోసం వాట్సాప్ మరియు టెలిగ్రామ్ వంటి ప్రసిద్ధ మెసేజింగ్ ప్లాట్‌ఫామ్లతో సమానమైన భారతీయ సమాన నమూనాను భారత ప్రభుత్వం పరీక్షిస్తోంది. ఈ ప్లాట్ ఫామ్ పేరు ఏమిటి?

Options :

Collaboration and Messaging Service (CAMS)

1. ✘ కొలాబరేషన్ మరియు మెసేజింగ్ సర్వీస్ (CAMS)

Government Unified Messaging System (GUMS)

2. ✘ గవర్నమెంట్ యూనిఫైడ్ మెసేజింగ్ సిస్టమ్ (GUMS)

Government Instant Messaging System (GIMS)

3. ✔ గవర్నమెంట్ ఇన్స్టంట్ మెసేజింగ్ సిస్టమ్ (GIMS)

Government to Government Chat (G2G Chat)

4. ✘ గవర్నమెంట్ టు గవర్నమెంట్ చాట్ (G2G Chat)

Question Number : 33 Question Id : 71644733 Question Type : MCQ Option Shuffling : Yes Negative Marks Display Text : 1/3

Correct Marks : 1 Wrong Marks : 0.33

Which of the following is an Earth observation spy satellite developed by India's space agency ISRO? It was launched in December 2019 along with nine foreign satellites on board PSLV-C48.

కింది వాటిలో ఎర్త్ అబ్జర్వేషన్ స్పై శాటిలైట్ ఏది? దీనిని పిఎస్ఎల్వి-సి 48లో తొమ్మిది విదేశీ ఉపగ్రహాలతో పాటు 2019 డిసెంబర్లో ప్రయోగించారు.

Options :

RISAT-2BR1

1. ✔ రిశాట్-2BR1

Cartosat-2

2. ✘ కార్టోశాట్-2

TeLEOS-1

3. ✘ టెలియోస్-1



## 4. ✖ స్కాట్ శాట్-1

Question Number : 34 Question Id : 71644734 Question Type : MCQ Option Shuffling : Yes Negative Marks Display Text : 1/3 Correct Marks : 1 Wrong Marks : 0.33

Researchers at \_\_\_\_\_ created the first-ever Indian Brain Atlas referred to as 'IBA 100' in October 2019.

2019 అక్టోబర్‌లో 'ఐబిఎ 100' గా సూచించబడిన మొట్టమొదటి భారతీయ బ్రెయిన్ అట్లాస్‌ను \_\_\_\_\_ వద్ద పరిశోధకులు సృష్టించారు.

Options :

All India Institute of Medical Sciences, Delhi (AIIMS)

1. ✖ ఆల్ ఇండియా ఇన్స్టిట్యూట్ ఆఫ్ మెడికల్ సైన్సెస్, డిల్లీ (AIIMS)

Indian Institute of Science, Bengaluru (IISc)

2. ✖ ఇండియన్ ఇన్స్టిట్యూట్ ఆఫ్ సైన్స్, బెంగళూరు (IISc)

International Institute of Information Technology, Hyderabad (IIIT-H)

3. ✓ ఇంటర్నేషనల్ ఇన్స్టిట్యూట్ ఆఫ్ ఇన్ఫర్మేషన్ టెక్నాలజీ, హైదరాబాద్ (IIIT-H)

National Brain Research Centre, Gurugram (NBRC)

4. ✖ నేషనల్ బ్రెయిన్ రీసెర్చ్ సెంటర్, గురుగ్రామ్ (NBRC)

Question Number : 35 Question Id : 71644735 Question Type : MCQ Option Shuffling : Yes Negative Marks Display Text : 1/3 Correct Marks : 1 Wrong Marks : 0.33

In July 2019, 'Bhabha Kavach' was launched at the International Police Expo 2019 in New Delhi. Which of the following correctly describes this product?

జూలై 2019 లో, న్యూ డిల్లీలో జరిగిన ఇంటర్నేషనల్ పోలీస్ ఎక్స్ పో 2019 లో 'బాబా కవచ్' ప్రారంభించబడింది. కిందివాటిలో ఏది ఈ ప్రోడక్ట్ ను సరిగ్గా వివరిస్తుంది?

Options :

Radiation protection suit worn by nuclear workers

1. ✖ అణు కార్మికులు ధరించే రేడియేషన్ ప్రొటెక్షన్ సూట్

India's lightest bullet-proof jacket

2. ✓ భారతదేశం యొక్క తేలికపాటి బుల్లెట్ ప్రూప్ జాకెట్

Explosive Ordnance Disposal (EOD) suit

3. ✘ పేలుడు ఆర్డినెన్స్ డిస్పోజల్ (EOD) సూట్

Firefighter protective clothing also called as bunker gear

4. ✘ అగ్నిమాపక రక్షణ దుస్తులు, వీటిని బంకర్ గేర్ అని కూడా పిలుస్తారు

Question Number : 36 Question Id : 71644736 Question Type : MCQ Option Shuffling : Yes Negative Marks Display Text : 1/3  
Correct Marks : 1 Wrong Marks : 0.33

Which of the following options means an irrational fear of being without your mobile phone or being unable to use your phone for some reason, such as the absence of a signal or running out of minutes or battery power?

కింది వాటిలో ఏది అంటే మీ మొబైల్ ఫోన్ లేకుండా ఉండటం లేదా సిగ్నల్ లేకపోవడం లేదా నిమిషాలు గడిచిపోవడం లేదా బ్యాటరీ పవర్ కోల్పోవడం వంటి కొన్ని కారణాల వల్ల మీ ఫోన్ ను ఉపయోగించలేకపోవడం అనే అహేతుక భయం?

Options :

Drosmartoiphobia

1. ✘ డ్రోస్మార్టీఫియా

Cyberphobia

2. ✘ సైబర్ ఫోబియా

Nomophobia

3. ✓ నోమో ఫోబియా

Selfiephobia

4. ✘ సెల్ఫీ ఫోబియా

Question Number : 37 Question Id : 71644737 Question Type : MCQ Option Shuffling : Yes Negative Marks Display Text : 1/3  
Correct Marks : 1 Wrong Marks : 0.33

Name the welfare scheme that comes under 'Elaborate Governance: Navaratnalu of YSRCP' and promises to build 25 lakh homes for the poor over a five-year duration.

'విస్ఫుటమైన పాలన: వైయస్ఆర్సిపి కి చెందిన నవరత్నాలు' మరియు ఐదేళ్ల వ్యవధిలో పేదలకు 25 లక్షల గృహాలను నిర్మిస్తామని హామీ ఇచ్చు సంక్షేమ పథకం పేరు ఏమిటి?

Options :

YSR Cheyutha

1. ✖ వైయస్ఆర్ చేయుత

Pedalandariki Illu

2. ✔ పేదలందరికీ ఇల్లు

Jalayagnam

3. ✖ జలయజ్ఞం

YSR Rythu Bharosa

4. ✖ వైయస్ఆర్ రైతు భరోసా

Question Number : 38 Question Id : 71644738 Question Type : MCQ Option Shuffling : Yes Negative Marks Display Text : 1/3 Correct Marks : 1 Wrong Marks : 0.33

Which of the following is NOT a prominent tribe of Andhra Pradesh?

కిందివాటిలో ఏది ఆంధ్రప్రదేశ్ కు చెందిన ప్రముఖ తెగ కాదు?

Options :

The Savara tribe

1. ✖ సవరా తెగ

The Gadaba tribe

2. ✖ గడాబా తెగ

The Konda Reddis tribe

3. ✖ కొండా రెడ్డిస్ తెగ



## The Santhal tribe

### 4. ✓ సంతల్ తెగ

Question Number : 39 Question Id : 71644739 Question Type : MCQ Option Shuffling : Yes Negative Marks Display Text : 1/3  
Correct Marks : 1 Wrong Marks : 0.33

Name the freedom fighter who designed and handed over the tricolor (which later became the national flag) to Mohandas Karamchand Gandhi.

మోహన్‌దాస్ కరంచంద్ గాంధీకి, త్రివర్ణాన్ని (తరువాత జాతీయ జెండాగా మార్చారు) రూపకల్పన చేసి అప్పగించిన స్వాతంత్ర్య సమరయోధుడు పేరు.

Options :

Pingali Venkaiah

### 1. ✓ పింగళి వెంకయ్య

Ayyadevara Kaleswara Rao

### 2. ✘ అయ్యదేవర కాలేశ్వరరావు

Mutnuri Krihna Rao

### 3. ✘ ముట్నూరి కృష్ణారావు

Gottipati Brahmaiah

### 4. ✘ గొట్టిపాటి బ్రహ్మయ్య

Question Number : 40 Question Id : 71644740 Question Type : MCQ Option Shuffling : Yes Negative Marks Display Text : 1/3  
Correct Marks : 1 Wrong Marks : 0.33

Which of the following events is associated with the Congress working committee meeting in Vijayawada in 1921?

1921 లో విజయవాడలో జరిగిన కాంగ్రెస్ వర్కింగ్ కమిటీ సమావేశంతో ఈ క్రింది ఏ సంఘటనలు సంబంధాన్ని కలిగివున్నాయి?

Options :

Allan Octavian Hume was present during the meeting.

### 1. ✘ సమావేశంలో అలన్ ఆక్టేవియన్ హ్యూమ్ హాజరయ్యారు.



A resolution demanding complete independence from the British government was passed.

2. ✘ బ్రిటిష్ ప్రభుత్వం నుండి పూర్తి స్వాతంత్ర్యం కోరుతూ ఒక తీర్మానం ఆమోదించబడింది.

3. ✘

Talks between MK Gandhi and Lord Irwin led to signing of the Gandhi-Irwin Pact.

ఎంకే గాంధీ మరియు లార్డ్ ఇర్విన్ మధ్య చర్చలు గాంధీ-ఇర్విన్ ఒప్పందంపై సంతకం చేయడానికి దారితీశాయి.

MK Gandhi's leadership of the freedom movement was accepted.

4. ✔ స్వాతంత్ర్య ఉద్యమానికి ఎంకే గాంధీ నాయకత్వం అంగీకరించబడింది.

Question Number : 41 Question Id : 71644741 Question Type : MCQ Option Shuffling : Yes Negative Marks Display Text : 1/3

Correct Marks : 1 Wrong Marks : 0.33

'Andhra Mahabharatam' is the Telugu version of 'Mahabharata' written by Kavitrayment, which means trinity of poets.

From the given options, identify the poet who is NOT a part of this trinity.

కవులలో త్రిమూర్తులు అని అర్థం వచ్చే కవిత్రయం రాసిన 'మహాభారతం' యొక్క తెలుగు వెర్షన్ 'ఆంధ్ర మహాభారతం'. ఇచ్చిన ఐచ్ఛికాల నుండి, ఈ త్రిమూర్తులలో భాగం కాని కవిని గుర్తించండి.

Options :

Nannayya

1. ✘ నన్నయ

Pampadu

2. ✔ పంపాడు

Thikkana

3. ✘ తిక్కన

Yerrapragada

4. ✘ యర్రాప్రగడ

Question Number : 42 Question Id : 71644742 Question Type : MCQ Option Shuffling : Yes Negative Marks Display Text : 1/3

Correct Marks : 1 Wrong Marks : 0.33

Which of the following hill stations is located in the Visakhapatnam district, at an elevation of more 3200 feet? It receives snowfall during the winter season in India.

ఈ క్రింది వాటిలో ఏ హిల్ స్టేషన్లు విశాఖపట్నం జిల్లాలో 3200 అడుగుల ఎత్తులో ఉన్నాయి? ఇక్కడ భారతదేశంలో శీతాకాలంలో హిమపాతం వస్తుంది.

Options :

Lambasingi

1. ✓ లంబసింగి

Horsley Hills

2. ✘ హార్సెలీ హిల్స్

Ananthagiri

3. ✘ అనంతగిరి

Araku Valley

4. ✘ అరకు లోయ

Question Number : 43 Question Id : 71644743 Question Type : MCQ Option Shuffling : Yes Negative Marks Display Text : 1/3 Correct Marks : 1 Wrong Marks : 0.33

In December 2019, the Andhra Pradesh Legislative Assembly passed a new bill called \_\_\_\_\_, which provides for awarding death sentence for offences of rape and gang rape and expediting verdict in trials of such cases within 21 days.

2019 డిసెంబర్లో, ఆంధ్రప్రదేశ్ శాసనసభ \_\_\_\_\_ అనే కొత్త బిల్లును ఆమోదించింది, ఇది అత్యాచారం మరియు సామూహిక అత్యాచార నేరాలకు మరణశిక్షను ఇవ్వడానికి మరియు ఇటువంటి కేసుల విచారణలో 21 రోజుల్లోపు తీర్పును వేగవంతం చేయడానికి వీలు కల్పిస్తుంది.

Options :

Disha Bill

1. ✓ దిషా బిల్

Nirbhaya Bill

2. ✘ నిర్భయ బిల్లు

Ayesha Bill

3. ✖ ఆయేషా బిల్

Bangaru Thalli Bill

4. ✖ బంగారు తల్లి బిల్లు

Question Number : 44 Question Id : 71644744 Question Type : MCQ Option Shuffling : Yes Negative Marks Display Text : 1/3  
Correct Marks : 1 Wrong Marks : 0.33

Which of the following articles of the Constitution of India grants special provisions for Andhra Pradesh?

భారత రాజ్యాంగంలోని కింది ఏ ఆర్టికల్ ఆంధ్రప్రదేశ్‌కు ప్రత్యేక ప్రయోజనాలను చేకూరుస్తుంది?

Options :

Article 371-A

1. ✖ ఆర్టికల్ 371- A

Article 371-B

2. ✖ ఆర్టికల్ 371-B

Article 371-C

3. ✖ ఆర్టికల్ 371-C

Article 371-D

4. ✔ ఆర్టికల్ 371-D

Question Number : 45 Question Id : 71644745 Question Type : MCQ Option Shuffling : Yes Negative Marks Display Text : 1/3  
Correct Marks : 1 Wrong Marks : 0.33

Who was the second president of India? He is also a Bharat Ratna Award winner.

భారతదేశ రెండవ రాష్ట్రపతి ఎవరు? అతను భారత్ రత్న అవార్డు గ్రహీత కూడా.

Options :

Sarvepalli Radhakrishnan

1. ✔ సర్వేపల్లి రాధాకృష్ణన్

Abul Kalam Azad

2. ✖ అబుల్ కలాం ఆజాద్

Varahagiri Venkata Giri

3. ✖ వరాహగిరి వెంకట గిరి

Neelam Sanjeeva Reddy

4. ✖ నీలం సంజీవ రెడ్డి

Question Number : 46 Question Id : 71644746 Question Type : MCQ Option Shuffling : Yes Negative Marks Display Text : 1/3  
Correct Marks : 1 Wrong Marks : 0.33

Name the comprehensive e-governance project launched in Andhra Pradesh to make for good governance and transparency in administration by judicious use of digital technologies.

డిజిటల్ టెక్నాలజీలను న్యాయంగా ఉపయోగించడం ద్వారా పరిపాలనలో మంచి పాలన మరియు పారదర్శకత కోసం ఆంధ్రప్రదేశ్ లో ప్రారంభించిన సమగ్ర ఇ-గవర్నెన్స్ ప్రాజెక్టు పేరు:

Options :

e-Sarita

1. ✖ e-Sarita

e-Drishti

2. ✖ e-Drishti

e-Suvidha

3. ✖ e-Suvidha

e-Pragati

4. ✔ e-Pragati

Question Number : 47 Question Id : 71644747 Question Type : MCQ Option Shuffling : Yes Negative Marks Display Text : 1/3  
Correct Marks : 1 Wrong Marks : 0.33

Which of the following is a welfare scheme under which financial assistance will be provided to the farmers of Andhra Pradesh?

కిందివాటిలోని ఏ సంక్షేమ పథకం కింద ఆంధ్రప్రదేశ్ రైతులకు ఆర్థిక సహాయం అందించబడుతుంది?



Options :

Pensionla Pempu

1. ✘ పెన్షన్ల పెంపు

Pedhalandariki Illu

2. ✘ పేదలందరికీ ఇల్లు

Rythu Bharosa

3. ✔ రైతు భరోసా

Amma Vodi

4. ✘ అమ్మ ఒడి

Question Number : 48 Question Id : 71644748 Question Type : MCQ Option Shuffling : Yes Negative Marks Display Text : 1/3  
Correct Marks : 1 Wrong Marks : 0.33

What is the name of the innovative public private partnership launched by Andhra Pradesh government to promote youth employment?

యువత ఉపాధిని ప్రోత్సహించడానికి ఆంధ్రప్రదేశ్ ప్రభుత్వం ప్రారంభించిన వినూత్న ప్రభుత్వ ప్రైవేట్ బాగస్వామ్యం పేరు ఏమిటి?

Options :

Rajiv Yuva Kiranalu

1. ✔ రాజీవ్ యువ కిరణాలు

Netanna Hastham Scheme

2. ✘ నేతన్న హస్తం పథకం

Pelli Kanuka Scheme

3. ✘ పెళ్ళి కానుక పథకం

Adarsham Scheme

4. ✘ ఆదర్శం పథకం

Question Number : 49 Question Id : 71644749 Question Type : MCQ Option Shuffling : Yes Negative Marks Display Text : 1/3

Correct Marks : 1 Wrong Marks : 0.33

Who among the following belongs to the Yuva Jana Shramika Raithu Congress Party (YSRCP)?

కిందివారిలో ఎవరు యువజన శ్రామిక రైతు కాంగ్రెస్ పార్టీ (వైయస్ఆర్సిపి) కు చెందినవారు?

Options :

N Chandrababu Naidu

1. ✘ ఎన్ చంద్రబాబు నాయుడు

Pawan Kalyan

2. ✘ పవన్ కళ్యాణ్

Jagan Mohan Reddy

3. ✔ జగన్ మోహన్ రెడ్డి

Kanna Lakshmi Narayana

4. ✘ కన్నా లక్ష్మీ నారాయణ

Question Number : 50 Question Id : 71644750 Question Type : MCQ Option Shuffling : Yes Negative Marks Display Text : 1/3

Correct Marks : 1 Wrong Marks : 0.33

In July 2019, Andhra Pradesh passed a law to reserve \_\_\_\_\_ of private sector jobs in the state for locals.

జూలై 2019 లో, ఆంధ్రప్రదేశ్ ప్రభుత్వం, స్థానికుల కోసం \_\_\_\_\_ ప్రైవేట్ రంగ ఉద్యోగాలను కేటాయించే చట్టాన్ని ఆమోదించింది.

Options :

49%

1. ✘ 49%

51%

2. ✘ 51%

60%

3. ✘ 60%

75%

4. ✓ 75%

Question Number : 51 Question Id : 71644751 Question Type : MCQ Option Shuffling : Yes Negative Marks Display Text : 1/3 Correct Marks : 1 Wrong Marks : 0.33

In December 2019, Andhra Pradesh Chief Minister Jagan Mohan Reddy hinted that the state may have a total of three capitals to keep up with the aspirations of the people. Which of the following cities was NOT a part of these three proposed names as capital?

2019 డిసెంబర్లో, ప్రజల ఆకాంక్షలను కొనసాగించడానికి రాష్ట్రానికి మొత్తం మూడు రాజధానులు ఉండవచ్చని ఆంధ్రప్రదేశ్ ముఖ్యమంత్రి జగన్ మోహన్ రెడ్డి సంకేతాలు ఇచ్చారు. ఈ మూడు ప్రతిపాదిత రాజధాని పేర్లలో, కింది నగరాల్లో లేనిది ఏది?

Options :

Vijayawada

1. ✓ విజయవాడ

Amaravati

2. ✘ అమరావతి

Visakhapatnam

3. ✘ విశాఖపట్నం

Kurnool

4. ✘ కర్నూలు

Question Number : 52 Question Id : 71644752 Question Type : MCQ Option Shuffling : Yes Negative Marks Display Text : 1/3 Correct Marks : 1 Wrong Marks : 0.33

What was the name of the awareness campaign launched in December 2019 by Chittoor Police in Andhra Pradesh for safety of women and children?

2019 డిసెంబర్లో, ఆంధ్రప్రదేశ్లోని చిత్తూరు పోలీసులు మహిళలు మరియు పిల్లల భద్రత కోసం ప్రారంభించిన అవగాహన ప్రచారం పేరు ఏమిటి?

Options :

Surakhsha

1. ✘ సురక్ష

Ujjawala

2. ✖ ఉజ్వల

Abhayam

3. ✔ అభయం

Sukanya

4. ✖ సుకన్య

Question Number : 53 Question Id : 71644753 Question Type : MCQ Option Shuffling : Yes Negative Marks Display Text : 1/3

Correct Marks : 1 Wrong Marks : 0.33

In December 2019, Prakasam (Ongole) district police launched a pilot programme in Andhra Pradesh that offers to pick up and drop women who are stranded between 9 p.m. and 5 a.m. to their homes free of cost. What is the name of the pilot programme?

2019 డిసెంబర్‌లో, రాత్రి 9 గంటల నుండి ఉదయం 5 గంటల మధ్య చిక్కుకుపోయిన మహిళలను పికప్ చేసుకుని మరియు ఉచితంగా వారి ఇళ్లకు చేరవేయు పైలట్ ప్రోగ్రాంను ప్రకాశం (ఒంగోల్) జిల్లా పోలీసులు ఆంధ్రప్రదేశ్‌లో ప్రారంభించారు. ఈ పైలట్ ప్రోగ్రాం పేరు ఏమిటి?

Options :

Abhay

1. ✔ అభయం

Saathi

2. ✖ సాథీ

Sangath

3. ✖ సంగత్

Anurakshan

4. ✖ అనురక్షణ్

Question Number : 54 Question Id : 71644754 Question Type : MCQ Option Shuffling : Yes Negative Marks Display Text : 1/3

Correct Marks : 1 Wrong Marks : 0.33



Which is India's first and oldest shipyard established way back in 1941 in Visakhapatnam? It has built vessels, repaired ships and is also known for conducting repairs for Indian Navy submarines.

విశాఖపట్నంలో 1941 లో స్థాపించబడిన భారతదేశం యొక్క మొట్టమొదటి మరియు పురాతన షిప్ యార్డ్ ఏది? ఇది నిర్మింపబడ్డ ఓడలను, మరమ్మతులు చేసిన నౌకలను కలిగి ఉంది మరియు భారత నావికాదళ జలంతర్గాముల మరమ్మతు నిర్వహించడానికి కూడా ప్రసిద్ధి చెందింది.

Options :

Garden Reach Shipbuilders and Engineers

1. ✘ గార్డెన్ రీచ్ షిప్ బిల్డర్లు మరియు ఇంజనీర్లు

Naval Dockyard

2. ✘ నావల్ డాక్ యార్డ్

Hindustan Shipyard Limited

3. ✔ హిందుస్తాన్ షిప్ యార్డ్ లిమిటెడ్

Bharati Shipyard Limited

4. ✘ భారతి షిప్ యార్డ్ లిమిటెడ్

Question Number : 55 Question Id : 71644755 Question Type : MCQ Option Shuffling : Yes Negative Marks Display Text : 1/3 Correct Marks : 1 Wrong Marks : 0.33

Which district is called 'The Rice Bowl' of Andhra Pradesh?

ఆంధ్రప్రదేశ్ కు చెందిన ఏ జిల్లాను 'ది రైస్ బౌల్' అని పిలుస్తారు?

Options :

Chittoor

1. ✘ చిత్తూరు

Kurnool

2. ✘ కర్నూలు

Srikakulam

3. ✘ శ్రీకాకుళం

4. ✓ తూర్పు గోదావరి

Question Number : 56 Question Id : 71644756 Question Type : MCQ Option Shuffling : Yes Negative Marks Display Text : 1/3  
Correct Marks : 1 Wrong Marks : 0.33

As Andhra Pradesh is well known globally for its variety of rocks and minerals, it is called \_\_\_\_\_ of India.

వివిధ రకాల రాళ్ళు మరియు ఖనిజాలకు ప్రపంచవ్యాప్తంగా ఆంధ్రప్రదేశ్ ప్రసిద్ధి చెందింది, దీనిని భారతదేశం యొక్క \_\_\_\_\_ అంటారు.

Options :

Kohinoor

1. ✘ కోహినూర్

Navratna

2. ✘ నవరత్న

Ratna Sagar

3. ✘ రత్న సాగర్

Ratna Garbha

4. ✓ రత్న గర్భ

Question Number : 57 Question Id : 71644757 Question Type : MCQ Option Shuffling : Yes Negative Marks Display Text : 1/3  
Correct Marks : 1 Wrong Marks : 0.33

The Nagarjuna Sagar project, which was completed in 1960, is one of the largest irrigation projects. Name the river on which this project is built.

1960 లో పూర్తయిన నాగార్జున సాగర్ ప్రాజెక్ట్ అతిపెద్ద నీటిపారుదల ప్రాజెక్టులలో ఒకటి. ఈ ప్రాజెక్ట్ ను ఏ నది మీద నిర్మించారు:

Options :

Godavari

1. ✘ గోదావరి

Krishna

2. ✓ కృష్ణ

Cauvery

3. ✘ కావేరి

Tungabhadra

4. ✘ తుంగభద్ర

Question Number : 58 Question Id : 71644758 Question Type : MCQ Option Shuffling : Yes Negative Marks Display Text : 1/3  
Correct Marks : 1 Wrong Marks : 0.33

Andhra Pradesh ranks first in India in the production of \_\_\_\_\_.

భారతదేశంలో, ఆంధ్రప్రదేశ్ \_\_\_\_\_ ఉత్పత్తిలో మొదటి స్థానంలో ఉంది.

Options :

rice

1. ✘ వరి

leather

2. ✘ తోలు

fish and shrimp

3. ✓ చేపలు మరియు రొయ్యలు

sugarcane

4. ✘ చెరుకుగడ

Question Number : 59 Question Id : 71644759 Question Type : MCQ Option Shuffling : Yes Negative Marks Display Text : 1/3  
Correct Marks : 1 Wrong Marks : 0.33

Which of the following cities of Andhra Pradesh houses the Jawaharlal Nehru Auto Nagar Industrial Estate? It is the largest automobile industry hub of Asia.

కింది వాటిలో ఏ నగరంలో ఆంధ్రప్రదేశ్‌లోని జవహర్‌లాల్ నెహ్రూ ఆటో నగర్ ఇండస్ట్రియల్ ఎస్టేట్ ఉంది? ఇది ఆసియాలో అతిపెద్ద ఆటోమొబైల్ పరిశ్రమ కేంద్రంగా ఉంది.

Options :

Visakhapatnam

1. ✘ విశాఖపట్నం

Vijayawada

2. ✔ విజయవాడ

Nellore

3. ✘ నెల్లూరు

Anantapur

4. ✘ అనంతపురం

Question Number : 60 Question Id : 71644760 Question Type : MCQ Option Shuffling : Yes Negative Marks Display Text : 1/3

Correct Marks : 1 Wrong Marks : 0.33

The state of Andhra Pradesh shares its borders with many other states. Which of the following states does NOT share its border with Andhra Pradesh?

ఆంధ్రప్రదేశ్ రాష్ట్రం తన సరిహద్దులను అనేక ఇతర రాష్ట్రాలతో పంచుకుంటుంది. కిందివాటిలో ఏ రాష్ట్రం ఆంధ్రప్రదేశ్ తో సరిహద్దును పంచుకోదు?

Options :

Kerala

1. ✔ కేరళ

Tamil Nadu

2. ✘ తమిళనాడు

Odisha

3. ✘ ఒడిషా

Karnataka

4. ✘ కర్ణాటక

Question Number : 61 Question Id : 71644761 Question Type : MCQ Option Shuffling : Yes Negative Marks Display Text : 1/3



Correct Marks : 1 Wrong Marks : 0.33

The Southern portion of the state of Andhra Pradesh is identified as \_\_\_\_\_.

ఆంధ్రప్రదేశ్ రాష్ట్రంలోని దక్షిణ భాగాన్ని \_\_\_\_\_ గా గుర్తించారు.

Options :

New Andhra

1. ✘ నవ్యాంధ్ర

Telangana

2. ✘ తెలంగాణ

Coastal Andhra

3. ✘ కోస్తాంధ్ర

Rayalaseema

4. ✔ రాయలసీమ

Question Number : 62 Question Id : 71644762 Question Type : MCQ Option Shuffling : Yes Negative Marks Display Text : 1/3

Correct Marks : 1 Wrong Marks : 0.33

Which is the largest district of Andhra Pradesh in terms of area?

విస్తీర్ణం పరంగా ఆంధ్రప్రదేశ్‌లో అతిపెద్ద జిల్లా ఏది?

Options :

East Godavari

1. ✘ తూర్పు గోదావరి

Kurnool

2. ✘ కర్నూలు

Anantapur

3. ✔ అనంతపురం

4. ✖ విశాఖపట్నం

Question Number : 63 Question Id : 71644763 Question Type : MCQ Option Shuffling : Yes Negative Marks Display Text : 1/3  
Correct Marks : 1 Wrong Marks : 0.33

Andhra Pradesh has the second longest coastline in India. Which of the following states has a coastline that is longer than that of Andhra Pradesh?

భారతదేశంలోనే రెండవ పొడవైన తీరప్రాంతాన్ని ఆంధ్రప్రదేశ్ కలిగి ఉంది. కిందివాటిలో ఏ రాష్ట్రం ఆంధ్రప్రదేశ్ కంటే ఎక్కువ తీరప్రాంతం కలిగి ఉంది?

Options :

Maharashtra

1. ✖ మహారాష్ట్ర

Gujarat

2. ✓ గుజరాత్

Kerala

3. ✖ కేరళ

Tamil Nadu

4. ✖ తమిళనాడు

Question Number : 64 Question Id : 71644764 Question Type : MCQ Option Shuffling : Yes Negative Marks Display Text : 1/3  
Correct Marks : 1 Wrong Marks : 0.33

Which of the following is the highest mountain peak of Andhra Pradesh?

ఆంధ్రప్రదేశ్‌లోని ఎత్తైన పర్వత శిఖరం కిందివాటిలో ఏది?

Options :

Kambala Konda

1. ✖ కంబల కొండ

Nishan Konda

2. ✖ నిషన్ కొండా

Pesiduvaripalli

3. ✖ పెసిడు వారిపల్లి

Arma Konda

4. ✔ అర్మ కొండ

Question Number : 65 Question Id : 71644765 Question Type : MCQ Option Shuffling : Yes Negative Marks Display Text : 1/3  
Correct Marks : 1 Wrong Marks : 0.33

Nagarjuna-Srisaillam Sanctuary of Andhra Pradesh is the largest tiger reserve of India by area. What is the new name of this reserve?

ఆంధ్రప్రదేశ్‌లోని నాగార్జున-శ్రీశైలం అభయారణ్యం విస్తీర్ణం పరంగా భారతదేశంలోనే అతిపెద్ద టైగర్ రిజర్వ్ (పులుల సంరక్షణ కేంద్రం). ఈ రిజర్వ్ యొక్క కొత్త పేరు ఏమిటి?

Options :

Rajiv Gandhi Wildlife Sanctuary

1. ✔ రాజీవ్ గాంధీ వన్యప్రాణుల అభయారణ్యం

Pandit Deendayal Upadhyay Wildlife Sanctuary

2. ✖ పండిట్ దీన్‌దయాళ్ ఉపాధ్యాయ వన్యప్రాణుల అభయారణ్యం

Indira Gandhi Zoological Park

3. ✖ ఇందిరా గాంధీ జాలాజికల్ పార్క్

Krishna Wildlife Sanctuary

4. ✖ కృష్ణ వన్యప్రాణుల అభయారణ్యం

Question Number : 66 Question Id : 71644766 Question Type : MCQ Option Shuffling : Yes Negative Marks Display Text : 1/3  
Correct Marks : 1 Wrong Marks : 0.33

The longest river of South India is based in Andhra Pradesh. What is the name of this river?

దక్షిణ భారతదేశంలోని పొడవైన నది ఆంధ్రప్రదేశ్‌లో ఉంది. ఈ నది పేరు ఏమిటి?

Options :

Cauvery

1. ✖ కావేరి

Godavari

2. ✔ గోదావరి

Krishna

3. ✖ కృష్ణ

Penner

4. ✖ పెన్నా

Question Number : 67 Question Id : 71644767 Question Type : MCQ Option Shuffling : Yes Negative Marks Display Text : 1/3

Correct Marks : 1 Wrong Marks : 0.33

Which of the following is NOT a district in Andhra Pradesh?

కిందివాటిలో ఏది ఆంధ్రప్రదేశ్ లోని జిల్లా కాదు?

Options :

Kadapa

1. ✖ కడప

Vizianagaram

2. ✖ విజయనగరం

Prakasam

3. ✖ ప్రకాశం

Tumkur

4. ✔ తుంకూర్

Question Number : 68 Question Id : 71644768 Question Type : MCQ Option Shuffling : Yes Negative Marks Display Text : 1/3

Correct Marks : 1 Wrong Marks : 0.33



Which of the following is one of the largest freshwater lakes of India? It is situated between the Krishna and Godavari delta in Andhra Pradesh.

కింది వాటిలో ఏది భారతదేశంలోని అతిపెద్ద మంచినీటి సరస్సులలో ఒకటి? ఇది ఆంధ్రప్రదేశ్‌లోని కృష్ణ, గోదావరి డెల్టాల మధ్య ఉంది.

Options :

Wular Lake

1. ✘ వులర్ సరస్సు

Kolleru Lake

2. ✔ కొల్లేరు సరస్సు

Loktak Lake

3. ✘ లోక్తక్ సరస్సు

Vembanad Lake

4. ✘ వెంబనాడ్ సరస్సు

Question Number : 69 Question Id : 71644769 Question Type : MCQ Option Shuffling : Yes Negative Marks Display Text : 1/3

Correct Marks : 1 Wrong Marks : 0.33

Anantapur district in Andhra Pradesh houses 'Thimmamma Marrimanu', which was recorded in the Guinness Book of World Records in 1989. What is Thimmamma Marrimanu?

1989 లో గిన్నిస్ బుక్ ఆఫ్ వరల్డ్ రికార్డ్స్ లో రికార్డ్ చేయబడిన 'తిమ్మమ్మ మర్రిమాను' ఆంధ్రప్రదేశ్‌లోని అనంతపురం జిల్లాలో ఉంది.

తిమ్మమ్మ మర్రిమాను అంటే ఏమిటి?

Options :

It is a temple with the most number of steps in the world.

1. ✘ ఇది ప్రపంచంలో అత్యధిక మెట్లు ఉన్న ఆలయం.

It is the longest sari in the world that is made out of pure silk.

2. ✘ స్వచ్ఛమైన పట్టుతో తయారైన ప్రపంచంలోనే అతి పొడవైన చీర ఇది.

It is the largest Banyan tree in the world.

3. ✔ ఇది ప్రపంచంలోనే అతిపెద్ద మర్రి చెట్టు.

It is the biggest hall in the world without any pillars.

4. ✖ ఇది స్తంభాలు లేని ప్రపంచంలోనే అతిపెద్ద హాలు.

Question Number : 70 Question Id : 71644770 Question Type : MCQ Option Shuffling : Yes Negative Marks Display Text : 1/3  
Correct Marks : 1 Wrong Marks : 0.33

What is the name of the caves that are situated near Visakhapatnam and famous for million-year-old stalactite and stalagmite formation?

విశాఖపట్నం సమీపంలో ఉన్న మరియు మిలియన్ల సంవత్సరాల పురాతన స్టాలక్రైట్ మరియు స్టాలగమైట్ ఏర్పడటానికి ప్రసిద్ధి చెందిన గుహల పేరు ఏమిటి?

Options :

Borra Caves

1. ✓ బొర్రా గుహలు

Edakkal Caves

2. ✖ ఎడక్కల్ గుహలు

Belum Caves

3. ✖ బేలం గుహలు

Guna Caves

4. ✖ గుణ గుహలు

Question Number : 71 Question Id : 71644771 Question Type : MCQ Option Shuffling : Yes Negative Marks Display Text : 1/3  
Correct Marks : 1 Wrong Marks : 0.33

Which of the following cities is the closest to Koundinya Wildlife Sanctuary in Andhra Pradesh that is essentially an elephant reserve?

ఈ క్రింది నగరాల్లో ఏది ప్రత్యేక ఏనుగుల సంరక్షణ కేంద్రంగా ఉన్న ఆంధ్రప్రదేశ్ లోని కొండిన్య వన్యప్రాణుల అభయారణ్యానికి దగ్గరగా ఉంది?

Options :

Nellore

1. ✖ నెల్లూరు

Guntur

2. ✖ గుంటూరు

Chittoor

3. ✔ చిత్తూరు

Vijayawada

4. ✖ విజయవాడ

Question Number : 72 Question Id : 71644772 Question Type : MCQ Option Shuffling : Yes Negative Marks Display Text : 1/3 Correct Marks : 1 Wrong Marks : 0.33

Which of the following is the highest waterfall located in Nerabailu village of Andhra Pradesh? It is surrounded by dense forests and home to rare and endangered species of animals.

కిందివాటిలో ఏది ఆంధ్రప్రదేశ్‌లోని నేరబైలు గ్రామంలో ఉన్న ఎత్తైన జలపాతం? దీని చుట్టూ దట్టమైన అడవులు ఉన్నాయి. ఇది అరుదైన మరియు అంతరించిపోతున్న జాతుల జంతువులకు నిలయం.

Options :

Kuntala Waterfall

1. ✖ కుంటాల జలపాతం

Duduma Waterfall

2. ✖ దుడుమా జలపాతం

Ubbalamadugu Waterfall

3. ✖ ఉబ్బలమడుగు జలపాతం

Talakona Waterfall

4. ✔ తలకోన జలపాతం

Question Number : 73 Question Id : 71644773 Question Type : MCQ Option Shuffling : Yes Negative Marks Display Text : 1/3 Correct Marks : 1 Wrong Marks : 0.33

What is the name of the cyclonic storm that hit Andhra Pradesh in October 2018 and severely affected districts of Srikakulam and Vizianagaram?

2018 అక్టోబర్‌లో, ఆంధ్రప్రదేశ్‌లో శ్రీకాకుళం, విజయనగరం జిల్లాలను తీవ్రంగా ప్రభావితం చేసిన తుఫాను పేరు ఏమిటి?

Options :

Fani

1. ✖ పణి

Titli

2. ✔ తిల్లి

Bulbul

3. ✖ బుల్ బుల్

Laila

4. ✖ లైలా

Question Number : 74 Question Id : 71644774 Question Type : MCQ Option Shuffling : Yes Negative Marks Display Text : 1/3  
Correct Marks : 1 Wrong Marks : 0.33

In October 2014, Visakhapatnam or Vizag, the largest city in Andhra Pradesh, faced massive devastation caused by 'Cyclone Hudhud'. What is the meaning of the name 'Hudhud'?

అక్టోబర్ 2014 లో, ఆంధ్రప్రదేశ్ లోని అతిపెద్ద నగరమైన విశాఖపట్నం లోడా వైజాగ్, 'హుదుద్ తుపాను' వల్ల భారీ వినాశనాన్ని ఎదుర్కొంది. 'హుదుద్' అనే పేరు యొక్క అర్థం ఏమిటి?

Options :

It means hood of a big snake.

1. ✖ దీని అర్థం పెద్ద పాము యొక్క పడగ.

It is a Thai word for sapphire.

2. ✖ ఇది నీలమణికి థాయ్ పదం.

It is an Indian name for boys which means 'wind'

3. ✖ ఇది భారతీయ బాలుర పేరు, దీని అర్థం 'గాలి'

It is the name of a bird in the Quran

4. ✔ ఇది ఖురాన్ లోని పక్షి పేరు



Question Number : 75 Question Id : 71644775 Question Type : MCQ Option Shuffling : Yes Negative Marks Display Text : 1/3 Correct Marks : 1 Wrong Marks : 0.33

Which of the following cyclones occurred in Bay of Bengal and made landfall in the state of Andhra Pradesh in December 2018?

కింది వాటిలో ఏది బంగాళాఖాతంలో సంభవించి, 2018 డిసెంబర్లో ఆంధ్రప్రదేశ్ రాష్ట్ర తీరాన్ని తాకింది?

Options :

Onil

1. ✘ ఓనిల్

Phethai

2. ✔ ఫెథాయ్

Gaja

3. ✘ గజ

Hikaa

4. ✘ హికా

Question Number : 76 Question Id : 71644776 Question Type : MCQ Option Shuffling : Yes Negative Marks Display Text : 1/3 Correct Marks : 1 Wrong Marks : 0.33

In July 2017, a state-of-the-art lightning tracking application, which was developed in collaboration with ISRO, was launched for BSNL users. Users of the app get alerts from the Andhra Pradesh State Disaster Response Management Authority on the location of lightning at least 45 minutes in advance. What is the name of the app?

జూలై 2017 లో, BSNL వినియోగదారుల కోసం, ఇస్రో (ISRO) సహకారంతో అభివృద్ధి చేయబడిన అత్యధునిక ఆర్ట్ లైటినింగ్ ట్రాకింగ్ అప్లికేషన్ ప్రారంభించబడింది. ఈ యాప్ యొక్క వినియోగదారులు కనీసం 45 నిమిషాల ముందుగానే పిడుగు సంభవించగల ప్రదేశం గురించి ఆంధ్రప్రదేశ్ రాష్ట్ర విపత్తు ప్రతిస్పందన నిర్వహణ అథారిటీ నుండి హెచ్చరికలను పొందుతారు. ఈ యాప్ పేరు ఏమిటి?

Options :

Sampark

1. ✘ సంపర్క్

Vajrapath

2. ✔ వజ్రపతి

ZeroAlert

3. ✖ జీరో ఎలర్ట్

SatarkApp

4. ✖ సతర్క్ యాప్

Question Number : 77 Question Id : 71644777 Question Type : MCQ Option Shuffling : Yes Negative Marks Display Text : 1/3 Correct Marks : 1 Wrong Marks : 0.33

Which of the following systems was put in place by Andhra Pradesh State Disaster Management Authority (SDMA) to initiate real-time satellite communication?

ఈ క్రింది వాటిలో దేనిని రియల్ టైమ్ ఉపగ్రహ సమాచార మార్పిడిని ప్రారంభించడానికి ఆంధ్రప్రదేశ్ రాష్ట్ర విపత్తు నిర్వహణ అధికారిటీ (SDMA) అమల్లోకి తెచ్చింది?

Options :

Indian Regional Navigation Satellite System (IRNSS)

1. ✖ ఇండియన్ రీజినల్ నావిగేషన్ శాటిలైట్ సిస్టమ్ (IRNSS)

Satellite Based Mobile Data Voice (SBMDV)

2. ✔ శాటిలైట్ బేస్డ్ మొబైల్ డేటా వాయిస్ (SBMDV)

Navigation in Indian Constellation (NaviC)

3. ✖ నావిగేషన్ ఇన్ ఇండియన్ కాన్స్టెలేషన్ (NaviC)

Satellite Based Augmentation System (SBAS)

4. ✖ శాటిలైట్ బేస్డ్ ఆగ్మెంటేషన్ సిస్టమ్ (SBAS)

Question Number : 78 Question Id : 71644778 Question Type : MCQ Option Shuffling : Yes Negative Marks Display Text : 1/3 Correct Marks : 1 Wrong Marks : 0.33

What is the name of the mobile app that makes use of Automatic Weather Stations and Ground Water Piezometers, installed across the state of Andhra Pradesh as well as weather forecast data from ISRO to provide required weather parameters?

ఆంధ్రప్రదేశ్ రాష్ట్రవ్యాప్తంగా మరియు అవసరమైన వాతావరణ పారామితులను అందించే ఇస్రో (ISRO) యొక్క వెథర్ ఫోర్ కాస్ట్ డేటా చే ఇన్స్టాల్ చేయబడి, స్వయంచాలిత వాతావరణ స్టేషన్లు మరియు భూగర్భ జల పైజోమీటర్లను ఉపయోగించుకునే మొబైల్ యాప్ పేరు ఏమిటి?

Options :

APDMS Mobile App

1. ✖ ఎపిడిఎమ్ఎస్ (APDMS) మొబైల్ యాప్

Andhra Pradesh Varuna

2. ✔ ఆంధ్రప్రదేశ్ వరుణ

Andhra Mausam

3. ✖ ఆంధ్ర మౌసం

AP Vatavarana

4. ✖ AP వాతవరణ

Question Number : 79 Question Id : 71644779 Question Type : MCQ Option Shuffling : Yes Negative Marks Display Text : 1/3

Correct Marks : 1 Wrong Marks : 0.33

If there is a heavy downpour with incessant rains and cyclonic conditions, which of the following will be issued by Andhra Pradesh State Disaster Management Authority?

తుఫాను పరిస్థితులతో మరియు ఎడతెరిపి లేకుండా కురుస్తున్న భారీ వర్షాలు కురిస్తే, ఈ క్రింది వాటిలో దేనిని ఆంధ్రప్రదేశ్ రాష్ట్ర విపత్తు నిర్వహణ అధికారిటీ జారీ చేస్తుంది?

Options :

Red Corner Notice

1. ✖ రెడ్ కార్నర్ నోటీసు

Pink Slip

2. ✖ పింక్ స్లిప్

Orange Card

3. ✖ ఆరెంజ్ కార్డ్

Red Message

4. ✔ రెడ్ మెసేజ్



Question Number : 80 Question Id : 71644780 Question Type : MCQ Option Shuffling : Yes Negative Marks Display Text : 1/3 Correct Marks : 1 Wrong Marks : 0.33

Which of the following is a popular remote sensing method that uses light in the form of a pulsed laser to measure ranges (distances) to a target on Earth's surface?

ఈ క్రింది వాటిలో ఏది భూమి యొక్క ఉపరితలంపై లక్ష్యం పరిధులను (దూరాలు) కొలవడానికి పల్స్డ్ లేజర్ రూపంలో కాంతిని ఉపయోగించే ప్రసిద్ధ రిమోట్ సెన్సింగ్ పద్ధతి?

Options :

Light Detection And Ranging (LiDAR)

1. ✓ లైట్ డిటెక్షన్ అండ్ రేంజింగ్ (LiDAR)

Integrated Taxonomic Information System (IT IS)

2. \* ఇంటిగ్రేటెడ్ టాక్సోనమిక్ ఇన్ఫర్మేషన్ సిస్టమ్ (IT IS)

Continuous Emissions Monitoring System (CEMS)

3. \* కంటిన్యూయస్ ఎమిషన్ మానిటరింగ్ సిస్టమ్ (CEMS)

Surveillance Towed Array Sensor System (SURTASS)

4. \* సర్వైలెన్స్ టోడ్డే అర్రే సెన్సార్ సిస్టమ్ (SURTASS)

Question Number : 81 Question Id : 71644781 Question Type : MCQ Option Shuffling : Yes Negative Marks Display Text : 1/3 Correct Marks : 1 Wrong Marks : 0.33

In Andhra Pradesh, \_\_\_\_\_ is the real-time governance system that incorporates detailed disaster mitigation plans, integrates other real-time data and shows these on a single pane of glass that enables decision-making in a timely manner.

వివరణాత్మక విపత్తు తగ్గించే ప్రణాళికలను కలిగి ఉంటూ, ఇతర రియల్ టైం డేటాను అనుసంధానిస్తూ మరియు సమయానుసారంగా నిర్ణయం తీసుకోవడానికి వీలు కల్పించే ఒకే గాజు పలక (సింగిల్ గ్లాస్ పేన్)పై వీటిని చూపించే ఆంధ్రప్రదేశ్ లోని రియల్ టైమ్ గవర్నెన్స్ సిస్టమ్ \_\_\_\_\_.

Options :

Microsoft Tarang System

1. \* మైక్రోసాఫ్ట్ తరంగ్ సిస్టమ్



Google Geo-Spatial System

2. ✘ గూగుల్ జియో-స్పేషియల్ సిస్టమ్

Hitachi Visualization Suite

3. ✔ హిటాచి విజువలైజేషన్ సూట్

Huawei Spatial Data Infrastructure

4. ✘ హువావే స్పేషియల్ డేటా ఇన్ఫ్రాస్ట్రక్చర్

Question Number : 82 Question Id : 71644782 Question Type : MCQ Option Shuffling : Yes Negative Marks Display Text : 1/3  
Correct Marks : 1 Wrong Marks : 0.33

Which of the following technologies is used to forecast heavy rainfall and thunderstorms?

భారీ వర్షపాతం మరియు ఉరుములు మెరుపులతో కూడిన తుఫానులు (థండర్ స్ట్రోమ్)ను అంచనా వేయడానికి ఈ క్రింది సాంకేతిక పరిజ్ఞానాలలో ఏది ఉపయోగించబడుతుంది?

Options :

Doppler Radar Network

1. ✔ డాప్లర్ రాడార్ నెట్వర్క్

Tactical Control Radar

2. ✘ టాక్టికల్ కంట్రోల్ రాడార్

HENSOLDT's Radar System

3. ✘ హెన్సోల్డ్స్ రాడార్ సిస్టమ్

Inverse Synthetic Aperture Radar

4. ✘ ఇన్వర్స్ సినథటిక్ ఎపర్చర్ రాడార్

Question Number : 83 Question Id : 71644783 Question Type : MCQ Option Shuffling : Yes Negative Marks Display Text : 1/3  
Correct Marks : 1 Wrong Marks : 0.33

In September 2018, Intergovernmental Oceanographic Commission (IOC) of UNESCO organised a two-day tsunami mock exercise (drill) for India and 23 other Indian Ocean Nations to enhance tsunami preparedness at community level.

What was the name of the exercise?

సెప్టెంబర్ 2018లో, కమ్యూనిటీ స్థాయిలో సునామీ సన్నద్ధతను పెంచడానికి, యునెస్కోకు (UNESCO) చెందిన ఇంటర్గవర్నమెంటల్ ఓషనోగ్రాఫిక్ కమిషన్ (IOC), భారతదేశం మరియు 23 ఇతర హిందూ మహాసముద్ర దేశాల కోసం రెండు రోజుల సునామీ మాక్ ఎక్సర్సైజ్ (డ్రీల్)ను నిర్వహించింది. ఈ ఎక్సర్సైజ్ పేరు ఏమిటి?

Options :

WaveFront2018

1. ✘ వేవ్ ఫ్రంట్ 2018

INDRA2018

2. ✘ ఇంద్రా 2018

IOWave18

3. ✔ ఐఓ వేవ్18

Abhyaas 2018

4. ✘ అభ్యాస్ 2018

Question Number : 84 Question Id : 71644784 Question Type : MCQ Option Shuffling : Yes Negative Marks Display Text : 1/3 Correct Marks : 1 Wrong Marks : 0.33

In February 2019, Andhra Pradesh stood fourth in the list of states of India in achieving national targets set for 13 of the 17 Sustainable Development Goals (SDGs) by 2030. Which of the following states is ahead of Andhra Pradesh and in the Top 3 list?

ఫిబ్రవరి 2019 లో, 2030 నాటికి 17 సుస్థిర అభివృద్ధి లక్ష్యాలలో (SDGs) 13 కోసం నిర్దేశించిన జాతీయ లక్ష్యాలను సాధించడంలో భారత రాష్ట్రాల జాబితాలో ఆంధ్రప్రదేశ్ నాల్గవ స్థానంలో ఉంది. ఈ క్రింది రాష్ట్రాల్లో ఏది ఆంధ్రప్రదేశ్ కంటే ముందుంది మరియు టాప్ 3 జాబితాలో ఉంది?

Options :

Maharashtra

1. ✘ మహారాష్ట్ర

Madhya Pradesh

2. ✘ మధ్యప్రదేశ్

Himachal Pradesh

3. ✔ హిమాచల్ ప్రదేశ్

Punjab

4. ✘ పంజాబ్

Question Number : 85 Question Id : 71644785 Question Type : MCQ Option Shuffling : Yes Negative Marks Display Text : 1/3  
Correct Marks : 1 Wrong Marks : 0.33

Which of the following is a target set by Andhra Pradesh to achieve by the year 2024?

ఈ క్రిందివాటిలో 2024 నాటికి ఆంధ్రప్రదేశ్ నిర్దేశించుకున్న లక్ష్యం ఏది?

Options :

To become India's first 100% zero budget natural farming state

1. ✔ భారతదేశం యొక్క మొదటి 100% సున్నా బడ్జెట్ గల సహజ వ్యవసాయ రాష్ట్రంగా అవతరించడం

To become the number one state in rice production in the country

2. ✘ దేశంలో బియ్యం ఉత్పత్తిలో ప్రథమ రాష్ట్రంగా అవతరించడం

To become a state with zero bad debts by farmers for loans issued to them

3. ✘ రైతులకు ఇచ్చే రుణాల కోసం తీరని అప్పులు సున్నాగ ఉన్న రాష్ట్రంగా మారడం

To become the first state in the country with 100% adoption of crop insurance by farmers

4. ✘ పంటల బీమాను రైతులు 100% స్వీకరించి దేశంలో మొదటి రాష్ట్రంగా అవతరించడం

Question Number : 86 Question Id : 71644786 Question Type : MCQ Option Shuffling : Yes Negative Marks Display Text : 1/3  
Correct Marks : 1 Wrong Marks : 0.33



How many Sustainable Development Goals (SDGs) were adopted by India in September 2015 as a part of the resolution, 'Transforming Our World: the 2030 Agenda for Sustainable Development'?

'ట్రాన్స్ఫార్మింగ్ అవర్ వరల్డ్: ది 2030 అజెండా ఫర్ సస్టైనబుల్ డెవలప్మెంట్ (సుస్టిర అభివృద్ధి)' అనే తీర్మానంలో భాగంగా 2015 సెప్టెంబర్లో భారతదేశం ఎన్ని సుస్టిర అభివృద్ధి లక్ష్యాలను (SDGs) స్వీకరించింది?

Options :

10

1. ✘ 10

13

2. ✘ 13

15

3. ✘ 15

17

4. ✔ 17

Question Number : 87 Question Id : 71644787 Question Type : MCQ Option Shuffling : Yes Negative Marks Display Text : 1/3 Correct Marks : 1 Wrong Marks : 0.33

At the Central Government level, which agency was assigned the role of overseeing the implementation of Sustainable Development Goals (SDGs) in India?

కేంద్ర ప్రభుత్వ స్థాయిలో, భారతదేశంలో సుస్టిర అభివృద్ధి లక్ష్యాల (SDGs) అమలును పర్యవేక్షించే పాత్రను ఏ ఏజెన్సీకి అప్పగించారు?

Options :

The Energy Resource Institute (TERI)

1. ✘ ది ఎనర్జీ రిసోర్స్ ఇన్స్టిట్యూట్ (TERI)

NITI Aayog

2. ✔ నీతి ఆయోగ్

Center for Environment and Sustainable Development India (CESDI)

3. ✘ సెంటర్ ఫర్ ఎన్విరాన్మెంట్ అండ్ సస్టైనబుల్ డెవలప్మెంట్ ఇండియా (CESDI)



4. \* ది కంప్ట్రోలర్ అండ్ ఆడిటర్ జనరల్ ఆఫ్ ఇండియా (CAG)

Question Number : 88 Question Id : 71644788 Question Type : MCQ Option Shuffling : Yes Negative Marks Display Text : 1/3 Correct Marks : 1 Wrong Marks : 0.33

Name the grassroots women's organisation in Andhra Pradesh which is among the 22 winners of the United Nations award 'Equator Prize 2019'.

ఐక్యరాజ్యసమితి అవార్డు 'ఈక్వేటర్ ప్రైజ్ 2019' విజేతలు 22 మందిలో ఉన్న ఆంధ్రప్రదేశ్ లోని అట్టడుగు మహిళా సంస్థ పేరు:

Options :

Women in Need Association

1. \* ఉమెన్ ఇన్ నీడ్ అసోసియేషన్

AP Women's Co-operative Development Corporation

2. \* AP విమెన్స్ కో-ఆపరేటివ్ డెవలప్ మెంట్ కార్పొరేషన్

Deccan Development Society

3. ✓ డెక్కన్ డెవలప్ మెంట్ సొసైటీ

Gramya Resource Centre for Women

4. \* గ్రామ్య రిసోర్స్ సెంటర్ ఫర్ విమెన్

Question Number : 89 Question Id : 71644789 Question Type : MCQ Option Shuffling : Yes Negative Marks Display Text : 1/3 Correct Marks : 1 Wrong Marks : 0.33

Which of the following steps was initiated by Andhra Pradesh government in September 2019 to keep a check on pollution by industrial houses?

పారిశ్రామిక సంస్థల కాలుష్యంపై తనిఖీ చేయడానికి 2019 సెప్టెంబర్ లో ఆంధ్రప్రదేశ్ ప్రభుత్వం ఈ క్రింది కార్యక్రమాల్లో ఏది ప్రారంభించింది?

Options :

Requiring such companies to plant 10,000 trees

1. \* అలాంటి కంపెనీలు 10,000 చెట్లను నాటడం అవసరం

Imposing and collecting green tax from such companies

2. ✓ అటువంటి సంస్థల నుండి హరిత పన్ను విధించడం మరియు వసూలు చేయడం

Increasing the penalty to ₹ 20 lakhs if action is not taken as per notice

3. ✘ నోటీసు ప్రకారం చర్యలు తీసుకోకపోతే జరిమానాను ₹ 20 లక్షలకు పెంచడం

Disallowing further production activities in the plant with immediate effect

4. ✘ తక్షణమే ప్లాంట్‌లో తదుపరి ఉత్పత్తి కార్యకలాపాలను అనుమతించకపోవడం

Question Number : 90 Question Id : 71644790 Question Type : MCQ Option Shuffling : Yes Negative Marks Display Text : 1/3  
Correct Marks : 1 Wrong Marks : 0.33

\_\_\_\_\_ are losing their lives due to mechanised boats and big nets used by fishermen for fishing in Andhra Pradesh and Odisha.

ఆంధ్రప్రదేశ్ మరియు ఒడిశాలో చేపలు పట్టడానికి మత్స్యకారులు ఉపయోగించే యాంత్రిక పడవలు మరియు పెద్ద వలల కారణంగా \_\_\_\_\_ ప్రాణాలు కోల్పోతున్నాయి.

Options :

La Plata Dolphins

1. ✘ లా ప్లాటా డాల్ఫిన్స్

Emperor Penguins

2. ✘ ఎంపరర్ పెంగ్విన్స్

Olive Ridley sea turtles

3. ✓ ఆలివ్ రిడ్లీ సముద్ర తాబేళ్లు

Mystus Seenghala (Catfish)

4. ✘ మైస్టస్ సీంఘల (క్యాట్ ఫిష్)

Question Number : 91 Question Id : 71644791 Question Type : MCQ Option Shuffling : Yes Negative Marks Display Text : 1/3  
Correct Marks : 1 Wrong Marks : 0.33

As per the new sand policy of September 2019, which agency has been tasked with operating stockyards in Andhra Pradesh?

సెప్టెంబర్ 2019 కోత ఇసుక విధానం ప్రకారం, ఆంధ్రప్రదేశ్లో స్టాక్ యార్డుల నిర్వహణకు ఏ ఏజెన్సీని నియమించారు?

Options :

Andhra Pradesh Mineral Development Corporation (APMDC)

1. ✓ ఆంధ్రప్రదేశ్ మినరల్ డెవలప్ మెంట్ కార్పొరేషన్ (APMDC)

Andhra Pradesh Realtors Association

2. ✘ ఆంధ్రప్రదేశ్ రియల్టర్స్ అసోసియేషన్

Andhra Pradesh Forest Department

3. ✘ ఆంధ్రప్రదేశ్ ఫారెస్ట్ డిపార్టుమెంట్

Andhra Pradesh Pollution Control Board (APPCB)

4. ✘ ఆంధ్రప్రదేశ్ పొల్ల్యూషన్ కంట్రోల్ బోర్డ్ (APPCB)

Question Number : 92 Question Id : 71644792 Question Type : MCQ Option Shuffling : Yes Negative Marks Display Text : 1/3 Correct Marks : 1 Wrong Marks : 0.33

As per the analysis of water quality by Andhra Pradesh Pollution Control Board (APPCB), the quality of water in all major rivers in Andhra Pradesh falls under \_\_\_\_\_ category.

ఆంధ్రప్రదేశ్ కాలుష్య నియంత్రణ మండలి (APPCB) విశ్లేషించిన నీటి నాణ్యత ప్రకారం, ఆంధ్రప్రదేశ్ లోని అన్ని ప్రధాన నదులలో నీటి నాణ్యత \_\_\_\_\_ వర్గంలోకి వస్తుంది.

Options :

A

1. ✘ A

B

2. ✘ B

C

3. ✓ C



D

4. ✖ D

Question Number : 93 Question Id : 71644793 Question Type : MCQ Option Shuffling : Yes Negative Marks Display Text : 1/3  
Correct Marks : 1 Wrong Marks : 0.33

Which of the following is a first-of-its-kind youth interaction programme in Andhra Pradesh to create awareness on air pollution?

వాయు కాలుష్యంపై అవగాహన కల్పించడానికి ఆంధ్రప్రదేశ్‌లో ఒక ప్రత్యేక యూత్ ఇంటరాక్షన్ ప్రోగ్రాం ఏది?

Options :

Fresh Breath

1. ✖ ఫ్రెష్ బ్రీత్

Air Your Voice

2. ✖ ఎయిర్ యువర్ వాయిస్

Eco Air

3. ✔ ఎకో ఎయిర్

Enviro Clean

4. ✖ ఎన్విరో క్లీన్

Question Number : 94 Question Id : 71644794 Question Type : MCQ Option Shuffling : Yes Negative Marks Display Text : 1/3  
Correct Marks : 1 Wrong Marks : 0.33

Which of the following institutions was formed by the Andhra Pradesh government to provide an effective mechanism for collection, transportation, storage, treatment, processing, delivery and disposal of industrial and other waste?

ఈ క్రింది సంస్థలలో దేనిని పారిశ్రామిక మరియు ఇతర వ్యర్థాల సేకరణ, రవాణా, నిల్వ, చికిత్స, ప్రాసెసింగ్, డెలివరీ మరియు పారవేయడం కోసం సమర్థవంతమైన యంత్రాంగాన్ని అందించడానికి ఆంధ్రప్రదేశ్ ప్రభుత్వం ఏర్పాటు చేసింది?

Options :

Andhra Pradesh Pollution Control Board (APPCB)

1. ✖ ఆంధ్రప్రదేశ్ పొల్ల్యూషన్ కంట్రోల్ బోర్డ్ (APPCB)



Andhra Pradesh Mineral Development Corporation (APMDC)

2. ✘ ఆంధ్రప్రదేశ్ మినరల్ డెవలప్‌మెంట్ కార్పొరేషన్ (APMDC)

Andhra Pradesh Environment Management Corporation (APEMC)

3. ✔ ఆంధ్రప్రదేశ్ ఎన్విరాన్మెంట్ మేనేజ్మెంట్ కార్పొరేషన్ (APEMC)

Environment Protection Training and Research Institute (EPTRI)

4. ✘ ఎన్విరాన్మెంట్ ప్రొటెక్షన్ ట్రైనింగ్ అండ్ రీసెర్చ్ ఇన్స్టిట్యూట్ (EPTRI)

Question Number : 95 Question Id : 71644795 Question Type : MCQ Option Shuffling : Yes Negative Marks Display Text : 1/3

Correct Marks : 1 Wrong Marks : 0.33

Which of the following findings in analysis of river water indicates mixing of human faeces?

నదీ నీటి విశ్లేషణలోని కింది ఫలితాలలో ఏది మానవ మల మిశ్రమం కలవడాన్ని సూచిస్తుంది?

Options :

Higher count of total coliform bacteria

1. ✔ మొత్తం కోలిఫాం బ్యాక్టీరియా యొక్క అధిక సంఖ్య

Higher biochemical oxygen demand (BOD)

2. ✘ అధిక జీవరసాయన ఆక్సిజన్ డిమాండ్ (BOD)

Higher pH value

3. ✘ అధిక pH విలువ

Lower dissolved oxygen (DO)

4. ✘ లోయర్ డిసాల్వ్డ్ ఆక్సిజన్ (DO)

Question Number : 96 Question Id : 71644796 Question Type : MCQ Option Shuffling : Yes Negative Marks Display Text : 1/3

Correct Marks : 1 Wrong Marks : 0.33

In December 2019, the officials of the Agriculture Department suggested to Kakinada farmers that they stop cultivating \_\_\_\_\_ variety of paddy as it is now being cultivated in Kerala. The state used to earlier buy this rice from Andhra Pradesh, but the demand for it has plummeted.

2019 డిసెంబర్లో, ఇప్పుడు కేరళలో సాగుచేస్తున్న \_\_\_\_\_ రకం వరిని పండించడం మానేయాలని వ్యవసాయ శాఖ అధికారులు కాకినాడ రైతులకు సూచించారు. ఇంతకుముందు ఈ రాష్ట్రం ఈ బియ్యాన్ని ఆంధ్రప్రదేశ్ నుండి కొనుగోలు చేసేది, కాని దాని డిమాండ్ క్షీణించింది.

Options :

Chitti Mutyalu

1. ✖ చిట్టి ముత్యాలు

Krishna Hamsa

2. ✖ కృష్ణ హంసా

Keshava

3. ✖ కేశవ

Bondalu

4. ✔ బొండాలు

Question Number : 97 Question Id : 71644797 Question Type : MCQ Option Shuffling : Yes Negative Marks Display Text : 1/3 Correct Marks : 1 Wrong Marks : 0.33

Name the project whose site in Chittoor district 'Mandaram Resource Centre' (MRC) includes a demonstration centre for alternative agriculture and sustainability practices and the volunteers work with local people and farmers, address local sustainability issues with solutions tailored to local conditions.

చిత్తూరు జిల్లాలోని 'మందరం రిసోర్స్ సెంటర్' (MRC) లో, ప్రత్యామ్నాయ వ్యవసాయం మరియు సుస్థిరత పద్ధతుల కోసం ఒక ప్రదర్శన కేంద్రం కలిగి ఉండి మరియు వాలంటీర్లు స్థానిక ప్రజలు మరియు రైతులతో కలిసి స్థానిక పరిస్థితులకు అనుగుణంగా స్థానిక సుస్థిరత సమస్యలను పరిష్కరించడానికి పనిచేసే ప్రాజెక్టు పేరు తెలుపండి:

Options :

Kalyanam

1. ✖ కళ్యాణం

Rakshana

2. ✖ రక్షణ

Toranam

3. ✓ తోరణం

Paryavarana

4. ✘ పర్యావరణం

Question Number : 98 Question Id : 71644798 Question Type : MCQ Option Shuffling : Yes Negative Marks Display Text : 1/3  
Correct Marks : 1 Wrong Marks : 0.33

Which port in Andhra Pradesh received the 'Golden Peacock Environment Management Award' in the year 2015 for its initiatives and achievements in the field of environment?

పర్యావరణ రంగంలో చేసిన కార్యక్రమాలు మరియు విజయాల కోసం ఆంధ్రప్రదేశ్‌లోని ఏ ఓడరేవు 2015 సంవత్సరంలో 'గోల్డెన్ పీకాక్ ఎన్విరాన్మెంట్ మేనేజ్మెంట్ అవార్డు' అందుకుంది?

Options :

Gangavaram Port

1. ✘ గంగవరం ఓడరేవు

Machilipatnam Port

2. ✘ మచిలీపట్నం ఓడరేవు

Nakkapali Port

3. ✘ నక్కపాలి ఓడరేవు

Krishnapatnam Port

4. ✓ కృష్ణపట్నం ఓడరేవు

Question Number : 99 Question Id : 71644799 Question Type : MCQ Option Shuffling : Yes Negative Marks Display Text : 1/3  
Correct Marks : 1 Wrong Marks : 0.33

What is the name of the reserve in Andhra Pradesh that is part of the 'Project Elephant' scheme? It is shared by the state and the centre.

'ప్రాజెక్ట్ ఎలిఫెంట్' పథకంలో భాగమైన ఆంధ్రప్రదేశ్‌లోని రిజర్వ్ పేరు ఏమిటి? దీనిని రాష్ట్రం, కేంద్రం పంచుకుంటాయి.

Options :

Rayala Elephant Reserve

1. ✓ రాయల ఎలిఫెంట్ రిజర్వ్

Nilambur Elephant Reserve

2. ✘ నీలాంబర్ ఎలిఫెంట్ రిజర్వ్

Anamalai Elephant Reserve

3. ✘ అనమలై ఎలిఫెంట్ రిజర్వ్

Anamudi Elephant Reserve

4. ✘ అనముడి ఎలిఫెంట్ రిజర్వ్

Question Number : 100 Question Id : 716447100 Question Type : MCQ Option Shuffling : Yes Negative Marks Display Text : 1/3  
Correct Marks : 1 Wrong Marks : 0.33

The Andhra Pradesh Reorganisation Act, 2014 is an Act of Indian Parliament that bifurcated the state of Andhra Pradesh into Telangana and the residuary Andhra Pradesh state. What is this act popularly known as?

ఆంధ్రప్రదేశ్ రాష్ట్రాన్ని తెలంగాణగా మరియు అవశేష ఆంధ్రప్రదేశ్ రాష్ట్రంగా విభజించిన ఆంధ్రప్రదేశ్ పునర్వ్యవస్థీకరణ చట్టం, 2014 అనేది భారత పార్లమెంటు చట్టం. ఈ చట్టాన్ని ప్రముఖంగా ఇలా పిలుస్తారు?

Options :

Andhra Pradesh Act

1. ✘ ఆంధ్రప్రదేశ్ చట్టం

Telangana Act

2. ✓ తెలంగాణ చట్టం

Hyderabad Act

3. ✘ హైదరాబాద్ చట్టం

State Separation Act

4. ✘ రాష్ట్ర విభజన చట్టం



Question Number : 101 Question Id : 716447101 Question Type : MCQ Option Shuffling : Yes Negative Marks Display Text : 1/3 Correct Marks : 1 Wrong Marks : 0.33

As per the Andhra Pradesh Reorganisation Act, 2014, \_\_\_\_\_ became the capital of the newly formed state of Telangana, after the bifurcation of Andhra Pradesh. The city will remain as the joint capital of both states for a period of time not exceeding ten years.

ఆంధ్రప్రదేశ్ పునర్వ్యవస్థీకరణ చట్టం, 2014 ప్రకారం, ఆంధ్రప్రదేశ్ యొక్క విభజన తరువాత, కోత్తగా ఏర్పడిన తెలంగాణ రాష్ట్రానికి \_\_\_\_\_ రాజధానిగా మారింది. ఈ నగరం పదేళ్లకు మించని కాలానికి రెండు రాష్ట్రాల ఉమ్మడి రాజధానిగా ఉంటుంది.

Options :

Amaravati

1. ✘ అమరావతి

Hyderabad

2. ✔ హైదరాబాద్

Visakhapatnam

3. ✘ విశాఖపట్నం

Vijayawada

4. ✘ విజయవాడ

Question Number : 102 Question Id : 716447102 Question Type : MCQ Option Shuffling : Yes Negative Marks Display Text : 1/3 Correct Marks : 1 Wrong Marks : 0.33

Which of the following political parties was founded by actor and politician Pawan Kalyan and came up around the period closer to when the state of Andhra Pradesh got bifurcated?

ఈ క్రింది రాజకీయ పార్టీలలో ఏది, ఆంధ్రప్రదేశ్ రాష్ట్రం విభజించబడిన సమయంలో మరియు నటుడు, రాజకీయ నాయకుడైన పవన్ కళ్యాణ్ చేత స్థాపించబడింది?

Options :

Jana Sena Party

1. ✔ జనసేన పార్టీ

Telugu Desam Party

2. ✘ తెలుగు దేశం పార్టీ

YSR Congress Party

3. \* వైయస్ఆర్ కాంగ్రెస్ పార్టీ

Telangana Rashtra Samithi

4. \* తెలంగాణ రాష్ట్ర సమితి

Question Number : 103 Question Id : 716447103 Question Type : MCQ Option Shuffling : Yes Negative Marks Display Text : 1/3 Correct Marks : 1 Wrong Marks : 0.33

For which of the following projects in Andhra Pradesh did the Telangana government approach the Supreme Court to put the work on hold and appealed to first review the environmental impact assessment (EIA) of the project?

ఈ క్రింది ఆంధ్రప్రదేశ్ ప్రాజెక్టులలో, దేనికోసం తెలంగాణ ప్రభుత్వం సుప్రీంకోర్టును ఆశ్రయించి, ఆ పనిని నిలిపివేసింది మరియు ప్రాజెక్ట్ యొక్క పర్యావరణ ప్రభావ అంచనా (EIA) ను మొదట సమీక్షించాలని విజ్ఞప్తి చేసింది.

Options :

National Seafront Project

1. \* నేషనల్ సీఫ్రంట్ ప్రాజెక్ట్

Construction of new capital Amaravati

2. \* కొత్త రాజధాని అమరావతి నిర్మాణం

Indira Sagar Polavaram Irrigation project

3. ✓ ఇందిరా సాగర్ పోలవరం నీటిపారుదల ప్రాజెక్టు

Andhra Pradesh Housing Project

4. \* ఆంధ్రప్రదేశ్ హౌసింగ్ ప్రాజెక్ట్

Question Number : 104 Question Id : 716447104 Question Type : MCQ Option Shuffling : Yes Negative Marks Display Text : 1/3 Correct Marks : 1 Wrong Marks : 0.33

After the bifurcation of Andhra Pradesh, the political regimes of Telangana and Andhra Pradesh fought tooth and nail for the monopoly of which of the following rivers?

ఆంధ్రప్రదేశ్ యొక్క విభజనానంతరం, తెలంగాణ మరియు ఆంధ్రప్రదేశ్ రాజకీయ ప్రభుత్వాలు ఈ క్రింది నదుల మీద ఏకస్వామ్యం కోసం అందుబాటులో గల అన్ని మార్గాలలోనూ పోరాడాయి?

Options :

Cauvery and Krishna

1. ✘ కావేరి మరియు కృష్ణ

Krishna and Godavari

2. ✔ కృష్ణ మరియు గోదావరి

Godavari and Cauvery

3. ✘ గోదావరి మరియు కావేరి

Cauvery and Tungabhadra

4. ✘ కావేరి మరియు తుంగభద్ర

Question Number : 105 Question Id : 716447105 Question Type : MCQ Option Shuffling : Yes Negative Marks Display Text : 1/3 Correct Marks : 1 Wrong Marks : 0.33

Quoting the issue of revenue deficit after the bifurcation of Andhra Pradesh, what major demand did the then Chief Minister Chandrababu Naidu place before the Government of India?

ఆంధ్రప్రదేశ్ విభజన తరువాత ఆదాయ లోటు సమస్యను ఊటంకిస్తూ, అప్పటి ముఖ్యమంత్రి చంద్రబాబు నాయుడు భారత ప్రభుత్వం ముందు ఏ ప్రధాన డిమాండ్ పెట్టారు?

Options :

To declare President's rule in the state of Andhra Pradesh

1. ✘ ఆంధ్రప్రదేశ్ రాష్ట్రంలో రాష్ట్రపతి పాలనను ప్రకటించడం

2. ✘

To permanently keep Hyderabad as the common capital for both the states of Andhra Pradesh as well as Telangana  
హైదరాబాద్‌ను ఆంధ్రప్రదేశ్ తో పాటు తెలంగాణ రాష్ట్రానికి కూడా సాధారణ రాజధానిగా శాశ్వతంగా ఉంచడం

To grant special category status to the state of Andhra Pradesh

3. ✔ ఆంధ్రప్రదేశ్ రాష్ట్రానికి ప్రత్యేక కేటగిరీ హోదా ఇవ్వడం



To reverse the decision and combine the states of Andhra Pradesh and Telangana again

4. ✖ నిర్ణయాన్ని తిప్పికొట్టడానికి మరియు ఆంధ్రప్రదేశ్ మరియు తెలంగాణ రాష్ట్రాలను మళ్ళీ కలపడానికి

Question Number : 106 Question Id : 716447106 Question Type : MCQ Option Shuffling : Yes Negative Marks Display Text : 1/3 Correct Marks : 1 Wrong Marks : 0.33

Hyderabad had become a bone of contention during the bifurcation of the states of Andhra Pradesh and Telangana. What was the major reason for this?

ఆంధ్రప్రదేశ్ మరియు తెలంగాణ రాష్ట్రాల విభజన సమయంలో హైదరాబాద్ వివాదాస్పదంగా మారింది. దీనికి ప్రధాన కారణం ఏమిటి?

Options :

The majority of power generation of the undivided state happened in Hyderabad alone

1. ✖ అవిభక్త రాష్ట్ర విద్యుత్ ఉత్పత్తిలో ఎక్కువ భాగం హైదరాబాద్లోనే జరిగింది

The majority of the state income to the tune of 70% was concentrated in Hyderabad alone

2. ✔ రాష్ట్ర ఆదాయంలో ఎక్కువగా 70% హైదరాబాద్లోనే కేంద్రీకృతమై ఉంది

Hyderabad always got the major share of the water of Krishna and Godavari rivers

3. ✖ కృష్ణ, గోదావరి నదుల నీటిలో హైదరాబాద్కు ఎప్పుడూ ఎక్కువ భాగం లభిస్తుంది

4. ✖

The Telugu speaking population percentage-wise was concentrated more in Hyderabad and its immediate proximity only తెలుగు మాట్లాడే జనాభా శాతం పరంగా హైదరాబాద్లో మరియు దాని సమీప ప్రదేశాలలో మాత్రమే ఎక్కువ కేంద్రీకృతమై ఉంది.

Question Number : 107 Question Id : 716447107 Question Type : MCQ Option Shuffling : Yes Negative Marks Display Text : 1/3 Correct Marks : 1 Wrong Marks : 0.33

Four years after bifurcation, the residual state of Andhra Pradesh announced its state symbols and adopted \_\_\_\_\_ as the state flower.

విభజించిన నాలుగు సంవత్సరాల తరువాత, అవశేష ఆంధ్రప్రదేశ్ రాష్ట్రం తన రాష్ట్ర చిహ్నాలను ప్రకటించింది మరియు \_\_\_\_\_ ను రాష్ట్ర పుష్పంగా స్వీకరించింది.

Options :

Lily

1. ✖ లిల్లీ



Jasmine

2. ✓ మల్లె

Lotus

3. ✘ కమలం

Tangidi Puvvu

4. ✘ తంగిడి పువ్వు

Question Number : 108 Question Id : 716447108 Question Type : MCQ Option Shuffling : Yes Negative Marks Display Text : 1/3 Correct Marks : 1 Wrong Marks : 0.33

During his regime, Chandrababu Naidu, the first CM of the residual state of Andhra Pradesh, held a week-long programme or a pledge to rebuild a new state all over the state, where he made people take a vow to build a new and developed Andhra Pradesh. What was the name of the programme?

తన పాలనలో, ఆంధ్రప్రదేశ్ రాష్ట్రానికి మొదటి సీఎం (ముఖ్యమంత్రి) అయిన చంద్రబాబు నాయుడు, వారమంతా ఒక కార్యక్రమం లేదా రాష్ట్రమంతటా కోత్ర రాష్ట్రాన్ని పునర్నిర్మించాలన్న ప్రతిజ్ఞను నిర్వహించారు, అక్కడ ప్రజలతో నూతన మరియు అభివృద్ధి చెందిన ఆంధ్రప్రదేశ్ కోరకు ప్రతిజ్ఞ చేయించుకున్నారు. ఆ కార్యక్రమం పేరు ఏమిటి?

Options :

Swachhata Hi Seva

1. ✘ స్వచ్ఛతా హి సేవా

Abhivruddhi Karyakaram

2. ✘ అభివృద్ధి కార్యక్రమం

Purogati Abhiyaan

3. ✘ పురోగతి అభియాన్

Nava Nirmana Deeksha

4. ✓ నవ నిర్మాణ దీక్ష

Question Number : 109 Question Id : 716447109 Question Type : MCQ Option Shuffling : Yes Negative Marks Display Text : 1/3 Correct Marks : 1 Wrong Marks : 0.33

\_\_\_\_\_ is one of the key initiatives undertaken by the residual state of Andhra Pradesh which is believed to attract investment of close to \$17 billion, and will create 20,000 jobs.

\$ 17 బిలియన్ల పెట్టుబడులను ఆకర్షిస్తుందని మరియు 20,000 ఉద్యోగాలను సృష్టిస్తుందని విశ్వసించిన అవశేష ఆంధ్రప్రదేశ్ రాష్ట్రం చేపట్టిన కీలక కార్యక్రమాలలో ఒకటి \_\_\_\_\_.

Options :

Construction of Amaravati as State Capital

1. ✘ అమరావతిని రాష్ట్ర రాజధానిగా నిర్మించడం

Vizag-Chennai Industrial Corridor

2. ✔ వైజాగ్-చెన్నై ఇండస్ట్రియల్ కారిడార్

Indira Sagar Polavaram Irrigation project

3. ✘ ఇందిరా సాగర్ పోలవరం నీటిపారుదల ప్రాజెక్టు

Andhra Pradesh Housing Project

4. ✘ ఆంధ్రప్రదేశ్ హౌసింగ్ ప్రాజెక్ట్

Question Number : 110 Question Id : 716447110 Question Type : MCQ Option Shuffling : Yes Negative Marks Display Text : 1/3 Correct Marks : 1 Wrong Marks : 0.33

Name the person who succeeded Narasimhan as the Governor of the residual state of Andhra Pradesh after the bifurcation.

నరసింహన్ తరువాతి అవశేష ఆంధ్రప్రదేశ్ రాష్ట్ర గవర్నర్‌గా ఉన్న వ్యక్తి:

Options :

Chandrababu Naidu

1. ✘ చంద్రబాబు నాయుడు

YS Jagan Mohan

2. ✘ వై.ఎస్ జగన్ మోహన్

Biswa Bhushan Harichandan

3. ✔ బిస్వాభూషణ్ హరిచందన్

4. ✖ కె చంద్ర శేఖర్ రావు

Sub-Section Number: 2  
Sub-Section Id: 7164478  
Question Shuffling Allowed : Yes

Question Number : 111 Question Id : 716447111 Question Type : MCQ Option Shuffling : Yes Negative Marks Display Text : 1/3  
Correct Marks : 1 Wrong Marks : 0.33

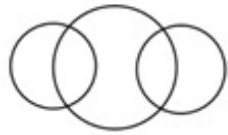
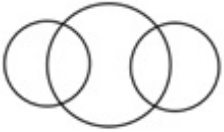
Which of the given diagrams correctly represents the relationship between the given classes?

Juice, Apple Juice, Fruit Juice

ఇచ్చిన వేన్ చిత్రాలలో ఏది ఇచ్చిన తరగతుల మధ్య సంబంధాన్ని సరిగ్గా సూచిస్తుంది?

జ్యూస్, ఆపిల్ జ్యూస్, ఫ్రూట్ జ్యూస్

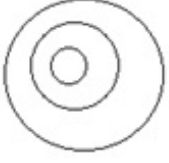
Options :



1. ✖



2. ✖



3. ✓



4. ✘

Question Number : 112 Question Id : 716447112 Question Type : MCQ Option Shuffling : Yes Negative Marks Display Text : 1/3 Correct Marks : 1 Wrong Marks : 0.33

If every 3<sup>rd</sup> letter from left to right of the English alphabet is deleted, then what would be the 10<sup>th</sup> letter from right in the new series obtained?

ఆంగ్ల వర్ణమాలలో ఎడమ నుండి కుడికి ప్రతి 3వ అక్షరం తొలగించబడితే, పొందిన కొత్త శ్రేణిలో కుడి నుండి 10వ అక్షరం ఏమిటి?

Options :

M

1. ✓ M

N

2. ✘ N

P

3. ✘ P

K

4. ✘ K

Question Number : 113 Question Id : 716447113 Question Type : MCQ Option Shuffling : Yes Negative Marks Display Text : 1/3



Correct Marks : 1 Wrong Marks : 0.33

Four words have been given out of which three are alike in some manner, while the fourth one is different. Choose out the odd one.

ఇచ్చిన నాలుగు పదాలలో మూడు ఏదో ఒక రకంగా ఒకేలా ఉంటాయి, కాగా నాలుగవది భిన్నంగా ఉంటుంది. భిన్నంగా ఉన్నదానిని ఎంచుకోండి.

Options :

Yemen

1. ✘ యెమెన్

China

2. ✘ చైనా

Egypt

3. ✘ ఈజిప్ట్

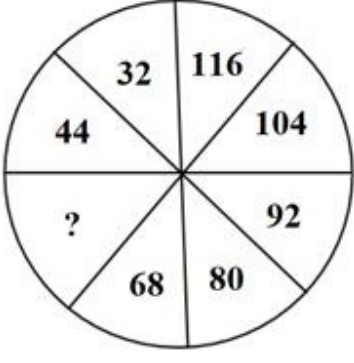
Dirham

4. ✔ దిర్హం

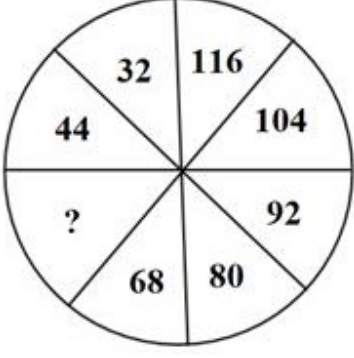
Question Number : 114 Question Id : 716447114 Question Type : MCQ Option Shuffling : Yes Negative Marks Display Text : 1/3

Correct Marks : 1 Wrong Marks : 0.33

Study the given pattern carefully and select the number that can replace the question mark (?) in it.



ఇచ్చిన క్రమాన్ని నిశితంగా అధ్యయనం చేసి అందులోని ప్రస్ఫార్థకం (?) గుర్తును భర్తీ చేయు సంఖ్యను ఎంచుకోండి.



Options :

56

1. ✓ 56

86

2. ✗ 86

82

3. ✗ 82

78

4. ✗ 78

Question Number : 115 Question Id : 716447115 Question Type : MCQ Option Shuffling : Yes Negative Marks Display Text : 1/3 Correct Marks : 1 Wrong Marks : 0.33

Read the given statement and conclusions carefully and decide which of the conclusions logically follow(s) from the statement.

**Statement:**

Though Michael does not like to recite poems, he recited 'The Ancient Mariner' at our office party last night.

**Conclusion:**

I. Michael is a shy person.

II. 'The Ancient Mariner' is a poem.

ఇచ్చిన ప్రకటన మరియు ప్రతిపాదనలను జాగ్రత్తగా చదవండి మరియు ప్రకటన నుండి ఏ ప్రతిపాదనలు తార్కికంగా అనుసరిస్తాయో నిర్ణయించండి.

**ప్రకటన:**

మైఖేల్ కు కవితలు చదవడం ఇష్టం లేకపోయినప్పటికీ, నిన్న రాత్రి మా ఆఫీసు పార్టీలో 'ది ఏన్సియంట్ మెరైనర్' ను చదివాడు.

**ప్రతిపాదన:**

I. మైఖేల్ ఒక సిగ్గరి.

II. 'ది ఏన్సియంట్ మెరైనర్' అనేది ఒక కవిత.

**Options :**

Only conclusion I follows

1. ✘ ప్రతిపాదన I మాత్రమే అనుసరిస్తుంది

Only conclusion II follows

2. ✔ ప్రతిపాదన II మాత్రమే అనుసరిస్తుంది

Both conclusions I and II follow

3. ✘ ప్రతిపాదనలు I మరియు II రెండు అనుసరిస్తాయి

Neither conclusion I nor II follows

4. ✘ ప్రతిపాదనలు I లేదా II ఏదీ అనుసరించవు

In a certain language, the code for 'DUST' is '@ % A \$', the code for 'TOLD' is '# @ \$ B' and the code for 'SAR' is '% \* F'.

What will be the code for 'DART'?

ఒక ప్రత్యేకమైన భాషలో, 'DUST' యొక్క కోడ్ '@ % A \$', 'TOLD' యొక్క కోడ్ '# @ \$ B' మరియు 'SAR' యొక్క కోడ్ '% \* F'.

అప్పుడు 'DART' యొక్క కోడ్ ఏమవుతుంది?

Options :

\* F @ \$

1. ✓ \* F @ \$

% @ \* \$

2. ✘ % @ \* \$

B F # %

3. ✘ B F # %

@ \* \$ B

4. ✘ @ \* \$ B

Question Number : 117 Question Id : 716447117 Question Type : MCQ Option Shuffling : Yes Negative Marks Display Text : 1/3  
Correct Marks : 1 Wrong Marks : 0.33

Select the number that will come next in the given series.

702, 350, 174, 86, 42, ?

ఇచ్చిన శ్రేణిలో తదుపరి వచ్చు సంఖ్యను ఎంచుకోండి.

702, 350, 174, 86, 42, ?

Options :

15

1. ✘ 15

12

2. ✘ 12



17

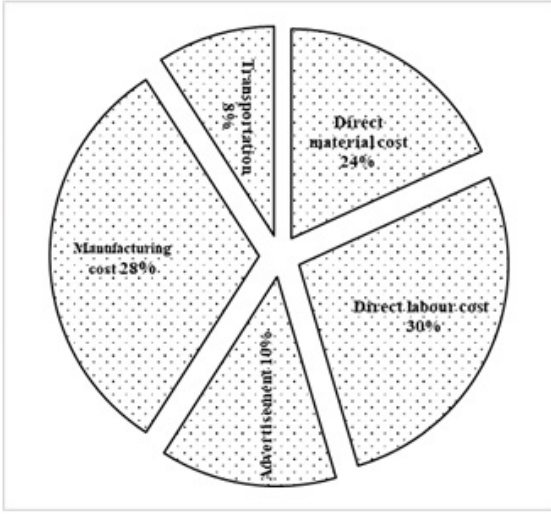
3. ✖ 17

20

4. ✔ 20

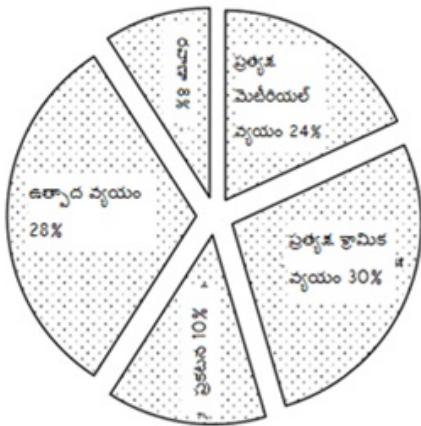
Question Number : 118 Question Id : 716447118 Question Type : MCQ Option Shuffling : Yes Negative Marks Display Text : 1/3 Correct Marks : 1 Wrong Marks : 0.33

The given pie chart shows the percentage distribution of the expenditure incurred in manufacturing power banks. Study the pie chart and answer the following question.



If 8,000 power banks are manufactured and their direct labor cost amounts to \$10,000, then what should be the selling price of each power bank so that the manufacturer can earn a profit of 20%?

ఇచ్చిన 'పై చార్టు' పవర్ బ్యాంకులపై ఖర్చు చేసిన పంపిణీ శాతాన్ని చూపుతుంది. 'పై చార్టు'ను అధ్యయనం చేసి క్రింది ప్రశ్నకు సమాధానం ఇవ్వండి.



8,000 పవర్ బ్యాంకులు తయారు చేయబడి, వాటి ప్రత్యక్ష కార్మిక వ్యయం \$ 10,000 అయితే, తయారీదారు 20% లాభం పొందగలిగేలా ప్రతి పవర్ బ్యాంక్ యొక్క అమ్మకపు ధర ఎంత ఉండాలి?

Options :

5

1. ✓ 5

8

2. ✖ 8

10

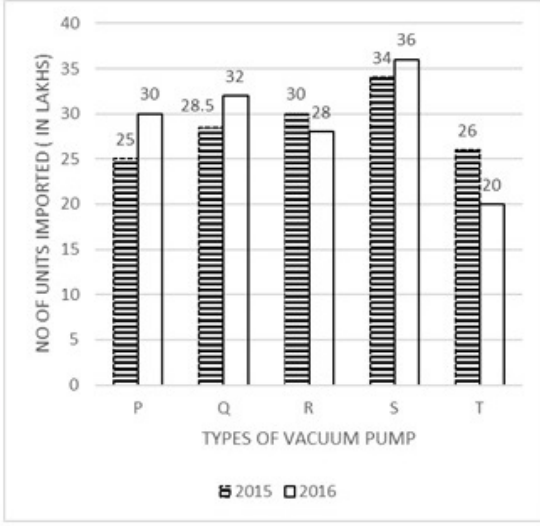
3. ✖ 10

20

4. ✖ 20

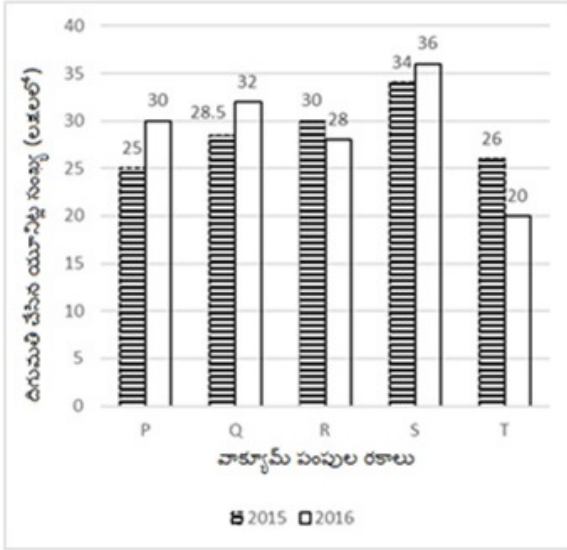
Question Number : 119 Question Id : 716447119 Question Type : MCQ Option Shuffling : Yes Negative Marks Display Text : 1/3  
Correct Marks : 1 Wrong Marks : 0.33

The given bar graph shows the total number of different types of vacuum pumps P, Q, R, S and T (in lakh) imported by a company in 2015 and 2016. Study the graph carefully and answer the following question.



Which of the following types of vacuum pumps imported from 2015 to 2016 has the second maximum percentage change (increase or decrease)?

ఇచ్చిన బార్ గ్రాఫ్ 2015 మరియు 2016 లో ఒక సంస్థ దిగుమతి చేసుకున్న వివిధ రకాల వాక్యూమ్ పంపులు P, Q, R, S మరియు T ల మొత్తం సంఖ్యని(లక్షల్లో) చూపిస్తుంది. గ్రాఫ్ను జాగ్రత్తగా అధ్యయనం చేసి క్రింది ప్రశ్నకు సమాధానం ఇవ్వండి.



2015 నుండి 2016 వరకు దిగుమతి చేసుకున్న వాక్యూమ్ పంపులలో కింది వాటిలో ఏది రెండవ గరిష్ట మార్పు శాతం (పెరుగుదల లేదా తగ్గుదల)ను కలిగి ఉంది?

Options :

P

1. ✓ P

Q

2. ✗ Q

R

3. ✖ R

T

4. ✖ T

Question Number : 120 Question Id : 716447120 Question Type : MCQ Option Shuffling : Yes Negative Marks Display Text : 1/3 Correct Marks : 1 Wrong Marks : 0.33

Which of the given figures is different from the rest?



FIGURE 1

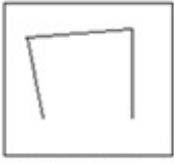


FIGURE 2



FIGURE 3

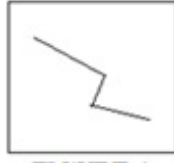
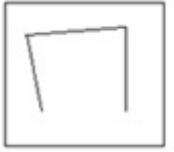


FIGURE 4

ఇవ్వబడిన చిత్రాలలో మిగిలిన వాటికి భిన్నంగా ఉన్న చిత్రం ఏది?



చిత్రం 1



చిత్రం 2



చిత్రం 3



చిత్రం 4

Options :

Figure 1

1. ✖ చిత్రం 1

Figure 2

2. ✖ చిత్రం 2

Figure 3

3. ✔ చిత్రం 3

Figure 4

4. ✖ చిత్రం 4

Question Number : 121 Question Id : 716447121 Question Type : MCQ Option Shuffling : Yes Negative Marks Display Text : 1/3 Correct Marks : 1 Wrong Marks : 0.33



In the given table, the number of vacancies (in thousand numbers) of a certain post in three different states A, B and C over the years 2015 to 2018 is shown. Study the table carefully and answer the following question.

Years \ States	2015	2016	2017	2018
A	7	8	7.2	6.8
B	5.7	7	6.5	8
C	5.6	6.2	5	5.2

What is the average number of vacancies (In thousands) in state A in all the years together?

ఇచ్చిన పట్టికలో, 2015, 2018 సంవత్సరాల్లో మూడు వేర్వేరు రాష్ట్రాలైన A, B మరియు C లలో ఒక నిర్దిష్ట పోస్టు యొక్క ఖాళీల సంఖ్య (వెయ్యి సంఖ్యలలో) చూపబడింది. పట్టికను జాగ్రత్తగా అధ్యయనం చేసి, క్రింది ప్రశ్నకు సమాధానం ఇవ్వండి.

సంవత్సరాలు \ రాష్ట్రాలు	2015	2016	2017	2018
A	7	8	7.2	6.8
B	5.7	7	6.5	8
C	5.6	6.2	5	5.2

అన్ని సంవత్సరాల్లో కలిపి రాష్ట్రం A లో గల ఖాళీల సగటు సంఖ్య (వేలలో) ఎంత?

- Options :
- 5500
1. ✘ 5500
- 7250
2. ✔ 7250
- 7500
3. ✘ 7500
- 6500
4. ✘ 6500

In the given table, production of oats (in tons) of three different states A, B, C over the years 2016 to 2019 is shown.

Years \ States	2016	2017	2018	2019
A	3	4.2	5.3	4.8
B	5	5.4	4	5.6
C	7.1	5.3	7	8.6

What is the average production of oats (in tons) by state C in all the years together?

ఇచ్చిన పట్టికలో, 2016 నుండి 2019 సంవత్సరాల్లో A, B, C అనే మూడు వేర్వేరు రాష్ట్రాల ఓట్స్ ఉత్పత్తి(టన్నులలో) చూపబడింది.

సంవత్సరాలు \ రాష్ట్రాలు	2016	2017	2018	2019
A	3	4.2	5.3	4.8
B	5	5.4	4	5.6
C	7.1	5.3	7	8.6

అన్ని సంవత్సరాల్లో కలిపి రాష్ట్రం C చే పొందిన ఓట్స్ యొక్క సగటు ఉత్పత్తి(టన్నులలో) ఎంత?

Options :

7 tons

1. ✓ 7 టన్నులు

6 tons

2. ✘ 6 టన్నులు

5 tons

3. ✘ 5 టన్నులు

4 tons

4. ✘ 4 టన్నులు

There are 20 passengers in a public bus. The given table shows the number of passengers in the public bus and their corresponding weights.

<b>No. of passengers</b>	4	6	2	5	3
<b>Weight (in kg)</b>	800	650	750	780	720

What is the average weight of all the 20 passengers?

ఒక పబ్లిక్ బస్సులో 20 మంది ప్రయాణీకులు ఉన్నారు. ఇచ్చిన పట్టిక ఆ పబ్లిక్ బస్సులోని ప్రయాణీకుల సంఖ్య మరియు వారికి సంబంధించిన బరువులు చూపిస్తుంది.

<b>ప్రయాణీకుల సంఖ్య</b>	4	6	2	5	3
<b>బరువు (kg లో)</b>	800	650	750	780	720

Options :

707 kg

1. ✖ 707 kg

733 kg

2. ✔ 733 kg

750 kg

3. ✖ 750 kg

720 kg

4. ✖ 720 kg

Question Number : 124 Question Id : 716447124 Question Type : MCQ Option Shuffling : Yes Negative Marks Display Text : 1/3 Correct Marks : 1 Wrong Marks : 0.33

In the given table, the production of oranges (in tons) of three different states X, Y and Z over the years 2016 to 2019 is shown.

Years \ States	2016	2017	2018	2019
X	30	42	53	48
Y	50	54	40	56
Z	35	43	50	56

What is the difference between the total production of oranges (in tons) of all the three states X, Y and Z together in 2017 and in 2019, respectively?

ఇచ్చిన పట్టికలో, 2016 నుండి 2019 వరకు మూడు వేర్వేరు రాష్ట్రాలైన X, Y మరియు Z యొక్క నారింజ ఉత్పత్తి (టన్నులలో) చూపబడింది.

సంవత్సరాలు \ రాష్ట్రాలు	2016	2017	2018	2019
X	30	42	53	48
Y	50	54	40	56
Z	35	43	50	56

వరుసగా 2017 మరియు 2019 లో X, Y మరియు Z అనే మూడు రాష్ట్రాల మొత్తం నారింజ ఉత్పత్తి (టన్నులలో) లో వ్యత్యాసం ఎంత?

Options :

21 tons

1. ✓ 21 టన్నులు

45 tons

2. ✘ 45 టన్నులు

36 tons

3. ✘ 36 టన్నులు

48 tons

4. ✘ 48 టన్నులు



The given table shows the classification of 100 students based on the marks obtained by them in Mathematics and English in an examination. Study the table and answer the following question.

Marks out of 50 Subject	40 and above	30 and above	20 and above	0 and above
Mathematics	10	34	70	75
English	15	42	75	80

What is the difference between the number of students who passed with 30 as cut-off marks in Mathematics and those who passed with 20 as cut-off marks in English?

ఇచ్చిన పట్టిక 100 మంది విద్యార్థులు ఒక పరీక్షలో మ్యాథమాటిక్స్ మరియు ఇంగ్లీష్ లో పొందిన మార్కుల ఆధారంగా వర్గీకరణను చూపుతుంది. పట్టికను అధ్యయనం చేసి, క్రింది ప్రశ్నకు సమాధానం ఇవ్వండి.

50 మార్కులకు సట్టిక్టు	40 మరియు పైన	30 మరియు పైన	20 మరియు పైన	0 మరియు పైన
మ్యాథమాటిక్స్	10	34	70	75
ఇంగ్లీష్	15	42	75	80

మ్యాథమాటిక్స్ లో కట్ ఆఫ్ మార్కులుగా 30 తో ఉత్తీర్ణులైన విద్యార్థుల సంఖ్యకు, ఇంగ్లీషులో కట్ ఆఫ్ మార్కులుగా 20 తో ఉత్తీర్ణులైన వారి సంఖ్యకు వ్యత్యాసం ఎంత?

Options :

8

1. ✘ 8

33

2. ✘ 33

46

3. ✘ 46

41

4. ✔ 41

In the given table, the number of vacancies (in thousand numbers) of a certain post in three different states A, B and C over the years 2015 to 2018 is shown. Study the table and answer the following question.

Years States	2015	2016	2017	2018
A	5.6	7.8	6.2	7
B	5.8	6.2	5	5.2
C	6.4	6.2	5.8	5.6

What is the average number of vacancies of the post in state B in all the years together?

ఇచ్చిన పట్టికలో, 2015, 2018 సంవత్సరాల్లో మూడు వేర్వేరు రాష్ట్రాలు A, B మరియు C లలో ఒక నిర్దిష్ట పోస్టు యొక్క ఖాళీల సంఖ్య (వెయ్యి సంఖ్యలలో) చూపబడింది. పట్టికను అధ్యయనం చేసి, క్రింది ప్రశ్నకు సమాధానం ఇవ్వండి.

సంవత్సరాలు రాష్ట్రాలు	2015	2016	2017	2018
A	5.6	7.8	6.2	7
B	5.8	6.2	5	5.2
C	6.4	6.2	5.8	5.6

అన్ని సంవత్సరాల్లో కలిపి రాష్ట్రం B లో ఖాళీ పోస్టుల సగటు సంఖ్య ఎంత?

Options :

5550

1. ✓ 5550

7050

2. ✗ 7050

1200

3. ✗ 1200

6000

4. ✗ 6000

In the given table the production of semolina (in tons) of three different states A, B and C over the years 2015 to 2018 is shown. Study the table and answer the following question.

Years States	2015	2016	2017	2018
A	6	8.35	6.3	7
B	6.4	6.2	6	5.2
C	6.4	6	7.2	5.6

What is the approximate percentage increase in the production of semolina in state A in the year 2018 in comparison with 2015?

ఇచ్చిన పట్టికలో 2015 నుండి 2018 సంవత్సరాల్లో A, B మరియు C అనే మూడు వేర్వేరు రాష్ట్రాల సెమోలినా (రవ్వ) ఉత్పత్తి (టన్నులలో) చూపబడింది. పట్టికను అధ్యయనం చేసి, క్రింది ప్రశ్నకు సమాధానం ఇవ్వండి.

సంవత్సరం రాష్ట్రాలు	2015	2016	2017	2018
A	6	8.35	6.3	7
B	6.4	6.2	6	5.2
C	6.4	6	7.2	5.6

2015 తో పోల్చితే 2018 సంవత్సరంలో రాష్ట్రం A లో సెమోలినా (రవ్వ) ఉత్పత్తిలో పెరుగుదల శాతం సుమారుగా ఎంత?

Options :

16.6%

1. ✓ 16.6%

25%

2. ✗ 25%

10.5%

3. ✗ 10.5%

30%

4. ✗ 30%

The given table shows the number of unemployed people who applied for a job in five different companies A, B, C, D and E and those who were selected. Study the table carefully and answer the following question.

Company	Applied	Selected
A	1000	800
B	1200	950
C	1500	1250
D	1100	900
E	900	650

In which of the following companies was there a maximum percentage of selection?

ఇచ్చిన పట్టిక A, B, C, D మరియు E అనే ఐదు వేర్వేరు కంపెనీలలో ఉద్యోగం కోసం దరఖాస్తు చేసుకున్న నిరుద్యోగుల సంఖ్య మరియు ఎంపికైన వారి సంఖ్య చూపిస్తుంది. పట్టికను జాగ్రత్తగా అధ్యయనం చేసి, క్రింది ప్రశ్నకు సమాధానం ఇవ్వండి.

కంపెనీ	దరఖాస్తు చేసుకున్నవారు	ఎంపికైన వారు
A	1000	800
B	1200	950
C	1500	1250
D	1100	900
E	900	650

కింది కంపెనీలలో దేనిలో గరిష్ట ఎంపిక శాతం ఉన్నది?

Options :

B

1. ✘ B

C

2. ✔ C

D

3. ✘ D

E

4. ✘ E



The following table shows the expenditure of a company (in Lakh) Per year over the given years.

Years	Items of expenditure				
	Salary	Fuel and transport	Interest on loans	Taxes	Bonus
2014	315	95	3.2	25	48
2015	380	100	3	28.5	50
2016	410	110	2.5	32	40
2017	370	102	3.9	30	46
2018	400	130	4.2	28	52
2019	450	142	4.4	34	54

The total expenditure on all these items in 2016 was approximately what per cent of the total expenditure in 2018?

క్రింది పట్టిక కొన్ని సంవత్సరాల్లో ప్రతి సంవత్సరానికి ఒక సంస్థ వ్యయాన్ని (లక్షలలో) చూపుతుంది.

సంవత్సరాలు	వ్యయ అంశాలు				
	జీతం	ఘ్యాయల్ మరియు రవాణా	రుణాలపై వడ్డీ	ట్యాక్సులు	బోనస్
2014	315	95	3.2	25	48
2015	380	100	3	28.5	50
2016	410	110	2.5	32	40
2017	370	102	3.9	30	46
2018	400	130	4.2	28	52
2019	450	142	4.4	34	54

2016 లో ఈ వస్తువులన్నింటికీ మొత్తం వ్యయం 2018 లోని మొత్తం వ్యయంలో ఎంత శాతం?

Options :

78.3%

1. ✘ 78.3%

85.5%

2. ✘ 85.5%

96.8%

3. ✔ 96.8%

95%

4. ✖ 95%

Question Number : 130 Question Id : 716447130 Question Type : MCQ Option Shuffling : Yes Negative Marks Display Text : 1/3 Correct Marks : 1 Wrong Marks : 0.33

Study the given table carefully and answer the following question.

Number of students who appeared for a railway exam from five different states of India.

States Years	A.P	U.P	M.P	Punjab	Kerala
2012	410	300	250	280	440
2013	500	400	280	320	400
2014	450	450	240	260	350
2015	320	500	400	400	380
2016	500	430	540	350	420

What is the ratio of the total number of students who appeared for the railway exam in 2013 and 2014 together from A.P to the total number of students who appeared in 2013 and 2014 together in Kerala?

ఇచ్చిన పట్టికను జాగ్రత్తగా అధ్యయనం చేసి, కింది ప్రశ్నకు సమాధానం ఇవ్వండి.

భారతదేశంలోని ఐదు వేర్వేరు రాష్ట్రాల నుండి రైల్వే పరీక్షకు హాజరైన విద్యార్థుల సంఖ్య ఇవ్వబడినది.

రాష్ట్రాలు సంవత్సరాలు	ఎ.పి	యు.పి	యం.పి	పంజాబ్	కేరళ
2012	410	300	250	280	440
2013	500	400	280	320	400
2014	450	450	240	260	350
2015	320	500	400	400	380
2016	500	430	540	350	420

2013 మరియు 2014 సంవత్సరాల్లో కలిపి A.P నుండి రైల్వే పరీక్షకు హాజరైన మొత్తం విద్యార్థుల సంఖ్యకు, 2013 మరియు 2014 లో కలిపి కేరళలో హాజరైన మొత్తం విద్యార్థుల సంఖ్యకు గల నిష్పత్తి ఎంత?

Options :

12 : 13

1. ✖ 12 : 13

19 : 15

2. ✓ 19 : 15

1 : 3

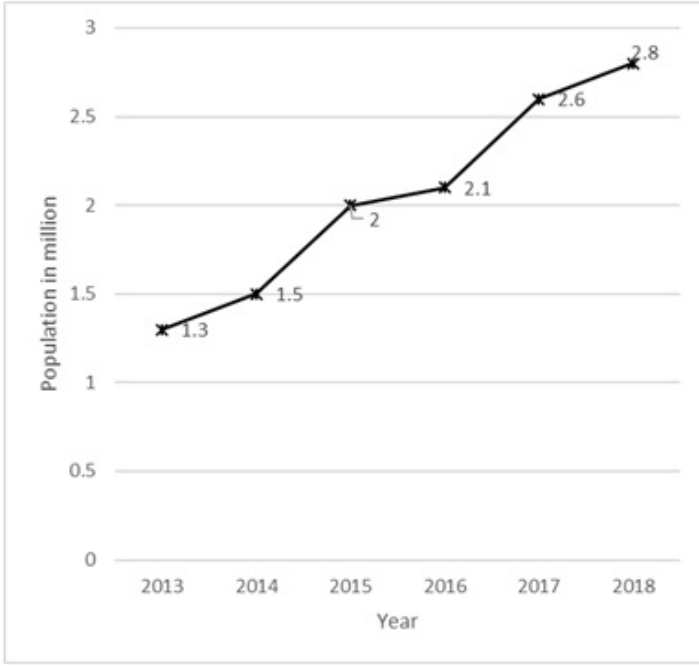
3. ✖ 1 : 3

1 : 1

4. ✖ 1 : 1

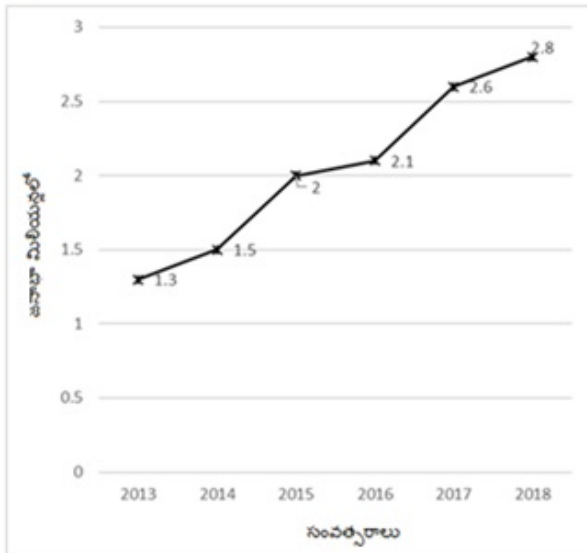
Question Number : 131 Question Id : 716447131 Question Type : MCQ Option Shuffling : Yes Negative Marks Display Text : 1/3 Correct Marks : 1 Wrong Marks : 0.33

The given line graph represents the population (in millions) of 'Inhambane' in each year from 2013 to 2018.



What is the approximate percentage increase in the population of Inhambane from 2013 to 2016?

ఇచ్చిన లైన్ గ్రాఫ్ 2013 నుండి 2018 వరకు ప్రతి సంవత్సరం 'ఇన్హాంబెన్' యొక్క జనాభాను (మిలియన్లలో) సూచిస్తుంది.



2013 నుండి 2016 వరకు ఇన్హాంబెన్ జనాభాలో పెరుగుదల శాతం సుమారుగా ఎంత?

Options :

100%

1. ✖ 100%

61.5%

2. ✔ 61.5%

86.6%

3. ✖ 86.6%

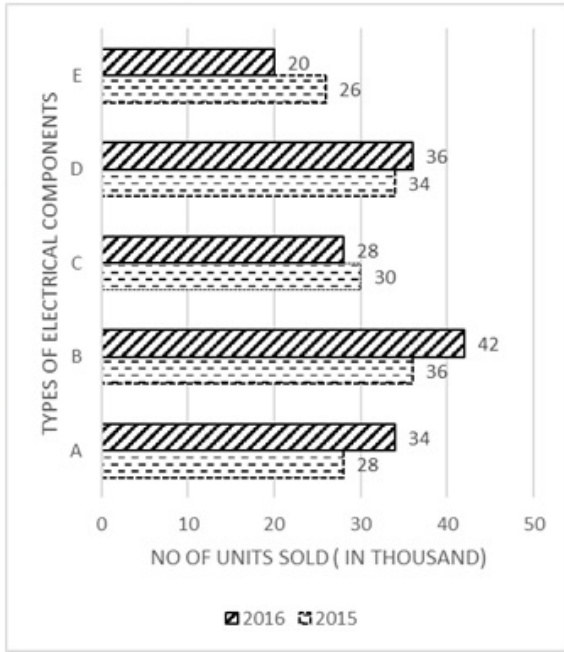
90.5%

4. ✖ 90.5%

Question Number : 132 Question Id : 716447132 Question Type : MCQ Option Shuffling : Yes Negative Marks Display Text : 1/3  
Correct Marks : 1 Wrong Marks : 0.33

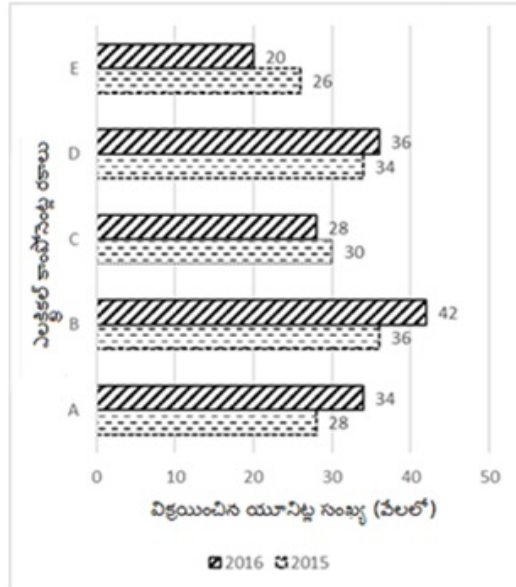


The given bar graph shows the total number of different types of electrical components A, B, C, D and E (in thousands) sold by a company in 2015 and 2016. Study the graph carefully and answer the following question.



The number of type A electrical components sold in 2016 was approximately how much percentage of type C electrical components sold in the same year?

ఇచ్చిన బార్ గ్రాఫ్ 2015 మరియు 2016 లో ఒక సంస్థ విక్రయించిన వివిధ రకాలైన ఎలక్ట్రికల్ కాంపోనెంట్లు A, B, C, D మరియు E లను (వేలల్లో) చూపిస్తుంది. గ్రాఫ్ను జాగ్రత్తగా అధ్యయనం చేసి క్రింది ప్రశ్నకు సమాధానం ఇవ్వండి.



2016 లో విక్రయించిన A రకం ఎలక్ట్రికల్ కాంపోనెంట్ల సంఖ్య అదే సంవత్సరంలో అమ్ముడైన C రకం ఎలక్ట్రికల్ కాంపోనెంట్లలో ఎంత శాతం?

Options :

121.5%

1. ✓ 121.5%

150%

2. ✖ 150%

161.5%

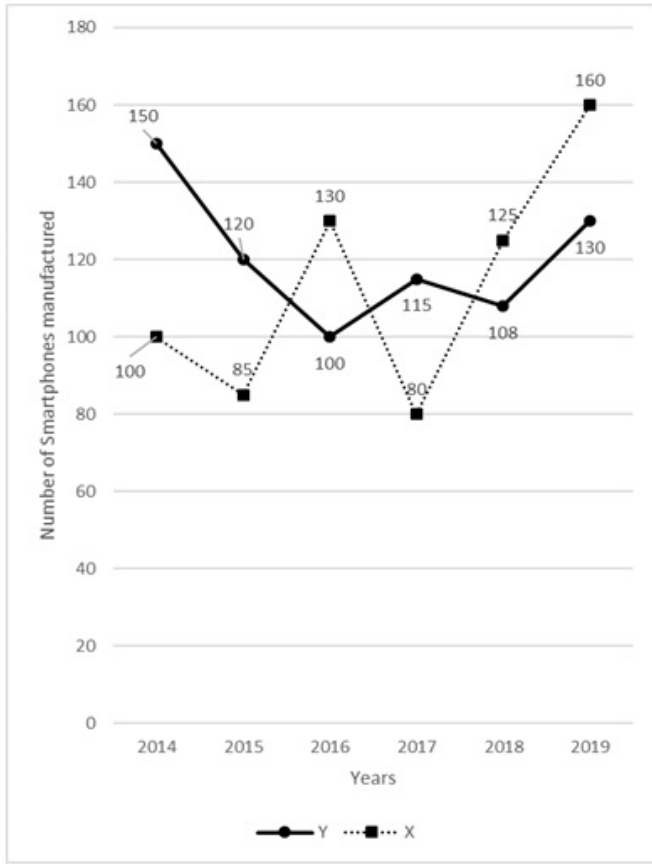
3. ✖ 161.5%

200%

4. ✖ 200%

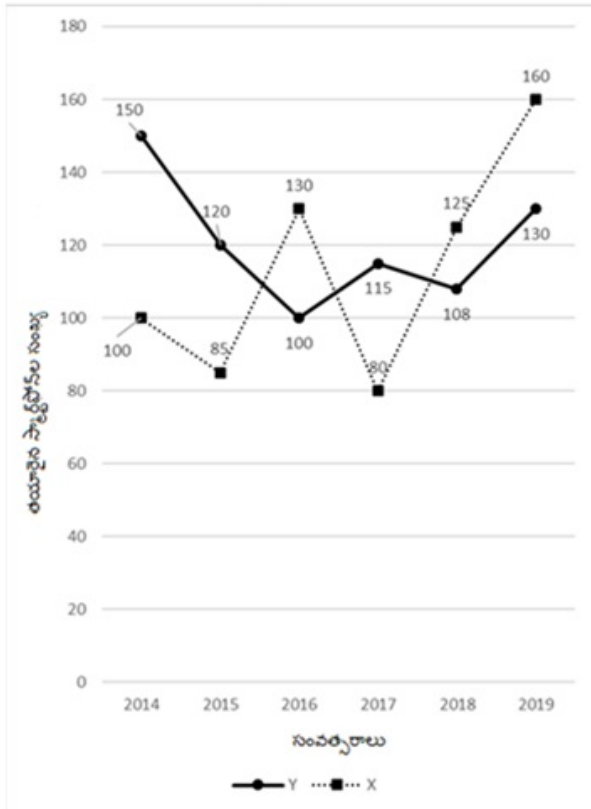
Question Number : 133 Question Id : 716447133 Question Type : MCQ Option Shuffling : Yes Negative Marks Display Text : 1/3  
Correct Marks : 1 Wrong Marks : 0.33

The given line graph shows the number of smartphones manufactured by two different companies X and Y from 2014 to 2019. Study the graph and answer the following question.



For all the given years in the figure, how many smartphones were manufactured in total by both the companies?

ఇచ్చిన లైన్ గ్రాఫ్ 2014 నుండి 2019 వరకు రెండు వేర్వేరు కంపెనీలు X మరియు Y ఆయారు చేసిన స్మార్ట్ఫోన్ల సంఖ్యను చూపుతుంది. గ్రాఫ్ను అధ్యయనం చేసి క్రింది ప్రశ్నకు సమాధానం ఇవ్వండి.



చిత్రంలో ఇచ్చిన అన్ని సంవత్సరాల్లో కలిపి, రెండు కంపెనీలు మొత్తం ఎన్ని స్మార్ట్ఫోన్లను ఆయారు చేశాయి?

Options :

1403

1. ✓ 1403

1836

2. ✘ 1836

1000


3. ✘ 1000

1286

4. ✘ 1286

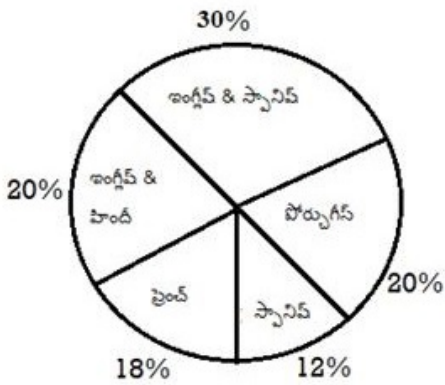
Question Number : 134 Question Id : 716447134 Question Type : MCQ Option Shuffling : Yes Negative Marks Display Text : 1/3 Correct Marks : 1 Wrong Marks : 0.33

The given pie chart shows the percentage distribution of 300 students from different part of the world, speaking different languages. How many students speak French as one of their languages?



ఇచ్చిన 'పై చార్ట్' ప్రపంచంలోని వివిధ ప్రాంతాల నుండి వివిధ భాషలను మాట్లాడే 300 మంది విద్యార్థుల పంపిణీ శాతాన్ని చూపిస్తుంది.

ఎంత మంది విద్యార్థులు ఆమ భాషలలో ఒకటిగా ఫ్రెంచ్ మాట్లాడతారు?



Options :



54

1. ✓ 54

60

2. ✖ 60

50

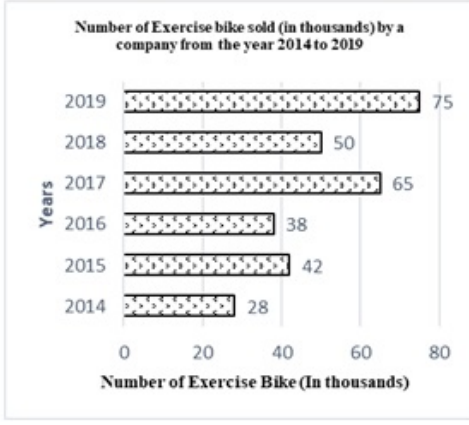
3. ✖ 50

85

4. ✖ 85


Question Number : 135 Question Id : 716447135 Question Type : MCQ Option Shuffling : Yes Negative Marks Display Text : 1/3  
Correct Marks : 1 Wrong Marks : 0.33

Study the following bar chart carefully and answer the given question.



The number of Exercise bike sold in 2015 is approximately what percent of the number of exercise bike sold in 2019?

కింది బార్ చార్టును జాగ్రత్తగా అధ్యయనం చేసి, ఇచ్చిన ప్రశ్నకు సమాధానం ఇవ్వండి.



2015 లో విక్రయించిన ఎక్సర్సైజ్ బైకుల సంఖ్య 2019 లో అమ్మబడిన ఎక్సర్సైజ్ బైకుల సంఖ్యలో దాదాపు ఎంత శాతం?

Options :

60%

1. ✖ 60%

42%

2. ✖ 42%

30%

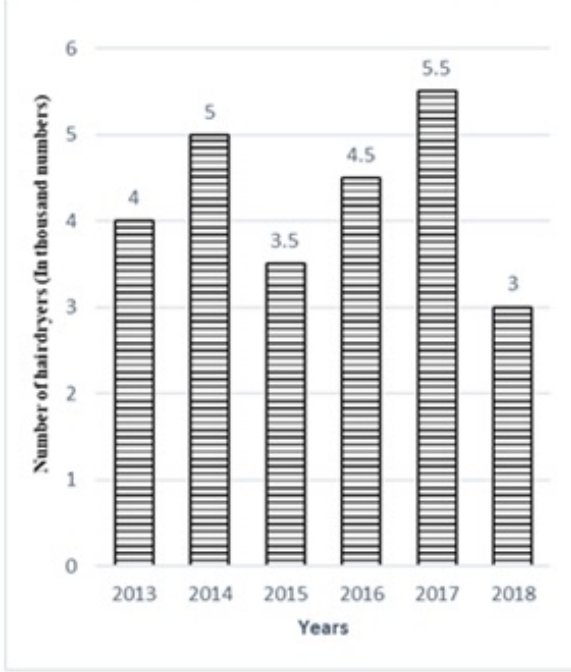
3. ✖ 30%

56%

4. ✓ 56%

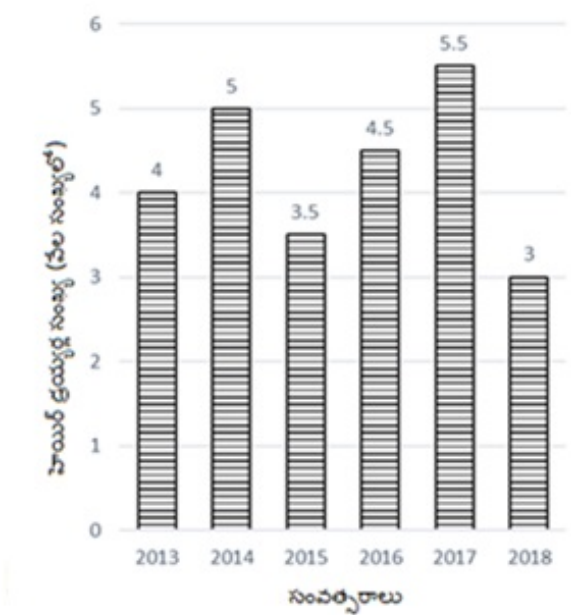
Question Number : 136 Question Id : 716447136 Question Type : MCQ Option Shuffling : Yes Negative Marks Display Text : 1/3 Correct Marks : 1 Wrong Marks : 0.33

Study the given bar chart carefully and answer the following question.



Find the difference between the sales of hairdryers in the years 2013 and 2018.

ఇచ్చిన బార్ చార్టును జాగ్రత్తగా అధ్యయనం చేసి, కింది ప్రశ్నకు సమాధానం ఇవ్వండి.



2013 మరియు 2018 సంవత్సరాల్లో హెయిర్ డ్రయింగ్ అమ్మకాల మధ్య వ్యత్యాసాన్ని కనుగొనండి.

Options :

5000

1. ✖ 5000

1000

2. ✔ 1000

500

3. ✖ 500

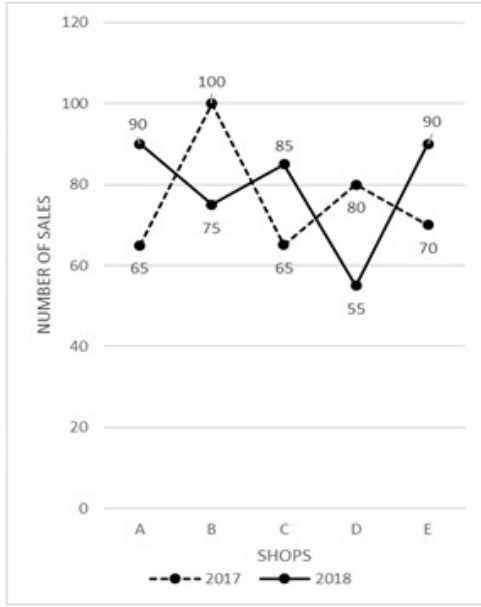
50

4. ✖ 50

Question Number : 137 Question Id : 716447137 Question Type : MCQ Option Shuffling : Yes Negative Marks Display Text : 1/3  
Correct Marks : 1 Wrong Marks : 0.33

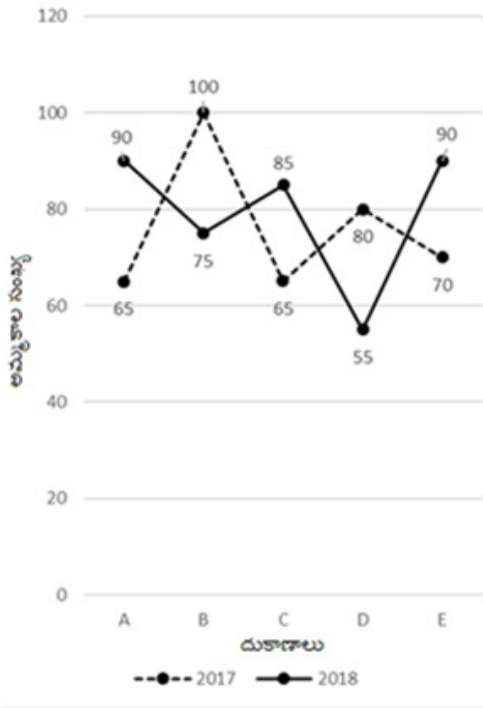


The given line graph shows the sales of massage machines from five different shops A, B, C, D and E in the years 2017 and 2018.



What are the total sales from the shops A, B and C together for both the years?

ఇచ్చిన లైన్ గ్రాఫ్ 2017 మరియు 2018 సంవత్సరాల్లో ఐదు వేర్వేరు దుకాణాలు A, B, C, D మరియు E నుండి మసాజ్ యంత్రాల అమ్మకాలను చూపిస్తుంది.



రెండు సంవత్సరాలలో కలిపి A, B మరియు C దుకాణాల నుండి మొత్తం అమ్మకాలు ఎంత?

Options :

475

1. ✖ 475

500

2. ✖ 500

480

3. ✔ 480

300

4. ✖ 300

Question Number : 138 Question Id : 716447138 Question Type : MCQ Option Shuffling : Yes Negative Marks Display Text : 1/3 Correct Marks : 1 Wrong Marks : 0.33

Study the given circle graph carefully which shows the monthly budget of a middle class family and answer the following question.



If ₹ 15,000 was spent on food and rent during the month, then what was the total approximate amount spent in that month?

మధ్యతరగతి కుటుంబం యొక్క నెలవారీ బడ్జెట్‌ను చూపించు వృత్తాకార గ్రాఫ్‌ను జాగ్రత్తగా అధ్యయనం చేసి క్రింది ప్రశ్నకు సమాధానం ఇవ్వండి.



నెలలో ఆహారం మరియు అద్దెపై ₹ 15,000 ఖర్చు చేస్తే, ఆ నెలలో ఖర్చు చేసిన మొత్తం సుమారుగా ఎంత?

Options :

₹ 30,500

1. ✘ ₹ 30,500

₹ 29,500

2. ✘ ₹ 29,500

₹ 45,000

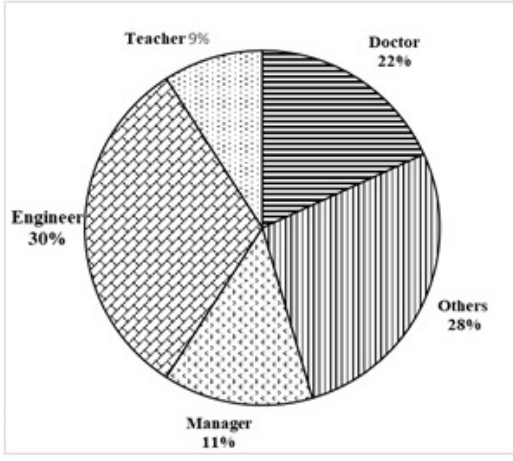
3. ✔ ₹ 45,000

₹ 70,000

4. ✘ ₹ 70,000

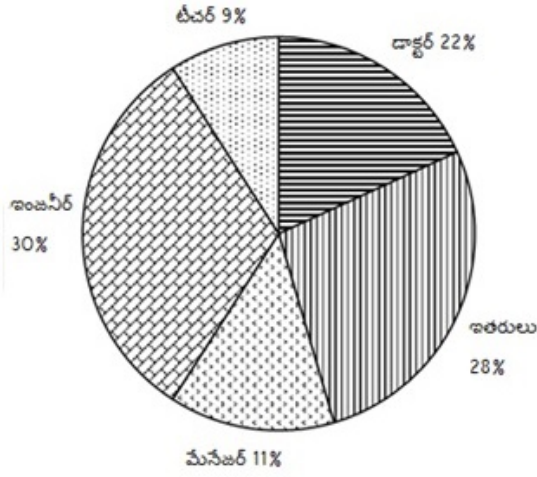
Question Number : 139 Question Id : 716447139 Question Type : MCQ Option Shuffling : Yes Negative Marks Display Text : 1/3  
Correct Marks : 1 Wrong Marks : 0.33

The given pie chart shows the number of people who work in various occupations (in terms of percentage) from a certain state of India.



As per the pie chart what is the approximate central angle formed by the Manager sector?

ఇచ్చిన 'పై చార్ట్' భారతదేశంలోని ఒక నిర్దిష్ట రాష్ట్రం నుండి వివిధ వృత్తులలో (శాతం పరంగా) పనిచేసే వారి సంఖ్యను చూపుతుంది.



'పై చార్ట్' ప్రకారం మేనేజర్ సెక్టార్ ఏర్పరచిన కేంద్ర కోణం సుమారుగా ఎంత?

Options :

19.6°

1. ✘ 19.6°

29.2°

2. ✘ 29.2°

39.6°

3. ✔ 39.6°

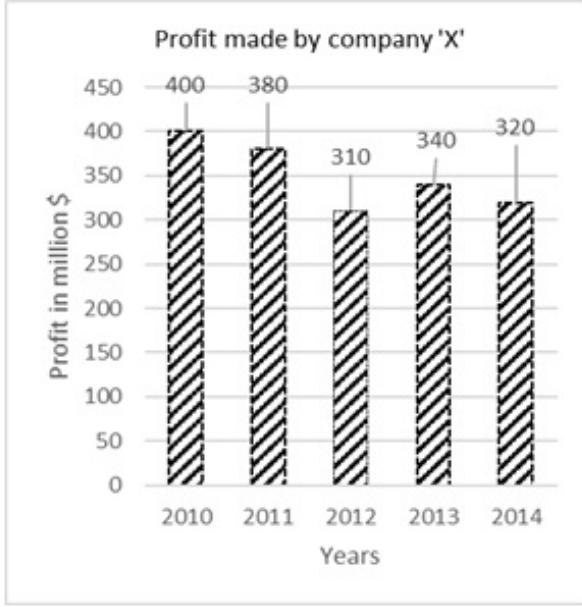


25°

4. ✖ 25°

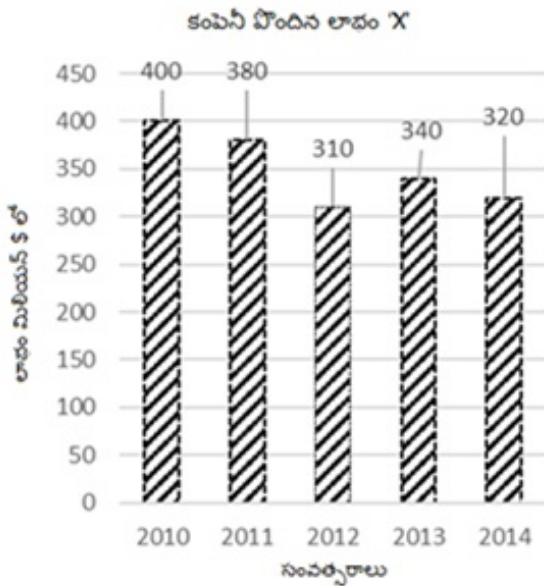
Question Number : 140 Question Id : 716447140 Question Type : MCQ Option Shuffling : Yes Negative Marks Display Text : 1/3 Correct Marks : 1 Wrong Marks : 0.33

The given bar graph shows the profit made by company X (in million \$) from 2010 to 2014.



The profit made by the company in 2010 was approximately how many times that in 2012?

ఇచ్చిన బార్ గ్రాఫ్ 2010 నుండి 2014 వరకు కంపెనీ X చేసిన లాభాలను (మిలియన్ \$ లో) చూపుతుంది.



2010 లో కంపెనీ సంపాదించిన లాభం 2012 లాభాలకి సుమారుగా ఎన్ని రెట్లు?

Options :

1.6

1. ✖ 1.6

1.29

2. ✔ 1.29

1.91

3. ✖ 1.91

3

4. ✖ 3

Question Number : 141 Question Id : 716447141 Question Type : MCQ Option Shuffling : Yes Negative Marks Display Text : 1/3 Correct Marks : 1 Wrong Marks : 0.33

What is the standard deviation of a data set if the data set has a variance of 0.81?

దత్తాంశ సమితికి 0.81 విస్తృతి ఉన్నప్పుడు ఈ దత్తాంశ సమితి యొక్క ప్రామాణిక విచలనం ఎంత?

Options :

0.2

1. ✖ 0.2

0.41

2. ✖ 0.41

0.9

3. ✔ 0.9

9

4. ✖ 9

Question Number : 142 Question Id : 716447142 Question Type : MCQ Option Shuffling : Yes Negative Marks Display Text : 1/3 Correct Marks : 1 Wrong Marks : 0.33

What is the mode of the given data?

12, 15, 18, 12, 13, 14, 15, 12, 18, 17, 17, 17, 12, 18, 15

ఇచ్చిన దత్తాంశం యొక్క బాహుళకం ఏమిటి?

12, 15, 18, 12, 13, 14, 15, 12, 18, 17, 17, 17, 12, 18, 15

Options :

18

1. ✖ 18

17

2. ✖ 17

13

3. ✖ 13

12

4. ✔ 12

Question Number : 143 Question Id : 716447143 Question Type : MCQ Option Shuffling : Yes Negative Marks Display Text : 1/3 Correct Marks : 1 Wrong Marks : 0.33

The given table shows the number of people in an aircraft with their weight.

<b>Weight of the people</b>	55	60	75	20	85	65
<b>Number of people</b>	10	12	8	6	4	10

What is the mean weight of the people in the aircraft?

ఇచ్చిన పట్టిక, విమానంలో ఉన్న వ్యక్తుల సంఖ్యను వారి బరువుతో సహా చూపుతుంది.

<b>వ్యక్తుల బరువు</b>	55	60	75	20	85	65
<b>వ్యక్తుల సంఖ్య</b>	10	12	8	6	4	10

విమానంలో వ్యక్తుల సరాసరి బరువు ఎంత?

Options :

53

1. ✖ 53

55.5

2. ✖ 55.5

59.6

3. ✔ 59.6

61

4. ✖ 61

Question Number : 144 Question Id : 716447144 Question Type : MCQ Option Shuffling : Yes Negative Marks Display Text : 1/3  
Correct Marks : 1 Wrong Marks : 0.33

Which of the following options will be the median of the given set of numbers?

14, 8, 28, 16, 5, 14, 20, 35, 21, 32

ఈ క్రింది ఐచ్ఛికాలలో, ఇచ్చిన సంఖ్యల శ్రేణి యొక్క మధ్యగతం ఏది అవుతుంది?

14, 8, 28, 16, 5, 14, 20, 35, 21, 32

Options :

11

1. ✖ 11

12

2. ✖ 12

14

3. ✖ 14



18

4. ✓ 18

Question Number : 145 Question Id : 716447145 Question Type : MCQ Option Shuffling : Yes Negative Marks Display Text : 1/3  
Correct Marks : 1 Wrong Marks : 0.33

Which of the following options will be the variance of the given data?

202, 204, 206, 208, 210

ಇచ్చಿನ ಐಚ್ಛಿಕಾಲಲ್, ಇಚ್ಛಿನ ದತ್ತಾಂಶಂ ಯುಕ್ತ ವಿಸ್ತೃತಿ ವದಿ ಅಪುತುಂದಿ?

202, 204, 206, 208, 210

Options :

2

1. ✘ 2

4

2. ✘ 4

6

3. ✘ 6

8

4. ✓ 8

Question Number : 146 Question Id : 716447146 Question Type : MCQ Option Shuffling : Yes Negative Marks Display Text : 1/3  
Correct Marks : 1 Wrong Marks : 0.33

Which of the following is true about Percentile, Quartile and Median?

ಪರ್ದಂಟೈಲ್(ಶಲಾಂಶಂ), ಕ್ವಾರ್ಟೈಲ್(ಚತುರ್ಥಾಂಕಂ) ಮರಿಯು ಮಧ್ಯಗತಂ ಗುರಿಂಚಿ ಕಿಂದಿ ವಾಟಿಲ್ ವದಿ ನಿಜಂ?

Options :

$P50 > Q2 > \text{Median}$

1. ✘  $P50 > Q2 > \text{ಮಧ್ಯಗತಂ}$

$$P50 = Q2 > \text{Median}$$

2. ✖ P50 = Q2 > మధ్యగతం

$$P50 < Q2 < \text{Median}$$

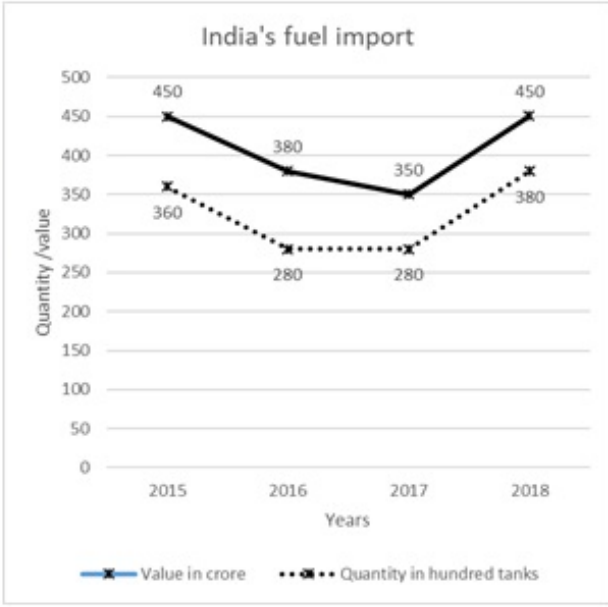
3. ✖ P50 < Q2 < మధ్యగతం

$$P50 = Q2 = \text{Median}$$

4. ✔ P50 = Q2 = మధ్యగతం

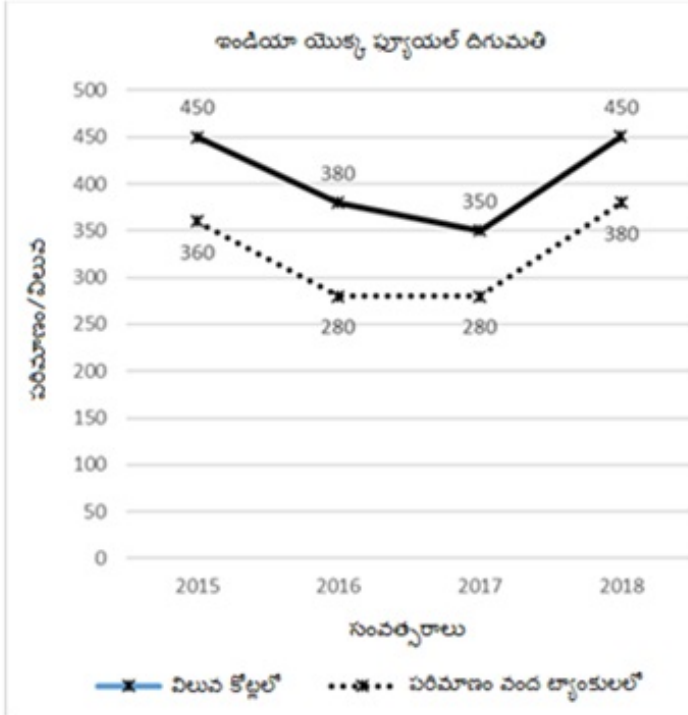
Question Number : 147 Question Id : 716447147 Question Type : MCQ Option Shuffling : Yes Negative Marks Display Text : 1/3  
Correct Marks : 1 Wrong Marks : 0.33

Study the given line graph and answer the following question.



In which year was the expenditure on importing fuel per hundred tanks the minimum?

ఇచ్చిన లైన్ గ్రాఫ్‌ను అధ్యయనం చేసి, కింది ప్రశ్నకు సమాధానం ఇవ్వండి.



ప్రతి వంద ట్యాంకులకు ఫ్యూయల్ దిగుమతిపై వ్యయం ఏ సంవత్సరంలో కనిష్టంగా ఉంది?

Options :

2015

1. \* 2015

2016

2. ✖ 2016

2017

3. ✖ 2017

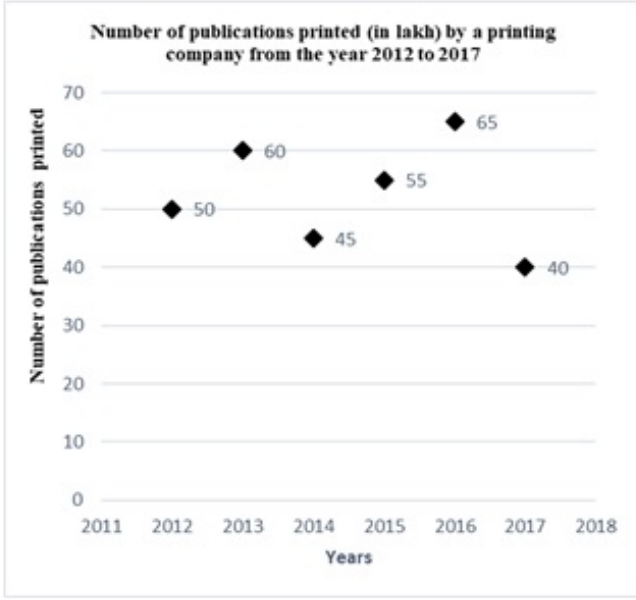
2018

4. ✔ 2018

Question Number : 148 Question Id : 716447148 Question Type : MCQ Option Shuffling : Yes Negative Marks Display Text : 1/3  
Correct Marks : 1 Wrong Marks : 0.33



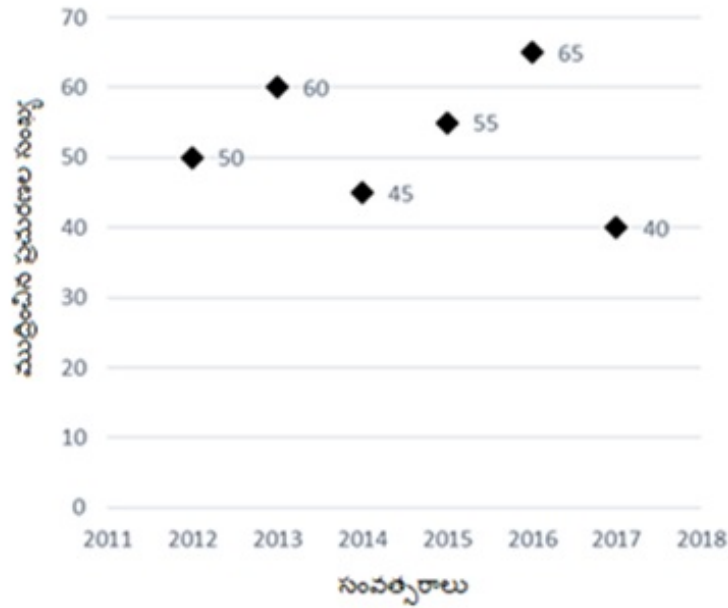
Study the given line graph carefully and answer the following question.



Find the difference between the number of publications printed in the years 2013 and 2015.

ఇచ్చిన లైన్ గ్రాఫ్‌ను జాగ్రత్తగా అధ్యయనం చేసి, కింది ప్రశ్నకు సమాధానం ఇవ్వండి.

2012 నుండి 2017 వరకు ఒక ప్రింటింగ్ కంపెనీ ముద్రించిన ప్రచురణల సంఖ్య



2013 మరియు 2015 సంవత్సరాల్లో ముద్రించిన ప్రచురణల సంఖ్యల మధ్య గల వ్యత్యాసాన్ని కనుగొనండి.

Options :

20 lakhs

1. ✖ 20 లక్షలు

5 lakhs

2. ✓ 5 లక్షలు

10 lakhs

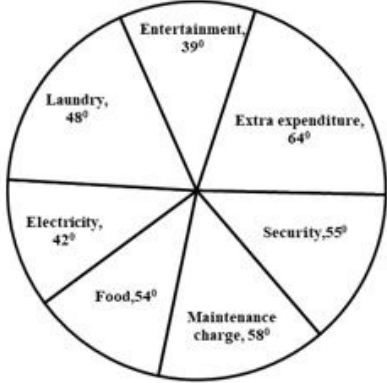
3. ✘ 10 లక్షలు

15 lakhs

4. ✘ 15 లక్షలు

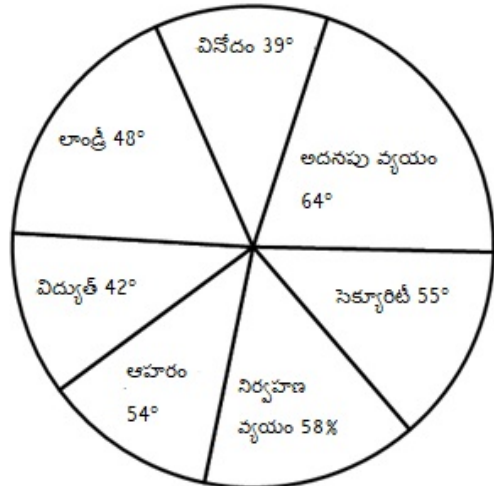
Question Number : 149 Question Id : 716447149 Question Type : MCQ Option Shuffling : Yes Negative Marks Display Text : 1/3 Correct Marks : 1 Wrong Marks : 0.33

Study the given circle graph carefully which shows the expenditure of a private hostel owned by a certain public school on various areas during a particular year.



If the total expenditure of the hostel during the year was ₹40 lakhs, then what was the approximate amount spent on electricity and food together?

ఒక నిర్దిష్ట సంవత్సరంలో వివిధ ప్రాంతాలపై ఒక నిర్దిష్ట ప్రభుత్వ పాఠశాల యాజమాన్యంలోని ప్రైవేట్ హాస్టల్ యొక్క వ్యయాన్ని చూపించే వృత్తాకార గ్రాఫ్‌ను జాగ్రత్తగా అధ్యయనం చేయండి.



సంవత్సరంలో హాస్టల్ మొత్తం ఖర్చు ₹ 40 లక్షలు అయితే, విద్యుత్ మరియు ఆహారం కోసం కలిసి ఖర్చు చేసిన మొత్తం సుమారుగా ఎంత?

Options :

₹ 20.7 lakhs

1. ✘ ₹ 20.7 లక్షలు

₹ 40.5 lakhs

2. ✘ ₹ 40.5 లక్షలు

₹ 10.6 lakhs

3. ✔ ₹ 10.6 లక్షలు

₹ 18 lakhs

4. ✘ ₹ 18 లక్షలు

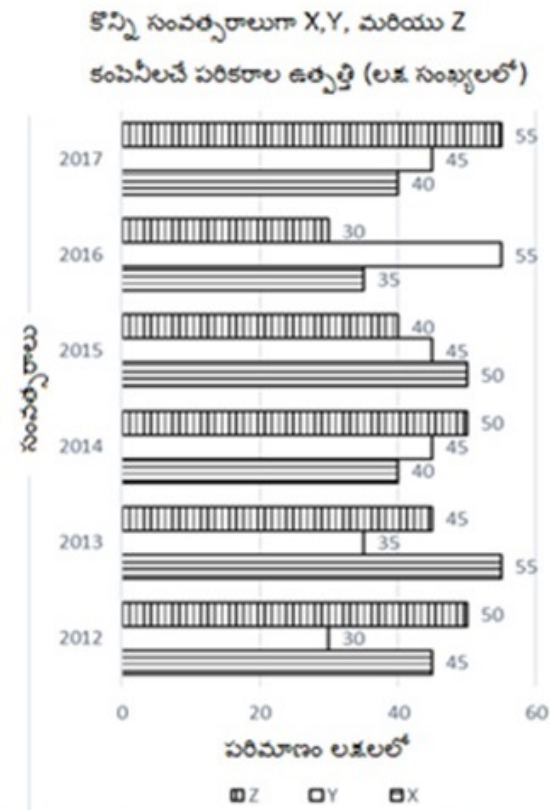
Question Number : 150 Question Id : 716447150 Question Type : MCQ Option Shuffling : Yes Negative Marks Display Text : 1/3  
Correct Marks : 1 Wrong Marks : 0.33

Study the graph of the production of the devices produced by three different companies X, Y and Z over the years and answer the following question.



What is the difference between the production of Y devices in 2016 and Z devices in 2012?

X, Y మరియు Z అనే మూడు వేర్వేరు సంస్థలచే ఉత్పత్తి చేయబడిన పరికరాల ఉత్పత్తికి సంబంధించిన గ్రాఫ్ను అధ్యయనం చేసి, ఈ క్రింది ప్రశ్నకు సమాధానం ఇవ్వండి.



2016 లో Y పరికరాల ఉత్పత్తికి, 2012 లో Z పరికరాల మధ్య ఉత్పత్తికి వ్యత్యాసం ఎంత?

Options :

10,00,000

1. ✓ 10,00,000

10,50,000

2. ✗ 10,50,000

1,45,000

3. ✗ 1,45,000

2,00,000

4. ✗ 2,00,000