

Notations :

- 1.Options shown in **green** color and with ✓ icon are correct.
- 2.Options shown in **red** color and with ✖ icon are incorrect.

Question Paper Name:	GSMA 20
Subject Name:	General Studies Mental Ability
Creation Date:	2020-02-20 13:13:28
Duration:	150
Total Marks:	150
Display Marks:	Yes
Share Answer Key With Delivery Engine:	No
Actual Answer Key:	Yes
Calculator:	None
Magnifying Glass Required?:	No
Ruler Required?:	No
Eraser Required?:	No
Scratch Pad Required?:	No
Rough Sketch/Notepad Required?:	No
Protractor Required?:	No
Show Watermark on Console?:	Yes
Highlighter:	No
Auto Save on Console?:	No

Sub-Section Number:	1
Sub-Section Id:	71644713
Question Shuffling Allowed :	Yes

Question Number : 1 Question Id : 7164472851 Question Type : MCQ Option Shuffling : Yes Negative Marks Display Text : 1/3 Correct Marks : 1 Wrong Marks : 0.33

Where did the first global refugee forum take place in December 2019?

2019 డిసెంబర్లో, మొదటి ప్రపంచ కరణార్థుల ఫోరం ఎక్కడ జరిగింది?

Options :

New delhi

1. ✖ న్యూఢిల్లీ

Geneva

2. ✓ జెనీవా

New York

3. ✘ న్యూయార్క్

Colombo

4. ✘ కొలంబో

Question Number : 2 Question Id : 7164472852 Question Type : MCQ Option Shuffling : Yes Negative Marks Display Text : 1/3
Correct Marks : 1 Wrong Marks : 0.33

At which place in the Democratic republic of Congo was the relapse of Ebola virus documented in December 2019?

డెమోక్రాటిక్ రిపబ్లిక్ ఆఫ్ కాంగోలో, ఏ ప్రదేశంలో ఎబోలా వైరస్ తిరగపెట్టిన పరిస్థితి డిసెంబర్ 2019 లో నమోదు చేయబడింది?

Options :

Aloya

1. ✓ అలోయా

Makoni

2. ✘ మకోని

Nyanga

3. ✘ న్యాంగ

Bindura

4. ✘ బిందుర

Question Number : 3 Question Id : 7164472853 Question Type : MCQ Option Shuffling : Yes Negative Marks Display Text : 1/3
Correct Marks : 1 Wrong Marks : 0.33

Manuel Marrero Cruz, who was recently in news, belongs to which country?

ఇటీవల వార్తల్లో నిలిచిన 'మాన్యువల్ మర్రెరో క్రజ్' ఏ దేశానికి చెందినవాడు?

Options :

Estonia

1. ✖ ఎస్టోనియా

Brazil

2. ✖ బ్రెజిల్

Russia

3. ✖ రష్యా

Cuba

4. ✔ క్యూబా

Question Number : 4 Question Id : 7164472854 Question Type : MCQ Option Shuffling : Yes Negative Marks Display Text : 1/3

Correct Marks : 1 Wrong Marks : 0.33

In which country did the White Island Volcano erupt in December 2019?

2019 డిసెంబర్లో వైట్ ఐలాండ్ అగ్నిపర్వతం ఏ దేశంలో విస్ఫోటనం చెందినది?

Options :

Turkey

1. ✖ టర్కీ

Sudan

2. ✖ సూడాన్

New Zealand

3. ✓ న్యూజిలాండ్

France

4. ✘ ఫ్రాన్స్

Question Number : 5 Question Id : 7164472855 Question Type : MCQ Option Shuffling : Yes Negative Marks Display Text : 1/3
Correct Marks : 1 Wrong Marks : 0.33

At which place was the 54th DGSP/IGSP Conference held in December 2019?

2019 డిసెంబర్లో 54 వ డిజిఎస్పి/ఐజిఎస్పి (DGSP/IGSP) సమావేశం ఏ ప్రదేశంలో జరిగింది?

Options :

Pune

1. ✓ పూణే

Jaipur

2. ✘ జైపూర్

Ranchi

3. ✘ రాంచీ

Bhopal

4. ✘ భోపాల్

Question Number : 6 Question Id : 7164472856 Question Type : MCQ Option Shuffling : Yes Negative Marks Display Text : 1/3
Correct Marks : 1 Wrong Marks : 0.33

At which place was the NuGen Mobility Summit 2019 held?

2019 నూజెన్(NuGen) మొబిలిటీ సమావేశం ఏ ప్రదేశంలో జరిగింది?

Options :

Lucknow

1. ✖ లక్నో

Manesar

2. ✔ మనేసర్

Surat

3. ✖ సూరత్

Mumbai

4. ✖ ముంబయి

Question Number : 7 Question Id : 7164472857 Question Type : MCQ Option Shuffling : Yes Negative Marks Display Text : 1/3
Correct Marks : 1 Wrong Marks : 0.33

The Constitution Day 2019 was observed on:

2019లో రాజ్యాంగ దినోత్సవాన్ని ఈ రోజున పాటించారు:

Options :

26th November

1. ✔ 26 నవంబర్

16th September

2. ✖ 16 సెప్టెంబర్

22nd July

3. ✖ 22 జూలై

4. ✖ 3 డిసెంబర్

Question Number : 8 Question Id : 7164472858 Question Type : MCQ Option Shuffling : Yes Negative Marks Display Text : 1/3 Correct Marks : 1 Wrong Marks : 0.33

At which place was the 50th Governors' Conference held in November 2019?

2019 నవంబర్లో 50 వ గవర్నర్ల సమావేశం ఏ ప్రదేశంలో జరిగింది?

Options :

Kochi

1. ✖ కొచ్చి

Chennai

2. ✖ చెన్నై

Hyderabad

3. ✖ హైదరాబాద్

New delhi

4. ✔ న్యూఢిల్లీ

Question Number : 9 Question Id : 7164472859 Question Type : MCQ Option Shuffling : Yes Negative Marks Display Text : 1/3 Correct Marks : 1 Wrong Marks : 0.33

Which agency/organisation has set up an On-line Child Sexual Abuse and Exploitation(OCSAE) Prevention/Investigation Unit in India?

భారతదేశంలో ఆన్‌లైన్ బాల లైంగిక వేధింపు మరియు దోపిడీ (OCSAE) నివారణ/దర్యాప్తు విభాగాన్ని ఏ ఏజెన్సీ/సంస్థ ఏర్పాటు చేసింది?

Options :

Central Bureau Of Investigation (CBI)

1. ✓ సెంట్రల్ బ్యూరో ఆఫ్ ఇన్వెస్టిగేషన్

National Investigative Agency (NIA)

2. ✘ నేషనల్ ఇన్వెస్టిగేటివ్ ఏజెన్సీ

National Commission For Protection Of Child Rights

3. ✘ బాలల హక్కుల పరిరక్షణ కోసం జాతీయ కమిషన్

Central Vigilance Commission (CVC)

4. ✘ సెంట్రల్ విజిలెన్స్ కమిషన్

Question Number : 10 Question Id : 7164472860 Question Type : MCQ Option Shuffling : Yes Negative Marks Display Text : 1/3
Correct Marks : 1 Wrong Marks : 0.33

Which of the following agencies has released India Innovation Index?

క్రింది ఏజెన్సీలలో ఇండియా ఇన్నోవేషన్ ఇండెక్స్ ను ఎవరు విడుదల చేశారు?

Options :

NITI Aayog

1. ✓ నీతి ఆయోగ్

FICCI

2. ✘ ఎఫ్ ఐ సి సి ఐ

BCCI

3. ✘ బిసిసిఐ

4. ✖ ఆర్ బి ఐ

Question Number : 11 Question Id : 7164472861 Question Type : MCQ Option Shuffling : Yes Negative Marks Display Text : 1/3
Correct Marks : 1 Wrong Marks : 0.33

What has been India's ranking in the Global Hunger Index 2019?

గ్లోబల్ హంగర్ ఇండెక్స్(ప్రపంచ ఆకలి సూచీ) 2019 లో భారతదేశం యొక్క ర్యాంకింగ్ ఏమిటి?

Options :

1. ✖ 110

2. ✓ 102

3. ✖ 93

4. ✖ 90

Question Number : 12 Question Id : 7164472862 Question Type : MCQ Option Shuffling : Yes Negative Marks Display Text : 1/3
Correct Marks : 1 Wrong Marks : 0.33

Bioswales, which were recently in news, are related to:

ఇటీవల వార్తల్లో నిలిచిన బయోస్వెల్స్ దీనికి సంబంధించినది:

Options :

management of pesticides

1. ✖ పురుగుమందుల నిర్వహణ

railway line management

2. ✖ రైల్వే లైన్ నిర్వహణ

management of rainwater

3. ✓ వర్షపునీటి నిర్వహణ

food items for space

4. ✘ అంతరిక్షం కోసం ఆహార పదార్థాలు

Question Number : 13 Question Id : 7164472863 Question Type : MCQ Option Shuffling : Yes Negative Marks Display Text : 1/3 Correct Marks : 1 Wrong Marks : 0.33

Which of the following UN organisations has become the first UN organisation to hold and make transactions in cryptocurrency?

క్రింది UN సంస్థలలో, క్రిప్టోకరెన్సీలో లావాదేవీలు నిర్వహించిన మొదటి యుఎస్ (UN) సంస్థ ఏది?

Options :

United Nations Children's Fund (UNICEF)

1. ✓ ఐక్యరాజ్యసమితి బాలల నిధి

United nations development Programme (UNDP)

2. ✘ ఐక్యరాజ్యసమితి అభివృద్ధి కార్యక్రమం

World Health Organisation (WHO)

3. ✘ ప్రపంచ ఆరోగ్య సంస్థ

Food and agriculture organization (FAO)

4. ✘ ఆహార మరియు వ్యవసాయ సంస్థ

Question Number : 14 Question Id : 7164472864 Question Type : MCQ Option Shuffling : Yes Negative Marks Display Text : 1/3 Correct Marks : 1 Wrong Marks : 0.33

Which city hosted the 2019 First Global DXB Challenge related to the fields of Robotics and Artificial Intelligence?

రోబోటిక్స్ మరియు ఆర్టిఫిషియల్ ఇంటెలిజెన్స్ రంగాలకు సంబంధించిన 2019 ఫస్ట్ గ్లోబల్ డిఎక్స్ బి(DXB) ఛాలెంజ్‌ను ఏ నగరం నిర్వహించింది?

Options :

Washington

1. ✘ వాషింగ్టన్

Dubai

2. ✔ దుబాయ్

Montreal

3. ✘ మాంట్రీయల్

Paris

4. ✘ పారిస్

Question Number : 15 Question Id : 7164472865 Question Type : MCQ Option Shuffling : Yes Negative Marks Display Text : 1/3 Correct Marks : 1 Wrong Marks : 0.33

The second edition of 'India Myanmar Naval Exercise' IMNEX-2019 was organised at:

'ఇండియా మయన్మార్ నావల్ ఎక్సర్సైజ్' IMNEX-2019 యొక్క రెండవ ఎడిషన్ ఇక్కడ నిర్వహించబడింది:

Options :

Chennai

1. ✘ చెన్నై

Kochi

2. ✘ కోచ్చి

Visakhapatnam

3. ✔ విశాఖపట్నం

4. ✖ త్రిస్సూర్

Question Number : 16 Question Id : 7164472866 Question Type : MCQ Option Shuffling : Yes Negative Marks Display Text : 1/3 Correct Marks : 1 Wrong Marks : 0.33

The Shirui Lily Festival 2019 was organised by:

షెరూయి(Shirui) లిల్లీ ఫెస్టివల్ 2019ను ఏ రాష్ట్రం నిర్వహించింది?

Options :

Himachal pradesh

1. ✖ హిమాచల్ ప్రదేశ్

Manipur

2. ✓ మణిపూర్

Madhya pradesh

3. ✖ మధ్య ప్రదేశ్

Bihar

4. ✖ బీహార్

Question Number : 17 Question Id : 7164472867 Question Type : MCQ Option Shuffling : Yes Negative Marks Display Text : 1/3 Correct Marks : 1 Wrong Marks : 0.33

The 2019 Nobel Prize in Chemistry was awarded for the:

రసాయన శాస్త్రంకు గాను, 2019 నోబెల్ బహుమతి దీనికోసం ఇవ్వబడింది:

Options :

phage display of peptides and antibodies

1. ✖ పెప్టైడ్లు మరియు ప్రతిరోధకాల(యాంటీబాడీస్) యొక్క ఫేజ్ ప్రదర్శన

development of lithium-ion batteries

2. ✓ లిథియం-అయాన్ బ్యాటరీల అభివృద్ధి

design and synthesis of molecular machines

3. ✘ అణు యంత్రాల రూపకల్పన మరియు సంశ్లేషణ

mechanistic studies of DNA repair

4. ✘ డిఎన్ఎ (DNA) సవరణ కోరకు యాంత్రిక అధ్యయనాలు

Question Number : 18 Question Id : 7164472868 Question Type : MCQ Option Shuffling : Yes Negative Marks Display Text : 1/3

Correct Marks : 1 Wrong Marks : 0.33

INS Khanderi, recently commissioned to Indian Navy, is a part of:

ఇటీవల భారత నావికాదళానికి నియమించిన ఐఎన్ఎస్ ఖండేరి ఈ ప్రాజెక్టులో భాగం:

Options :

Project -75

1. ✓ ప్రాజెక్ట్ -75

Project Maritime

2. ✘ ప్రాజెక్ట్ మారిటైమ్

Project -100

3. ✘ ప్రాజెక్ట్ -100

Project Suraksha

4. ✘ ప్రాజెక్ట్ సురక్ష

Question Number : 19 Question Id : 7164472869 Question Type : MCQ Option Shuffling : Yes Negative Marks Display Text : 1/3

Correct Marks : 1 Wrong Marks : 0.33

From which country has India procured ApacheAH-64 E(I) helicopters?

ApacheAH-64 E (I) హెలికాప్టర్లను భారత్ ఏ దేశం నుండి కొనుగోలు చేసింది?

Options :

USA

1. ✓ యుఎస్ఎ

Australia

2. ✘ ఆస్ట్రేలియా

Germany

3. ✘ జర్మనీ

France

4. ✘ ఫ్రాన్స్

Question Number : 20 Question Id : 7164472870 Question Type : MCQ Option Shuffling : Yes Negative Marks Display Text : 1/3
Correct Marks : 1 Wrong Marks : 0.33

Which agency has initiated the Project NETRA?

ప్రాజెక్ట్ నేత్రా(NETRA) ను ఏ ఏజెన్సీ ప్రారంభించింది?

Options :

ISRO

1. ✓ ఇస్రో

RBI

2. ✘ ఆర్ బి ఐ

ICSSR

3. ✖ ఐసిఎస్ ఎస్ ఆర్

ICHR

4. ✖ ఐసిహెచ్ఆర్

Question Number : 21 Question Id : 7164472871 Question Type : MCQ Option Shuffling : Yes Negative Marks Display Text : 1/3
Correct Marks : 1 Wrong Marks : 0.33

Where was the fourth Indian Ocean Conference 2019 held?

2019 నాలుగవ హిందూ మహాసముద్ర సమావేశం ఎక్కడ జరిగింది?

Options :

Chennai

1. ✖ చెన్నై

Male

2. ✓ మేల్

Colombo

3. ✖ కొలంబో

Yangon

4. ✖ యంగన్

Question Number : 22 Question Id : 7164472872 Question Type : MCQ Option Shuffling : Yes Negative Marks Display Text : 1/3
Correct Marks : 1 Wrong Marks : 0.33

Who has been sworn in as the first Lieutenant Governor of J&K?

జమ్మూ & కాశ్మీర్ మొదటి లెఫ్టినెంట్ గవర్నర్ గా ప్రమాణ స్వీకారం చేసిన వారు ఎవరు?

Options :

GC Murmu

1. ✓ జి.సి ముర్ము

Najeeb Jung

2. ✘ నజీబ్ జంగ్

Nripendra Mishra

3. ✘ నృపేంద్ర మిశ్రా

Mridula Sinha

4. ✘ మృదుల సిన్హా

Question Number : 23 Question Id : 7164472873 Question Type : MCQ Option Shuffling : Yes Negative Marks Display Text : 1/3 Correct Marks : 1 Wrong Marks : 0.33

Which ministry made an announcement about the Bhartiya Poshan Krishi Kosh in November 2019?

2019 నవంబర్లో భారతీయ పోషన్ కృషి కోష్ గురించి ఏ మంత్రిత్వ శాఖ ప్రకటన చేసింది?

Options :

Ministry of Women and Child Development

1. ✓ మహిళా, శిశు అభివృద్ధి మంత్రిత్వ శాఖ

Ministry of Health and Family Welfare

2. ✘ ఆరోగ్య మరియు కుటుంబ సంక్షేమ మంత్రిత్వ శాఖ

Ministry of Home Affairs

3. ✘ హోం వ్యవహారాల మంత్రిత్వ శాఖ

4. ✖ మానవ వనరుల అభివృద్ధి మంత్రిత్వ శాఖ

Question Number : 24 Question Id : 7164472874 Question Type : MCQ Option Shuffling : Yes Negative Marks Display Text : 1/3
Correct Marks : 1 Wrong Marks : 0.33

The first ever Indian Brain Atlas (IBA 100) is developed by:

మొట్టమొదటి ఇండియన్ బ్రెయిన్ అట్లాస్ (IBA 100) వీరిచే అభివృద్ధి చేయబడింది:

Options :

IIIT, Hyderabad

1. ✔ ఐఐఐఐటి, హైదరాబాద్

AIIMS, New Delhi

2. ✖ ఎయిమ్స్, న్యూ డిల్లీ

ISRO, Bengaluru

3. ✖ ఇస్రో, బెంగళూరు

ICAR, New delhi

4. ✖ ఐసిఎఆర్, న్యూ డిల్లీ

Question Number : 25 Question Id : 7164472875 Question Type : MCQ Option Shuffling : Yes Negative Marks Display Text : 1/3
Correct Marks : 1 Wrong Marks : 0.33

Dustlik -2019 - a first ever joint military exercise - was held between India and:

డస్టిక్ -2019 - మొట్టమొదటి ఉమ్మడి సైనిక విన్యాసం - భారతదేశం మరియు దీని మధ్య జరిగింది:

Options :

Uzbekistan

1. ✔ ఉజ్బెకిస్తాన్

Somalia

2. ✖ సోమాలియా

Iran

3. ✖ ఇరాన్

Kuwait

4. ✖ కువైట్

Question Number : 26 Question Id : 7164472876 Question Type : MCQ Option Shuffling : Yes Negative Marks Display Text : 1/3
Correct Marks : 1 Wrong Marks : 0.33

From which plant is the litmus solution extracted?

లిట్రమ్స్ ద్రావణం ఏ మొక్క నుండి తీయబడుతుంది?

Options :

Lichen

1. ✓ లైకెన్

Boston Fern

2. ✖ బోస్టన్ ఫెర్న్

Coral bead

3. ✖ పగడపు పూస(కోరల్ బీడ్)

Aloe vera

4. ✖ కలబంద

Question Number : 27 Question Id : 7164472877 Question Type : MCQ Option Shuffling : Yes Negative Marks Display Text : 1/3
Correct Marks : 1 Wrong Marks : 0.33

Which one of the following statements is NOT correct?

కింది ప్రకటనలలో ఏది సరైనది కాదు?

Options :

1. ✖

When an acid reacts with a metal, hydrogen gas is evolved and a corresponding salt is formed.

ఒక ఆమ్లం లోహంతో చర్య జరిపినప్పుడు, హైడ్రోజన్ వాయువు ఉద్భవించి, సంబంధిత లవణం ఏర్పడుతుంది.

2. ✖

Acidic and basic solutions in water conduct electricity because they produce hydrogen and hydroxide ions respectively.

నీటిలో ఆమ్ల మరియు క్షార ద్రావణాలు విద్యుత్తును నిర్వహిస్తాయి ఎందుకంటే అవి వరుసగా హైడ్రోజన్ మరియు హైడ్రాక్సైడ్ అయాన్లను ఉత్పత్తి చేస్తాయి.

Living beings carry out their metabolic activities without an optimal pH range.

3. ✔

జీవులు తమ జీవక్రియ కార్యకలాపాలను సరైన పిహెచ్ (pH) పరిధి లేకుండా నిర్వహిస్తాయి.

Salts have various uses in everyday life and in industries.

4. ✖

లవణాలు రోజువారీ జీవితంలో మరియు పరిశ్రమలలో వివిధ ఉపయోగాలు కలిగి ఉంటాయి.

Question Number : 28 Question Id : 7164472878 Question Type : MCQ Option Shuffling : Yes Negative Marks Display Text : 1/3 Correct Marks : 1 Wrong Marks : 0.33

Which of the following pairs is NOT correct with regard to measurable quantity and their respective unit?

కొలవగల పరిమాణం మరియు వాటి యూనిట్(ప్రమాణం)కు సంబంధించి కింది జతలలో ఏది సరైనది కాదు?

Options :

Temperature-Kelvin

1. ✖ ఉష్ణోగ్రత -కెల్విన్

Length-Metre

2. ✖ పొడవు-మీటర్

Mass-Kilogram

3. ✖ ద్రవ్యరాశి-కిలోగ్రాము

Weight-Pascal

4. ✔ బరువు - పాస్కల్

Question Number : 29 Question Id : 7164472879 Question Type : MCQ Option Shuffling : Yes Negative Marks Display Text : 1/3
Correct Marks : 1 Wrong Marks : 0.33

Which of the following is NOT correct?

కింది వాటిలో ఏది సరైనది కాదు?

Options :

Matter is made up of small particles.

1. ✖ పదార్థం చిన్న కణాలతో రూపొందించబడింది.

2. ✖

Scientist now talk of five states of matter: solid, liquid, gas, plasma and Bose-Einstein condensate.

శాస్త్రవేత్త ఇప్పుడు పదార్థం యొక్క ఐదు స్థితులు: ఘన, ద్రవ, వాయువు, ప్లాస్మా మరియు బోస్-ఐన్‌స్టీన్ కండెన్సేట్ గురించి మాట్లాడుతున్నారు

The states of matter are inter-convertible.

3. ✖ పదార్థం యొక్క స్థితులు ఇంటర్-కన్వర్టిబుల్(అంతఃపరివర్తనీయం).

4. ✔

The 2005 Nobel Prize in Physics was awarded for achieving Bose-Einstein Condensation.

బోస్-ఐన్‌స్టీన్ కండెన్సేషన్(సాంద్రీకరణం) సాధించినందుకు 2005 లో భౌతిక శాస్త్రంలో నోబెల్ బహుమతి లభించింది.

Question Number : 30 Question Id : 7164472880 Question Type : MCQ Option Shuffling : Yes Negative Marks Display Text : 1/3
Correct Marks : 1 Wrong Marks : 0.33

In which year did John Dalton present his atomic theory?

జాన్ డాల్టన్ తన పరమాణు సిద్ధాంతాన్ని ఏ సంవత్సరంలో ప్రదర్శించాడు?

Options :

1. ✓ 1808

2. ✗ 1908

3. ✗ 1886

4. ✗ 1893

Question Number : 31 Question Id : 7164472881 Question Type : MCQ Option Shuffling : Yes Negative Marks Display Text : 1/3
Correct Marks : 1 Wrong Marks : 0.33

Which of the following scientists discovered electrons?

కింది శాస్త్రవేత్తలలో ఎవరు ఎలక్ట్రాన్లను కనుగొన్నారు?

Options :

Albert Einstein

1. ✗ ఆల్బర్ట్ ఐన్స్టీన్

J Chadwick

2. ✗ జె చాడ్విక్

JJ Thomson

3. ✓ జెజె థామ్సన్

Stephen Hawking

4. ✗ స్టీఫెన్ హాకింగ్

Question Number : 32 Question Id : 7164472882 Question Type : MCQ Option Shuffling : Yes Negative Marks Display Text : 1/3 Correct Marks : 1 Wrong Marks : 0.33

Who is the author of the book 'Pale Blue Dot: A Vision of the Human future in Space'?

'పల్ బ్లూ డాట్: ఏ విజన్ ఆఫ్ ది హ్యూమన్ ఫ్యూచర్ ఇన్ స్పేస్' పుస్తక రచయిత ఎవరు?

Options :

Vikram Sarabhai

1. ✘ విక్రమ్ సారాభాయ్

Carl Sagan

2. ✔ కార్ల్ సాగన్

Albert Einstein

3. ✘ ఆల్బర్ట్ ఐన్స్టీన్

Homi Bhabha

4. ✘ హోమి భాభా

Question Number : 33 Question Id : 7164472883 Question Type : MCQ Option Shuffling : Yes Negative Marks Display Text : 1/3 Correct Marks : 1 Wrong Marks : 0.33

What was the name of the lander of Chandrayaan -2?

చంద్రయాన్ -2 యొక్క ల్యాండర్ పేరు ఏమిటి?

Options :

Vikram

1. ✔ విక్రమ్

Pragyaan

2. ✘ ప్రగ్యాన్

Gagan

3. ✖ గగన్

Antriksha

4. ✖ అంతరిక్ష

Question Number : 34 Question Id : 7164472884 Question Type : MCQ Option Shuffling : Yes Negative Marks Display Text : 1/3 Correct Marks : 1 Wrong Marks : 0.33

Which of the following is NOT correct about Cartosat-3 mission?

కార్టోసాట్ -3 మిషన్ గురించి కింది వాటిలో ఏది సరైనది కాదు?

Options :

It was launched from Satish Dhawan Space Centre (SDSC) SHAR, Sriharikota.

1. ✖ ఇది శ్రీహరికోట్లోని సతీష్ ధావన్ స్పేస్ సెంటర్ షార్ నుండి ప్రారంభించబడింది.

2. ✖

13 commercial nanosatellites from USA were also successfully injected into the designated orbit through Cartosat -3.

యుఎస్ఎ నుండి 13 వాణిజ్య నానో-శాటిలైట్లు కూడా కార్టోసాట్ -3 ద్వారా నియమించబడిన కక్ష్యలోకి విజయవంతంగా ప్రవేశపెట్టబడ్డాయి.

3. ✖

Cartosat-3 satellite is a third-generation agile advanced satellite having high resolution imaging capability.

కార్టోసాట్ -3 ఉపగ్రహం అధిక రిజల్యూషన్ ఇమేజింగ్ సామర్థ్యం కలిగివున్న మూడవ తరం చురుకైన అధునాతన ఉపగ్రహం.

India's PSLV-C40 successfully launched Cartosat-3.

4. ✓ భారతదేశం యొక్క పీఎస్ఎల్వి-సి 40 కార్టోసాట్ -3 ను విజయవంతంగా ప్రయోగించింది.

Question Number : 35 Question Id : 7164472885 Question Type : MCQ Option Shuffling : Yes Negative Marks Display Text : 1/3 Correct Marks : 1 Wrong Marks : 0.33

Which PSLV launched the RISAT-2BR1 satellite?

రిశాట్ -2బీఆర్1 ఉపగ్రహాన్ని ప్రయోగించిన పీఎస్ఎల్వి ఏది?

Options :

PSLV C-47

1. ✖ పిఎస్ఎల్వి సి -47

PSLV C-48

2. ✔ పిఎస్ఎల్వి సి -48

PSLV C-21

3. ✖ పిఎస్ఎల్వి సి -21

PSLV C-26

4. ✖ పిఎస్ఎల్వి సి -26

Question Number : 36 Question Id : 7164472886 Question Type : MCQ Option Shuffling : Yes Negative Marks Display Text : 1/3 Correct Marks : 1 Wrong Marks : 0.33

Which one of the following is NOT correct about the Brahmos Missile?

ఈ క్రింది వాటిలో ఏది బ్రహ్మోస్ క్షిపణి గురించి సరైనది కాదు?

Options :

It is a supersonic cruise missile with a capability to attain speed of Mach 2.8.

1. ✖ ఇది 'మాక్ 2.8' వేగాన్ని పొందగల సామర్థ్యం కలిగిన సూపర్సోనిక్ క్రూయిజ్ క్షిపణి.

It is a joint venture between India and Russia.

2. ✖ ఇది భారతదేశం మరియు రష్యా మధ్యగల జాయింట్ వెంచర్.

3. ✖

The first version of the Brahmos supersonic cruise missile was inducted in to the Indian Navy in 2005.

బ్రహ్మోస్ సూపర్సోనిక్ క్రూయిజ్ క్షిపణి యొక్క మొదటి వెర్షన్ 2005 లో భారత నావికాదళంలో చేర్చబడింది.

It can be launched only through submarines.

4. ✓ జలాంతర్గాముల ద్వారా మాత్రమే దీనిని ప్రయోగించవచ్చు.

Question Number : 37 Question Id : 7164472887 Question Type : MCQ Option Shuffling : Yes Negative Marks Display Text : 1/3
Correct Marks : 1 Wrong Marks : 0.33

Who was the Viceroy of India at the time of partition of 'Bengal' in 1905?

1905 లో 'బెంగాల్' విభజన సమయంలో భారత వైస్రాయ్ ఎవరు?

Options :

Lord Curzon

1. ✓ లార్డ్ కర్జన్

John Strachey

2. ✘ జాన్ స్ట్రాచీ

Lord Napier

3. ✘ లార్డ్ నేపియర్

Lord Lytton

4. ✘ లార్డ్ లిట్టన్

Question Number : 38 Question Id : 7164472888 Question Type : MCQ Option Shuffling : Yes Negative Marks Display Text : 1/3
Correct Marks : 1 Wrong Marks : 0.33

In which year was the Sadler University Commission appointed?

సాడ్లర్ విశ్వవిద్యాలయ కమిషన్ ఏ సంవత్సరంలో నియమించబడింది?

Options :

1. ✓ 1917

2. ✘ 1910

3. ✖ 1925

4. ✖ 1933

Question Number : 39 Question Id : 7164472889 Question Type : MCQ Option Shuffling : Yes Negative Marks Display Text : 1/3
Correct Marks : 1 Wrong Marks : 0.33

Who is the author of the book 'Poverty and Un-British Rule in India'?

'పావర్టీ అండ్ అస్-బ్రిటిష్ రూల్ ఇన్ ఇండియా' పుస్తక రచయిత ఎవరు?

Options :

KC Wheare

1. ✖ కెసి వియర్

Bipanchandra

2. ✖ బిపిన్ చంద్ర

RC Dutt

3. ✖ ఆర్.సి. దత్

Dadabhai Naoroji

4. ✔ దాదాభాయ్ నారోజీ

Question Number : 40 Question Id : 7164472890 Question Type : MCQ Option Shuffling : Yes Negative Marks Display Text : 1/3
Correct Marks : 1 Wrong Marks : 0.33

The National Cyclone Risk Mitigation Project aims to upgrade cyclone forecasting, tracking, and warning systems, build capacity in multi-hazard risk management and to construct major infrastructures including multi-purpose cyclone shelters and embankments, covering which of the following states in Phase-I?

నేషనల్ సైక్లోన్ రిస్క్ మిటిగేషన్ ప్రాజెక్ట్ తుఫాను అంచనా, ట్రాకింగ్ మరియు హెచ్చరిక వ్యవస్థలను అప్గ్రేడ్ చేయడం, బహుళ-ప్రమాద నిర్వహణలో సామర్థ్యాన్ని పెంపొందించడాన్ని లక్ష్యంగా పెట్టుకుంది మరియు బహుళ-ప్రయోజన తుఫాను ఆశ్రయాలు మరియు కట్టడాలతో సహా ప్రధాన మౌలిక సదుపాయాలను నిర్మించడం కోసం ఫేజ్ -1 లో, క్రింది ఏ రాష్ట్రాలను కవర్ చేస్తుంది?

Options :

Goa, Andhra Pradesh and Odisha

1. ✘ గోవా, ఆంధ్రప్రదేశ్ మరియు ఒడిశా

Kerala, Andhra Pradesh and Odisha

2. ✘ కేరళ, ఆంధ్రప్రదేశ్ మరియు ఒడిశా

Andhra Pradesh and Odisha

3. ✔ ఆంధ్రప్రదేశ్ మరియు ఒడిశా

Odisha

4. ✘ ఒడిశా

Question Number : 41 Question Id : 7164472891 Question Type : MCQ Option Shuffling : Yes Negative Marks Display Text : 1/3 Correct Marks : 1 Wrong Marks : 0.33

In which year the East India Company acquired the Nellore region - comprising the present Nellore and Prakasam districts - and a part of the Chittoor district from the Nawab of Arcot?

ఈస్ట్ ఇండియా కంపెనీ, ప్రస్తుత నెల్లూరు మరియు ప్రకాశం జిల్లాలను కలిగివున్న నెల్లూరు ప్రాంతాన్ని - మరియు చిత్తూరు జిల్లాలో కొంత భాగాన్ని ఆర్కాట్ నవాబ్ నుండి ఏ సంవత్సరంలో ఆక్రమించింది?

Options :

1. ✘ 1652

2. ✔ 1781

3. ✘ 1833

4. ✘ 1855

Question Number : 42 Question Id : 7164472892 Question Type : MCQ Option Shuffling : Yes Negative Marks Display Text : 1/3 Correct Marks : 1 Wrong Marks : 0.33

In which year was the Madras-Karachi Air Service linked to Hyderabad with Hakimpet as landing ground? మద్రాస్-కరాచీ ఎయిర్ సర్వీస్ హైదరాబాద్ తో హక్కింపేట్ ను ల్యాండింగ్ గ్రౌండ్ గా ఏ సంవత్సరంలో అనుసంధానించబడింది?

Options :

1. ✓ 1935

2. ✘ 1919

3. ✘ 1909

4. ✘ 1915

Question Number : 43 Question Id : 7164472893 Question Type : MCQ Option Shuffling : Yes Negative Marks Display Text : 1/3 Correct Marks : 1 Wrong Marks : 0.33

What was the title of report of second administrative reforms commission (Government Of India) on personnel administration?

సిబ్బంది పరిపాలనపై రెండవ పరిపాలనా సంస్కరణల కమిషన్ (భారత ప్రభుత్వం) యొక్క నివేదిక శీర్షిక(టైటిల్) ఏమిటి?

Options :

Improving the Personnel Administration

1. ✘ ఇంప్రోవింగ్ ది పర్సనల్ అడ్మినిస్ట్రేషన్ (సిబ్బంది పరిపాలన మెరుగుపరచడం)

2. ✘

Enhancing Personnel Administration: Some Insights

ఎన్హాన్సింగ్ పర్సనల్ అడ్మినిస్ట్రేషన్: సమ్ ఇన్సైట్స్ (సిబ్బంది పరిపాలనను వృద్ధిచేయుట: కొన్ని అంతర్దృష్టులు)

3. ✓

Refurbishing of Personnel Administration - Scaling New Heights

రిఫర్మిషింగ్ ఆఫ్ పర్సనల్ అడ్మినిస్ట్రేషన్ - స్కేలింగ్ న్యూ హైట్స్ (సిబ్బంది పరిపాలన యొక్క పునరుద్ధరణ - కొత్త ఎత్తులను అధిరోహించుట)

4. ✘

The Future of Personnel Administration - Way Forward

ది ఫ్యూచర్ ఆఫ్ పర్సనల్ అడ్మినిస్ట్రేషన్ - వే ఫార్వార్డ్ (సిబ్బంది పరిపాలన యొక్క భవిష్యత్తు - పురోగమనం)

Question Number : 44 Question Id : 7164472894 Question Type : MCQ Option Shuffling : Yes Negative Marks Display Text : 1/3 Correct Marks : 1 Wrong Marks : 0.33

Which article of the Indian Constitution deals with the separation of judiciary from executive?

న్యాయవ్యవస్థను పరిపాలన నుండి వేరు చేయడం గురించి భారత రాజ్యాంగంలోని ఏ ఆర్టికల్ వ్యవహరిస్తుంది?

Options :

Article-50

1. ✓ ఆర్టికల్ -50

Article-43

2. ✘ ఆర్టికల్ -43

Article-47

3. ✘ ఆర్టికల్ -47

Article-40

4. ✘ ఆర్టికల్ -40

Question Number : 45 Question Id : 7164472895 Question Type : MCQ Option Shuffling : Yes Negative Marks Display Text : 1/3 Correct Marks : 1 Wrong Marks : 0.33

Under which article of the Indian Constitution the term 'annual financial statement' is mentioned?

భారత రాజ్యాంగంలోని ఏ ఆర్టికల్ కింద 'వార్షిక ఆర్థిక నివేదిక' అనే పదాన్ని ప్రస్తావించారు?

Options :

1. ✘ 110

2. ✘ 102

3. ✘ 120

4. ✓ 112

Question Number : 46 Question Id : 7164472896 Question Type : MCQ Option Shuffling : Yes Negative Marks Display Text : 1/3
Correct Marks : 1 Wrong Marks : 0.33

In which year was the Pradhan Mantri MUDRA Yojana (PMMY) launched?

ప్రధాన మంత్రి ముద్ర యోజన(పీయంయంవై) ఏ సంవత్సరంలో ప్రారంభించబడింది?

Options :

1. ✖ 2014

2. ✖ 2017

3. ✔ 2015

4. ✖ 2019

Question Number : 47 Question Id : 7164472897 Question Type : MCQ Option Shuffling : Yes Negative Marks Display Text : 1/3
Correct Marks : 1 Wrong Marks : 0.33

The 'Pradhan Mantri Matru Vandana Yojana' (PMMVY) was implemented/launched from/in the year:

'ప్రధాన మంత్రి మాతృ వందన యోజన(పీయంయంవీవై)' ఏ సంవత్సరం లో/నుండి అమలు చేయబడింది/ప్రారంభించబడింది:

Options :

1. ✔ 2017

2. ✖ 2011

3. ✖ 2015

4. ✖ 2014

Question Number : 48 Question Id : 7164472898 Question Type : MCQ Option Shuffling : Yes Negative Marks Display Text : 1/3
Correct Marks : 1 Wrong Marks : 0.33

Which part of the Indian Constitution deals with the subject of citizenship?

భారత రాజ్యాంగంలోని ఏ భాగం పౌరసత్వానికి సంబంధించినది?

Options :

PART II

1. ✓ భాగం II

PART III

2. ✘ భాగం III

PART V

3. ✘ భాగం V

PART VII

4. ✘ భాగం VII

Question Number : 49 Question Id : 7164472899 Question Type : MCQ Option Shuffling : Yes Negative Marks Display Text : 1/3
Correct Marks : 1 Wrong Marks : 0.33

Which one of the following subjects is NOT a part of the union list?

కింది అంశాలలో యూనియన్ లిస్ట్(కేంద్ర జాబితా)లో ఏది భాగం కాదు?

Options :

Foreign loans

1. ✘ విదేశీ రుణాలు

Reserve Bank Of India

2. ✘ రిజర్వ్ బ్యాంక్ ఆఫ్ ఇండియా

Post office savings bank

3. ✘ పోస్ట్ ఆఫీస్ సేవింగ్స్ బ్యాంక్

Markets and fairs

4. ✓ మార్కెట్లు మరియు బజార్లు

Question Number : 50 Question Id : 7164472900 Question Type : MCQ Option Shuffling : Yes Negative Marks Display Text : 1/3

Correct Marks : 1 Wrong Marks : 0.33

Which one of the following articles is NOT covered under the third schedule of the Indian Constitution?

ఈ క్రింది ఆర్టికల్స్ లో ఏది భారత రాజ్యాంగంలోని మూడవ షెడ్యూల్ పరిధిలో లేదు?

Options :

1. ✖ 75(4)

2. ✖ 99

3. ✖ 188

4. ✔ 213

Question Number : 51 Question Id : 7164472901 Question Type : MCQ Option Shuffling : Yes Negative Marks Display Text : 1/3

Correct Marks : 1 Wrong Marks : 0.33

Which article of the Indian Constitution deals with the abolition or creation of legislative councils in states?

రాష్ట్రాలలో శాసనమండలిని రద్దు చేయడం లేదా సృష్టించడం గురించి భారత రాజ్యాంగంలోని ఏ ఆర్టికల్ వ్యవహరిస్తుంది?

Options :

1. ✖ 148

2. ✔ 169

3. ✖ 123

4. ✖ 156

Question Number : 52 Question Id : 7164472902 Question Type : MCQ Option Shuffling : Yes Negative Marks Display Text : 1/3

Correct Marks : 1 Wrong Marks : 0.33

In which year was the National e-Governance Division created by Central Ministry of Electronics and Information Technology?

ఎలక్ట్రానిక్స్ మరియు ఇన్ఫర్మేషన్ టెక్నాలజీ కేంద్ర మంత్రిత్వ శాఖ జాతీయ ఇ-గవర్నెన్స్ విభాగాన్ని ఏ సంవత్సరంలో సృష్టించింది?

Options :

1. ✓ 2009

2. ✖ 2004

3. ✖ 2002

4. ✖ 2001

Question Number : 53 Question Id : 7164472903 Question Type : MCQ Option Shuffling : Yes Negative Marks Display Text : 1/3 Correct Marks : 1 Wrong Marks : 0.33

Which one of the following is NOT an e-government project of the state of Andhra Pradesh?

కిందివాటిలో ఏది ఆంధ్రప్రదేశ్ రాష్ట్ర ఇ-గవర్నమెంట్ ప్రాజెక్ట్ కాదు?

Options :

e-Pragati

1. ✖ ఇ-ప్రగతి

Meeseva portal

2. ✖ మీసేవా పోర్టల్

APSWAN

3. ✖ ఎపిస్వాన్

E-mitra

4. ✓ ఇ-మిత్రా

Question Number : 54 Question Id : 7164472904 Question Type : MCQ Option Shuffling : Yes Negative Marks Display Text : 1/3 Correct Marks : 1 Wrong Marks : 0.33

What was the growth rate of Gross State Domestic Product (GSDP) of Andhra Pradesh at constant price (2011-12) for the year 2017-18 (FRE)?

2017-18 (FRE) సంవత్సరానికి స్థిర ధర (2011-12) కు సంబంధించి ఆంధ్రప్రదేశ్ స్థూల రాష్ట్ర దేశీయ ఉత్పత్తి (GSDP) వృద్ధి రేటు ఎంత?

Options :

1. ✖ 9.20%

2. ✔ 11.32 %

3. ✖ 6.96%

4. ✖ 10.40%

Question Number : 55 Question Id : 7164472905 Question Type : MCQ Option Shuffling : Yes Negative Marks Display Text : 1/3 Correct Marks : 1 Wrong Marks : 0.33

Which of the following districts is NOT a part of the north coastal agro climatic zone of Andhra Pradesh?

ఈ క్రింది జిల్లాల్లో ఏది ఆంధ్రప్రదేశ్ యొక్క ఉత్తర తీర వ్యవసాయ వాతావరణ మండలంలో భాగం కాదు?

Options :

Srikakulam

1. ✖ శ్రీకాకుళం

Vizianagaram

2. ✖ విజయనగరం

Visakhapatnam

3. ✖ విశాఖపట్నం

4. ✓ చిత్తూరు

Question Number : 56 Question Id : 7164472906 Question Type : MCQ Option Shuffling : Yes Negative Marks Display Text : 1/3
Correct Marks : 1 Wrong Marks : 0.33

In which Indian state is the Haldia port located?

హల్దియా ఓడరేవు ఏ భారత రాష్ట్రంలో ఉంది?

Options :

Gujrat

1. ✘ గుజరాత్

West Bengal

2. ✓ పశ్చిమ బెంగాల్

Odisha

3. ✘ ఒడిషా

Tamil Nadu

4. ✘ తమిళనాడు

Question Number : 57 Question Id : 7164472907 Question Type : MCQ Option Shuffling : Yes Negative Marks Display Text : 1/3
Correct Marks : 1 Wrong Marks : 0.33

In which year did the nationalisation of 14 commercial banks take place?

14 వాణిజ్య బ్యాంకుల జాతీయం ఏ సంవత్సరంలో జరిగింది?

Options :

1. ✓ 1969

2. ✖ 1972

3. ✖ 1965

4. ✖ 1977

Question Number : 58 Question Id : 7164472908 Question Type : MCQ Option Shuffling : Yes Negative Marks Display Text : 1/3 Correct Marks : 1 Wrong Marks : 0.33

What is the rank of India in the Human Development Index of 2019 released by United Nations Development Programme?

ఐక్యరాజ్యసమితి అభివృద్ధి కార్యక్రమం విడుదల చేసిన 2019 మానవ అభివృద్ధి సూచికలో భారతదేశం యొక్క ర్యాంక్ ఎంత?

Options :

1. ✔ 129

2. ✖ 135

3. ✖ 138

4. ✖ 120

Question Number : 59 Question Id : 7164472909 Question Type : MCQ Option Shuffling : Yes Negative Marks Display Text : 1/3 Correct Marks : 1 Wrong Marks : 0.33

In which year was the NITI Aayog established?

నీతి ఆయోగ్ ఏ సంవత్సరంలో స్థాపించబడింది?

Options :

1. ✔ 2015

2. ✖ 2017

3. ✖ 2012

4. ✖ 2013

Question Number : 60 Question Id : 7164472910 Question Type : MCQ Option Shuffling : Yes Negative Marks Display Text : 1/3
Correct Marks : 1 Wrong Marks : 0.33

Mount Koyob is located at:

కోయోబ్ పర్వతం ఇక్కడ ఉంది:

Options :

Lakshadweep

1. ✖ లక్షదీప్

Andaman and Nicobar Islands

2. ✔ అండమాన్ మరియు నికోబార్ దీవులు

Manipur

3. ✖ మణిపూర్

Himachal Pradesh

4. ✖ హిమాచల్ ప్రదేశ్

Question Number : 61 Question Id : 7164472911 Question Type : MCQ Option Shuffling : Yes Negative Marks Display Text : 1/3
Correct Marks : 1 Wrong Marks : 0.33

Which coastal region has got certain distinguishing features known as 'Kayals'?

ఏ తీర ప్రాంతానికి 'కాయల్స్' అని పిలువబడే కొన్ని విశేషమైన లక్షణాలు ఉన్నాయి?

Options :

Kathiawar coast

1. ✖ కతియావార్ తీరం

Konkan coast

2. ✖ కొంకణ్ తీరం

Goa coast

3. ✖ గోవా తీరం

Malabar coast

4. ✔ మలబార్ తీరం

Question Number : 62 Question Id : 7164472912 Question Type : MCQ Option Shuffling : Yes Negative Marks Display Text : 1/3 Correct Marks : 1 Wrong Marks : 0.33

How much of drainage area in the Indian drainage system is oriented towards the Bay of Bengal?

భారతీయ పారుదల వ్యవస్థలో బంగాళాఖాతం వైపుకు పారుదల విస్తీర్ణం ఎంత ఉంది?

Options :

1. ✖ 60%

2. ✖ 23%

3. ✔ 77%

4. ✖ 40%

Question Number : 63 Question Id : 7164472913 Question Type : MCQ Option Shuffling : Yes Negative Marks Display Text : 1/3 Correct Marks : 1 Wrong Marks : 0.33

Which river is known as 'Singi Khamban' in Tibet?

టిబెట్లోని ఏ నదిని 'సింగి ఖంబన్' అని అంటారు ?

Options :

Chambal

1. ✖ చంబల్

Brahmaputra

2. ✘ బ్రహ్మపుత్ర

Ganges

3. ✘ గంగ

Indus

4. ✔ సింధునది

Question Number : 64 Question Id : 7164472914 Question Type : MCQ Option Shuffling : Yes Negative Marks Display Text : 1/3
Correct Marks : 1 Wrong Marks : 0.33

According to Koppen's scheme of climatic regions of India, what does 'E' represent?

భారతదేశ వాతావరణ మండలి పథకమైన 'కోప్పెన్' ప్రకారం, 'ఇ(E)' దేనిని సూచిస్తుంది?

Options :

Monsoon with dry winter

1. ✘ పొడి శీతాకాలంతో రుతుపవనాలు

Hot desert

2. ✘ ఉష్ణ ఎడారి

Polar type

3. ✔ ధ్రువ రకం

Monsoon with dry summer

4. ✘ పొడి వేసవితో రుతుపవనాలు

Question Number : 65 Question Id : 7164472915 Question Type : MCQ Option Shuffling : Yes Negative Marks Display Text : 1/3
Correct Marks : 1 Wrong Marks : 0.33

In which state of India does the river Luni originate?

లూని నది భారతదేశంలో ఏ రాష్ట్రంలో ఉద్భవించింది?

Options :

Nagaland

1. ✘ నాగాలాండ్

Rajasthan

2. ✔ రాజస్థాన్

Sikkim

3. ✘ సిక్కిం

Tamil Nadu

4. ✘ తమిళనాడు

Question Number : 66 Question Id : 7164472916 Question Type : MCQ Option Shuffling : Yes Negative Marks Display Text : 1/3 Correct Marks : 1 Wrong Marks : 0.33

In which year was the Central Arid Zone Research Institute (CAZRI) established?

సెంట్రల్ అరిడ్ జోన్ రీసెర్చ్ ఇన్స్టిట్యూట్ (CAZRI) ఏ సంవత్సరంలో స్థాపించబడింది?

Options :

1. ✘ 1985

2. ✔ 1959

3. ✘ 1971

4. ✘ 1965

Question Number : 67 Question Id : 7164472917 Question Type : MCQ Option Shuffling : Yes Negative Marks Display Text : 1/3 Correct Marks : 1 Wrong Marks : 0.33

The Rann of Kachchh is part of the state of:

'రన్ ఆఫ్ కచ్' ఈ రాష్ట్రంలోని భాగం:

Options :

Punjab

1. ✘ పంజాబ్

Karnataka

2. ✘ కర్ణాటక

Gujrat

3. ✔ గుజరాత్

Goa

4. ✘ గోవా

Question Number : 68 Question Id : 7164472918 Question Type : MCQ Option Shuffling : Yes Negative Marks Display Text : 1/3
Correct Marks : 1 Wrong Marks : 0.33

The river Bharathapuzha flows mainly in which state ?

భరతపుళ నది ప్రధానంగా ఏ రాష్ట్రంలో ప్రవహిస్తుంది?

Options :

Kerala

1. ✔ కేరళ

Himachal Pradesh

2. ✘ హిమాచల్ ప్రదేశ్

Bihar

3. ✖ బీహార్

Haryana

4. ✖ హర్యానా

Question Number : 69 Question Id : 7164472919 Question Type : MCQ Option Shuffling : Yes Negative Marks Display Text : 1/3
Correct Marks : 1 Wrong Marks : 0.33

In which year was the Project Elephant launched?

ప్రాజెక్ట్ ఎలిఫెంట్ ఏ సంవత్సరంలో ప్రారంభించబడింది?

Options :

1. ✓ 1992

2. ✖ 1985

3. ✖ 2003

4. ✖ 2005

Question Number : 70 Question Id : 7164472920 Question Type : MCQ Option Shuffling : Yes Negative Marks Display Text : 1/3
Correct Marks : 1 Wrong Marks : 0.33

Which biosphere reserve is a part of Delta of Ganges and Brahmaputra river system?

గంగా మరియు బ్రహ్మపుత్ర మైదానప్రాంత నదీ వ్యవస్థలో భాగమైన బయోస్పియర్ రిజర్వ్ ఏది?

Options :

Pachmarhi

1. ✖ పచ్మర్హి

Nilgiri

2. ✖ నీలగిరి

Sunderbans

3. ✓ సుందర్బాన్స్

Agasthyamalai

4. ✘ అగస్త్యమలై

Question Number : 71 Question Id : 7164472921 Question Type : MCQ Option Shuffling : Yes Negative Marks Display Text : 1/3
Correct Marks : 1 Wrong Marks : 0.33

From the following states, which one usually witnesses the 'blossom shower'?

'బ్లోసమ్ షవర్' ను సాధారణంగా క్రింది రాష్ట్రాలలో ఏది చూస్తుంది?

Options :

Kerala

1. ✓ కేరళ

Rajasthan

2. ✘ రాజస్థాన్

Nagaland

3. ✘ నాగాలాండ్

Punjab

4. ✘ పంజాబ్

Question Number : 72 Question Id : 7164472922 Question Type : MCQ Option Shuffling : Yes Negative Marks Display Text : 1/3
Correct Marks : 1 Wrong Marks : 0.33

Which type of soil is also known as 'regur soil'?

ఏ రకమైన నేలను 'రేగుర్ నేల' అని కూడా పిలుస్తారు?

Options :

Forest Soil

1. ✘ అటవీ నేల

Laterite soils

2. ✘ లాటరైట్ నేలలు

Arid soils

3. ✘ శుష్క (మెట్ట) నేలలు

Black soil

4. ✔ నల్లరేగడి నేల

Question Number : 73 Question Id : 7164472923 Question Type : MCQ Option Shuffling : Yes Negative Marks Display Text : 1/3
Correct Marks : 1 Wrong Marks : 0.33

In which year did the World Conference on Disaster Management at Yokohama take place?

యోకోహామాలో విపత్తు నిర్వహణపై ప్రపంచ సమావేశం ఏ సంవత్సరంలో జరిగింది?

Options :

1. ✔ 1994

2. ✘ 1999

3. ✘ 1997

4. ✘ 2001

Question Number : 74 Question Id : 7164472924 Question Type : MCQ Option Shuffling : Yes Negative Marks Display Text : 1/3
Correct Marks : 1 Wrong Marks : 0.33

Which one of the following is not an atmospheric natural disaster?

కిందివాటిలో ఏది వాతావరణ ప్రకృతి విపత్తు కాదు?

Options :

Blizzards

1. ✖ మంచు తుఫానులు

Lightning

2. ✖ మెరుపు

Hailstorm

3. ✖ వడగండ వాన

Earthquake

4. ✔ భూకంపం

Question Number : 75 Question Id : 7164472925 Question Type : MCQ Option Shuffling : Yes Negative Marks Display Text : 1/3
Correct Marks : 1 Wrong Marks : 0.33

Which among the following decades was declared as International decade for Natural Disaster Reduction (IDNDR)?

క్రింది వాటిలో ఏ దశాబ్దాన్ని, అంతర్జాతీయ ప్రకృతి విపత్తుల తగ్గింపు దశాబ్దం(IDNDR) గా ప్రకటించారు?

Options :

1. ✔ 1990-2000

2. ✖ 2001-2010

3. ✖ 2011-2020

4. ✖ 1971-1980

Question Number : 76 Question Id : 7164472926 Question Type : MCQ Option Shuffling : Yes Negative Marks Display Text : 1/3
Correct Marks : 1 Wrong Marks : 0.33

The Indian Tsunami Early Warning Centre (ITEWC) is located at:

ఇండియన్ సునామి ఎర్లీ వార్నింగ్ సెంటర్ (ITEWC) ఇక్కడ ఉంది:

Options :

Hyderabad

1. ✓ హైదరాబాద్

Chennai

2. ✘ చెన్నై

Kochi

3. ✘ కోచ్చి

Mumbai

4. ✘ ముంబై

Question Number : 77 Question Id : 7164472927 Question Type : MCQ Option Shuffling : Yes Negative Marks Display Text : 1/3
Correct Marks : 1 Wrong Marks : 0.33

Who is the Chairman of the National Disaster Management Authority?

జాతీయ విపత్తు నిర్వహణ అధారిటీ యొక్క చైర్మన్ ఎవరు?

Options :

Prime Minister of India

1. ✓ భారత ప్రధానమంత్రి

Home Minister of India

2. ✘ భారత హోం మంత్రి

Finance Minister of India

3. ✘ భారత ఆర్థిక మంత్రి

4. ✖ భారత రక్షణ మంత్రి

Question Number : 78 Question Id : 7164472928 Question Type : MCQ Option Shuffling : Yes Negative Marks Display Text : 1/3
Correct Marks : 1 Wrong Marks : 0.33

The 'three mile island' nuclear accident took place in which country?

'త్రీ మైల్ ఐలాండ్ (మూడు మైళ్ల ద్వీపం)' అణు ప్రమాదం ఏ దేశంలో జరిగింది?

Options :

USA

1. ✔ యుఎస్ఎ

Japan

2. ✖ జపాన్

Australia

3. ✖ ఆస్ట్రేలియా

France

4. ✖ ఫ్రాన్స్

Question Number : 79 Question Id : 7164472929 Question Type : MCQ Option Shuffling : Yes Negative Marks Display Text : 1/3
Correct Marks : 1 Wrong Marks : 0.33

Which one of the following is NOT provided by the Bhuvan disaster management support services of ISRO?

ఇస్రో యొక్క భువన్ విపత్తు నిర్వహణ మద్దతు సేవలు ఈ క్రింది వాటిలో దేనికి అందించలేదు?

Options :

National database for emergency management - NDEM

1. ✖ అత్యవసర నిర్వహణ కోసం జాతీయ డేటాబేస్ - NDEM

Drought monitoring

2. ✘ కరువు పర్యవేక్షణ

Near-real-time flood monitoring

3. ✘ నియర్ -రియల్-టైమ్ ఫ్లడ్ మానిటరింగ్(వరద పర్యవేక్షణ)

Early nuclear hazard warning service

4. ✔ ఎర్లీ న్యూక్లియర్ హజార్డ్ వార్నింగ్ సర్వీస్ (ప్రారంభ అణు ప్రమాద హెచ్చరిక సేవ)

Question Number : 80 Question Id : 7164472930 Question Type : MCQ Option Shuffling : Yes Negative Marks Display Text : 1/3
Correct Marks : 1 Wrong Marks : 0.33

The National Institute of Disaster Management (NIDM) is situated at:

నేషనల్ ఇన్స్టిట్యూట్ ఆఫ్ డిజాస్టర్ మేనేజ్మెంట్ (NIDM) ఇక్కడ ఉంది:

Options :

New Delhi

1. ✔ న్యూఢిల్లీ

Jabalpur

2. ✘ జబల్పూర్

Pune

3. ✘ పూణే

Surat

4. ✘ సూరత్

Question Number : 81 Question Id : 7164472931 Question Type : MCQ Option Shuffling : Yes Negative Marks Display Text : 1/3
Correct Marks : 1 Wrong Marks : 0.33

Which one of the following activities is NOT a part of the post-disaster phase?

ఈ క్రింది కార్యకలాపాలలో ఏది విపత్తు అనంతరం చేపట్టే దశలో భాగం కాదు?

Options :

Recovery

1. ✘ కోలుకోవడం(స్వస్థత పొందడం)

Rehabilitation

2. ✘ పునరావాసం

Reconstruction

3. ✘ పునర్నిర్మాణం

Prevention and mitigation

4. ✔ నివారణ మరియు ఉపశమనం

Question Number : 82 Question Id : 7164472932 Question Type : MCQ Option Shuffling : Yes Negative Marks Display Text : 1/3
Correct Marks : 1 Wrong Marks : 0.33

In which year did the Latur earthquake struck Maharashtra?

లాటూర్ భూకంపం మహారాష్ట్రలో ఏ సంవత్సరంలో సంభవించింది?

Options :

1. ✘ 2005

2. ✘ 2010

3. ✔ 1993

4. ✘ 1989

At which place is the National Remote Sensing Centre (NRSC) headquartered?

నేషనల్ రిమోట్ సెన్సింగ్ సెంటర్ (NRSC) ప్రధాన కార్యాలయం ఏ ప్రదేశంలో ఉంది?

Options :

Hyderabad

1. ✓ హైదరాబాద్

Jaipur

2. ✘ జైపూర్

Amritsar

3. ✘ అమృత్ సర్

Agra

4. ✘ ఆగ్రా

In which year was the Sendai Framework for Disaster Risk Reduction adopted by the United Nations member states?

‘విపత్తు ప్రమాదాన్ని తగ్గించే సెండాయ్ ముసాయిదా’ ను ఐక్యరాజ్యసమితి సభ్య దేశాలు ఏ సంవత్సరంలో స్వీకరించాయి?

Options :

1. ✘ 2013

2. ✓ 2015

3. ✘ 2010

4. ✘ 2012

Question Number : 85 Question Id : 7164472935 Question Type : MCQ Option Shuffling : Yes Negative Marks Display Text : 1/3
Correct Marks : 1 Wrong Marks : 0.33

Who is the author of the book 'Silent Spring'?

'సైలెంట్ స్ప్రింగ్' పుస్తక రచయిత ఎవరు?

Options :

Rachel Carson

1. ✓ రాచెల్ కార్సన్

Linda Buck

2. ✗ లిండా బక్

Greg Semenza

3. ✗ గ్రెగ్ సెమెన్జా

Peter Ratcliffe

4. ✗ పీటర్ రాట్క్లిఫ్

Question Number : 86 Question Id : 7164472936 Question Type : MCQ Option Shuffling : Yes Negative Marks Display Text : 1/3
Correct Marks : 1 Wrong Marks : 0.33

In which year did the Brundtland Commission give its report on sustainable development?

సుస్థిర అభివృద్ధిపై బ్రండ్ల్యాండ్ కమిషన్ తన నివేదికను ఏ సంవత్సరంలో ఇచ్చింది?

Options :

1. ✓ 1987

2. ✗ 1991

3. ✗ 1980

4. ✖ 1982

Question Number : 87 Question Id : 7164472937 Question Type : MCQ Option Shuffling : Yes Negative Marks Display Text : 1/3
Correct Marks : 1 Wrong Marks : 0.33

In which year was the agenda known as 'Transforming our world: the 2030 Agenda for Sustainable Development' adopted?

'సుస్థిర అభివృద్ధి కోరకు మన ప్రపంచాన్ని మార్చడం: అజెండా 2030' అని పిలువబడే అజెండా ఏ సంవత్సరంలో స్వీకరించబడింది?

Options :

1. ✖ 2012

2. ✖ 2019

3. ✖ 2017

4. ✔ 2015

Question Number : 88 Question Id : 7164472938 Question Type : MCQ Option Shuffling : Yes Negative Marks Display Text : 1/3
Correct Marks : 1 Wrong Marks : 0.33

Which one of the following is NOT a Sustainable Development Goal (SDG) adopted by the United Nations?

కింది వాటిలో ఏది ఐక్యరాజ్యసమితి స్వీకరించిన సుస్థిర అభివృద్ధి లక్ష్యం (SDG) లో ఒకటి కాదు?

Options :

No poverty

1. ✖ పేదరికం నిర్మూలన

Zero hunger

2. ✖ ఆకలి లేని (జీరో హంగర్)

Gender equality

3. ✖ లింగ సమానత్వం

Conflict free outer space

4. ✓ సంఘర్షణ లేని బయటి ప్రాంతం (కాన్ఫ్లిక్ట్ ఫ్రీ అవుటర్ స్పేస్)

Question Number : 89 Question Id : 7164472939 Question Type : MCQ Option Shuffling : Yes Negative Marks Display Text : 1/3 Correct Marks : 1 Wrong Marks : 0.33

In which year was Agenda 21 - a comprehensive plan of action to build a global partnership for sustainable development to improve human lives and protect the environment - adopted?

అజెండా 21 - మానవ జీవితాలను మెరుగుపరచడానికి మరియు పర్యావరణాన్ని పరిరక్షించడానికి సుస్థిర అభివృద్ధి కోసం ప్రపంచ భాగస్వామ్యాన్ని నిర్మించడానికి సమగ్ర కార్యాచరణ ప్రణాళిక - ఏ సంవత్సరంలో స్వీకరించబడింది?

Options :

1. ✓ 1992

2. ✘ 2005

3. ✘ 1990

4. ✘ 1988

Question Number : 90 Question Id : 7164472940 Question Type : MCQ Option Shuffling : Yes Negative Marks Display Text : 1/3 Correct Marks : 1 Wrong Marks : 0.33

Which of the following definitions is given by Brundtland Commission about sustainable development?

సుస్థిర అభివృద్ధి గురించి బ్రండ్ల్యాండ్ కమిషన్ ఈ క్రింది వాటిలో ఏ నిర్వచనాన్ని ఇచ్చింది?

Options :

The earth has scant resources, so they need to be spent wisely.

1. ✘ భూమికి తక్కువ వనరులు ఉన్నాయి, కాబట్టి వాటిని తెలివిగా ఖర్చు చేయాలి.

2. ✓

Development that meets the needs of the present without compromising the ability of future generations to meet their own needs.

భవిష్యత్ తరాల వారి స్వంత అవసరాలను తీర్చగల సామర్థ్యానికి రాజీ పడకుండా ప్రస్తుత తరాల వారి అవసరాలను తీర్చగల అభివృద్ధి.

Earth has everything for human needs but not for their greed.

3. ✖ భూమి మానవ అవసరాలకు సంబంధించిన ప్రతిదీ కలిగివుంది కాని వారి దురాశ కోసం కాదు.

Development is an all-round activity.

4. ✖ అభివృద్ధి అనేది ఒక విస్తృత చర్య.

Question Number : 91 Question Id : 7164472941 Question Type : MCQ Option Shuffling : Yes Negative Marks Display Text : 1/3 Correct Marks : 1 Wrong Marks : 0.33

In which year was the United Nations Environment Programme (UNEP) established?

ఐక్యరాజ్యసమితి పర్యావరణ కార్యక్రమం (UNEP) ఏ సంవత్సరంలో స్థాపించబడింది?

Options :

1. ✖ 1985

2. ✖ 1977

3. ✖ 1975

4. ✓ 1972

Question Number : 92 Question Id : 7164472942 Question Type : MCQ Option Shuffling : Yes Negative Marks Display Text : 1/3 Correct Marks : 1 Wrong Marks : 0.33

In which year was the Environment (Protection) Act of India enacted?

భారతదేశ పర్యావరణ (సంరక్షణ) చట్టం ఏ సంవత్సరంలో అమలు చేయబడింది?

Options :

1. ✓ 1986

2. ✖ 1990

3. ✖ 1992

4. ✖ 1994

Question Number : 93 Question Id : 7164472943 Question Type : MCQ Option Shuffling : Yes Negative Marks Display Text : 1/3
Correct Marks : 1 Wrong Marks : 0.33

The Montreal Protocol - to control the emission of ozone depleting substances - was signed in the year:

ఓజోన్ క్షీణత పదార్థాల ఉద్గారాలను నియంత్రించడానికి ఉద్దేశ్యించిన మాంట్రీయల్ ప్రోటోకాల్ ఈ సంవత్సరంలో సంతకం చేయబడింది:

Options :

1. ✔ 1987

2. ✖ 1991

3. ✖ 1972

4. ✖ 1996

Question Number : 94 Question Id : 7164472944 Question Type : MCQ Option Shuffling : Yes Negative Marks Display Text : 1/3
Correct Marks : 1 Wrong Marks : 0.33

Amrita Devi Bishnoi, who sacrificed her life for protection of trees, belonged to which modern-day Indian state?

చెట్ల పరిరక్షణకు ప్రాణత్యాగం చేసిన అమృత దేవి బిష్నోయ్ ఏ ఆధునిక భారత రాష్ట్రానికి చెందినవారు?

Options :

Haryana

1. ✖ హర్యానా

Punjab

2. ✖ పంజాబ్

Rajasthan

3. ✔ రాజస్థాన్

4. * మధ్యప్రదేశ్

Question Number : 95 Question Id : 7164472945 Question Type : MCQ Option Shuffling : Yes Negative Marks Display Text : 1/3
Correct Marks : 1 Wrong Marks : 0.33

What is eutrophication?

యూట్రోఫికేషన్ అంటే ఏమిటి?

Options :

1. ✓

Eutrophication is the natural aging of a lake by biological enrichment of its water.

యూట్రోఫికేషన్ అంటే సరస్సు యొక్క నీటి జీవశాస్త్ర సంబంధిత వనరులను శక్తిమంతం చేయడం ద్వారా సరస్సు సహజ వృద్ధాప్యం.

It refers to the increase in the concentration of the toxicant at successive trophic levels.

2. * ఇది వరుస ట్రోఫిక్ (పోషక జీవనాధార) స్థాయిలలో విషపూరిత సాంద్రత పెరుగుదలను సూచిస్తుంది.

It is the process of increasing soil fertility.

3. * ఇది నేల సారవంతాన్ని పెంచే ప్రక్రియ.

It is the process of restoring a forest that once existed.

4. * ఇది ఒకప్పుడు ఉన్న అడవిని పునరుద్ధరించే ప్రక్రియ.

Question Number : 96 Question Id : 7164472946 Question Type : MCQ Option Shuffling : Yes Negative Marks Display Text : 1/3
Correct Marks : 1 Wrong Marks : 0.33

Who among the following was closely associated with Chipko Movement?

కింది వారిలో ఎవరు చిప్కో ఉద్యమంతో దగ్గరి సంబంధంను కలిగి ఉన్నారు?

Options :

Rajendra Singh

1. * రాజేంద్ర సింగ్

Sunderlal Bahuguna

2. ✓ సుందర్‌లాల్ బహుగుణ

Aruna Roy

3. ✘ అరుణారాయ్

Vinoba Bhave

4. ✘ వినోబాభావే

Question Number : 97 Question Id : 7164472947 Question Type : MCQ Option Shuffling : Yes Negative Marks Display Text : 1/3

Correct Marks : 1 Wrong Marks : 0.33

The thickness of the ozone in a column of air from the ground to the top of the atmosphere is measured in terms of:

భూమి నుండి వాతావరణం పైభాగానికి గాలి పరుసలో ఓజోన్ యొక్క మందం ఈ విధంగా కొలుస్తారు:

Options :

Dobson unit

1. ✓ డాబ్సన్ యూనిట్

Decible unit

2. ✘ డెసిబుల్ యూనిట్

Dolby unit

3. ✘ డాల్బీ యూనిట్

Mach unit

4. ✘ మాక్ యూనిట్

Question Number : 98 Question Id : 7164472948 Question Type : MCQ Option Shuffling : Yes Negative Marks Display Text : 1/3

Correct Marks : 1 Wrong Marks : 0.33

In which year was the Johannesburg Declaration on Sustainable Development and the Plan of Implementation - adopted at the World Summit on Sustainable Development in South Africa -published?

దక్షిణాఫ్రికాలో సుస్థిర అభివృద్ధిపై ప్రపంచ సదస్సులో ఆమోదించబడిన సుస్థిర అభివృద్ధి మరియు అమలు ప్రణాళికపై జోహాన్నెస్బర్గ్ ప్రకటన ఏ సంవత్సరంలో ప్రచురించబడింది?

Options :

1. ✓ 2002

2. ✘ 2005

3. ✘ 2011

4. ✘ 2013

Question Number : 99 Question Id : 7164472949 Question Type : MCQ Option Shuffling : Yes Negative Marks Display Text : 1/3 Correct Marks : 1 Wrong Marks : 0.33

Who is the author of the book 'Small Is Beautiful'?

'స్మాల్ ఈజ్ బ్యూటీఫుల్' పుస్తక రచయిత ఎవరు?

Options :

Alice Munro

1. ✘ ఆలిస్ మన్రో

Doris Lessing

2. ✘ డోరిస్ లెస్సింగ్

EF Schumacher

3. ✓ ఇఎఫ్ షూమేకర్

4. ✖ టోని మోరిసన్

Question Number : 100 Question Id : 7164472950 Question Type : MCQ Option Shuffling : Yes Negative Marks Display Text : 1/3 Correct Marks : 1 Wrong Marks : 0.33

In which year did the bifurcation of Andhra Pradesh take place to carve out two states of Andhra Pradesh and Telangana?

రెండు రాష్ట్రాలు ఆంధ్రప్రదేశ్ మరియు తెలంగాణాలను రూపొందించడానికి ఆంధ్రప్రదేశ్ యొక్క విభజన ఏ సంవత్సరంలో జరిగింది?

Options :

1. ✖ 2017

2. ✓ 2014

3. ✖ 2012

4. ✖ 2016

Question Number : 101 Question Id : 7164472951 Question Type : MCQ Option Shuffling : Yes Negative Marks Display Text : 1/3 Correct Marks : 1 Wrong Marks : 0.33

Who headed the committee constituted by Union Home Ministry after the bifurcation of Andhra Pradesh to study the alternatives for a new state capital?

ఆంధ్రప్రదేశ్ ను విభజించిన తరువాత కోత్త రాష్ట్ర రాజధానికి ప్రత్యామ్నాయాలను అధ్యయనం చేయడానికి కేంద్ర హోం మంత్రిత్వ శాఖ ఏర్పాటు చేసిన కమిటీకి ఎవరు అధ్యక్షత వహించారు?

Options :

Ajit Doval

1. ✖ అజిత్ దోవల్

GC Murmu

2. ✖ జి.సి ముర్ము

3. ✓ కె.సి.శివరామకృష్ణన్

RC Lohati

4. ✘ ఆర్.సి.లోహతి

Question Number : 102 Question Id : 7164472952 Question Type : MCQ Option Shuffling : Yes Negative Marks Display Text : 1/3 Correct Marks : 1 Wrong Marks : 0.33

According to the Andhra Pradesh Reorganisation Act 2014, who has been empowered with 'special responsibility for the security of life, liberty and property' of all those who reside in the Greater Hyderabad Municipal Corporation (GHMC) area?

ఆంధ్రప్రదేశ్ పునర్వ్యవస్థీకరణ చట్టం 2014 ప్రకారం, గ్రేటర్ హైదరాబాద్ మునిసిపల్ కార్పొరేషన్ (GHMC) ప్రాంతంలో నివసించే వారందరికీ 'జీవితం, స్వేచ్ఛ మరియు ఆస్తి భద్రత కోసం ప్రత్యేక బాధ్యత'ను ఇచ్చే అధికారం ఎవరికి ఉంది?

Options :

President of India

1. ✘ భారత రాష్ట్రపతి

Governor of the state

2. ✓ రాష్ట్ర గవర్నర్

Prime Minister of India

3. ✘ భారత ప్రధానమంత్రి

Home Minister of India

4. ✘ భారత హోం మంత్రి

Question Number : 103 Question Id : 7164472953 Question Type : MCQ Option Shuffling : Yes Negative Marks Display Text : 1/3 Correct Marks : 1 Wrong Marks : 0.33

Which part of the Andhra Pradesh Reorganisation Act 2014 deals with the apportionment of employees - all-India services and state government employees in local, district, zonal, multi-zonal and state cadres - between the two states?

ఆంధ్రప్రదేశ్ పునర్వ్యవస్థీకరణ చట్టం 2014 లోని ఏ భాగం, రెండు రాష్ట్రాల మధ్య స్థానిక, జిల్లా, మండల, బహుళ-మండల మరియు రాష్ట్ర స్థాయిలలో అఖిల భారత సేవలు మరియు రాష్ట్ర ప్రభుత్వ ఉద్యోగుల విభజనతో వ్యవహరిస్తుంది?

Options :

Part VIII

1. ✓ భాగం VIII

Part V

2. ✘ భాగం V

Part II

3. ✘ భాగం II

Part IV

4. ✘ భాగం IV

Question Number : 104 Question Id : 7164472954 Question Type : MCQ Option Shuffling : Yes Negative Marks Display Text : 1/3 Correct Marks : 1 Wrong Marks : 0.33

Which of the following is mentioned in the Section 95 of Andhra Pradesh State Reorganisation Act, 2014 ?

ఈ క్రింది వాటిలో ఏది ఆంధ్రప్రదేశ్ రాష్ట్ర పునర్వ్యవస్థీకరణ చట్టం, 2014 లోని సెక్షన్ 95 లో పేర్కొనబడింది?

Options :

The division of districts as per the decided formula.

1. ✘ నిర్ణయించిన ప్రణాళిక ప్రకారం జిల్లాల విభజన.

2. ✓

Equal opportunities for quality higher education to all students in the successor states with reference to Article 371 d for ten years.

'ఆర్టికల్ 371 d' తో పదేళ్ల పాటు పునఃస్థాపిత రాష్ట్రాల్లోని విద్యార్థులందరికీ నాణ్యమైన ఉన్నత విద్యకు సమాన అవకాశాలు.

The revenue sharing formula as envisaged by finance commission under Article 280.

3. ✘ ఆర్టికల్ 280 కింద ఫైనాన్స్ కమిషన్ ఉహించిన విధంగా ఆదాయ పంపక ప్రణాళిక(ఫార్ములా).

The sharing of river water as per the decided formula.

4. ✘ నిర్ణయించిన ప్రణాళిక(ఫార్ములా) ప్రకారం నది నీటిని పంచుకోవడం.

The Andhra Pradesh Rural Inclusive Growth Project (APRIGP) is being carried out with the help of:

ఆంధ్రప్రదేశ్ రూరల్ ఇంక్లూజివ్ గ్రోత్ ప్రాజెక్టు (APRIGP), దీని సహాయంతో పనిచేస్తుంది:

Options :

World Bank

1. ✓ ప్రపంచ బ్యాంక్ (వరల్డ్ బ్యాంక్)

Asian Development Bank

2. ✘ ఆసియా అభివృద్ధి బ్యాంకు (ఆసియా డెవలప్మెంట్ బ్యాంక్)

3. ✘

Organisation of Economic Cooperation and Development

ఆర్థిక సహకారం మరియు అభివృద్ధి సంస్థ (ఆర్గనైజేషన్ ఆఫ్ ఎకనామిక్ కోఆపరేషన్ అండ్ డెవలప్మెంట్)

Japan International Cooperation Agency

4. ✘ జపాన్ అంతర్జాతీయ సహకార సంస్థ (జపాన్ ఇంటర్నేషనల్ కోఆపరేషన్ ఏజెన్సీ)

What has been Andhra Pradesh's composite score in SDG India Index 2019 prepared by NITI Aayog?

నీతి ఆయోగ్ సిద్ధం చేసిన ఎస్డిజి (SDG) ఇండియా ఇండెక్స్ 2019 లో ఆంధ్రప్రదేశ్ పొందిన మిశ్రమ స్కోరు ఎంత?

Options :

1. ✘ 70

2. ✓ 60

3. ✘ 67

4. ✘ 55

Question Number : 107 Question Id : 7164472957 Question Type : MCQ Option Shuffling : Yes Negative Marks Display Text : 1/3 Correct Marks : 1 Wrong Marks : 0.33

How many districts were there in the state of Andhra Pradesh post its bifurcation?

విభజన తర్వాత ఆంధ్రప్రదేశ్ రాష్ట్రంలో ఎన్ని జిల్లాలు ఉన్నాయి?

Options :

1. ✓ 13

2. ✗ 15

3. ✗ 19

4. ✗ 21

Question Number : 108 Question Id : 7164472958 Question Type : MCQ Option Shuffling : Yes Negative Marks Display Text : 1/3 Correct Marks : 1 Wrong Marks : 0.33

What is the strength of legislative assembly, as of 2019, of the state of Andhra Pradesh?

2019 నాటికి, ఆంధ్రప్రదేశ్ రాష్ట్ర శాసనసభ సభ్యుల సంఖ్య ఎంత?

Options :

1. ✓ 175

2. ✗ 160

3. ✗ 165

4. ✗ 156

Question Number : 109 Question Id : 7164472959 Question Type : MCQ Option Shuffling : Yes Negative Marks Display Text : 1/3 Correct Marks : 1 Wrong Marks : 0.33

What is the percentage area of Andhra Pradesh out of the total area of India?

భారతదేశం యొక్క మొత్తం విస్తీర్ణంలో ఆంధ్రప్రదేశ్ విస్తీర్ణ శాతం ఎంత?

Options :

1. ✓ 4.96%

2. ✘ 3.29%

3. ✘ 5.16%

4. ✘ 10.23%

Question Number : 110 Question Id : 7164472960 Question Type : MCQ Option Shuffling : Yes Negative Marks Display Text : 1/3 Correct Marks : 1 Wrong Marks : 0.33

Which of the following is the largest district of Andhra Pradesh in terms of its geographical area?

భౌగోళిక విస్తీర్ణ పరంగా క్రింది వాటిలో ఆంధ్రప్రదేశ్‌లోని అతిపెద్ద జిల్లా ఏది?

Options :

Anantapur

1. ✓ అనంతపురం

Srikakulam

2. ✘ శ్రీకాకుళం

Vizianagaram

3. ✘ విజయనగరం

Nellore

4. ✘ నెల్లూరు

Sub-Section Number:

2

Sub-Section Id:

71644714

Question Shuffling Allowed :

Yes

Question Number : 111 Question Id : 7164472961 Question Type : MCQ Option Shuffling : Yes Negative Marks Display Text : 1/3

Correct Marks : 1 Wrong Marks : 0.33

'AQRT' is related to 'TJKM' in the same way as 'EYZF' is related to _____.

'AQRT' అనేది 'TJKM' కు సంబంధించిన విధముగానే 'EYZF' _____ కి సంబంధించినది.

Options :

1. ✓ XRSY

2. ✗ MDPK

3. ✗ XVWS

4. ✗ QTRB

Question Number : 112 Question Id : 7164472962 Question Type : MCQ Option Shuffling : Yes Negative Marks Display Text : 1/3

Correct Marks : 1 Wrong Marks : 0.33

If 'King' is related to 'Palace' in some way, which of the following best relate to 'Horse' in the same way?

ఒకానొక విధంగా 'King' అనేది 'Palace' కి సంబంధించినది అయితే, అదే విధముగా కింది వాటిలో 'Horse' అనేదానికి ఏది ఉత్తమంగా సంబంధం కలిగి ఉంటుంది?

Options :

1. ✗ Gallop

2. ✗ Scamper

3. ✓ Stable

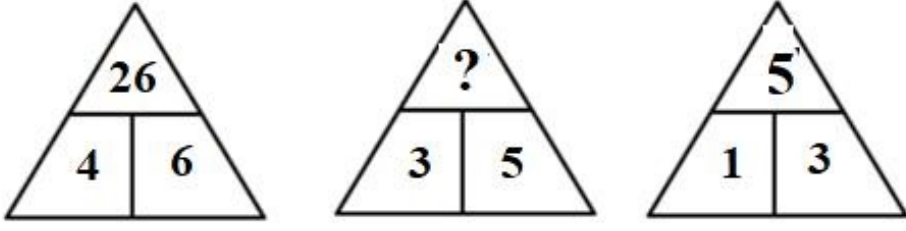
4. ✗ Sty

Question Number : 113 Question Id : 7164472963 Question Type : MCQ Option Shuffling : Yes Negative Marks Display Text : 1/3

Correct Marks : 1 Wrong Marks : 0.33

Which number will replace the question mark (?) in the second figure?

రెండవ చిత్రంలోని ప్రశ్నార్థకం (?) గుర్తును భర్తీ చేయు సంఖ్య ఏమిటి?



Options :

1. ✓ 17

2. ✗ 15

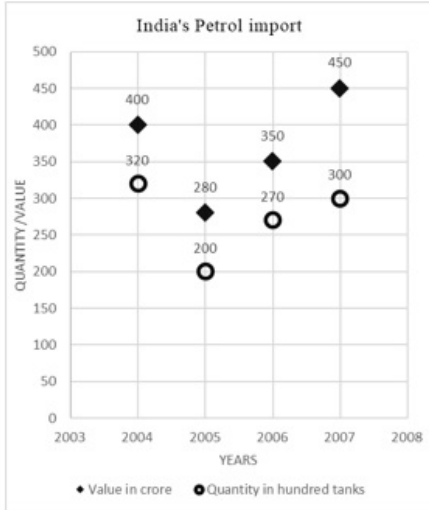
3. ✗ 22

4. ✗ 24

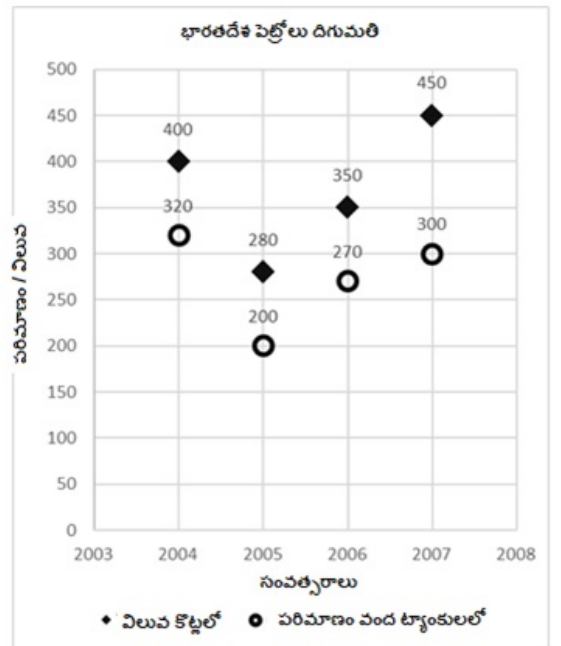
Question Number : 114 Question Id : 7164472964 Question Type : MCQ Option Shuffling : Yes Negative Marks Display Text : 1/3 Correct Marks : 1 Wrong Marks : 0.33

Study the given bar graph and answer the following question.

ఇచ్చిన బార్ గ్రాఫ్‌ను అధ్యయనం చేసి, కింది ప్రశ్నకు సమాధానం ఇవ్వండి.



In which year India had to pay the maximum amount of money per hundred tanks of petrol?



ఏ సంవత్సరంలో వంద ట్యాంకుల పెట్రోల్ కోసం ఇండియా గరిష్ట మొత్తం డబ్బును చెల్లించవలసి ఉంటుంది?

Options :

1. ✓ 2007

2. ✘ 2004

3. ✘ 2005

4. ✘ 2006

Question Number : 115 Question Id : 7164472965 Question Type : MCQ Option Shuffling : Yes Negative Marks Display Text : 1/3 Correct Marks : 1 Wrong Marks : 0.33

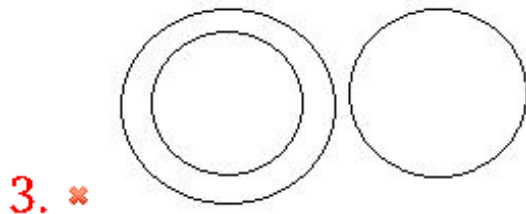
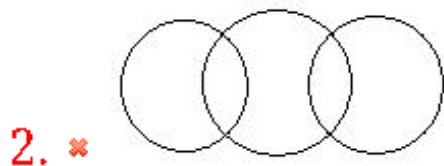
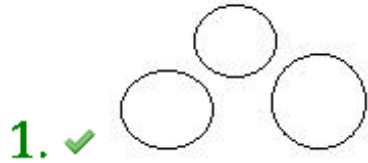
Select the Venn diagram that best represents the relationship between the following classes:

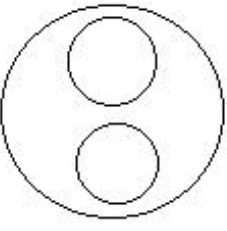
Actresses, Men, Blackboard

కింది తరగతుల మధ్య సంబంధాన్ని ఉత్తమంగా సూచించే వెన్ రేఖాచిత్రాన్ని ఎంచుకోండి:

నటీమణులు, పురుషులు, బ్లాక్ బోర్డ్

Options :





4. ✖

Question Number : 116 Question Id : 7164472966 Question Type : MCQ Option Shuffling : Yes Negative Marks Display Text : 1/3 Correct Marks : 1 Wrong Marks : 0.33

Select the option that is different than the rest of the options in a certain manner.

ఒక నిర్దిష్ట క్రమములో ఇవ్వబడిన ఐచ్ఛికాలలో భిన్నంగా ఉన్న ఐచ్ఛికాన్ని ఎంచుకోండి.

Options :

Mosquito

1. ✖ దోమ

Silverfish

2. ✖ సిల్వర్ ఫిష్

Salmon

3. ✓ సాల్మన్

Beetle

4. ✖ పేడపురుగు

Question Number : 117 Question Id : 7164472967 Question Type : MCQ Option Shuffling : Yes Negative Marks Display Text : 1/3 Correct Marks : 1 Wrong Marks : 0.33

Pom is the brother of a girl named Katie. Braddey is unmarried and is the only maternal uncle of a boy named Pony.

Arya is the father of Katie. Aeyna has only two children, one of whom is named Pony. Katie is the maternal cousin of Pony. How is Arya related to Aeyna?

పోమ్ అనే అబ్బాయి, కేటీ అనే అమ్మాయికి సోదరుడు. బ్రాడీ అవివాహితుడు మరియు పోనీ అనే అబ్బాయికి ఒకే ఒక మేనమామ.

ఆర్య అనే వ్యక్తి కేటీ యొక్క తండ్రి. అయినాకు ఇద్దరు పిల్లలు మాత్రమే ఉన్నారు, వారిలో ఒకరికి పోనీ అని పేరు పెట్టారు. పోనీ యొక్క తల్లి తరుపు బంధువు కేటీ. ఆర్య, అయినాకు ఏమవుతాడు?

Options :

Brother-in-law

1. ✓ టావ/టావమరిది

Father

2. ✘ తండ్రి

Paternal uncle

3. ✘ టాటాయి/పెదనాన్న

Maternal uncle

4. ✘ మేనమామ

Question Number : 118 Question Id : 7164472968 Question Type : MCQ Option Shuffling : Yes Negative Marks Display Text : 1/3
Correct Marks : 1 Wrong Marks : 0.33

If in a certain coded language 'AMERICANIZATION' is written as 'EAMCRIIANTZANIO', how will 'THERMOCHEMISTRY' be written in that code?

ఒక ప్రత్యేకమైన కోడ్ భాషలో, 'AMERICANIZATION' అనేది 'EAMCRIIANTZANIO' గా వ్రాయబడితే, ఆ కోడ్ లో 'THERMOCHEMISTRY' ఎలా వ్రాయబడుతుంది?

Options :

1. ✓ ETHORMECHSMIYTR

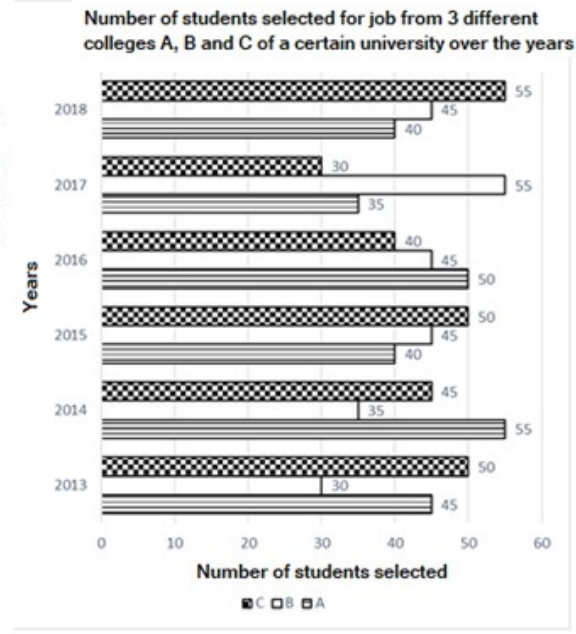
2. ✘ EHTOMREHCSIMYRT

3. ✘ REHTHCOMSIMEYRT

4. ✘ YRTSIMECHOMREHT

Question Number : 119 Question Id : 7164472969 Question Type : MCQ Option Shuffling : Yes Negative Marks Display Text : 1/3
Correct Marks : 1 Wrong Marks : 0.33

Study the graph of the number of students from three colleges A, B and C of a certain university who were selected in a job interview over the years 2013-2018 and answer the following question.



What is the ratio of the average number of students who were selected from college A in the period of 2013 to 2015 to the average number of students who were selected from college B in the same period?

Options :

1. ✘ 15 : 12
2. ✘ 13 : 11
3. ✘ 17 : 19
4. ✔ 14 : 11

Question Number : 120 Question Id : 7164472970 Question Type : MCQ Option Shuffling : Yes Negative Marks Display Text : 1/3 Correct Marks : 1 Wrong Marks : 0.33

Pick the odd one out.

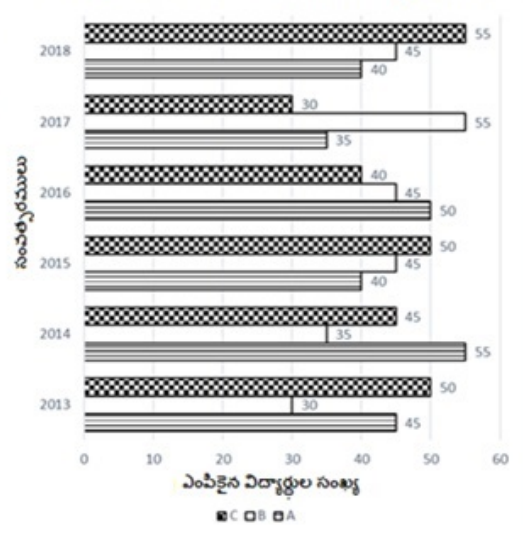
భిన్నముగా ఉన్నదానిని ఎంచుకోండి.

Options :

1. ✘ BCF

2013-2018 సంవత్సరాల్లో ఉద్యోగ ఇంటర్వ్యూలో ఎంపికైన ఒక నిర్దిష్ట విశ్వవిద్యాలయానికి చెందిన A, B మరియు C అనే మూడు కళాశాలల విద్యార్థుల గ్రాఫ్ను అధ్యయనం చేసి, ఈ క్రింది ప్రశ్నకు సమాధానం ఇవ్వండి.

వివిధ సంవత్సరాల్లో ఉద్యోగ ఇంటర్వ్యూలో ఎంపికైన ఒక నిర్దిష్ట విశ్వవిద్యాలయానికి చెందిన A, B మరియు C అనే మూడు కళాశాల విద్యార్థుల సంఖ్య



2013 నుండి 2015 మధ్య కాలంలో కళాశాల A నుండి ఎంపికైన విద్యార్థుల సంఖ్యకు, అదే కాలంలో కళాశాల B నుండి ఎంపికైన విద్యార్థుల సగటు సంఖ్యకు గల సగటు నిష్పత్తి ఎంత?

2. ✖ PTV

3. ✔ AEU

4. ✖ HKN

Question Number : 121 Question Id : 7164472971 Question Type : MCQ Option Shuffling : Yes Negative Marks Display Text : 1/3 Correct Marks : 1 Wrong Marks : 0.33

The given table shows the expenditure of a company (in lakh rupees) per year over the years 2014 to 2019.

Years	Items of Expenditure				
	Salary	Fuel and Transport	Interest on Loans	Taxes	Bonus
2014	315	95	3.2	25	48
2015	380	100	3	28.5	50
2016	410	110	2.5	32	40
2017	370	102	3.9	30	46
2018	400	130	4.2	28	52
2019	450	142	4.4	34	54

What is the approximate average amount of bonus per year that the company had to pay during the period between 2014 and 2019?

Options :

₹ 48 lakhs

1. ✔ ₹ 48 లక్షలు

₹ 51 lakh

2. ✖ ₹ 51 లక్షలు

₹ 58 lakh

3. ✖ ₹ 58 లక్షలు

₹ 60 lakh

4. ✖ ₹ 60 లక్షలు

ఇచ్చిన పట్టిక, 2014 నుండి 2019 సంవత్సరం వరకు ఒక కంపెనీ యొక్క వ్యయాన్ని (లక్ష రూపాయలలో) చూపిస్తుంది.

సంవత్సరాలు	వ్యయం అంశాలు				
	జీతం	ప్ర్యాయెల్ & రవాణా	రుణాలపై వడ్డీ	పన్నులు	బోనస్
2014	315	95	3.2	25	48
2015	380	100	3	28.5	50
2016	410	110	2.5	32	40
2017	370	102	3.9	30	46
2018	400	130	4.2	28	52
2019	450	142	4.4	34	54

2014 మరియు 2019 మధ్య కాలంలో కంపెనీ సంవత్సరానికి చెల్లించాల్సిన సుమారు సగటు బోనస్ మొత్తం ఎంత?

Question Number : 122 Question Id : 7164472972 Question Type : MCQ Option Shuffling : Yes Negative Marks Display Text : 1/3 Correct Marks : 1 Wrong Marks : 0.33

The given table shows the expenditure of a company (in lakh rupees) per year over the years 2014 to 2019.

Years	Items of expenditure				
	Salary	Fuel and Transport	Interest on Loans	Taxes	Bonus
2014	315	95	3.2	25	48
2015	380	100	3	28.5	50
2016	410	110	2.5	32	40
2017	370	102	3.9	30	46
2018	400	130	4.2	28	52
2019	450	142	4.4	34	54

The total amount of taxes paid by the company during the given period (2014-2019) is approximately how much percent of the total amount of salary paid during this period?

Options :

1. ✘ 4.25%

2. ✘ 5.25%

3. ✔ 7.63%

4. ✘ 8.05%

ఇచ్చిన పట్టిక 2014 నుండి 2019 సంవత్సరాల్లో ఒక కంపెనీ వ్యయాన్ని (లక్ష రూపాయలలో) చూపిస్తుంది.

సంవత్సరాలు	అంశాల వ్యయం				
	జీతం	ఘ్రాయోల్ & రవాణా	ఋణాల వడ్డీ	ట్యాక్స్	బోనస్
2014	315	95	3.2	25	48
2015	380	100	3	28.5	50
2016	410	110	2.5	32	40
2017	370	102	3.9	30	46
2018	400	130	4.2	28	52
2019	450	142	4.4	34	54

ఇచ్చిన కాలానికి (2014-2019) కంపెనీ చెల్లించిన మొత్తం పన్నులు, అదే కాలంలో చెల్లించిన మొత్తం జీతంలో ఎంత శాతం?

Question Number : 123 Question Id : 7164472973 Question Type : MCQ Option Shuffling : Yes Negative Marks Display Text : 1/3 Correct Marks : 1 Wrong Marks : 0.33

Study the given table and answer the following question.

Results ↓	Number of students		
	Class 7 A	Class 7 B	Class 7 C
Passed both the semester exams	18	15	17
Passed semester 1 but failed semester 2 exam.	4	7	2
Passed semester 2 but failed semester 1 exam.	6	7	6
Failed in both the semester exams.	2	1	5

What is the approximate pass percentage of Class 7B in both the semester exams?

Options :

1. ✓ 50%

2. ✗ 57%

3. ✗ 83%

4. ✗ 100%

ఇచ్చిన పట్టికను అధ్యయనం చేసి, క్రింది ప్రశ్నకు సమాధానం ఇవ్వండి.

ఫలితాలు ↓	విద్యార్థుల సంఖ్య		
	7 A తరగతి	7 B తరగతి	7 C తరగతి
రెండు సెమిస్టర్లలో పాస్ అయినవారు	18	15	17
సెమిస్టర్ 1 లో పాస్ అయి సెమిస్టర్ 2 లో ఫెయిల్ అయినవారు	4	7	2
సెమిస్టర్ 2 లో పాస్ అయి సెమిస్టర్ 1 లో ఫెయిల్ అయినవారు	6	7	6
రెండు సెమిస్టర్లలో ఫెయిల్ అయినవారు	2	1	5

రెండు సెమిస్టర్ పరీక్షలలో, తరగతి 7B యొక్క సుమారు ఉత్తీర్ణత శాతం ఎంత?

Question Number : 124 Question Id : 7164472974 Question Type : MCQ Option Shuffling : Yes Negative Marks Display Text : 1/3 Correct Marks : 1 Wrong Marks : 0.33

The given table shows the marks obtained by two students Ajay and Ajeet in different subjects. Study the table and answer the following question.

Subject	Ajay	Maximum Marks	Ajeet	Maximum Marks
Physics	90	100	75	100
Chemistry	85	100	80	100
Biology	75	100	55	100
Math	45	50	45	50

The difference in mean aggregate percentage marks of the students Ajay and Ajeet is _____.

Options :

ఇచ్చిన పట్టిక, అజయ్ మరియు అజిత్ అనే ఇద్దరు విద్యార్థులు వేర్వేరు సబ్జెక్టులలో పొందిన మార్కులను చూపుతుంది. పట్టికను అధ్యయనం చేసి, క్రింది ప్రశ్నకు సమాధానం ఇవ్వండి.

సబ్జెక్టు	అజయ్	గరిష్ట మార్కులు	అజిత్	గరిష్ట మార్కులు
భౌతిక శాస్త్రం	90	100	75	100
రసాయన శాస్త్రం	85	100	80	100
జీవ శాస్త్రం	75	100	55	100
గణితం	45	50	45	50

విద్యార్థులు అజయ్ మరియు అజిత్ ల మొత్తం సగటు మార్కుల్లో వ్యత్యాసం శాతం _____.

1. ✖ 4.72%

2. ✖ 5.25%

3. ✖ 10.05%

4. ✔ 11.43%

Question Number : 125 Question Id : 7164472975 Question Type : MCQ Option Shuffling : Yes Negative Marks Display Text : 1/3 Correct Marks : 1 Wrong Marks : 0.33

The given table shows the total number of different types of rechargeable lamps A, B, C, D and E (in thousands) sold by a company in 2015 and 2016. Study the table carefully and answer the following question.

Years	Types of Rechargeable lamp				
	A	B	C	D	E
	Number of units sold in thousands				
2015	30	34	28	38	26
2016	32	42	30	38	20

The number of type B rechargeable lamps sold in 2016 was how much percentage of type D rechargeable lamps sold in 2015?

Options :

1. ✖ 100%

2. ✔ 110.5%

3. ✖ 120%

4. ✖ 161.5%

ఇచ్చిన పట్టిక 2015 మరియు 2016 లో ఒక కంపెనీ విక్రయించిన వివిధ రకాల రీచార్జబుల్ ల్యాంపుల సంఖ్య A, B, C, D మరియు E లను (వేలల్లో) చూపిస్తుంది. పట్టికను జాగ్రత్తగా అధ్యయనం చేసి క్రింది ప్రశ్నకు సమాధానం ఇవ్వండి.

	రీచార్జబుల్ ల్యాంపుల రకాలు				
	A	B	C	D	E
సంవత్సరాలు	అమ్మిన యూనిట్ల సంఖ్య వేలలో				
2015	30	34	28	38	26
2016	32	42	30	38	20

2016 లో అమ్మిన B రకం రీచార్జబుల్ ల్యాంపుల సంఖ్య, 2015 లో అమ్మిన D రకం రీచార్జబుల్ ల్యాంపులలో ఎంత శాతం ఉంది?

Question Number : 126 Question Id : 7164472976 Question Type : MCQ Option Shuffling : Yes Negative Marks Display Text : 1/3 Correct Marks : 1 Wrong Marks : 0.33

Study the given table carefully and answer the following question.

Number of students who appeared for a UPSC exam from five different states of India.

States	A.P.	U.P.	M.P.	Punjab	Kerala
2014	280	300	250	500	440
2015	320	400	280	450	400
2016	260	450	240	320	350
2017	400	500	400	500	380
2018	350	430	540	410	420

What is the ratio of the total number of students who appeared for the exam in 2016 and 2017 from A.P. to the total number of students from Punjab who appeared in the same years?

Options :

1. ✓ 33 : 41

2. ✗ 85 : 52

3. ✗ 2 : 6

4. ✗ 15 : 7

ఇచ్చిన పట్టికను జాగ్రత్తగా అధ్యయనం చేసి, కింది ప్రశ్నకు సమాధానం ఇవ్వండి. ఇండియా యొక్క ఐదు విభిన్న రాష్ట్రాల నుండి UPSC పరీక్షకు హాజరైన విద్యార్థుల సంఖ్య చూపబడినది.

రాష్ట్రాలు సంవత్సరాలు	ఎ.పి.	యు.పి.	యం.పి.	పంజాబ్	కేరళ
2014	280	300	250	500	440
2015	320	400	280	450	400
2016	260	450	240	320	350
2017	400	500	400	500	380
2018	350	430	540	410	420

2016 మరియు 2017 సంవత్సరాల్లో వరుసగా ఎ.పి నుండి పరీక్షకు హాజరైన మొత్తం విద్యార్థుల సంఖ్యకు, అదే కాలంలో పంజాబ్ రాష్ట్రం నుండి పరీక్షకు హాజరైన మొత్తం విద్యార్థుల సంఖ్యకు నిష్పత్తి ఎంత?

Question Number : 127 Question Id : 7164472977 Question Type : MCQ Option Shuffling : Yes Negative Marks Display Text : 1/3 Correct Marks : 1 Wrong Marks : 0.33

Study the given table carefully to answer the following question.

States	Number of Netflix subscribers (in millions) in the years 2003 & 2004.	
	2003	2004
Delhi	37.62	42.38
Mumbai	45.26	47.61
Assam	32.02	40.56
Punjab	48.65	41.35
Kerala	36.36	38.21
Bihar	27.21	27.87
Uttar Pradesh	67.52	71.34

What is the ratio of the total number of Netflix subscribers from Delhi who were subscribed in both the years together to the total number of Netflix subscribers from the state of Punjab in the same years?

Options :

1. ✘ 1 : 1

2. ✘ 2 : 3

3. ✔ 8 : 9

4. ✘ 9 : 8

కింది పుస్తకు సమాధానం ఇవ్వడానికి ఇచ్చిన పట్టికను జాగ్రత్తగా అధ్యయనం చేయండి.

రాష్ట్రాలు	2003 & 2004 సంవత్సరాలలో నెట్‌ఫ్లిక్స్ చందాదారుల సంఖ్య (మిలియన్లలో)	
	2003	2004
డెల్లీ	37.62	42.38
ముంబై	45.26	47.61
అస్సాం	32.02	40.56
పంజాబ్	48.65	41.35
కేరళ	36.36	38.21
బిహార్	27.21	27.87
ఉత్తర ప్రదేశ్	67.52	71.34

డెల్లీ రాష్ట్రం నుండి వరుసగా రెండు సంవత్సరాలకు కలిపి సభ్యత్వం తీసుకున్న నెట్‌ఫ్లిక్స్ చందాదారులకు, పంజాబ్ రాష్ట్రం నుండి అదే సంవత్సరాలకు కలిపి సభ్యత్వం తీసుకున్న నెట్‌ఫ్లిక్స్ చందాదారులకు గల నిష్పత్తి ఎంత?

Question Number : 128 Question Id : 7164472978 Question Type : MCQ Option Shuffling : Yes Negative Marks Display Text : 1/3 Correct Marks : 1 Wrong Marks : 0.33

The given table shows the number of candidates from five different states of India who appeared for an interview for the post of manager in a bank over the years 2012 to 2016. Study the table carefully and answer the following question.

States	Bihar	U.P.	M.P.	Punjab	Kerala
2012	410	300	250	280	440
2013	500	400	280	320	400
2014	450	450	240	260	350
2015	320	500	400	400	380
2016	500	430	540	350	420

What is the average number of candidates from the state of M.P. who appeared for the interview over all the years?

Options :

1. ✖ 300

2. ✔ 342

3. ✖ 398

4. ✖ 400

ఇచ్చిన పట్టిక 2012 నుండి 2016 సంవత్సరాల్లో భారతదేశంలోని ఐదు వేర్వేరు రాష్ట్రాల నుండి ఒక బ్యాంకులో మేనేజర్ పదవికి ఇంటర్వ్యూ కోసం హాజరైన అభ్యర్థుల సంఖ్యను చూపిస్తుంది. పట్టికను జాగ్రత్తగా అధ్యయనం చేసి, ఈ క్రింది ప్రశ్నకు సమాధానం ఇవ్వండి.

రాష్ట్రాలు	బీహార్	యు.పి	యం.పి	పంజాబ్	కేరళ
సంవత్సరాలు					
2012	410	300	250	280	440
2013	500	400	280	320	400
2014	450	450	240	260	350
2015	320	500	400	400	380
2016	500	430	540	350	420

అన్ని సంవత్సరాలలో యం.పి రాష్ట్రం నుండి ఇంటర్వ్యూ కోసం హాజరైన అభ్యర్థుల సగటు సంఖ్య ఎంత?

Question Number : 129 Question Id : 7164472979 Question Type : MCQ Option Shuffling : Yes Negative Marks Display Text : 1/3 Correct Marks : 1 Wrong Marks : 0.33

The given table shows the classification of students based on the marks obtained by them in Mathematics and English in an examination.

Marks out of 50	40 and above	30 and above	20 and above	0 and above
Subject				
Mathematics	10	34	70	75
English	15	42	75	80

What is the percentage of the number of students getting at least 60% marks in Mathematics over those getting at least 40% marks in English?

Options :

ఇచ్చిన పట్టిక, ఒక పరీక్షలో గణితం మరియు ఆంగ్లంలో పొందిన మార్కుల ఆధారంగా విద్యార్థుల వర్గీకరణను చూపుతుంది.

50 మార్కులకు గాను	40 మరియు పైన	30 మరియు పైన	20 మరియు పైన	0 మరియు పైన
సబ్జెక్టు				
గణితం	10	34	70	75
ఆంగ్లం	15	42	75	80

ఆంగ్లంలో కనీసం 40% మార్కులు సాధించిన వారి కంటే గణితంలో కనీసం 60% మార్కులు సాధించిన విద్యార్థుల సంఖ్య యొక్క శాతం ఎంత?

1. ✖ 20%

2. ✖ 28%

3. ✖ 32%

4. ✔ 45.33%

Question Number : 130 Question Id : 7164472980 Question Type : MCQ Option Shuffling : Yes Negative Marks Display Text : 1/3 Correct Marks : 1 Wrong Marks : 0.33

Study the given table carefully and answer the following question.

Expenditure (in million \$) of an automobile company over the years 2012 to 2015

Items of expenditure	Years			
	2012	2013	2014	2015
Employee's Salary	70	75	90	85
Transport	48	60	71	82
Interest on loans	25	20	14	13
Taxes	4	5	2	6.5

What is the ratio of the expenditure on transport in the year 2013 to the total expenditure on transport in all the years?

Options :

1. ✖ 2 : 5

2. ✖ 1 : 4

3. ✖ 1 : 3

4. ✔ 20 : 87

ఇచ్చిన పట్టికను జాగ్రత్తగా అధ్యయనం చేసి, కింది ప్రశ్నకు సమాధానం ఇవ్వండి.

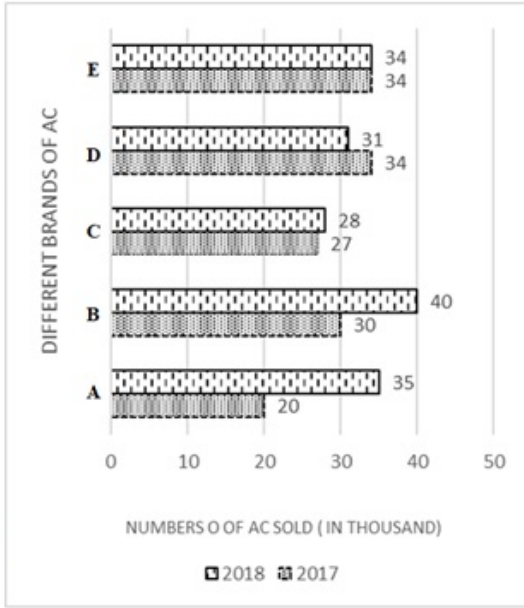
2012 నుండి 2015 సంవత్సరాల్లో ఆటోమొబైల్ కంపెనీ వ్యయం (మిలియన్ \$ లో)

ఖర్చు చేసిన అంశాలు	సంవత్సరాలు			
	2012	2013	2014	2015
ఉద్యోగుల జీతం	70	75	90	85
రవాణా	48	60	71	82
లోన్లపై వడ్డీ	25	20	14	13
టాక్సులు	4	5	2	6.5

2013 సంవత్సరంలో రవాణాకు అయిన వ్యయానికి అన్ని సంవత్సరాల్లో రవాణాకు అయిన మొత్తం వ్యయానికి నిష్పత్తి ఎంత?

Question Number : 131 Question Id : 7164472981 Question Type : MCQ Option Shuffling : Yes Negative Marks Display Text : 1/3 Correct Marks : 1 Wrong Marks : 0.33

The given bar graph shows the total number of air conditioner of different brands: A, B, C, D and E (in thousand numbers) sold by a supplier in 2017 and 2018. Study the graph carefully and answer the following question.



The total number of air conditioners sold in 2017 and 2018 together was equal in case of which of the following pairs of air conditioner brands?

Options :

C and E

1. ✘ C మరియు E

D and E

2. ✘ D మరియు E

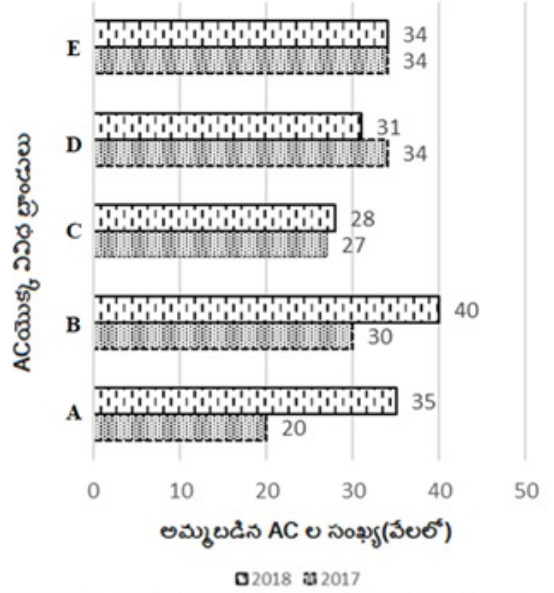
A and C

3. ✔ A మరియు C

B and E

4. ✘ B మరియు E

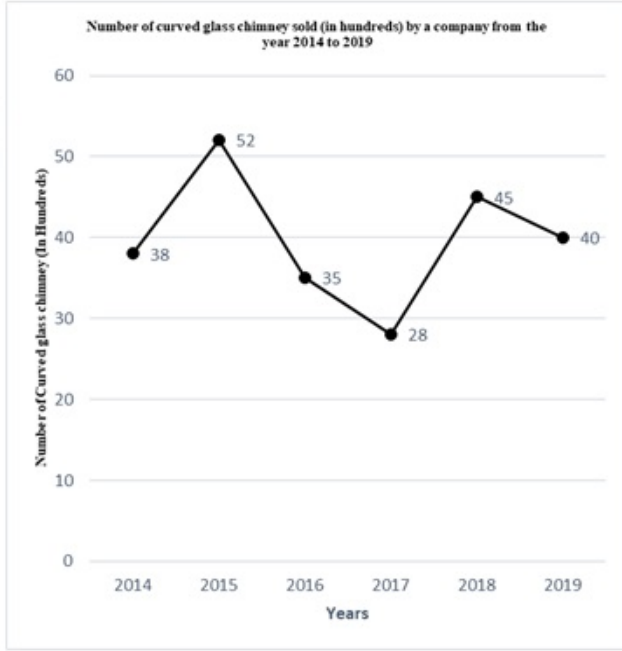
ఇచ్చిన బార్ గ్రాఫు 2017 మరియు 2018 లో ఒక సరఫరాదారు అమ్మిన వివిధ బ్రాండ్లు A,B,C,D మరియు E ల ఎయిర్ కండిషనర్ల మొత్తం సంఖ్యను (వెయ్యి సంఖ్యలలో) చూపుతుంది. గ్రాఫును జాగ్రత్తగా అధ్యయనం చేసి, కింది ప్రశ్నకు సమాధానం ఇవ్వండి.



2017 మరియు 2018 లో కలిపి అమ్మిన మొత్తం ఎయిర్ కండిషనర్ల సంఖ్య, కింది వాటిలో ఏ ఎయిర్ కండిషనర్ బ్రాండ్ల జత విషయంలో సమానంగా ఉంది?

Question Number : 132 Question Id : 7164472982 Question Type : MCQ Option Shuffling : Yes Negative Marks Display Text : 1/3 Correct Marks : 1 Wrong Marks : 0.33

Study the following line graph carefully and answer the given question.



What is the difference between the sales of curved glass chimney for the years 2014 and 2019?

Options :

1. ✘ 20

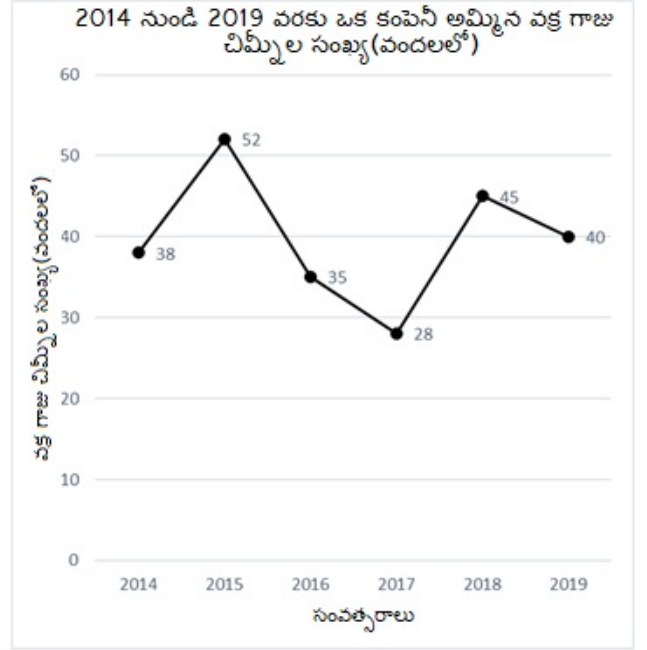
2. ✔ 200

3. ✘ 500

4. ✘ 900

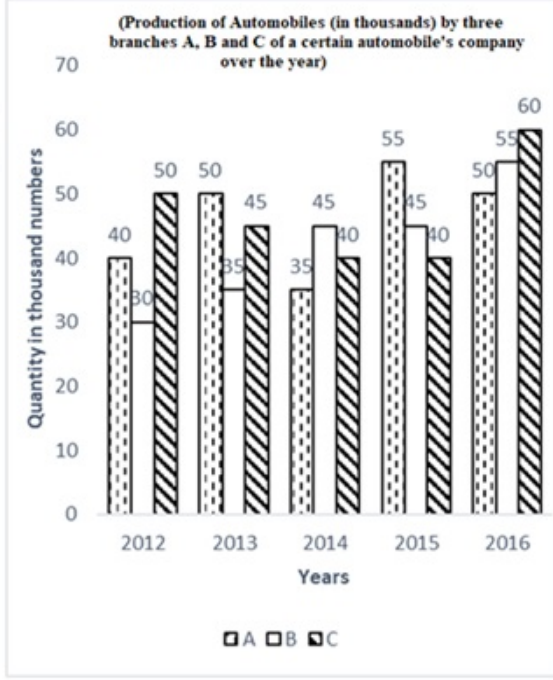
Question Number : 133 Question Id : 7164472983 Question Type : MCQ Option Shuffling : Yes Negative Marks Display Text : 1/3 Correct Marks : 1 Wrong Marks : 0.33

క్రింది లైన్ గ్రాఫును నిశితంగా అధ్యయనం చేసి ఇచ్చిన ప్రశ్నకు సమాధానం ఇవ్వండి.



2014 నుండి 2019 సంవత్సరాలకు వక్ర గాజు చిమ్నీల అమ్మకాలలో వ్యత్యాసం ఎంత?

The given column graph shows the data of the production of automobiles (in thousand numbers) by three branches A, B and C of a certain Automobile's company over the years 2012 to 2016.



What is the percentage increase in the production of branch B from 2014 to 2016?

Options :

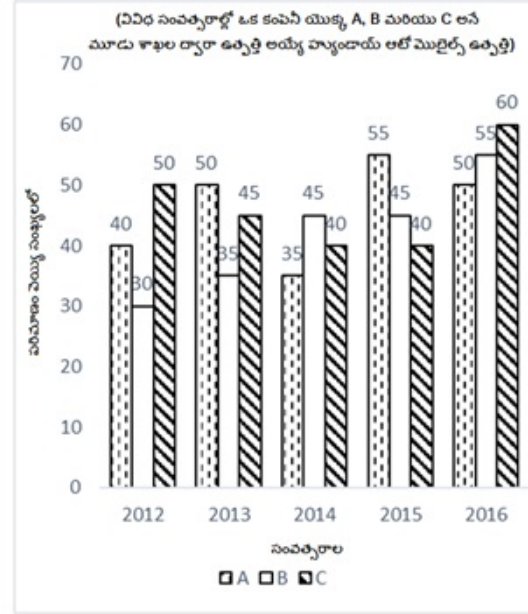
1. ✓ 22.2%

2. ✗ 50%

3. ✗ 70%

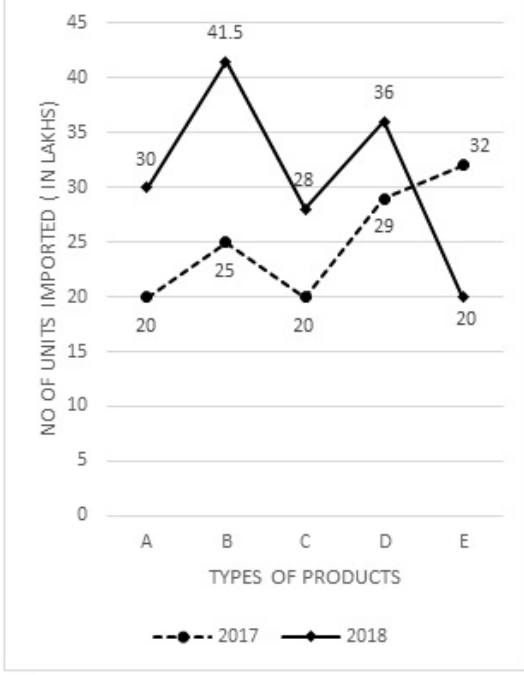
4. ✗ 100%

ఇచ్చిన బార్ గ్రాఫ్ 2012 నుండి 2016 సంవత్సరాల్లో ఒక కంపెనీ యొక్క A, B మరియు C అనే మూడు బ్రాంచీల ద్వారా ఉత్పత్తి అయ్యే హ్యూండాయ్ ఆటోమొబైల్స్ యొక్క దత్తాంశాన్ని (వెయ్యి అంకెలలో) చూపిస్తుంది.



2014 నుండి 2016 వరకు బ్రాంచ్ B ఉత్పత్తిలో పెరుగుదల శాతం ఎంత?

The given line graph shows the total number of different products A, B, C, D and E (in lakh) that were imported by a company in 2017 and 2018. Study the graph carefully and answer the following question.



The average of A and C types of products that were imported in 2018 was equal to the import of which type of product in 2017?

Options :

A and B

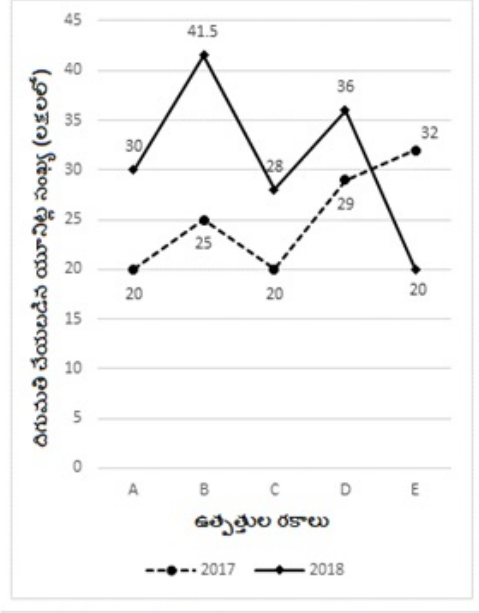
1. ✘ A మరియు B

2. ✘ C

3. ✔ D

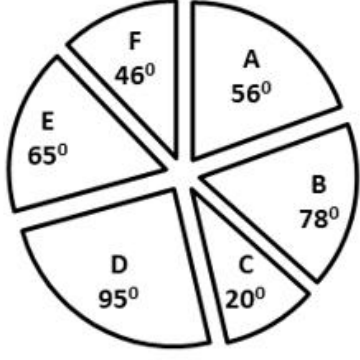
4. ✘ E

ఇచ్చిన లైన్ గ్రాఫ్, 2017 మరియు 2018 లో ఒక కంపెనీ దిగుమతి చేసుకున్న వివిధ ఉత్పత్తులు A, B, C, D మరియు E (లక్షల్లో) లను చూపిస్తుంది. గ్రాఫ్ను జాగ్రత్తగా అధ్యయనం చేసి క్రింది ప్రశ్నకు సమాధానం ఇవ్వండి.



2018 లో దిగుమతి చేసుకున్న A మరియు C రకాల ఉత్పత్తుల సగటు, 2017 లో ఏ రకమైన ఉత్పత్తిని దిగుమతి చేసుకోవటానికి సమానం?

The given circle graph shows the expenditure of a certain company on various sectors A, B, C, D, E and F during a particular year. Study the graph carefully and answer the following questions.



Of the total expenditure, approximately _____ was spent on sector F.

Options :

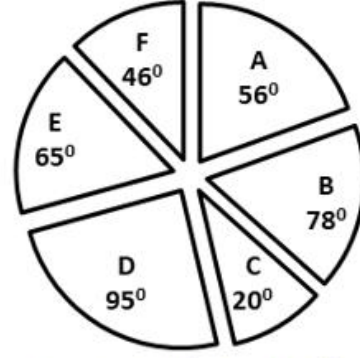
1. ✓ 12.7%

2. ✗ 12.3%

3. ✗ 10%

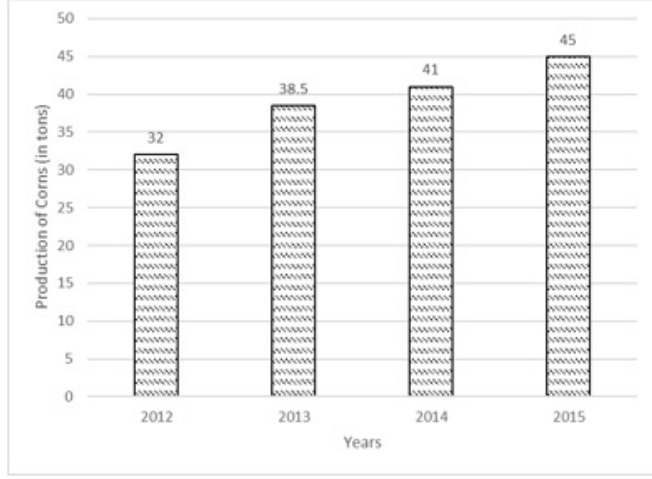
4. ✗ 20%

ఇచ్చిన వృత్తాకారపటం, ఒక నిర్దిష్ట సంవత్సరంలో వివిధ రంగాలు A, B, C, D, E మరియు F సంస్థల యొక్క ఖర్చును చూపిస్తుంది. గ్రాఫ్‌ను జాగ్రత్తగా అధ్యయనం చేసి, కింది ప్రశ్నలకు సమాధానం ఇవ్వండి.



మొత్తం వ్యయంలో, రంగం F కోసం సుమారుగా _____ ఖర్చు చేశారు.

The given bar graph shows the increase in the production of corn (in tons) over the years 2012 to 2015. Based on the graph answer the following question.

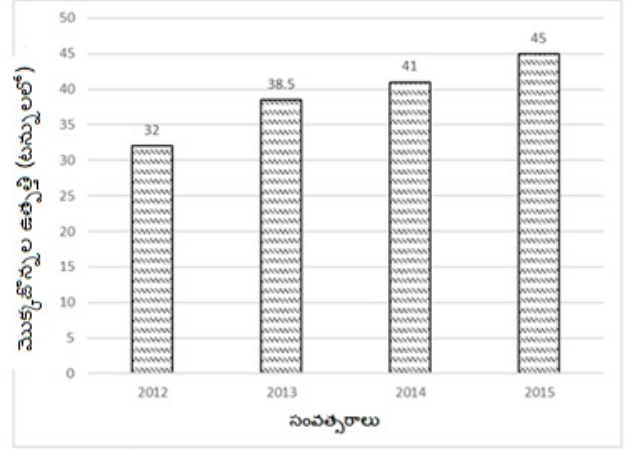


What is the approximate percentage of growth of corn in 2015 as compared to 2013?

Options :

1. ✘ 19.75%
2. ✘ 10.38%
3. ✘ 18.5%
4. ✔ 16.88%

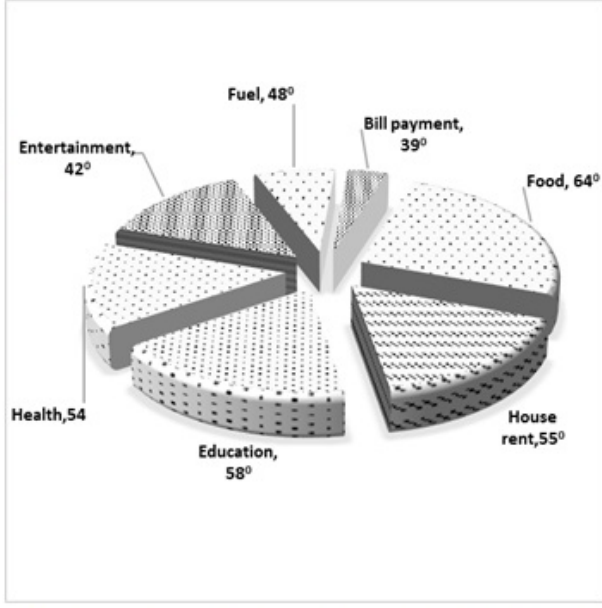
ఇచ్చిన బార్ గ్రాఫ్, 2012 నుండి 2015 సంవత్సరాల్లో మొక్కజొన్న ఉత్పత్తి (టన్నులలో) పెరుగుదలను చూపుతుంది. గ్రాఫ్ ఆధారంగా ఈ క్రింది ప్రశ్నకు సమాధానం ఇవ్వండి.



2013 తో పోలిస్తే 2015 లో మొక్కజొన్న పెరుగుదల శాతం సుమారుగా ఎంత?

Question Number : 137 Question Id : 7164472987 Question Type : MCQ Option Shuffling : Yes Negative Marks Display Text : 1/3 Correct Marks : 1 Wrong Marks : 0.33

Study the given circle graph carefully which shows the monthly expenditure of a family and answer the following question.

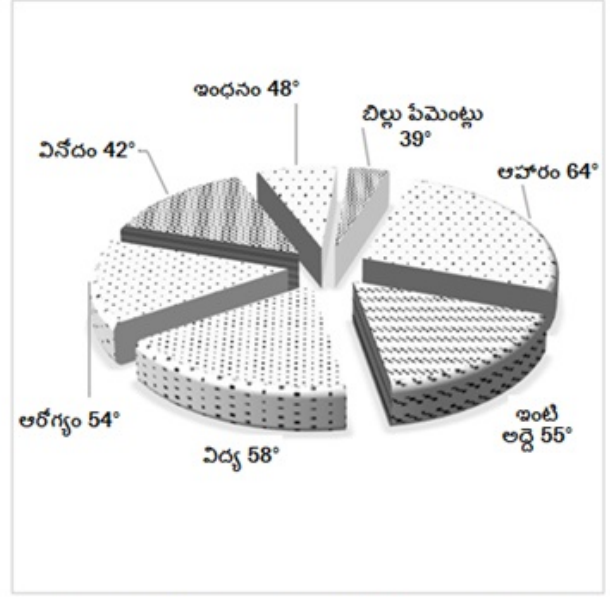


If the total monthly expenditure was ₹ 50,000, then how much money (approximately) was spent on education and health together?

Options :

1. ✘ ₹ 12,000
2. ✘ ₹ 13,650
3. ✔ ₹ 15,555
4. ✘ ₹ 18,000

ఒక కుటుంబం యొక్క నెలవారీ ఖర్చును చూపించు వృత్తాకార పటాన్ని జాగ్రత్తగా అధ్యయనం చేసి క్రింది ప్రశ్నకు సమాధానం ఇవ్వండి.

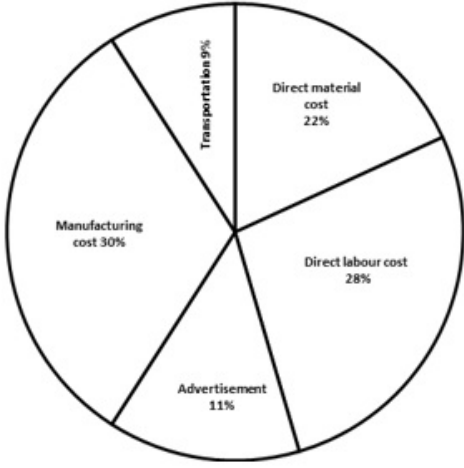


మొత్తం నెలవారీ ఖర్చు ₹ 50,000 అయితే, విద్య మరియు ఆరోగ్యం కోసం కలిసి ఎంత డబ్బు (సుమారుగా) ఖర్చు చేశారు?

Question Number : 138 Question Id : 7164472988 Question Type : MCQ Option Shuffling : Yes Negative Marks Display Text : 1/3 Correct Marks : 1 Wrong Marks : 0.33


The percentage distribution in the given pie chart shows the expenditure incurred in manufacturing dishwashers. Study the pie chart and answer the following question.

Various expenditure incurred in manufacturing Dishwashers



ఇచ్చిన 'పై చార్టు'లోని పంపిణీ శాతం డిష్ వాషర్ల తయారీకి అయ్యే ఖర్చును చూపుతుంది. 'పై చార్టు'ను అధ్యయనం చేసి క్రింది ప్రశ్నకు సమాధానం ఇవ్వండి.

డిష్ వాషర్ల తయారీకి అయ్యే వివిధ వ్యయాలు



If, for a certain quantity of dishwashers, the manufacturer has to pay ₹250,000 as direct material cost, then what will be the approximate manufacturing cost to be paid for that quantity of dishwashers?

ఒకవేళ, డిష్ వాషర్ల యొక్క నిర్దిష్ట పరిమాణానికి, తయారీదారు ₹250,000 ను ప్రత్యేక ముడి వస్తువుల వ్యయంగా చెల్లించాల్సి వస్తే, డిష్ వాషర్లకు చెల్లించాల్సిన సుమారు తయారీ వ్యయం ఎంత?

Options :

1. ✓ ₹ 340,900

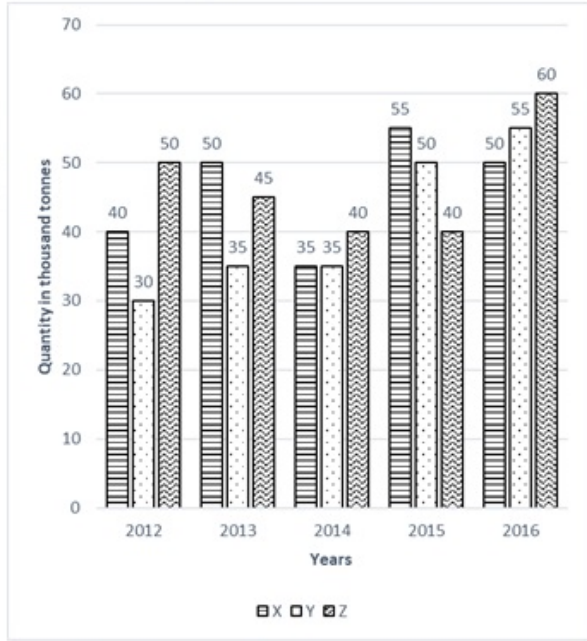
2. ✗ ₹ 280,500

3. ✗ ₹ 440,800

4. ✗ ₹ 420,000

Question Number : 139 Question Id : 7164472989 Question Type : MCQ Option Shuffling : Yes Negative Marks Display Text : 1/3 Correct Marks : 1 Wrong Marks : 0.33

The given bar graph shows the data of the production of biscuits (in thousand tons) by three branches X, Y and Z of a certain company over the years 2012 to 2016.



For which of the following years is the percentage rise/fall in production from the previous year minimum for branch Y?

Options :

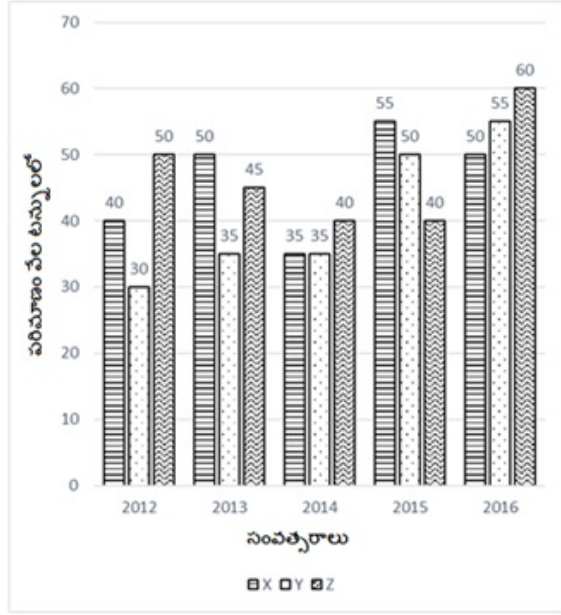
1. ✘ 2015

2. ✔ 2014

3. ✘ 2013

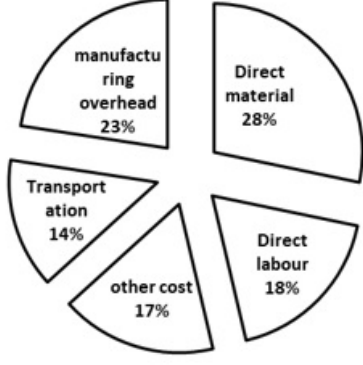
4. ✘ 2012

ఇచ్చిన బార్ గ్రాఫ్, 2012 నుండి 2016 సంవత్సరాల్లో ఒక నిర్దిష్ట కంపెనీ యొక్క X, Y మరియు Z అనే మూడు బ్రాంచీల ద్వారా బిస్కెట్ల ఉత్పత్తి (వెయ్యి టన్నులలో) ని చూపిస్తుంది.



మునుపటి సంవత్సరంతో పోలిస్తే బ్రాంచ్ Y యొక్క ఉత్పత్తిలో పెరుగుదల/తగ్గుదల ఏ సంవత్సరంలో కనిపిస్తోంది?

The given pie chart shows the percentage distribution of the expenditure incurred in manufacturing wireless headphones. Study the pie chart and answer the question based on it.




If, for a certain quantity of wireless headphones, the Manager has to pay ₹250,000 as a direct labor cost, then what will be the approximate amount of Transportation to be paid for these wireless headphones?

Options :

1. ✘ ₹ 160,000
2. ✔ ₹ 194,400
3. ✘ ₹ 360,200
4. ✘ ₹ 400,000

ఇచ్చిన 'పై చార్ట్' వైర్లెస్ హెడ్ఫోన్ల తయారీకి అయ్యే వ్యయం యొక్క పంపిణీ శాతాన్ని చూపుతుంది. 'పై చార్టు'ను అధ్యయనం చేసి దాని ఆధారంగా ప్రశ్నకు సమాధానం ఇవ్వండి.



ఒకవేళ, వైర్లెస్ హెడ్ఫోన్ల యొక్క నిర్దిష్ట పరిమాణానికి, మేనేజర్ ప్రత్యక్ష కార్మిక వ్యయంగా, ₹ 250,000 చెల్లించాల్సి ఉంటే, ఈ వైర్లెస్ హెడ్ఫోన్ల రవాణా కోసం చెల్లించాల్సిన మొత్తం ఎంత?

Question Number : 141 Question Id : 7164472991 Question Type : MCQ Option Shuffling : Yes Negative Marks Display Text : 1/3 Correct Marks : 1 Wrong Marks : 0.33

The following numbers represent the weights of people on an elevator:

25, 60, 100, 78, 89, 45, 68, 94, 85, 82, 43.

What is the mean of their weights?

కింది సంఖ్యలు ఎలివేటర్లోని వ్యక్తుల బరువును సూచిస్తాయి:

25, 60, 100, 78, 89, 45, 68, 94, 85, 82, 43.

వారి బరువుల యొక్క సరాసరి ఎంత?

Options :

1. ✖ 70.45

2. ✔ 69.9

3. ✖ 65.5

4. ✖ 67

Question Number : 142 Question Id : 7164472992 Question Type : MCQ Option Shuffling : Yes Negative Marks Display Text : 1/3
Correct Marks : 1 Wrong Marks : 0.33

What is the standard deviation of a data set if the data set has a variance of 0.49?

దత్తాంశ సమితికి 0.49 విస్తృతి ఉంటే దత్తాంశ సమితి యొక్క ప్రామాణిక విచలనం ఎంత?

Options :

1. ✖ 0.2

2. ✖ 0.14

3. ✔ 0.7

4. ✖ 7

Question Number : 143 Question Id : 7164472993 Question Type : MCQ Option Shuffling : Yes Negative Marks Display Text : 1/3
Correct Marks : 1 Wrong Marks : 0.33

If coefficient of variation is 0.2 and mean is 50, then standard deviation will be:

విచరణ గుణకం 0.2 మరియు సరాసరి 50 అయితే, అపుడు ప్రామాణిక విచలనం:

Options :

1. ✔ 10

2. ✖ 250

3. ✖ 0.04

4. ✖ 25

Question Number : 144 Question Id : 7164472994 Question Type : MCQ Option Shuffling : Yes Negative Marks Display Text : 1/3
Correct Marks : 1 Wrong Marks : 0.33

Value of median will always _____.

మధ్యగతం విలువ ఎల్లప్పుడూ _____.

Options :

be positive

1. ✖ ధనాత్మకం అవుతుంది

be negative

2. ✖ ఋణాత్మకం అవుతుంది

be zero

3. ✖ సున్నా అవుతుంది

depend on scores

4. ✓ స్కోర్లపై ఆధారపడి ఉంటుంది

Question Number : 145 Question Id : 7164472995 Question Type : MCQ Option Shuffling : Yes Negative Marks Display Text : 1/3
Correct Marks : 1 Wrong Marks : 0.33

Standard Deviation of a distribution is 4. Adding a constant 6 in each score, new Standard Deviation will be ____.

విభాజన(డిస్టిబ్యూషన్) యొక్క ప్రామాణిక విచలనం 4. ప్రతి స్కోరులో స్థిరాంకం 6 ని కలుపుతూ ఉంటే, కొత్త ప్రామాణిక విచలనం ____ అవుతుంది.

Options :

1. ✓ 4

2. ✖ 5

3. ✖ 6

4. ✖ 8

Question Number : 146 Question Id : 7164472996 Question Type : MCQ Option Shuffling : Yes Negative Marks Display Text : 1/3
Correct Marks : 1 Wrong Marks : 0.33

What will be the mean of the following data?

కింది దత్తాంశం యొక్క సరాసరి ఏమిటి?

1.89 ,0.89, 2.89,4.89, 5.89, 6.89, 7.89, 8.89, 1.89, 9.89

Options :

1. ✖ 5.89

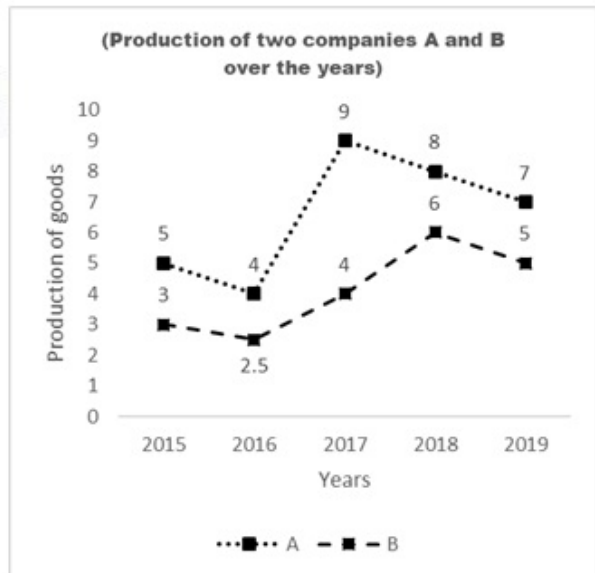
2. ✖ 4.89

3. ✔ 5.19

4. ✖ 4.19

Question Number : 147 Question Id : 7164472997 Question Type : MCQ Option Shuffling : Yes Negative Marks Display Text : 1/3
Correct Marks : 1 Wrong Marks : 0.33

Study the given graph carefully and answer the following question.



For company B, what is the approximate percent increase in production from 2017 to 2018?

Options :

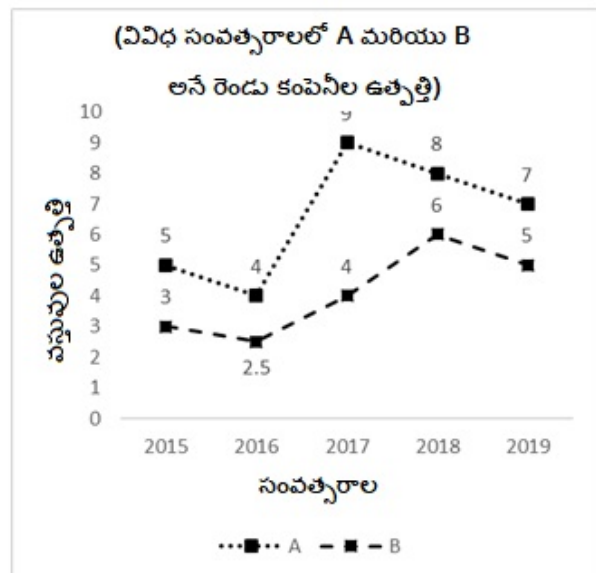
1. ✘ 25%

2. ✘ 16.6%

3. ✔ 50%

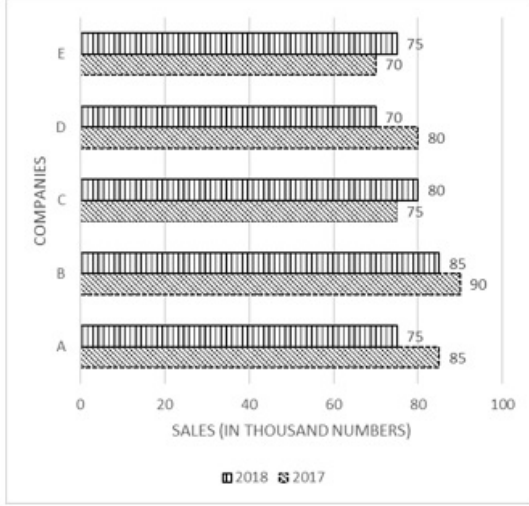
4. ✘ 100%

ఇచ్చిన గ్రాఫ్‌ను జాగ్రత్తగా అధ్యయనం చేసి, కింది ప్రశ్నకు సమాధానం ఇవ్వండి.

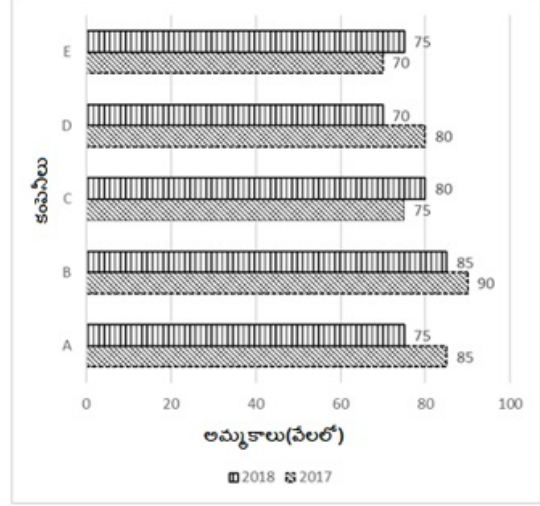


కంపెనీ B కోసం, 2017 నుండి 2018 వరకు ఉత్పత్తిలో పెరుగుదల శాతం సుమారుగా ఎంత?

The given bar graph shows the sales of sacks of cement (in thousand numbers) from five different companies A, B, C, D and E in the years 2017 and 2018.



ఇచ్చిన బార్ గ్రాఫ్, 2017 మరియు 2018 సంవత్సరాల్లో A, B, C, D మరియు E అనే ఐదు వేర్వేరు కంపెనీల నుండి సిమెంట్ బస్తాల అమ్మకాలను (వెయ్యి సంఖ్యలో) చూపిస్తుంది.



What is the ratio of the total sales of company D for both the years to the total sales of A for both the years?

రెండు సంవత్సరాలలో కంపెనీ D యొక్క మొత్తం అమ్మకాలకు, అదే రెండు సంవత్సరాలకు A యొక్క మొత్తం అమ్మకాలకు మధ్య గల నిష్పత్తి ఎంత?

Options :

1. ✘ 31 : 29

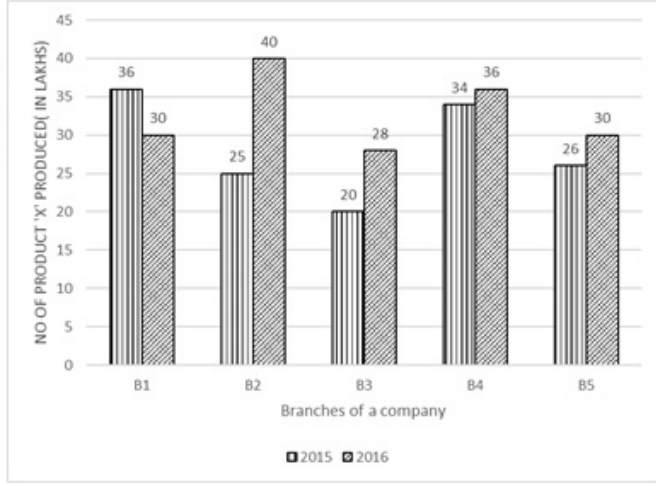
2. ✔ 15 : 16

3. ✘ 29 : 31

4. ✘ 30 : 29

Question Number : 149 Question Id : 7164472999 Question Type : MCQ Option Shuffling : Yes Negative Marks Display Text : 1/3 Correct Marks : 1 Wrong Marks : 0.33

The given bar graph shows the total number of a certain product 'X' (in lakh) from 5 different branches of a company B1, B2, B3, B4 and B5 that was produced in 2015 and 2016. Study the graph carefully and answer the following question.



The number of product 'X' produced by branch B1 in 2016 is equal to the number of product 'X' produced by which branch/es?

Options :

B2 in 2016

1. ✘ 2016 లో B2

B2 and B3 in 2015

2. ✘ 2015 లో B2 మరియు B3

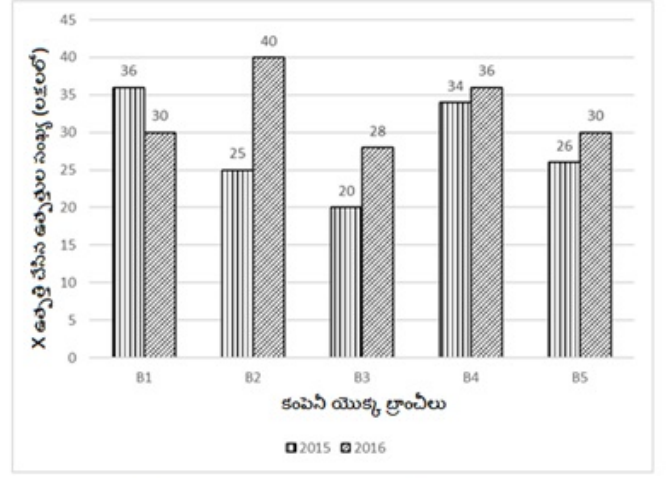
B3 and B4 in 2015 and 2016, respectively

3. ✘ వరుసగా 2015 మరియు 2016 లో B3 మరియు B4

B5 in 2016

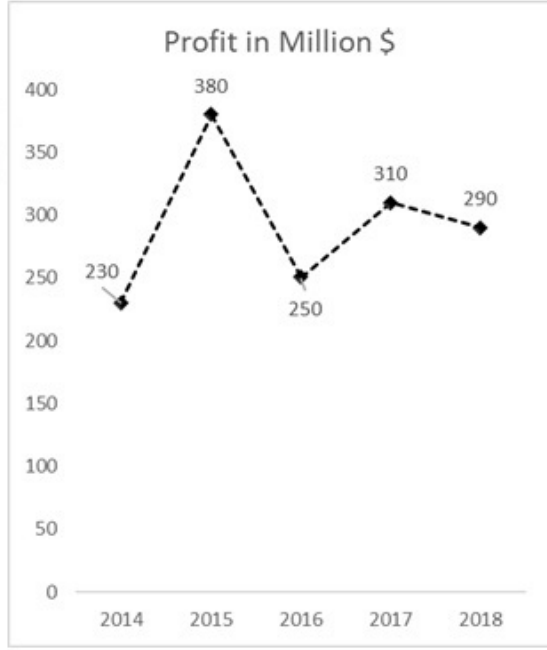
4. ✔ 2016 లో B5

ఇచ్చిన బార్ గ్రాఫ్, 2015 మరియు 2016 లో ఉత్పత్తి చేయబడిన B1, B2, B3, B4 మరియు B5 అను కంపెనీల యొక్క 5 వేర్వేరు బ్రాంచీల నుండి ఒక నిర్దిష్ట ఉత్పత్తి 'X' యొక్క మొత్తం సంఖ్యను (లక్షల్లో) చూపుతుంది. గ్రాఫ్‌ను జాగ్రత్తగా అధ్యయనం చేసి ప్రశ్నకు సమాధానం ఇవ్వండి.



2016 లో బ్రాంచ్ B1 ఉత్పత్తి చేసిన 'X' ఉత్పత్తి సంఖ్య, ఏ బ్రాంచ్/లు ఉత్పత్తి చేసిన 'X' ఉత్పత్తి సంఖ్యకు సమానం?

The given line graph shows the profit made by a logistic company (in million \$) from 2014 to 2018.



What was the approximate percentage increase in the profit made by the logistic company in 2017 over 2014?

Options :

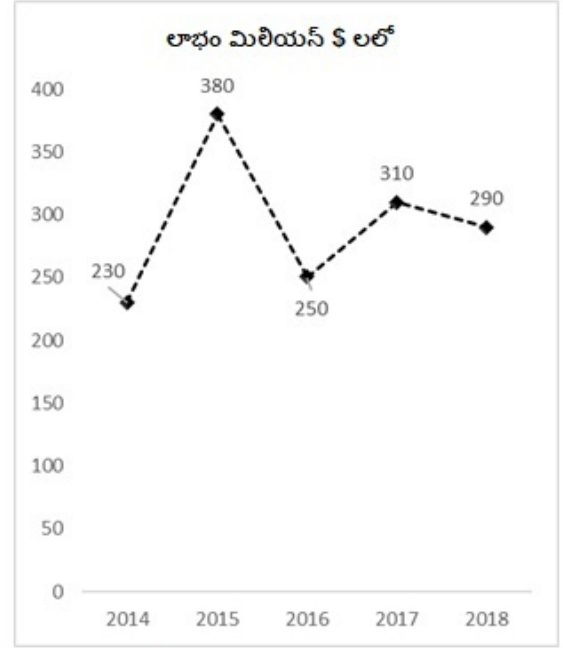
1. ✘ 20.5%

2. ✔ 34.8%

3. ✘ 29.5%

4. ✘ 7.5%

ఇచ్చిన లైన్ గ్రాఫ్, 2014 నుండి 2018 వరకు ఒక లాజిస్టిక్ కంపెనీ చేసిన లాభాలను (మిలియన్ \$ లో) చూపుతుంది.



2014 తో పోల్చితే 2017 లో లాజిస్టిక్ సంస్థ చేసిన లాభంలో పెరుగుదల శాతం సుమారుగా ఎంత?