

Banaras Hindu University

Question Paper Name:	385 22nd May 2019 Shift 1
Subject Name:	385
Creation Date:	2019-05-22 15:32:25
Duration:	120
Total Marks:	360
Display Marks:	Yes
Share Answer Key With Delivery Engine:	Yes
Actual Answer Key:	Yes

Common Entrance Test V

Group Number :	1
Group Id :	65898832
Group Maximum Duration :	0
Group Minimum Duration :	120
Revisit allowed for view? :	No
Revisit allowed for edit? :	No
Break time:	0
Group Marks:	360

Sec I GK and CA

Section Id :	65898836
Section Number :	1
Section type :	Online
Mandatory or Optional:	Mandatory
Number of Questions:	30
Number of Questions to be attempted:	30
Section Marks:	90
Display Number Panel:	Yes
Group All Questions:	No

Sub-Section Number:	1
Sub-Section Id:	65898843
Question Shuffling Allowed :	Yes

Question Number : 1 Question Id : 6589883618 Question Type : MCQ Option Shuffling : Yes Display Question Number : Yes Single Line Question Option : No Option Orientation : Vertical Allowed Progression : Yes Number of Replay : 999 Play On Load : No Control Enable : Yes

Correct Marks : 3 Wrong Marks : 1

Question Label : Multiple Choice Question

Which of the following was the first planet in the solar system to be visited by a spacecraft ?

निम्नलिखित में से कौन वह पहला ग्रह है जिस पर अंतरिक्ष यान पहली बार पहुँचा था ?

Options :

Mercury

1. बुध

Venus

2. शुक्र

Mars

3. मंगल

Jupiter

4. वृहस्पति

Question Number : 2 Question Id : 6589883619 Question Type : MCQ Option Shuffling : Yes Display Question Number : Yes
Single Line Question Option : No Option Orientation : Vertical Allowed Progression : Yes Number of Replay : 999 Play On Load :
No Control Enable : Yes

Correct Marks : 3 Wrong Marks : 1

Question Label : Multiple Choice Question

The first effective vaccine against polio was prepared by :

पोलियो का पहला प्रभावी प्रतिरोधी टीका किसके द्वारा विकसित किया गया था ?

Options :

J. H. Gibbon

1. जे० एच० गिबन

Jonas E Salk

2. जोनस ई० साक

Robert Edwards

3. रॉबर्ट एडवर्ड्स

James Simpson

4. जेम्स सिम्पसन

Question Number : 3 Question Id : 6589883620 Question Type : MCQ Option Shuffling : Yes Display Question Number : Yes
Single Line Question Option : No Option Orientation : Vertical Allowed Progression : Yes Number of Replay : 999 Play On Load :
No Control Enable : Yes

Correct Marks : 3 Wrong Marks : 1

Question Label : Multiple Choice Question

Which of the following disease is not transmitted by *Aedes aegypti* ?

निम्नलिखित में से कौन-सी बीमारी ऐडिस ऐजेप्टी द्वारा नहीं फैलती ?

Options :

Chikungunya

1. चिकनगुनिया

Dengue

2. डेंगू

Chicken-pox

3. छोटी माता

Yellow fever

4. पीला ज्वर

Question Number : 4 Question Id : 6589883621 Question Type : MCQ Option Shuffling : Yes Display Question Number : Yes
Single Line Question Option : No Option Orientation : Vertical Allowed Progression : Yes Number of Replay : 999 Play On Load :
No Control Enable : Yes

Correct Marks : 3 Wrong Marks : 1

Question Label : Multiple Choice Question

The period of the business cycle in which real GDP is increasing is called the :

व्यापार चक्र की वह अवस्था जिसमें जी० डी० पी० में वृद्धि होती है, क्या कहलाती है :

Options :

Expansion

1. प्रसार

peak

2. शिखर

Recession

3. मंदी

Stagflation

4. मुद्रास्फीति जनित मंदी

Question Number : 5 Question Id : 6589883622 Question Type : MCQ Option Shuffling : Yes Display Question Number : Yes
Single Line Question Option : No Option Orientation : Vertical Allowed Progression : Yes Number of Replay : 999 Play On Load :
No Control Enable : Yes

Correct Marks : 3 Wrong Marks : 1

Question Label : Multiple Choice Question

With regressive tax system, as income :

एक प्रतिगामी कर प्रणाली में जब आय :

Options :

Increases the tax rate remains the same

1. बढ़ती है तो कर की दर अपरिवर्तित रहती है

Decreases, the tax rate decrease

2. घटती है तो कर की दर घटती है

Increases, the tax rate increase

3. बढ़ती है तो कर की दर बढ़ती है

Increases, the tax rate decrease

4. बढ़ती है तो कर की दर घटती है

Question Number : 6 Question Id : 6589883623 Question Type : MCQ Option Shuffling : Yes Display Question Number : Yes
Single Line Question Option : No Option Orientation : Vertical Allowed Progression : Yes Number of Replay : 999 Play On Load :
No Control Enable : Yes

Correct Marks : 3 Wrong Marks : 1

Question Label : Multiple Choice Question

Which one of the following is a useful biological indicator of Sulphur - dioxide pollution ?

सल्फर डायऑक्साइड प्रदूषण का उपयुक्त जैविक सूचक निम्नलिखित में से कौन है ?

Options :

Bryophytes

1. ब्रायोफाइट

Algal blooms

2. अलगल ब्लूम

Pseudomonas

3. प्यूडोमोनास

Lichens

4. लिचेन्स

Question Number : 7 Question Id : 6589883624 Question Type : MCQ Option Shuffling : Yes Display Question Number : Yes
Single Line Question Option : No Option Orientation : Vertical Allowed Progression : Yes Number of Replay : 999 Play On Load :
No Control Enable : Yes

Correct Marks : 3 Wrong Marks : 1

Question Label : Multiple Choice Question

What is the title of the autobiography of Major Dhyanchand ?

मेजर ध्यानचन्द की जीवनी का नाम (शीर्षक) निम्नलिखित में से कौन है ?

Options :

Goal

1. गोल

Hockey Days

2. हॉकी डेज

Hockey-My Life

3. हॉकी-माई लाइफ

Me & My Hockey

4. मी एण्ड माई हॉकी

Question Number : 8 Question Id : 6589883625 Question Type : MCQ Option Shuffling : Yes Display Question Number : Yes
Single Line Question Option : No Option Orientation : Vertical Allowed Progression : Yes Number of Replay : 999 Play On Load :
No Control Enable : Yes

Correct Marks : 3 Wrong Marks : 1

Question Label : Multiple Choice Question

Oxygen liberated during photosynthesis comes from :

प्रकाश संश्लेषण की प्रक्रिया में मुक्त होने वाला ऑक्सीजन कहाँ से आता है ?

Options :

Carbon dioxide

1. कार्बन डाइऑक्साइड

Water

2. जल

Break down of Chlorophyll

3. क्लोरोफिल के विखंडन से

Atmosphere

4. वायुमण्डल से

Question Number : 9 Question Id : 6589883626 Question Type : MCQ Option Shuffling : Yes Display Question Number : Yes
Single Line Question Option : No Option Orientation : Vertical Allowed Progression : Yes Number of Replay : 999 Play On Load :
No Control Enable : Yes

Correct Marks : 3 Wrong Marks : 1

Question Label : Multiple Choice Question

Biodiversity is highest in :

जैव विविधता कहाँ सर्वाधिक होती है ?

Options :

Tundra zone

1. टूंड्रा क्षेत्र

Prairie zone

2. प्रेयरी क्षेत्र

Temperate zone

3. समशीतोष्ण क्षेत्र

Tropic zone

4. उष्णकटिबन्धीय क्षेत्र

Question Number : 10 Question Id : 6589883627 Question Type : MCQ Option Shuffling : Yes Display Question Number : Yes Single Line Question Option : No Option Orientation : Vertical Allowed Progression : Yes Number of Replay : 999 Play On Load : No Control Enable : Yes

Correct Marks : 3 Wrong Marks : 1

Question Label : Multiple Choice Question

Who was the first Indian in independent India to have won a medal in an individual Olympic event ?

स्वतंत्र भारत का वह पहला व्यक्ति कौन था जिसने ओलंपिक में व्यक्तिगत स्पर्धा में पदक जीता था ?

Options :

Dhyanchand

1. ध्यानचन्द

K. D. Jadhav

2. के० डी० जाधव

Prithvipal Singh

3. पृथ्वीपाल सिंह

Harishchandra Birajdar

4. हरिश्चन्द्र बिराजदार

Question Number : 11 Question Id : 6589883628 Question Type : MCQ Option Shuffling : Yes Display Question Number : Yes Single Line Question Option : No Option Orientation : Vertical Allowed Progression : Yes Number of Replay : 999 Play On Load : No Control Enable : Yes

Correct Marks : 3 Wrong Marks : 1

Question Label : Multiple Choice Question

Which team has won the Women's Cricket Asia Cup Trophy (Twenty-20 Tournament) held in Malaysia in June 2018 ?

किस टीम ने जून, 2018 में मलेशिया में हुई महिला क्रिकेट एशिया कप प्रतियोगिता (ट्वेन्टी-20 प्रतियोगिता) में विजय प्राप्त की थी ?

Options :

Bangladesh

1. बांग्लादेश

Pakistan

2. पाकिस्तान

3. Thailand
थाईलैण्ड

4. India
भारत

Question Number : 12 Question Id : 6589883629 Question Type : MCQ Option Shuffling : Yes Display Question Number : Yes
Single Line Question Option : No Option Orientation : Vertical Allowed Progression : Yes Number of Replay : 999 Play On Load :
No Control Enable : Yes

Correct Marks : 3 Wrong Marks : 1

Question Label : Multiple Choice Question

The word 'libro' is used in which of the following sports ?

निम्नलिखित में से किस खेल से 'लिब्रो' पद संबंधित है ?

Options :

1. Basketball
बास्केटबाल

2. Volleyball
वॉलीबाल

3. Handball
हैण्डबाल

4. Softball
सॉफ्टबाल

Question Number : 13 Question Id : 6589883630 Question Type : MCQ Option Shuffling : Yes Display Question Number : Yes
Single Line Question Option : No Option Orientation : Vertical Allowed Progression : Yes Number of Replay : 999 Play On Load :
No Control Enable : Yes

Correct Marks : 3 Wrong Marks : 1

Question Label : Multiple Choice Question

Acid present in gastric juice is :

आमाशय रस में कौन-सा अम्ल उपस्थित होता है ?

Options :

1. Hydrochloric Acid
हाइड्रोक्लोरिक अम्ल

2. Citric Acid
सिट्रिक अम्ल

Sulphuric Acid

3. सल्फ्यूरिक अम्ल

Acetic Acid

4. ऐसेटिक अम्ल

Question Number : 14 Question Id : 6589883631 Question Type : MCQ Option Shuffling : Yes Display Question Number : Yes
Single Line Question Option : No Option Orientation : Vertical Allowed Progression : Yes Number of Replay : 999 Play On Load :
No Control Enable : Yes

Correct Marks : 3 Wrong Marks : 1

Question Label : Multiple Choice Question

Which of the following is the main ingredient of cement ?

निम्नलिखित में से कौन सिमेंट का प्रमुख घटक है ?

Options :

Limestone

1. चूना पत्थर

Silica Clay

2. सिलिका क्ले (मिट्टी)

Gypsum

3. जिप्सम

Ash

4. राख

Question Number : 15 Question Id : 6589883632 Question Type : MCQ Option Shuffling : Yes Display Question Number : Yes
Single Line Question Option : No Option Orientation : Vertical Allowed Progression : Yes Number of Replay : 999 Play On Load :
No Control Enable : Yes

Correct Marks : 3 Wrong Marks : 1

Question Label : Multiple Choice Question

The lens used in a simple microscope is :

साधारण खुर्दबीन (माइक्रोस्कोप) में किस लेंस का प्रयोग होता है ?

Options :

Concave

1. अवतल

Convex

2. उत्तल

Cylindrical

3. बेलनीय

None of the three

4. तीनों में से कोई नहीं

Question Number : 16 Question Id : 6589883633 Question Type : MCQ Option Shuffling : Yes Display Question Number : Yes
Single Line Question Option : No Option Orientation : Vertical Allowed Progression : Yes Number of Replay : 999 Play On Load :
No Control Enable : Yes

Correct Marks : 3 Wrong Marks : 1

Question Label : Multiple Choice Question

When economists refer to "tight" monetary policy, they mean that the Reserve bank of India is taking actions that will :

जब अर्थशास्त्री "दुर्लभ" मौद्रिक नीति की चर्चा करते हैं तो वह अर्थ लगाते हैं कि भारतीय रिजर्व बैंक ऐसी कार्यवाही करता है जो :

Options :

Increases the demand for money

1. मुद्रा की माँग को बढ़ाता है

Decreases the demand for money

2. मुद्रा की माँग को घटाता है

Expand the supply of money

3. मुद्रा की पूर्ति को बढ़ाता है

Contract the supply of money

4. मुद्रा की पूर्ति को घटाता है

Question Number : 17 Question Id : 6589883634 Question Type : MCQ Option Shuffling : Yes Display Question Number : Yes
Single Line Question Option : No Option Orientation : Vertical Allowed Progression : Yes Number of Replay : 999 Play On Load :
No Control Enable : Yes

Correct Marks : 3 Wrong Marks : 1

Question Label : Multiple Choice Question

OTCEI is :

OTCEI क्या है ?

Options :

Automatic Stabilisation Programme

1. स्वचलित स्थिरीकरण कार्यक्रम

An Indian Share Market

2. एक भारतीय शेयर बाजार

Economic Policy of USA

3. यू० एस० ए० की आर्थिक नीति

Organization of Trade, Customs and Economic Cooperation

4. व्यापार, सीमा शुल्क एवं आर्थिक सहयोग संगठन

Question Number : 18 Question Id : 6589883635 Question Type : MCQ Option Shuffling : Yes Display Question Number : Yes
Single Line Question Option : No Option Orientation : Vertical Allowed Progression : Yes Number of Replay : 999 Play On Load :
No Control Enable : Yes

Correct Marks : 3 Wrong Marks : 1

Question Label : Multiple Choice Question

From where the pole star is not visible ?

ध्रुव तारा कहाँ से दिखाई नहीं पड़ता है ?

Options :

Tropic of Cancer

1. कर्क रेखा

Equator

2. भूमध्य रेखा

North Pole

3. उत्तरी ध्रुव

South Pole

4. दक्षिणी ध्रुव

Question Number : 19 Question Id : 6589883636 Question Type : MCQ Option Shuffling : Yes Display Question Number : Yes
Single Line Question Option : No Option Orientation : Vertical Allowed Progression : Yes Number of Replay : 999 Play On Load :
No Control Enable : Yes

Correct Marks : 3 Wrong Marks : 1

Question Label : Multiple Choice Question

Which of the following can monitor air pollution ?

निम्नलिखित में से कौन वायु प्रदूषण की निगरानी कर सकता है ?

Options :

Fungi

1. कवक

Algae

2. शैवाल

Bacteria

3. जीवाणु

Lichen

4. काई

Question Number : 20 Question Id : 6589883637 Question Type : MCQ Option Shuffling : Yes Display Question Number : Yes
Single Line Question Option : No Option Orientation : Vertical Allowed Progression : Yes Number of Replay : 999 Play On Load :
No Control Enable : Yes

Correct Marks : 3 Wrong Marks : 1

Question Label : Multiple Choice Question

Which of the following is a secondary air pollutant ?

निम्नलिखित में से कौन एक गौण वायु प्रदूषक है ?

Options :

Ozone

1. ओज़ोन

CO₂

2. CO₂

CO

3. CO

SO₂

4. SO₂

Question Number : 21 Question Id : 6589883638 Question Type : MCQ Option Shuffling : Yes Display Question Number : Yes
Single Line Question Option : No Option Orientation : Vertical Allowed Progression : Yes Number of Replay : 999 Play On Load :
No Control Enable : Yes

Correct Marks : 3 Wrong Marks : 1

Question Label : Multiple Choice Question

In which of the following city Elephant festival is celebrated annually ?

निम्नलिखित में से किस शहर में 'हाथी उत्सव' वार्षिक रूप से मनाया जाता है ?

Options :

Jaipur

1. जयपुर

Jodhpur

2. जोधपुर

Kota

3. कोटा

Ajmer

4. अजमेर

Question Number : 22 Question Id : 6589883639 Question Type : MCQ Option Shuffling : Yes Display Question Number : Yes
Single Line Question Option : No Option Orientation : Vertical Allowed Progression : Yes Number of Replay : 999 Play On Load :
No Control Enable : Yes

Correct Marks : 3 Wrong Marks : 1

Question Label : Multiple Choice Question

Which of the following states in India has the lowest and the highest sex ratio respectively ?

भारत में निम्नलिखित राज्यों में से किसमें यौन अनुपात क्रमशः न्यूनतम और अधिकतम है ?

Options :

- Haryana and Kerala
- 1. हरियाणा और केरल

- Kashmir and Puducherry
- 2. कश्मीर और पाण्डिचेरी

- Sikkim and Kerala
- 3. सिक्किम और केरल

- Haryana and Puducherry
- 4. हरियाणा और पाण्डिचेरी

Question Number : 23 Question Id : 6589883640 Question Type : MCQ Option Shuffling : Yes Display Question Number : Yes
Single Line Question Option : No Option Orientation : Vertical Allowed Progression : Yes Number of Replay : 999 Play On Load :
No Control Enable : Yes

Correct Marks : 3 Wrong Marks : 1

Question Label : Multiple Choice Question

Rumtek Monastery is located in which state ?

रमटेक मठ किस राज्य में स्थित है ?

Options :

- Arunachal Pradesh
- 1. अरुणाचल प्रदेश

- Himachal Pradesh
- 2. हिमाचल प्रदेश

- Jammu and Kashmir
- 3. जम्मू एवं कश्मीर

- Sikkim
- 4. सिक्किम

Question Number : 24 Question Id : 6589883641 Question Type : MCQ Option Shuffling : Yes Display Question Number : Yes
Single Line Question Option : No Option Orientation : Vertical Allowed Progression : Yes Number of Replay : 999 Play On Load :
No Control Enable : Yes

Correct Marks : 3 Wrong Marks : 1

Question Label : Multiple Choice Question

Where was the famous educational center Vikramshila situated ?

प्रसिद्ध शिक्षा केन्द्र विक्रमशिला कहाँ पर स्थित था ?

Options :

1. Bihar
बिहार
2. Karnataka
कर्नाटक
3. Kashmir
कश्मीर
4. Gujarat
गुजरात

Question Number : 25 Question Id : 6589883642 Question Type : MCQ Option Shuffling : Yes Display Question Number : Yes
Single Line Question Option : No Option Orientation : Vertical Allowed Progression : Yes Number of Replay : 999 Play On Load :
No Control Enable : Yes

Correct Marks : 3 Wrong Marks : 1

Question Label : Multiple Choice Question

The International Kite festival in Gujarat is held in the month of :

गुजरात में होने वाला 'अन्तर्राष्ट्रीय पतंग उत्सव' किस महीने में मनाया जाता है ?

Options :

1. January
जनवरी
2. March
मार्च
3. August
अगस्त
4. November
नवम्बर

Question Number : 26 Question Id : 6589883643 Question Type : MCQ Option Shuffling : Yes Display Question Number : Yes
Single Line Question Option : No Option Orientation : Vertical Allowed Progression : Yes Number of Replay : 999 Play On Load :
No Control Enable : Yes

Correct Marks : 3 Wrong Marks : 1

Question Label : Multiple Choice Question

Minister of State for Culture and Environment, Mahesh Sharma recently inaugurated 'Azaadi -Ke-Diwane' museum in which city ?

संस्कृति एवं पर्यावरण राज्य मंत्री महेश शर्मा ने हाल में ही किस शहर में 'आजादी के दीवाने' संग्रहालय का उद्घाटन किया ?

Options :

Mumbai

1. मुम्बई

Amritsar

2. अमृतसर

New Delhi

3. नई दिल्ली

Panipat

4. पानीपत

Question Number : 27 Question Id : 6589883644 Question Type : MCQ Option Shuffling : Yes Display Question Number : Yes
Single Line Question Option : No Option Orientation : Vertical Allowed Progression : Yes Number of Replay : 999 Play On Load :
No Control Enable : Yes

Correct Marks : 3 Wrong Marks : 1

Question Label : Multiple Choice Question

Which one of the following received Jnanpeeth Award, 2018 ?

निम्नलिखित में से किसे 2018 का ज्ञानपीठ पुरस्कार मिला था ?

Options :

Krishan Sodhi

1. कृष्णा सोधी

Shankar Ghosh

2. शंकर घोष

Amitav Ghose

3. अमिताव घोष

Kedarnath Singh

4. केदारनाथ सिंह

Question Number : 28 Question Id : 6589883645 Question Type : MCQ Option Shuffling : Yes Display Question Number : Yes
Single Line Question Option : No Option Orientation : Vertical Allowed Progression : Yes Number of Replay : 999 Play On Load :
No Control Enable : Yes

Correct Marks : 3 Wrong Marks : 1

Question Label : Multiple Choice Question

Which nation's lawmakers have approved a new law that will allow them to punish online media outlets for publishing fake news ?

किस देश के विधि निर्माताओं ने हाल ही में एक नया कानून पारित किया है जो उन्हें आनलाइन मीडिया समूह पर झूठा समाचार प्रकाशित करने की स्थिति में दंडित करने का अधिकार देता है ?

Options :

1. India
भारत
2. China
चीन
3. Russia
रूस
4. Pakistan
पाकिस्तान

Question Number : 29 Question Id : 6589883646 Question Type : MCQ Option Shuffling : Yes Display Question Number : Yes
Single Line Question Option : No Option Orientation : Vertical Allowed Progression : Yes Number of Replay : 999 Play On Load :
No Control Enable : Yes

Correct Marks : 3 Wrong Marks : 1

Question Label : Multiple Choice Question

When was the 'Janaushadhi Diwas' celebrated across India ?

सम्पूर्ण भारत में किस तिथि को जन-औषधि दिवस के रूप में मनाया गया ?

Options :

1. 6 March
6 मार्च
2. 7 March
7 मार्च
3. 8 March
8 मार्च
4. 9 March
9 मार्च

Question Number : 30 Question Id : 6589883647 Question Type : MCQ Option Shuffling : Yes Display Question Number : Yes
Single Line Question Option : No Option Orientation : Vertical Allowed Progression : Yes Number of Replay : 999 Play On Load :
No Control Enable : Yes

Correct Marks : 3 Wrong Marks : 1

Question Label : Multiple Choice Question

Kummanam Rajasekharan recently resigned as the Governor of which State ?

कुम्मानम राजशेखरन ने हॉल ही में किस राज्य के राज्यपाल के रूप में त्याग पत्र दिया ?

Options :

1. Mizoram
मिजोराम
2. Assam
असम
3. Meghalaya
मेघालय
4. West Bengal
पश्चिम बंगाल

Sec II Data & Reasoning

Section Id :	65898837
Section Number :	2
Section type :	Online
Mandatory or Optional:	Mandatory
Number of Questions:	26
Number of Questions to be attempted:	26
Section Marks:	90
Display Number Panel:	Yes
Group All Questions:	No

Sub-Section Number:	1
Sub-Section Id:	65898844
Question Shuffling Allowed :	Yes

Question Number : 31 Question Id : 6589883648 Question Type : MCQ Option Shuffling : Yes Display Question Number : Yes
Single Line Question Option : No Option Orientation : Vertical Allowed Progression : Yes Number of Replay : 999 Play On Load :
No Control Enable : Yes

Correct Marks : 3 Wrong Marks : 1

Question Label : Multiple Choice Question

'Steel' is related to 'Alloy' in the same way as 'Zinc ' is related to :

'स्टील' जिस तरह 'मिश्रधातु' से संबंधित है उसी तरह 'जस्ता' से संबंधित है :

Options :

1. Non- metal
गैर-धातु

Halogen

हैलोजेन

2.

Alloy

मिश्रधातु

3.

Metal

धातु

4.

Question Number : 32 Question Id : 6589883649 Question Type : MCQ Option Shuffling : Yes Display Question Number : Yes
Single Line Question Option : No Option Orientation : Vertical Allowed Progression : Yes Number of Replay : 999 Play On Load :
No Control Enable : Yes

Correct Marks : 3 Wrong Marks : 1

Question Label : Multiple Choice Question

How many pairs of letters are there in the Word ' CONFUSED' which have as many letters between them as in the English alphabet ?

शब्द 'CONFUSED' में अक्षरों के कितने जोड़े हैं, जिनके बीच में अंग्रेजी वर्णमाला के रूप में उतने अक्षर हैं ?

Options :

One

1. एक

Two

2. दो

Three

3. तीन

Four

4. चार

Question Number : 33 Question Id : 6589883650 Question Type : MCQ Option Shuffling : Yes Display Question Number : Yes
Single Line Question Option : No Option Orientation : Vertical Allowed Progression : Yes Number of Replay : 999 Play On Load :
No Control Enable : Yes

Correct Marks : 3 Wrong Marks : 1

Question Label : Multiple Choice Question

If in a certain code language 'IPL' is written as '81256144', then how will 'BUT' be written in that language ?

यदि एक निश्चित कूट भाषा में 'IPL' को '81256144' लिखा जाता है, तो उस भाषा में 'BUT' कैसे लिखा जाएगा ?

Options :

1. 4441400

2. 4444100

3. 4100444

4. 4144400

Question Number : 34 Question Id : 6589883651 Question Type : MCQ Option Shuffling : Yes Display Question Number : Yes
Single Line Question Option : No Option Orientation : Vertical Allowed Progression : Yes Number of Replay : 999 Play On Load :
No Control Enable : Yes

Correct Marks : 3 Wrong Marks : 1

Question Label : Multiple Choice Question

Arrange the following words in a logical sequence :

निम्नलिखित शब्दों को तार्किक क्रम में व्यवस्थित करें :

- | | |
|-------------------------------|------------------------------|
| (a) Application
आवेदन | (b) Selection
चयन |
| (c) Exam
परीक्षा | (d) Interview
साक्षात्कार |
| (e) Advertisement
विज्ञापन | |

Options :

1. a, b, c, e, d

2. e, a, c, d, b

3. e, c, a, d, b

4. d, e, a, b, c

Question Number : 35 Question Id : 6589883652 Question Type : MCQ Option Shuffling : Yes Display Question Number : Yes
Single Line Question Option : No Option Orientation : Vertical Allowed Progression : Yes Number of Replay : 999 Play On Load :
No Control Enable : Yes

Correct Marks : 3 Wrong Marks : 1

Question Label : Multiple Choice Question

In a class of 45 students, a boy is ranked 20th. When two boys joined, his rank was dropped by one. What is his new rank from the end ?

45 छात्रों की कक्षा में एक लड़का 20वें स्थान पर है। जब दो लड़के और शामिल हुए, तो उसकी रैंक एक कम (dropped) हो गई। उसकी नई रैंक आखिर से क्या है ?

Options :

25th

1. 25वाँ

26th

2. 26वाँ

27th

3. 27वाँ

28th

4. 28वाँ

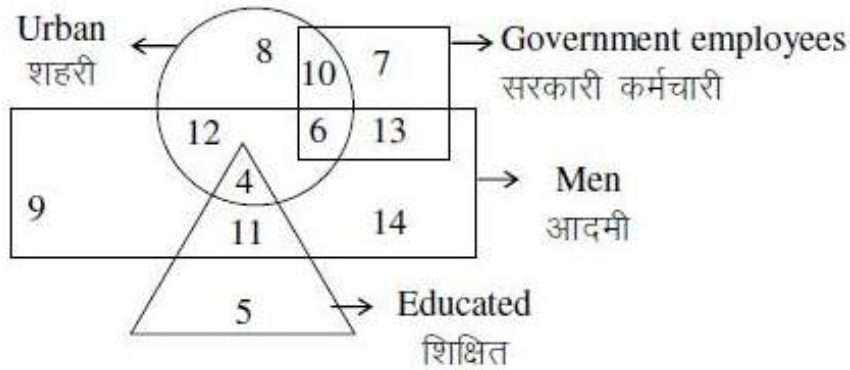
Question Number : 36 Question Id : 6589883653 Question Type : MCQ Option Shuffling : Yes Display Question Number : Yes Single Line Question Option : No Option Orientation : Vertical Allowed Progression : Yes Number of Replay : 999 Play On Load : No Control Enable : Yes

Correct Marks : 3 Wrong Marks : 1

Question Label : Multiple Choice Question

In the following Venn diagram, which of the following represents the educated men but not urban ?

निम्नलिखित वेन आरेख (Venn diagram) में निम्नलिखित में से कौन शिक्षित पुरुषों का प्रतिनिधित्व करता है, लेकिन शहरी नहीं ?



Options :

1. 9

2. 5

3. 4

4. 11

Question Number : 37 Question Id : 6589883654 Question Type : MCQ Option Shuffling : Yes Display Question Number : Yes Single Line Question Option : No Option Orientation : Vertical Allowed Progression : Yes Number of Replay : 999 Play On Load : No Control Enable : Yes

Correct Marks : 3 Wrong Marks : 1

Question Label : Multiple Choice Question

Raghu and Babu are twins. Babu's sister is Reema. Reema's husband is Rajan. Raghu's mother is Lakshmi. Lakshmi's husband is Rajesh. How is Rajesh related to Rajan ?

रघु और बाबू जुड़वाँ हैं। बाबू की बहन रीमा है। रीमा का पति राजन है। रघु की माँ लक्ष्मी है। लक्ष्मी का पति राजेश है। राजेश का राजन से क्या सम्बन्ध है ?

Options :

Uncle

1. चाचा

Son-in-law

2. दामाद

Father-in-law

3. ससुर

Cousin

4. चचेरा भाई/बहन

Question Number : 38 Question Id : 6589883655 Question Type : MCQ Option Shuffling : Yes Display Question Number : Yes Single Line Question Option : No Option Orientation : Vertical Allowed Progression : Yes Number of Replay : 999 Play On Load : No Control Enable : Yes

Correct Marks : 3 Wrong Marks : 1

Question Label : Multiple Choice Question

There are six members in a family. A is the father of D, E is the grandfather of D. B is the daughter-in-law of C. F is the uncle of D. What is the relationship of C with F ?

एक परिवार में छह सदस्य हैं। A, D का पिता है, E, D का दादा है। B, C की बहू है। F, D का चाचा है। C का F से क्या संबंध है ?

Options :

Sister

1. बहन

Mother-in-law

2. सास

Mother

3. माँ

Data inadequate

4. डाटा अपर्याप्त है

Question Number : 39 Question Id : 6589883656 Question Type : MCQ Option Shuffling : Yes Display Question Number : Yes Single Line Question Option : No Option Orientation : Vertical Allowed Progression : Yes Number of Replay : 999 Play On Load : No Control Enable : Yes

Correct Marks : 3 Wrong Marks : 1

Question Label : Multiple Choice Question

At what time between 5 and 6 are the hands of a clock coincident ?

5 और 6 के बीच किस समय घड़ी की सुईयाँ एक साथ होंगी ?

Options :

1. 22 min past 5
5 बजकर 22 मिनट
2. 30 min past 5
5 बजकर 30 मिनट
3. $22\frac{8}{11}$ min past 5
5 बजकर $22\frac{8}{11}$ मिनट
4. $27\frac{3}{11}$ min past 5
5 बजकर $27\frac{3}{11}$ मिनट

Question Number : 40 Question Id : 6589883657 Question Type : MCQ Option Shuffling : Yes Display Question Number : Yes
Single Line Question Option : No Option Orientation : Vertical Allowed Progression : Yes Number of Replay : 999 Play On Load :
No Control Enable : Yes

Correct Marks : 3 Wrong Marks : 1

Question Label : Multiple Choice Question

On which dates of April, 2012 will a sunday come ?

अप्रैल, 2012 की किन तारीखों में रविवार आएगा ?

Options :

1. 5, 12, 19, 26
2. 1, 8, 15, 22, 29
3. 3, 10, 17, 24
4. 7, 14, 21, 28

Question Number : 41 Question Id : 6589883658 Question Type : MCQ Option Shuffling : Yes Display Question Number : Yes
Single Line Question Option : No Option Orientation : Vertical Allowed Progression : Yes Number of Replay : 999 Play On Load :
No Control Enable : Yes

Correct Marks : 3 Wrong Marks : 1

Question Label : Multiple Choice Question

Kunal travels 10 m from his shop and turns to his left. After that he turns to right from the crossing. After moving certain yards, he turns to left and again turns to left after moving some distance. Finally, he turns to right. If at final position he is facing North direction, then which direction he was facing while coming out of his shop ?

कुणाल अपनी दुकान से 10 मी० की यात्रा करता है और अपनी बाईं ओर मुड़ता है। इसके बाद वह क्रासिंग से दाएं मुड़ता है। कुछ गज चलने के बाद, वह बाईं ओर मुड़ता है और कुछ दूरी चलने के बाद फिर से बाईं ओर मुड़ता है। अंत में, वह दाईं ओर मुड़ता है। यदि अंतिम स्थिति में वह उत्तर दिशा की ओर है, तो वह अपनी दुकान से बाहर आते समय किस दिशा की ओर था ?

Options :

1. South
दक्षिण
2. West
पश्चिम
3. East
पूर्व
4. North
उत्तर

Question Number : 42 Question Id : 6589883659 Question Type : MCQ Option Shuffling : Yes Display Question Number : Yes Single Line Question Option : No Option Orientation : Vertical Allowed Progression : Yes Number of Replay : 999 Play On Load : No Control Enable : Yes

Correct Marks : 3 Wrong Marks : 1

Question Label : Multiple Choice Question

A, B, C, D, E and F are standing in a circular space facing the centre. A and C are together and also E and B are together. B is standing to the left of F. There are two persons between D and E. A and E are not together. If we move anti-clockwise from F to E, then how many persons are there between F and E ?

A, B, C, D, E और F एक गोलाकार स्थान पर केन्द्र की ओर खड़े हैं। A और C एक साथ हैं और E और B भी एक साथ हैं। B, F के बाईं ओर खड़ा है। D और E के बीच दो व्यक्ति हैं। A और E एक साथ नहीं हैं। यदि हम F से E तक वामाव्रत घूमते हैं, तो F और E के बीच कितने व्यक्ति हैं ?

Options :

1. 1
2. 2

3

3. 3

Data inadequate

डाटा अपर्याप्त है

4.

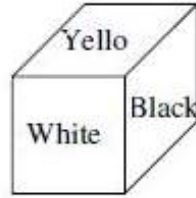
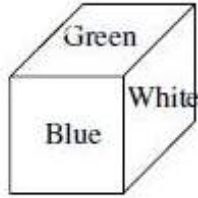
Question Number : 43 Question Id : 6589883660 Question Type : MCQ Option Shuffling : Yes Display Question Number : Yes Single Line Question Option : No Option Orientation : Vertical Allowed Progression : Yes Number of Replay : 999 Play On Load : No Control Enable : Yes

Correct Marks : 3 Wrong Marks : 1

Question Label : Multiple Choice Question

Six faces of a block have been painted with green, blue, white, yellow, black and pink. Two positions of this block is given below. If the black colour be at top. Then which colour will be at the bottom ?

ब्लॉक के छह सतहों को हरे, नीले, सफेद, पीले, काले और गुलाबी रंग से रंगा गया है इस ब्लॉक के दो स्थितियाँ नीचे दिए गए हैं। यदि काला रंग सबसे ऊपर है, तो सबसे नीचे कौन-सा रंग होगा ?



Options :

Green

1. हरा

Blue

2. नीला

Yellow

3. पीला

White

4. सफेद

Sub-Section Number:

2

Sub-Section Id:

65898845

Question Shuffling Allowed :

Yes

Question Id : 6589883661 Question Type : COMPREHENSION Sub Question Shuffling Allowed : Yes Group Comprehension Questions : No Allowed Progression : Yes Number of Replay : 999 Play On Load : No Control Enable : Yes

Question Numbers : (44 to 46)

Question Label : Comprehension

An organization consists of 4800 employees working in different departments viz. A, B, C, D and E. The ratio of male to female employees in the organization is 5 : 3 respectively. 12% of the males work in the department A. 24% of the females work in the department E. The ratio of males to females working in the department A is 18 : 33 respectively. 200 females work in the department C. 42% of the males work in the department D. Number of females working in the department D is 10% of the males working in the same. The remaining females work in the department B. The total number of employees working in the department C is 570. 22% of the males work in the department B and remaining work in the department E.

एक संगठन के विभिन्न विभागों जैसे कि A, B, C, D और E में कुल 4,800 कर्मचारी कार्य करते हैं। संगठन में पुरुषों का अनुपात महिलाओं के साथ क्रमशः 5 : 3 है। 12 प्रतिशत पुरुष विभाग A में कार्य करते हैं। 24 प्रतिशत महिलायें विभाग E में कार्य करती हैं। विभाग A में कार्य करने वाले, पुरुषों का अनुपात महिलाओं के साथ क्रमशः 18 : 33 है। 200 महिलायें विभाग C में कार्य करती हैं। 42 प्रतिशत पुरुष विभाग D में कार्य करते हैं। विभाग D में कार्य करने वाली महिलाओं की संख्या उसी विभाग में कार्य करने वाले पुरुषों की संख्या का 10 प्रतिशत है। शेष बची हुई महिलायें विभाग B में कार्य करती हैं। विभाग C में कुल कार्य करने वाले कर्मचारियों की संख्या 570 है। विभाग B में 22 प्रतिशत पुरुष कार्य करते हैं, तथा शेष विभाग E में कार्य करते हैं।

Sub questions

Question Number : 44 Question Id : 6589883662 Question Type : MCQ Option Shuffling : Yes Display Question Number : Yes Single Line Question Option : No Option Orientation : Vertical Allowed Progression : Yes Number of Replay : 999 Play On Load : No Control Enable : Yes

Correct Marks : 3 Wrong Marks : 1

Question Label : Multiple Choice Question

What is the total number of females working in the department A and department B together ?

विभाग A एवं विभाग B में साथ-साथ कार्य करने वाली महिलाओं की संख्या क्या है ?

Options :

1. 1024

2. 1042

3. 1026

4. 1060

Question Number : 45 Question Id : 6589883663 Question Type : MCQ Option Shuffling : Yes Display Question Number : Yes Single Line Question Option : No Option Orientation : Vertical Allowed Progression : Yes Number of Replay : 999 Play On Load : No Control Enable : Yes

Correct Marks : 3 Wrong Marks : 1

Question Label : Multiple Choice Question

The number of females working in department D is what percent of the total number of females in the organization ?

विभाग D में कार्य करने वाली महिलाओं की संख्या, संगठन में महिलाओं की कुल संख्या का कितना प्रतिशत है ?

Options :

1. 11%
2. 9%
3. 7%
4. 5%

Question Number : 46 Question Id : 6589883664 Question Type : MCQ Option Shuffling : Yes Display Question Number : Yes Single Line Question Option : No Option Orientation : Vertical Allowed Progression : Yes Number of Replay : 999 Play On Load : No Control Enable : Yes

Correct Marks : 3 Wrong Marks : 1

Question Label : Multiple Choice Question

The total number of employees working in the department E is approximately what percent of the total number of employees in the organization ?

विभाग E में कार्य करने वाले कर्मचारियों की कुल संख्या, संगठन में कार्य करने वाले कुल कर्मचारियों का कितना प्रतिशत है ?

Options :

1. 12%
2. 19%
3. 21%
4. 16%

Sub-Section Number:	3
Sub-Section Id:	65898846
Question Shuffling Allowed :	Yes

Question Id : 6589883665 Question Type : COMPREHENSION Sub Question Shuffling Allowed : Yes Group Comprehension Questions : No Allowed Progression : Yes Number of Replay : 999 Play On Load : No Control Enable : Yes

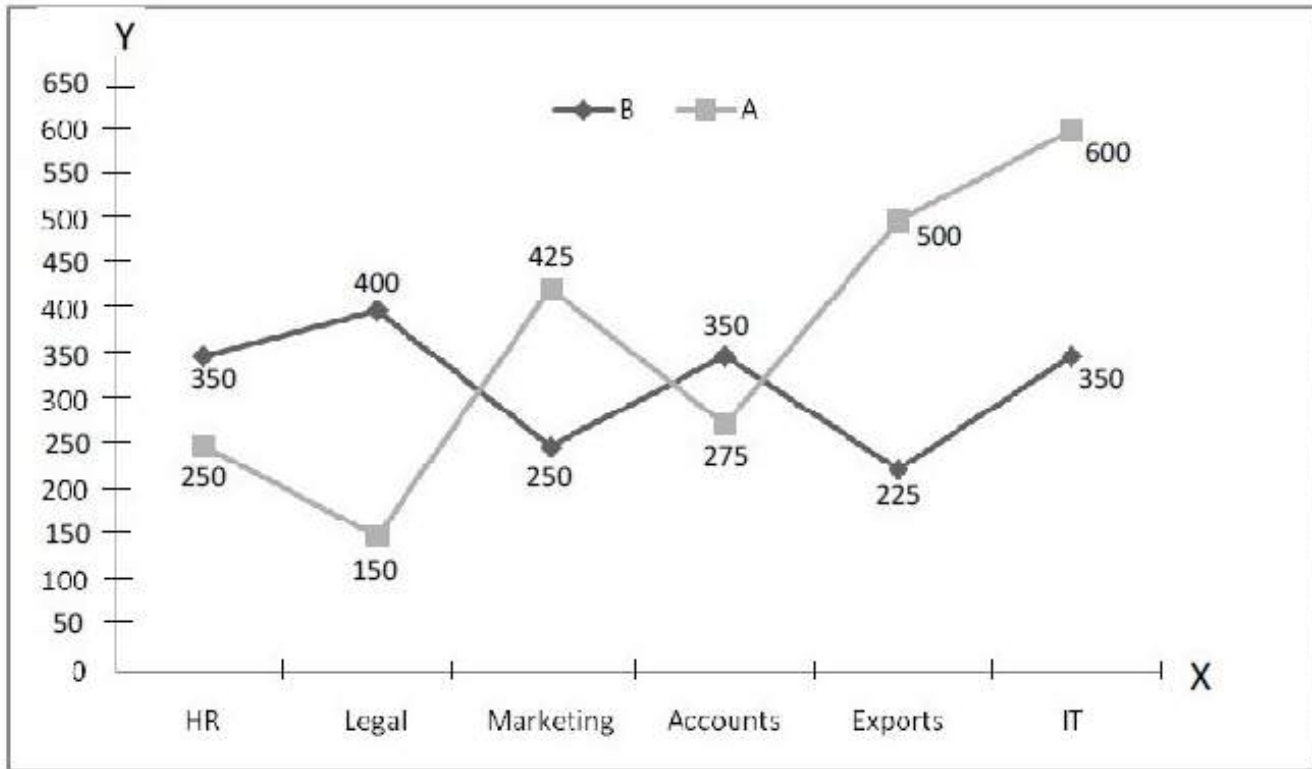
Question Numbers : (47 to 49)

Question Label : Comprehension

Study the following graph carefully and answer the questions that follow :
 Number of people working in various departments of two different organisations :

निम्नलिखित ग्राफ का ध्यान से अध्ययन करें, और पूछे गये सवालों का जवाब दें :

दो अलग-अलग संगठनों के विभिन्न विभागों में कार्यरत व्यक्तियों की संख्या :



Departments (विभाग)

Sub questions

Question Number : 47 Question Id : 6589883666 Question Type : MCQ Option Shuffling : Yes Display Question Number : Yes
 Single Line Question Option : No Option Orientation : Vertical Allowed Progression : Yes Number of Replay : 999 Play On Load :
 No Control Enable : Yes

Correct Marks : 3 Wrong Marks : 1

Question Label : Multiple Choice Question

What is the respective ratio of the number of people working in the IT department of organization A and the number of people working in exports department of organization B ?

संगठन A के आई० टी० विभाग में काम करने वाले लोगों की संख्या और संगठन B के निर्यात विभाग में काम करने वाले लोगों की संख्या का संबंधित अनुपात क्या है ?

Options :

1. 4 : 3

2. 3 : 8

3. 8 : 3

4. 5 : 2

Question Number : 48 Question Id : 6589883667 Question Type : MCQ Option Shuffling : Yes Display Question Number : Yes
Single Line Question Option : No Option Orientation : Vertical Allowed Progression : Yes Number of Replay : 999 Play On Load :
No Control Enable : Yes

Correct Marks : 3 Wrong Marks : 1

Question Label : Multiple Choice Question

The number of people working in legal department of organisation B is approximately what percent of the total number of people working in organisation A ?

संगठन B के कानूनी विभाग में काम करने वाले लोगों की संख्या संगठन A में काम करने वाले लोगों की कुल संख्या का लगभग प्रतिशत है ?

Options :

1. 29.19%
2. 9.09%
3. 13.13%
4. 18.18%

Question Number : 49 Question Id : 6589883668 Question Type : MCQ Option Shuffling : Yes Display Question Number : Yes
Single Line Question Option : No Option Orientation : Vertical Allowed Progression : Yes Number of Replay : 999 Play On Load :
No Control Enable : Yes

Correct Marks : 3 Wrong Marks : 1

Question Label : Multiple Choice Question

What is the total number of people working in organisation B ?

संगठन B में काम करने वाले लोगों की कुल संख्या क्या है ?

Options :

1. 1925
2. 1950
3. 1975
4. 1875

Sub-Section Number: 4
Sub-Section Id: 65898847
Question Shuffling Allowed : Yes

Question Number : 50 Question Id : 6589883669 Question Type : MCQ Option Shuffling : Yes Display Question Number : Yes
Single Line Question Option : No Option Orientation : Vertical Allowed Progression : Yes Number of Replay : 999 Play On Load :
No Control Enable : Yes

Correct Marks : 3 Wrong Marks : 1

Question Label : Multiple Choice Question

A cube of 25 cm side is divided into 125 smaller cubes of equal volume. Find the side of smaller cubes :

25 सेमी भुजा वाले एक घन को समान मात्रा के 125 छोटे घनों में विभाजित किया जाता है। छोटे घनों की भुजा होगी :

Options :

1. 2 cm
2 सेमी
2. 3 cm
3 सेमी
3. 5 cm
5 सेमी
4. 6 cm
6 सेमी

Question Number : 51 Question Id : 6589883670 Question Type : MCQ Option Shuffling : Yes Display Question Number : Yes Single Line Question Option : No Option Orientation : Vertical Allowed Progression : Yes Number of Replay : 999 Play On Load : No Control Enable : Yes

Correct Marks : 3 Wrong Marks : 1

Question Label : Multiple Choice Question

Reena is twice as old as Sunita. Three years ago, she was three times as old as Sunita. How old is Reena now ?

रीना सुनीता से दोगुनी उम्र की है। तीन वर्ष पहले वह सुनीता से तीन गुना उम्र की थी। अब रीना कितने वर्ष की है ?

Options :

1. 6 years
6 वर्ष
2. 12 years
12 वर्ष
3. 14 years
14 वर्ष
4. 16 years
16 वर्ष

Question Number : 52 Question Id : 6589883671 Question Type : MCQ Option Shuffling : Yes Display Question Number : Yes Single Line Question Option : No Option Orientation : Vertical Allowed Progression : Yes Number of Replay : 999 Play On Load : No Control Enable : Yes

Correct Marks : 3 Wrong Marks : 1

Question Label : Multiple Choice Question

In a coded language COMPUTER is written as RETUPMOC. How is MACHINE written in the same code ?

एक कूट भाषा में COMPUTER को RETUPMOC के रूप में लिखा जाता है। इसी कूट में MACHINE को कैसे लिखा जाएगा ?

Options :

1. DHFTCHS
2. HGTIRDM
3. ENIHCAM
4. HGRMSCH

Question Number : 53 Question Id : 6589883672 Question Type : MCQ Option Shuffling : Yes Display Question Number : Yes Single Line Question Option : No Option Orientation : Vertical Allowed Progression : Yes Number of Replay : 999 Play On Load : No Control Enable : Yes

Correct Marks : 3 Wrong Marks : 1

Question Label : Multiple Choice Question

What is value of blank position in the given series ?

दिये गये श्रेणी में खाली स्थान का मान होगा :

1, 6, 15, (...), 45, 66, 91

Options :

1. 26
2. 28
3. 29
4. 34

Question Number : 54 Question Id : 6589883673 Question Type : MCQ Option Shuffling : Yes Display Question Number : Yes Single Line Question Option : No Option Orientation : Vertical Allowed Progression : Yes Number of Replay : 999 Play On Load : No Control Enable : Yes

Correct Marks : 3 Wrong Marks : 1

Question Label : Multiple Choice Question

Which number should be replaced with x in the following series ?

किस संख्या को निम्न श्रेणी में x के स्थान पर रखा जाना चाहिए ?

2, 3, 5, 7, 11, x , 17

Options :

1. 12

2. 13

3. 14

4. 15

Question Number : 55 Question Id : 6589883674 Question Type : MCQ Option Shuffling : Yes Display Question Number : Yes
Single Line Question Option : No Option Orientation : Vertical Allowed Progression : Yes Number of Replay : 999 Play On Load :
No Control Enable : Yes

Correct Marks : 3 Wrong Marks : 1

Question Label : Multiple Choice Question

In a certain code, SIKKIM is written as THUJL, how is TRAINING written in that code ?

कतिपय कूट में SIKKIM को THUJL के रूप में लिखा जाता है, इस कूट में TRAINING को कैसे लिखा जायेगा है ?

Options :

1. SQBHOHOF

2. UQBHOIOF

3. UQBHCHOI

4. UQBHOHOF

Question Number : 56 Question Id : 6589883675 Question Type : MCQ Option Shuffling : Yes Display Question Number : Yes
Single Line Question Option : No Option Orientation : Vertical Allowed Progression : Yes Number of Replay : 999 Play On Load :
No Control Enable : Yes

Correct Marks : 3 Wrong Marks : 1

Question Label : Multiple Choice Question

Find out the next number in the series 97, 86, 73, 58, 45, (.....) :

श्रेणी 97, 86, 73, 58, 45, (.....) में अगली संख्या का पता लगाइए :

Options :

1. 54

2. 56

3. 34

4. 55

Question Number : 57 Question Id : 6589883676 Question Type : MCQ Option Shuffling : Yes Display Question Number : Yes
Single Line Question Option : No Option Orientation : Vertical Allowed Progression : Yes Number of Replay : 999 Play On Load :
No Control Enable : Yes

Correct Marks : 3 Wrong Marks : 1

Question Label : Multiple Choice Question

According to new terminology, 'Aries' means 'air', 'Taurus' means 'light', 'Libra' means 'water' and 'Scorpio' means 'earth'. What would an organism breathe in ?

नये शब्दावली के अनुसार 'Aries' का अर्थ 'air' है, 'Taurus' का अर्थ 'light', 'Libra' का अर्थ Water तथा 'Scorpio' का अर्थ 'earth' है। एक जीव सांस में क्या लेगा ?

Options :

1. Aries
2. Taurus
3. Libra
4. Scorpio

Question Number : 58 Question Id : 6589883677 Question Type : MCQ Option Shuffling : Yes Display Question Number : Yes
Single Line Question Option : No Option Orientation : Vertical Allowed Progression : Yes Number of Replay : 999 Play On Load :
No Control Enable : Yes

Correct Marks : 3 Wrong Marks : 1

Question Label : Multiple Choice Question

Two towns P & Q are 275 km apart. A motorcycle rider starts from P towards Q at 8 a.m. at the speed of 25 km/ hr. Another rider starts from Q towards P at 9 a. m. at the speed of 20 km/ hr. Find at what time they will cross each other ?

दो कस्बे P और Q 275 किमी दूर हैं। एक मोटर सायकिल सवार P से Q की ओर 8 बजे प्रातः 25 किमी/घंटा की गति से चलना आरंभ करता है। एक दूसरा मोटर सायकिल चालक Q से P की ओर 9 बजे प्रातः 20 किमी/घंटा की गति से चलना आरंभ करता है। पता लगाइए कि किस समय पर ये एक-दूसरे को पार करेंगे ?

Options :

1. 2.45 बजे अपरान्ह
2. 2.30 बजे अपरान्ह
3. 1.35 बजे अपरान्ह
4. 1.15 बजे अपरान्ह

Question Number : 59 Question Id : 6589883678 Question Type : MCQ Option Shuffling : Yes Display Question Number : Yes
Single Line Question Option : No Option Orientation : Vertical Allowed Progression : Yes Number of Replay : 999 Play On Load :
No Control Enable : Yes

Correct Marks : 3 Wrong Marks : 1

Question Label : Multiple Choice Question

What is average (Arithmetic Mean) of the numbers : 2, 4, 5, 0, 9, 10 and 12 ?

संख्याओं 2, 4, 5, 0, 9, 10 एवं 12 का औसत (अंकगणतीय माध्य) क्या है ?

Options :

1. 5

2. 6

3. 7

4. 8

Question Number : 60 Question Id : 6589883679 Question Type : MCQ Option Shuffling : Yes Display Question Number : Yes
Single Line Question Option : No Option Orientation : Vertical Allowed Progression : Yes Number of Replay : 999 Play On Load :
No Control Enable : Yes

Correct Marks : 3 Wrong Marks : 1

Question Label : Multiple Choice Question

The radii of two cylinders are in the ratio of 2 : 3 and their heights are in the ratio of 5 : 3. The ratio of their volumes is :

दो बेलनों की त्रिज्याएँ 2 : 3 के अनुपात में हैं तथा उनकी ऊँचाइयों का अनुपात 5 : 3 है। उनके आयतनों का अनुपात है :

Options :

1. 10 : 17

2. 20 : 27

3. 17 : 27

4. 20 : 37

Sec III Quantitative Ability

Section Id :	65898838
Section Number :	3
Section type :	Online
Mandatory or Optional:	Mandatory
Number of Questions:	30
Number of Questions to be attempted:	30
Section Marks:	90
Display Number Panel:	Yes
Group All Questions:	No

Sub-Section Number: 1
Sub-Section Id: 65898848
Question Shuffling Allowed : Yes

Question Number : 61 Question Id : 6589883680 Question Type : MCQ Option Shuffling : Yes Display Question Number : Yes
Single Line Question Option : No Option Orientation : Vertical Allowed Progression : Yes Number of Replay : 999 Play On Load :
No Control Enable : Yes

Correct Marks : 3 Wrong Marks : 1

Question Label : Multiple Choice Question

If $x = -1$, then what is the value of the function ?

यदि $x = -1$, तो निम्न फलन का मान क्या होगा ?

$$f(x) = x^3 + 4x + 12$$

Options :

1. 7
2. 9
3. 11
4. 13

Question Number : 62 Question Id : 6589883681 Question Type : MCQ Option Shuffling : Yes Display Question Number : Yes
Single Line Question Option : No Option Orientation : Vertical Allowed Progression : Yes Number of Replay : 999 Play On Load :
No Control Enable : Yes

Correct Marks : 3 Wrong Marks : 1

Question Label : Multiple Choice Question

A die is thrown 1000 times and the outcomes were recorded as follows :

एक पासे को 1000 बार फेंका गया और परिणाम निम्नलिखित प्रकार से रिकार्ड किए गए :

Outcome परिणाम	1	2	3	4	5	6
Frequency बारंबारता	180	150	160	170	150	190

If the die is thrown once more, then the probability that it shows 5 is :

यदि पासे को एक बार और फेंका जाए तो इसकी प्रायिकता कि यह 5 दर्शाएगा :

Options :

1. $\frac{9}{50}$
2. $\frac{3}{20}$
3. $\frac{4}{25}$
4. $\frac{7}{25}$

Question Number : 63 Question Id : 6589883682 Question Type : MCQ Option Shuffling : Yes Display Question Number : Yes
Single Line Question Option : No Option Orientation : Vertical Allowed Progression : Yes Number of Replay : 999 Play On Load :
No Control Enable : Yes

Correct Marks : 3 Wrong Marks : 1

Question Label : Multiple Choice Question

Three-fourth of the number of girls in a school is equal to half of the number of boys. If the school has 1420 pupils, how many of them are boys ?

एक स्कूल में लड़कियों की संख्या का तीन-चौथाई लड़कों की संख्या के आधे के बराबर है। यदि स्कूल में 1420 छात्र हैं, तो उनमें से कितने लड़के हैं ?

Options :

1. 852

2. 720

3. 568

4. 284

Question Number : 64 Question Id : 6589883683 Question Type : MCQ Option Shuffling : Yes Display Question Number : Yes
Single Line Question Option : No Option Orientation : Vertical Allowed Progression : Yes Number of Replay : 999 Play On Load :
No Control Enable : Yes

Correct Marks : 3 Wrong Marks : 1

Question Label : Multiple Choice Question

Which one of the following is *not* a quadratic equation ?

निम्नलिखित में से कौन एक द्विघात समीकरण *नहीं* है ?

Options :

1. $(x + 2)^2 = 2(x + 3)$

2. $x^2 + 3x = (-1)(1 - 3x)^2$

3. $(x + 2)(x - 1) = x^2 - 2x - 3$

4. $x^3 - x^2 + 2x + 1 = (x + 1)^3$

Question Number : 65 Question Id : 6589883684 Question Type : MCQ Option Shuffling : Yes Display Question Number : Yes
Single Line Question Option : No Option Orientation : Vertical Allowed Progression : Yes Number of Replay : 999 Play On Load :
No Control Enable : Yes

Correct Marks : 3 Wrong Marks : 1

Question Label : Multiple Choice Question

The sum of the digits of a two-digit number is 9. If 27 is added to it, the digits of the number get reversed. The number is :

दो अंकों की एक संख्या के अंकों का योग 9 है। यदि इसमें 27 जोड़ें, तो इस संख्या के अंक पलट जाते हैं। वह संख्या है :

Options :

1. 25

2. 72

3. 63

4. 36

Question Number : 66 Question Id : 6589883685 Question Type : MCQ Option Shuffling : Yes Display Question Number : Yes
Single Line Question Option : No Option Orientation : Vertical Allowed Progression : Yes Number of Replay : 999 Play On Load :
No Control Enable : Yes

Correct Marks : 3 Wrong Marks : 1

Question Label : Multiple Choice Question

Sachin is younger than Rahul by 7 years. If the ratio of their ages is 7 : 9 respectively, find the age of Sachin :

सचिन राहुल से 7 वर्ष छोटा है। यदि उनकी आयु का अनुपात क्रमशः 7 : 9 है, तो सचिन की आयु ज्ञात कीजिए :

Options :

1. 23.5

2. 24.5

3. 12.5

4. 14.5

Question Number : 67 Question Id : 6589883686 Question Type : MCQ Option Shuffling : Yes Display Question Number : Yes
Single Line Question Option : No Option Orientation : Vertical Allowed Progression : Yes Number of Replay : 999 Play On Load :
No Control Enable : Yes

Correct Marks : 3 Wrong Marks : 1

Question Label : Multiple Choice Question

If $a : b = 2 : 3$ and $b : c = 4 : 3$, then find $a : b : c$

यदि $a : b = 2 : 3$ एवं $b : c = 4 : 3$, तो $a : b : c$ ज्ञात कीजिए।

Options :

1. 8 : 12 : 9

2. 2 : 3 : 8

3. 2 : 3 : 9

4. 2 : 3 : 12

Question Number : 68 Question Id : 6589883687 Question Type : MCQ Option Shuffling : Yes Display Question Number : Yes
Single Line Question Option : No Option Orientation : Vertical Allowed Progression : Yes Number of Replay : 999 Play On Load :
No Control Enable : Yes

Correct Marks : 3 Wrong Marks : 1

Question Label : Multiple Choice Question

The salaries of A, B and C are of ratio 2 : 3 : 5. If the increments of 15 % , 10 % and 20 % are done to their respective salaries, then find the new ratio of their salaries.

A, B एवं C का वेतन 2 : 3 : 5 के अनुपात का है। यदि 15%, 10% और 20% की वेतन वृद्धि उनके संबंधित वेतन पर की जाती है, तो उनके वेतन का नया अनुपात ज्ञात कीजिए :

Options :

1. 20 : 33 : 60
2. 21 : 33 : 60
3. 22 : 33 : 60
4. 23 : 33 : 60

Question Number : 69 Question Id : 6589883688 Question Type : MCQ Option Shuffling : Yes Display Question Number : Yes
Single Line Question Option : No Option Orientation : Vertical Allowed Progression : Yes Number of Replay : 999 Play On Load :
No Control Enable : Yes

Correct Marks : 3 Wrong Marks : 1

Question Label : Multiple Choice Question

The value of $118 - \left[121 \div (11 \times 11) - (-4) - \{3 - \overline{9 - 2}\} \right]$ is :

$118 - \left[121 \div (11 \times 11) - (-4) - \{3 - \overline{9 - 2}\} \right]$ का मान होगा :

Options :

1. 15
2. 34
3. 87
4. 109

Question Number : 70 Question Id : 6589883689 Question Type : MCQ Option Shuffling : Yes Display Question Number : Yes
Single Line Question Option : No Option Orientation : Vertical Allowed Progression : Yes Number of Replay : 999 Play On Load :
No Control Enable : Yes

Correct Marks : 3 Wrong Marks : 1

Question Label : Multiple Choice Question

A number is increased by 10% and then it is decreased by 10%, then the net decrease percentage is :

एक संख्या में 10% की वृद्धि होती है और तभी यह 10% घट जाती है, तो शुद्ध घटाव प्रतिशत है :

Options :

1. 1%
2. 2%
3. 5%
4. 10%

Question Number : 71 Question Id : 6589883690 Question Type : MCQ Option Shuffling : Yes Display Question Number : Yes
Single Line Question Option : No Option Orientation : Vertical Allowed Progression : Yes Number of Replay : 999 Play On Load :
No Control Enable : Yes

Correct Marks : 3 Wrong Marks : 1

Question Label : Multiple Choice Question

A student goes to school at the speed of $2\frac{1}{2}$ km/hr and reaches 6 minutes late.

If he travels at the speed of 3km/hr, he is 10 minutes early, then the distance to school from his home is :

एक छात्र $2\frac{1}{2}$ किमी/घंटा की गति से स्कूल जाता है तो 6 मिनट की देरी से पहुँचता है तथा 3 किमी/घंटा की गति से चलता है, तो स्कूल 10 मिनट पहले पहुँचता है, तो उसके घर से स्कूल की दूरी है :

Options :

1. 6 km
6 किमी
2. 5 km
5 किमी
3. 4 km
4 किमी
4. 3 km
3 किमी

Question Number : 72 Question Id : 6589883691 Question Type : MCQ Option Shuffling : Yes Display Question Number : Yes
Single Line Question Option : No Option Orientation : Vertical Allowed Progression : Yes Number of Replay : 999 Play On Load :
No Control Enable : Yes

Correct Marks : 3 Wrong Marks : 1

Question Label : Multiple Choice Question

Two trains of lengths 150 metre and 180 metre respectively, are running in opposite directions on parallel tracks. If their speeds be 30 km/hr and 24 km/hr respectively, then the time taken by them to cross each other is :

क्रमशः 150 मीटर एवं 180 मीटर की लम्बाई वाली दो ट्रेनें समानान्तर पटरियों पर विपरीत दिशा में चल रही हैं। यदि उनकी गति क्रमशः 30 किमी/घंटा और 24 किमी/घंटा हो, तो एक दूसरे को पार करने के लिए उनके द्वारा लिया गया समय है :

Options :

- 22 Seconds
1. 22 सेकण्ड

- 24 Seconds
2. 24 सेकण्ड

- 28 Seconds
3. 28 सेकण्ड

- 30 Seconds
4. 30 सेकण्ड

Question Number : 73 Question Id : 6589883692 Question Type : MCQ Option Shuffling : Yes Display Question Number : Yes
Single Line Question Option : No Option Orientation : Vertical Allowed Progression : Yes Number of Replay : 999 Play On Load :
No Control Enable : Yes

Correct Marks : 3 Wrong Marks : 1

Question Label : Multiple Choice Question

When the rate of interest in a nationalized bank is increased from 5% to 6% per annum, a person deposits Rs. 1000 more into his account. If the annual interest now received by him is Rs. 110 more than that before, then his original deposit is :

एक राष्ट्रीयकृत बैंक का वार्षिक ब्याज दर 5% से बढ़कर 6% होने पर एक व्यक्ति अपने खाते में रु० 1,000 अधिक जमा कर देता है। यदि वह सालाना ब्याज पहले से रु० 110 अधिक पाता है, तो बैंक में जमा उसका मूलधन है :

Options :

- Rs. 4,000
1. रु० 4,000

- Rs. 5,000
2. रु० 5,000

- Rs. 6,000
3. रु० 6,000

- Rs. 7,000
4. रु० 7,000

Question Number : 74 Question Id : 6589883693 Question Type : MCQ Option Shuffling : Yes Display Question Number : Yes
Single Line Question Option : No Option Orientation : Vertical Allowed Progression : Yes Number of Replay : 999 Play On Load :
No Control Enable : Yes

Correct Marks : 3 Wrong Marks : 1

Question Label : Multiple Choice Question

The number of selections of six persons including only one teacher from 4 teachers and 7 students is:

4 अध्यापकों तथा 7 छात्रों में से 6 व्यक्ति जिनमें केवल एक अध्यापक सम्मिलित हो, के चयनित होने की संख्या है :

Options :

1. 75

2. 84

3. 88

4. 92

Question Number : 75 Question Id : 6589883694 Question Type : MCQ Option Shuffling : Yes Display Question Number : Yes
Single Line Question Option : No Option Orientation : Vertical Allowed Progression : Yes Number of Replay : 999 Play On Load :
No Control Enable : Yes

Correct Marks : 3 Wrong Marks : 1

Question Label : Multiple Choice Question

Probability of being 53 Sundays in any leap-year is :

किसी लीप वर्ष में 53 रविवार होने की प्रायिकता है :

Options :

1. $\frac{2}{7}$

2. $\frac{3}{7}$

3. $\frac{4}{7}$

4. $\frac{5}{7}$

Question Number : 76 Question Id : 6589883695 Question Type : MCQ Option Shuffling : Yes Display Question Number : Yes
Single Line Question Option : No Option Orientation : Vertical Allowed Progression : Yes Number of Replay : 999 Play On Load :
No Control Enable : Yes

Correct Marks : 3 Wrong Marks : 1

Question Label : Multiple Choice Question

In 35 litre mixture, ratio of milk and water is 4 : 1. If 7 litre more water is added to the mixture, then the new ratio of milk and water will be :

35 लीटर मिश्रण में दूध और पानी का अनुपात 4 : 1 है। यदि मिश्रण में 7 लीटर पानी और मिला दिया जाय, तो दूध और पानी का नया अनुपात होगा :

Options :

1. 1 : 1

2. 2 : 3

3. 3 : 2

4. 2 : 1

Question Number : 77 Question Id : 6589883696 Question Type : MCQ Option Shuffling : Yes Display Question Number : Yes
Single Line Question Option : No Option Orientation : Vertical Allowed Progression : Yes Number of Replay : 999 Play On Load :
No Control Enable : Yes

Correct Marks : 3 Wrong Marks : 1

Question Label : Multiple Choice Question

By what number of the following should $\left(-\frac{3}{2}\right)^{-3}$ be divided so that the quotient may be equal to $\left(\frac{4}{27}\right)^{-2}$?

निम्नलिखित में से किस संख्या से $\left(-\frac{3}{2}\right)^{-3}$ को विभाजित करना चाहिए ताकि भजनफल $\left(\frac{4}{27}\right)^{-2}$ के बराबर हो सके ?

Options :

1. $\frac{-128}{19683}$

2. $\frac{-132}{16352}$

3. $\frac{116}{12473}$

4. $\frac{121}{16326}$

Question Number : 78 Question Id : 6589883697 Question Type : MCQ Option Shuffling : Yes Display Question Number : Yes
Single Line Question Option : No Option Orientation : Vertical Allowed Progression : Yes Number of Replay : 999 Play On Load :
No Control Enable : Yes

Correct Marks : 3 Wrong Marks : 1

Question Label : Multiple Choice Question

A bag contains 3 red balls, 5 white balls and 7 black balls. What is the probability that a ball drawn from the bag at random will be neither red nor black ?

एक थैले में 3 लाल गेंद, 5 सफेद गेंद और 7 काली गेंद हैं। इसकी क्या प्रायिकता है कि इस थैले में यादृच्छिक रूप से निकाली गयी एक गेंद न तो लाल होगी और न ही काली ?

Options :

1. $\frac{1}{5}$

2. $\frac{1}{3}$

3. $\frac{7}{15}$

4. $\frac{8}{15}$

Question Number : 79 Question Id : 6589883698 Question Type : MCQ Option Shuffling : Yes Display Question Number : Yes Single Line Question Option : No Option Orientation : Vertical Allowed Progression : Yes Number of Replay : 999 Play On Load : No Control Enable : Yes

Correct Marks : 3 Wrong Marks : 1

Question Label : Multiple Choice Question

The sum of all odd integers between 2 and 100 divisible by 3 is :

2 और 100 के बीच की 3 से विभाजित समस्त विषम पूर्ण संख्याओं का योग है :

Options :

1. 532

2. 642

3. 713

4. 867

Question Number : 80 Question Id : 6589883699 Question Type : MCQ Option Shuffling : Yes Display Question Number : Yes Single Line Question Option : No Option Orientation : Vertical Allowed Progression : Yes Number of Replay : 999 Play On Load : No Control Enable : Yes

Correct Marks : 3 Wrong Marks : 1

Question Label : Multiple Choice Question

The value $0.1\overline{63}$ in the form of $\frac{p}{q}$ is :

$\frac{p}{q}$ के रूप में $0.1\overline{63}$ को व्यक्त कीजिए :

Options :

1. $\frac{8}{25}$

2. $\frac{7}{25}$

3. $\frac{16}{63}$

4. $\frac{9}{55}$

Question Number : 81 Question Id : 6589883700 Question Type : MCQ Option Shuffling : Yes Display Question Number : Yes
Single Line Question Option : No Option Orientation : Vertical Allowed Progression : Yes Number of Replay : 999 Play On Load :
No Control Enable : Yes

Correct Marks : 3 Wrong Marks : 1

Question Label : Multiple Choice Question

If $(x - a)$, is a factor of $x^6 - ax^5 + x^4 - ax^3 + 3x - a + 2$, then value of 'a' is :

यदि $(x - a)$, बहुपद $x^6 - ax^5 + x^4 - ax^3 + 3x - a + 2$, का गुणनखण्ड है, तो a का मान है :

Options :

1. 1

2. 0

3. -1

4. 2

Question Number : 82 Question Id : 6589883701 Question Type : MCQ Option Shuffling : Yes Display Question Number : Yes
Single Line Question Option : No Option Orientation : Vertical Allowed Progression : Yes Number of Replay : 999 Play On Load :
No Control Enable : Yes

Correct Marks : 3 Wrong Marks : 1

Question Label : Multiple Choice Question

'A' sold a table to 'B' at a profit of 15% later on 'B' sold it back to 'A' at a profit of 20% there by gaining Rs. 69. How much did 'A' pay for the table originally ?

'A' एक टेबुल को 15% के लाभ से 'B' को बेचता है, बाद में 'B' उसी टेबुल को पुनः 'A' को 20% के लाभ से बेच देता है इस तरह उसे 69 रुपये का लाभ होता है, तो 'A' ने उस टेबुल का प्रारम्भिक मूल्य कितना अदा किया था ?

Options :

Rs. 280

1. 280 रुपया

Rs. 330

330 रुपया

2.

Rs. 320

320 रुपया

3.

Rs. 300

300 रुपया

4.

Question Number : 83 Question Id : 6589883702 Question Type : MCQ Option Shuffling : Yes Display Question Number : Yes
Single Line Question Option : No Option Orientation : Vertical Allowed Progression : Yes Number of Replay : 999 Play On Load :
No Control Enable : Yes

Correct Marks : 3 Wrong Marks : 1

Question Label : Multiple Choice Question

A man marks his goods at a price that would give him 20% profit. He sells $\frac{3}{5}$ of the goods at the marked price and sells the remaining at 20% discount. The gain percent in the whole transaction is :

एक आदमी अपने सामान पर जो मूल्य अंकित करता है, उससे उसको 20% का लाभ होता है।

वह अपने सामान का $\frac{3}{5}$ भाग अंकित मूल्य पर बेचता है और शेष बचे सामान को 20% छूट पर बेचता है। इस पूरे व्यापार के अन्तर्गत उसे कितने प्रतिशत का लाभ होता है ?

Options :

10%

1.

12%

2.

10.4%

3.

15%

4.

Question Number : 84 Question Id : 6589883703 Question Type : MCQ Option Shuffling : Yes Display Question Number : Yes
Single Line Question Option : No Option Orientation : Vertical Allowed Progression : Yes Number of Replay : 999 Play On Load :
No Control Enable : Yes

Correct Marks : 3 Wrong Marks : 1

Question Label : Multiple Choice Question

There are 200 Prizes of Rs. 100 and Rs. 50 only. If the total amount spent on the prizes is Rs. 12,000, the number of prizes of Rs. 100 is :

100 रुपये तथा 50 रुपये के कुल 200 पुरस्कार हैं। यदि इन पुरस्कारों पर कुल 12,000 रुपये खर्च किए गए हैं, तो 100 रुपये के पुरस्कारों की संख्या है :

Options :

1. 50
2. 100
3. 40
4. 60

Question Number : 85 Question Id : 6589883704 Question Type : MCQ Option Shuffling : Yes Display Question Number : Yes
Single Line Question Option : No Option Orientation : Vertical Allowed Progression : Yes Number of Replay : 999 Play On Load :
No Control Enable : Yes

Correct Marks : 3 Wrong Marks : 1

Question Label : Multiple Choice Question

A 90 kg solution has 10% salt. How much water must be evaporated to have the solution with 20% salt ?

90 कि० ग्रा० घोल में 10% नमक मौजूद है। कितने पानी का वाष्पीकरण कर दिया जाये कि घोल में 20% नमक हो जाये ?

Options :

1. 48 kg
48 कि० ग्रा०
2. 30 kg
30 कि० ग्रा०
3. 40 kg
40 कि० ग्रा०
4. 45 kg
45 कि० ग्रा०

Question Number : 86 Question Id : 6589883705 Question Type : MCQ Option Shuffling : Yes Display Question Number : Yes
Single Line Question Option : No Option Orientation : Vertical Allowed Progression : Yes Number of Replay : 999 Play On Load :
No Control Enable : Yes

Correct Marks : 3 Wrong Marks : 1

Question Label : Multiple Choice Question

A boat goes 16 km upstream and 24 km downstream in 6 hours. It can go 12 km upstream and 36 km down stream in the same time. The speed of boat in the still water is :

एक नाव, धारा के विपरीत दिशा में 16 किमी तथा अनुप्रवाह की दिशा में 24 किमी दूरी 6 घंटे में तय करती है। उतने ही समय में नाव उर्ध्वप्रवाह (विपरीत दिशा) की ओर 12 किमी तथा अनुप्रवाह की दिशा में 36 किमी दूरी तय करती है। शान्त जल में नाव की चाल है :

Options :

1. 8 km/hr
8 किमी/घंटा

2. 7 km/hr
7 किमी/घंटा

3. 6 km/hr
6 किमी/घंटा

4. 7.6 km/hr
7.6 किमी/घंटा

Question Number : 87 Question Id : 6589883706 Question Type : MCQ Option Shuffling : Yes Display Question Number : Yes
Single Line Question Option : No Option Orientation : Vertical Allowed Progression : Yes Number of Replay : 999 Play On Load :
No Control Enable : Yes

Correct Marks : 3 Wrong Marks : 1

Question Label : Multiple Choice Question

In a group of children, each child gives a gift to every other. If the number of gifts is 132, then number of children is :

बच्चों के एक समूह में प्रत्येक बच्चा एक दूसरे प्रत्येक बच्चे को उपहार (गिफ्ट) देता है। यदि उपहारों की संख्या 132 है, तो बच्चों की संख्या है :

Options :

1. 11

2. 12

3. 13

4. 10

Question Number : 88 Question Id : 6589883707 Question Type : MCQ Option Shuffling : Yes Display Question Number : Yes
Single Line Question Option : No Option Orientation : Vertical Allowed Progression : Yes Number of Replay : 999 Play On Load :
No Control Enable : Yes

Correct Marks : 3 Wrong Marks : 1

Question Label : Multiple Choice Question

How many terms are there in the A.P. 7,13,19,.....205 ?

समान्तर श्रेणी (A. P.) 7, 13, 19, 205, में पदों की संख्या कितनी है ?

Options :

1. 33

2. 32

3. 35

4. 34

Question Number : 89 Question Id : 6589883708 Question Type : MCQ Option Shuffling : Yes Display Question Number : Yes
Single Line Question Option : No Option Orientation : Vertical Allowed Progression : Yes Number of Replay : 999 Play On Load :
No Control Enable : Yes

Correct Marks : 3 Wrong Marks : 1

Question Label : Multiple Choice Question

The number of diagonals that can be drawn by joining the vertices of an octagon is :

किसी अष्टभुज के शीर्ष बिन्दुओं को मिलाने से बने विकर्णों की संख्या है :

Options :

1. 28

2. 24

3. 20

4. 26

Question Number : 90 Question Id : 6589883709 Question Type : MCQ Option Shuffling : Yes Display Question Number : Yes
Single Line Question Option : No Option Orientation : Vertical Allowed Progression : Yes Number of Replay : 999 Play On Load :
No Control Enable : Yes

Correct Marks : 3 Wrong Marks : 1

Question Label : Multiple Choice Question

In how many ways can the letters of the word 'PERMUTATIONS' be arranged if vowels are together ?

शब्द 'PERMUTATIONS' के अक्षरों को कितने प्रकार से व्यवस्थित कर सकते हैं जबकि स्वर के अक्षरों को एक साथ रखा गया है ?

Options :

1. 4838400

2. 20160

3. 40320

4. 2419200

Section Number :	4
Section type :	Online
Mandatory or Optional:	Optional
Number of Questions:	30
Number of Questions to be attempted:	30
Section Marks:	90
Display Number Panel:	Yes
Group All Questions:	No

Sub-Section Number:	1
Sub-Section Id:	65898849
Question Shuffling Allowed :	Yes

**Question Number : 91 Question Id : 6589883710 Question Type : MCQ Option Shuffling : Yes Display Question Number : Yes
Single Line Question Option : No Option Orientation : Vertical Allowed Progression : Yes Number of Replay : 999 Play On Load :
No Control Enable : Yes**

Correct Marks : 3 Wrong Marks : 1

Question Label : Multiple Choice Question

Choose the word nearest in meaning to the underlined part :

She is very much sanguine about her business prospects.

Options :

1. worried

2. realistic

3. callous

4. optimistic

**Question Number : 92 Question Id : 6589883711 Question Type : MCQ Option Shuffling : Yes Display Question Number : Yes
Single Line Question Option : No Option Orientation : Vertical Allowed Progression : Yes Number of Replay : 999 Play On Load :
No Control Enable : Yes**

Correct Marks : 3 Wrong Marks : 1

Question Label : Multiple Choice Question

Choose the word nearest in meaning to the underlined part :

Your unruly behaviour disappoints your parents.

Options :

1. Jealous

2. Disorganised

3. Amiable

4. Unpleasant

Question Number : 93 Question Id : 6589883712 Question Type : MCQ Option Shuffling : Yes Display Question Number : Yes
Single Line Question Option : No Option Orientation : Vertical Allowed Progression : Yes Number of Replay : 999 Play On Load :
No Control Enable : Yes

Correct Marks : 3 Wrong Marks : 1

Question Label : Multiple Choice Question

Choose the word nearest in meaning to the underlined part :

Decrepit animals evoke pity in us.

Options :

1. strong
2. ugly
3. weak
4. attractive

Question Number : 94 Question Id : 6589883713 Question Type : MCQ Option Shuffling : Yes Display Question Number : Yes
Single Line Question Option : No Option Orientation : Vertical Allowed Progression : Yes Number of Replay : 999 Play On Load :
No Control Enable : Yes

Correct Marks : 3 Wrong Marks : 1

Question Label : Multiple Choice Question

Choose the word nearest in meaning to the underlined part :

Any business company requires dashing salesman.

Options :

1. Attractive
2. Honest
3. Hard- working
4. Sincere

Question Number : 95 Question Id : 6589883714 Question Type : MCQ Option Shuffling : Yes Display Question Number : Yes
Single Line Question Option : No Option Orientation : Vertical Allowed Progression : Yes Number of Replay : 999 Play On Load :
No Control Enable : Yes

Correct Marks : 3 Wrong Marks : 1

Question Label : Multiple Choice Question

In the following sentence, select the word which is opposite in meaning to the underlined word :

The disease can cause sterility in men and women.

Options :

1. Serenity
2. Fertility
3. Casualty
4. Sexuality

Question Number : 96 Question Id : 6589883715 Question Type : MCQ Option Shuffling : Yes Display Question Number : Yes
Single Line Question Option : No Option Orientation : Vertical Allowed Progression : Yes Number of Replay : 999 Play On Load :
No Control Enable : Yes

Correct Marks : 3 Wrong Marks : 1

Question Label : Multiple Choice Question

In the following sentence, select the word which is opposite in meaning to the underlined word :

If food containing fat is rancid, it tastes unpleasant.

Options :

1. Sour
2. Milky
3. Oily
4. Fresh

Question Number : 97 Question Id : 6589883716 Question Type : MCQ Option Shuffling : Yes Display Question Number : Yes
Single Line Question Option : No Option Orientation : Vertical Allowed Progression : Yes Number of Replay : 999 Play On Load :
No Control Enable : Yes

Correct Marks : 3 Wrong Marks : 1

Question Label : Multiple Choice Question

In the following sentence, select the word which is opposite in meaning to the underlined word :

This system perpetuated itself for several centuries.

Options :

1. Contradicted
2. Neglected
3. Supported
4. Discontinued

Question Number : 98 Question Id : 6589883717 Question Type : MCQ Option Shuffling : Yes Display Question Number : Yes
Single Line Question Option : No Option Orientation : Vertical Allowed Progression : Yes Number of Replay : 999 Play On Load :
No Control Enable : Yes

Correct Marks : 3 Wrong Marks : 1

Question Label : Multiple Choice Question

In the following sentence, select the word which is opposite in meaning to the underlined word :

The house remains intact even after 150 Years.

Options :

1. Damaged
2. Perfect
3. Filthy
4. Clean

Question Number : 99 Question Id : 6589883718 Question Type : MCQ Option Shuffling : Yes Display Question Number : Yes
Single Line Question Option : No Option Orientation : Vertical Allowed Progression : Yes Number of Replay : 999 Play On Load :
No Control Enable : Yes

Correct Marks : 3 Wrong Marks : 1

Question Label : Multiple Choice Question

Choose the best option to fill in the blank in the given sentence.

The government has decided to a new scholarship this year.

Options :

1. found
2. conduct
3. establish
4. institute

Question Number : 100 Question Id : 6589883719 Question Type : MCQ Option Shuffling : Yes Display Question Number : Yes
Single Line Question Option : No Option Orientation : Vertical Allowed Progression : Yes Number of Replay : 999 Play On Load :
No Control Enable : Yes

Correct Marks : 3 Wrong Marks : 1

Question Label : Multiple Choice Question

Choose the best option to fill in the blank in the given sentence.

An FIR has been against the two criminals.

Options :

1. written
2. lodged
3. set up
4. made

Question Number : 101 Question Id : 6589883720 Question Type : MCQ Option Shuffling : Yes Display Question Number : Yes Single Line Question Option : No Option Orientation : Vertical Allowed Progression : Yes Number of Replay : 999 Play On Load : No Control Enable : Yes

Correct Marks : 3 Wrong Marks : 1

Question Label : Multiple Choice Question

Choose the best option to fill in the blank in the given sentence.

The accountant and cashier of our bank resigned.

Options :

1. have
2. has
3. had
4. will have

Question Number : 102 Question Id : 6589883721 Question Type : MCQ Option Shuffling : Yes Display Question Number : Yes Single Line Question Option : No Option Orientation : Vertical Allowed Progression : Yes Number of Replay : 999 Play On Load : No Control Enable : Yes

Correct Marks : 3 Wrong Marks : 1

Question Label : Multiple Choice Question

Choose the best option to fill in the blank in the given sentence.

Bacon and eggs my usual breakfast.

Options :

1. are
2. were
3. is
4. had been

Question Number : 103 Question Id : 6589883722 Question Type : MCQ Option Shuffling : Yes Display Question Number : Yes Single Line Question Option : No Option Orientation : Vertical Allowed Progression : Yes Number of Replay : 999 Play On Load : No Control Enable : Yes

Correct Marks : 3 Wrong Marks : 1

Question Label : Multiple Choice Question

Choose the best option to fill in the blank in the given sentence.

I am confident my victory.

Options :

1. for
2. with
3. at
4. of

Question Number : 104 Question Id : 6589883723 Question Type : MCQ Option Shuffling : Yes Display Question Number : Yes Single Line Question Option : No Option Orientation : Vertical Allowed Progression : Yes Number of Replay : 999 Play On Load : No Control Enable : Yes

Correct Marks : 3 Wrong Marks : 1

Question Label : Multiple Choice Question

Choose the best option to fill in the blank in the given sentence.

She always hankers power.

Options :

1. after
2. at
3. on
4. behind

Question Number : 105 Question Id : 6589883724 Question Type : MCQ Option Shuffling : Yes Display Question Number : Yes Single Line Question Option : No Option Orientation : Vertical Allowed Progression : Yes Number of Replay : 999 Play On Load : No Control Enable : Yes

Correct Marks : 3 Wrong Marks : 1

Question Label : Multiple Choice Question

Choose the best option to fill in the blank in the given sentence.

She the examination in 2005.

Options :

1. have passed

2. had passed

3. passed

4. passes

Question Number : 106 Question Id : 6589883725 Question Type : MCQ Option Shuffling : Yes Display Question Number : Yes Single Line Question Option : No Option Orientation : Vertical Allowed Progression : Yes Number of Replay : 999 Play On Load : No Control Enable : Yes

Correct Marks : 3 Wrong Marks : 1

Question Label : Multiple Choice Question

Identify the part having an error.

He got (1)/ second prize (2)/ in the tournament (3)/ last week (4)

Options :

1. (1)

2. (2)

3. (3)

4. (4)

Question Number : 107 Question Id : 6589883726 Question Type : MCQ Option Shuffling : Yes Display Question Number : Yes Single Line Question Option : No Option Orientation : Vertical Allowed Progression : Yes Number of Replay : 999 Play On Load : No Control Enable : Yes

Correct Marks : 3 Wrong Marks : 1

Question Label : Multiple Choice Question

Identify the part having an error.

Dog is (1)/ a faithful (2)/animal and(3)/a strong gatekeeper (4)

Options :

1. (1)

2. (2)

3. (3)

4. (4)

Question Number : 108 Question Id : 6589883727 Question Type : MCQ Option Shuffling : Yes Display Question Number : Yes Single Line Question Option : No Option Orientation : Vertical Allowed Progression : Yes Number of Replay : 999 Play On Load : No Control Enable : Yes

Correct Marks : 3 Wrong Marks : 1

Question Label : Multiple Choice Question

Identify the part having an error.

Either the youngman (1)/or his friends (2)/ has stolen the book(3)/
from the table (4)

Options :

1. (1)

2. (2)

3. (3)

4. (4)

Question Number : 109 Question Id : 6589883728 Question Type : MCQ Option Shuffling : Yes Display Question Number : Yes
Single Line Question Option : No Option Orientation : Vertical Allowed Progression : Yes Number of Replay : 999 Play On Load :
No Control Enable : Yes

Correct Marks : 3 Wrong Marks : 1

Question Label : Multiple Choice Question

Identify the part having an error.

You, I and he (1)/ are (2)/good (3)/ singers (4)

Options :

1. (1)

2. (2)

3. (3)

4. (4)

Question Number : 110 Question Id : 6589883729 Question Type : MCQ Option Shuffling : Yes Display Question Number : Yes
Single Line Question Option : No Option Orientation : Vertical Allowed Progression : Yes Number of Replay : 999 Play On Load :
No Control Enable : Yes

Correct Marks : 3 Wrong Marks : 1

Question Label : Multiple Choice Question

Identify the part having an error.

I (1)/ together with my parents (2)/are leaving (3)/ for Delhi tomorrow (4)

Options :

1. (1)

2. (2)

3. (3)

4. (4)

Question Number : 111 Question Id : 6589883730 Question Type : MCQ Option Shuffling : Yes Display Question Number : Yes Single Line Question Option : No Option Orientation : Vertical Allowed Progression : Yes Number of Replay : 999 Play On Load : No Control Enable : Yes

Correct Marks : 3 Wrong Marks : 1

Question Label : Multiple Choice Question

Which of the following words is not a noun ?

Options :

1. civil

2. gift

3. help

4. cult

Question Number : 112 Question Id : 6589883731 Question Type : MCQ Option Shuffling : Yes Display Question Number : Yes Single Line Question Option : No Option Orientation : Vertical Allowed Progression : Yes Number of Replay : 999 Play On Load : No Control Enable : Yes

Correct Marks : 3 Wrong Marks : 1

Question Label : Multiple Choice Question

Which of the following words is a verb ?

Options :

1. sea

2. false

3. grace

4. cordial

Question Number : 113 Question Id : 6589883732 Question Type : MCQ Option Shuffling : Yes Display Question Number : Yes Single Line Question Option : No Option Orientation : Vertical Allowed Progression : Yes Number of Replay : 999 Play On Load : No Control Enable : Yes

Correct Marks : 3 Wrong Marks : 1

Question Label : Multiple Choice Question

Select the most appropriate one to fill in the blank in the following sentence:

Mohan is friend of mine.

Options :

1. the best

2. good

3. better

4. best

Question Number : 114 Question Id : 6589883733 Question Type : MCQ Option Shuffling : Yes Display Question Number : Yes
Single Line Question Option : No Option Orientation : Vertical Allowed Progression : Yes Number of Replay : 999 Play On Load :
No Control Enable : Yes

Correct Marks : 3 Wrong Marks : 1

Question Label : Multiple Choice Question

Select the most appropriate one to fill in the blank in the following sentence:

..... he was ill, he couldn't appear at the examination.

Options :

1. After

2. However

3. As

4. So

Question Number : 115 Question Id : 6589883734 Question Type : MCQ Option Shuffling : Yes Display Question Number : Yes
Single Line Question Option : No Option Orientation : Vertical Allowed Progression : Yes Number of Replay : 999 Play On Load :
No Control Enable : Yes

Correct Marks : 3 Wrong Marks : 1

Question Label : Multiple Choice Question

Select the most appropriate one to fill in the blank in the following sentence:

I am a student,

Options :

1. amn't I ?

2. am I ?

3. aren't I ?

4. isn't it ?

Question Number : 116 Question Id : 6589883735 Question Type : MCQ Option Shuffling : Yes Display Question Number : Yes
Single Line Question Option : No Option Orientation : Vertical Allowed Progression : Yes Number of Replay : 999 Play On Load :
No Control Enable : Yes

Correct Marks : 3 Wrong Marks : 1

Question Label : Multiple Choice Question

Choose the option that catches the spirit of the idiom given :

Put off :

Options :

1. formulate
2. catch
3. save
4. postpone

Question Number : 117 Question Id : 6589883736 Question Type : MCQ Option Shuffling : Yes Display Question Number : Yes
Single Line Question Option : No Option Orientation : Vertical Allowed Progression : Yes Number of Replay : 999 Play On Load :
No Control Enable : Yes

Correct Marks : 3 Wrong Marks : 1

Question Label : Multiple Choice Question

Choose the option that catches the spirit of the idiom given :

Get through :

Options :

1. to kill somebody
2. to be successful in an exam
3. to destroy something
4. to meditate

Question Number : 118 Question Id : 6589883737 Question Type : MCQ Option Shuffling : Yes Display Question Number : Yes
Single Line Question Option : No Option Orientation : Vertical Allowed Progression : Yes Number of Replay : 999 Play On Load :
No Control Enable : Yes

Correct Marks : 3 Wrong Marks : 1

Question Label : Multiple Choice Question

Choose the option that catches the spirit of the idiom given :

The demon drink :

Options :

1. alcoholic drink
2. cold drink
3. soft drink

4. hot drink

Question Number : 119 Question Id : 6589883738 Question Type : MCQ Option Shuffling : Yes Display Question Number : Yes
Single Line Question Option : No Option Orientation : Vertical Allowed Progression : Yes Number of Replay : 999 Play On Load :
No Control Enable : Yes

Correct Marks : 3 Wrong Marks : 1

Question Label : Multiple Choice Question

Choose the option which best expresses the given sentence into indirect speech :

I said to you," She will give you my pen tomorrow."

Options :

1. I told you that she would give me your pen next day.
2. I told to you that she would give you my pen next day.
3. I told you that she would give you my pen next day.
4. I told to you that she would give me your pen the following day.

Question Number : 120 Question Id : 6589883739 Question Type : MCQ Option Shuffling : Yes Display Question Number : Yes
Single Line Question Option : No Option Orientation : Vertical Allowed Progression : Yes Number of Replay : 999 Play On Load :
No Control Enable : Yes

Correct Marks : 3 Wrong Marks : 1

Question Label : Multiple Choice Question

Choose the option that best expresses the given sentence into the passive voice :

Do your work honestly.

Options :

1. Let your work be done honestly.
2. Let your work done honestly
3. You are honestly requested to work.
4. You are requested to work honestly.

Sec IV VA and Language Hindi

Section Id :	65898840
Section Number :	5
Section type :	Online
Mandatory or Optional:	Optional
Number of Questions:	30
Number of Questions to be attempted:	30
Section Marks:	90
Display Number Panel:	Yes

Sub-Section Number: 1
 Sub-Section Id: 65898850
 Question Shuffling Allowed : Yes

Question Number : 121 Question Id : 6589883740 Question Type : MCQ Option Shuffling : Yes Display Question Number : Yes
 Single Line Question Option : No Option Orientation : Vertical Allowed Progression : Yes Number of Replay : 999 Play On Load :
 No Control Enable : Yes

Correct Marks : 3 Wrong Marks : 1

Question Label : Multiple Choice Question

शुद्ध वर्तनी का चुनाव कीजिए :

Options :

1. उद्योगीकरण
2. औद्योगिककरण
3. औद्योगीकरण
4. औद्योगिकीकरण

Question Number : 122 Question Id : 6589883741 Question Type : MCQ Option Shuffling : Yes Display Question Number : Yes
 Single Line Question Option : No Option Orientation : Vertical Allowed Progression : Yes Number of Replay : 999 Play On Load :
 No Control Enable : Yes

Correct Marks : 3 Wrong Marks : 1

Question Label : Multiple Choice Question

इनमें से सही वर्तनी क्या है ?

Options :

1. व्यवसायिक
2. व्यावसायिक
3. व्यवसायीक
4. व्यावसायीक

Question Number : 123 Question Id : 6589883742 Question Type : MCQ Option Shuffling : Yes Display Question Number : Yes
 Single Line Question Option : No Option Orientation : Vertical Allowed Progression : Yes Number of Replay : 999 Play On Load :
 No Control Enable : Yes

Correct Marks : 3 Wrong Marks : 1

Question Label : Multiple Choice Question

इनमें से कौन-सा शब्द व्यक्तिवाचक संज्ञा है ?

Options :

1. आम

2. पहाड़
3. गाय
4. यमुना

Question Number : 124 Question Id : 6589883743 Question Type : MCQ Option Shuffling : Yes Display Question Number : Yes
Single Line Question Option : No Option Orientation : Vertical Allowed Progression : Yes Number of Replay : 999 Play On Load :
No Control Enable : Yes

Correct Marks : 3 Wrong Marks : 1

Question Label : Multiple Choice Question

कवि का स्त्रीलिंग शब्द है :

Options :

1. कवित्री
2. कवियत्री
3. कवयित्री
4. कवियित्री

Question Number : 125 Question Id : 6589883744 Question Type : MCQ Option Shuffling : Yes Display Question Number : Yes
Single Line Question Option : No Option Orientation : Vertical Allowed Progression : Yes Number of Replay : 999 Play On Load :
No Control Enable : Yes

Correct Marks : 3 Wrong Marks : 1

Question Label : Multiple Choice Question

इनमें से चन्द्रमा का पर्यायवाची क्या है ?

Options :

1. दिवाकर
2. मार्तण्ड
3. शशि
4. निशि

Question Number : 126 Question Id : 6589883745 Question Type : MCQ Option Shuffling : Yes Display Question Number : Yes
Single Line Question Option : No Option Orientation : Vertical Allowed Progression : Yes Number of Replay : 999 Play On Load :
No Control Enable : Yes

Correct Marks : 3 Wrong Marks : 1

Question Label : Multiple Choice Question

इनमें से कौन सरस्वती का पर्यायवाची नहीं है ?

Options :

1. शारदा
2. कमला
3. वीणापाणि
4. वाणी

Question Number : 127 Question Id : 6589883746 Question Type : MCQ Option Shuffling : Yes Display Question Number : Yes
Single Line Question Option : No Option Orientation : Vertical Allowed Progression : Yes Number of Replay : 999 Play On Load :
No Control Enable : Yes

Correct Marks : 3 Wrong Marks : 1

Question Label : Multiple Choice Question

'उपेक्षा' का विलोम है :

Options :

1. उत्प्रेक्षा
2. प्रेक्षा
3. अपेक्षा
4. अनुपेक्षा

Question Number : 128 Question Id : 6589883747 Question Type : MCQ Option Shuffling : Yes Display Question Number : Yes
Single Line Question Option : No Option Orientation : Vertical Allowed Progression : Yes Number of Replay : 999 Play On Load :
No Control Enable : Yes

Correct Marks : 3 Wrong Marks : 1

Question Label : Multiple Choice Question

जो कानून के अनुकूल नहीं है, उसे क्या कहेंगे ?

Options :

1. अवैध
2. दण्डनीय
3. निवारणीय
4. आलोच्य

Question Number : 129 Question Id : 6589883748 Question Type : MCQ Option Shuffling : Yes Display Question Number : Yes
Single Line Question Option : No Option Orientation : Vertical Allowed Progression : Yes Number of Replay : 999 Play On Load :
No Control Enable : Yes

Correct Marks : 3 Wrong Marks : 1

Question Label : Multiple Choice Question

जो आशा से बहुत अधिक हो, उसके लिए उपयुक्त शब्द क्या है ?

Options :

1. प्रत्याशित
2. आशातीत
3. वांछित
4. अभीष्ट

Question Number : 130 Question Id : 6589883749 Question Type : MCQ Option Shuffling : Yes Display Question Number : Yes
Single Line Question Option : No Option Orientation : Vertical Allowed Progression : Yes Number of Replay : 999 Play On Load :
No Control Enable : Yes

Correct Marks : 3 Wrong Marks : 1

Question Label : Multiple Choice Question

'पेट की आग' का बोधक शब्द कौन-सा है ?

Options :

1. बाड़वाग्नि
2. दावाग्नि
3. बड़वानल
4. जठराग्नि

Question Number : 131 Question Id : 6589883750 Question Type : MCQ Option Shuffling : Yes Display Question Number : Yes
Single Line Question Option : No Option Orientation : Vertical Allowed Progression : Yes Number of Replay : 999 Play On Load :
No Control Enable : Yes

Correct Marks : 3 Wrong Marks : 1

Question Label : Multiple Choice Question

निम्नलिखित में से कौन-सा शब्द विशेषण है ?

Options :

1. सच्चा
2. शीतलता
3. नम्रता
4. मिठास

Question Number : 132 Question Id : 6589883751 Question Type : MCQ Option Shuffling : Yes Display Question Number : Yes
Single Line Question Option : No Option Orientation : Vertical Allowed Progression : Yes Number of Replay : 999 Play On Load :
No Control Enable : Yes

Correct Marks : 3 Wrong Marks : 1

Question Label : Multiple Choice Question

निम्नलिखित में से क्रियाविशेषण चुनिए :

Options :

1. सूर्योदय
2. सूर्यास्त
3. प्रातः काल
4. धीरे-धीरे

Question Number : 133 Question Id : 6589883752 Question Type : MCQ Option Shuffling : Yes Display Question Number : Yes
Single Line Question Option : No Option Orientation : Vertical Allowed Progression : Yes Number of Replay : 999 Play On Load :
No Control Enable : Yes

Correct Marks : 3 Wrong Marks : 1

Question Label : Multiple Choice Question

'जैसा पहले कभी न हुआ हो', उसके लिए एक शब्द कौन-सा है ?

Options :

1. अद्भुत
2. आश्चर्यजनक
3. अभूतपूर्व
4. अनुपम

Question Number : 134 Question Id : 6589883753 Question Type : MCQ Option Shuffling : Yes Display Question Number : Yes
Single Line Question Option : No Option Orientation : Vertical Allowed Progression : Yes Number of Replay : 999 Play On Load :
No Control Enable : Yes

Correct Marks : 3 Wrong Marks : 1

Question Label : Multiple Choice Question

किसी के प्रति कृपापूर्ण व्यवहार को क्या कहेंगे ?

Options :

1. अनुग्रह
2. विग्रह
3. संग्रह

4. निग्रह

Question Number : 135 Question Id : 6589883754 Question Type : MCQ Option Shuffling : Yes Display Question Number : Yes
Single Line Question Option : No Option Orientation : Vertical Allowed Progression : Yes Number of Replay : 999 Play On Load :
No Control Enable : Yes

Correct Marks : 3 Wrong Marks : 1

Question Label : Multiple Choice Question

'घुटने टेक देना' का अर्थ है :

Options :

1. घुटने के बल बैठना
2. भयभीत होना
3. हार मान लेना
4. अपमानित होना

Question Number : 136 Question Id : 6589883755 Question Type : MCQ Option Shuffling : Yes Display Question Number : Yes
Single Line Question Option : No Option Orientation : Vertical Allowed Progression : Yes Number of Replay : 999 Play On Load :
No Control Enable : Yes

Correct Marks : 3 Wrong Marks : 1

Question Label : Multiple Choice Question

'चेहरे पर हवाईयाँ उड़ना' का अर्थ क्या है ?

Options :

1. हवा में उड़ना
2. घबड़ा जाना
3. आश्चर्यचकित होना
4. चेहरा बदरंग होना

Question Number : 137 Question Id : 6589883756 Question Type : MCQ Option Shuffling : Yes Display Question Number : Yes
Single Line Question Option : No Option Orientation : Vertical Allowed Progression : Yes Number of Replay : 999 Play On Load :
No Control Enable : Yes

Correct Marks : 3 Wrong Marks : 1

Question Label : Multiple Choice Question

'माँगे भीख पूछे गाँव का जमा' का अर्थ है :

Options :

1. भीख माँग कर खाना
2. गाँव के आगे हाथ पसारना

3. अपनी औकात के परे बढ़चढ़ कर बात करना

4. वाचाल होना

Question Number : 138 Question Id : 6589883757 Question Type : MCQ Option Shuffling : Yes Display Question Number : Yes
Single Line Question Option : No Option Orientation : Vertical Allowed Progression : Yes Number of Replay : 999 Play On Load :
No Control Enable : Yes

Correct Marks : 3 Wrong Marks : 1

Question Label : Multiple Choice Question

'एक और एक ग्यारह होते हैं' का मतलब है :

Options :

1. संसार में सब संभव है

2. बुद्धि द्वारा सब संभव है

3. गणित विद्या का चमत्कार

4. संगठन में शक्ति है

Question Number : 139 Question Id : 6589883758 Question Type : MCQ Option Shuffling : Yes Display Question Number : Yes
Single Line Question Option : No Option Orientation : Vertical Allowed Progression : Yes Number of Replay : 999 Play On Load :
No Control Enable : Yes

Correct Marks : 3 Wrong Marks : 1

Question Label : Multiple Choice Question

'कान का कच्चा' किसे कहेंगे ?

Options :

1. कम सुनने वाला

2. सुनकर ध्यान न देने वाला

3. सुनी हुई बात को बिना विचारे सच मानने वाला

4. बहरा

Question Number : 140 Question Id : 6589883759 Question Type : MCQ Option Shuffling : Yes Display Question Number : Yes
Single Line Question Option : No Option Orientation : Vertical Allowed Progression : Yes Number of Replay : 999 Play On Load :
No Control Enable : Yes

Correct Marks : 3 Wrong Marks : 1

Question Label : Multiple Choice Question

निम्नलिखित में से वर्तनी की दृष्टि से कौन-सा शब्द शुद्ध है ?

Options :

1. अतिथि

2. अतिथी
3. अतीथि
4. अतीथी

Question Number : 141 Question Id : 6589883760 Question Type : MCQ Option Shuffling : Yes Display Question Number : Yes
Single Line Question Option : No Option Orientation : Vertical Allowed Progression : Yes Number of Replay : 999 Play On Load :
No Control Enable : Yes

Correct Marks : 3 Wrong Marks : 1

Question Label : Multiple Choice Question

देश के बाहर से वस्तु मँगाने के लिए किस शब्द का प्रयोग करेंगे ?

Options :

1. निर्यात
2. आयात
3. अन्तर्यात
4. बहिर्यात

Question Number : 142 Question Id : 6589883761 Question Type : MCQ Option Shuffling : Yes Display Question Number : Yes
Single Line Question Option : No Option Orientation : Vertical Allowed Progression : Yes Number of Replay : 999 Play On Load :
No Control Enable : Yes

Correct Marks : 3 Wrong Marks : 1

Question Label : Multiple Choice Question

सरकारी गजट में छपी सूचना को क्या कहेंगे ?

Options :

1. कानून
2. विधि
3. गजट
4. अधिसूचना

Question Number : 143 Question Id : 6589883762 Question Type : MCQ Option Shuffling : Yes Display Question Number : Yes
Single Line Question Option : No Option Orientation : Vertical Allowed Progression : Yes Number of Replay : 999 Play On Load :
No Control Enable : Yes

Correct Marks : 3 Wrong Marks : 1

Question Label : Multiple Choice Question

पहले लिखे गये किसी पत्र का स्मरण दिलाने के लिए लिखे जाने वाले पत्र को क्या कहेंगे ?

Options :

1. स्मृतिपत्र
2. स्मरणपत्र
3. अनुस्मारक
4. प्रतिपत्र

Question Number : 144 Question Id : 6589883763 Question Type : MCQ Option Shuffling : Yes Display Question Number : Yes
Single Line Question Option : No Option Orientation : Vertical Allowed Progression : Yes Number of Replay : 999 Play On Load :
No Control Enable : Yes

Correct Marks : 3 Wrong Marks : 1

Question Label : Multiple Choice Question

जिसे अपने स्थान से हटा दिया गया हो, उसे क्या कहेंगे ?

Options :

1. प्रतिस्थापित
2. विस्थापित
3. निर्वासित
4. सुवासित

Question Number : 145 Question Id : 6589883764 Question Type : MCQ Option Shuffling : Yes Display Question Number : Yes
Single Line Question Option : No Option Orientation : Vertical Allowed Progression : Yes Number of Replay : 999 Play On Load :
No Control Enable : Yes

Correct Marks : 3 Wrong Marks : 1

Question Label : Multiple Choice Question

इनमें से कौन-सा वाक्य शुद्ध है ?

Options :

1. मैंने कानपुर जाना है।
2. मेरे को कानपुर जाना है।
3. मैं कानपुर जाना है।
4. मुझे कानपुर जाना है।

Question Number : 146 Question Id : 6589883765 Question Type : MCQ Option Shuffling : Yes Display Question Number : Yes
Single Line Question Option : No Option Orientation : Vertical Allowed Progression : Yes Number of Replay : 999 Play On Load :
No Control Enable : Yes

Correct Marks : 3 Wrong Marks : 1

Question Label : Multiple Choice Question

निम्नलिखित में वाक्य के शुद्ध रूप का चयन कीजिए :

Options :

1. सीता की चरित्र अच्छा है।
2. सीता की चरित्र अच्छी है।
3. सीता का चरित्र अच्छा है।
4. सीता का चरित्र अच्छी है।

Question Number : 147 Question Id : 6589883766 Question Type : MCQ Option Shuffling : Yes Display Question Number : Yes
Single Line Question Option : No Option Orientation : Vertical Allowed Progression : Yes Number of Replay : 999 Play On Load :
No Control Enable : Yes

Correct Marks : 3 Wrong Marks : 1

Question Label : Multiple Choice Question

निम्नलिखित में शुद्ध वाक्य कौन-सा है ?

Options :

1. कृपया आज का अवकाश देने की कृपा करें।
2. आज का अवकाश देने की कृपा करें।
3. आज का अवकाश देने की कृपया कृपा करें।
4. आज का कृपया अवकाश देने की कृपा करें।

Question Number : 148 Question Id : 6589883767 Question Type : MCQ Option Shuffling : Yes Display Question Number : Yes
Single Line Question Option : No Option Orientation : Vertical Allowed Progression : Yes Number of Replay : 999 Play On Load :
No Control Enable : Yes

Correct Marks : 3 Wrong Marks : 1

Question Label : Multiple Choice Question

'निज भाषा उन्नति अहै सब उन्नति कौ मूल' यह कथन किसका है ?

Options :

1. कबीरदास
2. भारतेन्दु हरिश्चन्द्र
3. प्रताप नारायण मिश्र
4. राधाकृष्ण दास

Question Number : 149 Question Id : 6589883768 Question Type : MCQ Option Shuffling : Yes Display Question Number : Yes
Single Line Question Option : No Option Orientation : Vertical Allowed Progression : Yes Number of Replay : 999 Play On Load :
No Control Enable : Yes

Correct Marks : 3 Wrong Marks : 1

Question Label : Multiple Choice Question

हिन्दी का विकास इनमें से किससे हुआ है ?

Options :

1. संस्कृत
2. पालि
3. प्राकृत
4. अपभ्रंश

Question Number : 150 Question Id : 6589883769 Question Type : MCQ Option Shuffling : Yes Display Question Number : Yes
Single Line Question Option : No Option Orientation : Vertical Allowed Progression : Yes Number of Replay : 999 Play On Load :
No Control Enable : Yes

Correct Marks : 3 Wrong Marks : 1

Question Label : Multiple Choice Question

व्यापार एवं उद्योग के क्षेत्र में हिन्दी का प्रयोग इनमें से किस बात के लिए आवश्यक है ?

Options :

1. हिन्दी बहुत वैज्ञानिक भाषा है।
2. हिन्दी का साहित्य बहुत समृद्ध है।
3. हिन्दी में कबीर और तुलसी जैसे महान कवि हुए।
4. बहुसंख्यक उपभोक्ता हिन्दी भाषी हैं।