

POLYCET-2021



D

Hall Ticket
Number :

7 8 4 5 0 0 4

Time : 2 Hr. 30 Min.

110572

Question Booklet No.

Signature of
the Candidate

[Handwritten Signature]

Total Marks : 150

Note : Before answering the questions, read carefully the instructions given on the OMR sheet.

సూచన : ప్రశ్నలకు జవాబులు వ్రాయటకు ముందు, OMR జవాబు పత్రములో ఇవ్వబడిన సూచనలు జాగ్రత్తగా చదవండి.

SECTION - A : MATHEMATICS (గణిత శాస్త్రము)

- 1 The sum of 15 terms of A.P. 3, 6, 9,.....
3, 6, 9,..... అను అంకశ్రేణిలోని 15 పదాల మొత్తం
(1) 315 (2) 360 (3) 415 (4) 460
- 2 The distance between the points (0, 0) and (5, 12) is
(0, 0) మరియు (5, 12) బిందువుల మధ్య దూరం
(1) 11 (2) 12 (3) 13 (4) 14
- 3 The centre of a circle with (1, 2) and (7, -4), as end points of the diameter is
(1, 2) మరియు (7, -4) లు వ్యాసాగ్రాలు గా గల వృత్త కేంద్రం
(1) (-4, 1) (2) (4, -1) (3) (-4, -1) (4) (4, 1)
- 4 The roots of $x^2+x-6=0$ are
 $x^2+x-6=0$ యొక్క మూలాలు
(1) 2, -3 (2) -2, 3 (3) 2, 3 (4) -2, -3

USE
OF
CALCULATOR

33
36
27
45
57
69
87
39
360

SPACE FOR ROUGH WORK / చిత్తు పనికి కేటాయించబడిన స్థలము

$\frac{x_1+x_2}{2}$

$\frac{1+7}{2} = 4$

$\frac{2+(-4)}{2} = -1$

$\frac{144}{25} = 5.76$

$\frac{119}{119} = 1$

$\sqrt{x^2-y^2} = \sqrt{5^2-12^2}$

$\sqrt{25-144}$

$\sqrt{119}$

$\frac{56}{35} = 1.6$

$\frac{1+8}{2} = 4.5$

$\frac{7-4}{2} = 1.5$

$\frac{3}{2}$

[P.T.O.]

POLYCET-2021-D

LO
FLOWERS

5 If the roots of the quadratic equation $ax^2+bx+c=0$ are $\sin \alpha$ and $\cos \alpha$, then $1+2\frac{c}{a} =$ _____

$\sin \alpha$ మరియు $\cos \alpha$ లు $ax^2+bx+c=0$ యొక్క మూలాలు అయిన, $1+2\frac{c}{a} =$ _____

- (1) $\frac{a^2}{b^2}$ (2) $\frac{b^2}{a^2}$ (3) a^2 (4) b^2

6 How many two digit numbers are divisible by 7 ?

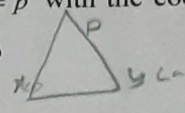
7 చే భాగించ బడే రెండంకెల సంఖ్యలు ఎన్ని?

- (1) 10 (2) 11 (3) 12 (4) 13

7
14
21
28
35
42
49
56
63
70
77
84
91
98
105

7 Area of a triangle formed by the line $x \cos \alpha + y \sin \alpha = p$ with the coordinate axes is $x \cos \alpha + y \sin \alpha = p$ రేఖ నిరూపకాక్షాలతో ఏర్పరచే త్రిభుజ వైశాల్యం

- (1) $\frac{p^2}{2 \sin \alpha \cos \alpha}$ (2) $\frac{p^2}{\sin \alpha \cos \alpha}$ (3) $\frac{p}{2 \sin \alpha \cos \alpha}$ (4) $\frac{p}{\sin \alpha \cos \alpha}$



$\frac{1}{2} \times l \times b$

8 If the slope of the line through $(x, 5)$ and $(5, 2)$ is 3, then the value of x is

$(x, 5)$ మరియు $(5, 2)$ ల గుండా పోవు రేఖ వాలు 3 అయిన, x విలువ

- (1) 3 (2) 4 (3) 5 (4) 6

$$\frac{y_2 - y_1}{x_2 - x_1}$$

$$\frac{2-5}{2-x} = 3$$

9 If α, β are the roots of a quadratic equation $ax^2+bx+c=0, a \neq 0$ then $\frac{1}{\alpha} + \frac{1}{\beta} =$ _____

α, β లు $ax^2+bx+c=0, a \neq 0$ యొక్క మూలాలు అయితే, $\frac{1}{\alpha} + \frac{1}{\beta} =$ _____

- (1) $-\frac{b}{a}$ (2) $\frac{c}{a}$ (3) $-\frac{b}{c}$ (4) $\frac{b}{c}$

$$\frac{+3}{+7}$$

$$\alpha + \beta = -\frac{b}{a}$$

SPACE FOR ROUGH WORK / చిత్తు పనికే కేటాయించబడిన స్థలము



10 10th term of an arithmetic progression 2, -1, -4, is

2, -1, -4, అనే అంకశ్రేణిలోని పదవ పదము

- (1) -21 (2) -23 (3) -25 (4) -27

2, -1, -4, -7, -10, -13, -16,
-19, -21, -24,

11 If $\Sigma n = 45$, then $n =$ _____

$\Sigma n = 45$ అయిన, $n =$ _____

- (1) 9 (2) 10 (3) 11 (4) 12

$\Sigma 55 = 10$

$\Sigma n = 2, -1, -4, -7, -10, -13, -16, -19, -21, -24$

12 If $x^2 + kx + 1 = 0$ has a root $x = 1$ then $k =$ _____

$x^2 + kx + 1 = 0$ సమీకరణమునకు $x = 1$ ఒక మూలము అయిన, $k =$ _____

- (1) 1 (2) 2 (3) 3 (4) -2

$1^2 + k(1) + 1 = 0$
 $1 + k + 1 = 0$
 $1k + 2 = 0$
 $k = -2$

13 Find the value of $\log_{0.1} 0.01$

$\log_{0.1} 0.01$ విలువ ఏంత?

- (1) 1 (2) 2 (3) 3 (4) 4

$\log_{\frac{1}{10}} \frac{1}{100}$

14 The value of $\log_e e\sqrt{e}$ is _____

$\log_e e\sqrt{e}$ విలువ ఏంత?

- (1) $\frac{1}{2}$ (2) $\frac{2}{2}$ (3) $\frac{3}{2}$ (4) $\frac{4}{2}$

15 $A = \{C, O, V, I, D, 19, 2020\}$, $B = \{C, O, V, I, D, 19, 2021\}$ then $B - A = ?$

$A = \{C, O, V, I, D, 19, 2020\}$, $B = \{C, O, V, I, D, 19, 2021\}$ అయిన $B - A = ?$

- (1) {2020} (2) {2021}
(3) {2020, 2021} (4) {C, O, V, I, D, 19, 2020, 2021}

SPACE FOR ROUGH WORK / చిత్తు పనికి కేటాయించబడిన స్థలము



$$4x + 48 + 119$$

21

21

23

2

5

- 16 The zeroes of the quadratic polynomial $x^2 + 24x + 119$ are
(1) one positive and one negative
(3) both negative

$$x^2 + 24x + 119 \text{ అనే వర్గ బహుపది శూన్యాలు}$$

- (1) ఒకటి ధనాత్మకం మరియు ఒకటి ఋణాత్మకం
(3) రెండూ ఋణాత్మకం

- (2) రెండూ ధనాత్మకం
(4) పైవేవి కావు

6

- 17 $\frac{1}{\sqrt{2}}$ is _____

- (1) Natural number
(3) Irrational number

- (2) Rational number
(4) An Integer

7

- 18 $\frac{1}{\sqrt{2}}$ అనునది _____

- (1) సహజ సంఖ్య
(3) కరణీయ సంఖ్య

- (2) అకరణీయ సంఖ్య
(4) పూర్ణ సంఖ్య

8

- 19 H.C.F. of 8, 9 and 25 is _____

- 8, 9 మరియు 25 ల గ.సా.కా. _____
(1) 0 (2) 1

- (3) 2 (4) 3

- 20 If the system of equations $3x - 2y - 7 = 0$ and $kx + 2y + 11 = 0$ has unique solution the

$$3x - 2y - 7 = 0 \text{ మరియు } kx + 2y + 11 = 0 \text{ సమీకరణాల జతకు ఏకైక సాధన ఉంటే}$$

- (1) $k \neq 3$

- (2) $k \neq -3$

- (3) $k = 3$

- (4) $k = -3$

- 21 If $7x - 5y = 2$ and $3x + y = 4$, then $x = ?$

$$7x - 5y = 2 \text{ మరియు } 3x + y = 4 \text{ అయితే, } x \text{ విలువ?}$$

- (1) 3

- (2) -3

- (3) 1

- (4) 2

SPACE FOR ROUGH WORK / చిత్తు పనికి కేటాయించబడిన స్థలము

$$7x - 5y = 2$$

$$21$$

$$\frac{2}{3} \frac{8}{4} \frac{2}{1}$$

$$8 = 2^3$$

$$9 = 3^2$$

$$25 = 5^2$$

21 If $2^x = 8^2$ then $x = ?$
 $2^x = 8^2$ అయిన $x = ?$
 (1) 2 (2) 4 (3) 6 (4) 8

22 Cardinal number of the set $A = \{-2, -1, 0, 1, 2\}$ is
 $A = \{-2, -1, 0, 1, 2\}$ అనే సమితికి కార్డినల్ సంఖ్య _____
 (1) 5 (2) 4 (3) -2 (4) 2

23 If $x + 7y = 7$ and $7x - 3y = -3$, then $y = ?$
 $x + 7y = 7$ మరియు $7x - 3y = -3$ అయిన, y విలువ?
 (1) 1 (2) 7 (3) -3 (4) 0

24 Which of the following equation is not a linear equation?
 ఈ క్రింది సమీకరణాలలో ఏది రేఖీయ సమీకరణం కాదు?
 (1) $2 + 3x = y - 5$ (2) $3 - x = y^2 + 7$ (3) $x + 3y = 2y - x$ (4) $5x + 2y = 0$

25 What is the degree of the polynomial $7u^6 - \frac{3}{2}u^4 + 6u^2 - 8$?
 $7u^6 - \frac{3}{2}u^4 + 6u^2 - 8$ అనే బహుపది పరిమాణము ఎంత?
 (1) 7 (2) $-\frac{3}{2}$ (3) 6 (4) -8

26 The value of x which satisfies the equation $2x - (4 - x) = 5 - x$ is
 $2x - (4 - x) = 5 - x$ అనే సమీకరణాన్ని తృప్తి పరచే x విలువ
 (1) 4.5 (2) 3 (3) 2.25 (4) 0.5

SPACE FOR ROUGH WORK / చిత్ర పనికి కేటాయించబడిన స్థలము

$$2x - (4 - x) = 5 - x$$

$$2x - 4 + x = 5 - x$$

$$3x - 4 = 5 - x$$

$$3x + x = 5 + 4$$


$$4x = 9$$

$$x = \frac{9}{4}$$

[P.T.O.]

POLYCET-2021—D

[P.T.O.]



5

27 Solution of the equations $3x - 4y = 7$ and $2x + 3y = -1$ is not equal to _____

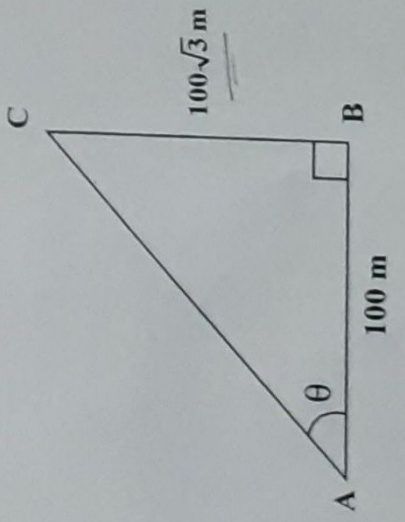
$3x - 4y = 7$ మరియు $2x + 3y = -1$ సమీకరణాల సాధన ఈ క్రింది వాటిలో ఏదీ సమానం కాదు.

- (1) $\frac{22}{22}, \frac{33}{33}$
- (2) $\frac{33}{33}, \frac{44}{44}$
- (3) $\frac{44}{44}, \frac{77}{77}$
- (4) $\frac{77}{77}, \frac{11}{11}$

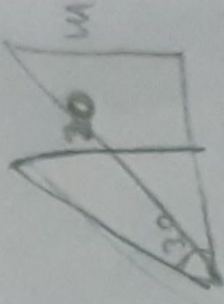
$\frac{D}{H} = \frac{20}{H} \times \frac{1}{2}$

$H = 40$

28 From the figure, $\theta =$ _____
 పటం నుండి, $\theta =$ _____



$\frac{1}{\sqrt{3}}$



- (1) 45°
- (2) 60°
- (3) 30°
- (4) 75°

29 The tops of two poles are of height 20 m and 14 m are connected by a wire. If the wire makes an angle 30° with the horizontal, then the length of the wire is

- (1) 11 m
- (2) 12 m
- (3) 13 m
- (4) 10 m

20 మీ. మరియు 14 మీ. పొడవులు గల రెండు స్తంభాల కొనల్ని తాడుతో కలిపారు. ఆ తాడు క్రింది సమాంతర రేఖతో 30° కోణం చేసిన, ఆ తాడు యొక్క పొడవు _____

- (1) 11 మీ.
- (2) 12 మీ.
- (3) 13 మీ.
- (4) 10 మీ.

$2x + 35 = 9$

$2x = \frac{16}{2}$

- 30 If the mean of 6, 7, x, 8, y, 14 is 9 then $x + y =$ _____
- 6, 7, x, 8, y, 14 ల సగటు 9 అయిన, $x + y =$ _____
- (1) 17
- (2) 18
- (3) 19
- (4) 20

SPACE FOR ROUGH WORK / చిత్తు పనికి కేటాయించబడిన స్థలము

$\frac{20}{35}$

$\frac{15}{9}$

The A.M. of 30 s of the remaining 30 పుస్తక పాఠ్యపుస్తకం 40

If three coins are tossed the probability of getting 3 heads is

(A) $\frac{1}{2}$

3 The median of 17, 31, 12, 27, 11, ... is

(A) 19

4 Mode of A, B, C, D, ... is

(1) 20

A, B, C, D, ... is

(1) 20

5 $P(x) + P(x) + P(x) + \dots = 1$

(A) -1

6 A dice is thrown. The probability of getting a number less than 3 is

(A) $\frac{11}{36}$

0 కాదు.

$\frac{77}{77}, -\frac{11}{11}$

31 The A.M. of 30 students is 42. Among them, two students got zero marks. Then A.M. of the remaining students is

21
42
~~40~~
14

- 30 మంది విద్యార్థుల సగటు 42. వారిలో ఇద్దరికి '0' మార్కులు వచ్చే మిగిలిన విద్యార్థుల సగటు _____
(A) 40 (2) 45 (3) 50 (4) 55

32 If three coins are tossed simultaneously, then the probability of getting at least two heads is

HHH
HTH
TTH
THT
HTT
HHT
TTH

$\frac{4}{8} = \frac{1}{2}$

- (A) $\frac{1}{2}$ (2) $\frac{2}{3}$ (3) $\frac{1}{3}$ (4) $\frac{3}{2}$

33 The median of 17, 31, 12, 27, 15, 19, 23 is _____

[12, 15, 17, 19, 23, 27, 31]

- 17, 31, 12, 27, 15, 19, 23 ల యొక్క మధ్యగతం _____
(A) 19 (2) 20 (3) 21 (4) 22

34 Mode of A, B, C, D, Z is

- (1) 20 (2) 21 (3) 22 (4) No mode

A, B, C, D, Z ల యొక్క బాహుళకం _____

- (1) 20 (2) 21 (3) 22 (4) బాహుళకం ఉండదు

35 $P(x) + P(\text{"not } x") = \underline{\quad\quad\quad}$ DK

$P(x) + P(\text{"x కావడం"}) = \underline{\quad\quad\quad}$

- (A) -1 (2) -2 (3) 1 (4) 2

36 A dice is thrown twice. Then the probability of that '5' will come up at least once.

ఒక పాచికను రెండు సార్లు దొడ్డెత్తే కనీసం ఒకసారి దాని ముఖంపై '5' వచ్చు సంభావ్యత

- (A) $\frac{11}{36}$ (2) $\frac{25}{36}$ (3) $\frac{23}{36}$ (4) $\frac{12}{36}$

SPACE FOR ROUGH WORK / చిత్తు పనికి కేటాయించబడిన స్థలము

1	2	3	4	5	6
1	1	1	1	1	1
2	2	2	2	2	2
3	3	3	3	3	3
4	4	4	4	4	4
5	5	5	5	5	5
6	6	6	6	6	6

37 If a two digit number is chosen at random then the probability that number chosen is a multiple of 3.

రెండంకల సంఖ్యలో ఒక దాన్ని తీసుకుంటే, అది 3 యొక్క గుణజమయ్యే సంభావ్యత

- (1) $\frac{1}{2}$
- (2) $\frac{1}{3}$
- (3) $\frac{1}{4}$
- (4) $\frac{1}{5}$

38 If the diameter of a sphere is 'd' then its volume is

ఒక గోళం యొక్క వ్యాసం 'd' అయిన, దాని ప్రసారమాణం

- (1) $\frac{1}{6} \pi d^3$
- (2) $\frac{4}{3} \pi d^3$
- (3) $\frac{1}{24} \pi d^3$
- (4) $\frac{1}{3} \pi d^3$

39 The value of $\sin \theta$ or $\cos \theta$ never exceeds

- (1) -1
- (2) 1
- (3) 0

$\sin \theta$ లేదా $\cos \theta$ ల యొక్క విలువ దేనికంటే ఎక్కువ కాదు.

- (1) -1
- (2) 1
- (3) 0

40 The value of $\frac{1 - \tan^2 45^\circ}{1 + \tan^2 45^\circ} =$

$\frac{1 - \tan^2 45^\circ}{1 + \tan^2 45^\circ}$ యొక్క విలువ

- (1) 0
- (2) -1

41 The angle of elevation of the top of a tower, whose height is 100 m, at a point whose distance from the base of the tower is 100 m is

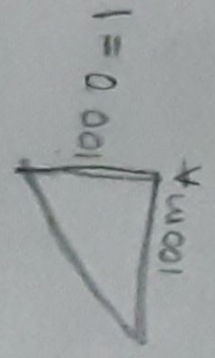
100 మీటర్ల పొడవు గల ఒక స్తంభం పాదం నుండి 100 మీటర్ల దూరంలో క్షితిజ రేఖ పై గల పరిశీలన స్థానం నుండి పరిశీలక కోణం

- (1) 30°
- (2) 60°
- (3) 90°
- (4) 45°

$a_n = a(n-1)d$ SPACE FOR ROUGH WORK / చిత్తు షుకి కేటాయింబబడిన స్థలము

$a_n = 3 + (n-1) \times 1$

$1 + (98 - 1) \times 1$



number choosen

42 Three cubes of sides 6 cm, 8 cm and 1 cm are melted to form a new cube then the length of the edge of the new cube is

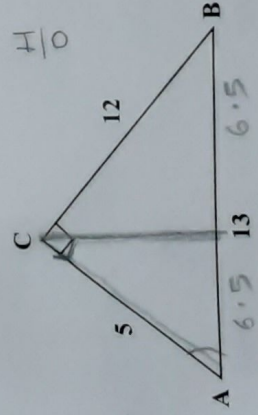
- (1) 9 cm (2) 8 cm (3) 7 cm (4) 6 cm

6 సెం.మీ., 8 సెం.మీ. మరియు 1 సెం.మీ. లు భుజాలుగా గల నమూనాలను కలిగించి ఒక నెట్ల నమూనా తయారు చేయగా ఆ పను యొక్క భుజం కొలత ఎంత?

- (1) 9 సెం.మీ. (2) 8 సెం.మీ. (3) 7 సెం.మీ. (4) 6 సెం.మీ.

$$\frac{6 \times 6 \times 6}{192}$$

43 In the figure, the value of $\operatorname{cosec} A$ is



పటంలో, $\operatorname{cosec} A$ యొక్క విలువ

- (1) $\frac{12}{13}$ (2) $\frac{13}{5}$

$$\frac{6^3 + 8^3 + 1^3}{192 + 512 + 1} = \frac{705}{705} = 1$$

44 If $\cot \theta = \frac{b}{a}$ then $\frac{\cos \theta + \sin \theta}{\cos \theta - \sin \theta} =$ _____

$\cot \theta = \frac{b}{a}$ అయితే, $\frac{\cos \theta + \sin \theta}{\cos \theta - \sin \theta} =$ _____

- (1) $\frac{b-a}{b+a}$ (2) $\frac{b+a}{b-a}$

ఇంత whose స్థానం నుంచి

SPACE FOR ROUGH WORK / చిత్తు పనికి కేటాయించబడిన స్థానము

45 The perimeter of a rhombus is 52 cm, if its one diagonal is 24 cm then the length of its other diagonal is

- (1) 5 cm
- (2) 7 cm
- (3) 9 cm
- (4) 10 cm

ఒక రొంబస్ యొక్క పట్టుకొలత 52 సెం.మీ. మరియు దాని ఒక కర్ణం పొడవు 24 సెం.మీ. అయిన దాని రెండవ కర్ణం పొడవు?

- (1) 5 సెం.మీ.
- (2) 7 సెం.మీ.
- (3) 9 సెం.మీ.
- (4) 10 సెం.మీ.

46 If $A+B=90^\circ$ and $\cot B = \frac{3}{4}$ then the value of $\tan A =$

- (1) $\frac{3}{4}$
- (2) $\frac{4}{3}$
- (3) $\frac{1}{3}$
- (4) $\frac{1}{4}$

$A+B=90^\circ$ మరియు $\cot B = \frac{3}{4}$ అయిన, $\tan A$ విలువ _____

47 If $\tan \theta = \cot \theta$ then the value of $\sec \theta =$

- (1) $\frac{1}{\sqrt{2}}$
- (2) $\frac{\sqrt{3}}{2}$
- (3) $\sqrt{2}$
- (4) 1

48 The radius of a cone is 7 m and its height is 10 m. Then its slant height is

- (1) 12.2 m
- (2) 13.5 m
- (3) 14.5 m
- (4) 16.2 m

49 The base of two similar triangles are 24 cm and 18 cm. If one side of the first triangle is 8 cm then corresponding side of other triangle is

- (1) 8 cm
- (2) 6 cm
- (3) 4 cm
- (4) 2 cm

రెండు సమాన త్రిభుజాల భూముల పొడవులు 24 సెం.మీ. మరియు 18 సెం.మీ.లు. ఒక త్రిభుజ భుజం 8 సెం.మీ. అయిన, రెండవ అనురూప త్రిభుజ భుజం _____ సెం.మీ.

SPACE FOR ROUGH WORK / చిత్తు పనికీ కేటాయించబడిన స్థలము

$$\frac{13 \times 13}{39} = \frac{13 \times x}{13 \times 69}$$

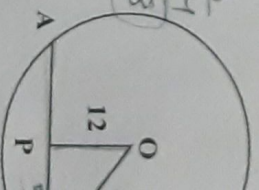


$$100 + 49 = \sqrt{149}$$

50 If $\triangle ABC \sim \triangle PQR$

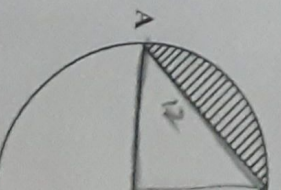
- (1) 93°

51 In the figure C is a circle and $OB =$



- (1) 100 cm

52 In the figure, portion is



- (1) 52 cm

length of
Boards egg



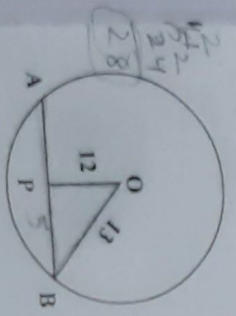
50 If $\triangle ABC \sim \triangle PQR$, $\angle A = 32^\circ$, $\angle R = 65^\circ$ then $\angle B = ?$
 $\triangle ABC \sim \triangle PQR$; $\angle A = 32^\circ$, $\angle R = 65^\circ$ ಎಂದಾ, $\angle B = ?$
 (1) 93° (2) 83° (3) 73° (4) 63°

$$\begin{array}{r} 65 \\ 32 \\ \hline 97 \\ 97 - 14 = 83 \end{array}$$

51 In the figure $OB = 13$ cm, $OP \perp AB$, $OP = 12$ cm then $AB = \underline{\hspace{2cm}}$
 ಸೂಕ್ತಾದ $OB = 13$ ಸೂಕ್ತಾದ, $OP \perp AB$, $OP = 12$ ಸೂಕ್ತಾದ, $AB = \underline{\hspace{2cm}}$

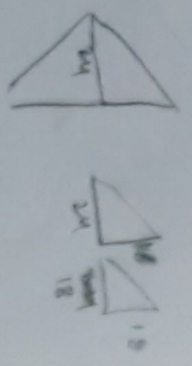
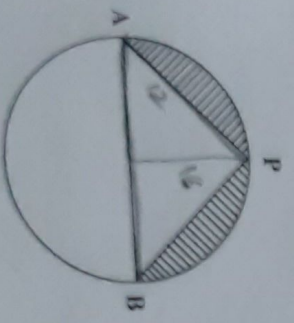
$$\begin{array}{r} 169 \\ 144 \\ \hline 25 \end{array}$$

$169 - 144 = 25$



- (1) 100 cm (ಸೂಕ್ತಾದ) (2) 50 cm (ಸೂಕ್ತಾದ) (3) 75 cm (ಸೂಕ್ತಾದ) (4) 10 cm (ಸೂಕ್ತಾದ)

52 In the figure, $AP = 12$ cm, $PB = 16$ cm. Let $\pi = 3$, then the perimeter of the shaded portion is _____
 ಈಗೂ ಸೂಕ್ತಾದ $AP = 12$ ಸೂಕ್ತಾದ, $PB = 16$ ಸೂಕ್ತಾದ, $\pi = 3$ ಎಂದಾ, ಕೆಳದಿ ಭಾಗದ ಸುತ್ತುವರಣೆ ಯಾವುದು?



- (1) 52 cm (ಸೂಕ್ತಾದ) (2) 58 cm (ಸೂಕ್ತಾದ) (3) 56 cm (ಸೂಕ್ತಾದ) (4) 62 cm (ಸೂಕ್ತಾದ)

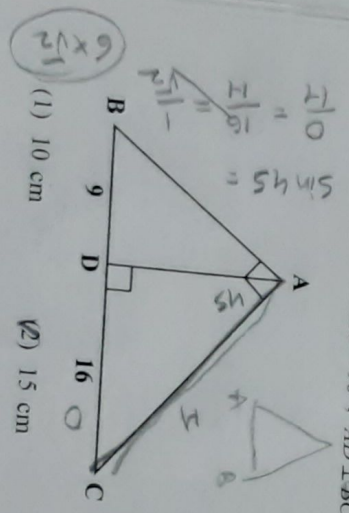
SPACE FOR ROUGH WORK / ಈಗೂ ಸೂಕ್ತಾದ ಕೆಲಸ ಮಾಡುವುದಿಲ್ಲ

53 A reservoir is in the shape of a frustum of a right circular cone. It is 8 m across at the top and 4 m across at the bottom. It is 6 m deep then its capacity is
 (1) 704 m³ (2) 174 m³ (3) 127 m³ (4) 170 m³
 ఒక రిజర్వాయర్ షటిల్ కాక్ యిక్క ప్రైజాం (ఫ్రస్ట్రమ్) ఆకారంలో కలుదు. దాని పైన మరియు క్రింది వ్యాసాలు 8 మీ, 4 మీ. మరియు లోతు 6 మీ. అయిన, దాని పుట పరిమాణం ఎంత?

- (1) 704 మీ³ (2) 174 మీ³ (3) 127 మీ³ (4) 170 మీ³


54 In the $\triangle ABC$; D, E and F are the mid points of the sides BC, CA and AB . Then area of $ADEF$: area of $\triangle ABC =$ _____
 $\triangle ABC$ లో D, E మరియు F లు వరుసగా BC, CA మరియు AB ల మధ్యబిందువులైన, $ADEF$ ప్రకాశం : $\triangle ABC$ ప్రకాశం = _____
 (1) 1:4 (2) 4:1 (3) 1:3 (4) 3:4

55 In the given figure $\angle BAC = 90^\circ, AD \perp BC, BD = 9$ cm and $CD = 16$ cm then $AC = ?$
 ఇచ్చిన పటం నుండి $\angle BAC = 90^\circ, AD \perp BC, BD = 9$ cm మరియు $CD = 16$ cm అయిన, $AC = ?$



- (1) 10 cm (2) 15 cm (3) 20 cm (4) 25 cm

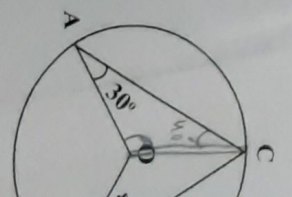
56 The angle in the minor segment is
 (1) obtuse (2) acute (3) 90° (4) None of these
 అల్పవృత్తఖండం లోని కోణం _____ కోణం.
 (1) అధిక (2) అల్ప (3) లబ్ధ (4) ఏదీ కాదు



- (1) అధిక (2) అల్ప (3) లబ్ధ (4) ఏదీ కాదు

SPACE FOR ROUGH WORK / చిత్తు పనికి కేటాయించబడిన స్థలము

57 In the figure $\angle BAO =$ _____
 పటం నుండి $\angle BAO =$ _____

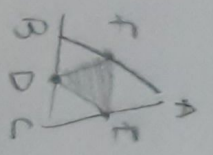


- (1) 100°

58 The ratio of vol then the ratio o రెండు శంఖువుల పునః (1) 4:5

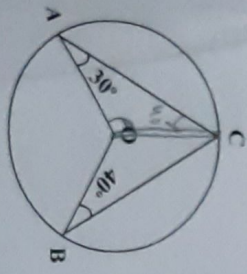
59 If a parallelogram is a rectangle (1) దీర్ఘ చతురస్రము

60 The angle at the vertex of a square is (1) 60°



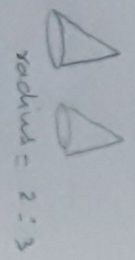
at the
8.5.

57 In the figure $\angle BAO = 30^\circ$, $\angle BCO = 40^\circ$ then $\angle AOC = ?$
ఇంకా ఇచ్చిన $\angle BAO = 30^\circ$, $\angle BCO = 40^\circ$ అయిన, $\angle AOC = ?$



$$\frac{180}{30} = \frac{110}{x}$$

$$\frac{1}{3} \pi r^2 = 4.5 \pi$$



- (1) 100° (2) 120° (3) 140° (4) 150°

58 The ratio of volumes of two cones is 4:5 and the ratio of the radii of their bases is 2:3 then the ratio of their vertical height is

- (1) 4:5 (2) 9:5 (3) 3:5 (4) 2:3

59 If a parallelogram is cyclic, then it is a _____
(1) rectangle (2) square (3) quadrilateral (4) rhombus

- సమబ్ధ చతుర్భుజము చక్రీయమైన అది ఒక _____
(1) దీర్ఘ చతుర్భుజము (2) చతుర్భుజము (3) చతుర్భుజము (4) రాజాన్

60 The angle at tangent to a circle and the radius drawn at the point of contact is

- (1) 60° (2) 90° (3) 45° (4) 30°



SPACE FOR ROUGH WORK / చిత్త వేడి కేటాయింపులకు స్థలము

SECTION - B : PHYSICS (భౌతిక శాస్త్రము)

- 61 Object distance (u), image distance (v), focal length (f) are all measured from
 (1) focus (F)
 (3) centre of curvature (C)
 వస్తు దూరం (u) ప్రతిబింబ దూరం (v) నాభ్యాంతరం (f) లు ఈ లిందువు సుంధి కొలుస్తారు.
 (1) నాభి (F)
 (3) వృక్షా కేంద్రం (C)
- 62 When a person is suffering from both Myopia and Hypermetropia, which should be used ?
 (1) Bi-convex lens
 (3) Bi-focal lens
 ప్రాసర్ద్వస్త్రోసూ, దూర్ద్వస్త్రోసూ బాధపడే వ్యక్తికి ఉపయోగించబడినది
 (1) ద్వికుంభాకార కటకము
 (3) ద్వివాళ్ళింతర కటకము
- 63 The resistance of human body varies between
 (1) 100 Ω to 50,000 Ω
 (3) 1,000 Ω to 5,00,000 Ω
 సాధారణంగా మానవ శరీర నిరోధము ఏ మిలునుల మధ్య ఉంటుంది?
 (1) 100 Ω నుండి 50,000 Ω వరకు
 (3) 1,000 Ω నుండి 5,00,000 Ω వరకు
- 64 Which part of our eye is responsible for image formation ?
 (1) Cornea
 (2) Crystalline lens
 మన కండ్లోని ఈ భాగం వలన ప్రతిబింబం ఏర్పడుతుంది?
 (1) కార్నియా
 (2) కటకం
 (3) నేత్రోదక ద్రవం
 (4) ఐరిస్
- 65 Focal length of a lens is 25 cm. Its power is ____
 ఒక కటక నాభ్యాంతరము 25 సెం.మీ. అయిన, దాని సామర్థ్యము
 (1) 5D
 (2) 6D
 (3) 4D
 (4) 0.04D

SPACE FOR ROUGH WORK / చిత్తు పనికి కేటాయించబడిన స్థలము



- 66 Least distance of distinct vision is
 (1) 25 m
 (1) 25 సీ.
 వ్యక్తి దృష్టి కేసిన దూరం
 (1) 25 మీ.
- 67 In our eye colour is determined by
 (1) Intensity of light
 (3) Taste
 మన కంటిలోని శంఖము
 (1) కాంతి తీవ్రత
 (3) రుచి
- 68 With the help of which part of the eye can we see distant objects?
 (1) Aqueous humor
 (3) Ciliary muscles
 దేని సహాయంతో కంటి ద్వారా దూర వస్తువులను చూడవచ్చు?
 (1) నేత్రోదక ద్రవం
 (3) సిలియరీ కణజం
- 69 A current of 5 A flows through a wire of length 1 m. The resistance of the wire is
 (1) 5 Ω
 ఒక వాహకం ద్వారా 5 అంపియర్ల విద్యుత్ ప్రవాహం ఉన్న 1 మీటర్ల పొడవు గల వైర్ యొక్క నిరోధం
 (1) 5 Ω
- 70 When a body is moving with a constant velocity, the force acting on it is
 (1) more
 (3) not zero
 ఒక ద్రవం ఏకగమనంతో కదులుతున్నప్పుడు దానిపై పనిచేసే బలం
 (1) ధన దృష్టాంతం
 (3) శూన్యం

- 66 Least distance of distinct vision is _____
- (1) 25 m (2) 25 mm (3) 25 cm (4) 25 km
- స్వల్ప దృష్టి కనీస దూరము _____
- (1) 25 మీ. (2) 25 మి.మీ. (3) 25 సెం.మీ. (4) 25 కి.మీ.

- 67 In our eye cones identify _____
- (1) Intensity of light (2) Colour
- (3) Taste (4) Smell
- మన కంటిలోని శంఖువులు దేనిని గుర్తిస్తాయి ?
- (1) కాంతి తీవ్రత (2) రంగు
- (3) రుచి (4) వాసన

- 68 With the help of _____, eye-lens changes its focal length.
- (1) Aqueous humor (2) Cornea
- (3) Ciliary muscle (4) Pupil
- దేని సహాయంతో కంటి కటకం తన వాల్బ్యంతరాన్ని మార్చుకుంటుంది?
- (1) నేత్రోదక ద్రవం (2) కార్నియా
- (3) సిలియరీ కండాలాలు (4) కుపిల

- 69 A current through a conductor is 2A, when there is a potential difference of 10V between its ends. Its resistance is _____
- ఒక వాహకం చివరల మధ్య 10V పొటెన్షియల్ భేదమున్నప్పుడు, 2A విద్యుత్ ప్రవాహముంది. దాని నిరోధముంత?
- (1) 5Ω (2) 0.2Ω (3) 20Ω (4) 2.5Ω

- 70 When a copper wire is connected to a battery the electric field in the wire is _____
- (1) more at positive terminal (2) more at negative terminal
- (3) not uniform in the wire (4) uniform in the wire
- ఒక రాగి తీగను బ్యాటరీకి కలిపినప్పుడు, తీగలో విద్యుత్ క్షేత్రము _____
- (1) ధన ద్రవం వద్ద ఎక్కువ (2) ఋణ ద్రవం వద్ద ఎక్కువ
- (3) తీగలో ఏకరీతిగా ఉండదు (4) తీగలో ఏకరీతిగా ఉంటుంది

SPACE FOR ROUGH WORK / చిత్ర ఘటితీ తయారుచేసేటదిన స్థలము

$$R = \frac{V}{I} = \frac{10}{2} = 5$$

$$V = IR$$

$$I = \frac{V}{R}$$

$$\frac{10}{5} = 2$$

71 $\frac{\text{Force} \times \text{Length}}{\text{Charge}}$ = which quantity ? $\left. \begin{array}{l} \frac{FeL}{q} \\ \} \end{array} \right\}$

- (1) Potential (2) Current (3) Resistance (4) Capacity
 $\frac{\text{బలము} \times \text{పొడవు}}{\text{ఛార్జ్}} = \text{ఏ భౌతిక రాశి?}$

72 4Ω, 8Ω, R resistors are connected in series. Resultant resistance is 20Ω. Then R=?

- 4Ω, 8Ω, R నిరోధాలు శ్రేణిలో కలుపబడ్డాయి. ఫలిత నిరోధము 20Ω అయిన, R=?
 (1) 6Ω (2) 4Ω (3) 18Ω (4) 8Ω

73 Units for specific resistance _____ $V = IR$
 $I = \frac{E}{R}$
 $R = \frac{E}{I}$
 విశిష్ట నిరోధానికి ప్రమాణాలు

- (1) Ω m (2) Ω / m (3) m / Ω (4) Ω kg

74 When how much current flows in the fuse, it melts ?
 ఫ్యూజ్ గుండా ఎంత మిక్యుల్ ప్రమాణాలే అది కరుగుతుంది?

- (1) 200 A (2) 2 A (3) 20 A (4) 2000 A

75 The current in a conductor is directly proportional to the potential difference between its ends. This is called

- (1) Faraday's law (2) Kirchoff's law (3) Ohm's law (4) Newton's law

ఒక వాహకములోని విద్యుత్ ప్రవాహము దాని కొనల మధ్యగల పొడవైన భేదానికి అనులోమాను పాతంలో ఉంటుంది.

- (1) ఫారడే నియమము (2) కిర్చాఫ్ నియమము (3) ఓమ్ నియమము (4) న్యూటన్ నియమము

SPACE FOR ROUGH WORK / చిత్తు పనికి కేటాయింపబడిన స్థలము

$V = IR$

76 Conductivity =
 (1) Resistance⁻¹
 వాహకత్వం =
 (1) నిరోధము⁻¹

77 The alloy made of Cu, Mn, Ni లో తయరైన మిశ్రమము
 (1) మ్యాగ్నీషియం

78 If a light ray pass in mirror, the reflector
 (1) Through focus
 (3) Retraces the path
 ఒక కాంతి కిరణం, దర్పణ బిరబం యొక్క మార్గం
 (1) నాభి (F) గుండా
 (3) అదే మార్గం గుండా

79 If magnification is
 (1) Image is same
 (2) Image is larger
 (3) Image is of inverted
 (4) Image is point
 అవర్ణనం ఒకటి (1) అ
 (1) ప్రతిబింబము, స్వల్ప
 (2) ప్రతిబింబము, పెద్ద
 (3) ప్రతిబింబము, వ్యతిరేక
 (4) ప్రతిబింబము ది

76

Conductivity =

(1) Resistance⁻¹

(2) Current⁻¹

(3) Potential⁻¹

(4) Resistivity⁻¹

వాహకత్వం =

(1) విరోధము⁻¹

(2) విద్యుత్ప్రవాహము⁻¹

(3) వాల్టేజి⁻¹

(4) విశిష్టోదాహము⁻¹

Copper + manges + nickel

77

The alloy made of Cu, Mn, Ni is

(1) Magnesium

(2) Magnet

(3) Manganin

(4) Magma

(1) మెగ్నీషియం

(2) మ్యాగ్నెట్

(3) మాంగనైన్

(4) మాగ్మా

78

If a light ray passing through centre of curvature (C) of a mirror is incident on the mirror, the reflected ray's path is

(1) Through focus (F)

(2) Through centre of curvature (C)

(3) Retraces the path

(4) Through any point

కిరణం యొక్క మార్గం

(1) నాభి (F) గుండా

(2) వ్యతలాకేంద్రం (C) గుండా

(3) అదే మార్గం గుండా వెనుకకు ప్రయాణిస్తుంది

(4) ఏదీని దిండుతు గుండా

79

If magnification is equal to one, it means

(1) Image is smaller than object

(2) Image is larger than object

(3) Image is of the same size as that of object

(4) Image is point size

అవర్ధనం ఒకటి (1) అయితే, దానివల్లం

(1) ప్రతిబింబము, వస్తువు కన్నా చిన్నది

(2) ప్రతిబింబము, వస్తువు కన్నా పెద్దది

(3) ప్రతిబింబము, వస్తువు రెండూ ఒకే పరిమాణంలో ఉన్నాయి

(4) ప్రతిబింబము బిందు రూపములో ఉన్నది

SPACE FOR ROUGH WORK / చిత్తు పనితీరి కేటాయింపబడిన స్థలము



- 80 Focal plane of a spherical mirror is
- (1) Line joining pole (P) and focus (F) of the mirror
 - (2) Plane perpendicular to the principal axis at focus (F)
 - (3) Plane perpendicular at centre of curvature (C)
 - (4) Plane parallel to the principal axis.
- గోళాకార దర్పణము యొక్క నాభీయ తలం అంటే
- (1) దర్పణ దృశ్యం (P), నాభి (F) లను కలుపు రేఖ
 - (2) నాభి (F) వద్ద ప్రధానాక్షానికి లంబంగా ఉన్న తలము
 - (3) వక్రతా కేంద్రం (C) వద్ద లంబంగా ఉన్న తలము
 - (4) ప్రధానాక్షానికి సమాంతరంగా ఉండే తలము

- 81 Dentist uses this mirror to examine teeth of patients.
- (1) Concave mirror
 - (2) Convex mirror
 - (3) Plane mirror
 - (4) None of the above
- దంత మైక్రుగుడు రోగి దంతాలను పరీక్షించేందుకు ఉపయోగించే దర్పణము,
- (1) ప్లటాకార దర్పణము
 - (2) కుంభాకార దర్పణము
 - (3) సమతల దర్పణము
 - (4) పైవేవియివూ కావు

- 82 Focal length of plano-convex lens of refractive index n and radius of curvature R is
- n వక్రీకరణ గుణకము, R వక్రతా వ్యాసార్థము గల సమతల కుంభాకార కటకము యొక్క నాభ్యాంతరము
- (1) $f = R$
 - (2) $f = \frac{R}{2}$
 - (3) $f = \frac{n-1}{R}$
 - (4) $f = \frac{R}{n-1}$

- 83 A bird is flying down vertically towards the surface of water with constant speed.
- A fish in the water vertically below the bird sees the bird
- (1) Further away than actual distance
 - (2) Closer than actual distance
 - (3) At actual distance
 - (4) In inclined position

- ఆకాశంలో ఉన్న పక్షి నీటి ఉపరితలం దిగగా లంబంగా స్థిర పడితో క్రిందకు ప్రయాణిస్తుంది. పక్షికి లంబంగా నీటిలో ఒక చేస ఉంటే, ఆ చేసకు పక్షి
- (1) అసలు స్థానం కంటే దూరంగా కనబడుతుంది
 - (2) అసలు స్థానం కంటే దగ్గరగా కనబడుతుంది
 - (3) అసలు స్థానంలో కనబడుతుంది
 - (4) వాలులో కనబడుతుంది

SPACE FOR ROUGH WORK / చిత్తు పనికై కేటాయింపబడిన స్థలము

- 84 A convex lens
- (1) focus (F)
- ఒక కుంభాకార కటక
- (1) నాభి (F)

- 85 Formula used of refractive
- కాంతి కేటం n
- ప్రయాణించినప్పు

(1) $\frac{n_2}{v} - \frac{n_1}{u}$

(3) $\frac{v}{n_2} - \frac{u}{n_1}$

- 86 An object
- If the image find the ob
- (1) 10 cm
- ఒక ప్లటాకార
- మరియు దర్ప
- (1) 10 సెం

84 A convex lens form image of an object at infinity. Object is at

- (1) focus (F) (2) $C = 2f$ (3) infinity (4) pole (P)

ఒక కుంభాకార కుకము ద్రవీభింబాన్ని అసంత దూరంలో ఏర్పరవించి. వస్తువు ఈ స్థానంలో ఉంటుంది.

- (1) వాటి (F) (2) $C = 2f$ (3) అసంత దూరం (4) దృక్ కేంద్రం (P)

85 Formula used when a light ray enters a medium of refractive index n_2 from a medium of refractive index n_1 at curved surface with radius of curvature R is

కాంతి కరణం n_1 వక్రీభవన గుణకం గల యానకం నుండి n_2 వక్రీభవన గుణకం, R వ్రాసాంకంగా గల వక్రతలం లోకి ప్రయాణించినప్పుడు, ఈ క్రింది సమీకరణము సరియైనది.

(1) $\frac{n_2}{v} - \frac{n_1}{u} = \frac{n_2 - n_1}{R}$ (2) $v - u = \frac{n_2 - n_1}{R}$

(3) $\frac{v}{n_2} - \frac{u}{n_1} = \frac{n_2 - n_1}{R}$ (4) $\frac{n_2 + n_1}{v} = \frac{n_2 - n_1}{R}$

$$\left. \begin{aligned} v &= -30 \\ R &= -20 \\ f &= -10 \end{aligned} \right\}$$

86 An object is placed at a certain distance on the principal axis of a concave mirror. If the image distance (v) is 30 cm and radius of curvature (R) of the mirror is 20 cm, find the object distance (u).

- (1) 10 cm (2) 15 cm (3) 30 cm (4) 7.5 cm

ఒక వృధాకార దర్పణపు ప్రధానాక్షము కై కొంత దూరంలో ఒక వస్తువు ఉంచబడినది. ద్రవీభింబ దూరము (v) 30 సెం.మీ.

మరియు దర్పణము యొక్క వక్రతా వ్యాసార్థము 20 సెం.మీ. అయిన యెడల, వస్తు దూరము (u) ఎంత?

- (1) 10 సెం.మీ. (2) 15 సెం.మీ. (3) 30 సెం.మీ. (4) 7.5 సెం.మీ.

SPACE FOR ROUGH WORK / చిత్తు పనికీ శోధాయించబడిన స్థలము

$$\frac{10 \mid 10, 30}{\hline 1, 3}$$

87 When a set of parallel rays of light inclined at 15° to the principal axis, are incident on a convex lens, they



- (1) Converge at focus (F)
 - (2) Diverge from focus (F)
 - (3) Converge to a point on focal plane
 - (4) Diverge from a point on focal plane
- ప్రధానాక్షంతో 15° కోణం చేస్తూ ప్రయాణించే కాంతి భుజము కుంభాకార కటకము పై పతనమై సప్రకృతులు, అవి
- (1) నాభి వద్ద కేంద్రీకృతమవుతాయి
 - (2) నాభినుండి వికేంద్రీకరింపబడతాయి
 - (3) నాభీయ తలంపై ఒక బిందువు వద్ద కేంద్రీకృతమవుతాయి
 - (4) నాభీయ తలంపై ఒక బిందువు నుండి వికేంద్రీకరింపబడతాయి

88 If object and image lie on the same side of a mirror, the mirror is



- (1) Concave
 - (2) Convex
 - (3) Plane
 - (4) None of the above
- వస్తువు, ప్రతిబింబము దర్పణానికి ఒకే వైపున ఉంటే, ఆ దర్పణము
- (1) పుటాకార
 - (2) కుంభాకార
 - (3) సమతల
 - (4) పై వేవి కావు

89 To find normal to a curved surface at a point, join that point and




- (1) Focus (F)
 - (2) Pole (P)
 - (3) Centre of curvature (C)
 - (4) Any point on principal axis
- షరతలానికి ఒక బిందువు వద్ద లంబము, ఆ బిందువును క్రింద నిచ్చిన బిందువుతో కలపగా ఏర్పడుతుంది.
- (1) నాభి (F)
 - (2) దృక్ కేంద్రము (P)
 - (3) షరతా కేంద్రము (C)
 - (4) ప్రధానాక్షము పై ఏదేని బిందువు

90 When distance between object and screen is more than 4 times the focal length, in how many positions of the convex lens, image is sharp ?

- (1) 1
 - (2) 2
 - (3) 3
 - (4) 4
- వస్తువు, తెరల మధ్య దూరం కుంభాకార కటక నాభ్యాంతరానికి (F) 4 రెట్లకంటే ఎక్కువ ఉన్నట్లయితే, కటకము యొక్క ఎన్ని స్థానాలలో ప్రతిబింబము స్పష్టంగా ఉంటుంది?

SPACE FOR ROUGH WORK / చిత్తు పనికి కేటాయించబడిన స్థలము



SECTION - C : CHEMISTRY (సంఖ్య 3 శాస్త్రము)

H 2 5 4 0 1 He
Li Be B C N O F Ne
Na Mg Al Si P S Cl Ar
K Ca

91 How many s-block and p-block elements are there in the second period of the modern periodic table ?
అదనక ఆపర్చన స్పటికలోని రెండవ పీరియడ్లో ఎన్ని s-బ్లాక్ మరియు p-బ్లాక్ మూలకాలు కలవు?
(1) 2, 8 (2) 8, 2 (3) 2, 6 (4) 4, 8
=> 8

92 In the modern periodic table group 2 (IIA) elements are called as
(1) Alkali metals (2) Alkaline earth metals
(3) Halogens (4) Noble gases
సూతన ఆపర్చన స్పటికలోని గ్రూప్ 2 (IIA) మూలకాలను ఏమని అంటారు?
(1) క్షార లోహాలు (2) క్షారమృత్తిక లోహాలు
(3) హాలోజన్లు (4) జడ వాయువులు

93 Which of the following atomic numbers have similar chemical properties ?
ఈ క్రింది వాటిలో ఏ సంఖ్యా సంఖ్యలు గల మూలకాలు ఒకే రసాయన ధర్మాలు కలిగి ఉండును?
(1) 7, 8, 9 (2) 9, 17, 35 (3) 3, 10, 11 (4) 10, 11, 12
NOF F Cl L Ne Na Ne Mg O₂

94 The valency of Calcium is
కాల్షియం యొక్క సంయోజకత
(1) 1 (2) 2 (3) 3 (4) 4

95 Atomic number of an element is 17 then the period to which this element belongs
ఒక మూలకము యొక్క పరమాణు సంఖ్య 17 అయిన ఆ మూలకం ఏ పీరియడ్కు చెందును?
(1) 1 (2) 2 (3) 3 (4) 4
2 3 4 5 6 7 8 9 10 11 12

96 Which of the following is not an inert gas element ?
ఈ క్రింది వాటిలో జడవాయు మూలకము కానిది ఏది?
(1) He (2) Na (3) Ne (4) Ar

SPACE FOR ROUGH WORK / చిత్తు పనికలి శీటయొందరవలసిన స్థలము

- 97 The product formed when quick lime reacts with water is
 (1) CaSO_4 (2) Ca(OH)_2 (3) CaCO_3 (4) CaCl_2

- 98 Which one of the following is not a product in the electrolysis of aqueous NaCl?
 NaCl జలద్రావణ విద్యుత్ విశ్లేషణ ప్రక్రియలో క్రింది వాటిలో ఏది క్రయాజన్యం కాదు?
 (1) NaOH (2) O_2 (3) Cl_2 (4) H_2

- 99 What does the symbol ' Δ ' represent in a chemical equation?
 (1) Catalyst (2) Precipitate (3) Heating (4) Physical state
 రసాయన సమీకరణంలో ' Δ ' అనే గుర్తు దేనిని సూచిస్తుంది?
 (1) ఉత్ప్రేరకం (2) అవక్షేపం (3) వేడిచేయడం (4) భౌతిక స్థితి

- 100 The chemical reaction in which heat is absorbed is called
 (1) Oxidation reaction (2) Exothermic reaction
 (3) Endothermic reaction (4) Reduction reaction
 రసాయన చర్యలో 'ఉష్ణం' గ్రహించబడితే, ఆ చర్యను ఏమని అంటారు?
 (1) ఆక్సికరణ చర్య (2) ఉష్ణోపచర చర్య
 (3) ఉష్ణగ్రాహక చర్య (4) క్షయకరణ చర్య

- 101 Which of the following has highest mass?
 (1) One molecule H_2O (2) One gram H_2O -
 (3) One ml H_2O (4) One mole H_2O
 క్రింది వాటిలో అత్యధిక ద్రవ్యరాశిని కలిగి ఉందేది?
 (1) ఒక అణువు H_2O (2) ఒక గ్రాము H_2O
 (3) ఒక మిల్లీలీటర్ H_2O (4) ఒక మోల్ H_2O

- 102 When the equation, $\text{Na} + \text{H}_2\text{O} \rightarrow \text{NaOH} + \text{H}_2$ is balanced, what is the coefficient for 'Na' ?
 $\text{Na} + \text{H}_2\text{O} \rightarrow \text{NaOH} + \text{H}_2$ సమీకరణాన్ని తుల్యం చేసినప్పుడు 'Na' యొక్క గుణకం ఎంత?
 (1) 2 (2) 3 (3) 4 (4) 1

SPACE FOR ROUGH WORK / చిత్ర పనికి కేటాయించబడిన స్థలము

- 103 The impurities present in flux are
 (1) Flux (2) CaCO_3
 (3) CaO (4) SiO_2

- 104 The reaction that is not a redox reaction is
 (1) Reduction (2) Neutralisation
 (3) Oxidation (4) Displacement
 క్రింది చర్యల్లో జరిగే వాటిలో ఏది రెడోక్స్ చర్య కాదు?
 (1) క్షయకరణం (2) తటస్థీకరణం
 (3) ఆక్సికరణం (4) స్థానాంతరం

- 105 In electrolytic cell, the anode is
 (1) Anode (2) Cathode
 (3) Electrolyte (4) Electrode
 విద్యుత్ విశ్లేషణ ద్వారా
 (1) ఆనోడ్ (2) కాథోడ్
 (3) విద్యుత్ ద్రావణం (4) విద్యుత్ ధ్రువం

- 106 Potassium and sodium are
 (1) s-block elements (2) d-block elements
 (3) p-block elements (4) f-block elements
 పొటాషియం మరియు సోడియం
 (1) s-బ్లాక్ మూలకాలు (2) d-బ్లాక్ మూలకాలు
 (3) p-బ్లాక్ మూలకాలు (4) f-బ్లాక్ మూలకాలు

- 107 Which of the following is not a silicate?
 (1) SiO_2 (2) SiO
 (3) Si_2O_7 (4) Si_3O_8
 క్రింది వాటిలో ఏది సిలికేట్ కాదు?
 (1) SiO_2 (2) SiO
 (3) Si_2O_7 (4) Si_3O_8

- 108 Which of the following is not a silicate?
 (1) Bauxite (2) SiO_2
 (3) Si_2O_7 (4) Si_3O_8
 క్రింది వాటిలో ఏది సిలికేట్ కాదు?
 (1) బాక్సైట్ (2) SiO_2
 (3) Si_2O_7 (4) Si_3O_8

- 103 The impurities present in the ore is called as
(1) Flux (2) Gangue (3) Slug (4) Mineral
కాకులుతో కలిసిపోయి ఉన్న మిశ్రమాలు ఏమని అంటారు?
(1) ద్రవకారం (2) గంగు (3) లోహమలం (4) ఖనిజం

- 104 The reaction that takes place in Thermite process is
(1) Reduction (2) Oxidation
(3) Neutralisation (4) None of the above
థర్మిట్ పద్ధతిలో జరిగే పద్ధతి
(1) క్షయకరణం (2) ఆక్సీకరణం
(3) తుల్యీకరణం (4) ఏదీ కాదు

- 105 In electrolytic refining of metals, the pure metal is taken as
(1) Anode (2) Cathode (3) Electrolyte (4) Vessel
విద్యుత్ వ్యతిరేకత ద్వారా లోహశుద్ధి ప్రక్రియలో శుద్ధ లోహం దేనిన తీసుకుంటారు?
(1) అనోడ్ (2) కాథోడ్ (3) ఎలక్ట్రోలైట్ (4) పాత్ర

- 106 Potassium and Calcium belongs to
(1) s-block elements (2) p-block elements
(3) d-block elements (4) f-block elements
పొటాషియం మరియు కాల్షియం మూలకాలు ఏ బ్లాక్ కు చెందుతాయి?
(1) s-బ్లాక్ మూలకాలు (2) p-బ్లాక్ మూలకాలు
(3) d-బ్లాక్ మూలకాలు (4) f-బ్లాక్ మూలకాలు

- 107 Which of the following is used as a flux in the smelting of Haematite ?
హెమటైట్ ప్రసారం నందు ద్రవకారంగా ఉపయోగించబడే ఏది?
(1) SiO_2 (2) CaSiO_3 (3) CaCO_3 (4) FeSiO_3

- 108 Which of the following is an ore of Iron ?
(1) Bauxite (2) Haematite (3) Carnallite (4) Pyrolusite
ఈ క్రింది వాటిలో ఇనుప రాకులు ఏది?
(1) బాక్సైట్ (2) హెమటైట్ (3) కార్నలైట్ (4) పైరోల్యుసైట్

SPACE FOR ROUGH WORK / చిత్తు పనిని చేయడానికి ఉద్దేశించబడిన స్థలము

109 Which one of the following is strong acid ?

- (1) CH_3COOH (2) HCl (3) H_2O (4) NH_4OH

110 Which one of the following is an acidic oxide ?

- (1) CO_2 (2) Na_2O (3) CaO (4) MgO

111 Metallic oxides are generally _____ in nature.

- (1) acidic (2) neutral (3) amphoteric (4) basic
లోహ ఆక్సైడ్ లు సాధారణంగా _____ స్వభావాన్ని కలిగి ఉంటాయి.
(1) ఆమ్ల (2) తటస్థ (3) ద్విస్వభావముత (4) క్షార

112 The chemical formula of blue coloured Copper Sulphate crystal is _____.

- (1) $\text{CuSO}_4 \cdot \text{H}_2\text{O}$ (2) $\text{CuSO}_4 \cdot 2\text{H}_2\text{O}$ (3) $\text{CuSO}_4 \cdot 5\text{H}_2\text{O}$ (4) $\text{CuSO}_4 \cdot 10\text{H}_2\text{O}$

113 In an atom, when electron jumps from ground state to excited state

- (1) no change in energy (2) energy is emitted
(3) energy is absorbed (4) depends on atom
పరమాణువులో ఎలక్ట్రాన్ భూస్థాయి నుండి ఉత్తేజిత స్థాయికి మారినట్లైతే
(1) శక్తిలో మార్పు ఉండదు (2) శక్తి ఉద్ధారముగును
(3) శక్తిని గ్రహించును (4) చరమాణువుపై ఆధారపడును

114 The nature of chemical used in antacid is

- (1) Basic (2) Acidic (3) Neutral (4) All the above
యాంటాసిడ్ లో ఉపయోగించే రసాయన పదార్థ స్వభావము
(1) క్షార (2) ఆమ్ల (3) తటస్థ (4) వైచిత్ర్య

115 pH value of aqueous NaCl solution is

- (1) 1.7 (2) 2 (3) 10 (4) 7
NaCl జలద్రావణము యొక్క pH విలువ

SPACE FOR ROUGH WORK / చిత్తు పనికీ కేటాయించబడిన స్థలము

116 The orbital which is '3p' ఆర్బిటల్ ఏదికి కేంద్రము
(1) 4s

117 The quantum number ఆర్బిటల్ కి ప్రాధాన్యత దిగ్విజ్ఞాన
(1) n

118 Which of the follow (1) Gamma rays
(2) X-rays
(3) X-rays
విద్యుదయస్కాంత వర్ణపటం
(1) గామా కిరణాలు
(2) X-కిరణాలు
(3) X-కిరణాలు

119 When n = 4, the total number of orbitals is
n = 4 గా ఉన్నప్పుడు
(1) 1

120 The correct set of quantum numbers for an atom is -
సోడియం పరమాణువు
(1) n=3, l=1, m=0
(2) n=3, l=0, m=0
(3) n=3, l=0, m=1

116 The orbital which is filled with electrons immediately after $3p^1$ is -
 $3p^1$ అర్బిటల్ నిండిన తరువాత ఎలక్ట్రాన్లతో నిండే అర్బిటల్ ఏది?
 (1) 4s (2) $3d$ (3) 4f (4) 4p

117 The quantum number which explains about the spacial orientation of orbitals is
 అర్బిటల్స్ ప్రాచేసిక దిగ్వికాసాన్ని వివరించే క్వాంటం సంఖ్య
 (1) n (2) ℓ (3) m (4) m_s

118 Which of the following has larger wavelength in electromagnetic spectrum?
 (1) Gamma rays (2) UV rays
 (3) X-rays (4) Radiowaves
 ఎక్కువదూరంతో వర్తకులంలో అధిక తరంగదైర్ఘ్యం కలిగివున్నవివి?
 (1) గామా కిరణాలు (2) అతినీలలోహిత కిరణాలు
 (3) X-కిరణాలు (4) రేడియో తరంగాలు

119 When $n = 4$, the total number of subshells in an orbit is
 $n = 4$ గా ఉన్నప్పుడు ఆ కర్వరుంలో ఉండే మొత్తం ఉపకర్వరాల సంఖ్య
 (1) 1 (2) 4 (3) 2 (4) 3

120 The correct set of four quantum number values for the valence electron of sodium atom is -
 సోడియం పరమాణువు యొక్క వేలన్స్ ఎలక్ట్రానుకు ఉండే 4 క్వాంటం సంఖ్యల సెటునులు
 (1) $n=3, \ell=1, m=1, s = -\frac{1}{2}$ (2) $n=3, \ell=0, m=0, s = +\frac{1}{2}$
 (3) $n=3, \ell=0, m=1, s = +\frac{1}{2}$ (4) $n=3, \ell=1, m=0, s = -\frac{1}{2}$

SPACE FOR ROUGH WORK / చిత్తు పనికేటాయింపబడిన స్థలము

1s 2s 2p 3s 3p 4s
 ↑↑↑↑↑↑↑