

National Testing Agency

Question Paper Name: 67 Archaeology 2nd Dec 2019 Shift 1
Subject Name: 67 Archaeology
Creation Date: 2019-12-02 15:47:00
Duration: 180
Total Marks: 300
Display Marks: Yes

67 Archaeology

Group Number : 1
Group Id : 61547523
Group Maximum Duration : 0
Group Minimum Duration : 180
Revisit allowed for view? : No
Revisit allowed for edit? : No
Break time: 0
Group Marks: 300

PART I General Paper

Section Id : 61547547
Section Number : 1
Section type : Online
Mandatory or Optional: Mandatory
Number of Questions: 42
Number of Questions to be attempted: 42
Section Marks: 100
Display Number Panel: Yes
Group All Questions: No

Sub-Section Number: 1
Sub-Section Id: 615475154
Question Shuffling Allowed : Yes

Question Number : 1 Question Id : 6154753436 Question Type : MCQ Option Shuffling : No Display Question Number : Yes
Single Line Question Option : No Option Orientation : Vertical
Correct Marks : 2 Wrong Marks : 0

Which of the following is the key teaching behaviour to make a teacher effective?

- (1) Teachers' comments made for the purpose of organizing upcoming teaching process
- (2) Use of content or process questions by teacher
- (3) Engagement of students in the learning process
- (4) Using students' ideas and contributions

Options :

- 61547513401. 1
- 61547513402. 2
- 61547513403. 3
- 61547513404. 4

Question Number : 1 Question Id : 6154753436 Question Type : MCQ Option Shuffling : No Display Question Number : Yes Single Line Question Option : No Option Orientation : Vertical

Correct Marks : 2 Wrong Marks : 0

एक प्रभावी शिक्षक होने की दृष्टि से निम्नलिखित में से प्रमुख शिक्षण व्यवहार क्या है?

- (1) शिक्षण प्रक्रिया को व्यवस्थित करने के प्रयोजन से शिक्षक द्वारा की गई टिप्पणी
- (2) शिक्षक द्वारा विषयवस्तु या प्रक्रिया आधारित प्रश्न पूछा जाना
- (3) अधिगम प्रक्रिया में छात्रों को संलिप्त किया जाना
- (4) छात्रों के विचार तथा उनके योगदान का उपयोग किया जाना

Options :

- 61547513401. 1
- 61547513402. 2
- 61547513403. 3
- 61547513404. 4

Question Number : 2 Question Id : 6154753437 Question Type : MCQ Option Shuffling : No Display Question Number : Yes Single Line Question Option : No Option Orientation : Vertical

Correct Marks : 2 Wrong Marks : 0

The basic requirements for organizing teaching at reflective level deal with

- (1) Systematic and sequential presentation of facts and information by the teacher
- (2) Helping explore and explain problems and their solutions by students
- (3) Translating and interpreting the facts by the students
- (4) Giving concrete facts and action sequences by the teacher

Options :

- 61547513405. 1
- 61547513406. 2
- 61547513407. 3
- 61547513408. 4

Question Number : 2 Question Id : 6154753437 Question Type : MCQ Option Shuffling : No Display Question Number : Yes Single Line Question Option : No Option Orientation : Vertical

Correct Marks : 2 Wrong Marks : 0

विमर्शी चिंतन स्तर पर शिक्षण के आयोजन हेतु अपेक्षित बुनियादी आवश्यकताएं संबंधित हैं :

- (1) शिक्षक द्वारा तथ्यों तथा सूचना की व्यवस्थित तथा आनुक्रमिक प्रस्तुति से
- (2) समस्याओं तथा उनके समाधान की प्रक्रिया में छात्रों को अन्वेषण और तत्संबंधी व्याख्या में सहायता प्रदान करने से
- (3) छात्रों द्वारा तथ्यों को स्पष्ट किए जाने तथा उसकी व्याख्या किए जाने से
- (4) शिक्षक द्वारा ठोस तथ्यों की प्रस्तुति एवं उसकी कार्योन्मुख अनुक्रम से

Options :

61547513405. 1
61547513406. 2
61547513407. 3
61547513408. 4

**Question Number : 3 Question Id : 6154753438 Question Type : MCQ Option Shuffling : No Display Question Number : Yes
Single Line Question Option : No Option Orientation : Vertical
Correct Marks : 2 Wrong Marks : 0**

Identify the factors affecting teaching related to positive learning environment in an institution :

- (i) The extent to which teachers make clear presentation
- (ii) The scope for sharing and open discussions within the classroom and the institution as such
- (iii) Teacher's mastery of the content as reflected in answering students' questions
- (iv) Frequent use of positive reinforcers either in the institution or classroom
- (v) Availability of teacher and his/her guidance

Choose the correct answer from the options given below :

- (1) (i) and (iii)
- (2) (ii) and (iii)
- (3) (iv) and (v)
- (4) (ii) and (iv)

Options :

61547513409. 1
61547513410. 2
61547513411. 3
61547513412. 4

Correct Marks : 2 Wrong Marks : 0

नीचे दी गयी सूची से उन कारकों की पहचान कीजिए जो किसी संस्था में सकारात्मक अधिगम परिवेश के संबंध में शिक्षण को प्रभावित करते हैं :

- (i) जिस सीमा तक शिक्षक स्पष्ट प्रस्तुति देता हो
- (ii) कक्षा के साथ-साथ संस्था में विचारों को साझा करने एवं खुली चर्चा करने हेतु संभावनाएं
- (iii) छात्रों के प्रश्नों का उत्तर देने के क्रम में प्रदर्शित होनेवाली विषय-सामग्री पर शिक्षक की निपुणता
- (iv) संस्था अथवा कक्षा में सकारात्मक प्रबलन का बार-बार उपयोग किया जाना
- (v) शिक्षक तथा उसके मार्गदर्शन की उपलब्धता

नीचे दिए गए विकल्पों में से सही उत्तर का चयन करें :

- (1) (i) और (iii)
- (2) (ii) और (iii)
- (3) (iv) और (v)
- (4) (ii) और (iv)

Options :

61547513409. 1

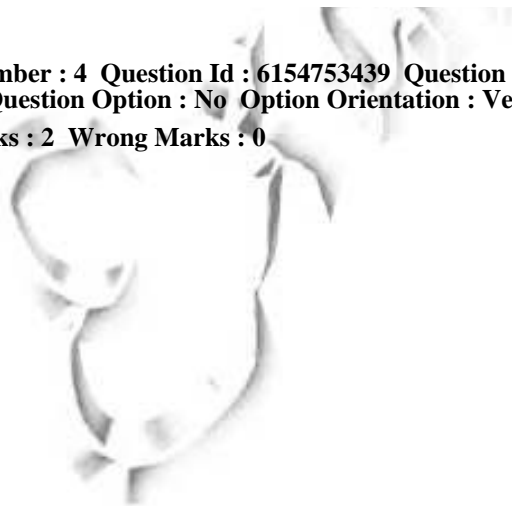
61547513410. 2

61547513411. 3

61547513412. 4

Question Number : 4 Question Id : 6154753439 Question Type : MCQ Option Shuffling : No Display Question Number : Yes
Single Line Question Option : No Option Orientation : Vertical

Correct Marks : 2 Wrong Marks : 0



In the following list, which belong to the category of learner-centred approaches?

- (i) SWAYAM
- (ii) Computer-aided instruction
- (iii) MOOCS
- (iv) Quizzes
- (v) Buzz-sessions

Select the correct answer from the options given below :

- (1) (i) and (iii)
- (2) (ii) and (iii)
- (3) (ii) and (iv)
- (4) (iii) and (v)

Options :

61547513413. 1

61547513414. 2

61547513415. 3

61547513416. 4

Question Number : 4 Question Id : 6154753439 Question Type : MCQ Option Shuffling : No Display Question Number : Yes
Single Line Question Option : No Option Orientation : Vertical

Correct Marks : 2 Wrong Marks : 0

निम्नलिखित सूची में से क्या अधिगकर्ता-केन्द्रित उपाग से संबंधित है?

- (i) स्वयम् (एस डब्ल्यू ए वाई ए एम)
- (ii) कम्प्यूटर सहायित अनुदेशन
- (iii) एम ओ ओ सी एस
- (iv) प्रश्नोत्तरी
- (v) गुंजित सत्र (बज़ सेशन)

नीचे दिए गए विकल्पों में से सही उत्तर का चयन कीजिए :

- (1) (i) और (iii)
- (2) (ii) और (iii)
- (3) (ii) और (iv)
- (4) (iii) और (v)

Options :

61547513413. 1

61547513414. 2

61547513415. 3

61547513416. 4

Question Number : 5 Question Id : 6154753440 Question Type : MCQ Option Shuffling : No Display Question Number : Yes
Single Line Question Option : No Option Orientation : Vertical
Correct Marks : 2 Wrong Marks : 0

In the following two sets, set I mentions the evaluation system while set II gives their descriptive features. Match the two sets

Set I

(Evaluation system)

- (a) Formative evaluation
- (b) Summative evaluation
- (c) Norm-referenced testing
- (d) Criterion-referenced testing

Set II

(Descriptive features)

- (i) Comparing the students' performance with that of others
- (ii) Indicating standards of mastery
- (iii) Diagnosing students' problems
- (iv) Identifying scope for improvement
- (v) Judging learning standards

Choose the correct answer from the options given below :

- (1) (a)-(iv), (b)-(v), (c)-(i), (d)-(ii)
- (2) (a)-(i), (b)-(ii), (c)-(iii), (d)-(iv)
- (3) (a)-(iii), (b)-(iv), (c)-(ii), (d)-(i)
- (4) (a)-(ii), (b)-(iii), (c)-(v), (d)-(iv)

Options :

61547513417. 1

61547513418. 2

61547513419. 3

61547513420. 4

Question Number : 5 Question Id : 6154753440 Question Type : MCQ Option Shuffling : No Display Question Number : Yes
Single Line Question Option : No Option Orientation : Vertical

Correct Marks : 2 Wrong Marks : 0

नीचे दिए गए दोनों सेट में से, सेट-I में मूल्यांकन प्रणाली का उल्लेख है जबकि सेट-II में उनकी वर्णनात्मक विशेषताओं का उल्लेख है। दोनों सेट को सुमेलित कीजिए :

सेट-I

(मूल्यांकन प्रणाली)

- (a) निर्माणात्मक मूल्यांकन
- (b) संकलनात्मक मूल्यांकन
- (c) मानक-संदर्भित परीक्षण
- (d) निष्कर्ष-संदर्भित परीक्षण

सेट-II

(वर्णनात्मक विशेषताएं)

- (i) दूसरों के साथ छात्रों के निष्पादन की तुलना
- (ii) निपुणता के मानकों को बताना
- (iii) छात्रों की समस्या की नैदानिक जांच
- (iv) सुधार की गुंजाइश की पहचान
- (v) अधिगम स्तरों का निर्धारण

नीचे दिए गए विकल्पों में से सही उत्तर का चयन कीजिए :

- (1) (a)-(iv), (b)-(v), (c)-(i), (d)-(ii)
- (2) (a)-(i), (b)-(ii), (c)-(iii), (d)-(iv)
- (3) (a)-(iii), (b)-(iv), (c)-(ii), (d)-(i)
- (4) (a)-(ii), (b)-(iii), (c)-(v), (d)-(iv)

Options :

- 61547513417. 1
- 61547513418. 2
- 61547513419. 3
- 61547513420. 4

Question Number : 6 Question Id : 6154753441 Question Type : MCQ Option Shuffling : No Display Question Number : Yes
Single Line Question Option : No Option Orientation : Vertical

Correct Marks : 2 Wrong Marks : 0

Which of the following sequences correctly reflects scientific investigation?

- (1) Conceptualization, theorizing, deduced consequences, observation and testing
- (2) Testing, observation, conceptualizing, theorizing and deduced consequences
- (3) Theorizing, deducing consequences, testing, observing and conceptualizing
- (4) Observation, conceptualization, theorizing, deduced consequences and method to verify them

Options :

- 61547513421. 1
- 61547513422. 2
- 61547513423. 3
- 61547513424. 4

Question Number : 6 Question Id : 6154753441 Question Type : MCQ Option Shuffling : No Display Question Number : Yes
Single Line Question Option : No Option Orientation : Vertical

Correct Marks : 2 Wrong Marks : 0

निम्नलिखित में से कौन सा अनुक्रम वैज्ञानिक अनुसंधान को सही रूप में दर्शाता है?

- (1) अवधारणा निर्माण, सिद्धांत निर्माण, निगमित निष्कर्ष, प्रेक्षण तथा परीक्षण
- (2) परीक्षण, प्रेक्षण, अवधारणा निर्माण, सिद्धांत निर्माण तथा निगमित निष्कर्ष
- (3) सिद्धांत निर्माण, निगमित निष्कर्ष, परीक्षण, प्रेक्षण तथा अवधारणा निर्माण
- (4) अवलोकन, अवधारणा निर्माण, सिद्धांत निर्माण, निगमित निष्कर्ष तथा इनके सत्यापन की प्रविधि

Options :

61547513421. 1
61547513422. 2
61547513423. 3
61547513424. 4

Question Number : 7 Question Id : 6154753442 Question Type : MCQ Option Shuffling : No Display Question Number : Yes
Single Line Question Option : No Option Orientation : Vertical

Correct Marks : 2 Wrong Marks : 0

In a research problem 'studying the effect of Teaching Methods on the Scholastic Achievement of boys and girls in terms of their socio-economic background', which can be designated as independent variable?

- (1) Scholastic achievement
- (2) Teaching methods
- (3) Gender
- (4) Socio-economic background

Options :

61547513425. 1
61547513426. 2
61547513427. 3
61547513428. 4

Question Number : 7 Question Id : 6154753442 Question Type : MCQ Option Shuffling : No Display Question Number : Yes
Single Line Question Option : No Option Orientation : Vertical

Correct Marks : 2 Wrong Marks : 0

'सामाजिक-आर्थिक पृष्ठभूमि के संदर्भ-में छात्रों तथा छात्राओं की शैक्षिक उपलब्धि पर शिक्षण प्रणाली के प्रभाव का अध्ययन' शोध-समस्या हेतु किसे स्वतंत्र (निराश्रित) चर की संज्ञा दी जा सकती है?

- (1) शैक्षिक उपलब्धि को
- (2) शिक्षण प्रणाली को
- (3) लिंग को
- (4) सामाजिक-आर्थिक पृष्ठभूमि को

Options :

61547513425. 1
61547513426. 2
61547513427. 3
61547513428. 4

Question Number : 8 Question Id : 6154753443 Question Type : MCQ Option Shuffling : No Display Question Number : Yes
Single Line Question Option : No Option Orientation : Vertical

Correct Marks : 2 Wrong Marks : 0

When results obtained in a research study can be extended to a group larger than the sample (outside the context of the study) it is called

- | | |
|-----------------------|-----------------------------|
| (1) Internal validity | (2) Functional relationship |
| (3) External validity | (4) Hypothetical construct |

Options :

61547513429. 1
61547513430. 2
61547513431. 3
61547513432. 4

Question Number : 8 Question Id : 6154753443 Question Type : MCQ Option Shuffling : No Display Question Number : Yes
Single Line Question Option : No Option Orientation : Vertical

Correct Marks : 2 Wrong Marks : 0

जब किसी शोध अध्ययन में प्राप्त परिणामों को प्रतिदर्श से बड़े किसी समूह (अध्ययन के संदर्भ से इतर) तक विस्तार किया जा सके तो यह कहलाती है/कहलाता है :

- | | |
|------------------|---------------------------|
| (1) आंतरिक वैधता | (2) प्रकार्यात्मक संबंध |
| (3) बाह्य वैधता | (4) परिकल्पनात्मक विन्यास |

Options :

61547513429. 1
61547513430. 2
61547513431. 3
61547513432. 4

Question Number : 9 Question Id : 6154753444 Question Type : MCQ Option Shuffling : No Display Question Number : Yes
Single Line Question Option : No Option Orientation : Vertical

Correct Marks : 2 Wrong Marks : 0

In a thesis 'Format and styles of referencing' have been inappropriately followed, this is an example of

- (1) Technical lapse on the part of researcher
- (2) Unethical practice of the researcher
- (3) Inability of the researcher to write a thesis
- (4) Lack of commitment on the part of researcher to write a thesis

Options :

61547513433. 1
61547513434. 2
61547513435. 3
61547513436. 4

Question Number : 9 Question Id : 6154753444 Question Type : MCQ Option Shuffling : No Display Question Number : Yes
Single Line Question Option : No Option Orientation : Vertical

Correct Marks : 2 Wrong Marks : 0

जब किसी शोध में 'संदर्भ के प्रारूप एवं शैलियों' का समुचित तरीके से अनुपालन नहीं हुआ है। यह एक उदाहरण है :

- (1) शोधार्थी की ओर से हुए तकनीकी चूक का
- (2) शोधार्थी के अनेतिक व्यवहार का
- (3) शोध पत्र लिखने में शोधार्थी की अक्षमता का
- (4) शोध पत्र लिखने में शोधार्थी में प्रतिबद्धता के अभाव का

Options :

61547513433. 1
61547513434. 2
61547513435. 3
61547513436. 4

Question Number : 10 Question Id : 6154753445 Question Type : MCQ Option Shuffling : No Display Question Number : Yes Single Line Question Option : No Option Orientation : Vertical

Correct Marks : 2 Wrong Marks : 0

A university department plans to undertake a study wherein attitudes, values and biases of teachers and students are to be probed with an eye on disclosing their patterns of adjustment. Which types of research methods will be considered appropriate in this context?

- (i) Experimental method
- (ii) Case study method
- (iii) Descriptive method
- (iv) Ethnographic method
- (v) Historical method

Select the correct answer from the options given below :

- | | |
|-------------------|--------------------|
| (1) (i) and (ii) | (2) (ii) and (iii) |
| (3) (iii) and (v) | (4) (ii) and (iv) |

Options :

61547513437. 1
61547513438. 2
61547513439. 3
61547513440. 4

Question Number : 10 Question Id : 6154753445 Question Type : MCQ Option Shuffling : No Display Question Number : Yes Single Line Question Option : No Option Orientation : Vertical

Correct Marks : 2 Wrong Marks : 0

किसी विश्वविद्यालय के एक विभाग द्वारा एक ऐसा अध्ययन किए जाने का प्रस्ताव है जहां समायोजन की प्रवृत्ति को जानने की दृष्टि से शिक्षकों तथा छात्रों की अभिवृत्ति, मूल्य तथा उनके पक्षपात के परीक्षण का अध्ययन किया जाना है। इस संदर्भ में शोध की कौन सी पद्धतियाँ उपयुक्त होंगी?

- (i) प्रायोगिक पद्धति
- (ii) व्यक्ति अध्ययन पद्धति (केस स्टडी)
- (iii) वर्णनात्मक पद्धति
- (iv) नृजातीय पद्धति
- (v) ऐतिहासिक पद्धति

नीचे दिए गए विकल्पों में से उत्तर का चयन कीजिए :

- (1) (i) और (ii)
- (2) (ii) और (iii)
- (3) (iii) और (v)
- (4) (ii) और (iv)

Options :

- 61547513437. 1
- 61547513438. 2
- 61547513439. 3
- 61547513440. 4

Question Number : 11 Question Id : 6154753446 Question Type : MCQ Option Shuffling : No Display Question Number : Yes
Single Line Question Option : No Option Orientation : Vertical
Correct Marks : 2 Wrong Marks : 0

Dynamics of good classroom communication involves :

- (a) Indifference
- (b) Motivation
- (c) Being organised
- (d) Exclusivity
- (e) Participation
- (f) Gendered views

Choose the correct option from the following :

- (1) (a), (b) and (c)
- (2) (b), (c) and (d)
- (3) (b), (c) and (e)
- (4) (c), (e) and (f)

Options :

- 61547513441. 1
- 61547513442. 2
- 61547513443. 3
- 61547513444. 4

Question Number : 11 Question Id : 6154753446 Question Type : MCQ Option Shuffling : No Display Question Number : Yes
Single Line Question Option : No Option Orientation : Vertical
Correct Marks : 2 Wrong Marks : 0

कक्षा में अच्छे सम्प्रेषण की गत्यात्मकता में सम्मिलित हैं :

- (a) उदासीनता
- (b) अभिप्रेरणा
- (c) संगठित होना (बीइंग ओर्गेनाइज्ड)
- (d) एकांतिकता (एक्सक्लुसिविटी)
- (e) भागीदारी
- (f) लैंगिक दृष्टिकोण

निम्नलिखित में से सही विकल्प चुनिए :

- (1) (a), (b) और (c)
- (2) (b), (c) और (d)
- (3) (b), (c) और (e)
- (4) (c), (e) और (f)

Options :

61547513441. 1

61547513442. 2

61547513443. 3

61547513444. 4

Question Number : 12 Question Id : 6154753447 Question Type : MCQ Option Shuffling : No Display Question Number : Yes
Single Line Question Option : No Option Orientation : Vertical

Correct Marks : 2 Wrong Marks : 0

Instructional communication in the distance education mode is

- (1) unstructured
- (2) self-regulatory
- (3) informal
- (4) structured and interactive

Options :

61547513445. 1

61547513446. 2

61547513447. 3

61547513448. 4

Question Number : 12 Question Id : 6154753447 Question Type : MCQ Option Shuffling : No Display Question Number : Yes
Single Line Question Option : No Option Orientation : Vertical

Correct Marks : 2 Wrong Marks : 0

दूरवर्ती शिक्षा प्रकारता में अनुदेशात्मक सम्प्रेषण होता है :

- (1) असंरचित
- (2) स्व-विनियामक
- (3) अनौपचारिक
- (4) संरचित और आवृत्यात्मक

Options :

61547513445. 1

61547513446. 2
61547513447. 3
61547513448. 4

Question Number : 13 Question Id : 6154753448 Question Type : MCQ Option Shuffling : No Display Question Number : Yes
Single Line Question Option : No Option Orientation : Vertical
Correct Marks : 2 Wrong Marks : 0

A teacher tells his students – 'When you learn this, you will be able to carry out your project'.
What does this communication suggest?

- (1) Continued interest (2) Ambiguous advice
(3) Potential threat (4) Positive reinforcement

Options :

61547513449. 1
61547513450. 2
61547513451. 3
61547513452. 4

Question Number : 13 Question Id : 6154753448 Question Type : MCQ Option Shuffling : No Display Question Number : Yes
Single Line Question Option : No Option Orientation : Vertical
Correct Marks : 2 Wrong Marks : 0

एक शिक्षक अपने छात्रों से कहता है – "जब आप यह सीख लेते हैं तो आप अपनी परियोजना को करने में सक्षम होंगे।" यह सम्प्रेषण किसका संकेत करता है?

- (1) रूचि-निरन्तरता (2) अस्पष्ट सलाह
(3) संभाव्य संकट (4) सकारात्मक प्रबलन

Options :

61547513449. 1
61547513450. 2
61547513451. 3
61547513452. 4

Question Number : 14 Question Id : 6154753449 Question Type : MCQ Option Shuffling : No Display Question Number : Yes
Single Line Question Option : No Option Orientation : Vertical
Correct Marks : 2 Wrong Marks : 0

The principles of effective writing useful for both students and teachers are

- (a) Stress on hyperboles
(b) Liberal use of adjectives
(c) Clarity
(d) Conciseness
(e) Correctness
(f) Use of complex sentences

Choose the correct option from the following :

- (1) (a), (b) and (c) (2) (b), (c) and (d)
(3) (c), (d) and (e) (4) (d), (e) and (f)

Options :

- 61547513453. 1
- 61547513454. 2
- 61547513455. 3
- 61547513456. 4

Question Number : 14 Question Id : 6154753449 Question Type : MCQ Option Shuffling : No Display Question Number : Yes
Single Line Question Option : No Option Orientation : Vertical

Correct Marks : 2 Wrong Marks : 0

छात्रों और शिक्षकों दोनों के लिए उपयोगी प्रभावी लेखन के सिद्धांत हैं :

- (a) अतिशयोक्तियों पर बल
- (b) विशेषणों का उदारतापरक उपयोग
- (c) स्पष्टता
- (d) संक्षिप्तता
- (e) परिशुद्धता
- (f) जटिल वाक्यों का उपयोग

निम्नलिखित में से सही विकल्प चुनिए :

- (1) (a), (b) और (c)
- (2) (b), (c) और (d)
- (3) (c), (d) और (e)
- (4) (d), (e) और (f)

Options :

- 61547513453. 1
- 61547513454. 2
- 61547513455. 3
- 61547513456. 4

Question Number : 15 Question Id : 6154753450 Question Type : MCQ Option Shuffling : No Display Question Number : Yes
Single Line Question Option : No Option Orientation : Vertical

Correct Marks : 2 Wrong Marks : 0

Given below are two statements – One is labelled as Assertion (A) and the other is labelled as Reason (R) :

Assertion (A) : Communication does not include all human behaviour for exchange of information

Reasons (R) : Communication involves the use of all five senses

Choose the correct option from the following :

- (1) Both (A) and (R) are true and (R) is the correct explanation of (A)
- (2) Both (A) and (R) are true but (R) is not the correct explanation of (A)
- (3) (A) is true, but (R) is false
- (4) (A) is false, but (R) is true

Options : Examrace

www.examrace.com

61547513457. 1
61547513458. 2
61547513459. 3
61547513460. 4

Question Number : 15 Question Id : 6154753450 Question Type : MCQ Option Shuffling : No Display Question Number : Yes
Single Line Question Option : No Option Orientation : Vertical

Correct Marks : 2 Wrong Marks : 0

नीचे दो कथन दिए गए हैं, जिनमें से एक को अभिकथन (A) और दूसरे को तर्क (R) कहा गया है :

- अभिकथन (A) : सम्प्रेषण सूचना के आदान-प्रदान के लिए सभी मानव व्यवहार को सम्मिलित नहीं करता है।
तर्क (R) : सम्प्रेषण में सभी पांच ज्ञानेंद्रियों का उपयोग सम्मिलित है।

निम्नलिखित में से सही विकल्प चुनिए :

- (1) (A) और (R) दोनों सही हैं तथा (R), (A) की सही व्याख्या है।
(2) (A) और (R) दोनों सही हैं लेकिन (R), (A) की सही व्याख्या नहीं है।
(3) (A) सही है, लेकिन (R) गलत है।
(4) (A) गलत है, लेकिन (R) सही है।

Options :

61547513457. 1
61547513458. 2
61547513459. 3
61547513460. 4

Question Number : 16 Question Id : 6154753451 Question Type : MCQ Option Shuffling : No Display Question Number : Yes
Single Line Question Option : No Option Orientation : Vertical

Correct Marks : 2 Wrong Marks : 0

Two numbers are in the ratio 3:7. If 8 is added to both the numbers, their ratio becomes 5:9.
The numbers are

- (1) 12, 28 (2) 6, 14
(3) 15, 35 (4) 24, 56

Options :

61547513461. 1
61547513462. 2
61547513463. 3
61547513464. 4

Question Number : 16 Question Id : 6154753451 Question Type : MCQ Option Shuffling : No Display Question Number : Yes
Single Line Question Option : No Option Orientation : Vertical

Correct Marks : 2 Wrong Marks : 0

दो संख्याएं 3 : 7 के अनुपात में हैं। यदि इन दोनों संख्याओं में 8 जोड़ दिया जाता है तो उनका अनुपात 5 : 9 हो जाता है। ये संख्याएं हैं :

- (1) 12, 28
(3) 15, 35

- (2) 6, 14
(4) 24, 56

Options :

61547513461. 1
61547513462. 2
61547513463. 3
61547513464. 4

Question Number : 17 Question Id : 6154753452 Question Type : MCQ Option Shuffling : No Display Question Number : Yes
Single Line Question Option : No Option Orientation : Vertical

Correct Marks : 2 Wrong Marks : 0



The number X in the following series :

3, 8, 18, 38, X , ... is

- (1) 78
(3) 76

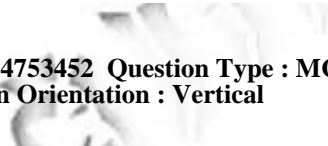
- (2) 80
(4) 74

Options :

61547513465. 1
61547513466. 2
61547513467. 3
61547513468. 4

Question Number : 17 Question Id : 6154753452 Question Type : MCQ Option Shuffling : No Display Question Number : Yes
Single Line Question Option : No Option Orientation : Vertical

Correct Marks : 2 Wrong Marks : 0



निम्नलिखित अनुक्रम में X है -

3, 8, 18, 38, X , ...

- (1) 78
(3) 76

- (2) 80
(4) 74

Options :

61547513465. 1
61547513466. 2
61547513467. 3
61547513468. 4

Question Number : 18 Question Id : 6154753453 Question Type : MCQ Option Shuffling : No Display Question Number : Yes
Single Line Question Option : No Option Orientation : Vertical

Correct Marks : 2 Wrong Marks : 0

If 'SOLUTION' is 'R5KTSH5M' then 'CROME' will be written as

- (1) BQ5HL (2) B5QLH
(3) BQ5LD (4) BS5LH

Options :

61547513469. 1
61547513470. 2
61547513471. 3
61547513472. 4

Question Number : 18 Question Id : 6154753453 Question Type : MCQ Option Shuffling : No Display Question Number : Yes
Single Line Question Option : No Option Orientation : Vertical

Correct Marks : 2 Wrong Marks : 0

यदि 'SOLUTION' के लिए 'R5KTSH5M' है तो 'CROME' को निम्नलिखित में से किस रूप में लिखा जाएगा ?

- (1) BQ5HL (2) B5QLH
(3) BQ5LD (4) BS5LH

Options :

61547513469. 1
61547513470. 2
61547513471. 3
61547513472. 4

Question Number : 19 Question Id : 6154753454 Question Type : MCQ Option Shuffling : No Display Question Number : Yes
Single Line Question Option : No Option Orientation : Vertical

Correct Marks : 2 Wrong Marks : 0

If 'a' is inversely proportional to 'b' and 'b' is inversely proportional to 'c', then

- (1) 'a' is inversely proportional to 'c' (2) 'a' is directly proportional to 'c'
(3) 'a' is constant (4) 'a' is directly proportional to 'bc'

Options :

61547513473. 1
61547513474. 2
61547513475. 3
61547513476. 4

Question Number : 19 Question Id : 6154753454 Question Type : MCQ Option Shuffling : No Display Question Number : Yes
Single Line Question Option : No Option Orientation : Vertical

Correct Marks : 2 Wrong Marks : 0

यदि 'a', 'b' का व्युत्क्रमानुपाती है और 'b', 'c' का व्युत्क्रमानुपाती है, तो

- (1) 'a', 'c' का व्युत्क्रमानुपाती है (2) 'a', 'c' का अनुलोमानुपाती है
(3) 'a' स्थिर है (4) 'a', 'bc' का अनुलोमानुपाती है

Options :

Examrace

www.examrace.com

61547513473. 1
61547513474. 2
61547513475. 3
61547513476. 4

Question Number : 20 Question Id : 6154753455 Question Type : MCQ Option Shuffling : No Display Question Number : Yes
Single Line Question Option : No Option Orientation : Vertical

Correct Marks : 2 Wrong Marks : 0

A sum of Rs. 2,000 yields Rs. 180 with simple interest in nine (9) months. The annual rate of interest is

- (1) 9% (2) 10%
(3) 11% (4) 12%

Options :

61547513477. 1
61547513478. 2
61547513479. 3
61547513480. 4

Question Number : 20 Question Id : 6154753455 Question Type : MCQ Option Shuffling : No Display Question Number : Yes
Single Line Question Option : No Option Orientation : Vertical

Correct Marks : 2 Wrong Marks : 0

₹2000 स्वयं की धनराशि पर 9 महीने में ₹180 का साधारण व्याज प्राप्त होता है। व्याज की वार्षिक दर है -

- (1) 9% (2) 10%
(3) 11% (4) 12%

Options :

61547513477. 1
61547513478. 2
61547513479. 3
61547513480. 4

Question Number : 21 Question Id : 6154753456 Question Type : MCQ Option Shuffling : No Display Question Number : Yes
Single Line Question Option : No Option Orientation : Vertical

Correct Marks : 2 Wrong Marks : 0

A fallacy in which an opponent's position is depicted as being more extreme or unreasonable than is justified by what was actually asserted is called

- (1) Argumentum ad Baculum (2) The Red Herring
(3) Argumentum ad Hominem (4) Straw Man

Options :

61547513481. 1
61547513482. 2
61547513483. 3
61547513484. 4

Question Number : 21 Question Id : 6154753456 Question Type : MCQ Option Shuffling : No Display Question Number : Yes
Single Line Question Option : No Option Orientation : Vertical

Correct Marks : 2 Wrong Marks : 0

ऐसे हेतुभास जिसमें प्रतिवादी की स्थिति को वास्तव में युक्तिसंगत से अधिक अतिशय या अयुक्तिसंगत के रूप में दर्शाया गया हो तो उसे क्या कहा जाता है?

- | | |
|---------------------------------|------------------|
| (1) आर्ग्युमेन्टम एड ब्रेक्यूलम | (2) द रेड हेरिंग |
| (3) आर्ग्युमेन्टम एड हॉमिनेम | (4) स्ट्रॉ मैन |

Options :

61547513481. 1
61547513482. 2
61547513483. 3
61547513484. 4

Question Number : 22 Question Id : 6154753457 Question Type : MCQ Option Shuffling : No Display Question Number : Yes
Single Line Question Option : No Option Orientation : Vertical

Correct Marks : 2 Wrong Marks : 0

The distinction between Savikalpaka (determinate) and Nirvikalpaka (indeterminate) is made with respect to which of the following pramānas?

- | | |
|------------------------------|----------------------------|
| (1) Anumāna (inference) | (2) Pratyaksa (perception) |
| (3) Arthāpatti (postulation) | (4) Upamāna (comparison) |

Options :

61547513485. 1
61547513486. 2
61547513487. 3
61547513488. 4

Question Number : 22 Question Id : 6154753457 Question Type : MCQ Option Shuffling : No Display Question Number : Yes
Single Line Question Option : No Option Orientation : Vertical

Correct Marks : 2 Wrong Marks : 0

निम्नलिखित में से किस प्रमाण के संबंध में सविकल्पक और निर्विकल्पक के बीच अंतर किया जाता है?

- | | |
|----------------|---------------|
| (1) अनुमान | (2) प्रत्यक्ष |
| (3) अर्थापत्ति | (4) उपमान |

Options :

61547513485. 1
61547513486. 2
61547513487. 3
61547513488. 4

Question Number : 23 Question Id : 6154753458 Question Type : MCQ Option Shuffling : No Display Question Number : Yes
Single Line Question Option : No Option Orientation : Vertical

Correct Marks : 2 Wrong Marks : 0

The term 'Paksa' according to classical Indian school of logic refers to which of the following terms in the process of inference?

- (1) Major term (2) Undefined term
(3) Minor term (4) Middle term

Options :

61547513489. 1
61547513490. 2
61547513491. 3
61547513492. 4

Question Number : 23 Question Id : 6154753458 Question Type : MCQ Option Shuffling : No Display Question Number : Yes
Single Line Question Option : No Option Orientation : Vertical

Correct Marks : 2 Wrong Marks : 0

शास्त्रीय भारतीय तर्कशास्त्र सम्प्रदाय के अनुसार 'पक्ष' अनुमान की प्रक्रिया में निम्नलिखित में से किस पद से संबंधित है?

- (1) वृहत् पद (2) अपरिभाषित पद
(3) लघु पद (4) मध्य पद

Options :

61547513489. 1
61547513490. 2
61547513491. 3
61547513492. 4

Question Number : 24 Question Id : 6154753459 Question Type : MCQ Option Shuffling : No Display Question Number : Yes
Single Line Question Option : No Option Orientation : Vertical

Correct Marks : 2 Wrong Marks : 0

Which of the following refers to an attribute of every categorical proposition which is determined by whether the proposition affirms or denies class inclusion?

- (1) Quality (2) Quantity
(3) Distribution (4) Comparison

Options :

61547513493. 1
61547513494. 2
61547513495. 3
61547513496. 4

Question Number : 24 Question Id : 6154753459 Question Type : MCQ Option Shuffling : No Display Question Number : Yes
Single Line Question Option : No Option Orientation : Vertical

Correct Marks : 2 Wrong Marks : 0

निम्नलिखित में से कौन-सा विकल्प प्रत्येक विधेयात्मक तर्कवाक्य की विशेषता से संबंधित है जो इस बात से निर्धारित होता है कि तर्कवाक्य वर्ग समावेशन को स्वीकार करता है अथवा अस्वीकार करता है?

- (1) गुण (2) परिमाण
(3) वितरण (4) तुलना

Options :

- 61547513493. 1
- 61547513494. 2
- 61547513495. 3
- 61547513496. 4

Question Number : 25 Question Id : 6154753460 Question Type : MCQ Option Shuffling : No Display Question Number : Yes
Single Line Question Option : No Option Orientation : Vertical

Correct Marks : 2 Wrong Marks : 0

The product of any three consecutive integers is divisible by 6. Therefore, $3 \times 4 \times 5 (=60)$, is divisible by 6? Which type of reasoning is embodied here?

- (1) Deductive Reasoning
- (2) Inductive Reasoning
- (3) Non-verbal Reasoning
- (4) Abductive Reasoning

Options :

- 61547513497. 1
- 61547513498. 2
- 61547513499. 3
- 61547513500. 4

Question Number : 25 Question Id : 6154753460 Question Type : MCQ Option Shuffling : No Display Question Number : Yes
Single Line Question Option : No Option Orientation : Vertical

Correct Marks : 2 Wrong Marks : 0

किसी तीन लगातार पूर्ण संख्याओं का गुणनफल 6 द्वारा भाज्य है। अतः $3 \times 4 \times 5 (=60)$, 6 द्वारा भाज्य है। इसमें किस प्रकार का तर्क निहित है?

- (1) निगमनात्मक तर्क
- (2) आगमनात्मक तर्क
- (3) अवाचिक तर्क
- (4) अपगमनात्मक तर्क

Options :

- 61547513497. 1
- 61547513498. 2
- 61547513499. 3
- 61547513500. 4

Sub-Section Number: 2
Sub-Section Id: 615475155
Question Shuffling Allowed : Yes

Question Id : 6154753461 Question Type : COMPREHENSION Sub Question Shuffling Allowed : Yes Group Comprehension
Questions : No

Question Numbers : (26 to 30)

Question Label : Comprehension

Directions Q. 26-30 : The following table gives the percentage (%) of people having knowledge of different programming languages. Assuming that the total number of people having knowledge about programming language is 12,00,000, answer the questions that follow the table :

Programming Language	% of People having knowledge
C++	15%
C	25%
COBOL	12%
FORTRAN	13%
Java	15%
LISP	10%
Python	10%

Sub questions

Question Number : 26 Question Id : 6154753462 Question Type : MCQ Option Shuffling : No Display Question Number : Yes
Single Line Question Option : No Option Orientation : Vertical

Correct Marks : 2 Wrong Marks : 0

The ratio of the number of people having knowledge about C to that of knowledge about Java is

- (1) 3 : 5 (2) 5 : 3
(3) 1 : 1 (4) 5 : 2

Options :

61547513501. 1
61547513502. 2
61547513503. 3
61547513504. 4

Question Number : 27 Question Id : 6154753463 Question Type : MCQ Option Shuffling : No Display Question Number : Yes
Single Line Question Option : No Option Orientation : Vertical

Correct Marks : 2 Wrong Marks : 0

How many people have knowledge about C language?

- (1) 1,80,000 (2) 3,00,000
(3) 1,56,000 (4) 1,44,000

Options :

61547513505. 1
61547513506. 2
61547513507. 3
61547513508. 4

Question Number : 28 Question Id : 6154753464 Question Type : MCQ Option Shuffling : No Display Question Number : Yes
Single Line Question Option : No Option Orientation : Vertical

Correct Marks : 2 Wrong Marks : 0

The total number of people having knowledge about C, Java and COBOL is

- (1) 4,80,000 (2) 5,04,000
(3) 5,16,000 (4) 6,24,000

Options :

61547513509. 1
61547513510. 2
61547513511. 3
61547513512. 4

Question Number : 29 Question Id : 6154753465 Question Type : MCQ Option Shuffling : No Display Question Number : Yes
Single Line Question Option : No Option Orientation : Vertical

Correct Marks : 2 Wrong Marks : 0

What is the average percentage (%) of people having knowledge of programming language – Python, LISP and Java?

- (1) 1.04% (2) 11.7%
(3) 26.6% (4) 11.0%

Options :

61547513513. 1
61547513514. 2
61547513515. 3
61547513516. 4

Question Number : 30 Question Id : 6154753466 Question Type : MCQ Option Shuffling : No Display Question Number : Yes
Single Line Question Option : No Option Orientation : Vertical

Correct Marks : 2 Wrong Marks : 0

Difference in the number of people having knowledge of C and COBOL programming languages is

- (1) 1,20,000 (2) 1,80,000
(3) 1,44,000 (4) 1,56,000

Options :

61547513517. 1
61547513518. 2
61547513519. 3
61547513520. 4

Question Id : 6154753461 Question Type : COMPREHENSION Sub Question Shuffling Allowed : Yes Group Comprehension Questions : No

Question Numbers : (26 to 30)

Question Label : Comprehension

निर्देश (प्रश्न: 26 से 30) : निम्नलिखित तालिका में विभिन्न प्रोग्रामिंग लैंग्वेज जानने वाले व्यक्तियों की प्रतिशतता दी गयी है। यदि मान क्रिया जाए कि प्रोग्रामिंग लैंग्वेज जानने वाले व्यक्तियों की कुल संख्या 12,00,000 हैं, तो तालिका पर आधारित निम्नलिखित प्रश्नों का उत्तर दीजिए :

प्रोग्रामिंग लैंग्वेज	तत्सम्बन्धी जानकारी रखने वाले व्यक्तियों की प्रतिशतता
C++	15%
C	25%
कोबोल	12%
फोर्ट्रान	13%
जावा	15%
एल आई एस पी	10%
पाइथॉन	10%

Sub questions

Question Number : 26 Question Id : 6154753462 Question Type : MCQ Option Shuffling : No Display Question Number : Yes Single Line Question Option : No Option Orientation : Vertical

Correct Marks : 2 Wrong Marks : 0

C लैंग्वेज जानने वाले व्यक्तियों की संख्या और जावा जानने वाले व्यक्तियों की संख्या का अनुपात है :

- (1) 3 : 5 (2) 5 : 3
(3) 1 : 1 (4) 5 : 2

Options :

61547513501. 1
61547513502. 2
61547513503. 3
61547513504. 4

Question Number : 27 Question Id : 6154753463 Question Type : MCQ Option Shuffling : No Display Question Number : Yes Single Line Question Option : No Option Orientation : Vertical

Correct Marks : 2 Wrong Marks : 0

कितने व्यक्तियों के C लैंग्वेज की जानकारी है ?

- (1) 1,80,000 (2) 3,00,000
(3) 1,56,000 (4) 1,44,000

Options :

61547513505. 1
61547513506. 2
61547513507. 3
61547513508. 4

Question Number : 28 Question Id : 6154753464 Question Type : MCQ Option Shuffling : No Display Question Number : Yes Single Line Question Option : No Option Orientation : Vertical

Correct Marks : 2 Wrong Marks : 0

C. जावा और कोबोल लैंग्वेज जानने वाले व्यक्तियों की कुल संख्या है :

- (1) 4,80,000 (2) 5,04,000
(3) 5,16,000 (4) 6,24,000

Options :

61547513509. 1
61547513510. 2
61547513511. 3
61547513512. 4

Question Number : 29 Question Id : 6154753465 Question Type : MCQ Option Shuffling : No Display Question Number : Yes
Single Line Question Option : No Option Orientation : Vertical

Correct Marks : 2 Wrong Marks : 0

पाइथॉन, एल आई एस पी और जावा प्रोग्रामिंग लैंग्वेज की जानकारी रखने वाले लोगों की औसत प्रतिशतता कितनी है?

- (1) 1.04% (2) 11.7%
(3) 26.6% (4) 11.0%

Options :

61547513513. 1
61547513514. 2
61547513515. 3
61547513516. 4

Question Number : 30 Question Id : 6154753466 Question Type : MCQ Option Shuffling : No Display Question Number : Yes
Single Line Question Option : No Option Orientation : Vertical

Correct Marks : 2 Wrong Marks : 0

'C' और 'कोबोल' प्रोग्रामिंग लैंग्वेज जानने वाले लोगों की संख्या का अंतर है :

- (1) 1,20,000 (2) 1,80,000
(3) 1,44,000 (4) 1,56,000

Options :

61547513517. 1
61547513518. 2
61547513519. 3
61547513520. 4

Sub-Section Number: 3
Sub-Section Id: 615475156
Question Shuffling Allowed : Yes

Question Number : 31 Question Id : 6154753467 Question Type : MCQ Option Shuffling : No Display Question Number : Yes
Single Line Question Option : No Option Orientation : Vertical

Correct Marks : 2 Wrong Marks : 0

Consider the following storage devices :

- (a) Hard disc
- (b) CD-ROM
- (c) DVD-ROM

Arrange these in ascending order of storage capacity and select the correct option :

- (1) (b), (c), (a)
- (2) (b), (a), (c)
- (3) (c), (b), (a)
- (4) (a), (c), (b)

Options :

- 61547513521. 1
- 61547513522. 2
- 61547513523. 3
- 61547513524. 4

Question Number : 31 Question Id : 6154753467 Question Type : MCQ Option Shuffling : No Display Question Number : Yes
Single Line Question Option : No Option Orientation : Vertical

Correct Marks : 2 Wrong Marks : 0

निम्नलिखित संग्रहण डिवाइसों पर विचार कीजिए :

- (a) हार्ड डिस्क
- (b) सी डी रॉम
- (c) डी वी डी रॉम

इन्हें संग्रहण क्षमता के आरोही क्रम में व्यवस्थित कीजिए और सही विकल्प चुनिए :

- (1) (b), (c), (a)
- (2) (b), (a), (c)
- (3) (c), (b), (a)
- (4) (a), (c), (b)

Options :

- 61547513521. 1
- 61547513522. 2
- 61547513523. 3
- 61547513524. 4

Question Number : 32 Question Id : 6154753468 Question Type : MCQ Option Shuffling : No Display Question Number : Yes
Single Line Question Option : No Option Orientation : Vertical

Correct Marks : 2 Wrong Marks : 0

Which of the following is a 'Decision Support System' for assisting people in taking best decisions for their children's future?

- (1) E-Pathshala
- (2) Saransh
- (3) Shaala Sidhdhi
- (4) SWAYAM PRABHA

Options :

61547513525. 1
61547513526. 2
61547513527. 3
61547513528. 4

Question Number : 32 Question Id : 6154753468 Question Type : MCQ Option Shuffling : No Display Question Number : Yes
Single Line Question Option : No Option Orientation : Vertical

Correct Marks : 2 Wrong Marks : 0

निम्नलिखित में से कौन सा लोगों द्वारा अपने बच्चों के भविष्य के लिए सर्वश्रेष्ठ निर्णय लेने में सहायता करने वाली 'निर्णय समर्थन तंत्र' है?

- (1) ई-पाठशाला
- (2) सारांश
- (3) शाला सिद्धि
- (4) स्वयमप्रभा

Options :

61547513525. 1
61547513526. 2
61547513527. 3
61547513528. 4

Question Number : 33 Question Id : 6154753469 Question Type : MCQ Option Shuffling : No Display Question Number : Yes
Single Line Question Option : No Option Orientation : Vertical

Correct Marks : 2 Wrong Marks : 0

Which of the following is NOT suitable in the context of E-mail?

- (1) It is a letter sent over a computer network
- (2) It can be used to send unsolicited messages
- (3) E-mail is snail-mail
- (4) E-mail address includes domain name

Options :

61547513525. 1

61547513530. 2
61547513531. 3
61547513532. 4

Question Number : 33 Question Id : 6154753469 Question Type : MCQ Option Shuffling : No Display Question Number : Yes
Single Line Question Option : No Option Orientation : Vertical
Correct Marks : 2 Wrong Marks : 0

निम्नलिखित में से कौन सा ई-मेल के संदर्भ में अनुपयुक्त है?

- (1) यह कंप्यूटर नेटवर्क पर भेजा गया एक पत्र है
- (2) यह अयाचित संदेशों को भेजने में प्रयुक्त हो सकता है
- (3) ई-मेल मंथर गति वाली मेल है
- (4) ई-मेल पते में डोमेन नाम शामिल होता है

Options :

61547513529. 1
61547513530. 2
61547513531. 3
61547513532. 4

Question Number : 34 Question Id : 6154753470 Question Type : MCQ Option Shuffling : No Display Question Number : Yes
Single Line Question Option : No Option Orientation : Vertical
Correct Marks : 2 Wrong Marks : 0

Match List I with List II :

List I
(E-initiatives)

- (a) Vidwan
- (b) Digilocker
- (c) Sakshat
- (d) Shodh Ganga

List II
(Descriptions)

- (i) Repository for full-text thesis, e-books and journals
- (ii) Education portal to facilitate learning
- (iii) Database of leading scientists/researchers
- (iv) Platform for issuance and verification of documents and certificates

Choose the correct answer from the options given below :

- (1) (a)-(i), (b)-(iii), (c)-(iv), (d)-(ii)
- (2) (a)-(iii), (b)-(iv), (c)-(ii), (d)-(i)
- (3) (a)-(iv), (b)-(ii), (c)-(i), (d)-(iii)
- (4) (a)-(ii), (b)-(i), (c)-(iii), (d)-(iv)

Options :

61547513533. 1

61547513534. 2

61547513535. 3

61547513536. 4

Question Number : 34 Question Id : 6154753470 Question Type : MCQ Option Shuffling : No Display Question Number : Yes
Single Line Question Option : No Option Orientation : Vertical

Correct Marks : 2 Wrong Marks : 0

सूची-I को सूची-II के साथ सुमेलित कीजिए :

सूची-I

(ई-अभिक्रम)

- (a) विद्वान
- (b) डिजीलॉकर
- (c) साक्षात
- (d) शोध गंगा

सूची-II

(विवरण)

- (i) संपूर्ण मूल शोध प्रबंध, ई-बुकस और जर्नल्स का भंडार
- (ii) अधिगम को सुसाध्य बनाने के लिए शैक्षिक पोर्टल
- (iii) शीर्ष वैज्ञानिकों/शोधार्थियों का डाटाबेस
- (iv) दस्तावेजों एवं प्रमाणकों के जारी करने तथा सत्यापन के लिए प्लेटफार्म

नीचे दिए गए विकल्पों में से सही उत्तर चुनिये :

- (1) (a)-(i), (b)-(iii), (c)-(iv), (d)-(ii)
- (2) (a)-(iii), (b)-(iv), (c)-(ii), (d)-(i)
- (3) (a)-(iv), (b)-(ii), (c)-(i), (d)-(iii)
- (4) (a)-(ii), (b)-(i), (c)-(iii), (d)-(iv)

Options :

61547513533. 1

61547513534. 2

61547513535. 3

61547513536. 4

Question Number : 35 Question Id : 6154753471 Question Type : MCQ Option Shuffling : No Display Question Number : Yes
Single Line Question Option : No Option Orientation : Vertical

Correct Marks : 2 Wrong Marks : 0

In computer related activities, what is the full form of 'WORM'?

- (1) Write On Random Memory
- (2) Write On Real Memory
- (3) Write Once Read Many
- (4) Write Once Read Memory

Options :

61547513537. 1

Examrace

www.examrace.com

61547513538. 2

61547513539. 3

61547513540. 4

Question Number : 35 Question Id : 6154753471 Question Type : MCQ Option Shuffling : No Display Question Number : Yes
Single Line Question Option : No Option Orientation : Vertical

Correct Marks : 2 Wrong Marks : 0

कम्प्यूटर संबंधित कार्यकलाप में 'डब्ल्यू ओ आर एम' का पूर्ण रूप है?

- (1) राइट ऑन रैन्डम मेमोरी
- (2) राइट ऑन रीयल मेमोरी
- (3) राइट वन्स रीड मेनी
- (4) राइट वन्स रीड मेमोरी

Options :

61547513537. 1

61547513538. 2

61547513539. 3

61547513540. 4

Question Number : 36 Question Id : 6154753472 Question Type : MCQ Option Shuffling : No Display Question Number : Yes
Single Line Question Option : No Option Orientation : Vertical

Correct Marks : 2 Wrong Marks : 0

The Government of India has set up the Ministry of Jal Shakti by merging/renaming which of the following :

- (1) Ministry of Water Resources and Ministry of Earth Sciences
- (2) Ministry of Water Resources; Ministry of River Development and Ganga Rejuvenation; and Ministry of Rural Development
- (3) Ministry of Water Resources; Ministry of River Development and Ganga Rejuvenation; and Ministry of Drinking Water and Sanitation
- (4) Ministry of Water Resources

Options :

61547513541. 1

61547513542. 2

61547513543. 3

61547513544. 4

Question Number : 36 Question Id : 6154753472 Question Type : MCQ Option Shuffling : No Display Question Number : Yes
Single Line Question Option : No Option Orientation : Vertical

Correct Marks : 2 Wrong Marks : 0

भारत सरकार ने निम्नलिखित में से किनके विलय/पुनर्नामकरण के माध्यम से जल शक्ति मंत्रालय की स्थापना की है?

- (1) जल संसाधन मंत्रालय और पृथ्वी विज्ञान मंत्रालय
- (2) जल संसाधन मंत्रालय; नदी विकास और गंगा संरक्षण मंत्रालय; तथा ग्रामीण विकास मंत्रालय
- (3) जल संसाधन मंत्रालय; नदी विकास और गंगा संरक्षण मंत्रालय; तथा पेयजल और स्वच्छता मंत्रालय
- (4) जल संसाधन मंत्रालय

Options :

61547513541. 1
61547513542. 2
61547513543. 3
61547513544. 4

**Question Number : 37 Question Id : 6154753473 Question Type : MCQ Option Shuffling : No Display Question Number : Yes
Single Line Question Option : No Option Orientation : Vertical**

Correct Marks : 2 Wrong Marks : 0

Identify environmental issues which are local in nature :

- (i) Depletion of ozone layer
- (ii) Lake pollution
- (iii) Soil erosion
- (iv) Climate change
- (v) Water logging
- (vi) Solid Waste Management

Select the answer from the options given below :

- | | |
|-------------------------------|-------------------------------|
| (1) (ii), (iii), (v) and (vi) | (2) (iii), (iv), (v) and (vi) |
| (3) (ii), (iii), (iv) and (v) | (4) (i), (ii), (iii) and (iv) |

Options :

61547513545. 1
61547513546. 2
61547513547. 3
61547513548. 4

**Question Number : 37 Question Id : 6154753473 Question Type : MCQ Option Shuffling : No Display Question Number : Yes
Single Line Question Option : No Option Orientation : Vertical**

Correct Marks : 2 Wrong Marks : 0

निम्नलिखित में से उन पर्यावरणीय मुद्दों की पहचान कीजिए जो स्थानीय प्रकृति के हैं :

- (i) ओजोन परत का क्षरण
- (ii) झील प्रदूषण
- (iii) भूक्षरण
- (iv) जलवायु परिवर्तन
- (v) जलजमाव
- (vi) ठोस अपशिष्ट प्रबंधन

नीचे दिए गए विकल्पों में से सही उत्तर का चयन कीजिए :

- (1) (ii), (iii), (v) और (vi)
- (2) (iii), (iv), (v) और (vi)
- (3) (ii), (iii), (iv) और (v)
- (4) (i), (ii), (iii) और (iv)

Options :

- 61547513545. 1
- 61547513546. 2
- 61547513547. 3
- 61547513548. 4

Question Number : 38 Question Id : 6154753474 Question Type : MCQ Option Shuffling : No Display Question Number : Yes
Single Line Question Option : No Option Orientation : Vertical

Correct Marks : 2 Wrong Marks : 0

Which of the following UN Conferences/Summit adopted the programme of Action for Sustainable Development?

- (1) Stockholm Conference
- (2) Rio de Janeiro Conference
- (3) Johannesburg Summit
- (4) Ahmedabad Conference

Options :

- 61547513549. 1
- 61547513550. 2
- 61547513551. 3
- 61547513552. 4

Question Number : 38 Question Id : 6154753474 Question Type : MCQ Option Shuffling : No Display Question Number : Yes
Single Line Question Option : No Option Orientation : Vertical

Correct Marks : 2 Wrong Marks : 0

निम्नलिखित में से किस संयुक्त राष्ट्र सम्मेलन/शिखर सम्मेलन में संधारणीय विकास संक्रिया कार्यक्रम (प्रोग्राम ऑफ एक्शन फॉर सस्टेनेबल डेवलपमेंट) को अपनाया गया ?

- (1) स्टॉकहोम कान्फ्रेंस
- (2) रियो डि जेनेरियो कान्फ्रेंस
- (3) जोहन्सबर्ग समिट
- (4) अहमदाबाद कान्फ्रेंस

Options :

- 61547513549. 1
- 61547513550. 2
- 61547513551. 3

Question Number : 39 Question Id : 6154753475 Question Type : MCQ Option Shuffling : No Display Question Number : Yes
Single Line Question Option : No Option Orientation : Vertical

Correct Marks : 2 Wrong Marks : 0

Which of the following indicates the objective of the United Nations Framework Convention on Climate Change (UNFCCC)?

- (1) To stabilize greenhouse gases concentration in the atmosphere
- (2) To prescribe limits on greenhouse gas emissions for individual countries
- (3) To lay down enforcement mechanisms
- (4) To prepare guidelines for formulation of Climate Action Plan by member countries

Options :

61547513553. 1

61547513554. 2

61547513555. 3

61547513556. 4

Question Number : 39 Question Id : 6154753475 Question Type : MCQ Option Shuffling : No Display Question Number : Yes
Single Line Question Option : No Option Orientation : Vertical

Correct Marks : 2 Wrong Marks : 0

निम्नलिखित में से कौन-सा संयुक्त राष्ट्रसंघ जलवायु परिवर्तन फ्रेमवर्क सम्मेलन (यू एन एफ सी सी सी) के उद्देश्य को दर्शाता है?

- (1) वायुमंडल में ग्रीन हाउस गैसों के सकेन्द्रण का सुस्थिरीकरण
- (2) किसी राष्ट्र विशेष हेतु ग्रीन हाउस गैस उत्सर्जन पर सीमा निर्धारित करना
- (3) प्रवर्तन तंत्र स्थापित करना
- (4) सदस्य देशों द्वारा जलवायु कार्ययोजना तैयार करने हेतु दिशानिर्देश तैयार करना

Options :

61547513553. 1

61547513554. 2

61547513555. 3

61547513556. 4

Question Number : 40 Question Id : 6154753476 Question Type : MCQ Option Shuffling : No Display Question Number : Yes
Single Line Question Option : No Option Orientation : Vertical

Correct Marks : 2 Wrong Marks : 0

For encouraging worldwide awareness and action for the protection of our environment, UNEP focused on the World Environment Day (2019) on which of the following themes?

- | | |
|------------------------|---------------------------|
| (1) Conserve energy | (2) Tackle climate change |
| (3) Beat air pollution | (4) Save water |

Options :

61547513557. 1

61547513558. 2

61547513559. 3

61547513560. 4

Question Number : 40 Question Id : 6154753476 Question Type : MCQ Option Shuffling : No Display Question Number : Yes
Single Line Question Option : No Option Orientation : Vertical

Correct Marks : 2 Wrong Marks : 0

हमारे पर्यावरण के संरक्षण हेतु विश्वव्यापी जागरूकता और कार्रवाई को प्रोत्साहित करने हेतु यू एन ई पी ने निम्नलिखित में से किस विषय के प्रति विश्व पर्यावरण दिवस (2019) के अवसर पर जोर दिया?

- | | |
|----------------------------|---|
| (1) ऊर्जा बचाओ प्रयास | (2) जलवायु परिवर्तन की समस्या का हल निकालने का प्रयास |
| (3) वायु प्रदूषण की रोकथाम | (4) जल बचाओ |

Options :

61547513557. 1
61547513558. 2
61547513559. 3
61547513560. 4

Question Number : 41 Question Id : 6154753477 Question Type : MCQ Option Shuffling : No Display Question Number : Yes
Single Line Question Option : No Option Orientation : Vertical

Correct Marks : 2 Wrong Marks : 0

The Ancient Indian University known as the chief centre for advanced and specialized studies in Nyāya or Logic was

- | | |
|--------------------------|------------------------|
| (1) Jagaddala University | (2) Mithilā University |
| (3) Nadia University | (4) Valabhi University |

Options :

61547513561. 1
61547513562. 2
61547513563. 3
61547513564. 4

Question Number : 41 Question Id : 6154753477 Question Type : MCQ Option Shuffling : No Display Question Number : Yes
Single Line Question Option : No Option Orientation : Vertical

Correct Marks : 2 Wrong Marks : 0

निम्नलिखित में से किस प्राचीन भारतीय विश्वविद्यालय को न्याय और तर्क शास्त्र में उच्च और विशिष्ट अध्ययनों के मुख्य केंद्र के रूप में जाना जाता है?

- | | |
|--------------------------|--------------------------|
| (1) जगदल विश्वविद्यालय | (2) मिथिला विश्वविद्यालय |
| (3) नादिया विश्वविद्यालय | (4) वल्लभी विश्वविद्यालय |

Options :

61547513561. 1
61547513562. 2
61547513563. 3
61547513564. 4

Question Number : 42 Question Id : 6154753478 Question Type : MCQ Option Shuffling : No Display Question Number : Yes
Single Line Question Option : No Option Orientation : Vertical

Correct Marks : 2 Wrong Marks : 0

Which items in the following constitute the non-conventional learning programmes?

- (i) Tea sommelier
- (ii) Oriental languages
- (iii) Spa management
- (iv) Museology
- (v) Comparative languages

Select the correct answer from the options given below :

- (1) (i), (ii) and (iv)
- (2) (ii), (iii) and (v)
- (3) (i), (iii) and (iv)
- (4) (ii), (iv) and (v)

Options :

- 61547513565. 1
- 61547513566. 2
- 61547513567. 3
- 61547513568. 4

Question Number : 42 Question Id : 6154753478 Question Type : MCQ Option Shuffling : No Display Question Number : Yes
Single Line Question Option : No Option Orientation : Vertical

Correct Marks : 2 Wrong Marks : 0

निम्नलिखित में से कौन से मद गैर-पारंपरिक अधिगम कार्यक्रमों के घटक हैं?

- (i) टी सोमेलियर
- (ii) प्राच्य भाषायें
- (iii) 'स्पा' प्रबंधन
- (iv) संग्रहालय-विज्ञान
- (v) तुलनात्मक भाषाएं

निम्नलिखित विकल्पों में से अपना उत्तर चुनें :

- (1) (i), (ii) और (iv)
- (2) (ii), (iii) और (v)
- (3) (i), (iii) और (iv)
- (4) (ii), (iv) और (v)

Options :

- 61547513565. 1
- 61547513566. 2
- 61547513567. 3
- 61547513568. 4

Question Number : 43 Question Id : 6154753479 Question Type : MCQ Option Shuffling : No Display Question Number : Yes
Single Line Question Option : No Option Orientation : Vertical

Correct Marks : 2 Wrong Marks : 0

Which one of the following is a non-statutory body?

- (1) National Council for Teacher Education (NCTE)
- (2) Bar Council of India (BCI)
- (3) Rehabilitation Council of India (RCI)
- (4) National Assessment and Accreditation Council (NAAC)

Options :

61547513569. 1
61547513570. 2
61547513571. 3
61547513572. 4

Question Number : 43 Question Id : 6154753479 Question Type : MCQ Option Shuffling : No Display Question Number : Yes
Single Line Question Option : No Option Orientation : Vertical

Correct Marks : 2 Wrong Marks : 0

निम्नलिखित में से कौन एक गैर-संविधिक निकाय है ?

- (1) राष्ट्रीय अध्यापक शिक्षा परिषद् (एन सी टी ई)
- (2) भारतीय अधिवक्ता परिषद् (बी सी आई)
- (3) भारतीय पुनर्वास परिषद् (आर सी आई)
- (4) राष्ट्रीय मूल्यांकन और प्रत्यायन परिषद् (एन ए ए सी)

Options :

61547513569. 1
61547513570. 2
61547513571. 3
61547513572. 4

Question Number : 44 Question Id : 6154753480 Question Type : MCQ Option Shuffling : No Display Question Number : Yes
Single Line Question Option : No Option Orientation : Vertical

Correct Marks : 2 Wrong Marks : 0

Which one of the following has been the basis for introduction of yoga in teacher training courses?

- (1) National Policy of Education – 1968
- (2) National Policy on Education – 1986
- (3) Vision of Teacher Education in India : Quality and Regulatory Perspective – 2012
- (4) Draft National Education Policy – 2019

Options :

61547513573. 1
61547513574. 2
61547513575. 3
61547513576. 4

Question Number : 44 Question Id : 6154753480 Question Type : MCQ Option Shuffling : No Display Question Number : Yes
Single Line Question Option : No Option Orientation : Vertical

Correct Marks : 2 Wrong Marks : 0

अध्यापक-शिक्षा पाठ्यक्रमों में 'योग' को शामिल करने का निम्नलिखित में से कौन सा आधार है?

- (1) राष्ट्रीय शिक्षा नीति-1968
- (2) राष्ट्रीय शिक्षा नीति-1986
- (3) भारत में अध्यापक शिक्षण की भविष्य दृष्टि, गुणवत्ता और विनियामक परिप्रेक्ष्य-2012
- (4) राष्ट्रीय शिक्षा नीति-2019 का प्रारूप

Options :

61547513573. 1
61547513574. 2
61547513575. 3
61547513576. 4

Question Number : 45 Question Id : 6154753481 Question Type : MCQ Option Shuffling : No Display Question Number : Yes Single Line Question Option : No Option Orientation : Vertical

Correct Marks : 2 Wrong Marks : 0

Identify the 'NITI Aayog – Three Year Action Agenda Items' related to the field of Higher Education :

- (i) Autonomy for top colleges
- (ii) Reform of the regulatory system
- (iii) Establishing a system of project and scholar-specific research grants
- (iv) Promotion of research culture
- (v) National Research Foundation

Select correct answer from the options given below :

- | | |
|-------------------------|--------------------------|
| (1) (i), (ii) and (iii) | (2) (ii), (iii) and (iv) |
| (3) (iii), (iv) and (v) | (4) (iv), (i) and (ii) |

Options :

61547513577. 1
61547513578. 2
61547513579. 3
61547513580. 4

Question Number : 45 Question Id : 6154753481 Question Type : MCQ Option Shuffling : No Display Question Number : Yes Single Line Question Option : No Option Orientation : Vertical

Correct Marks : 2 Wrong Marks : 0

उच्च शिक्षा क्षेत्र से संबंधित नीति आयोग के त्रि-वर्षीय कार्य एजेंडा मदों की पहचान करें :

- (i) शीर्ष कोलेजों की स्वायत्तता
- (ii) विनियामक तंत्र में सुधार
- (iii) परियोजना और शोधार्थी केंद्रित शोध अनुदानों की पद्धति की संस्थापना
- (iv) शोध संस्कृति का संवर्धन
- (v) राष्ट्रीय शोध प्रतिष्ठान

निम्नलिखित विकल्पों में से अपना उत्तर चुनें :

- | | |
|------------------------|-------------------------|
| (1) (i), (ii) और (iii) | (2) (ii), (iii) और (iv) |
| (3) (iii), (iv) और (v) | (4) (iv), (i) और (ii) |

Options :

61547513577. 1
61547513578. 2
61547513579. 3
61547513580. 4

Sub-Section Number: 4
Sub-Section Id: 615475157
Question Shuffling Allowed : Yes

Question Id : 6154753482 Question Type : COMPREHENSION Sub Question Shuffling Allowed : Yes Group Comprehension Questions : No

Question Numbers : (46 to 50)

Question Label : Comprehension

For questions (46-50) :

Read the passage carefully and answer questions that follow :

Political 'representation' nonetheless is the vehicle that enabled the re-introduction of "democracy" into the modern, practical political vernacular. The resulting liberal democracy does not directly descend from the ancient Athenian democracy. Between the eras virtually nothing existed that approached "democracy" as an actual or named political form and when it again became a focus of politics and theory, it was wedded to representation – so that what we call a democracy is, in fact, a distinctive kind of democracy, "a representative democracy". While elections and popular pressure surely have political impact, the actions of representatives are the primary, official mechanism for translating democratic citizenship into political power. We rely on the representative process to promote political goodness in democratic society. But when one imagines the idea of 'representation' these days, its association with ethics or goodness does not spring to mind. It is an impersonal process, after all – a mechanical method by which one entity stands for or re-presents another, politically required by the need to channel the judgements of millions of citizens into the legally authoritative hands of a small number of public representatives, or even the sentiments of thousands into the leadership of single person.

Sub questions

Question Number : 46 Question Id : 6154753483 Question Type : MCQ Option Shuffling : No Display Question Number : Yes Single Line Question Option : No Option Orientation : Vertical

Correct Marks : 2 Wrong Marks : 0

Examrace

www.examrace.com

Which of the following implies the characteristic of modern political vernacular?

- (1) Populist politics (2) Absence of structure
(3) Ethical discourse (4) Representiveness

Options :

61547513581. 1
61547513582. 2
61547513583. 3
61547513584. 4

Question Number : 47 Question Id : 6154753484 Question Type : MCQ Option Shuffling : No Display Question Number : Yes
Single Line Question Option : No Option Orientation : Vertical

Correct Marks : 2 Wrong Marks : 0

The political representation enabled the emergence of

- (1) Athenian democracy (2) Liberal democracy
(3) Actual democracy (4) Theoretical democracy

Options :

61547513585. 1
61547513586. 2
61547513587. 3
61547513588. 4

Question Number : 48 Question Id : 6154753485 Question Type : MCQ Option Shuffling : No Display Question Number : Yes
Single Line Question Option : No Option Orientation : Vertical

Correct Marks : 2 Wrong Marks : 0

According to the passage actions of political representatives manifest

- (1) Political will (2) Popular pressure
(3) Political power (4) Self-effacing behaviour

Options :

61547513589. 1
61547513590. 2
61547513591. 3
61547513592. 4

Question Number : 49 Question Id : 6154753486 Question Type : MCQ Option Shuffling : No Display Question Number : Yes
Single Line Question Option : No Option Orientation : Vertical

Correct Marks : 2 Wrong Marks : 0

According to the author, the idea of democracy is viewed as

- (1) Ethical politics (2) Goodness of representation
(3) A representative process (4) Channelising views of a few people

Options :

61547513593. 1
61547513594. 2
61547513595. 3
61547513596. 4

Correct Marks : 2 Wrong Marks : 0

What is the perception of the author with regard to representational democracy?

- (1) Legal as well as ethical
- (2) Universal participation
- (3) Arbitrarily authoritative
- (4) Centralisation of power in a few individuals

Options :

61547513597. 1

61547513598. 2

61547513599. 3

61547513600. 4

Question Id : 6154753482 Question Type : COMPREHENSION Sub Question Shuffling Allowed : Yes Group Comprehension Questions : No

Question Numbers : (46 to 50)

Question Label : Comprehension

प्रश्न : 46 से 50

निम्नलिखित अवतरण को पढ़िए और दिए गए प्रश्नों के उत्तर दीजिए :

निस्संदेह राजनीतिक 'प्रतिनिधित्व' ऐसा माध्यम है जिसमें आधुनिक, व्यावहारिक, राजनीतिक और देशीय भाषा में "लोकतंत्र" का पुनः प्रतिपादन संभव हुआ। परिणामी उदार लोकतंत्र प्रत्यक्षतः प्राचीन एथेंस के लोकतंत्र से प्राप्त नहीं हुआ है। उन युगों के मध्य वास्तव में ऐसा कुछ नहीं था जो 'लोकतंत्र' के प्रतिस्त्विक या नामित राजनीतिक दृष्टिकोण रखता था और जब यह पुनः राजनीति और सिद्धांत का केन्द्र बना, तो इसमें प्रतिनिधित्व जुड़ गया— जिसे हम लोकतंत्र कहते हैं, वस्तुतः विशेष प्रकार का लोकतंत्र है — "प्रतिनिध्यात्मक लोकतंत्र" जबकि निर्वाचन और जनमानस का दबाव निश्चित रूप से राजनीतिक प्रभाव डालता है, प्रतिनिधियों के कार्य लोकतांत्रिक नागरिकता को राजनीतिक अधिकार में परिणत करने हेतु प्राथमिक सरकारी प्रणाली होते हैं। लोकतांत्रिक समाज में राजनीतिक अच्छाई को बढ़ावा देने के लिए हम प्रतिनिध्यात्मक प्रक्रिया पर भरोसा करते हैं। परंतु आजकल जब कोई "प्रतिनिधित्व" के विचार की कल्पना करता है, तो नैतिकता या अच्छाई से इसका साहचर्य मस्तिष्क में नहीं आता है। कुल मिलाकर यह तटस्थ प्रक्रिया है — एक यांत्रिक विधि है जिसके द्वारा एक सत्ता दूसरे के लिए होती है या उसका प्रतिनिधित्व करती है और यह लाखों नागरिकों के निर्णयों को कुछ जनप्रतिनिधियों के विधिक आधिकारिक हाथों में देने या हजारों लोगों की भावनाओं को भी एक व्यक्ति के नेतृत्व को सौंपने की राजनीतिक आवश्यकता होती है।

Sub questions

Question Number : 46 Question Id : 6154753483 Question Type : MCQ Option Shuffling : No Display Question Number : Yes
Single Line Question Option : No Option Orientation : Vertical

Correct Marks : 2 Wrong Marks : 0

निम्नलिखित में से किसमें आधुनिक राजनीतिक देशी भाषा की विशेषता निहित है?

- | | |
|-----------------------|---------------------|
| (1) लोकलुभावन राजनीति | (2) संरचना का अभाव |
| (3) नीतिगत विमर्श | (4) प्रतिनिधिमूलकता |

Options :

61547513581. 1

61547513582. 2

61547513583. 3

61547513584. 4

Question Number : 47 Question Id : 6154753484 Question Type : MCQ Option Shuffling : No Display Question Number : Yes
Single Line Question Option : No Option Orientation : Vertical

Correct Marks : 2 Wrong Marks : 0

राजनीतिक प्रतिनिधित्व के कारण निम्नांकित में से किस का उद्भव हुआ?

- | | |
|-----------------------|-------------------------|
| (1) एथेंस का लोकतंत्र | (2) उदार लोकतंत्र |
| (3) वास्तविक लोकतंत्र | (4) सैद्धांतिक लोकतंत्र |

Options :

61547513585. 1

61547513586. 2

61547513587. 3

61547513588. 4

Question Number : 48 Question Id : 6154753485 Question Type : MCQ Option Shuffling : No Display Question Number : Yes
Single Line Question Option : No Option Orientation : Vertical

Correct Marks : 2 Wrong Marks : 0

इस अवतरण के अनुसार राजनीतिक प्रतिनिधियों के कार्य क्या दर्शाते हैं?

- | | |
|-------------------------|-------------------------|
| (1) राजनीतिक इच्छाशक्ति | (2) जनमानस का दबाव |
| (3) राजनीतिक शक्ति | (4) आत्म-विलोपन व्यवहार |

Options :

61547513589. 1

61547513590. 2

61547513591. 3

61547513592. 4

Question Number : 49 Question Id : 6154753486 Question Type : MCQ Option Shuffling : No Display Question Number : Yes
Single Line Question Option : No Option Orientation : Vertical

Correct Marks : 2 Wrong Marks : 0

लेखक के अनुसार लोकतंत्र के विचार को किस रूप में देखा जाता है?

- | | |
|-------------------------------|--|
| (1) नीति आधारित राजनीति | (2) प्रतिनिधित्व की अच्छाई |
| (3) प्रतिनिध्यात्मक प्रक्रिया | (4) कुछ लोगों के विचारों को माध्यम प्रदान करना |

Options :

61547513593. 1

61547513594. 2

61547513595. 3

61547513596. 4

Question Number : 50 Question Id : 6154753487 Question Type : MCQ Option Shuffling : No Display Question Number : Yes
Single Line Question Option : No Option Orientation : Vertical

Correct Marks : 2 Wrong Marks : 0

प्रतिनिधिमूलक लोकतंत्र के संबंध में लेखक का क्या विचार है?

- (1) विधिक और नैतिक
- (2) सार्वभौम भागीदारी
- (3) मनमाना सत्तापरक
- (4) कुछ व्यक्तियों के हाथ में सत्ता का केन्द्रीकरण

Options :

61547513597. 1
61547513598. 2
61547513599. 3
61547513600. 4

PART II Archaeology

Section Id :	61547548
Section Number :	2
Section type :	Online
Mandatory or Optional:	Mandatory
Number of Questions:	92
Number of Questions to be attempted:	92
Section Marks:	200
Display Number Panel:	Yes
Group All Questions:	No

Sub-Section Number:	1
Sub-Section Id:	615475158
Question Shuffling Allowed :	Yes

Question Number : 51 Question Id : 6154753488 Question Type : MCQ Option Shuffling : No Display Question Number : Yes
Single Line Question Option : No Option Orientation : Vertical
Correct Marks : 2 Wrong Marks : 0

Who among the following argued that domestication took place in certain nuclear zones, which supported a variety of wild plants and animals?

- (1) Robert J. Braidwood
- (2) Lewis R. Binford
- (3) V. Gordon Childe
- (4) Kent Flannery

Options :

61547513601. 1
61547513602. 2
61547513603. 3
61547513604. 4

Question Number : 51 Question Id : 6154753488 Question Type : MCQ Option Shuffling : No Display Question Number : Yes
Single Line Question Option : No Option Orientation : Vertical
Correct Marks : 2 Wrong Marks : 0

निम्नलिखित में से किसने यह तर्क दिया कि पालतूकरण कुछ ऐसे नाभिकीय क्षेत्रों में हुआ जो विविध वन्य पादपों और पशुओं के लिए अनुकूल थे?

- | | |
|-------------------------|------------------------|
| (1) रॉबर्ट जे. ब्रेडवुड | (2) लिविस आर. बिनफोर्ड |
| (3) वी. गॉर्डन चाइल्ड | (4) केन्ट फ्लैनरी |

Options :

61547513601. 1
61547513602. 2
61547513603. 3
61547513604. 4

Question Number : 52 Question Id : 6154753489 Question Type : MCQ Option Shuffling : No Display Question Number : Yes
Single Line Question Option : No Option Orientation : Vertical

Correct Marks : 2 Wrong Marks : 0

Black – and – Red Ware potteries have been recovered from Neolithic level at which one of the following sites?

- | | |
|-------------|-------------|
| (1) Senuwar | (2) Chechar |
| (3) Chirand | (4) Kuchai |

Options :

61547513605. 1
61547513606. 2
61547513607. 3
61547513608. 4

Question Number : 52 Question Id : 6154753489 Question Type : MCQ Option Shuffling : No Display Question Number : Yes
Single Line Question Option : No Option Orientation : Vertical

Correct Marks : 2 Wrong Marks : 0

निम्नलिखित में से किस स्थल पर नवपाषाण स्तर से कृष्ण-लोहित (काले और-लाल) परम्परा के मिट्टी के वर्तन प्राप्त हुए हैं?

- | | |
|------------|-----------|
| (1) सेनुआर | (2) चेचर |
| (3) चिरांद | (4) कुचाई |

Options :

61547513605. 1
61547513606. 2
61547513607. 3
61547513608. 4

Question Number : 53 Question Id : 6154753490 Question Type : MCQ Option Shuffling : No Display Question Number : Yes
Single Line Question Option : No Option Orientation : Vertical

Correct Marks : 2 Wrong Marks : 0

The hominids from Sterkfontein belongs to

- | | |
|-----------------------|------------------------|
| (1) Pliocene | (2) Plio – Pleistocene |
| (3) Upper Pleistocene | (4) Holocene |

Options :

61547513609. 1
61547513610. 2
61547513611. 3
61547513612. 4

Question Number : 53 Question Id : 6154753490 Question Type : MCQ Option Shuffling : No Display Question Number : Yes
Single Line Question Option : No Option Orientation : Vertical

Correct Marks : 2 Wrong Marks : 0

स्टर्कफोन्टिन से प्राप्त मानवसम प्राणी किस युग के हैं?

- | | |
|--------------------------|------------------------|
| (1) अतिनूतन युग | (2) अति-प्रातिनूतन युग |
| (3) उत्तर प्रातिनूतन युग | (4) नूतन युग |

Options :

61547513609. 1
61547513610. 2
61547513611. 3
61547513612. 4

Question Number : 54 Question Id : 6154753491 Question Type : MCQ Option Shuffling : No Display Question Number : Yes
Single Line Question Option : No Option Orientation : Vertical

Correct Marks : 2 Wrong Marks : 0

A complete fossilized human baby skull has been found at

- | | |
|----------------|---------------|
| (1) Hathnora | (2) Odai |
| (3) Jwalapuram | (4) Bhimbetka |

Options :

61547513613. 1
61547513614. 2
61547513615. 3
61547513616. 4

Question Number : 54 Question Id : 6154753491 Question Type : MCQ Option Shuffling : No Display Question Number : Yes
Single Line Question Option : No Option Orientation : Vertical

Correct Marks : 2 Wrong Marks : 0

पूरी तरह जीवाश्मीकृत मानव शिशु की खोपड़ी कहाँ पायी गयी है?

- | | |
|-----------------|--------------|
| (1) हथनोरा | (2) ओदाई |
| (3) ज्वालापुरम् | (4) भीमबेटका |

Options :

- 61547513613. 1
- 61547513614. 2
- 61547513615. 3
- 61547513616. 4

Question Number : 55 Question Id : 6154753492 Question Type : MCQ Option Shuffling : No Display Question Number : Yes Single Line Question Option : No Option Orientation : Vertical

Correct Marks : 2 Wrong Marks : 0

A burial has been found from which of the following sites wherein the head of the male was towards the North while that of the female was towards the south?

- (1) Sarai Nahar Rai
- (2) Mahadaha
- (3) Chopani-Mando
- (4) Damdama

Options :

- 61547513617. 1
- 61547513618. 2
- 61547513619. 3
- 61547513620. 4

Question Number : 55 Question Id : 6154753492 Question Type : MCQ Option Shuffling : No Display Question Number : Yes Single Line Question Option : No Option Orientation : Vertical

Correct Marks : 2 Wrong Marks : 0

निम्नलिखित में से किस स्थल से ऐसी कब्र पायी गयी है जिसमें पुरुष का सिर उत्तर की ओर है और स्त्री का सिर दक्षिण की ओर है?

- (1) सराय नाहर राय
- (2) महदहा
- (3) चोपनी मांडो
- (4) दमदमा

Options :

- 61547513617. 1
- 61547513618. 2
- 61547513619. 3
- 61547513620. 4

Question Number : 56 Question Id : 6154753493 Question Type : MCQ Option Shuffling : No Display Question Number : Yes Single Line Question Option : No Option Orientation : Vertical

Correct Marks : 2 Wrong Marks : 0

The only pre – sapiens fossil of skull cap known from the hathnora is dated to

- (1) Early Pleistocene
- (2) Late Middle Pleistocene
- (3) Late Pleistocene
- (4) Holocene

Options :

- 61547513621. 1
- 61547513622. 2
- 61547513623. 3

61547513624. 4

Question Number : 56 Question Id : 6154753493 Question Type : MCQ Option Shuffling : No Display Question Number : Yes
Single Line Question Option : No Option Orientation : Vertical

Correct Marks : 2 Wrong Marks : 0

हथनोरा का एक मात्र ज्ञात खोपड़ी का प्राक-सेपियन जीवाश्म किस युग का है?

- (1) पूर्व अतिनूतन युग (2) उत्तर मध्य प्रातिनूतन युग
(3) उत्तर प्रातिनूतन युग (4) नूतन युग

Options :

61547513621. 1

61547513622. 2

61547513623. 3

61547513624. 4

Question Number : 57 Question Id : 6154753494 Question Type : MCQ Option Shuffling : No Display Question Number : Yes
Single Line Question Option : No Option Orientation : Vertical

Correct Marks : 2 Wrong Marks : 0

Who was the first person to analyse weapons, warfare and other images in rock paintings at Panchmarhi in Madhya Pradesh?

- (1) Fred Fawcett (2) D.H. Gordon
(3) V.S. Wakankar (4) Yashodhar Mathpal

Options :

61547513625. 1

61547513626. 2

61547513627. 3

61547513628. 4

Question Number : 57 Question Id : 6154753494 Question Type : MCQ Option Shuffling : No Display Question Number : Yes
Single Line Question Option : No Option Orientation : Vertical

Correct Marks : 2 Wrong Marks : 0

मध्यप्रदेश में पंचमढ़ी के शैल-चित्रों में हथियारों, युद्धकला और अन्य चित्रों का विश्लेषण करने वाला प्रथम व्यक्ति कौन था?

- (1) फ्रेड फॉकेट (2) डी.एच. गॉर्डन
(3) वी.एस. वाकंकर (4) यशोधर-मठपाल

Options :

61547513625. 1

61547513626. 2

61547513627. 3

61547513628. 4

Question Number : 58 Question Id : 6154753495 Question Type : MCQ Option Shuffling : No Display Question Number : Yes
Single Line Question Option : No Option Orientation : Vertical

Correct Marks : 2 Wrong Marks : 0

Half life of C^{14} for carbon – dating is:

- (1) 5530 ± 40 years (2) 5568 ± 30 years
(3) 5630 ± 40 years (4) 5730 ± 40 years

Options :

61547513629. 1
61547513630. 2
61547513631. 3
61547513632. 4

Question Number : 58 Question Id : 6154753495 Question Type : MCQ Option Shuffling : No Display Question Number : Yes
Single Line Question Option : No Option Orientation : Vertical

Correct Marks : 2 Wrong Marks : 0

कार्बन-डेटिंग के लिए C^{14} का अर्द्ध जीवन है

- (1) 5530 ± 40 वर्ष (2) 5568 ± 30 वर्ष
(3) 5630 ± 40 वर्ष (4) 5730 ± 40 वर्ष

Options :

61547513629. 1
61547513630. 2
61547513631. 3
61547513632. 4

Question Number : 59 Question Id : 6154753496 Question Type : MCQ Option Shuffling : No Display Question Number : Yes
Single Line Question Option : No Option Orientation : Vertical

Correct Marks : 2 Wrong Marks : 0

The presence of an Acheulian tradition in Rajasthan by finding handaxes and cleavers was revealed by C.A. Hackett, who belonged to:

- (1) Archaeological Survey of India (2) Geological Survey of India
(3) Anthropological Survey of India (4) Botanical Survey of India

Options :

61547513633. 1
61547513634. 2
61547513635. 3
61547513636. 4

Question Number : 59 Question Id : 6154753496 Question Type : MCQ Option Shuffling : No Display Question Number : Yes
Single Line Question Option : No Option Orientation : Vertical

Correct Marks : 2 Wrong Marks : 0

हस्तकुठार और विदारक की खोज कर राजस्थान में अशुलियन परंपरा की उपस्थिति का पता लगाने वाले सी.ए. हॉकेट संबंधित थे :

- | | |
|-----------------------------------|------------------------------|
| (1) भारतीय पुरातत्व सर्वेक्षण | (2) भारतीय भू तत्व सर्वेक्षण |
| (3) भारतीय मानव विज्ञान सर्वेक्षण | (4) भारतीय वनस्पति सर्वेक्षण |

Options :

61547513633. 1
61547513634. 2
61547513635. 3
61547513636. 4

Question Number : 60 Question Id : 6154753497 Question Type : MCQ Option Shuffling : No Display Question Number : Yes
Single Line Question Option : No Option Orientation : Vertical
Correct Marks : 2 Wrong Marks : 0

The Pleistocene sediments of the Belan Valley were studied Geologically by:

- | | |
|--------------------------------------|----------------------------------|
| (1) G.G. Majumdar and S.N. Rajaguru | (2) P.C. Pant and Vidula Jaiswal |
| (3) B.B. Lal and K.V. Soundara Rajan | (4) F.E. Zeuner and B. Allchin |

Options :

61547513637. 1
61547513638. 2
61547513639. 3
61547513640. 4

Question Number : 60 Question Id : 6154753497 Question Type : MCQ Option Shuffling : No Display Question Number : Yes
Single Line Question Option : No Option Orientation : Vertical
Correct Marks : 2 Wrong Marks : 0

बेलन घाटी के अत्यंत नूतन तलछट का भूगर्भीय अध्ययन किसके द्वारा किया गया था ?

- | |
|--------------------------------------|
| (1) जी.जी. मजूमदार और एस.एन. राजगुरु |
| (2) पी.सी. पन्त और विदुला जायसवाल |
| (3) बी.बी. लाल और के.वी. सौंदर राजन |
| (4) एफ.ई. जीउनर और बी. एलेनिन |

Options :

61547513637. 1
61547513638. 2
61547513639. 3
61547513640. 4

Question Number : 61 Question Id : 6154753498 Question Type : MCQ Option Shuffling : No Display Question Number : Yes
Single Line Question Option : No Option Orientation : Vertical
Correct Marks : 2 Wrong Marks : 0

In 1971 – 72 Betamecherla cave in Andhra Pradesh was excavated by:

- (1) R.V. Joshi (2) K. Paddayya
(3) M.L.K. Murty (4) V.N. Misra

Options :

61547513641. 1
61547513642. 2
61547513643. 3
61547513644. 4

Question Number : 61 Question Id : 6154753498 Question Type : MCQ Option Shuffling : No Display Question Number : Yes
Single Line Question Option : No Option Orientation : Vertical

Correct Marks : 2 Wrong Marks : 0

1971-72 में आन्ध्र प्रदेश में बेटमचर्ला गुफा की खुदाई किसके द्वारा की गई थी :

- (1) आर.वी. जोशी (2) के. पदैय्या
(3) एम.एल. के. मूर्ति (4) वी.एन. मिश्र

Options :

61547513641. 1
61547513642. 2
61547513643. 3
61547513644. 4

Question Number : 62 Question Id : 6154753499 Question Type : MCQ Option Shuffling : No Display Question Number : Yes
Single Line Question Option : No Option Orientation : Vertical

Correct Marks : 2 Wrong Marks : 0

At Dorothy Deep Mesolithic site human skeletons were recovered by:

- (1) G.R. Sharma (2) V.N. Misra
(3) G.R. Hunter (4) V.S. Wakanhar

Options :

61547513645. 1
61547513646. 2
61547513647. 3
61547513648. 4

Question Number : 62 Question Id : 6154753499 Question Type : MCQ Option Shuffling : No Display Question Number : Yes
Single Line Question Option : No Option Orientation : Vertical

Correct Marks : 2 Wrong Marks : 0

डोरोथी डीप मध्य पाषाण स्थल पर मानव कंकाल किसके द्वारा प्राप्त किए गये थे?

- (1) जी.आर. शर्मा (2) वी.एन. मिश्र
(3) जी.आर. हंटर (4) वी.एस. वाकंकर

Options :

- 61547513645. 1
- 61547513646. 2
- 61547513647. 3
- 61547513648. 4

Question Number : 63 Question Id : 6154753500 Question Type : MCQ Option Shuffling : No Display Question Number : Yes Single Line Question Option : No Option Orientation : Vertical

Correct Marks : 2 Wrong Marks : 0

Who concluded that the Birbhanpur area was both a habitation and factory site of Mesolithic people?

- (1) B. Allchin
- (2) N.K. Bose
- (3) P. Mohanty
- (4) B.B. Lal

Options :

- 61547513649. 1
- 61547513650. 2
- 61547513651. 3
- 61547513652. 4

Question Number : 63 Question Id : 6154753500 Question Type : MCQ Option Shuffling : No Display Question Number : Yes Single Line Question Option : No Option Orientation : Vertical

Correct Marks : 2 Wrong Marks : 0

किसने यह निष्कर्ष निकाला कि बीरभानपुर क्षेत्र मध्य पाषाणिक लोगों का आवासीय और उद्योग स्थल दोनों था ?

- (1) बी. एलेनिन
- (2) एन.के. बोस
- (3) पी. मोहंती
- (4) बी.बी. लाल

Options :

- 61547513649. 1
- 61547513650. 2
- 61547513651. 3
- 61547513652. 4

Question Number : 64 Question Id : 6154753501 Question Type : MCQ Option Shuffling : No Display Question Number : Yes Single Line Question Option : No Option Orientation : Vertical

Correct Marks : 2 Wrong Marks : 0

Mesolithic human skeletons of Damdama were studied by:

- (1) K.A.R. Kennedy
- (2) J.R. Lukacs
- (3) J. Anderson
- (4) N.C. Lovels

Options :

- 61547513653. 1
- 61547513654. 2
- 61547513655. 3
- 61547513656. 4

Question Number : 64 Question Id : 6154753501 Question Type : MCQ Option Shuffling : No Display Question Number : Yes
Single Line Question Option : No Option Orientation : Vertical

Correct Marks : 2 Wrong Marks : 0

दमदमा के मध्य पाषाणयुगीय मानव कंकालों का अध्ययन किसके द्वारा किया गया था ?

- | | |
|---------------------|--------------------|
| (1) के.ए.आर. केनेडी | (2) जे.आर. लुकास |
| (3) जे. एंडरसन | (4) एन.सी. लोवेल्स |

Options :

61547513653. 1

61547513654. 2

61547513655. 3

61547513656. 4

Question Number : 65 Question Id : 6154753502 Question Type : MCQ Option Shuffling : No Display Question Number : Yes
Single Line Question Option : No Option Orientation : Vertical

Correct Marks : 2 Wrong Marks : 0

'Pura Kala' an archeological journal is related to:

- (1) Indian Society for Prehistoric and Quaternary studies
- (2) Archeological Society of India
- (3) Rock Art Society of India
- (4) State Archeology Department of Uttar Pradesh

Options :

61547513657. 1

61547513658. 2

61547513659. 3

61547513660. 4

Question Number : 65 Question Id : 6154753502 Question Type : MCQ Option Shuffling : No Display Question Number : Yes
Single Line Question Option : No Option Orientation : Vertical

Correct Marks : 2 Wrong Marks : 0

पुरातात्विक जर्नल 'पुरा कला' किससे संबंधित है ?

- (1) इंडियन सोसाइटी फॉर प्री हिस्टोरिक एवं क्वाटर्नरी स्टडीज
- (2) भारतीय पुरातात्विक सोसाइटी
- (3) भारतीय रॉक आर्ट सोसाइटी
- (4) स्टेट आर्कियोलॉजी डिपार्टमेंट ऑफ उत्तर प्रदेश

Options :

61547513657. 1

61547513658. 2

61547513659. 3

61547513660. 4

Question Number : 66 Question Id : 6154753503 Question Type : MCQ Option Shuffling : No Display Question Number : Yes
Single Line Question Option : No Option Orientation : Vertical

Correct Marks : 2 Wrong Marks : 0

Leonard Munn who investigated for the first time Iron-Age site of Raigir between Mau Ali hills in Nalgonda district was a

- | | |
|--------------|-------------|
| (1) Scottish | (2) German |
| (3) French | (4) Italian |

Options :

61547513661. 1
61547513662. 2
61547513663. 3
61547513664. 4

Question Number : 66 Question Id : 6154753503 Question Type : MCQ Option Shuffling : No Display Question Number : Yes
Single Line Question Option : No Option Orientation : Vertical

Correct Marks : 2 Wrong Marks : 0

लियोनार्ड मन्न जिस ने प्रथम बार नालगोण्डा जिले में मऊअली पहाड़ियों के बीच लौह युगीन स्थल रायगीर की खोज की था :

- | | |
|------------------|---------------|
| (1) स्कॉटलैंड का | (2) जर्मनी का |
| (3) फ्रांस का | (4) इटली का |

Options :

61547513661. 1
61547513662. 2
61547513663. 3
61547513664. 4

Question Number : 67 Question Id : 6154753504 Question Type : MCQ Option Shuffling : No Display Question Number : Yes
Single Line Question Option : No Option Orientation : Vertical

Correct Marks : 2 Wrong Marks : 0

By whom the king 'Piyadassi' mentioned in the Mauryan inscriptions was identified as the King Ashoka?

- | | |
|--------------------|-------------------|
| (1) George Turnor | (2) James Prinsep |
| (3) Charles Masson | (4) A. Cunningham |

Options :

61547513665. 1
61547513666. 2
61547513667. 3
61547513668. 4

Question Number : 67 Question Id : 6154753504 Question Type : MCQ Option Shuffling : No Display Question Number : Yes
Single Line Question Option : No Option Orientation : Vertical

Correct Marks : 2 Wrong Marks : 0

मौर्य शिलालेखों में उल्लिखित राजा 'पियदस्सि' की पहचान राजा अशोक के रूप में किसने की थी?

- | | |
|------------------|---------------------|
| (1) जॉर्ज टर्नर | (2) जेम्स प्रिन्सेप |
| (3) चार्ल्स मैसन | (4) ए. कनिंघम |

Options :

61547513665. 1
61547513666. 2
61547513667. 3
61547513668. 4

Question Number : 68 Question Id : 6154753505 Question Type : MCQ Option Shuffling : No Display Question Number : Yes
Single Line Question Option : No Option Orientation : Vertical

Correct Marks : 2 Wrong Marks : 0

What is meant by the term 'Palaeography'?

- | | |
|---------------------------|------------------------------|
| (1) Study of Inscriptions | (2) Study of ancient scripts |
| (3) Study of coins | (4) Study of Palaeoliths |

Options :

61547513669. 1
61547513670. 2
61547513671. 3
61547513672. 4

Question Number : 68 Question Id : 6154753505 Question Type : MCQ Option Shuffling : No Display Question Number : Yes
Single Line Question Option : No Option Orientation : Vertical

Correct Marks : 2 Wrong Marks : 0

'पुरालिपि विद्या' शब्द का अभिप्राय क्या है?

- | | |
|-------------------------|-------------------------------|
| (1) शिलालेखों का अध्ययन | (2) प्राचीन लिपियों का अध्ययन |
| (3) सिक्कों का अध्ययन | (4) पुरापाषाणों का अध्ययन |

Options :

61547513669. 1
61547513670. 2
61547513671. 3
61547513672. 4

Question Number : 69 Question Id : 6154753506 Question Type : MCQ Option Shuffling : No Display Question Number : Yes
Single Line Question Option : No Option Orientation : Vertical

Correct Marks : 2 Wrong Marks : 0

How many figures of animals have been depicted on the famous 'Pashupati seal' found from Mohenjodaro?

- (1) Four (2) Five
(3) Six (4) Seven

Options :

61547513673. 1
61547513674. 2
61547513675. 3
61547513676. 4

Question Number : 69 Question Id : 6154753506 Question Type : MCQ Option Shuffling : No Display Question Number : Yes
Single Line Question Option : No Option Orientation : Vertical

Correct Marks : 2 Wrong Marks : 0

मोहनजोदड़ो से प्राप्त प्रसिद्ध 'पशुपति मुहर' पर कितनी पशु-आकृतियों का चित्रण किया गया है?

- (1) चार (2) पाँच
(3) छः (4) सात

Options :

61547513673. 1
61547513674. 2
61547513675. 3
61547513676. 4

Question Number : 70 Question Id : 6154753507 Question Type : MCQ Option Shuffling : No Display Question Number : Yes
Single Line Question Option : No Option Orientation : Vertical

Correct Marks : 2 Wrong Marks : 0

From where a terracotta headless figure of Bodhisattva Maitreya has been reported?

- (1) Hastinapur (2) Atranjikhhera
(3) Vaishali (4) Ahichchhatra

Options :

61547513677. 1
61547513678. 2
61547513679. 3
61547513680. 4

Question Number : 70 Question Id : 6154753507 Question Type : MCQ Option Shuffling : No Display Question Number : Yes
Single Line Question Option : No Option Orientation : Vertical

Correct Marks : 2 Wrong Marks : 0

बोधिसत्त्व मैत्रेय की सिर विहीन पकी मिट्टी की आकृति कहाँ से मिली है?

- | | |
|----------------|------------------|
| (1) हस्तिनापुर | (2) अतरन्जीखेड़ा |
| (3) वैशाली | (4) अहिच्छत्र |

Options :

61547513677. 1
61547513678. 2
61547513679. 3
61547513680. 4

Question Number : 71 Question Id : 6154753508 Question Type : MCQ Option Shuffling : No Display Question Number : Yes
Single Line Question Option : No Option Orientation : Vertical

Correct Marks : 2 Wrong Marks : 0

Which of the following is considered the forerunner of Northern Black Polished Ware?

- | | |
|------------------------|------------------------|
| (1) Black and Red Ware | (2) Painted Grey Ware |
| (3) Plain Grey Ware | (4) Black Slipped Ware |

Options :

61547513681. 1
61547513682. 2
61547513683. 3
61547513684. 4

Question Number : 71 Question Id : 6154753508 Question Type : MCQ Option Shuffling : No Display Question Number : Yes
Single Line Question Option : No Option Orientation : Vertical

Correct Marks : 2 Wrong Marks : 0

निम्नलिखित में से किसे उत्तरी काली पालिशदार मृद्भांड का अग्रणी समझा जाता है?

- | | |
|-------------------------------|----------------------------------|
| (1) काला और लाल मृद्भांड | (2) चित्रित भूरे रंग का मृद्भांड |
| (3) सादा भूरे रंग का मृद्भांड | (4) काला स्लिप्ड मृद्भांड |

Options :

61547513681. 1
61547513682. 2
61547513683. 3
61547513684. 4

Question Number : 72 Question Id : 6154753509 Question Type : MCQ Option Shuffling : No Display Question Number : Yes
Single Line Question Option : No Option Orientation : Vertical

Correct Marks : 2 Wrong Marks : 0

Which one of the following Harappan sites has produced a broken triangular terracotta cake bearing an engraved horned human figure?

- (1) Rakhigarhi (2) Kalibangan
(3) Kotdiji (4) Lothal

Options :

61547513685. 1
61547513686. 2
61547513687. 3
61547513688. 4

Question Number : 72 Question Id : 6154753509 Question Type : MCQ Option Shuffling : No Display Question Number : Yes
Single Line Question Option : No Option Orientation : Vertical

Correct Marks : 2 Wrong Marks : 0

निम्नलिखित में से किस हड़प्पा स्थल पर भग्न त्रिभुजाकार टेराकोटा केक प्राप्त हुआ है जिस पर शृंगं युक्त मानव आकृति अंकित है?

- (1) राखीगढ़ी (2) कालीबंगा
(3) कोटदिजी (4) लोथल

Options :

61547513685. 1
61547513686. 2
61547513687. 3
61547513688. 4

Question Number : 73 Question Id : 6154753510 Question Type : MCQ Option Shuffling : No Display Question Number : Yes
Single Line Question Option : No Option Orientation : Vertical

Correct Marks : 2 Wrong Marks : 0

What was the most preferred material of the Harappans for making the seals and micro – beads?

- (1) Steatite (2) Copper
(3) Faience (4) Stone

Options :

61547513689. 1
61547513690. 2
61547513691. 3
61547513692. 4

Question Number : 73 Question Id : 6154753510 Question Type : MCQ Option Shuffling : No Display Question Number : Yes
Single Line Question Option : No Option Orientation : Vertical

Correct Marks : 2 Wrong Marks : 0

मोहें व लघु मनकों के बनाने के लिए हड़प्पायी लोगों का सर्वप्रिय पदार्थ निम्न में क्या था?

- | | |
|---------------|-----------|
| (1) स्टीयटाइट | (2) ताँबा |
| (3) फेयन्स | (4) पाषाण |

Options :

61547513689. 1
61547513690. 2
61547513691. 3
61547513692. 4

Question Number : 74 Question Id : 6154753511 Question Type : MCQ Option Shuffling : No Display Question Number : Yes
Single Line Question Option : No Option Orientation : Vertical

Correct Marks : 2 Wrong Marks : 0

Paper pulp method is used in the treatment of:

- | | |
|-------------------|-------------------|
| (1) Glass objects | (2) Stone objects |
| (3) Gold objects | (4) Shell objects |

Options :

61547513693. 1
61547513694. 2
61547513695. 3
61547513696. 4

Question Number : 74 Question Id : 6154753511 Question Type : MCQ Option Shuffling : No Display Question Number : Yes
Single Line Question Option : No Option Orientation : Vertical

Correct Marks : 2 Wrong Marks : 0

पेपर-पल्प विधि का प्रयोग किसके शोधन के लिए किया जाता है?

- | | |
|----------------------------|------------------------|
| (1) शीशा/काँच की वस्तुएँ | (2) पाषाण की वस्तुएँ |
| (3) सुवर्ण निर्मित वस्तुएँ | (4) सीप से बनी वस्तुएँ |

Options :

61547513693. 1
61547513694. 2
61547513695. 3
61547513696. 4

Question Number : 75 Question Id : 6154753512 Question Type : MCQ Option Shuffling : No Display Question Number : Yes
Single Line Question Option : No Option Orientation : Vertical

Correct Marks : 2 Wrong Marks : 0

Which cave of Ajanta bears the inscription engraved by Vakataka King Harisena (AD 475-500)?

- | | |
|-----------------------|-----------------------|
| (a) Ajanta Cave No 16 | (b) Ajanta Cave No 17 |
| (c) Ajanta Cave No 19 | (d) Ajanta Cave No 20 |

Options : Examrace

61547513697. 1
61547513698. 2
61547513699. 3
61547513700. 4

Question Number : 75 Question Id : 6154753512 Question Type : MCQ Option Shuffling : No Display Question Number : Yes
Single Line Question Option : No Option Orientation : Vertical

Correct Marks : 2 Wrong Marks : 0

वाकाटक नरेश हरिषेण (475-500 ई.सं.) द्वारा अजंता की किस गुफा में अभिलेख उत्कीर्ण किया गया है?

- (1) अजंता की गुफा संख्या 16 (2) अजंता की गुफा संख्या 17
(3) अजंता की गुफा संख्या 19 (4) अजंता की गुफा संख्या 20

Options :

61547513697. 1
61547513698. 2
61547513699. 3
61547513700. 4

Question Number : 76 Question Id : 6154753513 Question Type : MCQ Option Shuffling : No Display Question Number : Yes
Single Line Question Option : No Option Orientation : Vertical

Correct Marks : 2 Wrong Marks : 0

Which of the following makes a reference to Zero for the first time?

- (1) Gwalior Stone Inscription of Mihirbhoja
(2) Gwalior Stone Inscription of Mihirkula
(3) Two Inscriptions of Vailla – Bhatta Swamin Temple at Gwalior
(4) Baraha Copper Plate Inscription of Mihirbhoja

Options :

61547513701. 1
61547513702. 2
61547513703. 3
61547513704. 4

Question Number : 76 Question Id : 6154753513 Question Type : MCQ Option Shuffling : No Display Question Number : Yes
Single Line Question Option : No Option Orientation : Vertical

Correct Marks : 2 Wrong Marks : 0

निम्नलिखित में से पहली बार किसमें शून्य का उल्लेख हुआ है?

- (1) मिहिरभोज का ग्वालियर प्रस्तर अभिलेख
(2) मिहिरकुल का ग्वालियर प्रस्तर अभिलेख
(3) ग्वालियर स्थित वैल-भट्टस्वामी मंदिर के दो अभिलेख
(4) मिहिरभोज का बराह ताम्र फलक अभिलेख

Options :

61547513701. 1

61547513702. 2

61547513703. 3

61547513704. 4

Question Number : 77 Question Id : 6154753514 Question Type : MCQ Option Shuffling : No Display Question Number : Yes
Single Line Question Option : No Option Orientation : Vertical

Correct Marks : 2 Wrong Marks : 0

Which one of the following Muslim kings issued coins with translation of Kalima in Sanskrit language and Sharda script?

- | | |
|---------------------------|----------------------|
| (1) Abu Mansur Subuktagir | (2) Mahmud of Ghazni |
| (3) Muhammad Ghori | (4) Alauddin Khilji |

Options :

61547513705. 1

61547513706. 2

61547513707. 3

61547513708. 4

Question Number : 77 Question Id : 6154753514 Question Type : MCQ Option Shuffling : No Display Question Number : Yes
Single Line Question Option : No Option Orientation : Vertical

Correct Marks : 2 Wrong Marks : 0

निम्नलिखित मुस्लिम शासकों में किसने कलीमा को संस्कृत भाषा और शारदा लिपि में अनुवाद के साथ सिक्के जारी किये ?

- | | |
|--------------------------|-----------------------|
| (1) अबू मंसूर सुबुक्तगीन | (2) महमूद गज़नवी |
| (3) मोहम्मद गोरी | (4) अल्लाउद्दीन खिलजी |

Options :

61547513705. 1

61547513706. 2

61547513707. 3

61547513708. 4

Question Number : 78 Question Id : 6154753515 Question Type : MCQ Option Shuffling : No Display Question Number : Yes
Single Line Question Option : No Option Orientation : Vertical

Correct Marks : 2 Wrong Marks : 0

Which of the following is not a part of the architecture of temples of Bhubaneshwar?

- | | |
|------------------|-----------------|
| (1) Bhogamandapa | (2) Garbhagriha |
| (3) Adhisthana | (4) Sikhara |

Options :

61547513709. 1

61547513710. 2

61547513711. 3

61547513712. 4

Question Number : 78 Question Id : 6154753515 Question Type : MCQ Option Shuffling : No Display Question Number : Yes
Single Line Question Option : No Option Orientation : Vertical

Correct Marks : 2 Wrong Marks : 0

निम्नलिखित में से कौन भुवनेश्वर के मंदिर शैली की स्थापत्य कला का अंग नहीं है?

- | | |
|--------------|-------------|
| (1) भोगमंडप | (2) गर्भगृह |
| (3) अधिष्ठान | (4) शिखर |

Options :

61547513709. 1
61547513710. 2
61547513711. 3
61547513712. 4

Question Number : 79 Question Id : 6154753516 Question Type : MCQ Option Shuffling : No Display Question Number : Yes
Single Line Question Option : No Option Orientation : Vertical
Correct Marks : 2 Wrong Marks : 0

Who discovered the first Rock Painting in India?

- | | |
|--------------------|--------------------------|
| (1) V.S. Wakankar | (2) A.C.L. Carlleyle |
| (3) Erwin Neumayer | (4) Alexander Cunningham |

Options :

61547513713. 1
61547513714. 2
61547513715. 3
61547513716. 4

Question Number : 79 Question Id : 6154753516 Question Type : MCQ Option Shuffling : No Display Question Number : Yes
Single Line Question Option : No Option Orientation : Vertical
Correct Marks : 2 Wrong Marks : 0

भारत में पहली बार शैल चित्रों की खोज किसने की?

- | | |
|---------------------|-----------------------|
| (1) वी.एस. वाकंकर | (2) ए.सी.एल. कार्लाइल |
| (3) इर्विन न्यूमेयर | (4) एलेक्जेंडर कनिंघम |

Options :

61547513713. 1
61547513714. 2
61547513715. 3
61547513716. 4

Question Number : 80 Question Id : 6154753517 Question Type : MCQ Option Shuffling : No Display Question Number : Yes
Single Line Question Option : No Option Orientation : Vertical
Correct Marks : 2 Wrong Marks : 0

Which one of the following coins supplies the oldest specimen of Brahmi script and is in a way useful for the history of script?

- (1) Coins of Dhanapala (2) Coins of Mahipala
(3) Coins of Vigrahapala (4) Coins of Anandpala

Options :

61547513717. 1
61547513718. 2
61547513719. 3
61547513720. 4

Question Number : 80 Question Id : 6154753517 Question Type : MCQ Option Shuffling : No Display Question Number : Yes
Single Line Question Option : No Option Orientation : Vertical

Correct Marks : 2 Wrong Marks : 0

निम्नलिखित सिक्कों में किस पर ब्राह्मी लिपि के प्राचीनतम नमूने उपलब्ध हुए हैं और एक तरह से लिपि के इतिहास के लिए उपयोगी हैं?

- (1) धनपाल के सिक्के (2) महिपाल के सिक्के
(3) विग्रहपाल के सिक्के (4) आनन्दपाल के सिक्के

Options :

61547513717. 1
61547513718. 2
61547513719. 3
61547513720. 4

Question Number : 81 Question Id : 6154753518 Question Type : MCQ Option Shuffling : No Display Question Number : Yes
Single Line Question Option : No Option Orientation : Vertical

Correct Marks : 2 Wrong Marks : 0

Which of the following places are centres of late phase of Gandhara art?

- (a) Mohra Moradu (b) Bamian
(c) Jaulian (d) Lorian Tongai

Choose the correct option.

- (1) (a) and (b) (2) (b) and (d)
(3) (a) and (c) (4) (b) and (c)

Options :

61547513721. 1
61547513722. 2
61547513723. 3
61547513724. 4

Question Number : 81 Question Id : 6154753518 Question Type : MCQ Option Shuffling : No Display Question Number : Yes
Single Line Question Option : No Option Orientation : Vertical

Correct Marks : 2 Wrong Marks : 0

निम्नलिखित स्थानों में से गांधार कला के परवर्ती चरणवाले केन्द्र कौन से हैं?

- | | |
|-----------------|-------------------|
| (a) मोहर मोरादू | (b) बामियान |
| (c) जौलियान | (d) लोरियन टोंगाइ |

सही विकल्प का चयन करें -

- | | |
|----------------|----------------|
| (1) (a) और (b) | (2) (b) और (d) |
| (3) (a) और (c) | (4) (b) और (c) |

Options :

61547513721. 1
61547513722. 2
61547513723. 3
61547513724. 4

Question Number : 82 Question Id : 6154753519 Question Type : MCQ Option Shuffling : No Display Question Number : Yes
Single Line Question Option : No Option Orientation : Vertical

Correct Marks : 2 Wrong Marks : 0

Which of the following depicts the marriage scene of Parvati and Siva known as Vaivahik Murti or Kalyansundara?

- (1) Brihadeswara Temple of Tanjore
- (2) Lingaraja Temple of Bhubaneshwar
- (3) Elephanta Relief
- (4) Relief of Ellora

Options :

61547513725. 1
61547513726. 2
61547513727. 3
61547513728. 4

Question Number : 82 Question Id : 6154753519 Question Type : MCQ Option Shuffling : No Display Question Number : Yes
Single Line Question Option : No Option Orientation : Vertical

Correct Marks : 2 Wrong Marks : 0

निम्नलिखित में से किसमें पार्वती और शिव के विवाह का दृश्य, जिसे वैवाहिक मूर्ति या कल्याण सुंदर कहा जाता है, का चित्रण किया गया है?

- (1) तंजौर का बृहदेश्वर मंदिर
- (2) भुवनेश्वर का लिंगराज मंदिर
- (3) एलीफेंटा रिलीफ
- (4) एलोरा का रिलीफ

Options :

- 61547513725. 1
- 61547513726. 2
- 61547513727. 3
- 61547513728. 4

Question Number : 83 Question Id : 6154753520 Question Type : MCQ Option Shuffling : No Display Question Number : Yes Single Line Question Option : No Option Orientation : Vertical

Correct Marks : 2 Wrong Marks : 0

Krishna and Balram have been depicted on the coins of which Indo-Greek King.

- (1) Antialkides
- (2) Pantaleon
- (3) Agathocles
- (4) Strato I

Options :

- 61547513729. 1
- 61547513730. 2
- 61547513731. 3
- 61547513732. 4

Question Number : 83 Question Id : 6154753520 Question Type : MCQ Option Shuffling : No Display Question Number : Yes Single Line Question Option : No Option Orientation : Vertical

Correct Marks : 2 Wrong Marks : 0

किस इंडो-ग्रीक राजा के सिक्कों पर कृष्ण और बलराम को चित्रित किया गया है?

- (1) एण्टियलकाइडेस
- (2) पेन्टालियन
- (3) अगाथोक्लीज
- (4) स्ट्रेटो I

Options :

- 61547513729. 1
- 61547513730. 2
- 61547513731. 3
- 61547513732. 4

Question Number : 84 Question Id : 6154753521 Question Type : MCQ Option Shuffling : No Display Question Number : Yes Single Line Question Option : No Option Orientation : Vertical

Correct Marks : 2 Wrong Marks : 0

The so-called Indra Panel in Buddhist Vihara cave at Bhaja has been recently identified with which Jataka Scene?

- (1) Mahakapi Jataka
- (2) Chaddanta Jataka
- (3) Matri Poshaka Jataka
- (4) Kulavaka Jataka

Options :

- 61547513733. 1
- 61547513734. 2
- 61547513735. 3
- 61547513736. 4

Question Number : 84 Question Id : 6154753521 Question Type : MCQ Option Shuffling : No Display Question Number : Yes
Single Line Question Option : No Option Orientation : Vertical

Correct Marks : 2 Wrong Marks : 0

भाजा स्थित बौद्ध विहार गुफा में तथाकथित इन्द्र पैनल हाल ही में किस जातक दृश्य से समीकृत किया गया है?

- | | |
|---------------------|------------------|
| (1) महाकपि जातक | (2) छद्मन्त जातक |
| (3) मत्री पोषक जातक | (4) कुलवाक जातक |

Options :

61547513733. 1

61547513734. 2

61547513735. 3

61547513736. 4

Question Number : 85 Question Id : 6154753522 Question Type : MCQ Option Shuffling : No Display Question Number : Yes
Single Line Question Option : No Option Orientation : Vertical

Correct Marks : 2 Wrong Marks : 0

Terracota life size images of goddess Ganga and Yamuna dating to Gupta Period have been found from which site?

- | | |
|------------------|--------------|
| (1) Ujjain | (2) Kausambi |
| (3) Ahichchhatra | (4) Nalanda |

Options :

61547513737. 1

61547513738. 2

61547513739. 3

61547513740. 4

Question Number : 85 Question Id : 6154753522 Question Type : MCQ Option Shuffling : No Display Question Number : Yes
Single Line Question Option : No Option Orientation : Vertical

Correct Marks : 2 Wrong Marks : 0

गुप्त काल में देवी गंगा और यमुना की पकी मिट्टी की आदम कद मूर्तियाँ किस स्थल से मिली हैं?

- | | |
|---------------|-------------|
| (1) उज्जैन | (2) कौशांबी |
| (3) अहिच्छत्र | (4) नालंदा |

Options :

61547513737. 1

61547513738. 2

61547513739. 3

61547513740. 4

Question Number : 86 Question Id : 6154753523 Question Type : MCQ Option Shuffling : No Display Question Number : Yes
Single Line Question Option : No Option Orientation : Vertical

Correct Marks : 2 Wrong Marks : 0

Udaigiri cave near Vidisa bears an inscription that gives the name of which famous Gupta ruler?

- (1) Samudragupta (2) Kumaragupta I
(3) Chandragupta II (4) Skandagupta

Options :

61547513741. 1
61547513742. 2
61547513743. 3
61547513744. 4

Question Number : 86 Question Id : 6154753523 Question Type : MCQ Option Shuffling : No Display Question Number : Yes
Single Line Question Option : No Option Orientation : Vertical

Correct Marks : 2 Wrong Marks : 0

विदिशा के निकट उदयगिरि गुफा में प्राप्त अभिलेख में किस प्रसिद्ध गुप्त शासक का नाम दिया गया है?

- (1) समुद्रगुप्त (2) कुमारगुप्त प्रथम
(3) चन्द्रगुप्त द्वितीय (4) स्कन्दगुप्त

Options :

61547513741. 1
61547513742. 2
61547513743. 3
61547513744. 4

Question Number : 87 Question Id : 6154753524 Question Type : MCQ Option Shuffling : No Display Question Number : Yes
Single Line Question Option : No Option Orientation : Vertical

Correct Marks : 2 Wrong Marks : 0

Which divinity is often depicted wearing boots?

- (1) Vishnu (2) Surya
(3) Brahma (4) Shiva

Options :

61547513745. 1
61547513746. 2
61547513747. 3
61547513748. 4

Question Number : 87 Question Id : 6154753524 Question Type : MCQ Option Shuffling : No Display Question Number : Yes
Single Line Question Option : No Option Orientation : Vertical

Correct Marks : 2 Wrong Marks : 0

किस देवता का चित्रण अक्सर जूते धारण किए हुए किया जाता है?

(1) विष्णु

(2) सूर्य

(3) ब्रह्मा

(4) शिव

Options :

61547513745. 1

61547513746. 2

61547513747. 3

61547513748. 4

Question Number : 88 Question Id : 6154753525 Question Type : MCQ Option Shuffling : No Display Question Number : Yes
Single Line Question Option : No Option Orientation : Vertical

Correct Marks : 2 Wrong Marks : 0

Which rock-cut cave in Western Maharashtra bears the famous inscription of Gautamiputra Satakarni and Vasishtiputra Pulumavi?

(1) Bedsa cave

(2) Kandane cave

(3) Nasik cave 3

(4) Bhaja cave

Options :

61547513749. 1

61547513750. 2

61547513751. 3

61547513752. 4

Question Number : 88 Question Id : 6154753525 Question Type : MCQ Option Shuffling : No Display Question Number : Yes
Single Line Question Option : No Option Orientation : Vertical

Correct Marks : 2 Wrong Marks : 0

पश्चिम महाराष्ट्र के किस शैलोत्खात गुफा में गौतमीपुत्र सातकर्णी और वशिष्ठीपुत्र पुलमावी के प्रसिद्ध अभिलेख हैं?

(1) बेदसा गुफा

(2) कोंडाने गुफा

(3) नासिक गुफा 3

(4) भाजा गुफा

Options :

61547513749. 1

61547513750. 2

61547513751. 3

61547513752. 4

Question Number : 89 Question Id : 6154753526 Question Type : MCQ Option Shuffling : No Display Question Number : Yes
Single Line Question Option : No Option Orientation : Vertical

Correct Marks : 2 Wrong Marks : 0

The Khajuraho group of temples was built during the supremacy of which rulers :

(1) Guptas

(2) Chandelas

(3) Chalukyas

(4) Rashtrakutas

Options :

- 61547513753. 1
- 61547513754. 2
- 61547513755. 3
- 61547513756. 4

Question Number : 89 Question Id : 6154753526 Question Type : MCQ Option Shuffling : No Display Question Number : Yes
Single Line Question Option : No Option Orientation : Vertical

Correct Marks : 2 Wrong Marks : 0

खुजराहो के मंदिरों का निर्माण किन शासकों के आधिपत्य के दौरान किया गया ?

- (1) गुप्त
- (2) चंदेल
- (3) चालुक्य
- (4) राष्ट्रकूट

Options :

- 61547513753. 1
- 61547513754. 2
- 61547513755. 3
- 61547513756. 4

Question Number : 90 Question Id : 6154753527 Question Type : MCQ Option Shuffling : No Display Question Number : Yes
Single Line Question Option : No Option Orientation : Vertical

Correct Marks : 2 Wrong Marks : 0

Where is the Ashokan pillar also bearing the inscriptions of Samudragupta and Mughal emperor Jahangir located?

- (1) Sarnath
- (2) Allahabad
- (3) Sanchi
- (4) Delhi

Options :

- 61547513757. 1
- 61547513758. 2
- 61547513759. 3
- 61547513760. 4

Question Number : 90 Question Id : 6154753527 Question Type : MCQ Option Shuffling : No Display Question Number : Yes
Single Line Question Option : No Option Orientation : Vertical

Correct Marks : 2 Wrong Marks : 0

अशोक स्तंभ, जिसमें समुद्रगुप्त के अभिलेख और मुगल शासक जहाँगीर का भी उल्लेख है, कहाँ स्थित है?

- (1) सारनाथ
- (2) इलाहाबाद
- (3) सांची
- (4) दिल्ली

Options :

- 61547513757. 1
- 61547513758. 2
- 61547513759. 3
- 61547513760. 4

Question Number : 91 Question Id : 6154753528 Question Type : MCQ Option Shuffling : No Display Question Number : Yes
Single Line Question Option : No Option Orientation : Vertical

Correct Marks : 2 Wrong Marks : 0

Which of the following are related to the Lower Palaeolithic Period in Europe?

- (a) Acheulian (b) Magdalenian
(c) Mousterian (d) Micoquian

Choose the correct answer from the code given below:

- (1) (a) and (b) (2) (a) and (c)
(3) (a) and (d) (4) (b) and (c)

Options :

61547513761. 1
61547513762. 2
61547513763. 3
61547513764. 4

Question Number : 91 Question Id : 6154753528 Question Type : MCQ Option Shuffling : No Display Question Number : Yes
Single Line Question Option : No Option Orientation : Vertical

Correct Marks : 2 Wrong Marks : 0

निम्नलिखित में से कौन यूरोप में निम्न पुरापाषाण काल से संबंधित हैं?

- (a) अश्यूलियन (b) मगदालेनियन
(c) माउस्टेरियन (d) माइकोकियन

निम्नलिखित कूट में से सही उत्तर का चयन करें -

- (1) (a) और (b) (2) (a) और (c)
(3) (a) और (d) (4) (b) और (c)

Options :

61547513761. 1
61547513762. 2
61547513763. 3
61547513764. 4

Question Number : 92 Question Id : 6154753529 Question Type : MCQ Option Shuffling : No Display Question Number : Yes
Single Line Question Option : No Option Orientation : Vertical

Correct Marks : 2 Wrong Marks : 0

Which of the dating methods are known as Chronometric method of dating?

- (a) Palaeomagnetic dating (b) Biostratigraphy
(c) Optically – Stimulated Luminescence (d) Fluorine – Uranium – Nitrogen analysis

Choose the correct answer from the code given below:

- (1) (a) and (b) (2) (a) and (c)
(3) (b) and (c) (4) (c) and (d)

Options :

61547513765. 1
61547513766. 2

61547513767. 3

61547513768. 4

Question Number : 92 Question Id : 6154753529 Question Type : MCQ Option Shuffling : No Display Question Number : Yes
Single Line Question Option : No Option Orientation : Vertical

Correct Marks : 2 Wrong Marks : 0

निम्नलिखित में से ऐसी तिथि निर्धारण प्रविधि कौन सी हैं जिन्हें तिथिनिर्धारण की क्रोनोमेट्रिक (काल क्रमिक) प्रविधि कहा जाता है?

- | | |
|------------------------------------|---|
| (a) पैलियो मैग्नेटिक तिथि निर्धारण | (b) जैवस्तरीयता |
| (c) प्रकाशीय-प्रेरित संदीप्तशील | (d) फ्लूओराइन-यूरेनियम-नाइट्रोजन विश्लेषण |

नीचे दिए गये कूट में से सही उत्तर का चयन करें -

- | | |
|----------------|----------------|
| (1) (a) और (b) | (2) (a) और (c) |
| (3) (b) और (c) | (4) (c) और (d) |

Options :

61547513765. 1

61547513766. 2

61547513767. 3

61547513768. 4

Question Number : 93 Question Id : 6154753530 Question Type : MCQ Option Shuffling : No Display Question Number : Yes
Single Line Question Option : No Option Orientation : Vertical

Correct Marks : 2 Wrong Marks : 0

Excavated Lower Palaeolithic sites of Rajasthan are:

- | | |
|-----------------|-----------------|
| (a) Samadhiyala | (b) Gangapur |
| (c) Didwana | (d) Singi Talav |

Choose the correct option:

- | | |
|-----------------|-----------------|
| (1) (a) and (b) | (2) (b) and (c) |
| (3) (c) and (d) | (4) (b) and (d) |

Options :

61547513769. 1

61547513770. 2

61547513771. 3

61547513772. 4

Question Number : 93 Question Id : 6154753530 Question Type : MCQ Option Shuffling : No Display Question Number : Yes
Single Line Question Option : No Option Orientation : Vertical

Correct Marks : 2 Wrong Marks : 0

राजस्थान के उत्खनित निम्न पुरापाषाण युगीन स्थल है :

- | | |
|--------------|----------------|
| (a) समधियाला | (b) गंगापुर |
| (c) डिडवाना | (d) सिंगी तलाव |

सही विकल्प का चयन कीजिए :

- | | |
|----------------|----------------|
| (1) (a) और (b) | (2) (b) और (c) |
| (3) (c) और (d) | (4) (b) और (d) |

Options :

61547513769. 1
61547513770. 2
61547513771. 3
61547513772. 4

Question Number : 94 Question Id : 6154753531 Question Type : MCQ Option Shuffling : No Display Question Number : Yes
Single Line Question Option : No Option Orientation : Vertical
Correct Marks : 2 Wrong Marks : 0

Detailed typological studies for the Middle Palaeolithic sites was done by P.C. Pant. These sites include:

- | | |
|---------------|---------------|
| (a) Bataubir | (b) Chainpura |
| (c) Baithakwa | (d) Parsidhia |

Choose the correct answer from code given below:

- | | |
|-----------------|-----------------|
| (1) (a) and (b) | (2) (b) and (c) |
| (3) (c) and (d) | (4) (a) and (c) |

Options :

61547513773. 1
61547513774. 2
61547513775. 3
61547513776. 4

Question Number : 94 Question Id : 6154753531 Question Type : MCQ Option Shuffling : No Display Question Number : Yes
Single Line Question Option : No Option Orientation : Vertical
Correct Marks : 2 Wrong Marks : 0

मध्य पाषाण युगीन स्थलों के लिए पी.सी.पंत द्वारा किये गये विस्तृत प्रारूपिकीय अध्ययन के स्थलों में शामिल हैं :

- | | |
|--------------|---------------|
| (a) बटाउबीर | (b) चैनपुरा |
| (c) ब्रैठकवा | (d) पर्सिधिया |

सही विकल्प का चयन कीजिए :

- | | |
|----------------|----------------|
| (1) (a) और (b) | (2) (b) और (c) |
| (3) (c) और (d) | (4) (a) और (c) |

Options :

61547513773. 1
61547513774. 2
61547513775. 3
61547513776. 4

Question Number : 95 Question Id : 6154753532 Question Type : MCQ Option Shuffling : No Display Question Number : Yes
Single Line Question Option : No Option Orientation : Vertical

Correct Marks : 2 Wrong Marks : 0

In Potassium – Argon Dating which of the following minerals are used?

- | | |
|------------------|---------------|
| (a) Volcanic ash | (b) Sandstone |
| (c) Basalt | (d) Obsidian |

Choose the correct answer from the code given below:

- | | |
|----------------------|----------------------|
| (1) (a), (b) and (c) | (2) (a), (c) and (d) |
| (3) (b), (c) and (d) | (4) (a), (b) and (d) |

Options :

61547513777. 1
61547513778. 2
61547513779. 3
61547513780. 4

Question Number : 95 Question Id : 6154753532 Question Type : MCQ Option Shuffling : No Display Question Number : Yes
Single Line Question Option : No Option Orientation : Vertical

Correct Marks : 2 Wrong Marks : 0

पौटेशियम-आर्गन तिथि प्रणाली में निम्नलिखित में से कौन-से खनिज लवण का प्रयोग किया जाता है?

- (a) ज्वालामुखीय राख (b) बलुवापत्थर
(c) बसाल्ट (d) ऑक्सिडिअन

सही विकल्प का चयन कीजिए :

- (1) (a), (b) और (c) (2) (a), (c) और (d)
(3) (b), (c) और (d) (4) (a), (b) और (d)

Options :

61547513777. 1
61547513778. 2
61547513779. 3
61547513780. 4

Question Number : 96 Question Id : 6154753533 Question Type : MCQ Option Shuffling : No Display Question Number : Yes
Single Line Question Option : No Option Orientation : Vertical

Correct Marks : 2 Wrong Marks : 0

In Indian Archaeology, site catchment analysis has been applied successfully at

- (a) Inamgaon (b) Kuntasi
(c) Lothal (d) Balathal

Choose the correct answer from the code given below:

- (1) (a), (b) and (c) (2) (a), (b) and (d)
(3) (a), (c) and (d) (4) (b), (c) and (d)

Options :

61547513781. 1
61547513782. 2
61547513783. 3
61547513784. 4

Question Number : 96 Question Id : 6154753533 Question Type : MCQ Option Shuffling : No Display Question Number : Yes
Single Line Question Option : No Option Orientation : Vertical

Correct Marks : 2 Wrong Marks : 0

भारतीय पुरातत्व में स्थल कैचमेंट विश्लेषण का सफलतापूर्वक प्रयोग कहाँ किया गया है?

- (a) इनामगांव (b) कुन्तासी
(c) लोधल (d) बालाथल

सही विकल्प का चयन कीजिए :

- (1) (a), (b) और (c) (2) (a), (b) और (d)
(3) (a), (c) और (d) (4) (b), (c) और (d)

Options :

61547513781. 1
61547513782. 2
61547513783. 3
61547513784. 4

Question Number : 97 Question Id : 6154753534 Question Type : MCQ Option Shuffling : No Display Question Number : Yes
Single Line Question Option : No Option Orientation : Vertical
Correct Marks : 2 Wrong Marks : 0

Microlithic tools have been reported from the lowest level of which of the following sites?

- (a) Allahdino (b) Hallur
(c) Amri (d) Tilwara

Choose the correct answer from the code given below:

- (1) (a), (b) and (c) (2) (a), (c) and (d)
(3) (a), (b) and (d) (4) (b), (c) and (d)

Options :

61547513785. 1
61547513786. 2
61547513787. 3
61547513788. 4

Question Number : 97 Question Id : 6154753534 Question Type : MCQ Option Shuffling : No Display Question Number : Yes
Single Line Question Option : No Option Orientation : Vertical
Correct Marks : 2 Wrong Marks : 0

लघुपाषाण युगीन औजार निम्नलिखित में से किन स्थलों के सबसे निचले स्तर पर प्राप्त हुए हैं?

- (a) अल्लाहदीनो (b) हल्लूर
(c) आमरी (d) तिलवारा

सही विकल्प का चयन कीजिए :

- (1) (a), (b) और (c) (2) (a), (c) और (d)
(3) (a), (b) और (d) (4) (b), (c) और (d)

Options :

61547513785. 1
61547513786. 2
61547513787. 3
61547513788. 4

Question Number : 98 Question Id : 6154753535 Question Type : MCQ Option Shuffling : No Display Question Number : Yes
Single Line Question Option : No Option Orientation : Vertical

Correct Marks : 2 Wrong Marks : 0

Harappan cubical and truncated spherical weights have been made of

- (a) Geothite (b) Basalt
(c) Sandstone (d) Lapis – Lazuli

Choose the correct answer from the code given below:

- (1) (a), (b) and (c) (2) (a), (b) and (d)
(3) (a), (c) and (d) (4) (b), (c) and (d)

Options :

61547513789. 1
61547513790. 2
61547513791. 3
61547513792. 4

Question Number : 98 Question Id : 6154753535 Question Type : MCQ Option Shuffling : No Display Question Number : Yes
Single Line Question Option : No Option Orientation : Vertical

Correct Marks : 2 Wrong Marks : 0

हड़प्पा के घनाकार और काटकर बनाये गये गोलाकार बाट किनसे बने हैं?

- (a) गोयथाइट (b) बसाल्ट
(c) बलूवापत्थर (d) लापिस-लाजुली

सही विकल्प का चयन कीजिए :

- (1) (a), (b) और (c) (2) (a), (b) और (d)
(3) (a), (c) और (d) (4) (b), (c) और (d)

Options :

61547513789. 1

61547513790. 2

61547513791. 3

61547513792. 4

Question Number : 99 Question Id : 6154753536 Question Type : MCQ Option Shuffling : No Display Question Number : Yes
Single Line Question Option : No Option Orientation : Vertical

Correct Marks : 2 Wrong Marks : 0

Which two of the following mesolithic sites were excavated by B. Subharao.

- (a) Gauri Gundam (b) Hathkamba
(c) Sangankal (d) Amarpur

Choose the correct option:

- (1) (c) and (d) (2) (a) and (b)
(3) (b) and (c) (4) (a) and (d)

Options :

61547513793. 1

61547513794. 2

61547513795. 3

61547513796. 4

Question Number : 99 Question Id : 6154753536 Question Type : MCQ Option Shuffling : No Display Question Number : Yes
Single Line Question Option : No Option Orientation : Vertical

Correct Marks : 2 Wrong Marks : 0

बी. सुब्बाराव द्वारा निम्नलिखित में से किन मध्य पाषाण युगीन स्थलों की खुदाई की गई थी?

- (a) गौरीगुंडम (b) हथकम्बा
(c) संगनकल (d) अमरपुर

सही विकल्प का चयन कीजिए :

- (1) (c) और (d) (2) (a) और (b)
(3) (b) और (c) (4) (a) और (d)

Options :

61547513793. 1
61547513794. 2
61547513795. 3
61547513796. 4

Question Number : 100 Question Id : 6154753537 Question Type : MCQ Option Shuffling : No Display Question Number : Yes
Single Line Question Option : No Option Orientation : Vertical
Correct Marks : 2 Wrong Marks : 0

Which of the following two mesolithic sites are in the northern Vindhya?

- (a) Mahadaha (b) Morahana Pahar
(c) Lekhahia (d) Kuchai

Choose the correct option

- (1) (a) and (b) (2) (b) and (c)
(3) (c) and (d) (4) (a) and (c)

Options :

61547513797. 1
61547513798. 2
61547513799. 3
61547513800. 4

Question Number : 100 Question Id : 6154753537 Question Type : MCQ Option Shuffling : No Display Question Number : Yes
Single Line Question Option : No Option Orientation : Vertical
Correct Marks : 2 Wrong Marks : 0

निम्नलिखित में से कौन-से दो मध्यपाषाण युगीन स्थल उत्तरी विन्ध्य क्षेत्र में स्थित हैं?

- (a) महदहा (b) मोरहना पहाड़
(c) लेखहिया (d) कुचाई

सही विकल्प का चयन कीजिए :

- (1) (a) और (b) (2) (b) और (c)
(3) (c) और (d) (4) (a) और (c)

Options :

61547513797. 1
61547513798. 2
61547513799. 3
61547513800. 4

Question Number : 101 Question Id : 6154753538 Question Type : MCQ Option Shuffling : No Display Question Number : Yes
Single Line Question Option : No Option Orientation : Vertical

Correct Marks : 2 Wrong Marks : 0

Which two of the following excavated Mesolithic sites are in Gujarat?

- (a) Akhaj (b) Hirpura
(c) Pachad (d) Pachmarhi

Choose the correct option :

- (1) (a) and (d) (2) (c) and (d)
(3) (b) and (c) (4) (a) and (b)

Options :

61547513801. 1
61547513802. 2
61547513803. 3
61547513804. 4

Question Number : 101 Question Id : 6154753538 Question Type : MCQ Option Shuffling : No Display Question Number : Yes
Single Line Question Option : No Option Orientation : Vertical

Correct Marks : 2 Wrong Marks : 0

निम्नलिखित में से कौन-दो मध्यपाषाण युगीन उत्खनित स्थल गुजरात में स्थित हैं?

- (a) अखज (b) हीरपुरा
(c) पचाड़ (d) पचमढी

सही विकल्प का चयन कीजिए :

- (1) (a) और (d) (2) (c) और (d)
(3) (b) और (c) (4) (a) और (b)

Options :

61547513801. 1
61547513802. 2
61547513803. 3
61547513804. 4

Question Number : 102 Question Id : 6154753539 Question Type : MCQ Option Shuffling : No Display Question Number : Yes
Single Line Question Option : No Option Orientation : Vertical

Correct Marks : 2 Wrong Marks : 0

From which of the following Harappan sites hoards of jewellery have been reported?

- (a) Allahdino (b) Farmana
(c) Mandi (d) Tarkhanwala Dera

Choose the correct answer from the code given below:

- (1) (a) and (d) (2) (a) and (c)
(3) (b) and (d) (4) (b) and (c)

Options :

61547513805. 1
61547513806. 2
61547513807. 3
61547513808. 4

Question Number : 102 Question Id : 6154753539 Question Type : MCQ Option Shuffling : No Display Question Number : Yes
Single Line Question Option : No Option Orientation : Vertical

Correct Marks : 2 Wrong Marks : 0

निम्नलिखित में से किन हड़प्पीय स्थलों से आभूषणों के जर्खीरे प्राप्त हुए हैं?

- (a) अल्लाहदीनो (b) फरमाना
(c) मांडी (d) तरखनवाला डेरा

सही विकल्प का चयन कीजिए :

- (1) (a) और (d) (2) (a) और (c)
(3) (b) और (d) (4) (b) और (c)

Options :

61547513805. 1
61547513806. 2
61547513807. 3
61547513808. 4

Question Number : 103 Question Id : 6154753540 Question Type : MCQ Option Shuffling : No Display Question Number : Yes
Single Line Question Option : No Option Orientation : Vertical

Correct Marks : 2 Wrong Marks : 0

At which of the following Harappan sites large granaries have been found?

- (a) Banawali (b) Harappa
(c) Mohenjodaro (d) Kalibangan

Choose the correct answer from the code given below :

- (1) (a) and (b) (2) (b) and (c)
(3) (c) and (d) (4) (a) and (d)

Options : Examrace

www.examrace.com

61547513809. 1
61547513810. 2
61547513811. 3
61547513812. 4

Question Number : 103 Question Id : 6154753540 Question Type : MCQ Option Shuffling : No Display Question Number : Yes
Single Line Question Option : No Option Orientation : Vertical

Correct Marks : 2 Wrong Marks : 0

निम्नलिखित में से किन हड़प्पा स्थलों पर बड़े अन्नागार पाये गये हैं?

- (a) बानावली (b) हड़प्पा
(c) मोहनजोदड़ो (d) कालीबंगा

सही विकल्प का चयन कीजिए :

- (1) (a) और (b) (2) (b) और (c)
(3) (c) और (d) (4) (a) और (d)

Options :

61547513809. 1
61547513810. 2
61547513811. 3
61547513812. 4

Question Number : 104 Question Id : 6154753541 Question Type : MCQ Option Shuffling : No Display Question Number : Yes
Single Line Question Option : No Option Orientation : Vertical

Correct Marks : 2 Wrong Marks : 0

Which of the following artefacts belong to the mature Harappan culture?

- (a) Steatite Seal (b) Chert Blade
(c) Bricks of ratio 4:2:1 (d) Ghata Shaped Terracotta bead

Choose the correct answer from the code given below :

- (1) (a), (b) and (c) (2) (b), (c) and (d)
(3) (a), (b) and (d) (4) (a), (c) and (d)

Options :

61547513813. 1
61547513814. 2
61547513815. 3
61547513816. 4

Question Number : 104 Question Id : 6154753541 Question Type : MCQ Option Shuffling : No Display Question Number : Yes
Single Line Question Option : No Option Orientation : Vertical

Correct Marks : 2 Wrong Marks : 0

निम्नलिखित में से कौन-सी कलाकृतियां प्रौढ़ हड़प्पा संस्कृति की हैं?

- (a) स्टीअटाइट मुहर (b) चर्ट ब्लेड
(c) 4 : 2 : 1 अनुपात की ईंट (d) घट आकार के पक्की मिट्टी के मनके

सही विकल्प का चयन कीजिए :

- (1) (a), (b) और (c) (2) (b), (c) और (d)
(3) (a), (b) और (d) (4) (a), (c) और (d)

Options :

61547513813. 1
61547513814. 2
61547513815. 3
61547513816. 4

Question Number : 105 Question Id : 6154753542 Question Type : MCQ Option Shuffling : No Display Question Number : Yes
Single Line Question Option : No Option Orientation : Vertical

Correct Marks : 2 Wrong Marks : 0

Which of the following Harappan sites have yielded evidence of fortifications?

- (a) Sotka-Koh (b) Chanhudaro
(c) Desalpur (d) Allahdino

Choose the correct answer from the code given below :

- (1) (a) and (b) (2) (b) and (c)
(3) (a) and (c) (4) (c) and (d)

Options :

61547513817. 1
61547513818. 2
61547513819. 3
61547513820. 4

Question Number : 105 Question Id : 6154753542 Question Type : MCQ Option Shuffling : No Display Question Number : Yes
Single Line Question Option : No Option Orientation : Vertical

Correct Marks : 2 Wrong Marks : 0

निम्नलिखित में से किन हड़प्पा स्थलों पर दुर्गाकरण के साक्ष्य प्राप्त हुए है?

- (a) सोत्का-कोह (b) चान्हुदारो
(c) देसलपुर (d) अल्लाहदीनो

सही विकल्प का चयन कीजिए :

- (1) (a) और (b) (2) (b) और (c)
(3) (a) और (c) (4) (c) और (d)

Options :

61547513817. 1
61547513818. 2
61547513819. 3
61547513820. 4

Question Number : 106 Question Id : 6154753543 Question Type : MCQ Option Shuffling : No Display Question Number : Yes
Single Line Question Option : No Option Orientation : Vertical
Correct Marks : 2 Wrong Marks : 0

Who among the following scholars have worked on the Indus script?

- (a) R.N. Mehta (b) Asko Parpola
(c) Suraj Bhan (d) I. Mahadevan

Choose the correct answer from the code given below :

- (1) (a) and (c) (2) (b) and (c)
(3) (a) and (d) (4) (b) and (d)

Options :

61547513821. 1
61547513822. 2
61547513823. 3
61547513824. 4

Question Number : 106 Question Id : 6154753543 Question Type : MCQ Option Shuffling : No Display Question Number : Yes
Single Line Question Option : No Option Orientation : Vertical
Correct Marks : 2 Wrong Marks : 0

निम्नलिखित में से किन विद्वानों ने सिंधु लिपि पर कार्य किया है?

- | | |
|------------------|-----------------|
| (a) आर.एन. मेहता | (b) आसको परपोला |
| (c) सूरज भान | (d) आई. महादेवन |

सही विकल्प का चयन कीजिए :

- | | |
|----------------|----------------|
| (1) (a) और (c) | (2) (b) और (c) |
| (3) (a) और (d) | (4) (b) और (d) |

Options :

61547513821. 1
61547513822. 2
61547513823. 3
61547513824. 4

Question Number : 107 Question Id : 6154753544 Question Type : MCQ Option Shuffling : No Display Question Number : Yes
Single Line Question Option : No Option Orientation : Vertical

Correct Marks : 2 Wrong Marks : 0

Who among the following numismatists advanced the theory of indigenous origin of Indian coins?

- | | |
|------------------|-------------------|
| (a) A.S. Altekar | (b) E.J. Rapson |
| (c) Durga Prasad | (d) Edward Thomas |

Choose the correct options :

- | | |
|-----------------|-----------------|
| (1) (a) and (b) | (2) (b) and (d) |
| (3) (a) and (c) | (4) (a) and (d) |

Options :

61547513825. 1
61547513826. 2
61547513827. 3
61547513828. 4

Question Number : 107 Question Id : 6154753544 Question Type : MCQ Option Shuffling : No Display Question Number : Yes
Single Line Question Option : No Option Orientation : Vertical

Correct Marks : 2 Wrong Marks : 0

निम्नलिखित मुद्राशास्त्रियों में से किसने भारतीय सिक्कों के स्वदेशी उद्गम के सिद्धांत का समर्थन किया?

- (a) ए.एस. अल्टेकर (b) ई.जे. रेपसन
(c) दुर्गा प्रसाद (d) एडवर्ड थॉमस

सही विकल्प का चयन कीजिए :

- (1) (a) और (b) (2) (b) और (d)
(3) (a) और (c) (4) (a) और (d)

Options :

61547513825. 1
61547513826. 2
61547513827. 3
61547513828. 4

Question Number : 108 Question Id : 6154753545 Question Type : MCQ Option Shuffling : No Display Question Number : Yes
Single Line Question Option : No Option Orientation : Vertical

Correct Marks : 2 Wrong Marks : 0

Which two among the following inscriptions are Saivite?

- (a) Karmadanda Inscription of the time of Kumargupta
(b) Besnagar Pillar Inscription
(c) Thiruvallangadu copper Plate Inscription
(d) Bhor State Museum Plate of Dharavarsa Dhruvasena

Choose the correct option :

- (1) (a) and (b)
(2) (b) and (d)
(3) (a) and (c)
(4) (a) and (d)

Options :

61547513829. 1
61547513830. 2
61547513831. 3
61547513832. 4

Question Number : 108 Question Id : 6154753545 Question Type : MCQ Option Shuffling : No Display Question Number : Yes
Single Line Question Option : No Option Orientation : Vertical

Correct Marks : 2 Wrong Marks : 0

निम्नलिखित में से कौन-से दो शिलालेख शैव सम्प्रदाय से संबंधित हैं?

- (a) कुमारगुप्त के समय का करमदण्डा अभिलेख
- (b) बेसनगर स्तम्भ अभिलेख
- (c) थिरुवलंगाडु ताम्र फलक अभिलेख
- (d) धारावर्ष ध्रुवसेन का भोर राज्य संग्रहालय फलक

सही विकल्प का चयन कीजिए :

- (1) (a) और (b)
- (2) (b) और (d)
- (3) (a) और (c)
- (4) (a) और (d)

Options :

- 61547513829. 1
- 61547513830. 2
- 61547513831. 3
- 61547513832. 4

Question Number : 109 Question Id : 6154753546 Question Type : MCQ Option Shuffling : No Display Question Number : Yes
Single Line Question Option : No Option Orientation : Vertical
Correct Marks : 2 Wrong Marks : 0

Which of the following works deal with the Kharosthi inscriptions and Kalchuri inscriptions?

- (a) Corpus Inscriptionam Indicarum Vol. I
- (b) Corpus Inscriptionam Indicarum Vol. II
- (c) Corpus Inscriptionam Indicarum Vol. III
- (d) Corpus Inscriptionam Indicarum Vol IV

Codes:

- (1) (a) and (d)
- (2) (b) and (c)
- (3) (b) and (d)
- (4) (a) and (c)

Options :

61547513833. 1

61547513834. 2

61547513835. 3

61547513836. 4

Question Number : 109 Question Id : 6154753546 Question Type : MCQ Option Shuffling : No Display Question Number : Yes
Single Line Question Option : No Option Orientation : Vertical

Correct Marks : 2 Wrong Marks : 0

निम्नलिखित में से कौन-सी कृतियाँ खरोष्ठी शिलालेखों और कल्चुरि शिलालेखों से संबंधित हैं?

- (a) कॉर्पस इंडिक्रिप्शनम इंडिकेरम भाग I
- (b) कॉर्पस इंडिक्रिप्शनम इंडिकेरम भाग II
- (c) कॉर्पस इंडिक्रिप्शनम इंडिकेरम भाग III
- (d) कॉर्पस इंडिक्रिप्शनम इंडिकेरम भाग IV

सही विकल्प का चयन कीजिए :

- (1) (a) और (d)
- (2) (b) और (c)
- (3) (b) और (d)
- (4) (a) और (c)

Options :

- 61547513833. 1
- 61547513834. 2
- 61547513835. 3
- 61547513836. 4

Question Number : 110 Question Id : 6154753547 Question Type : MCQ Option Shuffling : No Display Question Number : Yes
Single Line Question Option : No Option Orientation : Vertical
Correct Marks : 2 Wrong Marks : 0

Which among the following temples are known for erotic sculptures on the exterior wall?

- (a) Sun Temple of Konark
- (b) Brihadesvara Temple of Tanjore
- (c) Kandariya Mahadeva Temple
- (d) Siva Temple of Gangai Konda Cholapuram

Choose the correct option :

- (1) (a) and (d)
- (2) (a) and (b)
- (3) (b) and (d)
- (4) (a) and (c)

Options :

- 61547513837. 1

61547513838. 2

61547513839. 3

61547513840. 4

Question Number : 110 Question Id : 6154753547 Question Type : MCQ Option Shuffling : No Display Question Number : Yes
Single Line Question Option : No Option Orientation : Vertical

Correct Marks : 2 Wrong Marks : 0

निम्नलिखित में से कौन-से मंदिर बाहरी दीवार पर कामुक मूर्तिकला के लिए जाने जाते हैं?

- (a) कोणार्क का सूर्य मंदिर (b) तंजौर का बृहदीश्वर मंदिर
(c) कंदरिया महादेव मंदिर (d) गंगाई कोंड चोलापुरम का शिव मंदिर

सही विकल्प का चयन कीजिए :

- (1) (a) और (d) (2) (a) और (b)
(3) (b) और (d) (4) (a) और (c)

Options :

61547513837. 1

61547513838. 2

61547513839. 3

61547513840. 4

Question Number : 111 Question Id : 6154753548 Question Type : MCQ Option Shuffling : No Display Question Number : Yes
Single Line Question Option : No Option Orientation : Vertical

Correct Marks : 2 Wrong Marks : 0

Who among the Kushana kings portrayed Nana, Oesho and Vasudeva on the reverse of his coins?

- (a) Wema - Kadphises
(b) Huviska
(c) Vasudeva
(d) Kanishka

Options :

61547513841. 1

61547513842. 2

61547513843. 3

61547513844. 4

Question Number : 111 Question Id : 6154753548 Question Type : MCQ Option Shuffling : No Display Question Number : Yes
Single Line Question Option : No Option Orientation : Vertical

Correct Marks : 2 Wrong Marks : 0

कुषाण शासकों में किसने सिक्कों के पृष्ठ भाग पर नाना, ओएशो और वासुदेव का चित्र छपवाया ?

- (1) विम-कडफिसस
- (2) हुविष्क
- (3) वासुदेव
- (4) कनिष्क

Options :

61547513841. 1
61547513842. 2
61547513843. 3
61547513844. 4

Question Number : 112 Question Id : 6154753549 Question Type : MCQ Option Shuffling : No Display Question Number : Yes
Single Line Question Option : No Option Orientation : Vertical

Correct Marks : 2 Wrong Marks : 0

Which are the two sites where mural paintings associated to Gupta Period have been found

- | | |
|------------------|------------|
| (a) Sittanavasal | (b) Ajanta |
| (c) Ellora | (d) Bagh |

Choose the correct option :

- | | |
|-----------------|-----------------|
| (1) (a) and (d) | (2) (b) and (d) |
| (3) (b) and (c) | (4) (a) and (c) |

Options :

61547513845. 1
61547513846. 2
61547513847. 3
61547513848. 4

Question Number : 112 Question Id : 6154753549 Question Type : MCQ Option Shuffling : No Display Question Number : Yes
Single Line Question Option : No Option Orientation : Vertical

Correct Marks : 2 Wrong Marks : 0

निम्नलिखित में से किन दो स्थलों पर गुप्त काल से जुड़े भित्ति-चित्र पाए गये हैं :

- | | |
|----------------|------------|
| (a) सित्तानवसल | (b) अजन्ता |
| (c) एलोरा | (d) बाघ |

सही विकल्प का चयन कीजिए :

- | | |
|----------------|----------------|
| (1) (a) और (d) | (2) (b) और (d) |
| (3) (b) और (c) | (4) (a) और (c) |

Options :

- 61547513845. 1
- 61547513846. 2
- 61547513847. 3
- 61547513848. 4

Question Number : 113 Question Id : 6154753550 Question Type : MCQ Option Shuffling : No Display Question Number : Yes Single Line Question Option : No Option Orientation : Vertical

Correct Marks : 2 Wrong Marks : 0

Carved ivory images of Indian style and origin have been found from which of the foreign sites?

- (a) Ter
- (b) Pompei
- (c) Bhokerdan
- (d) Begram

Choose the correct option :

- (1) (a) and (c)
- (2) (b) and (d)
- (3) (a) and (d)
- (4) (d) and (c)

Options :

- 61547513849. 1
- 61547513850. 2
- 61547513851. 3
- 61547513852. 4

Question Number : 113 Question Id : 6154753550 Question Type : MCQ Option Shuffling : No Display Question Number : Yes Single Line Question Option : No Option Orientation : Vertical

Correct Marks : 2 Wrong Marks : 0

निम्नलिखित में से किन विदेशी स्थलों से भारतीय शैली और मूल के नक्काशी किए गये हाथी दाँत से बनी प्रतिमायेँ पायी गयी हैं?

- (a) टेर
- (b) पॉम्पी
- (c) भोकरदन
- (d) बेग्राम

सही विकल्प का चयन कीजिए :

- (1) (a) और (c)
- (2) (b) और (d)
- (3) (a) और (d)
- (4) (d) और (c)

Options :

- 61547513849. 1
- 61547513850. 2
- 61547513851. 3
- 61547513852. 4

Question Number : 114 Question Id : 6154753551 Question Type : MCQ Option Shuffling : No Display Question Number : Yes Single Line Question Option : No Option Orientation : Vertical

Correct Marks : 2 Wrong Marks : 0

The middle face of the Maheshvara image in Elephanta cave is Maheshvara the two other faces represented are identified with

- (a) Aghora (b) Tatpurush
(c) Ishana (d) Vamadeva

Choose the correct option :

- (1) (a) and (c) (2) (b) and (d)
(3) (a) and (d) (4) (b) and (a)

Options :

61547513853. 1
61547513854. 2
61547513855. 3
61547513856. 4

Question Number : 114 Question Id : 6154753551 Question Type : MCQ Option Shuffling : No Display Question Number : Yes
Single Line Question Option : No Option Orientation : Vertical

Correct Marks : 2 Wrong Marks : 0

एलिफैंटा गुफा में महेश्वर के चित्र का मध्य मुख महेश्वर का है। अन्य दो मुखों की पहचान किस रूप में की गई है?

- (a) अघोर (c) तत्पुरुष
(c) ईशान (d) वामदेव

सही विकल्प का चयन कीजिए :

- (1) (a) और (c) (2) (b) और (d)
(3) (a) और (d) (4) (b) और (a)

Options :

61547513853. 1
61547513854. 2
61547513855. 3
61547513856. 4

Question Number : 115 Question Id : 6154753552 Question Type : MCQ Option Shuffling : No Display Question Number : Yes
Single Line Question Option : No Option Orientation : Vertical

Correct Marks : 2 Wrong Marks : 0

The Topikal and Kudaikal types of Megaliths are found in which of these states?

- (a) Tamil Nadu (b) Karnataka
(c) Andhra Pradesh (d) Kerala

Choose the correct option :

- (1) (a) and (c) (2) (d) and (a)
(3) (b) and (d) (4) (c) and (d)

Options :

61547513857. 1
61547513858. 2
61547513859. 3
61547513860. 4

Question Number : 115 Question Id : 6154753552 Question Type : MCQ Option Shuffling : No Display Question Number : Yes
Single Line Question Option : No Option Orientation : Vertical

Correct Marks : 2 Wrong Marks : 0

निम्नलिखित में से किन राज्यों में बृहद्पाषाण समाधि युग के टॉपिकल और कुडईकल पाये जाते हैं ?

- (a) तमिलनाडु (b) कर्णाटक
(c) आन्ध्र प्रदेश (d) केरल

सही विकल्प का चयन कीजिए :

- (1) (a) और (c) (2) (d) और (a)
(3) (b) और (d) (4) (c) और (d)

Options :

61547513857. 1
61547513858. 2
61547513859. 3
61547513860. 4

Question Number : 116 Question Id : 6154753553 Question Type : MCQ Option Shuffling : No Display Question Number : Yes
Single Line Question Option : No Option Orientation : Vertical

Correct Marks : 2 Wrong Marks : 0

Match the authors of the List I with their books of List II and choose the correct answer from the code given below :

List I
(Authors)

- (a) K.C. Chang
(b) D.L. Clark
(c) R.C. Dunnell
(d) G.L. Possehl

List II
(Books)

- (i) Systematics in Prehistory
(ii) Indus Age : The Beginnings
(iii) Analytical Archaeology
(iv) Rethinking Archaeology

Codes:

- (1) (a)-(i), (b)-(iii), (c)-(iv), (d)-(ii)
(2) (a)-(iv), (b)-(iii), (c)-(i), (d)-(ii)
(3) (a)-(iv), (b)-(i), (c)-(ii), (d)-(iii)
(4) (a)-(ii), (b)-(i), (c)-(iv), (d)-(iii)

Options :

61547513861. 1

61547513862. 2

61547513863. 3

61547513864. 4

Question Number : 116 Question Id : 6154753553 Question Type : MCQ Option Shuffling : No Display Question Number : Yes Single Line Question Option : No Option Orientation : Vertical

Correct Marks : 2 Wrong Marks : 0

सूची-I के लेखकों के नाम को सूची-II में दिये गये पुस्तकों के नाम के साथ सुमेलित कीजिए और सही विकल्प का चयन कीजिए :

सूची-I

(लेखक)

- (a) के.सी. चांग
- (b) डी.एल. क्लार्क
- (c) आर.सी. डनेल
- (d) जी.एल. पोशेल

सूची-II

(पुस्तकें)

- (i) सिस्टेमेटिक्स इन प्रीहिस्ट्री
- (ii) इंडस एज : द बिगिनिंग्स
- (iii) एनालिटिकल आर्कियोलॉजी
- (iv) रीथिंकिंग आर्कियोलॉजी

कूट :

- (1) (a)-(i), (b)-(iii), (c)-(iv), (d)-(ii)
- (2) (a)-(iv), (b)-(iii), (c)-(i), (d)-(ii)
- (3) (a)-(iv), (b)-(i), (c)-(ii), (d)-(iii)
- (4) (a)-(ii), (b)-(i), (c)-(iv), (d)-(iii)

Options :

61547513861. 1

61547513862. 2

61547513863. 3

61547513864. 4

Question Number : 117 Question Id : 6154753554 Question Type : MCQ Option Shuffling : No Display Question Number : Yes Single Line Question Option : No Option Orientation : Vertical

Correct Marks : 2 Wrong Marks : 0

Match List I with List II and choose the correct answer from the code given below :

List I

- (a) Mindel
- (b) Wurm
- (c) Gunj
- (d) Riss

List II

- (i) Basal Pleistocene
- (ii) Lower Pleistocene
- (iii) Middle Pleistocene
- (iv) Upper Pleistocene

Codes:

- (1) (a)-(iv), (b)-(ii), (c)-(iii), (d)-(i)
- (2) (a)-(ii), (b)-(i), (c)-(iv), (d)-(iii)
- (3) (a)-(iii), (b)-(iv), (c)-(ii), (d)-(i)
- (4) (a)-(ii), (b)-(iv), (c)-(i), (d)-(iii)

Options :

- 61547513865. 1
- 61547513866. 2
- 61547513867. 3
- 61547513868. 4

Question Number : 117 Question Id : 6154753554 Question Type : MCQ Option Shuffling : No Display Question Number : Yes Single Line Question Option : No Option Orientation : Vertical

Correct Marks : 2 Wrong Marks : 0

सूची-I को सूची-II के साथ सुमेलित कीजिए और नीचे दिए कूट से सही विकल्प का चयन कीजिए :

सूची-I

- (a) मिंडेल
- (b) वुर्म
- (c) गुंज
- (d) रिस

सूची-II

- (i) आधारिक प्रातिनूतन युग
- (ii) निम्न प्रातिनूतन युग
- (iii) मध्य प्रातिनूतन युग
- (iv) उच्च प्रातिनूतन युग

कूट :

- (1) (a)-(iv), (b)-(ii), (c)-(iii), (d)-(i)
- (2) (a)-(ii), (b)-(i), (c)-(iv), (d)-(iii)
- (3) (a)-(iii), (b)-(iv), (c)-(ii), (d)-(i)
- (4) (a)-(ii), (b)-(iv), (c)-(i), (d)-(iii)

Options :

- 61547513865. 1
- 61547513866. 2
- 61547513867. 3
- 61547513868. 4

Question Number : 118 Question Id : 6154753555 Question Type : MCQ Option Shuffling : No Display Question Number : Yes
Single Line Question Option : No Option Orientation : Vertical

Correct Marks : 2 Wrong Marks : 0

Match List I with List II and choose the correct answer from the code given below:

List I

- (a) Taddakana halli
- (b) Utnur
- (c) Kodekal
- (d) Adamgarh hills

List II

- (i) Manoranjan Ghosh
- (ii) K. Paddayya
- (iii) Nagraja Rao
- (iv) F.R. Allchin

Codes:

- (1) (a)-(iii), (b)-(iv), (c)-(ii), (d)-(i)
- (2) (a)-(i), (b)-(ii), (c)-(iii), (d)-(iv)
- (3) (a)-(iv), (b)-(iii), (c)-(ii), (d)-(i)
- (4) (a)-(ii), (b)-(i), (c)-(iv), (d)-(iii)

Options :

61547513869. 1

61547513870. 2

61547513871. 3

61547513872. 4

Question Number : 118 Question Id : 6154753555 Question Type : MCQ Option Shuffling : No Display Question Number : Yes
Single Line Question Option : No Option Orientation : Vertical

Correct Marks : 2 Wrong Marks : 0

सूची-I को सूची-II के साथ सुमेलित कीजिए तथा सही विकल्प का चयन कीजिए :

सूची-I

- (a) टड्डकनहल्ली
- (b) उत्तनूर
- (c) कोडेकल
- (d) आदमगढ़ की पहाड़ियाँ

सूची-II

- (i) मनोरंजन घोष
- (ii) के. पदय्या
- (iii) नागराज राव
- (iv) एफ.आर. अल्चिन

कूट :

- (1) (a)-(iii), (b)-(iv), (c)-(ii), (d)-(i)
- (2) (a)-(i), (b)-(ii), (c)-(iii), (d)-(iv)
- (3) (a)-(iv), (b)-(iii), (c)-(ii), (d)-(i)
- (4) (a)-(ii), (b)-(i), (c)-(iv), (d)-(iii)

Options :

61547513869. 1

Examrace

www.examrace.com

61547513870. 2

61547513871. 3

61547513872. 4

Question Number : 119 Question Id : 6154753556 Question Type : MCQ Option Shuffling : No Display Question Number : Yes Single Line Question Option : No Option Orientation : Vertical

Correct Marks : 2 Wrong Marks : 0

Match List I with List II and choose the correct answer from the code given below

List I

- (a) Jwalapuram
- (b) Singi Talav
- (c) Durkadi
- (d) Fahien cave

List II

- (i) S. U. Deraniyagala
- (ii) J. Armand
- (iii) C. Gaillard
- (iv) M.D. Petraglia

Codes:

- (1) (a)-(ii), (b)-(i), (c)-(iv), (d)-(iii)
- (2) (a)-(iii), (b)-(iv), (c)-(i), (d)-(ii)
- (3) (a)-(iv), (b)-(iii), (c)-(ii), (d)-(i)
- (4) (a)-(i), (b)-(ii), (c)-(iii), (d)-(iv)

Options :

61547513873. 1

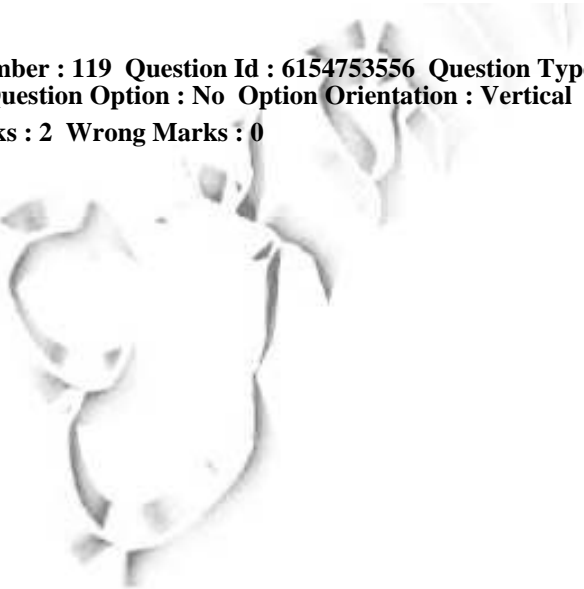
61547513874. 2

61547513875. 3

61547513876. 4

Question Number : 119 Question Id : 6154753556 Question Type : MCQ Option Shuffling : No Display Question Number : Yes Single Line Question Option : No Option Orientation : Vertical

Correct Marks : 2 Wrong Marks : 0



सूची-I को सूची-II के साथ सुमेलित कीजिए तथा सही विकल्प का चयन कीजिए :

सूची-I	सूची-II
(a) ज्वालापुरम	(i) एस.यू. डेरानियागला
(b) सिंगीतलाव	(ii) जे. अरमांद
(c) दुरकदी	(iii) सी. गैलार्ड
(d) फाहियान गुफा	(iv) एम. डी. पेट्रोग्लिया

कूट :

- (1) (a)-(ii), (b)-(i), (c)-(iv), (d)-(iii)
- (2) (a)-(iii), (b)-(iv), (c)-(i), (d)-(ii)
- (3) (a)-(iv), (b)-(iii), (c)-(ii), (d)-(i)
- (4) (a)-(i), (b)-(ii), (c)-(iii), (d)-(iv)

Options :

61547513873. 1
61547513874. 2
61547513875. 3
61547513876. 4

Question Number : 120 Question Id : 6154753557 Question Type : MCQ Option Shuffling : No Display Question Number : Yes
Single Line Question Option : No Option Orientation : Vertical

Correct Marks : 2 Wrong Marks : 0

Match the sites of List – I with the archaeological evidences of List – II :

List I

- Sutkagendor
- Lothal
- Shortughai
- Dholavira

List II

- Trading Port
- Sign Board inscription
- Makran coast
- Ploughed field

Choose the correct option from the code given below :

- (1) (a)-(iii), (b)-(i), (c)-(iv), (d)-(ii)
- (2) (a)-(i), (b)-(ii), (c)-(iii), (d)-(iv)
- (3) (a)-(ii), (b)-(iii), (c)-(i), (d)-(iv)
- (4) (a)-(iv), (b)-(iii), (c)-(ii), (d)-(i)

Options :

61547513877. 1
61547513878. 2
61547513879. 3
61547513880. 4

Question Number : 120 Question Id : 6154753557 Question Type : MCQ Option Shuffling : No Display Question Number : Yes
Single Line Question Option : No Option Orientation : Vertical

Correct Marks : 2 Wrong Marks : 0

सूची-I में दिये गये स्थलों को सूची-II में दिये गये पुरातात्विक साक्ष्यों के साथ सुमेलित कीजिए :

सूची-I

- (a) सुटकाजेण्डोर
- (b) लोथल
- (c) शोर्तुघई
- (d) धौलावीरा

सूची-II

- (i) बन्दरगाह
- (ii) साइनबोर्ड अभिलेख
- (iii) मकरान समुद्र तट
- (iv) जुता हुआ खेत

सही विकल्प का चयन कीजिए :

- (1) (a)-(iii), (b)-(i), (c)-(iv), (d)-(ii)
- (2) (a)-(i), (b)-(ii), (c)-(iii), (d)-(iv)
- (3) (a)-(ii), (b)-(iii), (c)-(i), (d)-(iv)
- (4) (a)-(iv), (b)-(iii), (c)-(ii), (d)-(i)

Options :

61547513877. 1

61547513878. 2

61547513879. 3

61547513880. 4

Question Number : 121 Question Id : 6154753558 Question Type : MCQ Option Shuffling : No Display Question Number : Yes
Single Line Question Option : No Option Orientation : Vertical

Correct Marks : 2 Wrong Marks : 0

Match the following caves of List – I with the sects of List – II to which they are associated :

List I

- (a) Barabar
- (b) Udaigiri, Odisha
- (c) Ajanta caves
- (d) Badami cave - 2

List II

- (i) Buddhist
- (ii) Ajivika
- (iii) Vaishnavite
- (iv) Jain

Codes:

- (1) (a)-(i), (b)-(ii), (c)-(iii), (d)-(iv)
- (2) (a)-(ii), (b)-(iv), (c)-(i), (d)-(iii)
- (3) (a)-(iv), (b)-(iii), (c)-(ii), (d)-(i)
- (4) (a)-(iii), (b)-(iv), (c)-(i), (d)-(ii)

Options :

61547513881. 1

Examrace

www.examrace.com

61547513882. 2

61547513883. 3

61547513884. 4

Question Number : 121 Question Id : 6154753558 Question Type : MCQ Option Shuffling : No Display Question Number : Yes
Single Line Question Option : No Option Orientation : Vertical

Correct Marks : 2 Wrong Marks : 0

सूची-I में दिये गये गुफाओं को सूची-II में दिये गये सम्बद्ध संप्रदायों के साथ सुमेलित कीजिए :

- | | |
|----------------------|--------------|
| (a) बराबर | (i) बौद्ध |
| (b) उदयगिरि, ओडिशा | (ii) आजीविक |
| (c) अजन्ता की गुफाएं | (iii) वैष्णव |
| (d) बादामी गुफा-2 | (iv) जैन |

सही विकल्प का चयन कीजिए :

- (1) (a)-(i), (b)-(ii), (c)-(iii), (d)-(iv)
- (2) (a)-(ii), (b)-(iv), (c)-(i), (d)-(iii)
- (3) (a)-(iv), (b)-(iii), (c)-(ii), (d)-(i)
- (4) (a)-(iii), (b)-(iv), (c)-(i), (d)-(ii)

Options :

61547513881. 1

61547513882. 2

61547513883. 3

61547513884. 4

Question Number : 122 Question Id : 6154753559 Question Type : MCQ Option Shuffling : No Display Question Number : Yes
Single Line Question Option : No Option Orientation : Vertical

Correct Marks : 2 Wrong Marks : 0

Match the coin legend of List – I with names of the king given in List – II and choose the correct answer from the code given below :

List I

- Lichchavayah
- Sarvarajochheta
- Srivikramah
- Vyaghraparakramah

List II

- Samudragupta
- Kachgupta
- Chandragupta I
- Chandragupta II

Codes:

- (1) (a)-(ii), (b)-(i), (c)-(iv), (d)-(iii)
- (2) (a)-(iv), (b)-(i), (c)-(iii), (d)-(ii)
- (3) (a)-(iii), (b)-(ii), (c)-(iv), (d)-(i)
- (4) (a)-(iv), (b)-(i), (c)-(ii), (d)-(iii)

Options :

61547513885. 1

61547513886. 2

61547513887. 3

61547513888. 4

**Question Number : 122 Question Id : 6154753559 Question Type : MCQ Option Shuffling : No Display Question Number : Yes
Single Line Question Option : No Option Orientation : Vertical**

Correct Marks : 2 Wrong Marks : 0

सूची-I में दिये गये सिक्के के लेखों को सूची-II में दिये गये राजा के नामों के साथ सुमेलित कीजिए तथा सही विकल्प का चयन कीजिए :

सूची-I	सूची-II
(a) लिच्छवयः	(i) समुद्रगुप्त
(b) सर्वराजोच्छेता	(ii) काचगुप्त
(c) श्रीविक्रमः	(iii) चन्द्रगुप्त प्रथम
(d) व्याघ्रपराक्रमः	(iv) चन्द्रगुप्त द्वितीय

कूट :

- (1) (a)-(ii), (b)-(i), (c)-(iv), (d)-(iii)
- (2) (a)-(iv), (b)-(i), (c)-(iii), (d)-(ii)
- (3) (a)-(iii), (b)-(ii), (c)-(iv), (d)-(i)
- (4) (a)-(iv), (b)-(i), (c)-(ii), (d)-(iii)

Options :

61547513885. 1

61547513886. 2

61547513887. 3

61547513888. 4

**Question Number : 123 Question Id : 6154753560 Question Type : MCQ Option Shuffling : No Display Question Number : Yes
Single Line Question Option : No Option Orientation : Vertical**

Correct Marks : 2 Wrong Marks : 0

Match the items of List I with inscriptions of List II.

List I

- (a) Aryavarta
- (b) Dattadevi
- (c) Visnupada and Visnudhvaja
- (d) Dasapuram

List II

- (i) Eran Stone Pillar Inscription
- (ii) Allahabad Pillar Inscription
- (iii) Mehrauli Iron Pillar Inscription
- (iv) Mandasore Inscription of Bandhuvarma

Choose the correct option :

- (1) (a)-(i), (b)-(ii), (c)-(iii), (d)-(iv)
- (2) (a)-(ii), (b)-(i), (c)-(iv), (d)-(iii)
- (3) (a)-(iii), (b)-(iv), (c)-(i), (d)-(ii)
- (4) (a)-(ii), (b)-(i), (c)-(iii), (d)-(iv)

Options :

- 61547513889. 1
- 61547513890. 2
- 61547513891. 3
- 61547513892. 4

Question Number : 123 Question Id : 6154753560 Question Type : MCQ Option Shuffling : No Display Question Number : Yes
Single Line Question Option : No Option Orientation : Vertical
Correct Marks : 2 Wrong Marks : 0

सूची-I में दिये गये मदों को सूची-II के अभिलेखों के साथ सुमेलित कीजिए :

सूची-I

- (a) आर्यावर्त
- (b) दत्तादेवी
- (c) विष्णुपद और विष्णुध्वज
- (d) दसपुरम

सूची-II

- (i) एरण पाषाण स्तम्भ अभिलेख
- (ii) इलाहाबाद स्तम्भ अभिलेख
- (iii) मेहरोली लौह स्तम्भ अभिलेख
- (iv) बंधुवर्मा का मंदसौर अभिलेख

सही विकल्प का चयन कीजिए :

- (1) (a)-(i), (b)-(ii), (c)-(iii), (d)-(iv)
- (2) (a)-(ii), (b)-(i), (c)-(iv), (d)-(iii)
- (3) (a)-(iii), (b)-(iv), (c)-(i), (d)-(ii)
- (4) (a)-(ii), (b)-(i), (c)-(iii), (d)-(iv)

Options :

- 61547513889. 1
- 61547513890. 2
- 61547513891. 3
- 61547513892. 4

Correct Marks : 2 Wrong Marks : 0

Match the temples of List – I with patron kings of List – II

List I

- (a) Brihadesvara, Thanjavur
- (b) Shore temple, Mahabalipuram
- (c) Virupaksha Temple, Pattadakal
- (d) Sun Temple, Konark

List II

- (i) Rajasimha
- (ii) Narasiha Deva
- (iii) Raja Raja Chola
- (iv) Vikramaditya II

Choose the correct option from the code given below:

- (1) (a)-(iii), (b)-(iv), (c)-(i), (d)-(ii)
- (2) (a)-(iii), (b)-(i), (c)-(iv), (d)-(ii)
- (3) (a)-(iv), (b)-(iii), (c)-(ii), (d)-(i)
- (4) (a)-(ii), (b)-(i), (c)-(iii), (d)-(iv)

Options :

61547513893. 1

61547513894. 2

61547513895. 3

61547513896. 4

Correct Marks : 2 Wrong Marks : 0

सूची-I में दिए गये मंदिरों को सूची-II के दिये गये उनके संरक्षक राजाओं के साथ सुमेलित कीजिए :

सूची-I

- (a) बृहदीश्वर, तंजावुर
- (b) समुद्र तटीय मंदिर, महाबलीपुरम
- (c) विरुपाक्ष मंदिर, पट्टदकल
- (d) सूर्य मंदिर, कोणार्क

सूची-II

- (i) राजसिंह
- (ii) नरसिंह देव
- (iii) राजराज चोल
- (iv) विक्रमादित्य द्वितीय

नीचे दिये कूट से सही विकल्प का चयन कीजिए :

- (1) (a)-(iii), (b)-(iv), (c)-(i), (d)-(ii)
- (2) (a)-(iii), (b)-(i), (c)-(iv), (d)-(ii)
- (3) (a)-(iv), (b)-(iii), (c)-(ii), (d)-(i)
- (4) (a)-(ii), (b)-(i), (c)-(iii), (d)-(iv)

Options :

61547513893. 1

61547513894. 2

61547513895. 3

Question Number : 125 Question Id : 6154753562 Question Type : MCQ Option Shuffling : No Display Question Number : Yes
Single Line Question Option : No Option Orientation : Vertical

Correct Marks : 2 Wrong Marks : 0

Match the books of List I with authors of List II:

List I

- (a) Salabhanjika in Art, Philosophy and Literature
(b) Salabhanjika – Woman and Tree in Art and Literature
(c) Dynastic Art of the Kushanas
(d) Mauryan and Post Mauryan Art

List II

- (i) J. Rosenfield
(ii) Nihar Ranjan Ray
(iii) Udai Narayan Roy
(iv) Devangana Desai

Codes:

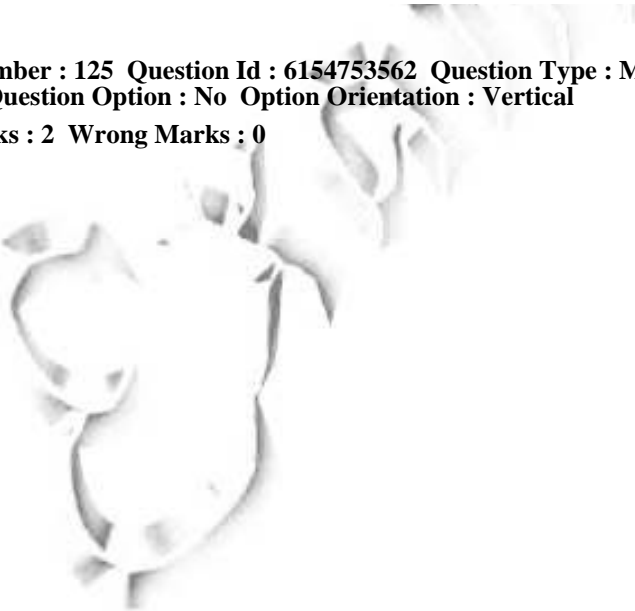
- (1) (a)-(ii), (b)-(iii), (c)-(i), (d)-(iv)
(2) (a)-(iii), (b)-(ii), (c)-(iv), (d)-(i)
(3) (a)-(iii), (b)-(iv), (c)-(i), (d)-(ii)
(4) (a)-(iv), (b)-(iii), (c)-(i), (d)-(ii)

Options :

61547513897. 1
61547513898. 2
61547513899. 3
61547513900. 4

Question Number : 125 Question Id : 6154753562 Question Type : MCQ Option Shuffling : No Display Question Number : Yes
Single Line Question Option : No Option Orientation : Vertical

Correct Marks : 2 Wrong Marks : 0



सूची-I की पुस्तकों को सूची-II में दिये गये लेखकों के साथ सुमेलित कीजिए :

सूची-I	सूची-II
(a) सालभंजिका इन आर्ट, फिलॉसफी एंड लिटरेचर	(i) जे. रोजेनफील्ड
(b) सालभंजिका - बुमन एंड ट्री इन आर्ट एंड लिटरेचर	(ii) निहार रंजन रे
(c) डायनेस्टिक आर्ट ऑफ द कुषाणाज	(iii) उदय नारायण राँय
(d) मौर्यन एंड पोस्ट मौर्यन आर्ट	(iv) देवांगना देसाई

कूट :

- (1) (a)-(ii), (b)-(iii), (c)-(i), (d)-(iv)
- (2) (a)-(iii), (b)-(ii), (c)-(iv), (d)-(i)
- (3) (a)-(iii), (b)-(iv), (c)-(i), (d)-(ii)
- (4) (a)-(iv), (b)-(iii), (c)-(i), (d)-(ii)

Options :

61547513897. 1
61547513898. 2
61547513899. 3
61547513900. 4

Question Number : 126 Question Id : 6154753563 Question Type : MCQ Option Shuffling : No Display Question Number : Yes
Single Line Question Option : No Option Orientation : Vertical

Correct Marks : 2 Wrong Marks : 0

Arrange the primitive human types in descending order

- (a) *Australopithecus afarensis*
- (b) *Australopithecus robustus*
- (c) *Pithecanthropus trinilensis*
- (d) *Australopithecus africanus*

Choose the correct answer from the code given below :

- (1) (a), (c), (b), (d)
- (2) (c), (d), (b), (a)
- (3) (a), (d), (b), (c)
- (4) (b), (d), (a), (c)

Options :

61547513901. 1

61547513902. 2

61547513903. 3

61547513904. 4

Question Number : 126 Question Id : 6154753563 Question Type : MCQ Option Shuffling : No Display Question Number : Yes
Single Line Question Option : No Option Orientation : Vertical

Correct Marks : 2 Wrong Marks : 0

निम्नलिखित आदि मानव प्रकारों को अवरोही क्रम में व्यवस्थित कीजिए :

(a) ऑस्ट्रेलोपिथिकस अफरेंसिस

(b) ऑस्ट्रेलोपिथिकस रोबस्टस

(c) पिथिकेन्थ्रॉपस ट्रिनिलेंसिस

(d) ऑस्ट्रेलोपिथिकस अफ्रिकेनस

सही विकल्प का चयन कीजिए :

(1) (a), (c), (b), (d)

(2) (c), (d), (b), (a)

(3) (a), (d), (b), (c)

(4) (b), (d), (a), (c)

Options :

61547513901. 1

61547513902. 2

61547513903. 3

61547513904. 4

Question Number : 127 Question Id : 6154753564 Question Type : MCQ Option Shuffling : No Display Question Number : Yes
Single Line Question Option : No Option Orientation : Vertical

Correct Marks : 2 Wrong Marks : 0

Arrange the following periods of the Geological time scale in ascending order

- (a) Cretaceous
- (b) Pre-cambrian
- (c) Devonian
- (d) Permian

Choose the correct answer from the code given below :

- (1) (b), (d), (a), (c)
- (2) (a), (d), (c), (b)
- (3) (c), (b), (a), (d)
- (4) (d), (b), (c), (a)

Options :

- 61547513905. 1
- 61547513906. 2
- 61547513907. 3
- 61547513908. 4

Question Number : 127 Question Id : 6154753564 Question Type : MCQ Option Shuffling : No Display Question Number : Yes
Single Line Question Option : No Option Orientation : Vertical

Correct Marks : 2 Wrong Marks : 0

भूगर्भीय समय मापन की निम्नलिखित अवधि को आरोही क्रम में व्यवस्थित कीजिए :

- (a) क्रीटेशियस
- (b) प्री-कैम्ब्रियन
- (c) डेवोनिअन
- (d) पर्मियन

सही विकल्प का चयन कीजिए :

- (1) (b), (d), (a), (c)
- (2) (a), (d), (c), (b)
- (3) (c), (b), (a), (d)
- (4) (d), (b), (c), (a)

Options :

- 61547513905. 1
- 61547513906. 2
- 61547513907. 3
- 61547513908. 4

Question Number : 128 Question Id : 6154753565 Question Type : MCQ Option Shuffling : No Display Question Number : Yes
Single Line Question Option : No Option Orientation : Vertical

Correct Marks : 2 Wrong Marks : 0

Arrange the tenure of Archaeological work of following in chronological order

- (a) Colonel Todd
- (b) Alexander Cunningham
- (c) D. Lal
- (d) Mortimer wheeler

Choose the correct answer from the code given below :

- (1) (a), (b), (c), (d)
- (2) (b), (a), (d), (c)
- (3) (d), (c), (b), (a)
- (4) (c), (d), (a), (b)

Options :

- 61547513909. 1
- 61547513910. 2
- 61547513911. 3
- 61547513912. 4

Question Number : 128 Question Id : 6154753565 Question Type : MCQ Option Shuffling : No Display Question Number : Yes
Single Line Question Option : No Option Orientation : Vertical

Correct Marks : 2 Wrong Marks : 0

निम्नलिखित को उनके पुरातात्विक कार्य की अवधि के आधार पर कालक्रमानुसार व्यवस्थित कीजिए :

- | | |
|---------------|-----------------------|
| (a) कर्नल टॉड | (b) एलेक्जेंडर कनिंघम |
| (c) डी.लाल | (d) मॉर्टिमर व्हीलर |

सही विकल्प का चयन कीजिए :

- | | |
|------------------------|------------------------|
| (1) (a), (b), (c), (d) | (2) (b), (a), (d), (c) |
| (3) (d), (c), (b), (a) | (4) (c), (d), (a), (b) |

Options :

61547513909. 1
61547513910. 2
61547513911. 3
61547513912. 4

Question Number : 129 Question Id : 6154753566 Question Type : MCQ Option Shuffling : No Display Question Number : Yes Single Line Question Option : No Option Orientation : Vertical

Correct Marks : 2 Wrong Marks : 0

Arrange the following archeological sites in chronological order

- | |
|----------------|
| (a) Visadi |
| (b) Sambhar |
| (c) Yeleswaram |
| (d) Rugar |

Choose the correct answer from the code given below :

- | | |
|------------------------|------------------------|
| (1) (a), (b), (c), (d) | (2) (d), (c), (b), (a) |
| (3) (b), (a), (c), (d) | (4) (a), (b), (d), (c) |

Options :

61547513913. 1
61547513914. 2
61547513915. 3
61547513916. 4

Question Number : 129 Question Id : 6154753566 Question Type : MCQ Option Shuffling : No Display Question Number : Yes Single Line Question Option : No Option Orientation : Vertical

Correct Marks : 2 Wrong Marks : 0

निम्नलिखित पुरातात्विक स्थलों को कालक्रमानुसार व्यवस्थित कीजिए :

- | | |
|---------------|-----------|
| (a) विसादी | (b) सांभर |
| (c) येलेस्वरम | (d) रोपड़ |

सही विकल्प का चयन कीजिए :

- | | |
|------------------------|------------------------|
| (1) (a), (b), (c), (d) | (2) (d), (c), (b), (a) |
| (3) (b), (a), (c), (d) | (4) (a), (b), (d), (c) |

Options :

61547513913. 1
61547513914. 2
61547513915. 3
61547513916. 4

Question Number : 130 Question Id : 6154753567 Question Type : MCQ Option Shuffling : No Display Question Number : Yes
Single Line Question Option : No Option Orientation : Vertical

Correct Marks : 2 Wrong Marks : 0

Arrange the following in chronological order :

- (a) Ghat – Shaped terracotta bead
- (b) Squat gray dish-on-stand
- (c) Sprinkler
- (d) Bull – Shaped Bottle

Choose the correct option from the following :

- (1) (b), (d), (a), (c)
- (2) (d), (c), (b), (a)
- (3) (c), (a), (b), (d)
- (4) (a), (b), (d), (c)

Options :

61547513917. 1
61547513918. 2
61547513919. 3
61547513920. 4

Question Number : 130 Question Id : 6154753567 Question Type : MCQ Option Shuffling : No Display Question Number : Yes
Single Line Question Option : No Option Orientation : Vertical

Correct Marks : 2 Wrong Marks : 0

निम्नलिखित को कालक्रमानुसार व्यवस्थित कीजिए :

- (a) घटाकार पक्की मिट्टी के मनके
- (b) छोटे आकार के ग्रे डिश-ऑन-स्टैंड
- (c) स्प्रिंकलर
- (d) वृषभाकार के बोटल

सही विकल्प का चयन कीजिए :

- (1) (b), (d), (a), (c)
- (2) (d), (c), (b), (a)
- (3) (c), (a), (b), (d)
- (4) (a), (b), (d), (c)

Options :

61547513917. 1

61547513918. 2

61547513919. 3

61547513920. 4

Question Number : 131 Question Id : 6154753568 Question Type : MCQ Option Shuffling : No Display Question Number : Yes
Single Line Question Option : No Option Orientation : Vertical

Correct Marks : 2 Wrong Marks : 0

Arrange the following sites in chronological order :

- (a) Kileghul Mohammad
- (b) Mirzapur
- (c) Rangamahala
- (d) Chak - 86

Choose the correct option from the following :

- (1) (a), (b), (d), (c)
- (2) (b), (d), (c), (a)
- (3) (d), (c), (a), (b)
- (4) (c), (a), (b), (d)

Options :

61547513921. 1

61547513922. 2

61547513923. 3

61547513924. 4

Question Number : 131 Question Id : 6154753568 Question Type : MCQ Option Shuffling : No Display Question Number : Yes
Single Line Question Option : No Option Orientation : Vertical

Correct Marks : 2 Wrong Marks : 0

निम्नलिखित स्थलों को कालानुक्रम में लिखिए -

- (a) किलेघुल मोहम्मद
- (b) मिर्जापुर
- (c) रंगमहल
- (d) चक्र-86

निम्नलिखित में से सही विकल्प का चयन कीजिए :

- (1) (a), (b), (d), (c)
- (2) (b), (d), (c), (a)
- (3) (d), (c), (a), (b)
- (4) (c), (a), (b), (d)

Options :

- 61547513921. 1
- 61547513922. 2
- 61547513923. 3
- 61547513924. 4

**Question Number : 132 Question Id : 6154753569 Question Type : MCQ Option Shuffling : No Display Question Number : Yes
Single Line Question Option : No Option Orientation : Vertical
Correct Marks : 2 Wrong Marks : 0**

Arrange the following inscriptions in chronological order :

- (a) Radhanpore copper plate inscription
- (b) Bhor state museum plates of Dharavarsha Dhruvasen
- (c) Tiruvalanagadu copper plate inscription
- (d) Sanjan copper plate inscription

Choose the correct option from the following :

- (1) (b), (a), (c), (d)
- (2) (a), (d), (b), (c)
- (3) (b), (a), (d), (c)
- (4) (d), (c), (b), (a)

Options :

61547513925. 1

61547513926. 2

61547513927. 3

61547513928. 4

Question Number : 132 Question Id : 6154753569 Question Type : MCQ Option Shuffling : No Display Question Number : Yes
Single Line Question Option : No Option Orientation : Vertical

Correct Marks : 2 Wrong Marks : 0

निम्नलिखित अभिलेखों को कालानुक्रमानुसार लिखें -

- (a) राधनपुर ताम्र फलक अभिलेख
- (b) धारावर्ष ध्रुवसेन का भोर राज्य संग्रहालय फलक
- (c) तिरुवलनगाडु ताम्र फलक अभिलेख
- (d) संजन ताम्र फलक अभिलेख

निम्नलिखित में से सही विकल्प का चयन करें -

- (1) (b), (a), (c), (d)
- (2) (a), (d), (b), (c)
- (3) (b), (a), (d), (c)
- (4) (d), (c), (b), (a)

Options :

- 61547513925. 1
- 61547513926. 2
- 61547513927. 3
- 61547513928. 4

Question Number : 133 Question Id : 6154753570 Question Type : MCQ Option Shuffling : No Display Question Number : Yes
Single Line Question Option : No Option Orientation : Vertical
Correct Marks : 2 Wrong Marks : 0

Arrange the following inscriptions in chronological order :

- (a) Rock Edict III (Girnar version)
- (b) Lumbini Edict
- (c) Rock Edict XIII (Shahbazgarhi)
- (d) Pillar Edict IV Delhi-Topra (West face)

Choose the correct option from the following :

- (1) (a), (b), (c), (d)
- (2) (b), (a), (d), (c)
- (3) (c), (b), (a), (d)
- (4) (d), (a), (c), (b)

Options :

- 61547513929. 1
- 61547513930. 2
- 61547513931. 3
- 61547513932. 4

Question Number : 133 Question Id : 6154753570 Question Type : MCQ Option Shuffling : No Display Question Number : Yes
Single Line Question Option : No Option Orientation : Vertical
Correct Marks : 2 Wrong Marks : 0

निम्नलिखित अभिलेखों को कालानुक्रमानुसार लिखें -

- (a) शिला लेख III (गिरनार संस्करण)
- (b) लुंबिनी अभिलेख
- (c) शिला लेख XIII (शाहबाज़गढ़ी)
- (d) स्तंभ अभिलेख IV दिल्ली टोपरा (वेस्ट फेस)

निम्नलिखित में से सही विकल्प का चयन करें -

- (1) (a), (b), (c), (d)
- (2) (b), (a), (d), (c)
- (3) (c), (b), (a), (d)
- (4) (d), (a), (c), (b)

Options :

61547513929. 1

61547513930. 2

61547513931. 3

61547513932. 4

Question Number : 134 Question Id : 6154753571 Question Type : MCQ Option Shuffling : No Display Question Number : Yes
Single Line Question Option : No Option Orientation : Vertical
Correct Marks : 2 Wrong Marks : 0

Arrange the following parts of an Orissan temple vertically from base to pinnacle :

- (a) Chhapra
- (b) Kalasha
- (c) Pista
- (d) Bada

Choose the correct option from following :

- (1) (c), (d), (a), (b)
- (2) (b), (a), (d), (c)
- (3) (a), (b), (c), (d)
- (4) (d), (b), (c), (a)

Options :

- 61547513933. 1
- 61547513934. 2
- 61547513935. 3
- 61547513936. 4

Question Number : 134 Question Id : 6154753571 Question Type : MCQ Option Shuffling : No Display Question Number : Yes
Single Line Question Option : No Option Orientation : Vertical
Correct Marks : 2 Wrong Marks : 0

उड़ीसा के मंदिर के निम्नलिखित भागों को लंबवत आधार से शिखर की ओर लिखें -

- (a) छप्र
- (b) कलश
- (c) पिस्त
- (d) बड

निम्नलिखित में से सही विकल्प का चयन करें -

- (1) (c), (d), (a), (b)
- (2) (b), (a), (d), (c)
- (3) (a), (b), (c), (d)
- (4) (d), (b), (c), (a)

Options :

- 61547513933. 1
- 61547513934. 2
- 61547513935. 3
- 61547513936. 4

Question Number : 135 Question Id : 6154753572 Question Type : MCQ Option Shuffling : No Display Question Number : Yes
Single Line Question Option : No Option Orientation : Vertical
Correct Marks : 2 Wrong Marks : 0

Arrange the following Chandela temples according to stages of development of their Sikharas

- (a) Parshwanatha
- (b) Bishwanatha
- (c) Adinatha
- (d) Kandariya Mahadev

Choose the correct option from the following :

- (1) (c), (b), (a), (d)
- (2) (a), (d), (b), (c)
- (3) (b), (c), (d), (a)
- (4) (a), (c), (d), (b)

Options :

61547513937. 1

61547513938. 2

61547513939. 3

61547513940. 4

**Question Number : 135 Question Id : 6154753572 Question Type : MCQ Option Shuffling : No Display Question Number : Yes
Single Line Question Option : No Option Orientation : Vertical**

Correct Marks : 2 Wrong Marks : 0

निम्नलिखित चंदेल मंदिरों को उनके शिखर के विकासात्मक चरणों के अनुसार लिखिए -

- (a) पार्श्वनाथ
- (b) विश्वनाथ
- (c) आदिनाथ
- (d) कंदरिया महादेव

निम्नलिखित में से सही विकल्प का चयन करें -

- (1) (c), (b), (a), (d)
- (2) (a), (d), (b), (c)
- (3) (b), (c), (d), (a)
- (4) (a), (c), (d), (b)

Options :

- 61547513937. 1
- 61547513938. 2
- 61547513939. 3
- 61547513940. 4

**Question Number : 136 Question Id : 6154753573 Question Type : MCQ Option Shuffling : No Display Question Number : Yes
Single Line Question Option : No Option Orientation : Vertical
Correct Marks : 2 Wrong Marks : 0**

Given below are two statements, one labelled as Assertion (A) and the other labelled as Reason (R) Read the statements and choose the correct answer using the code given below:

Assertion (A) : Indian Cleavers are indicating their use in a heavy duty task

Reason (R) : Hallam Movius suggested that cleavers were wood working tools

Choose the correct answer using the code given below :

- (1) Both (A) and (R) are true and (R) is the correct explanation of (A)
- (2) Both (A) and (R) are true, but (R) is not the correct explanation of (A)
- (3) (A) is true, but (R) is false
- (4) (A) is false, but (R) is true

Options :

61547513941. 1

61547513942. 2

61547513943. 3

61547513944. 4

Question Number : 136 Question Id : 6154753573 Question Type : MCQ Option Shuffling : No Display Question Number : Yes
Single Line Question Option : No Option Orientation : Vertical

Correct Marks : 2 Wrong Marks : 0

नीचे दो कथन दिये गये हैं जिनमें से पहला अभिकथन (A) है और दूसरा तर्क (R) है। कथनों को पढ़ें और नीचे दिये गये कूट से सही उत्तर का चयन करें :

अभिकथन (A) - भारतीय क्लीवर कठिन कार्यों में उनके प्रयोग का संकेत देते हैं।

तर्क (R) - हैलम मूवियस ने सुझाव दिया कि क्लीवर काष्ठ कार्य उपकरण थे।

नीचे दिये गये कूट में से सही उत्तर का चयन करें :

- (1) (A) और (R) दोनों सही हैं और (R) (A) की सही व्याख्या है
- (2) (A) और (R) दोनों सही हैं किन्तु (R) (A) की सही व्याख्या नहीं है
- (3) (A) सही है किन्तु (R) गलत है
- (4) (A) गलत है किन्तु (R) सही है

Options : Examrace

www.examrace.com

- 61547513941. 1
- 61547513942. 2
- 61547513943. 3
- 61547513944. 4

Question Number : 137 Question Id : 6154753574 Question Type : MCQ Option Shuffling : No Display Question Number : Yes Single Line Question Option : No Option Orientation : Vertical

Correct Marks : 2 Wrong Marks : 0

Given below are two statements, one labelled as Assertion (A) and the other labelled as Reason (R) Read the statements and choose the correct answer using the code given below:

Assertion (A) : A community of scientists, has been searching for a clearer understanding of human diversity and the evolutionary history of our species

Reason (R) : Archaeology and biological anthropology are prominent elements of palaeoanthropological research which is being helped by geologists, geneticists, sociologists, ethnographers, paleontologists and physicist.

Choose the correct answer using the code given below :

- (1) Both (A) and (R) are true and (R) is the correct explanation of (A)
- (2) Both (A) and (R) are true but (R) is not correct explanation of (A)
- (3) (A) is true, but (R) is false
- (4) (A) is false, but (R) is true

Options :

- 61547513945. 1
- 61547513946. 2
- 61547513947. 3
- 61547513948. 4

Question Number : 137 Question Id : 6154753574 Question Type : MCQ Option Shuffling : No Display Question Number : Yes Single Line Question Option : No Option Orientation : Vertical

Correct Marks : 2 Wrong Marks : 0

नीचे दो कथन दिये गये हैं। पहला अभिकथन (A) है और दूसरा तर्क (R) है। कथनों को पढ़े और नीचे दिये गये कूट में से सही उत्तर का चयन करें :

अभिकथन (A) - वैज्ञानिकों का एक समुदाय मानवीय विविधता और हमारी प्रगतियों के विकासात्मक इतिहास के सुस्पष्ट समझ के लिए शोध कर रहे हैं।

तर्क (R) - पुरातत्व विज्ञान और जैविक मानव विज्ञान पैलियोनथ्रोपोलॉजिकल शोध के महत्वपूर्ण तत्व हैं जिसे भू-विज्ञानिकों, आनुवंशिकी वैज्ञानिकों, समाजशास्त्रियों, इथनोग्राफर्स पौलियान्टोलॉजिस्टों तथा भौतिक वैज्ञानिकों द्वारा सहायता दी जा रही है।

नीचे दिये गये कूट में से सही उत्तर का चयन करें :

- (1) (A) और (R) दोनों सही हैं और (R) (A) की सही व्याख्या है
- (2) (A) और (R) दोनों सही हैं किन्तु (R) (A) की सही व्याख्या नहीं है
- (3) (A) सही है किन्तु (R) गलत है
- (4) (A) गलत है किन्तु (R) सही है

Options :

61547513945. 1

61547513946. 2

61547513947. 3

61547513948. 4

Question Number : 138 Question Id : 6154753575 Question Type : MCQ Option Shuffling : No Display Question Number : Yes
Single Line Question Option : No Option Orientation : Vertical

Correct Marks : 2 Wrong Marks : 0

Given below are two statements, one is labelled as Assertion (A) and the other labelled as Reason (R). Read the statements and choose the correct answer using the code given below:

Assertion (A) : As one moves from the west to the east the OCP settlements tend to be more transient on an average

Reason (R) : There was a serious mismatch between the changes in natural conditions and the capacity of the people to harness them normally

In the light of the above two statements choose the correct option among the following :

- (1) Both (A) and (R) are correct but (R) is not the correct explanation of (A)
- (2) Both (A) and (R) are correct and (R) is the correct explanation of (A)
- (3) (A) is true but (R) is false
- (4) (A) is false but (R) is true

Options :

61547513949. 1

61547513950. 2

61547513951. 3

61547513952. 4

Question Number : 138 Question Id : 6154753575 Question Type : MCQ Option Shuffling : No Display Question Number : Yes
Single Line Question Option : No Option Orientation : Vertical

Correct Marks : 2 Wrong Marks : 0

नीचे दो कथन दिये गये हैं। पहला अभिकथन (A) है और दूसरा तर्क (R) है। कथनों को पढ़ें और नीचे दिये गये कूट में से सही उत्तर का चयन करें :

अभिकथन (A) - जब कोई पश्चिम से पूर्व की ओर चलता है तो ओसीपी आवास औसतन अधिक संकुचित होते जाते हैं।

तर्क (R) - प्राकृतिक दशाओं में परिवर्तनों और सामान्यतया उन्हें काम में लेने के लिए लोगों की क्षमता के बीच भारी बेमेल होता था।

उक्त दोनों कथनों को ध्यान में रखते हुए निम्नलिखित में से सही उत्तर का चयन करें :

- (1) (A) और (R) दोनों सही हैं किन्तु (R) (A) की सही व्याख्या नहीं है
- (2) (A) और (R) दोनों सही हैं और (R) (A) की सही व्याख्या है
- (3) (A) सही है किन्तु (R) गलत है
- (4) (A) गलत है किन्तु (R) सही है

Options :

61547513949. 1

61547513950. 2

61547513951. 3

61547513952. 4

Question Number : 139 Question Id : 6154753576 Question Type : MCQ Option Shuffling : No Display Question Number : Yes Single Line Question Option : No Option Orientation : Vertical

Correct Marks : 2 Wrong Marks : 0

Given below are two statements, one labelled as Assertion (A) and the other labelled as Reason (R). Read the statements and choose the correct answer using the code given below:

Assertion (A) : Theriomorphic Garuda remained the device of one class of silver coins of West India down to the times of Skandagupta.

Reason (R) : It was insended to proclaim the religious faith of the imperial Guptas who had replaced the Western Kshatrapas.

Choose the correct answer using the code given below :

- (1) (A) is correct (R) is wrong
- (2) (A) and (R) both are correct
- (3) (A) and (R) both are wrong
- (4) Explanation (R) to (A) is correct

Options :

61547513953. 1
61547513954. 2
61547513955. 3
61547513956. 4

**Question Number : 139 Question Id : 6154753576 Question Type : MCQ Option Shuffling : No Display Question Number : Yes
Single Line Question Option : No Option Orientation : Vertical**

Correct Marks : 2 Wrong Marks : 0

नीचे दो कथन दिये गये हैं। पहला अभिकथन (A) है और दूसरा तर्क (R) है। कथनों को पढ़ें और नीचे दिये गये कूट से सही उत्तर का चयन करें :

अभिकथन (A) - पशुरूप गरुड पश्चिमी भारत में स्कन्दगुप्त के काल तक चांदी के एक वर्ग के सिक्कों में डिवाइस के तौर पर चलता रहा।

तर्क (R) - इसका आशय साम्राज्यवादी गुप्तों की धार्मिक निष्ठा को घोषित करना था जिन्होंने पश्चिमी क्षत्रपों को प्रतिस्थापित किया था।

दिये गये कूट में से सही उत्तर का चयन कीजिए :

- (1) (A) सही है किन्तु (R) गलत है
(2) (A) और (R) दोनों सही हैं
(3) (A) और (R) दोनों गलत हैं
(4) (R), (A) की सही व्याख्या है

Options :

61547513953. 1
61547513954. 2
61547513955. 3
61547513956. 4

**Question Number : 140 Question Id : 6154753577 Question Type : MCQ Option Shuffling : No Display Question Number : Yes
Single Line Question Option : No Option Orientation : Vertical**

Correct Marks : 2 Wrong Marks : 0

Give below are two statements – one is labelled as Assertion (A) and the other is labelled as Reason (R). Read the statements and choose the correct answer using the code given below:

Assertion (A) : Nearly all the rock-cut architectures at Mahabalipuram have remained rather incomplete.

Reason (R) : The patronage towards the shrine ended with the death of Narasimha Mamalla and his successor Rajasimha started a new architectural movement.

In the light of the above two statements choose the correct option :

- (1) Both (A) and (R) are true and (R) is the correct explanation of (A)
- (2) Both (A) and (R) are true but (R) is not the correct explanation of (A)
- (3) (A) is true, but (R) is false
- (4) (A) is false but (R) is true

Options :

- 61547513957. 1
- 61547513958. 2
- 61547513959. 3
- 61547513960. 4

Question Number : 140 Question Id : 6154753577 Question Type : MCQ Option Shuffling : No Display Question Number : Yes
Single Line Question Option : No Option Orientation : Vertical

Correct Marks : 2 Wrong Marks : 0

नीचे दो कथन दिये गये हैं। पहला अभिकथन (A) है और दूसरा तर्क (R) है। कथनों को पढ़कर दिये गये कूट में से सही उत्तर का चयन करें :

अभिकथन (A) - महाबलीपुरम की प्रायः सभी शैलोत्ख़ात स्थापत्य कला लगभग अपूर्ण रह गयी है।

तर्क (R) - नरसिंहमामल्ल की मृत्यु के साथ ही मंदिरों को प्रश्रय देना समाप्त हो गया और फिर उनके उत्तराधिकारी राजसिंह ने स्थापत्य कला के नये आन्दोलन की शुरुआत की।

उक्त दोनों कथनों को ध्यान में रखते हुए सही विकल्प का चयन करें -

- (1) (A) और (R) दोनों सही हैं और (R) (A) की सही व्याख्या है
- (2) (A) और (R) दोनों सही हैं और (R) (A) की सही व्याख्या नहीं है
- (3) (A) सही है किन्तु (R) गलत है
- (4) (A) गलत है किन्तु (R) सही है

Options :

61547513957. 1
61547513958. 2
61547513959. 3
61547513960. 4

Sub-Section Number: 2
Sub-Section Id: 615475159
Question Shuffling Allowed : Yes

Question Id : 6154753578 Question Type : COMPREHENSION Sub Question Shuffling Allowed : Yes Group Comprehension Questions : No

Question Numbers : (141 to 145)

Question Label : Comprehension

Read the following passage and answer questions which follow :

The Mesolithic sites are much larger in number than those of the Paleolithic and are better preserved. This is because by the end of the Pleistocene the land surface of the country, particularly in river basins, had assumed its present shape and there have been no significant disturbances in it by natural agencies like climate changes. Consequently the archaeological sites have not been disturbed by natural factors. During the Mesolithic period natural caves and rock shelters were occupied.

Sub questions

Question Number : 141 Question Id : 6154753579 Question Type : MCQ Option Shuffling : No Display Question Number : Yes Single Line Question Option : No Option Orientation : Vertical

Correct Marks : 2 Wrong Marks : 0

Mesolithic culture belongs to

- (1) Pleistocene period
- (2) Early Holocene period
- (3) Late Holocene period
- (4) Pliocene period

Options :

- 61547513961. 1
- 61547513962. 2
- 61547513963. 3
- 61547513964. 4

Question Number : 142 Question Id : 6154753580 Question Type : MCQ Option Shuffling : No Display Question Number : Yes
Single Line Question Option : No Option Orientation : Vertical

Correct Marks : 2 Wrong Marks : 0

Rock paintings are found in / on

- (1) Open air Habitation deposits
- (2) Caves
- (3) Pottery
- (4) Bone objects

Options :

- 61547513965. 1
- 61547513966. 2
- 61547513967. 3
- 61547513968. 4

Question Number : 143 Question Id : 6154753581 Question Type : MCQ Option Shuffling : No Display Question Number : Yes
Single Line Question Option : No Option Orientation : Vertical

Correct Marks : 2 Wrong Marks : 0

Mesolithic sites are transitional between

- (1) Neolithic and Chalcolithic
- (2) Chalcolithic and early Iron Age
- (3) Upper Paleolithic and Neolithic
- (4) Upper Paleolithic and early Iron Age

Options :

- 61547513969. 1
- 61547513970. 2
- 61547513971. 3
- 61547513972. 4

Question Number : 144 Question Id : 6154753582 Question Type : MCQ Option Shuffling : No Display Question Number : Yes
Single Line Question Option : No Option Orientation : Vertical

Correct Marks : 2 Wrong Marks : 0

Mesolithic sites are

- (1) Smaller than Harappan sites
- (2) Larger than Upper Paleolithic sites
- (3) Larger than Ahar culture sites
- (4) Larger than early historical sites

Options :

- 61547513973. 1

61547513974. 2

61547513975. 3

61547513976. 4

Question Number : 145 Question Id : 6154753583 Question Type : MCQ Option Shuffling : No Display Question Number : Yes
Single Line Question Option : No Option Orientation : Vertical

Correct Marks : 2 Wrong Marks : 0

In the human burials at Sarai Nahar Rai the skull is placed in

(1) North direction

(2) South direction

(3) East direction

(4) West direction

Options :

61547513977. 1

61547513978. 2

61547513979. 3

61547513980. 4

Question Id : 6154753578 Question Type : COMPREHENSION Sub Question Shuffling Allowed : Yes Group Comprehension
Questions : No

Question Numbers : (141 to 145)

Question Label : Comprehension

निम्नलिखित गद्यांश को पढ़िए और उसके आगे आनेवाले प्रश्नों के उत्तर कीजिए :

मध्यपाषाणिक स्थल पुरापाषाणिक स्थलों से अधिक संख्या में हैं और बेहतर ढंग से संरक्षित हैं, क्योंकि प्रातिनूतन काल के अंत तक क्षेत्र की भू-सतह ने, विशेषकर नदी घाटियों में, अपना वर्तमान आकार ले लिया था और इनका जलवायु परिवर्तन जैसे प्राकृतिक साधनों के कारण विशेष व्यतिक्रम नहीं हुआ। परिणामस्वरूप पुरातात्विक स्थल प्राकृतिक घटकों से विनष्ट नहीं हुये। मध्यपाषाण काल के दौरान प्राकृतिक गुफाएं तथा शैलाश्रय आबाद हो गये थे।

Sub questions

Question Number : 141 Question Id : 6154753579 Question Type : MCQ Option Shuffling : No Display Question Number : Yes
Single Line Question Option : No Option Orientation : Vertical

Correct Marks : 2 Wrong Marks : 0

मध्यपाषाणिक संस्कृति का संबंध है -

(1) प्रातिनूतन काल से

(2) प्रारंभिक नूतन काल से

(3) परवर्ती नूतन काल से

(4) अतिनूतन काल से

Options :

61547513961. 1

61547513962. 2

61547513963. 3

61547513964. 4

Question Number : 142 Question Id : 6154753580 Question Type : MCQ Option Shuffling : No Display Question Number : Yes
Single Line Question Option : No Option Orientation : Vertical

Correct Marks : 2 Wrong Marks : 0

शैल चित्र कहाँ पाए जाते हैं?

- | | |
|--------------------------|----------------------|
| (1) खुले आवासीय जमाव में | (2) गुफाओं में |
| (3) मृद्भांडों पर | (4) अस्थि सामग्री पर |

Options :

61547513965. 1
61547513966. 2
61547513967. 3
61547513968. 4

Question Number : 143 Question Id : 6154753581 Question Type : MCQ Option Shuffling : No Display Question Number : Yes
Single Line Question Option : No Option Orientation : Vertical

Correct Marks : 2 Wrong Marks : 0

मध्य पाषाण युगीन स्थल किनके बीच के संक्रमणकाल के हैं?

- | | |
|-------------------------------|---|
| (1) नवपाषाण और ताम्रपाषाण | (2) ताम्रपाषाण और प्रारंभिक लौह युग |
| (3) उच्च पुरापाषाण और नवपाषाण | (4) उच्च पुरापाषाण और प्रारंभिक लौह युग |

Options :

61547513969. 1
61547513970. 2
61547513971. 3
61547513972. 4

Question Number : 144 Question Id : 6154753582 Question Type : MCQ Option Shuffling : No Display Question Number : Yes
Single Line Question Option : No Option Orientation : Vertical

Correct Marks : 2 Wrong Marks : 0

मध्यपाषाण युगीन स्थल हैं

- | | |
|---|---|
| (1) हड़प्पा युगीन स्थलों से लघुतर | (2) उच्च पुरा पाषाण युगीन स्थलों से बृहत्तर |
| (3) आहाड़ संस्कृति के स्थलों से बृहत्तर | (4) प्रारंभिक ऐतिहासिक स्थलों से बृहत्तर |

Options :

61547513973. 1
61547513974. 2
61547513975. 3
61547513976. 4

Question Number : 145 Question Id : 6154753583 Question Type : MCQ Option Shuffling : No Display Question Number : Yes
Single Line Question Option : No Option Orientation : Vertical

Correct Marks : 2 Wrong Marks : 0

सराय नाहर राय के मानव कब्रों में कपाल को किस दिशा में रखा गया है ?

- (1) उत्तर दिशा में (2) दक्षिण दिशा में
(3) पूर्व दिशा में (4) पश्चिम दिशा में

Options :

61547513977. 1
61547513978. 2
61547513979. 3
61547513980. 4

Sub-Section Number: 3
Sub-Section Id: 615475160
Question Shuffling Allowed : Yes

Question Id : 6154753584 Question Type : COMPREHENSION Sub Question Shuffling Allowed : Yes Group Comprehension Questions : No

Question Numbers : (146 to 150)

Question Label : Comprehension

Read the following passage and answer questions which follow:

Relative dating fixes a timeframe in relation to other strata and material. It is well known that stratigraphy is involved in many dating methods. The earth sediments had accumulated in layers known as strata. Age increases with the depth of undisturbed strata. Under relative dating there are three main analytical methods of bone dating. These are fluorine dating, nitrogen dating and uranium dating. These methods are useful in dating only when deposits are stratified and areas are undisturbed. The fluorine absorbed by the bones fossilizing in the same ground for the same length of time will be the same as that of local ground water.

Sub questions

Question Number : 146 Question Id : 6154753585 Question Type : MCQ Option Shuffling : No Display Question Number : Yes
Single Line Question Option : No Option Orientation : Vertical
Correct Marks : 2 Wrong Marks : 0

Which of the following is related to the relative dating?

- (1) Biostratigraphy
(2) Potassium – Argon Date
(3) C¹⁴ date
(4) Cosmic date

Options :

61547513981. 1

Examrace

61547513982. 2

61547513983. 3

61547513984. 4

Question Number : 147 Question Id : 6154753586 Question Type : MCQ Option Shuffling : No Display Question Number : Yes Single Line Question Option : No Option Orientation : Vertical

Correct Marks : 2 Wrong Marks : 0

The relative age of fossil bone is determined by

- (1) Its composition of chemicals
- (2) Comparing with other fossil bone of the same area
- (3) Comparing its chemical compositions with other fossil bone
- (4) Comparing its chemical composition with other possible bones of known age from the same areas.

Options :

61547513985. 1

61547513986. 2

61547513987. 3

61547513988. 4

Question Number : 148 Question Id : 6154753587 Question Type : MCQ Option Shuffling : No Display Question Number : Yes Single Line Question Option : No Option Orientation : Vertical

Correct Marks : 2 Wrong Marks : 0

Which of the following layer denotes the older period?

- (1) Layer 2
- (2) Layer – 1
- (3) Layer – 5
- (4) Layer – 10

Options :

61547513989. 1

61547513990. 2

61547513991. 3

61547513992. 4

Question Number : 149 Question Id : 6154753588 Question Type : MCQ Option Shuffling : No Display Question Number : Yes Single Line Question Option : No Option Orientation : Vertical

Correct Marks : 2 Wrong Marks : 0

Relative dating methods are useful in dating the finds found in

- (1) Undisturbed area
- (2) Disturbed area
- (3) Secondary gravel deposit
- (4) Unstratified deposit

Options :

61547513993. 1
61547513994. 2
61547513995. 3
61547513996. 4

Question Number : 150 Question Id : 6154753589 Question Type : MCQ Option Shuffling : No Display Question Number : Yes
Single Line Question Option : No Option Orientation : Vertical
Correct Marks : 2 Wrong Marks : 0

The fluorine absorbed by the bone depends on

- (1) Soil composition
- (2) River water
- (3) Rainy water
- (4) Ground water seepage through the bones

Options :

61547513997. 1
61547513998. 2
61547513999. 3
61547514000. 4

Question Id : 6154753584 Question Type : COMPREHENSION Sub Question Shuffling Allowed : Yes Group Comprehension
Questions : No

Question Numbers : (146 to 150)

Question Label : Comprehension

निम्नलिखित गद्यांश को पढ़िए और उसके आगे आने वाले प्रश्नों के उत्तर दीजिए :

सापेक्ष तिथिनिर्धारण अन्य स्तर और सामग्री के संबंध में एक समयावधि निश्चित करती है। यह सर्वविदित है कि स्तरीकरण कई तिथि निर्धारण प्रविधियों से संबद्ध है। भू-जमाव कई स्तरों में होता है जिसे स्तर भी कहा जाता है। आयु, अबाधित स्तर की गहराई के साथ बढ़ती है। सापेक्ष तिथि निर्धारण के तहत अस्थितिथि निर्धारण की तीन मुख्य विश्लेषणात्मक प्रविधियाँ हैं : फ्लोरीन डेटिंग, नाइट्रोजन डेटिंग और यूरेनियम डेटिंग। ये प्रविधियाँ तिथि निर्धारण में तभी उपयोगी होती हैं जब जमाव स्तरित हो तथा वह क्षेत्र अक्षुण्ण हो। समय की समान अवधि के लिए समान आधार में अस्थियों के जीवाश्मीकरण द्वारा संग्रहीत फ्लोरीन स्थानीय भू-जल के समान होगा।

Sub questions

Question Number : 146 Question Id : 6154753585 Question Type : MCQ Option Shuffling : No Display Question Number : Yes
Single Line Question Option : No Option Orientation : Vertical

Correct Marks : 2 Wrong Marks : 0

निम्नलिखित में से कौन सापेक्ष तिथिनिर्धारण से संबंधित है?

- (1) जैव स्तर (बायोस्ट्रेटिग्राफी)
- (2) पोटैसियम आरगन तिथि
- (3) C^{14} तिथि
- (4) कॉस्मिक तिथि

Options :

61547513981. 1

61547513982. 2

61547513983. 3

61547513984. 4

Question Number : 147 Question Id : 6154753586 Question Type : MCQ Option Shuffling : No Display Question Number : Yes
Single Line Question Option : No Option Orientation : Vertical

Correct Marks : 2 Wrong Marks : 0

जीवाश्म अस्थि की सापेक्षिक आयु निर्धारित होती है

- (1) इसके रसायनों के संयोजन से
- (2) समान क्षेत्र के अन्य जीवाश्म अस्थि से तुलना करने से
- (3) इसके रासायनिक संयोजनों की अन्य जीवाश्म अस्थि के रासायनिक संयोजनों से तुलना करने से
- (4) इसके रासायनिक संयोजनों की उसी क्षेत्र की ज्ञात आयु के अन्य संभाव्य अस्थियों से तुलना करने से

Options :

61547513985. 1

61547513986. 2

61547513987. 3

61547513988. 4

Question Number : 148 Question Id : 6154753587 Question Type : MCQ Option Shuffling : No Display Question Number : Yes
Single Line Question Option : No Option Orientation : Vertical

Correct Marks : 2 Wrong Marks : 0

निम्नलिखित में से कौन-सा स्तर प्राचीन काल अवधि का संकेत देता है?

- (1) स्तर-2
- (2) स्तर-1
- (3) स्तर-5
- (4) स्तर-10

Options :

61547513989. 1
61547513990. 2
61547513991. 3
61547513992. 4

Question Number : 149 Question Id : 6154753588 Question Type : MCQ Option Shuffling : No Display Question Number : Yes
Single Line Question Option : No Option Orientation : Vertical
Correct Marks : 2 Wrong Marks : 0

सापेक्ष तिथिनिर्धारण प्रविधियाँ निम्नलिखित में पायी गयी वस्तुओं के तिथि निर्धारण में उपयोगी हैं -

- (1) अक्षुण्ण क्षेत्र
- (2) अनअक्षुण क्षेत्र
- (3) द्वितीयक ग्रेवेल का जमाव
- (4) अस्तरीकृत जमाव

Options :

61547513993. 1
61547513994. 2
61547513995. 3
61547513996. 4

Question Number : 150 Question Id : 6154753589 Question Type : MCQ Option Shuffling : No Display Question Number : Yes
Single Line Question Option : No Option Orientation : Vertical
Correct Marks : 2 Wrong Marks : 0

अस्थि द्वारा अवशोषित फ्लोरीन निर्भर करता है

- (1) मृदा संरचना पर
- (2) नदी जल पर
- (3) वर्षा-जल पर
- (4) अस्थियों से भू-जल रिसाव पर

Options :

61547513997. 1

61547513998. 2

61547513999. 3

61547514000. 4

