



Total No. of Questions : 37

Total No. of Printed Pages : 3

Map of India

Reg. No.

--	--	--	--	--	--	--	--	--	--

Part – III
HISTORY
Paper – I
(Urdu Version)

Time : 3 Hours

Max. Marks 100


نوٹ : ذیل کی ہدایات کا بغور مطالعہ کیجئے۔

- (i) سکشن "A" میں "طویل جوابی سوالات" دئے گئے ہیں۔ ہر جواب کو "40" سطور تک محدود رکھیں۔ ہر سوال کے لئے "10" نشانات مقرر ہیں۔
- (ii) سکشن "B" میں "مختصر جوابی سوالات" دئے گئے ہیں۔ ہر جواب کو "20" سطور تک محدود رکھیں۔ ہر سوال کے لئے "5" نشانات مقرر ہیں۔
- (iii) سکشن "C" "مختصر ترین جوابی سوالات" پر مشتمل ہے۔ ہر جواب کو "5" سطور تک محدود رکھیں۔ ہر سوال کے لئے "2" نشانات مقرر ہیں۔
- (iv) ان تمام سوالات کے جوابات کو ترتیب وار لکھیں۔

(3×10=30)

سکشن - A

1. حسب ذیل میں سے کوئی تین (3) سوالات کے جوابات لکھئے۔


- (1) بدھ مت کی اہم تعلیمات کے بارے میں لکھئے۔ اس کے ہندوستانی سماج پر کیا اثرات مرتب ہوئے؟ بیان کیجئے۔
- (2) گپتاؤں کے دور کو "سنہری دور" کیوں کہا جاتا ہے؟
- (3) مغلوں کے نظم و نسق پر تفصیلی نوٹ لکھئے۔ 
- (4) سری کرشنا دیوارائے کی کامیابیوں (فتوحات) کا تذکرہ کیجئے۔
- (5) ہندوستان میں ہوئی "تحریک عدم تعاون" پر ایک نوٹ لکھئے۔



(8×5=40)

سکشن - B

ii. ذیل میں سے کوئی آٹھ (8) سوالات کے جوابات مطلوب ہیں۔ سوال نمبر 17 (نقشہ) لازمی ہے۔

- (6) تاریخ ہند کی تدوین میں ادبی ماخذات کی اہمیت کا تنقیدی جائزہ لیجئے۔
- (7) ہڑپہ (Harappa) رسم الخط کے بارے میں لکھئے۔
- (8) گدھ سلطنت کے عروج کے کیا اسباب تھے؟ بیان کرو۔
- (9) اشوک دھما کے بارے میں آپ کیا جانتے ہیں؟ بیان کرو۔
- (10) گوتمی پترا ساتا کرنی کی عظمت کا جائزہ لیجئے۔ 
- (11) چولاؤں کی مقامی خود مختار حکومت کے اہم خود خال کا جائزہ لیجئے۔
- (12) علاء الدین خلجی کے مارکٹی الملاحات بیان کرو۔
- (13) بھکتی تحریک کے مبلغوں (Preachers) کے اہم خصوصیات بیان کرو۔
- (14) کارنوالس کے الملاحات کے اہم نکات سمجھائیے۔
- (15) 1857ء کی بغاوت کے مختلف اسباب کیا تھے؟ بیان کرو۔
- (16) ہوم رول (Home Rule) تحریک کا تنقیدی جائزہ لیجئے۔
- (17) دئے گئے ہندوستان کے نقشے میں اشوک کی سلطنت میں ذیل کے مقامات کی نشاندہی کیجئے:



(b) مدھرا
(d) سانچی

(a) کلنگ
(c) ٹکسلا
(e) پائلی پتر

یا

دئے گئے ہندوستان کے نقشے میں اکبر کی سلطنت میں ذیل کے مقامات کی نشاندہی کیجئے:

(b) پانی پت
(d) گونڈوانہ (Gondwana)



(a) دہلی
(c) آگرہ
(e) گجرات



(15x2=30)

سکشن - C

III. حسب ذیل میں سے کوئی پندرہ (15) سوالات کے جوابات لکھئے۔

- (18) کتے
- (19) وسیع و عریض غسل خانہ (Great Bath)
- (20) ویداس
- (21) پھٹوئیں صدی قبل مسیح میں کتے تجارتی راستے تھے؟
- (22) ابویکاس
- (23) بدھ مت کے اصول
- (24) کالی داس 
- (25) آئہول کتبہ (Aihole Inscription)
- (26) پلو طرز تعمیر
- (27) قطب مینار
- (28) علامتی سکے (Token Currency Reforms)
- (29) نور جہاں
- (30) تاج محل
- (31) شنکر اچاریہ
- (32) راما نوچارہ
- (33) نائینکر نظام
- (34) رانی لکشمی بانی (Rani Lakshmi Bai)
- (35) وارن ہیسٹنگز 
- (36) اعتدال پسند کون تھے؟
- (37) رولٹ سٹیہ گرہ کے بارے میں لکھئے۔





CUT HERE

