

हाई स्कूल परीक्षा 2015

सामाजिक विज्ञान-केवल प्रश्न-पत्र

समय : 3 घण्टे 15 मिनट]

825 (GF)

[पूर्णांक : 70

खण्ड-क : बहुविकल्पीय प्रश्न

- निर्देश**—निम्न में से सही उत्तर चुनकर अपनी उत्तर-पुस्तिका में लिखिए।
1. लोक सभा में नामित सदस्यों की संख्या है— 1
(क) 2 (ख) 4 (ग) 12 (घ) 5
 2. जर्मनी में धर्म सुधार आन्दोलन के प्रणेता थे— 1
(क) ज्विगली (ख) कॉल्विन (ग) राजा फिलिप (घ) मॉर्टिन लूथर।
 3. रेलगाड़ी का आविष्कार किया— 1
(क) जेम्स वाट ने (ख) जॉर्ज स्टीफेन्सन ने
(ग) क्रॉम्पटन ने (घ) कार्ट राइट ने।
 4. बेगम हजरत महल ने स्वतन्त्रता संग्राम में कहाँ नेतृत्व किया था— 1
(क) लखनऊ में (ख) कानपुर में
(ग) झाँसी में (घ) बेरली में।
 5. लोकसभा के सदस्यों का कार्यकाल है— 1
(क) 2 वर्ष (ख) 5 वर्ष (ग) 8 वर्ष (घ) 6 वर्ष।
 6. भारतीय संघ के राज्यों में सबसे बड़ा न्यायालय है— 1
(क) उच्च न्यायालय (ख) सर्वोच्च न्यायालय
(ग) जिला न्यायालय (घ) राजस्व परिषद्।

अति लघु उत्तरीय प्रश्न

7. प्रथम विश्व युद्ध के दो परिणाम लिखिए। 1+1
8. महात्मा गाँधी द्वारा प्रारम्भ किए गए किन्हीं दो आन्दोलनों के नाम लिखिए। 1+1
9. भारत के राष्ट्रपति के दो विशेषाधिकार लिखिए। 1+1

लघु उत्तरीय प्रश्न

10. रूसी क्रान्ति में लेनिन के योगदान का वर्णन कीजिए। 3
- अथवा** नरम पंथियों और गरम पंथियों के बीच का क्या अन्तर थे? 1½+1½
11. केन्द्रीय मंत्री परिषद के तीन प्रमुख कार्य लिखिए। 1+1+1
- अथवा** भारत के सर्वोच्च न्यायालय के संगठन पर प्रकाश डालिए। 3

दीर्घ उत्तरीय प्रश्न

12. इंग्लैण्ड में औद्योगिक क्रान्ति के विकास पर निबन्ध लिखिए। 6
- अथवा** राष्ट्र संघ की असफलता के कारणों का विवेचन कीजिए। 6
13. भारत के राष्ट्रपति की चुनाव प्रक्रिया का वर्णन कीजिए। 6
- अथवा** सार्क से आप क्या समझते हैं? इसके प्रमुख उद्देश्यों का वर्णन कीजिए। 3+3

मानचित्र सम्बन्धी प्रश्न

निर्देश—दिए गए भारत के मानचित्र में निम्नलिखित स्थानों को ⊙ चिह्न से दर्शाइए। सही नाम तथा सही स्थान अंकित करने के लिए ½ + ½ अंक निर्धारित हैं।

14. (i) वह स्थान जहाँ से 10 मई, 1857 को भारत में प्रथम स्वतन्त्रता संग्राम का प्रारम्भ हुआ।
- (ii) वह स्थान जहाँ बुलन्द दरवाजा स्थित है।
- (iii) वह स्थान जहाँ कुम्भ मेला लगता है।
- (iv) वह स्थान जहाँ टैगोर ने 'विश्वभारती' विश्वविद्यालय स्थापित किया।
- (v) वह स्थान जो टीपू सुल्तान की राजधानी था।

खण्ड-ख

बहुविकल्पीय प्रश्न

- निर्देश**—निम्न में से सही उत्तर चुनकर अपनी उत्तर-पुस्तिका में लिखिए।
15. संसार का सबसे बड़ा डेल्टा है— 1
(क) अमेजन का डेल्टा (ख) गंगा का डेल्टा
(ग) मिसिसिपी का डेल्टा (घ) नील नदी का डेल्टा।
 16. समय से पहले समाप्त होने वाली पंचवर्षीय योजना है— 1
(क) प्रथम पंचवर्षीय योजना (ख) द्वितीय पंचवर्षीय योजना
(ग) पंचम पंचवर्षीय योजना (घ) सातवीं पंचवर्षीय योजना।
 17. निम्नलिखित में से कौन-सा उद्योग कृषि पर आधारित नहीं है— 1
(क) सूती वस्त्र उद्योग (ख) चीनी उद्योग
(ग) सीमेण्ट उद्योग (घ) जूट उद्योग।
 18. माउण्ट एवरेस्ट की ऊँचाई है— 1
(क) 8848 मीटर (ख) 7747 मीटर
(ग) 6646 मीटर (घ) 5545 मीटर।
 19. 'कोलार' सम्बन्धित है— 1
(क) कोयला से (ख) सोना से (ग) अभ्रक से (घ) मैंगनीज से।
 20. नागार्जुन सागर परियोजना किस नदी पर स्थित है— 1
(क) सिन्ध नदी (ख) गंगा नदी (ग) यमुना नदी (घ) कृष्णा नदी।

अति लघु उत्तरीय प्रश्न

21. आर्थिक नियोजन के दो उद्देश्य बताइए। 1+1
22. भारतीय वनों के हास के दो कारण लिखिए। 1+1
23. सौर-ऊर्जा के दो महत्त्व बताइए। 1+1

लघु उत्तरीय प्रश्न






24. बहुउद्देशीय नदी घाटी परियोजना के तीन महत्त्व बताइए। 1+1+1
- अथवा** दामोदर घाटी परियोजना के तीन महत्त्वों पर प्रकाश डालिए। 1+1+1
25. हरित क्रान्ति किसे कहते हैं? हरित क्रान्ति की किन्हीं दो विशेषताओं का वर्णन कीजिए। 1+1+1
- अथवा** कृषि श्रमिक का क्या तात्पर्य है? उनकी दो प्रमुख समस्याओं का उल्लेख कीजिए। 3

दीर्घ उत्तरीय प्रश्न

26. प्राकृतिक आपदा किसे कहते हैं? किन्हीं चार प्राकृतिक आपदाओं के विषय में लिखिए। 2+1+1+1+1
- अथवा** मानवीय आपदा का क्या तात्पर्य है? किसी एक मानवीय आपदा से बचने के लिए चार सुझाव दीजिए। 2+1+1+1+1
27. कुटीर एवं लघु-उद्योग में अन्तर बताइए। कुटीर उद्योग का आर्थिक विकास में क्या महत्त्व है? 3+3
- अथवा** भारत में निम्न औद्योगिक उत्पादकता के तीन कारण बताइए तथा उसके उत्पादकता बढ़ाने के तीन उपाय समझाइए। 3+3

मानचित्र कार्य

निर्देश—निम्नलिखित को भारत के मानचित्र में दर्शाइए। सही नाम व चिन्ह (स्थिति) के लिए ½ + ½ अंक हैं :

28. (i) अरावली पर्वत  चिह्न द्वारा नाम सहित।
- (ii) कैंटीले वन का एक क्षेत्र  चिह्न द्वारा।
- (iii) उड़ीसा राज्य की राजधानी  चिह्न द्वारा नाम सहित।
- (vi) काली मिट्टी का एक क्षेत्र  चिह्न द्वारा।
- (v) नर्मदा नदी  चिह्न द्वारा नाम सहित।