

053/C

Roll No. ....

[Total No. of Printed Pages : 11

Total No. of Questions : 26]

SS

2039

ਸਲਾਨਾ ਪਰੀਖਿਆ ਪ੍ਰਣਾਲੀ

CHEMISTRY (Theory)

(Common for Science, and Agriculture Groups)

(Punjabi, Hindi and English Versions)

(Evening Session)

Time allowed : Three hours

Maximum marks : 70

(Punjabi Version)

- ਨੋਟ : (i) ਆਪਣੀ ਉੱਤਰ-ਪੱਤਰੀ ਦੇ ਟਾਈਟਲ ਪੰਨੇ 'ਤੇ ਵਿਸ਼ਾ-ਕੋਡ/ਪੇਪਰ-ਕੋਡ ਵਾਲੇ ਖਾਨੇ ਵਿੱਚ ਵਿਸ਼ਾ-ਕੋਡ/ਪੇਪਰ-ਕੋਡ 053/C ਜ਼ਰੂਰ ਦਰਜ ਕਰੋ ਜੀ ।
- (ii) ਉੱਤਰ-ਪੱਤਰੀ ਲੈਂਦੇ ਹੀ ਇਸ ਦੇ ਪੰਨੇ ਗਿਣ ਕੇ ਦੇਖ ਲਓ ਕਿ ਇਸ ਵਿੱਚ ਟਾਈਟਲ ਸਹਿਤ 30 ਪੰਨੇ ਹਨ ਅਤੇ ਠੀਕ ਕ੍ਰਮਵਾਰ ਹਨ ।
- (iii) ਉੱਤਰ-ਪੱਤਰੀ ਵਿੱਚ ਖਾਲੀ ਪੰਨਾ/ਪੰਨੇ ਛੱਡਣ ਤੋਂ ਬਾਅਦ ਹੱਲ ਕੀਤੇ ਗਏ ਪ੍ਰਸ਼ਨ/ਪ੍ਰਸ਼ਨਾਂ ਦਾ ਮੁਲਾਂਕਣ ਨਹੀਂ ਕੀਤਾ ਜਾਵੇਗਾ ।
- (iv) ਜੇ ਲੋੜ ਪਵੇ ਤਾਂ ਲੋਗ ਸਾਰਣੀ ਮੰਗੀ ਜਾ ਸਕਦੀ ਹੈ ।
- (v) ਸਾਧਾਰਣ ਗਣਨਯੰਤਰ ਵਰਤਣ ਦੀ ਆਗਿਆ ਹੈ ।
- (vi) ਹਰੇਕ ਪ੍ਰਸ਼ਨਾਂ ਦੇ ਅੰਕ ਉਸਦੇ ਸਾਹਮਣੇ ਦਿਖਾਏ ਗਏ ਹਨ ।
- (vii) ਪ੍ਰਸ਼ਨ ਪੱਤਰ ਵਿੱਚ 26 ਪ੍ਰਸ਼ਨ ਹਨ । ਕੁਲ 26 ਪ੍ਰਸ਼ਨਾਂ ਦੇ ਉੱਤਰ ਦਿਓ । ਪ੍ਰਸ਼ਨ ਨੰਬਰ 19, 23, 24, 25 ਅਤੇ 26 ਵਿੱਚ ਅੰਦਰੂਨੀ ਛੋਟ ਦਿੱਤੀ ਗਈ ਹੈ ।
- (viii) ਪ੍ਰਸ਼ਨ ਨੰਬਰ 1 ਤੋਂ 8 ਤੱਕ ਇੱਕ-ਇੱਕ ਅੰਕ ਦੇ ਹਨ । ਇੱਕ ਲਾਈਨ ਵਿੱਚ ਉੱਤਰ ਦਿਓ ।
- (ix) ਪ੍ਰਸ਼ਨ ਨੰਬਰ 9 ਤੋਂ 16 ਤੱਕ ਦੋ-ਦੋ ਅੰਕਾਂ ਦੇ ਹਨ । ਸਾਰੇ ਪ੍ਰਸ਼ਨ ਜ਼ਰੂਰੀ ਹਨ । ਇਹ ਛੋਟੇ ਉੱਤਰ ਵਾਲੇ ਪ੍ਰਸ਼ਨ ਹਨ ।
- (x) ਪ੍ਰਸ਼ਨ ਨੰਬਰ 17 ਤੋਂ 23 ਤੱਕ ਚਾਰ-ਚਾਰ ਅੰਕਾਂ ਦੇ ਹਨ । ਸਾਰੇ ਪ੍ਰਸ਼ਨ ਜ਼ਰੂਰੀ ਹਨ । ਪ੍ਰਸ਼ਨ ਨੰਬਰ 19 ਅਤੇ 23 ਲਈ ਅੰਦਰੂਨੀ ਛੋਟ ਦਿੱਤੀ ਗਈ ਹੈ ।
- (xi) ਪ੍ਰਸ਼ਨ ਨੰਬਰ 24, 25 ਅਤੇ 26 (ਤਿੰਨ ਪ੍ਰਸ਼ਨ) ਛੇ-ਛੇ ਅੰਕਾਂ ਦੇ ਹੋਣਗੇ । ਸਾਰੇ ਪ੍ਰਸ਼ਨ ਜ਼ਰੂਰੀ ਹਨ । ਪੂਰੀ ਅੰਦਰੂਨੀ ਛੋਟ ਦਿੱਤੀ ਗਈ ਹੈ ।
- (xii) ਪੰਜਾਬੀ ਅਤੇ ਹਿੰਦੀ ਵਿੱਚ ਪ੍ਰਸ਼ਨ ਅੰਗ੍ਰੇਜ਼ੀ ਪ੍ਰਸ਼ਨਾਂ ਦਾ ਅਨੁਵਾਦ ਹਨ । ਕਿਉਂਕਿ ਅਨੁਵਾਦ ਅਨੁਮਾਨ 'ਤੇ ਅਧਾਰਿਤ ਹੁੰਦਾ ਹੈ ਇਸਲਈ ਕਿਸੇ ਭਰਮ ਦੀ ਸਥਿਤੀ ਵਿੱਚ ਅੰਗ੍ਰੇਜ਼ੀ ਵਿੱਚ ਪ੍ਰਸ਼ਨ ਨੂੰ ਹੀ ਸਹੀ ਮੰਨਿਆ ਜਾਵੇ ।

1. ਹੇਠ ਲਿਖਿਆਂ ਵਿੱਚੋਂ ਕਿਹੜਾ ਤਾਕਤਵਰ ਤੇਜ਼ਾਬ ਹੈ :

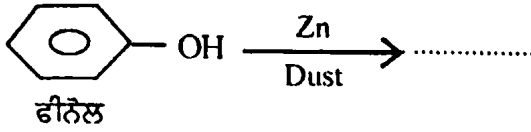
1

(ੳ) HCOOH (ਅ) CH<sub>3</sub>COOH (ੲ) CH<sub>3</sub>CH<sub>2</sub>COOH (ਜ) (CH<sub>3</sub>)<sub>2</sub>CHCOOH

053/C-SS

[Turn over

2. ਹੇਠ ਲਿਖੇ ਨੂੰ ਪੂਰਾ ਕਰੋ :



3. ਇੱਕ ਪ੍ਰਥਮ ਕੋਟੀ ਦੀ ਪ੍ਰਤੀਕਿਰਿਆ ਦਾ ਦਰ ਸਥਿਰ ਅੰਕ  $K = 4.93 \times 10^{-4} \text{ s}^{-1}$  ਹੈ। ਇਸ ਦੀ ਅਰਧ ਆਯੁ ਮਿਆਦ ਪਤਾ ਕਰੋ। 1
4. ਪੀੜਾਹਾਰੀ ਕੀ ਹੁੰਦੇ ਹਨ ? 1
5. ਜੇਕਰ ਕਿਸੇ ਯੋਗਿਕ ਦੇ 0.0580 ਮੋਲਜ਼ ਇਸਦੇ 200 ਮਿਲੀ. ਘੋਲ ਵਿੱਚ ਘੋਲ ਦਈਏ ਤਾਂ ਉਸਦੀ ਮੋਲਰਤਾ ਪਤਾ ਕਰੋ। 1
6. ਲਘੂਕਰਨ ਸ਼ੱਕਰ ਕੀ ਹੁੰਦੇ ਹਨ ? 1
7. ਬਣਾਵਟੀ ਮਿਠਾਸ ਏਜੰਟ ਦੀ ਇੱਕ ਉਦਾਹਰਣ ਦਿਉ। 1
8. ਅਮੀਨ, ਨਿਊਕਲਸ ਸਨੋਹੀ ਦੀ ਤਰਾਂ ਕਿਉਂ ਕਿਰਿਆ ਕਰਦੇ ਹਨ ? 1
9. ਨਾਈਲੋਨ 6,6 ਦੇ ਇਕਲਕ ਦਸਦੇ ਹੋਏ ਇਸਦੀ ਤਿਆਰੀ ਲਿਖੋ। 2
10. ਐਲੀਫੈਟਿਕ ਐਮੀਨ, ਅਮੋਨੀਆ ਤੋਂ ਤਾਕਤਵਰ ਖਾਰ ਕਿਉਂ ਹਨ ? 2
11. ਵਿਟਾਮਿਨ ਸੀ ਦਾ ਰਸਾਇਣਿਕ ਨਾਂ ਕੀ ਹੈ ਅਤੇ ਇਸ ਦੀ ਕਮੀ ਕਾਰਨ ਕਿਹੜਾ ਰੋਗ ਹੋ ਜਾਂਦਾ ਹੈ ? 2
12. ਹੇਠ ਲਿਖਿਆ ਦੇ IUPAC ਨਾਂ ਲਿਖੋ :  
 (ੳ)  $\text{K}[\text{Ag}(\text{CN})_2]$   
 (ਅ)  $[\text{Cr}(\text{NH}_3)_3(\text{H}_2\text{O})_3]\text{Cl}_3$  2
13. X ਅਤੇ Y ਦਾ ਇਕ ਯੋਗਿਕ ਘਣ ਬਣਤਰ ਵਿੱਚ ਕ੍ਰਿਸਟਲਾਈਜ਼ ਹੁੰਦਾ ਹੈ ਜਿਸ ਵਿੱਚ Y ਪ੍ਰਮਾਣੂ ਕੋਨਿਆਂ ਅਤੇ X ਪ੍ਰਮਾਣੂ ਘਣ ਦੇ ਬਦਲਵੇ ਚਿਹਰਿਆਂ ਤੇ ਹੁੰਦੇ ਹਨ। ਯੋਗਿਕ ਦਾ ਸੂਤਰ ਕੀ ਹੈ ? 2
14. Cu(I) ਰੰਗਹੀਨ ਅਤੇ Cu(II) ਦਾ ਰੰਗ ਨੀਲਾ ਕਿਉਂ ਹੈ ? 2
15. ਪ੍ਰਥਮ ਕੋਟੀ ਪ੍ਰਤੀਕਿਰਿਆ ਲਈ ਦਰ ਸਥਿਰ ਅੰਕ  $90 \text{ s}^{-1}$  ਹੈ। ਪ੍ਰਤਿਕਾਰਕ ਨੂੰ ਆਪਣੀ ਪ੍ਰਾਰੰਭਿਕ ਸੰਘਣਤਾ ਦਾ  $\frac{1}{20}$  ਵਾਂ ਭਾਗ ਰਹਿ ਜਾਣ ਵਿੱਚ ਕਿੰਨਾ ਸਮਾਂ ਲੱਗੇਗਾ ? 2
16. ਕੱਚੀ ਧਾਤ ਅਤੇ ਖਣਿਜਾਂ ਦੀ ਪ੍ਰੀਭਾਸ਼ਾ ਦਿਉ। 2
17. (ੳ) ਹੇਲ ਵੋਲਹਾਰਡ ਜੈਲਨਸਕੀ (H.V.Z.) ਪ੍ਰਤੀਕਿਰਿਆ ਲਿਖੋ।  
 (ਅ) ਕਾਰਬੋਐਕਸੇਲਿਕ ਤੇਜ਼ਾਬਾਂ ਦਾ ਉਬਾਲ ਅੰਕ ਉਨਾਂ ਦੇ ਅਨੁਸਾਰੀ ਅਲਕੋਹਲ ਨਾਲੋਂ ਵਧੇਰੇ ਕਿਉਂ ਹੁੰਦਾ ਹੈ ?  
 (ੲ) ਐਲਡੀਹਾਈਡ, ਕੀਟੋਨ ਤੋਂ ਵਧੇਰੇ ਪ੍ਰਤੀਕਿਰਿਆਸ਼ੀਲ ਕਿਉਂ ਹੁੰਦੇ ਹਨ ? 1+1+2=4



24. (ੳ) ਲੈਂਥੇਨਾਇਡ ਅਤੇ ਐਕਟੀਨਾਇਡ ਵਿੱਚ ਦੋ ਐਂਤਰ ਲਿਖੋ ।  
 (ਅ)  $Fe^{+3}$  ਅਤੇ  $Zn^{+2}$  ਵਿੱਚ ਅਘੁਗਮਕ (unpaired) ਇਲੈਕਟ੍ਰਾਨ ਕਿੰਨੇ ਹਨ ?  
 (ੲ)  $La(OH)_3$  ਤਾਕਤਵਰ ਖਾਰ ਜਦੋਂ ਕਿ  $Lu(OH)_3$  ਕਮਜ਼ੋਰ ਖਾਰ ਕਿਉਂ ਹੈ ? 2+2+2=6  
 ਜਾਂ  
 (ੳ) ਪੋਟਾਸ਼ੀਅਮ ਪਰਮੈਂਗਨੇਟ ( $KMnO_4$ ) ਦੀ ਤਿਆਰੀ ਲਿਖੋ ।  
 (ਅ) ਲੈਂਥੇਨਾਇਡ ਸੁੰਗੜਨ ਕੀ ਹੈ ? ਇਸਦੇ ਕਾਰਨ ਲਿਖੋ ।  
 (ੲ) ਐਂਤਕਾਲੀ ਧਾਤਾਂ ਵਿੱਚ ਉਤਪ੍ਰੇਰਕ ਗੁਣ ਵੀ ਮੌਜੂਦ ਹੈ । ਵਰਨਣ ਕਰੋ । 2+2+2=6
25. (ੳ) ਹੇਠ ਲਿਖੀਆਂ ਪ੍ਰਤੀਕਿਰਿਆਵਾਂ ਨੂੰ ਲਿਖੋ :  
 (1) ਵੁਰਟਜ਼ ਫਿਟਿਗ ਪ੍ਰਤੀਕਿਰਿਆ  
 (2) ਬਾਲੌਜ਼ ਸ਼ੀਮੈਨ ਪ੍ਰਤੀਕਿਰਿਆ  
 (3) ਫਰੀਡਲ ਕਰਾਫਟ ਅਲਕਾਈਲੇਸ਼ਨ ਪ੍ਰਤੀਕਿਰਿਆ  
 (ਅ) ਹੈਲੋਐਲਕੇਨ ਪਾਣੀ ਵਿੱਚ ਬਹੁਤ ਘੱਟ ਘੁਲਣਸ਼ੀਲ ਕਿਉਂ ਹਨ ?  
 (ੲ) ਫੋਰੋਨ ਦਾ ਇੱਕ ਉਪਯੋਗ ਲਿਖੋ । 3+2+1=6  
 ਜਾਂ  
 (ੳ) ਹੈਲੋਐਰੀਨਜ਼, ਹੈਲੋਐਲਕੇਨਜ਼ ਦੇ ਮੁਕਾਬਲੇ ਘੱਟ ਪ੍ਰਤੀਕਿਰਿਆਸ਼ੀਲ ਕਿਉਂ ਹਨ ? (ਰੇਜ਼ੋਨੈਂਸ ਅਤੇ ਹਾਈਬ੍ਰਿਡਾਈਜ਼ੇਸ਼ਨ ਨਾਲ ਵਿਆਖਿਆ ਕਰੋ)  
 (ਅ) ਦੋ ਅਣਵੀ ਨਿਊਕਲੀਅਸ ਸਨੋਹੀ ਪ੍ਰਤੀਸਥਾਪਨ ਪ੍ਰਤੀਕਿਰਿਆ ( $S_N2$ ) ਦਾ ਵਰਣਨ ਕਰੋ ।  
 (ੲ) ਪ੍ਰਕਾਸ਼ ਸਕਿਰਿਅਤਾ ਦੀ ਪ੍ਰੀਭਾਸ਼ਾ ਦਿਉ । 3+2+1=6
26. (ੳ)  $SF_6$  ਗਿਆਤ ਹੈ ਪ੍ਰੰਤੂ  $SH_6$  ਗਿਆਤ ਨਹੀਂ, ਕਿਉਂ ?  
 (ਅ)  $HF$  ਅਤੇ  $HI$  ਵਿੱਚੋਂ ਕਿਹੜਾ ਜਿਆਦਾ ਤੇਜ਼ਾਬੀ ਹੈ ਅਤੇ ਕਿਉਂ ?  
 (ੲ)  $XeF_6$  ਅਤੇ  $XeOF_2$  ਦੀ ਤਿਆਰੀ ਲਿਖੋ । 2+2+2=6  
 ਜਾਂ  
 (ੳ) ਸਲਫਿਊਰਿਕ ਐਸਿਡ ਦਾ ਉਤਪਾਦਨ ਸੰਪਰਕ ਪ੍ਰਕਰਨ ਵਿਧੀ ਦੁਆਰਾ ਲਿਖੋ । (ਕੋਵਲ ਉਤਪਾਦਨ ਦੇ ਸਟੈਪ ਹੀ ਲਿਖੋ)  
 (ਅ)  $ClF_3$  ਦੀ ਤਿਆਰੀ ਅਤੇ ਬਣਤਰ ਲਿਖੋ ।  
 (ੲ) ਗਰੁੱਪ 18 ਦੇ ਤੱਤਾਂ ਨੂੰ ਨੋਬਲ ਗੈਸਾਂ ਕਿਉਂ ਆਖਦੇ ਹਨ ? 3+2+1=6

## (Hindi Version)

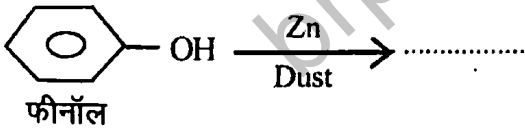
- ਨੋਟ : (i) ਅਪਣੀ ਉਤਰ-ਪੁਸ਼ਟਿਕਾ ਕੇ ਸੁਖ਼ਯ ਪ੍ਰੁਠ ਪਰ ਵਿਥਯ-ਕੋਡ/ਪੇਪਰ-ਕੋਡ ਵਾਲੇ ਖਾਨੇ ਮੇਂ ਵਿਥਯ-ਕੋਡ/ਪੇਪਰ-ਕੋਡ 053/C ਅਵਸ਼ਯ ਲਿਖੋਂ ।  
 (ii) ਉਤਰ-ਪੁਸ਼ਟਿਕਾ ਲੇਤੇ ਹੀ ਇਸਕੇ ਪ੍ਰੁਠ ਗਿਨਕਰ ਦੇਖ ਲੋਂ ਕਿ ਇਸਮੇਂ ਟਾਇਟਲ ਸਹਿਤ 30 ਪ੍ਰੁਠ ਹੈਂ ਏਕ ਸਹੀ ਕ੍ਰਮ ਮੇਂ ਹੈਂ ।  
 (iii) ਉਤਰ-ਪੁਸ਼ਟਿਕਾ ਮੇਂ ਖਾਲੀ ਓਡੇ ਗਯੇ ਪ੍ਰੁਠ/ਪ੍ਰੁਠੀ ਕੇ ਪੜਯਾਕ੍ਰ ਹਲ ਕ੍ਰਿਏ ਗਏ ਪ੍ਰਸ਼ਨ/ਪ੍ਰਸ਼ਨੀ ਕਾ ਸੂਲਯਾਂਕਨ ਨਹੀਂ ਕ੍ਰਿਯਾ ਜਾਯੇਗਾ ।

- (iv) आवश्यकता होने पर लघुगणक सारणी मांगी जा सकती है ।
- (v) साधारण गणनयंत्र के उपयोग की आज्ञा है ।
- (vi) प्रत्येक प्रश्न के अंक उसके सामने दर्शाए गए हैं ।
- (vii) प्रश्न पत्र में 26 प्रश्न हैं। कुल 26 प्रश्न कीजिए। प्र. सं. 19, 23, 24, 25 तथा 26 में आंतरिक चयन दिया गया है।
- (viii) प्रश्न सं. 1 से 8 तक प्रत्येक के एक अंक हैं। एक पंक्ति में उत्तर दें।
- (ix) प्रश्न सं. 9 से 16 तक प्रत्येक दो अंकों के हैं। सभी प्रश्न अनिवार्य हैं। यह लघुउत्तरीय प्रश्न हैं।
- (x) प्रश्न सं. 17 से 23 तक प्रत्येक 4 अंकों के हैं। सभी प्रश्न अनिवार्य हैं। प्र. सं. 19 तथा 23 के लिए आन्तरिक विकल्प दिया गया है।
- (xi) प्रश्न सं. 24, 25 और 26 (तीन प्रश्न) प्रत्येक छः अंकों के होंगे। सभी प्रश्न अनिवार्य हैं। सभी में आन्तरिक विकल्प दिया गया है।
- (xii) पंजाबी तथा हिन्दी में प्रश्न अंग्रेज़ी के प्रश्नों के अनुवाद हैं। क्योंकि अनुवाद अनुमान पर आधारित होता है इसलिए किसी भ्रम की स्थिति में अंग्रेज़ी के प्रश्न को सही माना जाए।

1. नीचे लिखे में कौन सा बलवान अम्ल है : 1

(क) HCOOH (ख) CH<sub>3</sub>COOH (ग) CH<sub>3</sub>CH<sub>2</sub>COOH (घ) (CH<sub>3</sub>)<sub>2</sub>CHCOOH

2. निम्नलिखित को पूरा करें :



3. प्रथम कोटि की एक अभिक्रिया के लिए दर स्थिरांक K का मान =  $4.93 \times 10^{-4} \text{ S}^{-1}$  पाया गया, इस अभिक्रिया के लिए अर्धायु काल की गणना कीजिए। 1

4. पीड़ाहारी क्या होते हैं ? 1

5. अगर किसी यौगिक के 0.0580 मोल को इसके 200 ml विलयन में घोल दें तो उसकी मोलरता क्या होगी ? 1

6. अपचयक शर्करा क्या होती है ? 1

7. कृत्रिम मधुरक एजेंट का एक उदाहरण दें। 1

8. एमीन नाभिकस्नेही की तरह क्रिया क्यों करते हैं ? 1

9. नाइलॉन 6,6 के एकलकों को बताते हुए इसकी तैयारी लिखें। 2
10. एलिफैटिक एमीन, अमोनिया की अपेक्षा प्रबलतर क्षार क्यों होते हैं ? 2
11. विटामिन C का रासायनिक नाम क्या है और इसकी कमी से कौन-सा रोग हो जाता है ? 2
12. निम्नलिखित के IUPAC नाम लिखिए :  
 (अ)  $K[Ag(CN)_2]$   
 (ब)  $[Cr(NH_3)_3(H_2O)_3]Cl_3$  2
13. X और Y का एक यौगिक घनीय संरचना में क्रिस्टलीकृत होता है जिसमें Y परमाणु घनीय के कोनों पर और X परमाणु घन के एकांतर फलकों पर मौजूद हैं। यौगिक का सूत्र पता करें। 2
14. Cu(I) रंगहीन और Cu(II) का रंग नीला क्यों होता है ? 2
15. प्रथम कोटि की अभिक्रिया के लिए दर स्थिरांक  $90 s^{-1}$  है। अभिकारक को अपनी प्रारंभिक सांद्रता से  $\frac{1}{20}$  वाँ भाग रह जाने में कितना समय लगेगा ? 2
16. अयस्कों तथा खनिजों की परिभाषा दीजिए। 2
17. (क) हेल वोलहार्ड ज़ेलिंस्की (H.V.Z.) अभिक्रिया लिखो।  
 (ख) कार्बोक्सिलिक अम्लों का क्वथनांक उसके समतुल्य एल्कोहॉल से उच्च क्यों होता है ?  
 (ग) ऐलिडहाइड, कीटोन से अधिक अभिक्रियाशील क्यों होते हैं ? 1+1+2=4
18. (क) भौतिक अधिशोषण और रासायनिक अधिशोषण में दो अंतर दो।  
 (ख) इमल्शन क्या है ? इसके प्रकारों के नाम लिखो। 2+2=4
19. (क) अनन्त तनुता पर सोडियम एसीटेट ( $CH_3COONa$ ), हाइड्रोक्लोरिक अम्ल ( $HCl$ ) और सोडियम क्लोराइड ( $NaCl$ ) की मोलर चालकता  $92.5$ ,  $426.9$  और  $120.4 Scm^2 mol^{-1}$  क्रमवार  $298 K$  पर दी गई हैं। एसेटिक अम्ल ( $CH_3COOH$ ) की अनन्त तनुता पर मोलर चालकता पता करो।  
 (ख) संक्षारण क्या है और इसे प्रभावित करने वाले दो कारक बताएँ। 2+2=4
- अथवा
- (क) अनन्त तनुता पर  $MgCl_2$  के एक विलयन की मोलर चालकता पता करें दिया गया है कि मोलर आयनिक चालकता  $\lambda^\circ(Mg^{+2}) = 126.1 Scm^2 mol^{-1}$  और  $\lambda^\circ(Cl^-) = 56.3 Scm^2 mol^{-1}$  है।  
 (ख) विभव अंतर (Potential Difference) और विद्युत प्रभावन बल (electromotive force) में दो अंतर बताएँ। 2+2=4
20. (क) एक सॉसपैन (पात्र) में  $18 g$  ग्लूकोज़ (मोलर द्रव्यमान =  $180 g mol^{-1}$ ) को  $1000 g$  जल में घोला जाए तो यह विलयन किस ताप पर उबलेगा (जल का  $K_b = 0.52 K Kg mol^{-1}$ , शुद्ध पानी का क्वथनांक =  $373.15 K$  है)  
 (ख) हेनरी के नियम की परिभाषा देते हुए इसकी संक्षिप्त व्याख्या करें। 2+2=4

21. (क) फॉस्फीन ( $\text{PH}_3$ ) का बंध कोण अमोनिया ( $\text{NH}_3$ ) से कम क्यों है ? 2+2=4  
 (ख)  $\text{H}_2\text{S}$ ,  $\text{H}_2\text{Te}$  से कम अम्लीय क्यों है ?
22. (क) राइमर-टाइमैन अभिक्रिया लिखें।  
 (ख) क्लोरोबेन्जीन को फिनॉल में कैसे परिवर्तित किया जा सकता है ?  
 (ग) फिनॉल, एल्कोहॉल से अधिक अम्लीय क्यों है ? 1+1+2=4
23. (क) एक तत्व की कोष्ठिका की संरचना अंतः केन्द्रित घन (bcc) है। इसका परमाणविक द्रव्यमान  $60 \text{ gmol}^{-1}$  और इसके कोर की लम्बाई  $300 \text{ pm}$  है। उसकी इकाई कोष्ठिका का घनत्व पता करो।  
 (ख) क्रिस्टलीय ठोस और अक्रिस्टलीय ठोस में दो अंतर लिखो। 2+2=4
- अथवा
- (क) घनत्व  $11.2 \text{ gcm}^{-3}$  के साथ एक तत्व  $4 \times 10^{-8} \text{ cm}$  लम्बाई के किनारे वाला फलक केन्द्रित घन (fcc) जालक बनाता है, उसका परमाणविक द्रव्यमान ज्ञात कीजिए।  
 (ख) इकाई कोष्ठिका और अनुचुंबकीय पदार्थ की परिभाषा लिखो। 2+2=4
24. (क) लैन्थेनायड और ऐक्टिनायड में दो अन्तर लिखो।  
 (ख)  $\text{Fe}^{+3}$  और  $\text{Zn}^{+2}$  में कितने अयुग्मित इलेक्ट्रॉन हैं ?  
 (घ)  $\text{La}(\text{OH})_3$  प्रबलतर क्षार है जबकि  $\text{Lu}(\text{OH})_3$  कमजोर क्षार है क्यों ? 2+2+2=6
- अथवा
- (क) पोटैशियम परमैंगनेट ( $\text{KMnO}_4$ ) कैसे तैयार किया जाता है ?  
 (ख) लैन्थेनॉयड आकुंचन क्या है और इसके क्या कारण हैं ?  
 (ग) संक्रमण धातु उत्प्रेरकीय गुण दर्शाते हैं इसकी व्याख्या करें। 2+2+2=6
25. (क) नीचे दी गई अभिक्रियाएँ लिखो :  
 (i) वुर्ज़ फिटिंग अभिक्रिया  
 (ii) बाल्ज़ शीमैन (Balz-Schiemann) अभिक्रिया  
 (iii) फ्रिडेल क्राफ्ट्स एल्काइलेशन अभिक्रिया  
 (ख) हैलोएल्केन्स पानी में क्यों बहुत कम घुलते हैं ?  
 (ग) फेरॉन का एक उपयोग लिखें। 3+2+1=6
- अथवा
- (क) हैलोएरीन्स, हैलोएल्केन्स से कम अभिक्रियाशील क्यों है ? (संकरण और अनुनाद सहित व्याख्या कीजिए)  
 (ख) द्विअणुक नाभिकस्नेही प्रतिस्थापन अभिक्रिया ( $\text{S}_{\text{N}}2$ ) को विस्तार से लिखें।  
 (ग) प्रकाशीय गतिविधि को परिभाषित कीजिए। 3+2+1=6

26. (क)  $\text{SF}_6$  ज्ञात है परन्तु  $\text{SH}_6$  ज्ञात नहीं है, क्यों, वर्णन करो।  
 (ख)  $\text{HF}$  और  $\text{HI}$  में से कौन-सा अधिक अम्लीय है और क्यों ? 2+2+2=6  
 (ग)  $\text{XeF}_6$  और  $\text{XeOF}_2$  कैसे तैयार किए जाते हैं ?  
 अथवा  
 (क) सल्फ्यूरिक अम्ल का केवल उत्पादन संपर्क प्रक्रम विधि द्वारा लिखें। (केवल तैयारी के चरण)  
 (ख)  $\text{CF}_3$  की तैयारी और संरचना लिखो।  
 (ग) वर्ग 18 के तत्वों को उत्कृष्ट गैसों क्यों कहते हैं ? 3+2+1=6

## (English Version)

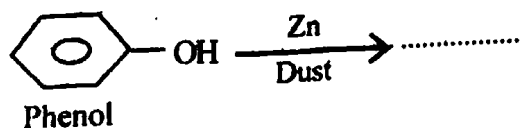
- Note :** (i) You must write the subject-code/paper-code 053/C in the box provided on the title page of your answer-book.  
 (ii) Make sure that the answer-book contains 30 pages (including title page) and are properly serialised as soon as you receive it.  
 (iii) Question/s attempted after leaving blank page/s in the answer-book would not be evaluated.  
 (iv) Log tables may be asked for if needed.  
 (v) Use of simple calculator is allowed.  
 (vi) Marks allotted to each question are indicated against it.  
 (vii) The paper comprises of 26 questions. Attempt total 26 questions. Internal choice is given in Q. No. 19, 23, 24, 25 and 26.  
 (viii) Question No. 1 to 8 carry one mark each. Answer in one line.  
 (ix) Question No. 9 to 16 will be of two marks each. All questions are compulsory. They are short answer type questions.  
 (x) Question No. 17 to 23 will be of 4 marks each. All questions are compulsory. Internal choice is given for Question No. 19 and 23.  
 (xi) Question No. 24, 25 and 26 (Three questions) will be of 6 marks each. All questions are compulsory. Full internal choice is given.  
 (xii) Punjabi and Hindi versions of questions are translations of English version. Since translation is based on approximations, so in the case of any confusion consider English version to be correct.

1. Which of following is stronger Acid :

- (a)  $\text{HCOOH}$       (b)  $\text{CH}_3\text{COOH}$       (c)  $\text{CH}_3\text{CH}_2\text{COOH}$       (d)  $(\text{CH}_3)_2\text{CHCOOH}$



2. Complete the following :



3. Find the half life period of first order reaction whose rate constant  $K = 4.93 \times 10^{-4} \text{ S}^{-1}$ . 1
4. What are Analgesics ? 1
5. Find molarity if 0.0580 moles of a compound dissolve in 200 ml of its solution. 1
6. What are reducing sugars ? 1
7. Give one example of artificial sweetening agent. 1
8. Why do amines act as nucleophiles ? 1
9. Give monomers name and preparation of Nylon 6,6. 2
10. Why aliphatic amines are stronger bases than ammonia ? 2
11. Write chemical name and deficiency disease of Vitamin C. 2
12. Write the IUPAC name of following :
- (a)  $\text{K}[\text{Ag}(\text{CN})_2]$
- (b)  $[\text{Cr}(\text{NH}_3)_3(\text{H}_2\text{O})_3]\text{Cl}_3$  2
13. A compound of X and Y crystallizes in the cubic structure in which Y atoms are at the corners and X atoms are at the alternate faces of the cube. Find the formula of the compound. 2
14. Why Cu (I) is colourless and Cu (II) is blue in colour ? 2
15. The rate constant for a first order reaction is  $90 \text{ s}^{-1}$ . How much time will it take to reduce the concentration of the reactant to  $\frac{1}{20}$  th of its initial value ? 2
16. Define ore and minerals. 2
17. (a) Write Hell Volhard-Zelinsky (H.V.Z.) reaction.
- (b) Why are the boiling points of carboxylic acids higher than the corresponding alcohols ?
- (c) Why aldehydes are more reactive than ketones ? 1+1+2=4
18. (a) Give two differences between Physical adsorption and Chemical adsorption.
- (b) What is Emulsion ? Name the types of Emulsions. 2+2=4

19. (a) The molar conductance at infinite dilution for Sodium Acetate ( $\text{CH}_3\text{COONa}$ ), Hydrochloric Acid ( $\text{HCl}$ ), and Sodium Chloride ( $\text{NaCl}$ ) are 92.5, 426.9 and 120.4  $\text{Scm}^2 \text{mol}^{-1}$  respectively at 298 K. Calculate the molar conductance of Acetic Acid ( $\text{CH}_3\text{COOH}$ ) at infinite dilution.
- (b) What is corrosion and give two factors which affect corrosion. 2+2=4
- or
- (a) Calculate the molar conductance of a solution of  $\text{MgCl}_2$  at infinite dilution given that the molar ionic conductance of  $\lambda^\circ(\text{Mg}^{2+}) = 126.1 \text{ Scm}^2 \text{mol}^{-1}$  and  $\lambda^\circ(\text{Cl}^-) = 56.3 \text{ Scm}^2 \text{mol}^{-1}$ .
- (b) Give two differences between E.M.F. and Potential difference. 2+2=4
20. (a) 18 g of glucose (molar mass = 180  $\text{g mol}^{-1}$ ) is dissolved in 1000 g of water in sauce pan. At what temperature will this solution boil? ( $K_b$  for water = 0.52  $\text{K Kg mol}^{-1}$ , boiling point of pure water = 373.15 K)
- (b) State and explain briefly Henry's law. 2+2=4
21. (a) Why bond angle of Phosphine ( $\text{PH}_3$ ) is less than Ammonia ( $\text{NH}_3$ )?
- (b) Why  $\text{H}_2\text{S}$  is less acidic than  $\text{H}_2\text{Te}$ ? 2+2=4
22. (a) Write Reimer-Tiemann's reaction.
- (b) How will you convert Chlorobenzene to Phenol?
- (c) Why Phenols are more acidic than Alcohol? 1+1+2=4
23. (a) An element having bcc geometry has atomic mass 60  $\text{g mol}^{-1}$ . Calculate the density of Unit cell, if its edge length is 300 pm.
- (b) Give two differences between Crystalline solids and Amorphous solids. 2+2=4
- or
- (a) An element with density 11.2  $\text{g cm}^{-3}$  forms fcc lattice with edge length of  $4 \times 10^{-8} \text{ cm}$ . Calculate the atomic mass of the element.
- (b) Define Unit cell and Paramagnetic substance. 2+2=4
24. (a) Give two differences between Lanthanoids and Actinoids.
- (b) How many unpaired electrons are present in  $\text{Fe}^{+3}$  and  $\text{Zn}^{+2}$ .
- (c) Why  $\text{La}(\text{OH})_3$  is stronger base while  $\text{Lu}(\text{OH})_3$  is weaker base? 2+2+2=6
- or
- (a) Give preparation of Potassium Permanganate ( $\text{KMnO}_4$ ).
- (b) What is lanthanoid contraction, give its cause.
- (c) Transition metals show catalytic properties. Explain. 2+2+2=6

25. (a) Write the following reaction :
- (i) Wurtz Fittig Reaction
  - (ii) Balz-Schiemann Reaction
  - (iii) Friedal Crafts Alkylation Reaction
- (b) Why solubility of Haloalkanes in water is very low ?
- (c) Give one use of Feron. 3+2+1=6

or

- (a) Why Haloarenes are less reactive than Haloalkanes ? (Explain with resonance and hybridization).
  - (b) Explain substitution nucleophilic bimolecular ( $S_N2$ ) reaction.
  - (c) Define Optical activity. 3+2+1=6
26. (a)  $SF_6$  is known but  $SH_6$  is not known. Explain.
- (b) From HF and HI which is more acidic and why ?
- (c) Give preparation of  $XeF_6$  and  $XeOF_2$ . 2+2+2=6

or

- (a) Give only manufacture of Sulphuric Acid by Contact process. (Only steps of preparation).
- (b) Give preparation and structure of  $C/F_3$ .
- (c) Why are the elements of Group 18 known as noble gases ? 3+2+1=6