

SET-II
सामाजिक विज्ञान
Class X

कुल प्रश्नों की संख्या-27
Total No. of Question =27

पूर्णांक :
Full Marks : 80

(सामान्य निर्देश)

General Instructions

- 1 परीक्षार्थी यथासंभव अपने शब्दों में ही उत्तर दें।
Candidates are required to give their answers in their own words as far as practicable.
- 2 इस प्रश्नपत्र में चार इकाई हैं एवं सभी इकाई के सभी प्रश्नों का उत्तर देना अनिवार्य है।
The question paper consists of Four units and all questions in all units are compulsory.
 - i) इकाई - I Unit - I (इतिहास History) - 20 अंक
 - ii) इकाई - II Unit - II (भूगोल Geograpy) - 20 अंक
 - iii) इकाई - III Unit - III (नागरिक शास्त्र Civics) - 20 अंक
 - iv) इकाई - IV Unit - IV (अर्थशास्त्र Economics) - 20 अंक
- 3 प्रत्येक प्रश्न के अंक उसके सामने अंकित हैं।
The figures in the margin indicate full marks of the question.
- 4 प्रश्नों के उत्तर प्रश्नों के साथ दिये गए निर्देश के आलोक में ही दें।
Answer of the question must be in the context of the instructions given therein.
- 5 जहाँ कहीं भी आवश्यक हों, उन्हें स्वच्छ आरेख खींचिए।
Draw neat and clean diagrams wherever necessary.
- 6 प्रश्न-सह-उत्तर पुस्तिका में ही रेखा मानचित्र दिए हुए हैं।
The outline maps are given in the question-cum-Answer Booklet itself.

इकाई- I (इतिहास)
Unit - I (History)

1. निरंकुशवाद से क्या तात्पर्य है ? What do you mean by Absolutism ? 1
अथवा
समन्वयवाद से आप क्या समझते हैं ? What do you understand by syneretic ?
2. नृजातीय से आप क्या समझते हैं ? What do you understand by Ethnic ? 1
3. उपनिवेशकारों की सभ्यता मिशन का क्या अर्थ था। 3
What was meant by the civilising mission of the colonisers.
अथवा
खाद्य उपलब्धता पर तकनीक के प्रभाव को दर्शाने के लिए इतिहास से दो उदाहरण दें।
Give two examples from history to show the impact of technology on food availability.
4. पूर्व औद्योगिकरण का क्या अर्थ है ? 3
Explain what is meant by proto-industrialisation.

अथवा

उन्नीसवीं सदी के मध्य में मुम्बई के आबादी में भारी वृद्धि क्यों हुई ?

What led to the major expansion of Bombay's population in the mid-nineteenth Century.

5. सविनय अवज्ञा आन्दोलन में विभिन्न वर्गों और समूहों ने क्यों हिस्सा लिया ?

Why did various classes and groups of Indians Participate in the civil Disobedience Movement ?

6. व्याख्या करें मुद्रण संस्कृति ने भारत में राष्ट्रवाद के विकास में क्या मदद की ?

Explain how print culture assisted the growth of nationalism in India ?

अथवा

भारतीय उपन्यासों में एक अखिल भारतीय जुड़ाव का अहसास पैदा करने के लिए किस तरह की कोशिशों की गईं ? किन्हीं चार उपायों का वर्णन कीजिए ।

The ways in which the novel in India attempted to create a sense of Pan-Indian belonging ? Describe any four measures.

7. दिये गये विश्व के रेखा मानचित्र पर निम्नलिखित स्थानों को दर्शाइए: (प्रदत्त मानचित्र का प्रयोग करें)।

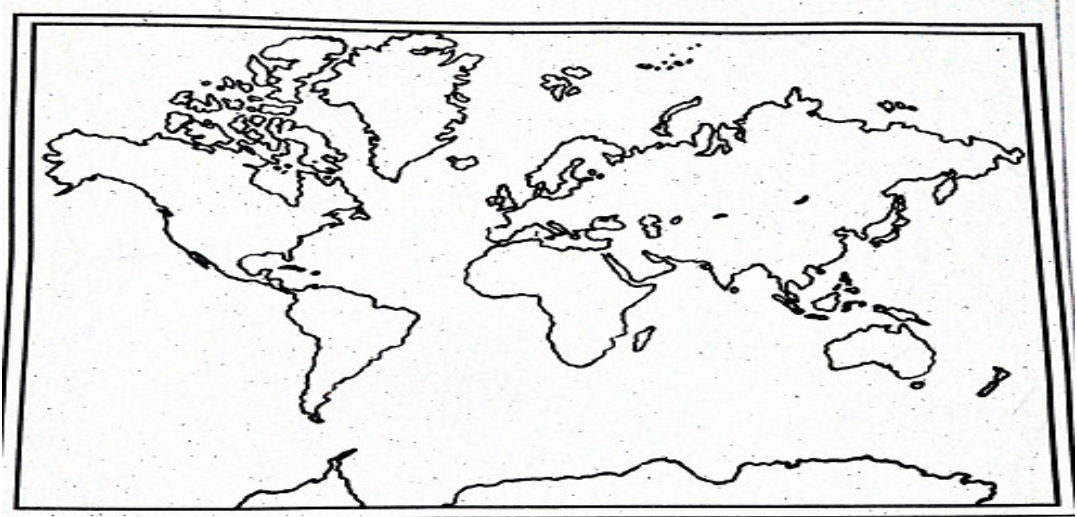
(क) वियतनाम

(ख) मुम्बई

In the given outline map of world mark the following places : (Use the given map).

(a) Vietnam

(b) Mumbai



सही विकल्प चुने choose the correct option

8. लौह अयस्क किस प्रकार का संसाधन है ? 1
Which one of the following type of resource is iron ore?
(a) नवीकरण योग्य Renewable (b) प्रवाह Flow
(c) जैव Biotic (d) अनवीकरण योग्य Non-renewable
9. इनमें से कौन सी रबी फसल है ? which one of the following is a rabi crop? 1
(a) चावल Rice (b) मोटे अनाज Millets
(c) चना Gram (d) कपास Cotton
10. औद्योगिक अवस्थिति को प्रभावित करनेवाले तीन मानवीय कारक बताएँ। 3
Name any three human factor's for the location of an industry.

अथवा

व्याख्या करें कि जल किस प्रकार नवीकरण योग्य संसाधन है ?

Explain how water becomes renewable resource.

11. उद्योगों द्वारा पर्यावरण निम्नीकरण को कम करने के लिए उठाए गए 5
विभिन्न उपायों की चर्चा करें।
Discuss the steps to be taken to minimise environmental degradation by industry.

अथवा

भारतीय कृषि पर वैश्वीकरण के प्रभाव पर टिप्पणी लिखें।

Describe the impact of globalisation on Indian agriculture.

12. संभावित इस्पात उद्योग मिनी इस्पात उद्योगों से कैसे भिन्न हैं ? इस 5
उद्योग की क्या समस्याएँ हैं ? किन सुधारों के अन्तर्गत इसकी उत्पादन
क्षमता बढ़ी है ?
How are integrated steel plants different from mini steel plants? What problems
does the industry face? What recent developments have led to a rise in the
production capacity?

अथवा

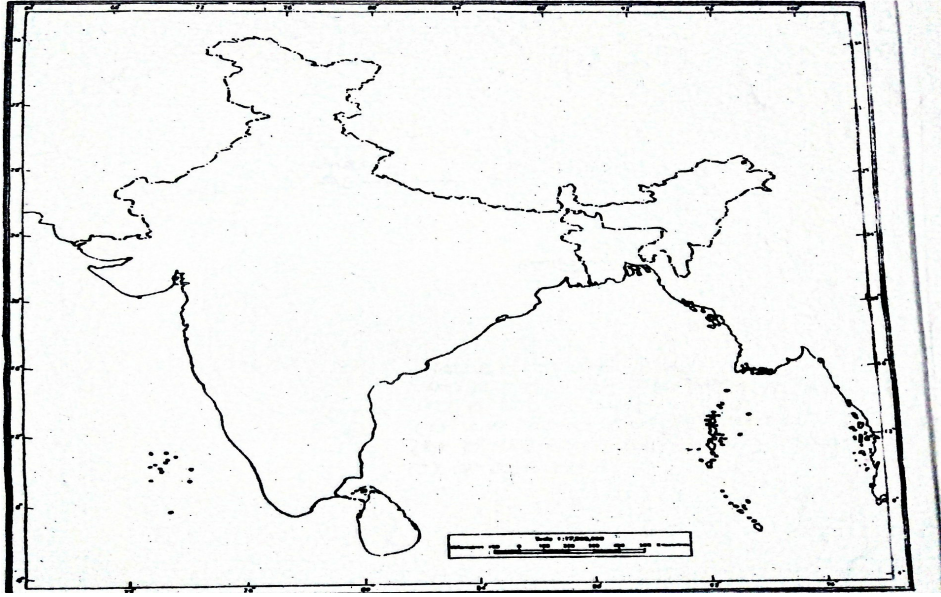
चावल की खेती के लिए उपयुक्त भौगोलिक परिस्थितियों का वर्णन करें।

Describe the geographical conditions required for the growth of rice.

13. दिये गये भारत के रेखा मानचित्र पर निम्नलिखित को दर्शाइए। 1+1
(क) (i) काली मिट्टी क्षेत्र = 2
(ii) कावेरी नदी

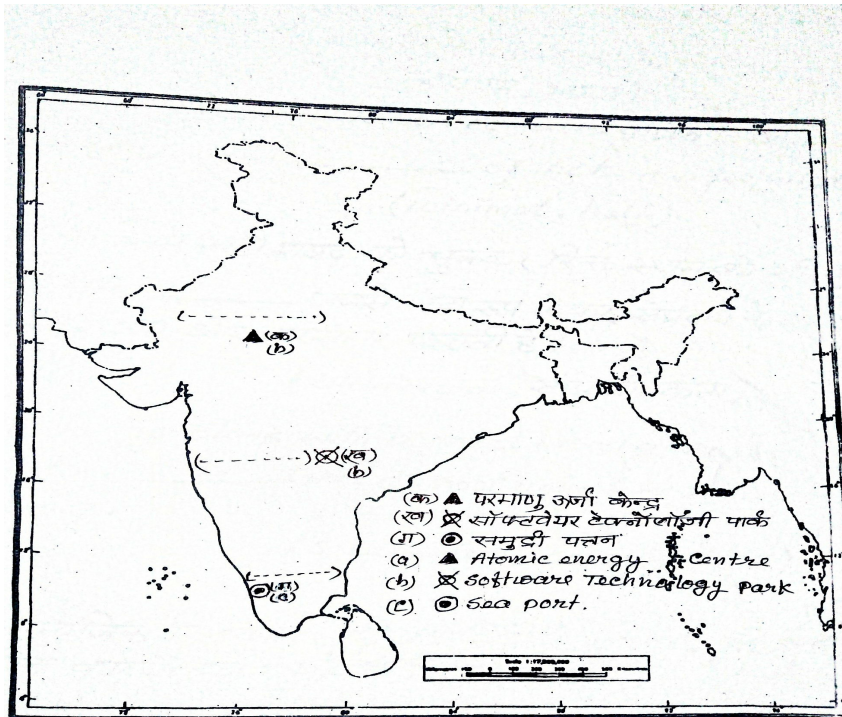
Show the following in the given outline map of India.

- (i) Black Soil region
(ii) Kaveri river



(ख) दिये गये भारत के रेखा मानचित्र का ध्यानपूर्वक अध्ययन कीजिए और 1+1
 (क), (ख) तथा (ग) द्वारा प्रदर्शित जगहों को पहचान कर नामांकित +1=
 कीजिए। 3

Study the given outline map of India carefully and name and identify the places which are indicated by (a), (b) and (c).



इकाई- III (नागरिकशास्त्र)

Unit - III (Civics)

14. कोष्ठक में से सही शब्द को चुनकर रिक्त स्थान को भरिए :
 मनुष्य जाति की आबादी में औरतों का हिस्सा है।

(नगण्य, आधा)

Fill in the blank with correct word given in brackets :

Women constituteof the human population.

(minimal, half)

15. कोष्ठक में से सही शब्द को चुनकर रिक्त स्थान को भरिए : 1
कई बार सबसे गंदा रूप लेकर संप्रदाय के आधार पर
हिंसा, दंगा और नरसंहार कराती है।
(धर्मनिरपेक्षता, सांप्रदायिकता)

Fill in the blank with correct word given in bracket:

Sometimes takes its most ugly form of communal violence.

(secularism, communalism)

16. सामाजिक विभाजनों की राजनीति के परिणाम तय करनेवाले तीन कारकों 3
की चर्चा कीजिए।

Discuss three factors that determine the outcomes of politics of social divisions.

17. भारतीय संदर्भ में सत्ता की हिस्सेदारी का एक उदाहरण देते हुए इसका 5
एक युक्तिपरक और एक नैतिक कारण बताएँ।

State one prudential reason and one moral reason for power sharing with an example from the Indian context.

अथवा

1992 के संविधान संशोधन के पहले और बाद में स्थानीय शासन के दो महत्वपूर्ण अंतरों को बताएँ।

State any two differences between the local government before and after the constitutional amendment in 1992.

18. दबाव-समूह क्या है? कुछ उदाहरण बताएँ। 5
What is a Pressure group? Give a few examples.

अथवा

आधुनिक लोकतंत्र राजनीतिक दलों के बिना क्यों नहीं चल सकता।

Why modern democracies cannot exist without political parties?

19. “लोकतांत्रिक शासन व्यवस्था निश्चित रूप से अन्य शासनों से बेहतर है”। 5
इस कथन के पक्ष में तर्क दें।

“Democratic government is certainly better than its alternatives.” Give arguments supporting this statement.

अथवा

भारतीय लोकतंत्र पर निरक्षरता का क्या प्रभाव है?

What is the effect of illiteracy in Indian democracy?

इकाई- IV (अर्थशास्त्र)

Unit – IV (Economics)

20. मानव विकास का क्या उद्देश्य है? 1
What is the aim of Human Development?

21. उत्पादन क्या है ? What is production ? 1
22. मुद्रा के प्रयोग के दो तरीके या ढंग बताएँ। Give any two uses of Money 1
23. औपचारिक ऋण क्या है ? What are formal sector Loans ? 1
24. तृतीयक क्षेत्रक अन्य क्षेत्रकों से भिन्न कैसे है ? 3
How is tertiary sector different from other sector?
25. दो उदाहरण देकर उपभोक्ता जागरूकता की जरूरत का वर्णन करें। 3
Explain the need for consumer consciousness by giving two examples.
26. भारतीय रिजर्व बैंक अन्य बैंकों की गतिविधियों पर किस तरह नजर रखता है ? यह जरूरी क्यों है ? 5
In what ways does the Reserve Bank of India Supervise the functioning of banks?
Why is the necessary?
27. “वैश्वीकरण का प्रभाव एक समान नहीं है”। इस कथन को अपने शब्दों में व्याख्या कीजिए। 5
“The impact of globalisation has not been uniform”. Explain this statement.

अथवा

- वैश्वीकरण प्रक्रिया में बहुराष्ट्रीय कंपनियों की क्या भूमिका है ?
What is the role of Multinational corporations in the globalisation process?