

सामाजिक विज्ञान
Blue Print
Unit – I (इतिहास)
X Class

		VSA 1 Mark	SA 2 Mark	SA 3 Mark	LA 5 Mark	Skills 2 Mark	Total
1	यूरोप में राष्ट्रवाद का उदय	1(1) 1*					1
2	इंडो चाइना में राष्ट्रवादी आंदोलन	1(1)		3(1)			4
3	भारत में राष्ट्रवाद				5(1)		5
4	भूमंडलीयकृत विश्व का बनना			3*			
5	औद्योगीकरण का युग			3(1)			3
6	काम, आराम और जीवन			3(*)			
7	मुद्रण संस्कृति और आधुनिक दुनिया				5(1)		5
8	उपन्यास, समाज और मानचित्र कार्य				5(*)		
						2(1)	2
		2		6	10	2	20

इकाई – III (नागरिकशास्त्र)
Unit – III (Civics)
X Class

		VSA 1 Mark	VSA 2 Mark	VSA 3 Mark	LA 5 Mark	Total Marks
1	अध्याय – 1 सत्ता की साझेदारी				5(1)	5
2	अध्याय – 2 संघवाद				5(*)	
3	अध्याय – 3 लोकतंत्र और विविधता			3(1)		3
4	अध्याय – 4 जाति, धर्म और लैंगिक मसले	1(1) 1(1)				2
5	अध्याय – 5 जन संघर्ष और आंदोलन				5(1)	5
6	अध्याय – 6 राजनीतिक दल				5(*)	
7	अध्याय – 7 लोकतंत्र के परिणाम				5(1)	5
8	अध्याय – 8 लोकतंत्र की चुनौतियाँ				5(*)	

Marks :- 20

* अथवा

इकाई - IV (अर्थशास्त्र)
Unit - IV (ECONOMICS)
X Class

		VSA 1 Mark	VSA 2 Mark	VSA 3 Mark	LA 5 Mark	Total Marks
1	अध्याय - 1 विकास	1(1) 1(1)				2
2	अध्याय - 2 भारतीय अर्थव्यवस्था के क्षेत्रक			3(1)		3
3	अध्याय - 3 मुद्रा और साख	1(1) 1(1)			5(1)	7
4	अध्याय - 4 वैश्वीकरण और भारतीय अर्थव्यवस्था				5(1) *	5
5	अध्याय - 5 उपयोक्ता अधिकार			3(1)		3

20

* अथवा

Unit - II (GEOGRAPHY)
X Class

	अध्याय	Marks	VSA 1 Mark	SA 2 Mark	SA 3 Mark	LA 5 Mark	Skills 2 Mark	Total Marks
1	संसाधन एवं विकास	1(1)	1(1)		3*	5 *		1
2	वन एवं वन्य जीव संसाधन	1*	1*					
3	जल संसाधन					5(1)		5
4	कृषि	1(1)	1(1)			5 *		1
5	खनिज एवं ऊर्जा संसाधन				3*			
6	विनिर्माण उद्योग				3(1)	5(1)		8
7	राष्ट्रीय अर्थव्यवस्था की जीवन रेखा है					5 *		
	मानचित्र कार्य						5	5
			2		1Q	2Q	1Q	20

Model Question Paper**प्रारूप प्रश्न-पत्र****सामाजिक विज्ञान
(Xth)**

कुल प्रश्नों की संख्या-27
Total No. of Question =27

पूर्णांक :
Full Marks : 80

(सामान्य निर्देश)**General Instructions**

- 1 परीक्षार्थी यथासंभव अपने शब्दों में ही उत्तर दें।
Candidates are required to give their answers in their own words as far as practicable.
- 2 इस प्रश्नपत्र में चार इकाई हैं एवं सभी इकाई के सभी प्रश्नों का उत्तर देना अनिवार्य है।
The question paper consists of Four units and all questions in all units are compulsory.
- i) इकाई - I Unit - I (इतिहास History) - 20 अंक
ii) इकाई - II Unit - II (भूगोल Geograpy) - 20 अंक
iii) इकाई - III Unit - III (नागरिक शास्त्र Civics) - 20 अंक
iv) इकाई - IV Unit - IV (अर्थशास्त्र Economics) - 20 अंक
- 3 प्रत्येक प्रश्न के अंक उसके सामने अंकित हैं।
The figures in the margin indicate full marks of the question.
- 4 प्रश्नों के उत्तर प्रश्नों के साथ दिये गए निर्देश के आलोक में ही दें।
Answer of the question must be in the context of the instructions given therein.
- 5 जहाँ कहीं भी आवश्यक हों, उन्हें स्वच्छ आरेख खींचिए।
Draw neat and clean diagrams wherever necessary.
- 6 प्रश्न-सह-उत्तर पुस्तिका में ही रेखा मानचित्र दिए हुए हैं।
The outline maps are given in the question-cum-Answer Booklet itself.

**इकाई- I (इतिहास)
Unit - I (History)****सही विकल्प चुने choose the correct option**

1. नेपोलियन बोनापार्ट कौन था ? Who was Nepolian Bonapart ? 1

अथवा

राष्ट्रवाद से क्या समझते हैं ? What do you mean by Nationalism ?

2. वियतनाम को स्वतंत्रता कब प्राप्त हुई ? 1
When did Vietnam get independence ?

3. वियतनाम में उपनिवेशवाद विरोधी भावनाओं के विकास में धार्मिक संगठनों की भूमिका क्या थी ? 3

What was the role of religious groups in the development of anti-colonial feeling in Vietnam ?

अथवा

ब्रेटन वुड्स समझौते का क्या अर्थ है ?

What is meant by the Bretton woods agreement ?

4. औद्योगिक क्रान्ति का अर्थ समझाएँ।

3

Explain the meaning of the term industrial revolution.

अथवा

अठारवीं सदी के मध्य से लंदन की आबादी क्यों फैलने लगी? दो कारण बताएँ।

Why the population of London started expanding from middle of the eighteenth Century.

5. गाँधीजी ने असहयोग आंदोलन को वापस लेने का फैसला क्यों लिया?

Why Gandhiji decided to withdraw the Non-Cooperation Movement?

6. अन्नीसवीं सदी में भारत में गरीब जनता पर मुद्रण संस्कृति का क्या असर हुआ?

What were the effects of the spread of print culture on people in nineteenth Century India?

अथवा

औपनिवेशिक भारत में उपन्यास किस तरह उपनिवेशकारों और राष्ट्रवादियों, दोनों के लिए लाभदायक था?

In what ways was the novel in colonial India useful for both the colonisers as well as the nationalists?

7. दिये गये विश्व के रेखा मानचित्र पर निम्नलिखित स्थानों को दर्शाइए: (प्रदत्त मानचित्र का प्रयोग करें)।

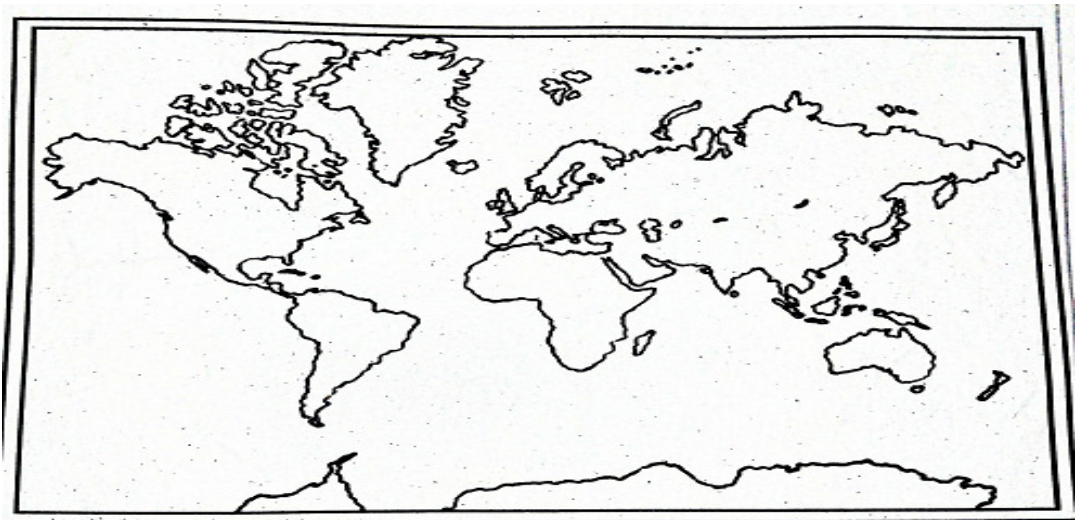
(क) ग्रेट ब्रिटेन

(ख) श्रीलंका

In the given outline map of world mark the following places : (Use the given map).

(a) Great Britain

(b) Sri Lanka.



इकाई- II (भूगोल)
Unit – II (Geography)

8. पंजाब में भूमि निम्नीकरण का निम्नलिखित में से मुख्य कारण क्या है ? 1
Which one of the following is the main cause of land degradation in Punjab?
(a) गहन खेती Intensive cultivation (b) अधिक सिंचाई Over irrigation
(c) वनोन्मूलन Deforestation (d) अति पशुचारण Overgrazing
9. निम्नलिखित में से कौन सा उस कृषि प्रणाली को दर्शाता है जिसमें एक 1
ही फसल लम्बे-चौड़े क्षेत्र में उगाई जाती है ?
Which one of the following describes a system of agriculture, where a single crop is
grown on a large area?
(a) स्थानांतरी कृषि Shifting Agriculture (b) रोपण कृषि Plantation Agriculture
(c) बागवानी Horticulture (d) गहन कृषि Intensive Agriculture
10. उद्योगों की अवस्थिति को प्रभावित करने वाले तीन भौतिक कारक बताएँ। 3
Name any three Physical factors for the location of the industry.

अथवा

जल दुर्लभता क्या है ? इसके तीन मुख्य कारणों को लिखें।

What is water scarcity? Write its three main causes.

11. बहुउद्देशीय परियोजनाओं से होने वाले कोई पाँच लाभ का उल्लेख करें। 5
Name any five merits of multi-purpose river project.

अथवा

एक पेय फसल का नाम बताएँ तथा उसको उगाने के लिए अनुकूल भौगोलिक परिस्थितियों का विवरण दें।

Name one important beverage crop and specify the geographical conditions required for its growth.

12. उद्योग पर्यावरण को कैसे प्रदूषित करते हैं ? 5
How do industries pollute the environment?

अथवा

कृषि उत्पादन में वृद्धि सुनिश्चित करने के लिए सरकार द्वारा किए गए उपाय सुझाइए।

Suggest the initiative taken by the government to ensure the increase in agriculture production.

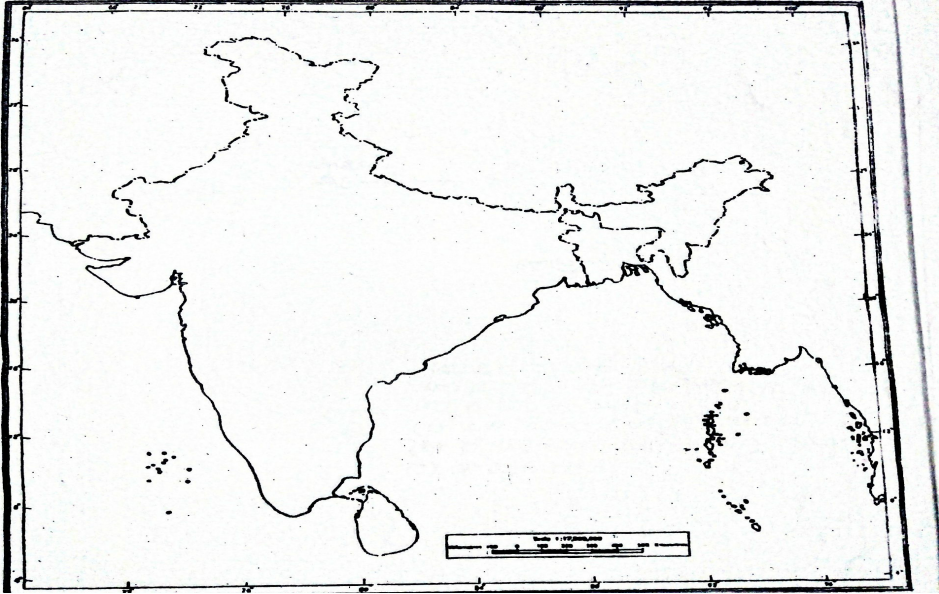
13. दिये गये भारत के रेखा मात्रचित्र पर निम्नलिखित को दर्शाइए।

1+1
= 2

- (क) (i) थार मरुस्थल
(ii) पूर्वी तटीय मैदान

Show the following in the given outline map of India.

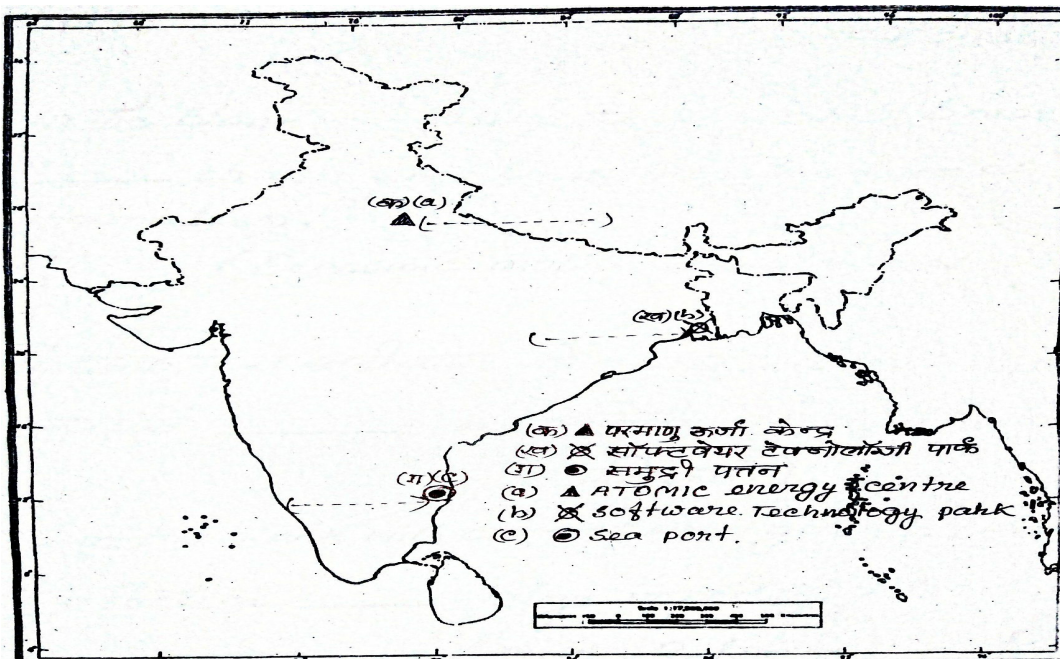
- (i) Thar desert
(ii) The eastern Coastal Plain



- (ख) दिये गये भारत के रेखा मानचित्र का ध्यानपूर्वक अध्ययन कीजिए और (क), (ख) तथा (ग) द्वारा प्रदर्शित जगहों को पहचान कर नामांकित कीजिए।

1+1
+1=
3

Study the given outline Map of India carefully and name and identify the places which are indicated by (a), (b) and (c).



इकाई- III (नागरिकशास्त्र)

Unit - III (Civics)

- 1 4. कोष्ठक में से सही शब्द को चुनकर रिक्त स्थान को भरिए : 1
सांप्रदायिक आधार पर सांप्रदायिकता का दूसरा रूप है।
(आर्थिक गोलबंदी, राजनीतिक गोलबंदी)

Fill in the blank with correct words given in brackets :

..... on religious lines is another form of Communalism.
(Economic mobilisation, Political mobilisation)

- 1 5. कोष्ठक में से सही शब्द को चुनकर रिक्त स्थान को भरिए : 1
चुनाव में की भूमिका महत्वपूर्ण होती है।
(जाति, धर्म)

Fill in the blank with correct word given in bracket:

In election Plays an important role.
(Caste, Religion)

- 1 6. सामाजिक विभाजन किस तरह से राजनीति को प्रभावित करते हैं? दो 3
उदाहरण भी दीजिए।

How do social divisions affect politics? Give two examples.

- 1 7. बेल्जियम में सत्ता की साझेदारी की व्यवस्था की चर्चा करें। 5
Discuss the power sharing arrangements in Belgium.

अथवा

शासन के संघीय और एकात्मक स्वरूपों में क्या-क्या मुख्य अंतर है?
इसे उदाहरण के माध्यम से स्पष्ट करें।

What is the main difference between a federal form of government and a Unitary one? Explain with an example.

- 1 8. दबाव समूहों की गतिविधियाँ लोकतांत्रिक सरकार के कामकाज में कैसे 5
उपयोगी होती हैं ?

Explain how the activities of pressure groups are useful in the functioning of a democratic government.

अथवा

किसी भी राजनीतिक दल के क्या गुण होते हैं ?

What are the characteristics of a Political Party?

- 1 9. लोकतंत्र को सबसे अच्छी शासन व्यवस्था क्यों कहा जाता है ? 5
Why is democracy considered better than any other form of government?

अथवा

भारत में लोकतांत्रिक अधिकारों की चर्चा करें।

Discuss the democratic rights in India.

इकाई- IV (अर्थशास्त्र)

Unit – IV (Economics)

20. प्रति व्यक्ति आय क्या होती है ? What is Per Capita Income? 1
21. बाँधों का क्या लाभ हैं ? What are advantages of the Dams? 1
22. वस्तु विनिमय किसे कहते हैं ? What is the barter System? 1
23. मुद्रा की परिभाषा दें। Define Money. 1
24. महात्मा गाँधी राष्ट्रीय ग्रामीण रोजगार गारन्टी अधिनियम, 2005 के उद्देश्यों की व्याख्या करें।
Explain the objective of implementing the Mahatma Gandhi National Rural Employment Guarantee Act, 2005. 3
25. भारत में उपभोक्ता आंदोलन की शुरुआत किन कारणों से हुई ? इसके विकास के बारे में पता लगाएँ।
What factor gave birth to the Consumer Movement in India? Trace its evolution. 3
26. देश की अर्थव्यवस्था में बैंको की क्या भूमिका रहती हैं ?
What role do the banks play in the economy of the Country? 5
27. श्रम कानूनों में लचीलापन कंपनियों की कैसे सहायता (मदद) करता है ?
How do the flexibility in Labour laws help companies? 5

अथवा

व्यापार और निवेश नीतियों का उदारीकरण वैश्वीकरण प्रक्रिया में सहायता कैसे पहुँचाती है ?
How has liberalisation of trade and investment policies helped in the globalisation Process?