

Subject  
Code

202062-HYIHGKJ-ENT-YKIXZ-M

SET -



Question  
Booklet No.

परीक्षा केन्द्राध्यक्ष की मोहर  
Seal of Superintendent of Examination Centre

परीक्षार्थी द्वारा बॉल-प्वाइंट पेन से भरा जाए  
To Be filled in by Candidate by Ball-Point pen only

उत्तर शीट का क्रमांक  
Sl. No. of Answer-Sheet

अनुक्रमांक

Roll No.

घोषणा : मैंने नीचे दिये गये निर्देश अच्छी तरह पढ़कर समझ लिए हैं।

Declaration : I have read and understood the instructions given below.

वीक्षक के हस्ताक्षर

(Signature of Invigilator) -----

वीक्षक के नाम

(Name of Invigilator) -----

अभ्यर्थी के हस्ताक्षर

(Signature of Candidate) -----

अभ्यर्थी का नाम

(Name of Candidate) -----

पूर्णांक - 100

समय - 2 घंटे

प्रश्न पुस्तिका में पृष्ठों की संख्या

Number of Pages in this Question Booklet : **32**

प्रश्न पुस्तिका में प्रश्नों की संख्या

Number of Questions in this Question Booklet : **100**

अभ्यर्थियों के लिए निर्देश

1. प्रश्न-पुस्तिका मिलते ही मुख पृष्ठ एवं अंतिम पृष्ठ में दिए गए निर्देशों को अच्छी तरह पढ़ लें। दाहिनी ओर लगी सील को वीक्षक के कहने से पूर्व न खोलें।
2. ऊपर दिए हुए निर्धारित स्थानों में अपना अनुक्रमांक, उत्तर-पुस्तिका का क्रमांक लिखें तथा अपने हस्ताक्षर करें।
3. ओ.एम.आर. उत्तर-शीट में समस्त प्रविष्टियां दिये गये निर्देशानुसार करें अन्यथा उत्तर-शीट का मूल्यांकन नहीं किया जाएगा।
4. सील खोलने के बाद सुनिश्चित कर लें कि प्रश्न-पुस्तिका में कुल पृष्ठ ऊपर लिखे अनुसार दिए हुए हैं तथा उसमें सभी 100 प्रश्नों का मुद्रण सही है। किसी भी प्रकार की त्रुटि होने पर 15 मिनट के अंदर वीक्षक को सूचित कर सही प्रश्न-पुस्तिका प्राप्त करें।
5. प्रत्येक प्रश्न हेतु प्रश्न-पुस्तिका में प्रश्न के नीचे दिए गए चार विकल्पों में से सही/सबसे उपयुक्त केवल एक ही विकल्प का चयन कर उत्तर शीट में सही विकल्प वाले गोले को जो उस प्रश्न के सरल क्रमांक से सम्बंधित हो काले या नीले बॉल-प्वाइंट पेन से भरें।
6. सही उत्तर वाले गोले को अच्छी तरह से भरें, अन्यथा उत्तरों का मूल्यांकन नहीं होगा।
7. प्रश्न-पुस्तिका में 100 वस्तुनिष्ठ प्रश्न दिए गए हैं। प्रत्येक प्रश्न के लिए एक अंक निर्धारित है। सभी प्रश्न अनिवार्य हैं।
8. ऋणात्मक मूल्यांकन नहीं किया जावेगा।
9. प्रश्न-पुस्तिका तथा उत्तर-शीट में निर्दिष्ट स्थानों पर प्रविष्टियां भरने के अतिरिक्त कहीं भी कुछ न लिखें।
10. परीक्षा समाप्ति के उपरान्त तथा कक्ष छोड़ने के पूर्व मूल उत्तरशीट वीक्षक को सौंपी जाए। प्रश्न पुस्तिका एवं उत्तर-शीट की कार्बन कॉपी परीक्षार्थी अपने साथ ले जा सकते हैं।
11. इस प्रश्न पत्र में पाँच भाग होंगे :-
  - (i) प्रथम भाग :- सामान्य मानसिक योग्यता - 30 अंक - 1-30 प्रश्न
  - (ii) द्वितीय भाग :- सामान्य ज्ञान - 20 अंक - 31-50 प्रश्न
  - (iii) तृतीय भाग :- शिक्षण अभिरुची - 20 अंक - 51-70 प्रश्न
  - (iv) चतुर्थ भाग :- सामान्य हिन्दी - 15 अंक - 71-85 प्रश्न
  - (v) पंचम भाग :- सामान्य अंग्रेजी - 15 अंक - 86-100 प्रश्नसभी प्रश्न करने अनिवार्य हैं।
12. यदि अंग्रेजी भाषा में कोई संदेह है तो हिन्दी भाषा को ही प्रामाणिक माना जायेगा।

INSTRUCTION TO CANDIDATES

1. Immediately after getting the booklet read instructions carefully, mentioned on the front and back page of the question booklet and do not open the seal given on the right hand side, unless asked by the invigilator.
2. Write your Roll No., Answer Sheet No., in the specified places given above and do your signature.
3. Make all entries in the OMR Answer Sheet as per the given instructions otherwise Answer-Sheet will not be evaluated.
4. After Opening the seal, ensure that the Question booklet contains total no. of pages as mentioned above and printing of all the 100 question is proper. If any discrepancy is found, inform the invigilator within 15 minutes and get the correct booklet.
5. While answering the question from the question Booklet, for each question choose the correct/most appropriate options out of four most appropriate options given, as answer and darken the circle provided against that option in the OMR Answer sheet, bearing the same serial number of the question. Darken the circle only with Black or Blue ball point pen.
6. Darken the circle of choose option fully, otherwise answers will not be evaluated.
7. There are 100 objective type questions in this question booklet. All questions are compulsory and carry one mark each.
8. No negative marking will be done.
9. Do not write anything anywhere in the question booklet or on the answer-sheet except making entries in the specified places.
10. When the examination is over, original OMR answer sheet is to be handed over to the invigilator before leaving the examination hall, while question booklet and carbon copy of the answer-sheet can be retained by the candidate.
11. This question paper consists of five parts namely :-
  - (i) First Part :-  
General Mental Eligibility - 30 Marks - 1-30 Question
  - (ii) Second Part :-  
General Knowledge - 20 Marks - 31-50 Question
  - (iii) Third Part :-  
Educational Interest - 20 Marks - 51-70 Question
  - (iv) Fourth Part :- General Hindi - 15 Marks - 71-85 Question
  - (v) Five Part :- General English - 15 Marks - 86-100 QuestionAll questions are compulsory.
12. In case of any ambiguity in English version the Hindi version shall be considered authentic.

**SPACE FOR ROUGH WORK / रफ कार्य के लिये जगह**

## PART - I

### General Mental Eligibility

### सामान्य मानसिक योग्यता

1. Find out the missing number from the given alternatives.

4	8	6
6	12	9
?	30	20

- A. 10  
B. 12  
C. 15  
D. 20

2. A girl introduced a boy as a son of the daughter of the father of her uncle's, the boy is girl's.

- A. Brother  
B. Son  
C. Uncle  
D. Nephew

3. Find the missing term?  
PET, PMT, QSV, ?

- A. QWX  
B. QWV  
C. YWB  
D. XVZ

1. दिये गये विकल्प में से विलुप्त संख्या को ज्ञात किजिए?

4	8	6
6	12	9
?	30	20

- A. 10  
B. 12  
C. 15  
D. 20

2. एक लड़की ने एक लड़के को अपने चाचा के पिता की बेटी के पुत्र के रूप में पेश किया, लड़का लड़की का है;

- A. भाई  
B. पुत्र  
C. चाचा  
D. भांजा


3. विलुप्त पद को ज्ञात किजिए-  
PET, PMT, QSV, ?

- A. QWX  
B. QWV  
C. YWB  
D. XVZ

---

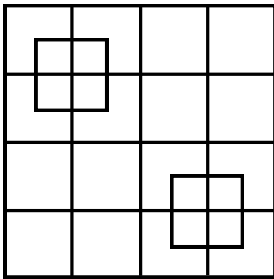
SPACE FOR ROUGH WORK / रफ कार्य के लिये जगह

4. Find out the missing number from the given alternatives.



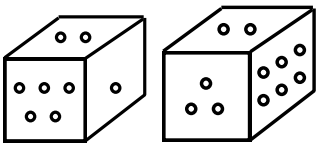
- A. 5  
B. 12  
C. 14  
D. 16

5. Count the number of squares in the following figure.



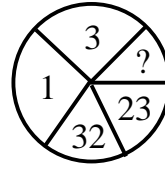
- A. 40  
B. 45  
C. 50  
D. None of the above

6. Two positions of dice are given below, when 4 is on top which number will be at the bottom.



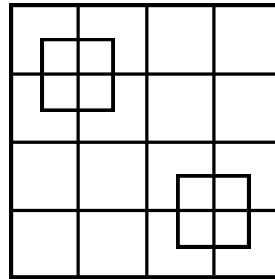
- A. 2  
B. 3  
C. 1  
D. 6

4. दिये गये विकल्प में से विलुप्त संख्या को ज्ञात किजिए?



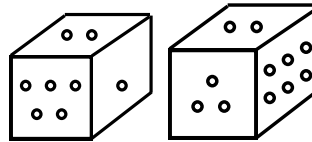
- A. 5  
B. 12  
C. 14  
D. 16

5. निम्नांकित चित्र में वर्गों की संख्या ज्ञात किजिए-



- A. 40  
B. 45  
C. 50  
D. उपरोक्त में से कोई नहीं

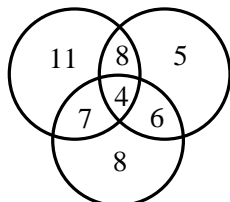
6. पासा के दो स्थितिया नीचे दी गई हैं। जब 4 उपर हो तो सबसे नीचे कौन सी संख्या होगी?



- A. 2  
B. 3  
C. 1  
D. 6

SPACE FOR ROUGH WORK / रफ कार्य के लिये जगह

7. The number in the Venn diagram indicates the number of person watching the news shows. The diagram is drawn after surveying 50 persons. In a population of 10,000, how many can be expected to watch at least two news shows.



- A. 4200  
B. 5000  
C. 5400  
D. Can not find

8. Find the missing term in the given series.

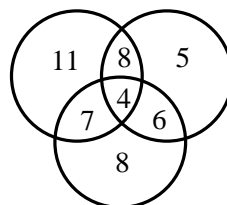
2, 5, 14, 30, 55, ?

- A. 71  
B. 72  
C. 81  
D. 91

9. If 30 January 2021 was Saturday. What was the day on 2<sup>nd</sup> March 2021?

- A. Tuesday  
B. Thursday  
C. Saturday  
D. Sunday

7. वेन चित्र में दिये गये अंक समाचार कार्यक्रम देखने वाले लोगों को दर्शाता है। यह चित्र 50 व्यक्तियों के सर्वेक्षण के बाद बनाया गया है। 10,000 जनसंख्या में कितने लोगों के कम से कम दो समाचार कार्यक्रम देखने की संभावना है।



- A. 4200  
B. 5000  
C. 5400  
D. ज्ञात नहीं कर सकते

8. दिये गये श्रेणी में विलुप्त पद को ज्ञात किजिए-

2, 5, 14, 30, 55, ?

- A. 71  
B. 72  
C. 81  
D. 91

9. यदि 30 जनवरी 2021 शनिवार था। 2 मार्च 2021 को क्या दिन था?

- A. मंगलवार  
B. गुरुवार  
C. शनिवार  
D. रविवार

SPACE FOR ROUGH WORK / रफ कार्य के लिये जगह

10. Find out the wrong term in the given series.  
2, 7, 27, 117, 427, 1707.
- A. 27  
B. 117  
C. 427  
D. 1707

10. दिये गये श्रेणी में गलत पद को ज्ञात किजिए-  
2, 7, 27, 117, 427, 1707.
- A. 27  
B. 117  
C. 427  
D. 1707

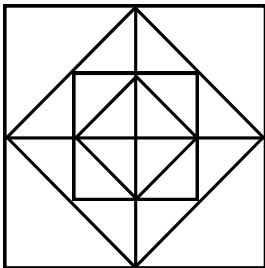
11. Find the odd one-
- A. Geography  
B. Biology  
C. Chemistry  
D. Physics

11. विषम को चुनिए-
- A. भूगोल  
B. जीव विज्ञान  
C. रसायन  
D. भौतिक

12. Choose the odd one-
- A. 4-27  
B. 5-45  
C. 10-195  
D. 7-97

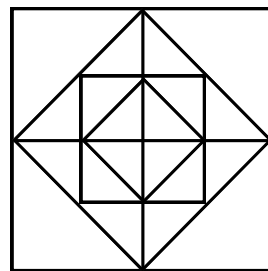
12. विषम को चुनिए-
- A. 4-27  
B. 5-45  
C. 10-195  
D. 7-97

13. Count the number of squares in the following figure.



- A. 10  
B. 12  
C. 14  
D. 17

13. निम्नांकित चित्र में वर्गों की संख्या की गणना किजिए।



- A. 10  
B. 12  
C. 14  
D. 17

SPACE FOR ROUGH WORK / रफ कार्य के लिये जगह

14. Find the missing term-  
C7X, F11U, I13R, ?

- A. K17P
- B. L15P
- C. L17O
- D. L15P

14. विलुप्त पद को ज्ञात किजिए-  
C7X, F11U, I13R, ?

- A. K17P
- B. L15P
- C. L17O
- D. L15P

15. Find out the missing character from the given alternatives.

B	C	D
D	F	-
D	E	K

- A. G
- B. M
- C. N
- D. L

15. दिये गये विकल्प में से विलुप्त अक्षर को ज्ञात किजिए?

B	C	D
D	F	-
D	E	K

- A. G
- B. M
- C. N
- D. L

16. Find the missing term in the given series.

3, 12, 39, 120, ?

- A. 480
- B. 390
- C. 363
- D. 359

16. दिये गये श्रेणी में विलुप्त पद को ज्ञात किजिए-

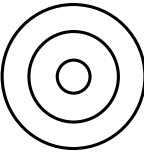


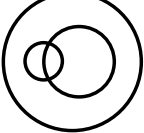
3, 12, 39, 120, ?

- A. 480
- B. 390
- C. 363
- D. 359

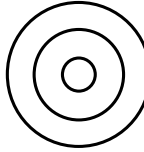


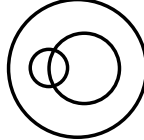
---

SPACE FOR ROUGH WORK / रफ कार्य के लिये जगह

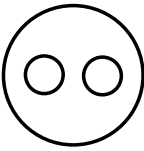

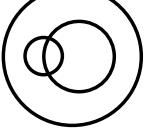
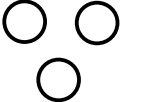
17. Which of the following figures best represents the relationship between Door, Room and Wall?

- A. 
- B. 
- C. 
- D. 

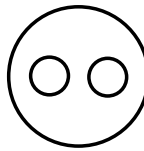

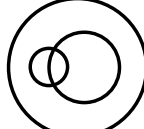
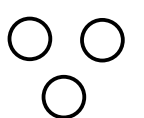
17. निम्नांकित में से कौन सा चित्र दरवाजा, कमरा एवं दिवार के मध्य के सही सम्बन्ध को दर्शाता है?

- A. 
- B. 
- C. 
- D. 

18. Which of the following figures best represents the relationship between Earth, Mountains, Forests?

- A. 
- B. 
- C. 
- D. 

18. निम्नांकित में से कौन सा चित्र पृथ्वी, पहाड़ एवं जंगल के मध्य के सही सम्बन्ध को दर्शाता है?

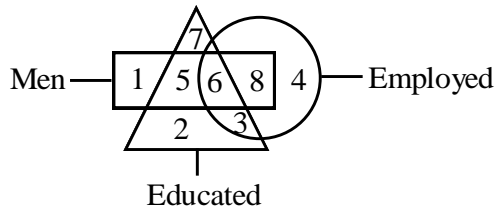
- A. 
- B. 
- C. 
- D. 

---

SPACE FOR ROUGH WORK / रफ कार्य के लिये जगह

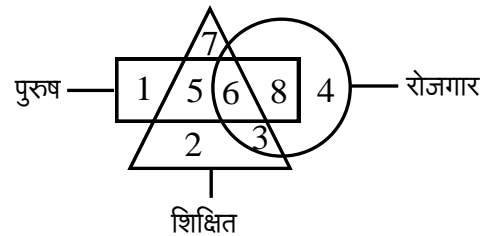


19. Choose the correct alternative.  
 $30 : 68 :: ? : 520$
- A. 180  
 B. 192  
 C. 350  
 D. 360
20. If P means ' $\times$ ', R means '+', T means ' $\div$ ' and S means '-', then  
 $18T3P9S8R6 = ?$
- A.  $2/3$   
 B. 46  
 C. 52  
 D. 58
21. A cube painted red on all faces is cut into 216 cubes of the same size. How many cubes are not painted on any face?
- A. 16  
 B. 27  
 C. 64  
 D. 125
22. Study the diagram below, which part represents unemployed educated men?



- A. 1  
 B. 2  
 C. 3  
 D. 5

19. सही विकल्प को चुनिए-  
 $30 : 68 :: ? : 520$
- A. 180  
 B. 192  
 C. 350  
 D. 360
20. यदि P मतलब ' $\times$ ', R मतलब '+', T मतलब ' $\div$ ' और S मतलब '-' तो  
 $18T3P9S8R6 = ?$
- A.  $2/3$   
 B. 46  
 C. 52  
 D. 58
21. सभी फलकों पर लाल रंग से रंगे एक घन को समान आकार के 216 घनों में काटा जाता है। कितने छोटे घनों का कोई भी फलक नहीं रंगा है?
- A. 16  
 B. 27  
 C. 64  
 D. 125
22. दिये गये आकृति का अध्ययन करे। कौन सा भाग बेरोजगार शिक्षित पुरुषों को दर्शाता है?



- A. 1  
 B. 2  
 C. 3  
 D. 5

SPACE FOR ROUGH WORK / रफ कार्य के लिये जगह

23. In a certain code language MAT is written as STAM, FEAR is written as SRAEF. How would RING be written in that code?

- A. SRIGN
- B. SGNIR
- C. GNIRS
- D. SGNRI

24. Choose the correct alternative-  
BED : CHI :: BIG : ?

- A. CLM
- B. CLL
- C. CML
- D. CEP

25. In a certain code CHAIR is written as 13579, GOODS is written as 24468. How would GHOOR be written in that code?

- A. 23448
- B. 23649
- C. 23449
- D. None of the above

26. If, A=26, LAS=26, CQS=26 then UKY=?

- A. 12
- B. 18
- C. 24
- D. 26

23. किसी सांकेतिक भाषा में MAT को STAM लिखा जाता है, FEAR को SRAEF लिखा जाता है, उसी भाषा में RING को कैसा लिखा जायेगा?

- A. SRIGN
- B. SGNIR
- C. GNIRS
- D. SGNRI

24. सही विकल्प को चुनिए-

BED : CHI :: BIG : ?

- A. CLM
- B. CLL
- C. CML
- D. CEP

25. किसी सांकेतिक भाषा में CHAIR को 13579, GOODS को 24468 लिखा जाता है। उसी कोड में GHOOR को कैसा लिखा जायेगा?

- A. 23448
- B. 23649
- C. 23449
- D. उपरोक्त में से कोई नहीं

26. यदि A=26, LAS=26, CQS=26, तो UKY=?

- A. 12
- B. 18
- C. 24
- D. 26

---

SPACE FOR ROUGH WORK / रफ कार्य के लिये जगह

27. Find the missing term in the given alphabet series.

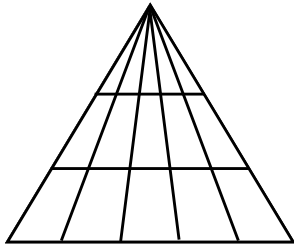
B, C, E, G, K, -

- A. M
- B. O
- C. L
- D. None of the above

28. If R means '+', S means '-', T means '×', U means '÷', V means '=', W means '>' and X means '<' out of four alternatives equations only one is correct identify the correct one.

- A.  $24U3R2S2W8$
- B.  $24U3T2VT8$
- C.  $24S3X2T2U8$
- D.  $24R3S2X2T8$

29. How many triangles are there in the given figure?



- A. 30
- B. 40
- C. 45
- D. 47

27. दिये गये अक्षर श्रेणी में विलुप्त पद ज्ञात किजिए-

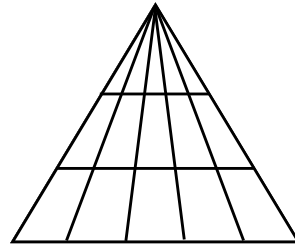
B, C, E, G, K, -

- A. M
- B. O
- C. L
- D. उपरोक्त में से कोई नहीं

28. यदि R मतलब '+', S मतलब '-', T मतलब '×', U मतलब '÷', V मतलब '=', W मतलब '>' और X मतलब '<' है तो विकल्प समीकरण में से एक सही है सही को चुनिए?

- A.  $24U3R2S2W8$
- B.  $24U3T2VT8$
- C.  $24S3X2T2U8$
- D.  $24R3S2X2T8$

29. दिये गये चित्र में त्रिभुजों की कितनी संख्या है?



- A. 30
- B. 40
- C. 45
- D. 47

---

SPACE FOR ROUGH WORK / रफ कार्य के लिये जगह

30. Six friends A, B, C, D, E and F are sitting in the row facing towards North. C is sitting between A and E, D is not at the end, B is sitting immediate right to E, F is not at the right end. How many persons are there to the right of D?
- A. 1  
B. 2  
C. 3  
D. 4

30. छः मित्र A, B, C, D, E और F पंक्ति में उत्तर की ओर मुख करके बैठे हैं। C, A और E के बीच में बैठा है, D अंत में नहीं है, B, E के ठीक दायें बैठा है, F दायें छोर पर नहीं है। D के दायी ओर कितने व्यक्ति हैं?
- A. 1  
B. 2  
C. 3  
D. 4

---

SPACE FOR ROUGH WORK / रफ कार्य के लिये जगह

## PART - II

### General Knowledge

### सामान्य ज्ञान

31. World Population Day is celebrated on-
- A. 11 June
  - B. 11 July
  - C. 21 November
  - D. 23 December

32. Under which article Right to Free and Compulsory Education 2009 was included in the Indian Constitution?
- A. Article 21A
  - B. Article 26A
  - C. Article 15
  - D. Article 16

33. The magnitude of an earthquake is measured by-
- A. Ordinal scale
  - B. Map scale
  - C. Scoville scale
  - D. Richter scale

31. विश्व जनसंख्या दिवस किस दिन मनाया जाता है?
- A. 11 जून
  - B. 11 जुलाई
  - C. 21 नवंबर
  - D. 23 दिसंबर

32. निःशुल्क और अनिवार्य शिक्षा का अधिकार-2009 भारतीय संविधान में किस अनुच्छेद के तहत सम्मिलित किया गया?
- A. अनुच्छेद 21A
  - B. अनुच्छेद 26A
  - C. अनुच्छेद 15
  - D. अनुच्छेद 16

33. भूकंप की तीव्रता नापने के लिए कौनसा पैमाना उपयोग किया जाता है?
- A. ओर्डिनल स्केल
  - B. मैप स्केल
  - C. स्कोविल स्केल
  - D. रिक्टर स्केल

---

SPACE FOR ROUGH WORK / रफ कार्य के लिये जगह

34. A removal address against a Judge of Supreme Court is passed by each house of Parliament by a majority of the total membership of the house and by a majority of 2/3 of the members of house present and voting in the same session. What will happen-

- (i) The Judge will be removed.
- (ii) The Judge will not be removed.

- A. (i) is correct
- B. (ii) is correct
- C. (i) & (ii) both are correct
- D. (i) & (ii) both are wrong

35. Which Mobile Super App was recently launched by Tata Group.

- A. Tata Avinya
- B. Tata Neu
- C. Tata Punch
- D. Tata Westside

36. Which Committee/Commission was set up by the Government of India to review National Education Policy-1986?

- A. Kothari Commission
- B. Acharya Ramamurti Committee
- C. Mudaliar Commission
- D. Acharya Narendra Dev Committee

34. सर्वोच्च न्यायालय के एक न्यायाधीश के विरुद्ध पदच्युति समावेदन उसी सत्र में संसद के प्रत्येक सदन में कुल सदस्य संख्या के बहुमत और उपस्थित तथा मतदान करनेवाले सदस्यों के 2/3 बहुमत से पारित हो गया। अब क्या होगा-

- (i) न्यायाधीश पदच्युत हो जाएगा।
- (ii) न्यायाधीश पदच्युत नहीं होगा।

- A. (i) सही है
- B. (ii) सही है
- C. (i) और (ii) सही हैं
- D. (i) और (ii) दोनों गलत हैं

35. टाटा समूह द्वारा किस मोबाईल सुपर-ऐप का प्रमोचन हाल ही में किया गया?

- A. टाटा अविन्या
- B. टाटा न्यू
- C. टाटा पंच
- D. टाटा वेस्टसाइड

36. भारत सरकार ने राष्ट्रीय शिक्षानीति 1986 की समीक्षा करने के लिए किस समिति/आयोग का गठन किया था?

- A. कोठारी कमीशन
- B. आचार्य राममूर्ति कमेटी
- C. मुदलियार कमीशन
- D. आचार्य नरेन्द्र देव कमेटी

---

SPACE FOR ROUGH WORK / रफ कार्य के लिये जगह

37. The financial crisis proclaimed by the President should be approved by the Parliament by which majority-
- By simple majority
  - By Absolute majority
  - By 2/3 majority
  - By majority of the total membership of the each house and 2/3 majority of members present and voting
38. Which pair won the 2021 Nobel Prize in Physiology or Medicine for the Discovery of receptors of Temperature and touch in Human body?
- James Allison & Tasuku Honjo
  - David Julius & Ardem Patapoutian
  - Emmanuelle Charpentier & Jennifer Doudna
  - Esther Duflo & Abhijit Banerjee
39. Which Fin-Tech Company launched by Mr. Pranjal Kamra has its Head quarter in Raipur C.G.?
- PayTM
  - Invest Yadnya
  - Finology
  - RazorPay
40. In 2022, which company has sold its cement business operations in India to Adani Group?
- Holcim
  - Ultratech
  - Cemex
  - Eurocement
37. राष्ट्रपति द्वारा उद्घोषित वित्तीय संकट संसद के द्वारा किस बहुमत से अनुमोदित होना चाहिए?
- साधारण बहुमत से
  - निरपेक्ष बहुमत से
  - 2/3 बहुमत से
  - प्रत्येक सदन की कुल सदस्य संख्या के बहुमत और उपस्थित तथा मतदान करनेवाले सदस्यों के 2/3 बहुमत से
38. कौनसी जोड़ी को मानव शरीर में तापमान एवं स्पर्श के रिसेप्टर्स की खोज के लिए वर्ष 2021 में चिकित्सा क्षेत्र के नोबेल पुरस्कार से सम्मानित किया गया?
- जेम्स एलिसन तथा तासुकू होन्जो
  - डेविड जूलियस तथा अर्डेम पटापाउटियन
  - इमैनुएल कारपेन्टर तथा जेनिफर डोडना
  - इस्टर डुफेलो तथा अभिजीत बॅनर्जी
39. श्री प्रांजल कामरा द्वारा स्थापित निम्न में से कौनसी फिन-टेक कंपनी का मुख्यालय रायपुर (C.G.) में है?
- पेटिएम
  - इन्वेस्ट यादन्या
  - फिनोलॉजी
  - रेजर-पे
40. वर्ष 2022 में किस कंपनी ने भारत में अपना सिमेंट व्यवसाय अदानी समूह को बेच दिया है?
- होलसीम
  - अल्ट्राटेक
  - सिमेक्स
  - युरोसिमेंट

---

SPACE FOR ROUGH WORK / रफ कार्य के लिये जगह

41. Which "Strait" lies between India and Sri Lanka?
- A. Palk Strait  
B. Cook Strait  
C. Alas Strait  
D. Alor Strait
42. Which of the following educational philosophy recommended project method in Teaching learning process?
- A. Realism  
B. Idealism  
C. Naturalism  
D. Pragmatism
43. Which state was formed first on basis of language in independent India?
- A. Karnataka  
B. West Bengal  
C. Andhra Pradesh  
D. Punjab
44. What is matched in the expression- 'District Judge'?
- (i) Judge of a City Civil Court  
(ii) Sessions Judge  
(iii) Joint District Judge  
(iv) Asstt. Sessions Judge
- A. (i)  
B. (i) (ii)  
C. (i) (ii) (iii)  
D. (i) (ii) (iii) (iv)

41. भारत तथा श्रीलंका के बीच में कौनसी जलसंधि (जलसंयोगी/जलडमरु) स्थित है?
- A. पाल्क स्ट्रेट  
B. कुक स्ट्रेट  
C. एलस स्ट्रेट  
D. एलोर स्ट्रेट
42. निम्नलिखित में से कौन सा शिक्षा दर्शन सीखने सिखाने की प्रक्रिया में प्रायोजना विधी की अनुशंसा करता है?
- A. यथार्थवाद  
B. आदर्शवाद  
C. प्रकृतिवाद  
D. प्रयोजनवाद
43. स्वतंत्र भारत में भाषा के आधार पर सर्वप्रथम किस राज्य का गठन हुआ?
- A. कर्नाटक  
B. पश्चिम बंगाल  
C. आंध्रप्रदेश  
D. पंजाब
44. 'जिला न्यायाधीश' पदबंध में क्या सुमेलित है?
- (i) नगर सिविल न्यायालय का न्यायाधीश  
(ii) सत्र न्यायाधीश  
(iii) संयुक्त जिला न्यायाधीश  
(iv) सहायक सत्र न्यायाधीश
- A. (i)  
B. (i) (ii)  
C. (i) (ii) (iii)  
D. (i) (ii) (iii) (iv)

---

SPACE FOR ROUGH WORK / रफ कार्य के लिये जगह



45. Which "Sea" among the following, does not touch Indian Territory?

- A. Andaman Sea
- B. Arabian Sea
- C. Banda Sea
- D. Laccadive Sea

46. In Yoga how many asanas does *Surya Namaskar* comprise of?

- A. 14
- B. 07
- C. 12
- D. 10

47. In May 2022, Reserve Bank of India increased the Repo Rate, bringing it to-

- A. 4.00%
- B. 4.40%
- C. 5.00%
- D. 5.50%

48. The prominent leader of 'Veda Samaj' established in Madras in 1864, was-

- A. Chembeti Sridharalu Naidu
- B. Gopal Hari Deshmukh
- C. Narayan Guru
- D. Kandukuri Veeresalingam

45. निम्न में से कौनसा सागर, भारत की सीमा से नहीं लगता है?

- A. अंडमान सागर
- B. अरब सागर
- C. बांदा सागर
- D. लक्षद्वीप सागर

46. योग के अन्तर्गत सूर्य नमस्कार में कितने आसन होते हैं?

- A. 14
- B. 07
- C. 12
- D. 10

47. मई 2022 में, भारतीय रिजर्व बैंक द्वारा रेपो रेट बढ़ाया गया। तत्पश्चात् रेपो रेट की दर कितने प्रतिशत है?

- A. 4.00%
- B. 4.40%
- C. 5.00%
- D. 5.50%

48. मद्रास में 1864 ई. में स्थापित 'वेद समाज' के प्रमुख नेता थे-

- A. चम्बेती श्रीधरलु नायडू
- B. गोपाल हरि देशमुख
- C. नारायण गुरु
- D. कंदुकुरी वीरेशलिंगम

---

SPACE FOR ROUGH WORK / रफ कार्य के लिये जगह

49. The United Nations have declared year 2023 to be celebrated as-
- A. International year of Millets
  - B. International year of Fruits & Vegetables
  - C. International year of Basic Sciences and Sustainable Development
  - D. International year of Indigenous Languages

50. The work done by Mr. Agnew in Chhattisgarh does not include-
- A. Shifting the headquarter of Chhattisgarh from Ratanpur to Raipur
  - B. Reorganize Parganas
  - C. Eliminating multiple taxes
  - D. Implementation of three years settlement

49. संयुक्त राष्ट्र संघ द्वारा वर्ष 2023 को किस विषय का अंतरराष्ट्रीय वर्ष के रूप में मनाए जाने का निर्णय लिया गया है?
- A. मोटे अनाज (मिलेट्स) का वर्ष
  - B. फल एवं सब्जियों का वर्ष
  - C. बुनियादी विज्ञान तथा सतत् विकास का वर्ष
  - D. देशज भाषाओं का वर्ष

50. मि. एगन्यू के द्वारा छत्तीसगढ़ में किए गये कार्यों में सम्मिलित नहीं है-
- A. छत्तीसगढ़ के मुख्यालय को रतनपुर से रायपुर स्थानांतरित करना
  - B. परगनों को पुनर्गठित करना
  - C. विभिन्न करों को समाप्त करना
  - D. त्रिवर्षीय बंदोबस्त लागू करना

---

SPACE FOR ROUGH WORK / रफ कार्य के लिये जगह

## PART - III

### Educational Interest

### शिक्षण अभिरुची

51. While planning essential learning experiences, in order to make learning meaningful, should not include the following-
- A. Discussion of the content
  - B. Content based questions preparation
  - C. Repeating the content on the basis of memory
  - D. Presentation on the content
52. As a constructivist teacher, which one of the following method of student assessment seems to be most appropriate to you-
- A. Standardised test
  - B. Project work
  - C. Memory based factual questions
  - D. Multiple choice questions
53. In which of the following lesson plan, specific law is explained in beginning followed by explanation through different examples-
- A. Inductive lesson plan
  - B. Deductive lesson plan
  - C. Skill Based lesson plan
  - D. Experimental lesson plan

51. अधिगम को अर्थपूर्ण बनाने के लिए आवश्यक अधिगम अनुभवों की योजना में निम्न को शामिल नहीं किया जा सकता-
- A. विषयवस्तु पर चर्चा-परिचर्चा
  - B. विषयवस्तु आधारित प्रश्नों का निर्माण
  - C. विषयवस्तु का स्मृति के आधारपर दोहराना
  - D. विषयवस्तु पर प्रस्तुतीकरण
52. एक रचनावादी शिक्षक के रूप में विद्यार्थियों के आकलन हेतु निम्न में से कौन सी विधि आपको सर्वाधिक उपयुक्त लगती है-
- A. मानकीकृत परीक्षण
  - B. परियोजना कार्य
  - C. स्मृति आधारित तथ्यात्मक प्रश्न
  - D. बहुविकल्पीय प्रश्न
53. निम्नांकित में से किस पाठ योजना में प्रारंभ में नियम को स्पष्ट कर उसे अनेक उदाहरणों के माध्यम से समझाया जाता है-
- A. आगमनात्मक पाठ योजना
  - B. निगमनात्मक पाठ योजना
  - C. कौशलात्मक पाठ योजना
  - D. अनुप्रयोगात्मक पाठ योजना

---

SPACE FOR ROUGH WORK / रफ कार्य के लिये जगह

54. In a traditional classroom, the nature of work given to students is-

- A. Cognitive
- B. Affective
- C. Psycho-dynamic
- D. All the above

55. Which of the following is not an appropriate tool for formative assessment?

- A. Project work
- B. Open ended questions
- C. Observation
- D. Ranking of students

56. Salil cannot solve his problem himself but he can do it under the guidance of an adult. This guidance is-

- A. Zone of proximal development
- B. Scaffolding
- C. Sidelining
- D. Pre operational thinking

57. In which level of schooling it is in talks to incorporate vocational education under the National Education Policy, 2020-

- A. At Primary level
- B. At Pre Primary level
- C. At Middle level
- D. At Higher Secondary level

54. परंपरागत कक्षा शिक्षण में प्रदत्त कक्षा-कार्यों की प्रकृति होती है-

- A. संज्ञानात्मक
- B. भावात्मक
- C. मनो-गन्त्यात्मक
- D. उपरोक्त में से सभी

55. एक उपयुक्त रचनात्मक आकलन कार्य/उपकरण नहीं है-

- A. परियोजना कार्य
- B. खुले प्रश्न
- C. अवलोकन
- D. छात्रों की रैंकिंग

56. सलिल स्वयं अपनी समस्या का समाधान नहीं कर पाता परंतु एक वयस्क के मार्गदर्शन में कर पाता है। यह मार्गदर्शन है-

- A. समीपस्थ विकास का क्षेत्र
- B. मंचान
- C. पार्श्वकरण
- D. पूर्व संचालन सोच

57. राष्ट्रीय शिक्षा नीति 2020 के अंतर्गत विद्यालय के किस स्तर पर व्यावसायिक शिक्षा को शामिल करने की बात की जा रही है-

- A. प्राथमिक स्तर पर
- B. पूर्व प्राथमिक स्तर पर
- C. माध्यमिक स्तर पर
- D. उच्चतर माध्यमिक स्तर पर

---

SPACE FOR ROUGH WORK / रफ कार्य के लिये जगह

58. After the presentation of e-learning material of Educational content, what should a teacher do?
- Clear doubts of students on e-learning material
  - Immediate evaluation on e-learning material
  - Be attentive on discipline
  - Give attention on seating arrangement
59. To test the skills of students, which of the following test should be used by a teacher-
- Oral
  - Written
  - Activity based
  - Sports related
60. If a student is showing errors like Reverse image and mirror imaging in his writing, then this is a sign of-
- Difficulty in learning
  - Learning disability
  - Learning loss
  - Mental discomfort
61. In a parent-teacher meeting one of the student's parents never gives his presence, then as a teacher you will-
- Not give attention to the student
  - If possible you will go to the parents to meet them
  - Punish the student
  - Issue a written notice to the parents

58. ई-लर्निंग सामग्री द्वारा विद्यार्थियों को शैक्षिक सामग्री प्रदर्शित करने के पश्चात् शिक्षक को करना चाहिए-
- ई-लर्निंग सामग्री पर विद्यार्थियों की शंकाओं का समाधान।
  - ई-लर्निंग सामग्री पर तत्काल मूल्यांकन।
  - अनुशासन पर ध्यान देना चाहिए।
  - बैठक व्यवस्था पर ध्यान देना चाहिए।
59. एक शिक्षक को छात्रों के कौशलों का परीक्षण करने हेतु निम्न में से किस परीक्षण का उपयोग करना चाहिए-
- मौखिक
  - लिखित
  - क्रियात्मक
  - खेलकूद संबंधी
60. विद्यार्थी यदि अपनी लेखन में रिवर्स इमेज एवं मिरर इमेजिंग जैसी गलतियाँ दर्शा रहा है तो यह लक्षण हैं-
- अधिगम में कठिनाई के
  - अधिगम अक्षमता के
  - अधिगम न्हास के
  - मानसिक विकलता के
61. पालक-शिक्षक बैठक में यदि किसी विद्यार्थी के पालक बैठक में कभी भी उपस्थित नहीं होते हैं, तो एक शिक्षक के रूप में आप-
- विद्यार्थी पर ध्यान नहीं देंगे।
  - यथासंभव अभिभावक से स्वयं जाकर मिलेंगे।
  - विद्यार्थी को दंडित करेंगे।
  - अभिभावक को लिखित सूचना भेजेंगे।

---

SPACE FOR ROUGH WORK / रफ कार्य के लिये जगह

62. To become an effective teacher, the most appropriate option from the following is-
- To maintain complete discipline
  - Discourage questioning
  - Put emphasis on answering from the content of textbook
  - Be in contact with every student
63. Teachers Eligibility test organised for the selection into teaching institutions, is an example of-
- Placement Test
  - Attitude Test
  - Achievement Test
  - Aptitude Test
64. Effective learning in a classroom can be done by-
- By Punishment or Reward
  - By encouraging spirit of competition
  - By Drill and Practice
  - By teaching through linking the content with the daily life of students
65. Which of the following is necessary for the improvement of level of education-
- Continuous corrections in curriculum
  - Construction of magnificent school building
  - Continuous evaluation of students
  - Higher pay scale of teachers
62. एक प्रभावी शिक्षक बनने के लिए निम्न में से सर्वाधिक उपयुक्त विकल्प है-
- कठोर अनुशासन का पालन कराए।
  - प्रश्न पूछने को हतोत्साहित करे।
  - पुस्तक की विषयवस्तु के आधार पर उत्तर देने पर जोर दे।
  - प्रत्येक विद्यार्थी के सम्पर्क में रहे।
63. शिक्षण संस्थाओं में चयन हेतु आयोजित की जाने वाली शिक्षक पात्रता परीक्षण निम्न में से किसका उदाहरण है-
- नियोजन परीक्षण
  - अभिवृत्ति परीक्षण
  - उपलब्धि परीक्षण
  - अभिक्षमता परीक्षण
64. किसी कक्षा में प्रभावी अधिगम कराया जा सकता है-
- दण्ड अथवा पुरस्कार द्वारा
  - प्रतिस्पर्धा की भावना को प्रोत्साहन देकर
  - ड्रिल एवं अभ्यास द्वारा
  - विषयवस्तु को विद्यार्थियों के दैनिक जीवनसे जोड़कर अध्यापन द्वारा
65. शिक्षा के स्तर में सुधार हेतु आवश्यक है-
- पाठ्यक्रम में निरंतर संशोधन
  - भव्य विद्यालय भवन का निर्माण
  - विद्यार्थियों का सतत मूल्यांकन
  - शिक्षकों का उच्चतर वेतनमान

---

**SPACE FOR ROUGH WORK / रफ कार्य के लिये जगह**

66. Teaching at primary level should be done in mother tongue if possible, because-
- A. By this students learn easily
  - B. It increases the self confidence of students
  - C. It helps in Mental development
  - D. It provides natural environment of learning to students

67. To ensure the learning of children, the most important role is of-
- A. Text books
  - B. Schools
  - C. Society
  - D. Teachers

68. For a good classroom management, it is essential to-
- A. Prepare appropriate plan and teaching aids
  - B. Ensure punctuality of teacher
  - C. Mutual interaction by students through effective group work
  - D. All the above

66. प्राथमिक स्तर पर यथासंभव मातृभाषा में ही शिक्षण कार्य किया जाना चाहिए, क्योंकि-
- A. इससे शिक्षार्थी सरलतापूर्वक सीख पाता है।
  - B. यह बच्चों के आत्मविश्वास में वृद्धि करता है।
  - C. इससे बच्चों का बौद्धिक विकास होता है।
  - D. यह बच्चों को सीखने हेतु प्राकृतिक वातावरण प्रदान करता है।

67. बच्चों का अधिगम सुनिश्चित करने में सर्वाधिक महत्वपूर्ण भूमिका होती है-
- A. पाठ्यपुस्तक की
  - B. विद्यालय की
  - C. समाज की
  - D. अध्यापक की

68. उत्तम कक्षा-कक्ष प्रबंधन हेतु आवश्यक है-
- A. उपयुक्त योजना एवं सहायक शिक्षण सामग्री तैयार करना।
  - B. शिक्षक की समयनिष्ठा सुनिश्चित करना
  - C. प्रभावी समूह कार्य द्वारा छात्रों में परस्पर अंतःक्रिया
  - D. उपरोक्त में से सभी

---

SPACE FOR ROUGH WORK / रफ कार्य के लिये जगह

69. The responsibility of ensuring innovation and relevance in teaching methods, lies on-
- A. Class teacher
  - B. Principal
  - C. Subject Teacher
  - D. Students

70. Which is not a tool of formative assessment?
- A. Rubrics
  - B. Portfolio
  - C. Feedback
  - D. Objective type/multiple choice questions

69. शिक्षण विधियों में नवीनता एवं प्रासंगिकता सुनिश्चित करने का उत्तरदायित्व होता है?
- A. कक्षा शिक्षक पर
  - B. प्रधानाचार्य पर
  - C. विषय शिक्षक पर
  - D. विद्यार्थियों पर

70. रचनात्मक मूल्यांकन का उपकरण नहीं है-
- A. रुब्रिक्स
  - B. पोर्टफोलियो
  - C. फीडबैक
  - D. वस्तुनिष्ठ/बहुविकल्पीय प्रश्न

---

SPACE FOR ROUGH WORK / रफ कार्य के लिये जगह



**PART - IV**

**General Hindi**

**सामान्य हिन्दी**

71. सम्प्रदान कारक है-
- A. ने  
B. से  
C. को  
D. हे
72. जातिवाचक संज्ञा है-
- A. गंगा  
B. मनुष्य  
C. चतुराई  
D. काशी
73. आज्ञावाचक वाक्य है-
- A. हम खा चुके।  
B. तुम खाओ।  
C. उसने खा लिया होगा।  
D. हमने खाना नहीं खाया।
74. 'चोर चोर मौसेरे भाई' मुहावरे का अर्थ है-
- A. एक ही स्वभाव वाले।  
B. अत्यंत प्रिया।  
C. चोरी के बाद पुनः चोरी।  
D. बुरा कर्म करने वाले।
75. 'उर्मि' का अनेकार्थी है-
- A. लहर  
B. गर्जन  
C. गति  
D. प्रकृति
76. योजक चिन्ह युक्त है-
- A. राम, लक्ष्मण  
B. राम-लक्ष्मण  
C. 'राम लक्ष्मण'  
D. राम लक्ष्मण!
77. स्त्रीलिंग बोधक शब्द है-
- A. पहिया  
B. गाना  
C. सरसों  
D. नहान
78. मानक हिन्दी वर्णमाला में स्वरों की संख्या है-
- A. 11  
B. 13  
C. 12  
D. 14
79. 'जिसकी बाँह घुटनों तक हो' को एक शब्द में कह सकते हैं-
- A. अद्भुत  
B. अलौकिक  
C. अजानुबाहु  
D. आद्योपांत
80. निम्न शब्दों में शुद्ध है-
- A. पष्ठम  
B. पिशचिनी  
C. अत्योक्ति  
D. सौजन्य

---

SPACE FOR ROUGH WORK / रफ कार्य के लिये जगह

81. द्विगु समास युक्त शब्द है-

- A. द्वैमातुर
- B. चतुर्भुज
- C. दिगम्बर
- D. चौलड़ी

82. 'तरल' का विलोमार्थी है-

- A. सदय
- B. सुघर
- C. नदी
- D. ठोस

83. 'कामदेव' का पर्यायवाची है-

- A. पिनाकी
- B. अनंग
- C. सिंधुजा
- D. कांता

84. निम्न में से विदेशी शब्द है-

- A. मृतक
- B. लाश
- C. निर्जीव
- D. निष्चेष्ट

85. निम्न में से तत्सम शब्द है-

- A. घड़ा
- B. दाहिना
- C. राय
- D. भ्राता

---

SPACE FOR ROUGH WORK / रफ कार्य के लिये जगह

**PART - V**

**General English**

**सामान्य अंग्रेजी**

86. Insert a preposition-  
“If you are going ----- the post office could you buy me some stamps.”  
A. at  
B. for  
C. to  
D. in
87. What should be avoided while writing a formal letter?  
A. I'll  
B. I won't  
C. I'd  
D. All of these
88. Which is the vital part of the letter, which is as good as wishing the person?  
A. Subject  
B. Enclosure  
C. Salutation  
D. Reference
89. Identify the type of sentence-  
“I want to go to the gym, yet I don't go there”.  
A. Simple  
B. Compound  
C. Complex  
D. None
90. Two thirds of the food supply ----- for the month.  
A. has been used  
B. were used  
C. have been using  
D. has been using
91. 1) The basic characteristics of democracy are equality, liberty and fraternity. It gives freedom of thought, speech and expression. It promises active thought participation and involvement of the governed in the governance. The Chief Principle of democracy is that power is implemented with respect to human rights. It makes people interested in the country and its democratic process.  
2) In democratic government, individuals freedom and rights are given importance. Democracy gives right to eligible people to choose their leader but most people make irrational judgements.
- On the basis of your reading of the passage answer the following questions:  
In democracy, ----- people choose their leaders.  
A. eligible  
B. young  
C. old  
D. middle-aged

---

**SPACE FOR ROUGH WORK / रफ कार्य के लिये जगह**

92. 1) The basic characteristics of democracy are equality, liberty and fraternity. It gives freedom of thought, speech and expression. It promises active thought participation and involvement of the governed in the governance. The Chief Principle of democracy is that power is implemented with respect to human rights. It makes people interested in the country and its democratic process.
- 2) In democratic government, individuals freedom and rights are given importance. Democracy gives right to eligible people to choose their leader but most people make irrational judgements.

On the basis of your reading of the passage answer the following questions:

Which of these is not a basic characteristic of democracy?

- A. religion  
B. equality  
C. liberty  
D. Fraternity
93. Change the narration-
- “The boy laughed at the beggar”
- A. The beggar was laughed by the boy  
B. The beggar was being laughed by the boy  
C. The beggar was being laughed at by the boy  
D. The beggar was laughed at by the boy

94. Don't you ----- lie to me!  
(use modals)
- A. Need to  
B. Dare  
C. Might  
D. Ought to

95. Find one word for :
- ‘A remedy for all disease is-’
- A. Medicine  
B. Medical  
C. Medica  
D. Panacea

---

SPACE FOR ROUGH WORK / रफ कार्य के लिये जगह

96. Rewrite the sentence in Reported speech-
- The Policeman said, "Don't cross the speed".
- A. The policeman said not to cross the speed limit
  - B. The policeman asked if I would cross the speed limit
  - C. The policeman forbade me to cross the speed limit
  - D. The policeman asked if I had crossed the speed limit

98. 1) The basic characteristics of democracy are equality, liberty and fraternity. It gives freedom of thought, speech and expression. It promises active thought participation and involvement of the governed in the governance. The Chief Principle of democracy is that power is implemented with respect to human rights. It makes people interested in the country and its democratic process.
- 2) In democratic government, individuals freedom and rights are given importance. Democracy gives right to eligible people to choose their leader but most people make irrational judgements.

On the basis of your reading of the passage answer the following questions:

The Chief Principle of democracy is that power is implemented with respect to human -----.

- A. rights
- B. duties
- C. violations
- D. responsibilities

97. Choose the correct spelling-
- A. Amatuer
  - B. Amature
  - C. Amateur
  - D. Ameteur

99. Which of these is not a part of letter?
- A. Date
  - B. Greeting
  - C. Photo
  - D. Signature

---

SPACE FOR ROUGH WORK / रफ कार्य के लिये जगह

**100.** Identify the tense used in the sentence-

“while he was in the Military, he still regularly wrote to me”.

- A.** Simple present tense
- B.** Past perfect tense
- C.** Simple past tense
- D.** Present perfect tense

---

**SPACE FOR ROUGH WORK / रफ कार्य के लिये जगह**

**SPACE FOR ROUGH WORK / रफ कार्य के लिये जगह**

---

**SPACE FOR ROUGH WORK / रफ कार्य के लिये जगह**

**SET - A**

उत्तर अंकित करने का समय : 2 घंटे  
Time for making answers : 2 Hours

अधिकतम अंक : 100  
Maximum Marks : 100

नोट :

1. इस प्रश्न पुस्तिका में 100 प्रश्न हैं – प्रत्येक प्रश्न 1 अंक का है। सभी प्रश्न करने अनिवार्य हैं।
2. प्रश्नों के उत्तर दी गई OMR उत्तर-शीट (Answer Sheet) पर अंकित कीजिए।
3. ऋणात्मक मूल्यांकन नहीं किया जावेगा।
4. किसी भी तरह के कैलकुलेटर या लॉग टेबल एवं मोबाइल फोन का प्रयोग वर्जित है।
5. OMR उत्तर-शीट (Answer Sheet) का प्रयोग करते समय ऐसी कोई असावधानी न बरतें जिससे यह फट जाये या उसमें मोड़ या सिलवट आदि पड़ जाये या वह खराब हो जाये।

**Note :**

1. This question booklet contains 100 questions each question carries 1 mark. All questions are compulsory.
2. Indicate your answers on the OMR Answer-Sheet provided.
3. No negative marking will be done.
4. Use of any type of calculator or log table and mobile phone is prohibited.
5. While using Answer-Sheet care should be taken so that the Answer-Sheet does not get torn or spoiled due to folds or wrinkles.