

MASTER SET

Number of Pages : 32

पृष्ठों की संख्या : 32

No. of Questions : 200

प्रश्नों की संख्या : 200

Marks / अंक : 600

Question Booklet No.

प्रश्न-पुस्तिका संख्या



Time / समय : 03 Hours / घण्टे

Candidate's Roll No.

अभ्यर्थी का रोल नं.

| | | | | | | | | | |
|--|--|--|--|--|--|--|--|--|--|
| | | | | | | | | | |
|--|--|--|--|--|--|--|--|--|--|

Candidate's Signature

अभ्यर्थी के हस्ताक्षर

Invigilator's Signature

वीक्षक के हस्ताक्षर

1. _____

2. _____

INSTRUCTIONS FOR CANDIDATES

- The Question Paper consists of **four** sections : **Section-A** Mental Ability of **50** questions (**Q.No. 1 to 50**), **Section-B** Teacher Aptitude and Attitude of **50** questions (**Q.No. 51 to 100**), **Section-C** General Awareness of **50** questions (**Q.No. 101 to 150**) and **Section-D** English **OR** Hindi of **50** questions (**Q.No. 151 to 200**).
- Write your entries like Question Booklet No. and Subject selected for Section-D etc. very carefully and fill the relevant circles on the OMR Answer Sheet.
- For filling the OMR Answer Sheet and darkening the circle use **Blue/Black Ball Point Pen** only.
- Answer **all** questions. There will be no negative marking.
- 3** marks are allotted for correct answer of each question of section **A, C, D** and **3, 2, 1** and **0** marks are allotted respectively on preference for correct answer of section '**B**' Teaching Aptitude.
- Each question has four alternative responses marked serially as **A, B, C, D**. You have to darken only one circle or bubble indicating the correct answer on the Answer Sheet using **Blue/Black Ball Point Pen**. Darkening more than one circle would be treated as wrong answer.
- If there is any sort of ambiguity/ mistake either of printing or factual nature then out of Hindi and English Version of the question, the English Version will be treated as standard.
- In case of missing pages, missing questions or any kind of printing discrepancy/defect in Question Booklet, candidates may put their objections to invigilator within 5 minutes and obtain another Question Booklet.

परीक्षार्थियों के लिए निर्देश

- प्रश्न-पत्र में **चार** भाग हैं : **भाग-अ** मानसिक योग्यता के **50** प्रश्न (प्र.सं. **1** से **50**), **भाग-ब** शिक्षक अभिक्षमता एवं अभिवृत्ति के **50** प्रश्न (प्र.सं. **51** से **100**), **भाग-स** सामान्य जागरूकता के **50** प्रश्न (प्र.सं. **101** से **150**) और **भाग-द** अंग्रेजी अथवा हिंदी के **50** प्रश्न (प्र.सं. **151** से **200**) ।
- ओ.एम.आर. उत्तर-पत्रक पर अपनी प्रश्न-पुस्तिका सं. तथा भाग-द हेतु चयनित विषय आदि प्रविष्टियाँ सावधानीपूर्वक लिखें और संबंधित गोलों को भरें ।
- ओ.एम.आर. उत्तर-पत्रक में संबंधित जानकारी व गोलों को भरने के लिए केवल **नीले/काले बॉल पॉइंट पेन** का उपयोग करें ।
- सभी** प्रश्नों के उत्तर दीजिए । ऋणात्मक अंकन नहीं होगा ।
- भाग **अ, स, द** के प्रत्येक प्रश्न के सही उत्तर के लिए **3** अंक एवं भाग '**ब**' शिक्षण अभिवृत्ति के सही उत्तर हेतु क्रमशः वरीयता क्रम से **3, 2, 1** एवं **0** अंक देय है ।
- प्रत्येक प्रश्न के चार वैकल्पिक उत्तर दिये गये हैं, जिन्हें क्रमशः **A, B, C, D** अंकित किया गया है । अभ्यर्थी को सही उत्तर निर्दिष्ट करते हुए उनमें से केवल एक गोले अथवा बबल को उत्तर-पत्रक पर **नीले/काले बॉल पॉइंट पेन** से गहरा करना है । एक से अधिक विकल्प पर गोला करने पर गलत माना जाएगा ।
- यदि किसी प्रश्न में किसी प्रकार की कोई मुद्रण या तथ्यात्मक प्रकार की त्रुटि हो तो प्रश्न के हिन्दी तथा अंग्रेजी रूपान्तरों में से अंग्रेजी रूपान्तर मान्य होगा ।
- प्रश्न-पुस्तिका में पृष्ठ कम, प्रश्न संख्या कम या अन्य किसी भी मुद्रण दोष होने पर अभ्यर्थी 5 मिनट में वीक्षक के समक्ष आपत्ति रखकर दूसरी प्रश्न-पुस्तिका प्राप्त कर लें ।

Do not open this Question Booklet until you are asked to do so. / इस प्रश्न-पुस्तिका को तब तक न खोलें जब तक कहा न जाए ।



MKP

Section-A / भाग-अ
Mental Ability / मानसिक योग्यता

1. Choose the alternative which closely resembles the water image of the given combination.

उस विकल्प का चयन करें जो दिए गए संयोजन की जल छवि के समान है।

BK50RP62

- (A) BK20B695 (B) BK90B6E5
(C) BK20B6E5 (D) BK20B6E5

2. In the question below are given three statements followed by three conclusions I, II and III. You have to take the given statements to be true even if they seem to be at variance from commonly known facts. Read all the conclusions and then decide which of the given conclusions logically follows the given statements, disregarding commonly known facts.

Statements : All schools are colleges.
Some universities are institutions.
No school is university.

Conclusions :

- I. All colleges are universities is not a possibility.
II. No college is university is not a possibility.
III. Some institutions are not schools is not a possibility.

- (A) Only I and II follows.
(B) Only II follows.
(C) Only III follows.

(D) Only I and III follows.

नीचे दिए गए प्रश्न में तीन कथन और उसके बाद तीन निष्कर्ष I, II और III दिए गए हैं। आपको दिए गए कथनों को सत्य मानना है भले ही वे सर्वज्ञात तथ्यों से भिन्न प्रतीत होते हों। सभी निष्कर्षों को पढ़ें और फिर तय करें कि दिए गए निष्कर्षों में से कौन सा सामान्य ज्ञात तथ्यों की उपेक्षा करते हुए, दिए गए कथनों का तार्किक रूप से अनुसरण करता है।

कथन : सभी स्कूल कॉलेज हैं। कुछ यूनिवर्सिटी संस्थान हैं। कोई स्कूल यूनिवर्सिटी नहीं है।

निष्कर्ष :

- I. सभी कॉलेज यूनिवर्सिटी हैं, यह एक संभावना नहीं है।
II. कोई कॉलेज यूनिवर्सिटी नहीं है, यह एक संभावना नहीं है।
III. कुछ संस्थान स्कूल नहीं हैं, यह एक संभावना नहीं है।

- (A) केवल I और II अनुसरण करते हैं।
(B) केवल II अनुसरण करता है।
(C) केवल III अनुसरण करता है।

(D) केवल I और III अनुसरण करते हैं।

3. The film director wants an actor for the lead role of Lucky who perfectly fits the description that appears in the original screenplay. He is not willing to consider actor who do not resemble the character as he is described in the screenplay, no matter how talented they are. The screenplay describes Lucky as an average-sized, forty something, red head, with deep brown eyes, very fair skin, and a brilliant smile. The casting agent has four actors in mind.

Actor 1 : is a stunning red-haired handsome who is 5'9" and in his mid-twenties age. His eyes are brown and he has an olive complexion.

Actor 2 : has red hair, deep brown eyes, and a fair complexion. He is in his mid-forties and is 5'5".

Actor 3 : is 5'4" and of medium build. He has red hair, brown eyes, and is in his early forties.

Actor 4 : is a blue-eyed, red head, in his early thirties. He's of very slight build and stands at 5'.

फिल्म निर्देशक लकी की मुख्य भूमिका के लिए एक अभिनेता चाहता है जो मूल पटकथा में दिखाई देने वाले विवरण में पूरी तरह फिट बैठता हो। वह ऐसे अभिनेता पर विचार करने को तैयार नहीं है जो उस चरित्र से मिलता-जुलता नहीं है जैसा कि उसे पटकथा में वर्णित किया गया है, चाहे वह कितना भी प्रतिभाशाली क्यों न हो। पटकथा लकी को एक औसत आकार, चालीस के आसपास, लाल बालों वाला, गहरी भूरी आँखें, बहुत गोरी त्वचा और एक शानदार मुस्कान के रूप में वर्णित करता है। कास्टिंग एजेंट के दिमाग में चार कलाकार होते हैं।

अभिनेता 1 : एक शानदार लाल बालों वाला हैंडसम है जो 5'9" का है और वह अपने मध्य बीसवें वर्ष में है। उसकी आँखें भूरी हैं और उसका रंग जैतूनी है।

अभिनेता 2 : लाल बाल, गहरी भूरी आँखें और गोरा रंग है। वह अपने मध्य चालीसवें वर्ष में है और 5'5" का है।

अभिनेता 3 : 5'4" और मध्यम कदकाठी का है। उसके लाल बाल, भूरी आँखें हैं और वह अपने प्रारम्भिक चालीसवें वर्ष में है।

अभिनेता 4 : अपने प्रारम्भिक तीसवें वर्ष में एक नीली आँखों वाला लाल बालों वाला है। वह बहुत मामूली कदकाठी का है और 5' का है।

- (A) 1, 2
(C) 3, 4

(B) 2, 3

(D) None of these / इनमें से कोई नहीं

4. Soham has invited his three friends over to watch the football game on his wide-screen television. They are all hungry, but no one wants to leave to get food. By the time they are arguing about who should order the food, a commercial comes on the television screen for a local pizzeria that delivers pizzas at home. The phone number flashes on the screen briefly and they all try to remember it. By the time Soham grabs a pen and paper, each of them recollects a different number.

#1: All of the men agree that the first two numbers are 67.

#2: Three agree that the third number is 2.

#3: Three of them agree that the fourth number is 4.

#4: Three agree that the fifth number is greater than fourth number but less than sixth number.

#5: Three agree that the sixth number is 6; three others also agree that the seventh number is 8.

Which of the numbers is most likely the telephone number of the pizzeria ?

(A) 6726548

(B) 6724568

(C) 6724758

(D) Insufficient Data

सोहम ने अपने तीन दोस्तों को अपने बड़े स्क्रीन वाले टेलीविजन पर फुटबॉल का खेल देखने के लिए आमंत्रित किया है। वे सभी भूखे हैं, लेकिन कोई भोजन के लिए बाहर नहीं जाना चाहता। जिस समय वे इस बात पर बहस कर रहे होते हैं कि किसे खाना मँगवाना चाहिए, उस समय एक स्थानीय पिज्जेरिया के लिए टीवी स्क्रीन पर एक विज्ञापन आता है जो घर पर पिज्जा पहुँचाता है। स्क्रीन पर फ़ोन नंबर थोड़ी देर के लिए चमकता है और वे सभी इसे याद करने की कोशिश करते हैं। जब तक सोहम कलम और कागज पकड़ता है, उनमें से प्रत्येक को एक अलग संख्या याद आती है।

#1: सभी पुरुष इस बात से सहमत हैं कि पहली दो संख्याएँ 67 हैं।

#2: तीन सहमत हैं कि तीसरी संख्या 2 है।

#3: उनमें से तीन इस बात से सहमत हैं कि चौथी संख्या 4 है।

#4: तीन सहमत हैं कि पाँचवीं संख्या चौथी संख्या से बड़ी है, लेकिन छठी संख्या से कम है।

#5: तीन सहमत हैं कि छठी संख्या 6 है; तीन अन्य भी सहमत हैं कि सातवीं संख्या 8 है।

इनमें से कौन सा नंबर पिज्जेरिया का टेलीफोन नंबर होने की सबसे अधिक संभावना है ?

(A) 6726548

(B) 6724568

(C) 6724758

(D) अपर्याप्त डेटा

5. Mahesh is working with a friend to find a location for the toy store he plans to open in his town. He is looking for a place that is either in, or not too far from the center of town and one that would attract the right kind of foot traffic. Which of the following locations should Mahesh's friend call to his attention ?

(A) A storefront in a new high-rise building near the train station in the center of town whose occupants are mainly young, childless professionals who use the train to commute to their offices each day.

(B) A little shop three blocks away from the town's main street, located across the street from an elementary school and next door to an ice cream store.

(C) A stand-alone storefront on a quiet residential street ten blocks away from the town's center.

(D) A storefront in a small strip mall located on the outskirts of town that is also occupied by a pharmacy and a dry cleaner.

महेश एक दोस्त के साथ काम कर रहा है ताकि वह अपने शहर में खिलौनों की दुकान खोलने की योजना बना सके। वह एक ऐसी जगह की तलाश में है जो या तो शहर के केंद्र में हो या उससे बहुत दूर न हो और जो सही प्रकार के पैदल यात्रियों को आकर्षित करे। निम्नलिखित में से किस स्थान पर महेश के मित्र को उसका ध्यान आकर्षित करना चाहिए ?

(A) शहर के केंद्र में ट्रेन स्टेशन के पास एक नई ऊँची इमारत में एक सड़क की ओर मुख वाली दुकान (स्टोरफ्रंट), जिसमें रहने वाले मुख्य रूप से युवा, निःसंतान पेशेवर हैं जो प्रत्येक दिन अपने कार्यालयों में जाने के लिए ट्रेन का उपयोग करते हैं।

(B) शहर की मुख्य सड़क से तीन ब्लॉक दूर एक छोटी सी दुकान, एक प्राथमिक विद्यालय से सड़क के उस पार और एक आइसक्रीम की दुकान के बगल में स्थित है।

(C) शहर के केंद्र से दस ब्लॉक दूर एक शांत आवासीय सड़क पर एक स्टैंड-अलोन स्टोरफ्रंट।

(D) शहर के बाहरी इलाके में स्थित एक छोटे स्ट्रिप मॉल में एक स्टोरफ्रंट जिसमें एक दवाई की दुकान और ड्राई क्लीनर का भी कब्जा है।

6. While travelling in a Haryana registered commercial taxi from Haryana to an adjacent city (another State), your taxi driver informs you that as he has no permit for running the taxi in that city, he will stop at its Transport Office and pay the prescribed fee of ₹ 50 for a day. While paying the fee at the counter you find that the transport clerk is taking an extra ₹ 50 for which no receipt is being given. You are in a hurry for an office meeting. Under such circumstances, what would you do ?

- (A) Do not interfere at all as this is a matter between the taxi driver and the tax authorities.
- (B) Take note of the incident and subsequently inform the matter to the concerned authorities.
- (C) Go up to the counter and ask the clerk to give back the money which he has illegally taken.
- (D) Treat it as a normal affair and simply forget about it.

हरियाणा पंजीकृत व्यावसायिक टैक्सी में हरियाणा से बगल के शहर (दूसरे राज्य) में यात्रा करते समय, आपका टैक्सी चालक आपको सूचित करता है कि उसके पास उस शहर में टैक्सी चलाने का कोई परमिट नहीं है, वह उसके परिवहन कार्यालय में रुकेगा और एक दिन के लिए ₹ 50 निर्धारित शुल्क का भुगतान करेगा। काउंटर पर शुल्क देते समय आप पाते हैं कि परिवहन क्लर्क ₹ 50 अतिरिक्त ले रहा है जिसकी कोई रसीद नहीं दी जा रही है। आप ऑफिस मीटिंग के लिए जल्दी में हैं। ऐसी परिस्थितियों में आप क्या करेंगे ?

- (A) बिलकुल हस्तक्षेप न करें क्योंकि यह टैक्सी चालक और कर अधिकारियों के बीच का मामला है।
- (B) घटना पर ध्यान दें और बाद में संबंधित अधिकारियों को मामले की सूचना दें।
- (C) काउंटर पर जाएँ और क्लर्क से उस पैसे को वापस करने के लिए कहें जो उसने अवैध रूप से लिए हैं।
- (D) इसे सामान्य मामला मानें और इसके बारे में भूल जाएँ।

7. You are a Professor in a University and are setting an examination paper on a particular subject. One of your colleagues, whose daughter is preparing for the examination on that subject, comes to you and informs you that it is his daughter's last chance to pass that examination and whether you could help him by indicating what questions are going to be asked in the examination. In the past, your colleague had helped you in another matter. Your colleague informs you that his daughter will suffer from depression if she fails in this examination. Under such circumstances, what would you do ?

- (A) In view of the help he had given you, extend your help to him.
- (B) Report the conduct of your colleague to the higher authorities.
- (C) Explain to your colleague that this would be violating the trust of the University authorities and you are not in a position to help him.
- (D) Regret that you cannot be of any help to him.

आप एक विश्वविद्यालय में प्रोफेसर हैं और एक विशेष विषय पर एक परीक्षा पत्र तैयार कर रहे हैं। आपका एक सहकर्मी, जिसकी बेटी उस विषय की परीक्षा की तैयारी कर रही है, आपके पास आता है और आपको सूचित करता है कि यह उसकी बेटी के पास परीक्षा उत्तीर्ण करने का आखिरी मौका है और क्या आप यह बताकर उसकी मदद कर सकते हैं कि परीक्षा में कौन से प्रश्न पूछे जाने वाले हैं। पूर्व में आपके सहकर्मी ने किसी अन्य मामले में आपकी मदद की थी। आपके सहकर्मी ने आपको सूचित किया कि यदि वह इस परीक्षा में अनुत्तीर्ण हो जाती है तो उसकी पुत्री अवसाद से ग्रस्त हो जाएगी। ऐसी परिस्थितियों में आप क्या करेंगे ?

- (A) उसने आपको जो मदद दी थी, उसे देखते हुए अपनी मदद उसकी ओर बढ़ाएँ।
- (B) उच्च अधिकारियों को अपने सहयोगी के आचरण की रिपोर्ट करें।
- (C) अपने सहयोगी को समझाएँ कि यह विश्वविद्यालय के अधिकारियों के विश्वास का उल्लंघन होगा और आप उसकी मदद करने की स्थिति में नहीं हैं।
- (D) पछतावा करेंगे कि आप उसके लिए कोई मदद नहीं कर सकते हैं।

8. In a question given below there is a statement followed by two assumptions numbered I and II. An assumption is something supposed or taken for granted. You have to consider the statement and assumptions and then decide which of the assumption(s) is/are implicit in the statement. You have to consider the statement to be true even if it seems to be at variance from the commonly known facts.

Statement : The school has decided to rusticate such students from the school who is creating violence and not following rules in the school.

Assumptions:

- I. By rusticating students from the school those students will never do such things again in the future.
II. This action leads to discipline in the school.

- (A) Only assumption I implicit.
(B) Only assumption II implicit.
(C) Either assumption I or II implicit.
(D) Neither assumption I nor II implicit.
नीचे दिए गए एक प्रश्न में एक कथन के बाद दो पूर्वधारणाएँ I और II दी गई हैं। एक धारणा कुछ मानी या ली गई है। आपको कथन और पूर्वधारणाओं पर विचार करना है और फिर निर्णय लेना है कि कौन सी पूर्वधारणा कथन में निहित है/हैं। आपको कथन को सत्य मानना है भले ही वह सर्वज्ञात तथ्यों से भिन्न प्रतीत होता हो।

कथन : स्कूल ने ऐसे छात्रों को स्कूल से निकालने का फैसला किया है जो हिंसा पैदा कर रहे हैं और स्कूल में नियमों का पालन नहीं कर रहे हैं।

पूर्वधारणाएँ :

- I. छात्रों को स्कूल से निकालने से छात्र भविष्य में फिर कभी ऐसा नहीं करेंगे।
II. इस कार्रवाई से स्कूल में अनुशासन बना रहता है।

- (A) केवल धारणा I अंतर्निहित है।
(B) केवल धारणा II अंतर्निहित है।
(C) या तो धारणा I या II अंतर्निहित है।
(D) न तो धारणा I और न ही II अंतर्निहित है।

9. If in a certain code language EQUATION is coded as ZFJVMLRG, then how is FORECAST coded in that same code language ?

यदि किसी निश्चित कूट भाषा में EQUATION को ZFJVMLRG के रूप में कूटबद्ध किया जाता है, तो उसी कूट भाषा में FORECAST को कैसे कूटबद्ध किया जाएगा ?

- (A) EROFTSAC (B) ULIVXZHG
(C) EFORSATA (D) VILUGHZX

10. Find the missing number in the given series following the same pattern.

दी गई श्रृंखला में समान पैटर्न का अनुसरण करते हुए लुप्त संख्या ज्ञात कीजिए।

29AI, 3CL8, FO47, 56JR, (?)

- (A) 5OU6 (B) 6NV5
(C) 5OV6 (D) 6OU5

11. Read both the statements and decide which of the following answer choice correctly depicts the relationship between these two statements :

Statements :

- I. The car manufacturing companies have recently increased the prices of mid-sized cars.
II. The Government recently increased the duty on mid-sized cars.

- (A) Statement I is the cause and statement II is its effect.

- (B) Statement II is the cause and statement I is its effect.

- (C) Both the statements I and II are independent causes.

- (D) Both the statements I and II are effects of independent causes.

दोनों कथनों को पढ़ें और तय करें कि निम्नलिखित में से कौन सा उत्तर विकल्प इन दोनों कथनों के बीच संबंध को सही ढंग से दर्शाता है :

कथन:

- I. कार निर्माण कंपनियों ने हाल ही में मध्यम आकार की कारों की कीमतों में वृद्धि की है।
II. सरकार ने हाल ही में मध्यम आकार की कारों पर शुल्क बढ़ाया है।

- (A) कथन I कारण है और कथन II इसका प्रभाव है।

- (B) कथन II कारण है और कथन I इसका प्रभाव है।

- (C) कथन I और II दोनों स्वतंत्र कारण हैं।

- (D) कथन I और II दोनों स्वतंत्र कारणों के प्रभाव हैं।

12. A company needs to decide whether to invest in a new technology platform or to continue using their existing platform. Which factor should the company consider most when making this decision?

(A) The potential benefits of the new platform.

(B) The compatibility of the new platform with existing systems.

(C) The cost of investing in the new platform.

(D) The potential impact on employee productivity.

एक कंपनी को यह तय करने की आवश्यकता है कि क्या एक नए प्रौद्योगिकी मंच में निवेश करना है या अपने मौजूदा मंच का उपयोग करना जारी रखना है। यह निर्णय लेते समय कंपनी को किस कारक पर सबसे अधिक विचार करना चाहिए?

(A) नए मंच के संभावित लाभ

(B) मौजूदा सिस्टम के साथ नए मंच की अनुकूलता

(C) नए मंच में निवेश की लागत

(D) कर्मचारी उत्पादकता पर संभावित प्रभाव

13. Six books - English, Hindi, Science, Computer, Maths, and Sanskrit each contains different number of pages. Computer book contains fewer pages than only two books. English book contains more pages than Science book but less than Sanskrit book. Science book does not contain least pages. Sanskrit book contains fewer pages than Hindi book. The book which contain third lowest pages contain 28 pages. How many book(s) contain more pages than Science book?

(A) Four (B) Two

(C) Three (D) None of these

छह पुस्तकें - अंग्रेजी, हिंदी, विज्ञान, कंप्यूटर, गणित और संस्कृत प्रत्येक में अलग-अलग पृष्ठों की संख्या है। कंप्यूटर की पुस्तक में केवल दो पुस्तकों की तुलना में कम पृष्ठ होते हैं। अंग्रेजी की पुस्तक में विज्ञान की पुस्तक से ज्यादा लेकिन संस्कृत की पुस्तक से कम पृष्ठ हैं। विज्ञान की पुस्तक में सबसे कम पृष्ठ नहीं हैं। संस्कृत की पुस्तक में हिंदी की पुस्तक की तुलना में कम पृष्ठ हैं। वह पुस्तक जिसमें तीसरे सबसे कम पृष्ठ हैं, उसमें 28 पृष्ठ हैं।

कितनी पुस्तकों में विज्ञान की पुस्तक से अधिक पृष्ठ हैं?

(A) चार

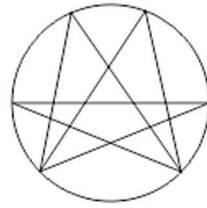
(B) दो

(C) तीन

(D) इनमें से कोई नहीं

14. In below shown figure, count the number of triangles:

नीचे दिखाए गए चित्र में, त्रिभुजों की संख्या गिनें:



(A) 26

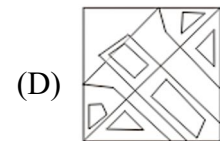
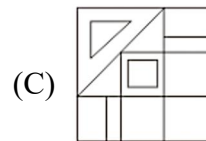
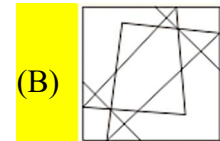
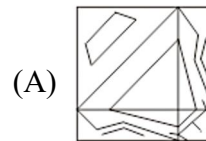
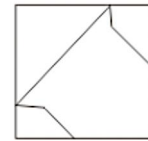
(B) 27

(C) 28

(D) 30

15. From the given answer figures select the one in which question figure is embedded.

दी गई उत्तर आकृतियों में से उसे चुनिए जिसमें प्रश्न आकृति सन्निहित है।



16. Choose the alternative which closely resembles the water image of the given combination.

उस विकल्प का चयन करें जो दिए गए संयोजन की जल छवि के समान है।

GR98AP76ES

(A) CR08AP10E2

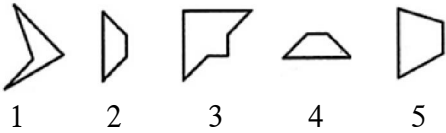
(B) CR68AP19E2

(C) CR08AP19E2

(D) CR08AP10E2

17. Select the alternative which represents three out of the five given below figures which when fitted into each other would form a complete square.

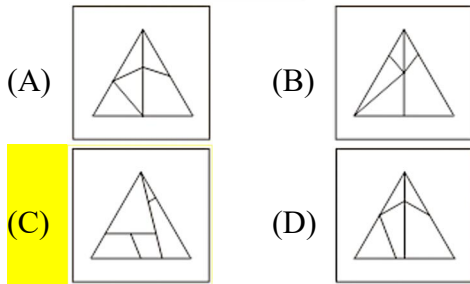
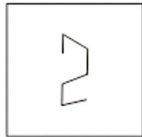
उस विकल्प का चयन करें जो नीचे दी गई पाँच आकृतियों में से तीन का प्रतिनिधित्व करता है जो एक-दूसरे में फिट होने पर एक पूर्ण चौकोर (वर्ग) बनाती हैं।



- (A) 345 (B) 134
(C) 125 (D) 234

18. From the given answer figures select the one in which question figure is embedded.

दी गई उत्तर आकृतियों में से उसे चुनिए जिसमें प्रश्न आकृति सन्निहित है।



19. Read the following information carefully to answer the question given below :

- (i) $M * N$ means M is father of N.
(ii) $M - N$ means M is sister of N.
(iii) $M + N$ means M is mother of N.
(iv) M / N means M is brother of N.

In the expression $Q + D * P / N$, how is P related to Q ?

- (A) Grandfather (B) Grandson
(C) Daughter (D) Son

नीचे दिए गए प्रश्न का उत्तर देने के लिए निम्नलिखित जानकारी को ध्यानपूर्वक पढ़ें :

- (i) $M * N$ का अर्थ है M, N का पिता है।
(ii) $M - N$ का अर्थ है M, N की बहन है।
(iii) $M + N$ का अर्थ है M, N की माता है।
(iv) M / N का अर्थ है M, N का भाई है।

व्यंजक $Q + D * P / N$ में, P, Q से किस प्रकार संबंधित है ?

- (A) दादा (B) पोता
(C) बेटी (D) बेटा

20. In a town of 400 people, 185 speak Tamil, 165 speak Punjabi, and 160 speak English. 40 speak both only English and Tamil. 20 speak both only Punjabi and Tamil. 10 speak both only English and Punjabi. How many people speak only one language ?

400 लोगों के एक नगर में, 185 तमिल बोलते हैं, 165 पंजाबी बोलते हैं, और 160 अंग्रेजी बोलते हैं। 40 केवल अंग्रेजी और तमिल दोनों बोलते हैं। 20 केवल पंजाबी और तमिल दोनों बोलते हैं। 10 केवल अंग्रेजी और पंजाबी दोनों बोलते हैं। कितने लोग केवल एक भाषा बोलते हैं ?

- (A) 310 (B) 201
(C) 210 (D) 301

21. Point B is 7 km to the west of Point A. Point C is 12 km to the south of Point E. Point A is 5 km to the east of Point C. Point D is 8 km to the north of Point C. Point G is 6 km to the west of Point D. Point H is 14 km to the south of Point G. If Shubham is standing 6 km to the east of Point H and takes 1 hour to complete 6 km distance, then in what possible time he would reach Point E, if taken the shortest route ?

- (A) 120 minutes (B) 180 minutes
(C) 115 minutes (D) 159 minutes

बिंदु B, बिंदु A के 7 किमी पश्चिम में है। बिंदु C, बिंदु E के 12 किमी दक्षिण में है। बिंदु A, बिंदु C के 5 किमी पूर्व में है। बिंदु D, बिंदु C के 8 किमी उत्तर में है। बिंदु G, बिंदु D के 6 किमी पश्चिम में है। बिंदु H, बिंदु G के 14 किमी दक्षिण में है। यदि शुभम बिंदु H के 6 किमी पूर्व में खड़ा है और 6 किमी की दूरी पूरी करने में 1 घंटा लेता है, तो वह कितने समय में बिंदु E पर पहुँचेगा, अगर उसके द्वारा सबसे छोटा रास्ता लिया जाए ?

- (A) 120 मिनट (B) 180 मिनट
(C) 115 मिनट (D) 159 मिनट

22. Find suitable answer in place of question mark.

प्रश्नवाचक चिह्न के स्थान पर उपयुक्त उत्तर ढूँढ़िए।
 $16 : 22 :: 36 : ?$

- (A) 43 (B) 26
(C) 53 (D) 46

(Q. No. 23 and 24): 8 persons from A to H sit around a square table such that 2 persons sit in the middle of each of the sides. The persons sitting on one side of the table face the persons sitting exactly opposite to them on the opposite side of table. A sits on the immediate right of E. G faces the one who is second to the left of B. 3 persons sit between A and G. Two persons sit between F and D (when counted from one side only), who is adjacent to E. Only one person sits between G and C (when counted from one side only). A is not adjacent to F.

(प्र.सं. 23 एवं 24) : A से H तक के 8 व्यक्ति एक वर्गाकार मेज के चारों ओर इस प्रकार बैठते हैं कि 2 व्यक्ति प्रत्येक भुजा के मध्य में बैठते हैं। मेज के एक ओर बैठे व्यक्तियों का मुख मेज के ठीक विपरीत ओर बैठे व्यक्तियों की ओर है। A, E के ठीक दायें बैठा है। G का मुख उस व्यक्ति की ओर है जो B के बायें दूसरे स्थान पर है। A और G के बीच 3 व्यक्ति बैठे हैं। F और D के बीच दो व्यक्ति बैठे हैं (केवल एक तरफ से गिने जाने पर), जो E के निकट है। G और C के मध्य केवल एक व्यक्ति बैठा है (केवल एक ओर से गिने जाने पर)। A, F के निकट नहीं है।

23. Who among the following sits second to the right of the one who faces E ?

- (A) C (B) D
(C) F (D) Either C or D

निम्नलिखित में से कौन E की ओर उन्मुख व्यक्ति के दायें दूसरे स्थान पर बैठा है ?

- (A) C (B) D
(C) F (D) या तो C या D

24. How many persons sit between E and F ?

- (A) 3 (B) 4
(C) 2 (D) None of these

E और F के मध्य कितने व्यक्ति बैठे हैं ?

- (A) 3 (B) 4
(C) 2 (D) इनमें से कोई नहीं

25. The school principal has received complaints from parents about bullying in the school yard during recess. He wants to investigate and end this situation as soon as possible, so he has asked the recess aides to watch closely. Which situation should the recess aides report to the principal ?

(A) A girl is sitting glumly on a bench reading a book and not interacting with her peers.

(B) Four girls are surrounding another girl and seem to have possession of her backpack.

(C) Two boys are playing a one-on-one game of basket ball and are arguing over the last basket scored.

(D) Three boys are huddled over a handheld video game, which isn't supposed to be on school grounds.

स्कूल के प्रधानाचार्य को मध्यावकाश के दौरान स्कूल के प्रांगण में धमकाने के बारे में माता-पिता से शिकायतें मिली हैं। वह जल्द से जल्द इस स्थिति की जाँच और इसे समाप्त करना चाहते हैं, इसलिए उसने मध्यावकाश सहायकों को बारीकी से देखने के लिए कहा है। मध्यावकाश सहायकों को किस स्थिति की सूचना प्रधानाचार्य को देनी चाहिए ?

(A) एक लड़की एक बेंच पर एक किताब पढ़ रही है और अपने साथियों के साथ बात-चीत नहीं कर रही है।

(B) चार लड़कियाँ एक और लड़की के आस-पास हैं और ऐसा लगता है कि उसके बैकपैक पर कब्जा कर लिया गया है।

(C) दो लड़के बास्केट बॉल का एक-एक खेल खेल रहे हैं और आखिरी बास्केट स्कोर पर बहस कर रहे हैं।

(D) तीन लड़के हाथ से चलने वाले वीडियो गेम के लिए आपस में उलझे हुए हैं, जो स्कूल के मैदान में नहीं होना चाहिए।

26. Mrs. Dixia took a taxi to meet her three friends for lunch. They were waiting for her outside the restaurant when she pulled up in the car. She was so excited to see her friends that she left her bag in the taxi. As the taxi pulled away, she and her friends took notice of the license plate number so they would be able to identify the car when they called the taxi company.

- 1: The four women seem to agree that the plate starts out with the letter J.
- 2: Three of them agree that the plate ends with 12L.
- 3: Three of them think that the second letter is X, and a different three think that the third letter is K.

The four license plate numbers below represent what each of the four women thinks she saw. Which one is most likely the license plate number of the taxi ?

श्रीमती दिक्षा ने लंच के लिए अपनी तीन सहेलियों से मिलने के लिए टैक्सी ली। वे रेस्टोरेंट के बाहर उसका इंतजार कर रही थीं जब वह कार में रुकी। वह अपनी सहेलियों से मिलने के लिए इतनी उत्साहित थी कि अपना बैग टैक्सी में ही छोड़ गई। जैसे ही टैक्सी चली गई, उसने और उसकी सहेलियों ने लाइसेंस प्लेट संख्या पर ध्यान दिया ताकि वे टैक्सी कंपनी को कॉल करने पर कार की पहचान कर सकें।

- 1: चारों महिलाएँ इस बात से सहमत प्रतीत होती हैं कि प्लेट की शुरुआत J अक्षर से होती है।
 - 2: उनमें से तीन सहमत हैं कि प्लेट 12L के साथ समाप्त होती है।
 - 3: उनमें से तीन सोचती हैं कि दूसरा अक्षर X है, और अन्य तीन सोचती हैं कि तीसरा अक्षर K है।
- नीचे दी गई चार लाइसेंस प्लेट संख्याएँ दर्शाती हैं कि चार महिलाओं में से प्रत्येक क्या सोचती है कि उसने क्या देखा। टैक्सी की लाइसेंस प्लेट संख्या कौन सी होने की संभावना सबसे अधिक है ?

- (A) JXK 12I (B) JYK 12L
(C) JXK 12L (D) JXX 12L

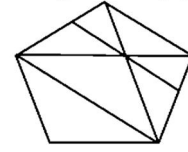
27. If in a certain code language DESERT is coded as EGVHTU, then how is BUDGET coded in that same code language ?

यदि किसी निश्चित कूट भाषा में DESERT को EGVHTU के रूप में कूटबद्ध किया जाता है, तो उसी कूट भाषा में BUDGET को कैसे कूटबद्ध किया जाएगा ?

- (A) CVGKGU (B) CWJGHU
(C) CWGJGU (D) CVJGUG

28. Count the number of quadrilaterals in the following figure :

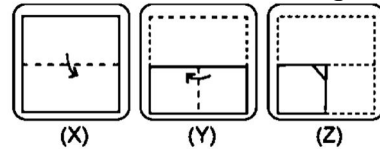
निम्नलिखित आकृति में चतुर्भुजों की संख्या गिनें :



- (A) 7 (B) 8
(C) 10 (D) 12

29. Following question consists of a set of three figures X, Y and Z showing a sequence of folding of a piece of paper. Figure Z shows the manner in which the folded paper has been cut. Choose a figure which most closely resembles the unfolded form of figure Z from the four answer figures given below.

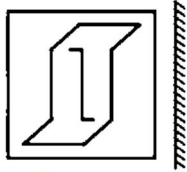
निम्नलिखित प्रश्न में तीन आकृतियों X, Y और Z का एक सेट है जो कागज के एक टुकड़े को मोड़ने का क्रम दर्शाता है। आकृति Z उस तरीके को दिखाता है जिसमें मुड़े हुए कागज को काटा गया है। नीचे दी गई चार उत्तर आकृतियों में से एक ऐसी आकृति चुनें जो आकृति Z के खुले हुए रूप से सबसे अधिक मिलती-जुलती हो।



Answer Figures :
उत्तर आकृतियाँ :

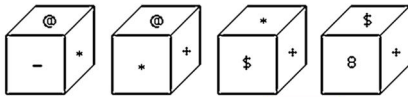
- (A) (B)
(C) (D)

30. If a mirror is placed on the line, then which of the answer figures is the correct image of the given figure ?
यदि रेखा पर एक दर्पण रखा जाए, तो दी गई उत्तर आकृतियों में से कौन सी आकृति दी गई आकृति का सही प्रतिबिंब है ?



- (A) (B)
(C) (D)

31. Which symbol will be on the face opposite to the face with symbol * ?
* चिह्न वाले फलक के विपरीत फलक पर कौन सा चिह्न होगा ?



- (A) @ (B) 8
(C) \$ (D) +

32. If mirror is placed on the line MN, then which of the answer figures is the correct image of the given figure ?
यदि दर्पण को रेखा MN पर रखा जाए, तो दी गई उत्तर आकृतियों में से कौन सी आकृति दी गई आकृति का सही प्रतिबिंब है ?



- (A) SHNAGAI (B) IADAIH2
(C) IAGANHS (D) IAGAIHS

33. Arrange the following words as per the order in dictionary :
निम्नलिखित शब्दों को शब्दकोश के क्रम के अनुसार क्रम में रखें :

1. Successor 2. Successive
3. Successful 4. Success
5. Succession
(A) 4,5,3,2,1 (B) 3,5,4,2,1
(C) 4,3,5,2,1 (D) 1,2,3,5,4

34. From the given alternative words, select the word which cannot be formed using the letters of the given word :
दिए गए वैकल्पिक शब्दों में से वह शब्द चुनिए जो दिए गए शब्द के अक्षरों का प्रयोग करके नहीं बनाया जा सकता है :

LEGALIZATION

- (A) ALERT (B) GALLANT
(C) ALEGATION (D) NATAL

35. A man is performing yoga with his head down and legs up. His face is towards west, in which direction his left hand be ?

- (A) North (B) East
(C) West (D) South

एक आदमी सिर नीचे और पैर ऊपर करके योग कर रहा है। उसका मुख पश्चिम की ओर है, उसका बायाँ हाथ किस दिशा में है ?

- (A) उत्तर (B) पूर्व
(C) पश्चिम (D) दक्षिण

36. Mark the answer as per the code provided below :

Assertion (A) : Clothes are not washed properly in hard water.

Reason (R) : Hard water contains many minerals.

(A) Both (A) and (R) are true and (R) is the correct explanation of (A).

(B) Both (A) and (R) are correct and (R) is not the correct explanation of (A).

(C) (A) is true but (R) is false.

(D) (A) is false but (R) is true.

नीचे दिये गये कूट के अनुसार उत्तर अंकित करें :

अधिकथन (A) : कठोर जल में कपड़े ठीक से नहीं धोए जाते।

कारण (R) : कठोर जल में अनेक खनिज होते हैं।

(A) (A) और (R) दोनों सत्य हैं तथा (R), (A) का सही स्पष्टीकरण है।

(B) (A) और (R) दोनों सही हैं तथा (R), (A) का सही स्पष्टीकरण नहीं है।

(C) (A) सही है, लेकिन (R) गलत है।

(D) (A) गलत है, लेकिन (R) सही है।

37. The average of numbers 0.64204, 0.64203, 0.64202, 0.64201 is _____.
संख्या 0.64204, 0.64203, 0.64202, 0.64201 का औसत _____ है।

- (A) 0.64202 (B) 0.642021
(C) 0.642022 (D) 0.642025

38. What day of the week was on February 14, 2012 ?

- (A) Sunday (B) Monday
(C) Tuesday (D) Wednesday

14 फरवरी, 2012 को सप्ताह का कौन सा दिन था ?

- (A) रविवार (B) सोमवार
(C) मंगलवार (D) बुधवार

39. If in a certain code language HOPEFUL is coded as KLSVIFO, then how is CAPTAIN coded in that same code language ?

यदि किसी निश्चित कूट भाषा में HOPEFUL को KLSVIFO के रूप में लिखा जाता है, तो उसी कूट भाषा में CAPTAIN को कैसे कूटबद्ध किया जाएगा ?

- (A) FZSGZRO (B) GEGSRDQ
(C) FZSGCLQ (D) FZSGDRQ

40. Find suitable answer in the place of question mark.

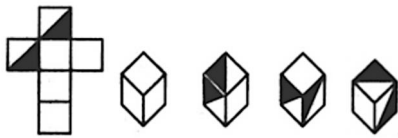
प्रश्नवाचक चिह्न के स्थान पर उपयुक्त उत्तर ढूँढ़िए ।

392 : 15 :: 521 : ?

- (A) 7 (B) 13
(C) 17 (D) 21

41. Choose the box that is formed from the given sheet of paper (X).

दी गई कागज़ की शीट (X) से बने बॉक्स को चुनें ।



(X) 1 2 3 4

- (A) 1 and 2 only (B) 2 and 3 only
(C) 3 and 4 only (D) 1 and 4 only
(A) केवल 1 और 2 (B) केवल 2 और 3
(C) केवल 3 और 4 (D) केवल 1 और 4

42. Initially clock showed 1:30 PM, what will the time be after 1,44,356 minutes ?

प्रारंभ में घड़ी में 1:30 PM बज रहे थे, 1,44,356 मिनट के बाद क्या समय होगा ?

- (A) 7:15 PM (B) 7:26 PM
(C) 7:30 PM (D) 8:00 PM

43. Kunjan, Lila, Mehul, Nikunj, Om, Priyank and Queen are sitting on a circular dining table for a dinner. Queen is not between Priyank and Mehul. Om is neighbour of Kunjan and Nikunj. Lila is second to the left of Queen. Priyank is to the immediate right of Kunjan. Who is sitting to the immediate right of Lila ?

- (A) Mehul (B) Priyank
(C) Kunjan (D) Queen

कुंजन, लीला, मेहुल, निकुंज, ओम, प्रियांक और क्वीन खाने के लिए एक गोलाकार डाइनिंग टेबल पर बैठे हैं। क्वीन, प्रियांक और मेहुल के बीच नहीं है। ओम, कुंजन और निकुंज का पड़ोसी है। लीला क्वीन के बायें दूसरे स्थान पर है। प्रियांक, कुंजन के ठीक दायें है। लीला के ठीक दायें कौन बैठा है ?

- (A) मेहुल (B) प्रियांक
(C) कुंजन (D) क्वीन

44. A certain number of students are standing in a straight line, and all of them are facing north. Arundhati is 19th from the right end of the line, and Arvind is at the 15th position from the left end of the line. Both, Arundhati and Arvind interchange their positions, after which Kirti who was 24th from the left end is now at the 5th position to the left of Arvind's new position. How many students are there in the line in total ?

- (A) 45
(B) 47

(C) 49

(D) cannot be determined.

छात्रों की एक निश्चित संख्या एक सीधी रेखा में खड़ी है, और उन सभी का मुख उत्तर की ओर है। अरुंधति पंक्ति के दायें छोर से 19वें स्थान पर है, और अरविंद पंक्ति के बायें छोर से 15वें स्थान पर है। अरुंधति और अरविंद दोनों ने अपने स्थान आपस में बदल लिए, जिसके बाद कीर्ति जो बाएँ छोर से 24वें स्थान पर थी अब अरविंद के नए स्थान की बायीं ओर 5वें स्थान पर है। पंक्ति में कुल कितने छात्र हैं ?

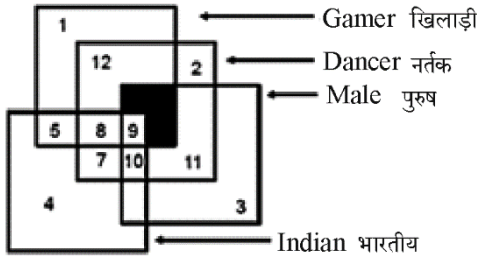
(A) 45

(B) 47

(C) 49

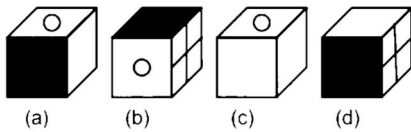
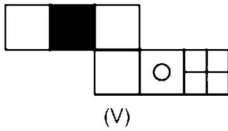
(D) निर्धारित नहीं किया जा सकता है।

45. Gamer Males who are Non-Dancer and Indian are represented by which number ?
खिलाड़ी पुरुष जो गैर-नर्तक (नर्तक नहीं हैं) और भारतीय हैं, किस संख्या द्वारा दर्शाए गए हैं ?



- (A) 5 (B) 7
(C) 10 (D) None/कोई नहीं

46. Choose the box that is similar to the box formed from the given sheet of paper (V).
उस बॉक्स को चुनें जो दिए गए कागज की शीट से बने बॉक्स (V) के समान है।



- (A) (a) and (b) only
केवल (a) और (b)
(B) (c) and (d) only
केवल (c) और (d)
(C) (b), (c) and (d) only
केवल (b), (c) और (d)
(D) (d) only
केवल (d)

47. At 3:30, the hour hand and the minute hand of a clock form an angle of _____.
3:30 बजे, घड़ी की घंटे की सूई और मिनट की सूई _____ का कोण बनाती है।

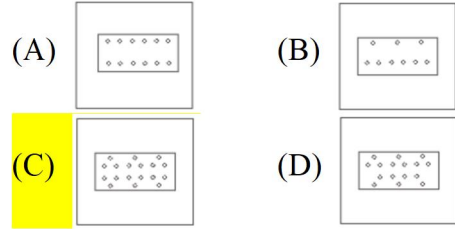
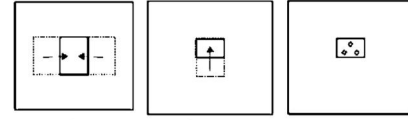
- (A) 60° (B) 75°
(C) 90° (D) 100°

48. Find the missing number in the given series following the same pattern.
दी गई श्रृंखला में समान पैटर्न का अनुसरण करते हुए लुप्त संख्या ज्ञात कीजिए।

- 15, 17, 23, 35, 55, 85, (?)
(A) 92 (B) 112
(C) 120 (D) 127

49. In the question, a piece of paper is folded and cut as shown below in the questions figures. From the given option figures, indicate how it will appear when opened.

प्रश्न में, कागज के एक टुकड़े को मोड़ा और काटा गया है, जैसा कि नीचे प्रश्न आकृतियों में दिखाया गया है। दिए गए विकल्प चित्रों से, बताइये कि खोले जाने पर यह कैसा दिखाई देगा।



50. In the following question, statements are given and these statements are followed by conclusions. You have to take the given statements to be true even if they seem to be at variance from commonly known facts. Read the conclusions and then decide which of the given conclusions logically follows the given statements, disregarding commonly known facts.

Statements : All the bottles are boxes. Some boxes are bags. Some bags are suitcases.

Conclusions :

- I. Some bags are bottles.
II. Some suitcases are boxes.
III. Some bottles are bags.
IV. Some bottles are suitcases.
(A) Only I (B) Only II
(C) Only III (D) None of these

निम्नलिखित प्रश्न में कथन दिए गए हैं और इन कथनों के बाद निष्कर्ष दिए गए हैं। आपको दिए गए कथनों को सत्य मानना है भले ही वे सर्वज्ञात तथ्यों से भिन्न प्रतीत होते हों। निष्कर्षों को पढ़ें और फिर निर्धारित करें कि दिए गए निष्कर्षों में से कौन सा सामान्य ज्ञात तथ्यों की उपेक्षा करते हुए, दिए गए कथनों का तार्किक रूप से अनुसरण करता है।

कथन : सभी बोतलें बॉक्स हैं।
कुछ बॉक्स थैले हैं। कुछ थैले सूटकेस हैं।

निष्कर्ष :

- I. कुछ थैले बोतलें हैं।
II. कुछ सूटकेस बॉक्स हैं।
III. कुछ बोतलें थैले हैं।
IV. कुछ बोतलें सूटकेस हैं।
(A) केवल I (B) केवल II
(C) केवल III (D) इनमें से कोई नहीं

Section-B / भाग-ब

Teacher Aptitude and Attitude / शिक्षक अभिक्षमता एवं अभिवृत्ति

51. Suppose a teacher asks students to submit a home assignment. Students prepare the assignment generally as written document and submit to the teacher. Teacher evaluates the assignments, writes his/her comments/suggestions in the assignments, and returns back to the students. How message is conveyed in this situation ?
 (A) Non - Verbal Communication
 (B) Verbal Communication
 (C) Intrapersonal Communication
 (D) Interpersonal Communication
- मान लीजिए कि एक शिक्षक छात्रों से गृह कार्य जमा करने के लिए कहता है। छात्र आमतौर पर लिखित दस्तावेज के रूप में असाइनमेंट तैयार करते हैं और शिक्षक को जमा कराते हैं। शिक्षक सत्रीय कार्य का मूल्यांकन करता है, सत्रीय कार्य में अपनी टिप्पणी/सुझाव लिखता है और छात्रों को वापस लौटाता है। इस स्थिति में संदेश कैसे दिया जाता है ?
 (A) गैर-मौखिक संचार (B) मौखिक संचार
 (C) पारस्परिक संचार (D) अंतर्वैयक्तिक संचार
52. Verbal communication involves conveying message through _____ communication.
 (A) personal appearance and oral
 (B) oral and written
 (C) written and facial expression
 (D) oral and eye contact
- मौखिक संचार में _____ संचार के माध्यम से संदेश देना शामिल है।
 (A) व्यक्तिगत उपस्थिति और मौखिक
 (B) मौखिक और लिखित
 (C) लिखित और चेहरे की अभिव्यक्ति
 (D) मौखिक और नेत्र संपर्क
53. _____ technique is used to understand nature and behaviour of students.
 (A) Personal appearance
 (B) Posture
 (C) Gesture
 (D) Eye contact
- _____ तकनीक का उपयोग छात्रों के स्वभाव और व्यवहार को समझने के लिए किया जाता है।
 (A) व्यक्तिगत उपस्थिति (B) मुद्रा
 (C) हाव-भाव (D) नेत्र संपर्क
54. During the process of communication, _____ barrier creates faulty expressions, poor translation, ambiguous words, and inappropriate vocabulary.
 (A) Physical (B) Socio-cultural
 (C) Linguistic (D) Psychological
- संचार की प्रक्रिया के दौरान, _____ बाधा दोषपूर्ण भाव, खराब अनुवाद, अस्पष्ट शब्द और अनुपयुक्त शब्दावली का निर्माण करती है।
 (A) शारीरिक (B) सामाजिक-सांस्कृतिक
 (C) भाषा-संबंधी (D) मनोवैज्ञानिक
55. 'Oxygen is represented by O₂.' Which type of knowledge is it ?
 (A) Procedural knowledge
 (B) Metacognitive knowledge
 (C) Conceptual knowledge
 (D) Factual knowledge
- 'आक्सीजन को O₂ द्वारा दर्शाया जाता है।' यह किस प्रकार का ज्ञान है ?
 (A) प्रक्रियात्मक ज्ञान
 (B) परासंज्ञानात्मक ज्ञान
 (C) संकल्पनात्मक ज्ञान
 (D) तथ्यात्मक ज्ञान
56. Which type of communication helps individuals and groups within an organization to communicate for achieving established organizational goals ?
 (A) Interpersonal Communication
 (B) Transpersonal Communication
 (C) Small group Communication
 (D) Organizational Communication
- किस प्रकार का संचार एक संगठन के भीतर व्यक्तियों और समूहों को स्थापित संगठनात्मक लक्ष्यों को प्राप्त करने के लिए संवाद करने में सहायता करता है ?
 (A) अंतर्वैयक्तिक संचार (B) परावैयक्तिक संचार
 (C) लघु समूह संचार (D) संगठनात्मक संचार
57. Which of the following sentence is incorrect in context to learning ?
 (A) Learning is Unitary.
 (B) Learning is individual and not social.
 (C) Learning modifies the behaviour of the individual.
 (D) Learning helps to make choices in life.
- सीखने के संदर्भ में निम्नलिखित में से कौन सा वाक्य गलत है ?
 (A) सीखना एकात्मक है।
 (B) सीखना व्यक्तिगत है, सामाजिक नहीं।
 (C) सीखना व्यक्ति के व्यवहार को संशोधित करता है।
 (D) सीखना जीवन में चुनाव करने में मदद करता है।



58. Which of the following sentence is correct for 'Teaching' ?

- (A) Carrying out activities for completion of syllabus.
 (B) Concerned with only growth of an individual.
 (C) Form of intrapersonal influence aimed at changing the behaviour.
 (D) Simulation, Guidance, Direction and Encouragement of Learning.

निम्नलिखित में से कौन सा वाक्य 'अध्यापन' के लिए सही है ?

- (A) पाठ्यक्रम पूरा करने के लिए गतिविधियों का संचालन करना ।
 (B) केवल एक व्यक्ति के विकास से संबंधित है ।
 (C) व्यवहार को बदलने के उद्देश्य से पारस्परिक प्रभाव का रूप
 (D) सीखने का अनुकरण, मार्गदर्शन, दिशा और प्रोत्साहन

59. In psychology, awareness is a concept about _____

- (A) the state of knowing, perceiving and being cognizant of events
 (B) the state of knowing something
 (C) State of being aware
 (D) None of these

मनोविज्ञान में जागरूकता _____ के बारे में एक अवधारणा है ।

- (A) घटनाओं को जानने, समझने और जानने की स्थिति
 (B) कुछ जानने की स्थिति
 (C) जागरूक होने की स्थिति
 (D) इनमें से कोई नहीं

60. Teaching is not effective when _____

- (A) students are actively involved
 (B) it is well planned
 (C) various situations are adapted with different techniques
 (D) communication is not effectively reciprocating

शिक्षण प्रभावी नहीं है जब _____

- (A) छात्र सक्रिय रूप से शामिल हैं ।
 (B) यह सुनियोजित है ।
 (C) विभिन्न परिस्थितियों को विभिन्न तकनीकों के साथ अनुकूलित किया जाता है ।
 (D) संचार प्रभावी रूप से पारस्परिक नहीं है ।

61. _____ is the major source of unhealthy relationships.

- (A) Anxiety
 (B) Depression
 (C) Institutional chaos
 (D) Institutional stress

अस्वास्थ्यकर संबंधों का प्रमुख स्रोत है ।

- (A) घबराहट
 (B) निराशा
 (C) संस्थागत अराजकता
 (D) संस्थागत तनाव

62. The nature and quality of interpersonal relationships greatly influence the _____ and _____ of an institution.

- (A) environment, working
 (B) environment, development
 (C) environment, ethos
 (D) environment, life

पारस्परिक संबंधों की प्रकृति और गुणवत्ता संस्था के _____ और _____ को बहुत प्रभावित करती है ।

- (A) वातावरण, कार्य
 (B) वातावरण, विकास
 (C) वातावरण, लोकाचार
 (D) वातावरण, जीवन

63. Which hierarchy follows top- bottom approach in an educational institution for decision making ?

- (A) Director, Principal, Management and Teacher
 (B) Principal, Teacher, Director and Management
 (C) Management, Director, Principal and Teacher
 (D) Teacher, Principal, Director, Management

किसी शिक्षण संस्थान में निर्णय लेने के लिए कौन सा पदानुक्रम शीर्ष- तल दृष्टिकोण का अनुसरण करता है ?

- (A) निदेशक, प्रधानाध्यापक, प्रबंधन और अध्यापक
 (B) प्रधानाध्यापक, अध्यापक, निदेशक और प्रबंधन
 (C) प्रबंधन, निदेशक, प्रधानाध्यापक और अध्यापक
 (D) अध्यापक, प्रधानाध्यापक, निदेशक, प्रबंधन

64. Which are the two significant and crucial factors for an Interpersonal Relations ?
 (A) honesty and trust
 (B) trust and respect
 (C) honesty and judgement
 (D) trust and respect & honesty and judgement both
 अंतर्व्यक्तिक संबंधों के लिए दो महत्वपूर्ण और निर्णायक कारक कौन से हैं ?
 (A) ईमानदारी और विश्वास
 (B) विश्वास और सम्मान
 (C) ईमानदारी और निर्णय
 (D) विश्वास और सम्मान तथा ईमानदारी और निर्णय दोनों
65. _____ of the institution is a bridge to maintain appropriate professional relationships between staff members and management.
 (A) Head (B) Supervisor
 (C) Director (D) Co-ordinator
 संस्थान का _____ कर्मचारी सदस्यों और प्रबंधन के बीच उचित व्यावसायिक संबंध बनाए रखने के लिए एक सेतु है।
 (A) प्रमुख (B) पर्यवेक्षक
 (C) निदेशक (D) समन्वयक
66. 'The SDG-4 education 2023 framework on education emphasizes the inclusion of modalities for the foundation of quality education.'
 What is meant by SDG-4 ?
 (A) Social Development Goal
 (B) Sustainable Development Goal
 (C) Standard Development Goal
 (D) System Development Goal
 'शिक्षा पर SDG-4 शिक्षा 2023 का ढाँचा गुणवत्तापूर्ण शिक्षा की नींव के लिए तौर-तरीकों को शामिल करने पर जोर देता है।'
 SDG-4 का क्या अर्थ है ?
 (A) सोशल डेवलपमेंट गोल
 (B) सस्टेनेबल डेवलपमेंट गोल
 (C) स्टैंडर्ड डेवलपमेंट गोल
 (D) सिस्टम डेवलपमेंट गोल
67. "It is the responsibility of the _____ to keep relationships with students focussed on Pedagogical goals and academic requirements"
 (A) institute (B) head
 (C) students (D) teacher
 "शैक्षणिक लक्ष्यों और शैक्षणिक आवश्यकताओं पर केंद्रित छात्रों के साथ संबंधों को बनाए रखना की जिम्मेदारी है।"
 (A) संस्थान (B) प्रमुख
 (C) छात्र (D) अध्यापक
68. Which of the following are the signs of fostering healthy interpersonal relationships ?
 (A) mutual respect and shared responsibility
 (B) mutual commitment to goals
 (C) no willingness to negotiate and engage in dialogue
 (D) mutual respect and shared responsibility & mutual commitment to goals both
 निम्नलिखित में से कौन से स्वस्थ अंतर्व्यक्तिक संबंधों को बढ़ावा देने के संकेत हैं ?
 (A) परस्पर सम्मान और साझा जिम्मेदारी
 (B) लक्ष्यों के लिए पारस्परिक प्रतिबद्धता
 (C) बातचीत करने और बातचीत में शामिल होने की कोई इच्छा नहीं है।
 (D) परस्पर सम्मान और साझा जिम्मेदारी तथा लक्ष्यों के लिए पारस्परिक प्रतिबद्धता दोनों
69. The teacher is responsible for maintaining (or acquiring) _____ not only in areas of personal interest but in all areas relevant to course goals or objectives.
 (A) relations with others
 (B) pedagogical knowledge
 (C) well defined standards
 (D) subject competence
 शिक्षक न केवल व्यक्तिगत रुचि के क्षेत्रों में बल्कि पाठ्यक्रम के लक्ष्यों या उद्देश्यों के लिए प्रासंगिक सभी क्षेत्रों में _____ को बनाए रखने (या प्राप्त करने) के लिए जिम्मेदार है।
 (A) दूसरों के साथ संबंध
 (B) शैक्षणिक ज्ञान
 (C) अच्छी तरह से परिभाषित मानकों
 (D) विषय योग्यता
70. 'A _____ is based upon specialized study and training; it provides skilled service and Guidance for a definite purpose to a limited section of the population for a limited period of time and can be practised independently or within an institution.
 (A) Profession (B) Job
 (C) Training (D) Work
 _____ विशेष अध्ययन और प्रशिक्षण पर आधारित है; यह सीमित अवधि के लिए आबादी के एक सीमित वर्ग के लिए एक निश्चित उद्देश्य के लिए कुशल सेवा और मार्गदर्शन प्रदान करता है और इसे स्वतंत्र रूप से या किसी संस्था के भीतर अभ्यास किया जा सकता है।
 (A) पेशा (B) नौकरी
 (C) प्रशिक्षण (D) कार्य

71. Which of these is not a characteristic of a profession ?

- (A) A profession renders an essential social service.
(B) A profession demands continuous in-service training of its members.
(C) A profession involves a code of ethics.
(D) A profession does not demand possession of a body of specialized knowledge and extended practical training.

इनमें से कौन सी व्यवसाय की विशेषता नहीं है ?

- (A) व्यवसाय आवश्यक सामाजिक सेवा प्रदान करता है।
(B) व्यवसाय अपने सदस्यों के निरंतर सेवाकालीन प्रशिक्षण की मांग करता है।
(C) व्यवसाय में आचार संहिता शामिल है।
(D) व्यवसाय विशेष ज्ञान और विस्तारित व्यावहारिक प्रशिक्षण के ढाँचे के आधिपत्य की मांग नहीं करता है।

72. Which of the following is not characteristic of a teaching profession ?

- (A) Involvement of intellectual operation
(B) Transforming raw material into a practical and definite end
(C) Possessing educationally communicable technique
(D) Lack of self-organization

निम्नलिखित में से कौन सी शिक्षण व्यवसाय की विशेषता नहीं है ?

- (A) बौद्धिक संचालन में शामिल होना।
(B) कच्चे माल को एक व्यावहारिक और निश्चित अंत में बदलना।
(C) शैक्षिक रूप से संचारी तकनीक रखना।
(D) आत्म-संगठन की कमी।

73. "Professional development of teachers is not an event, rather it is a process." This process is _____ in nature.

- (A) static (B) continuous
(C) rapid (D) slow

"शिक्षकों का व्यावसायिक विकास कोई घटना नहीं है, बल्कि यह एक प्रक्रिया है।" यह प्रक्रिया प्रकृति में _____ है।

- (A) स्थिर (B) निरंतर
(C) तेज़ (D) धीमी

74. In an Educational institution, commitment to the well-being and development of all pupils is essentially demonstrated by a _____.

- (A) Teacher (B) Principal
(C) Management (D) Director

एक शैक्षिक संस्थान में सभी विद्यार्थियों के कल्याण और विकास के प्रति प्रतिबद्धता अनिवार्य रूप से एक _____ द्वारा प्रदर्शित की जाती है।

- (A) अध्यापक (B) प्रधानाध्यापक
(C) प्रबंधन (D) निदेशक

75. Which statements from the below does not show commitment of teacher towards pupils and pupil learning ?

- (A) Teachers treat all pupils inequitably and with disrespect.
(B) Teachers treat all pupils equitably and with respect.
(C) Teachers treat all pupils with respect.
(D) Teachers treat all pupils equitably.

नीचे दिए गए कथनों में से कौन सा कथन विद्यार्थियों और विद्यार्थियों के अधिगम के प्रति शिक्षक की प्रतिबद्धता को प्रदर्शित नहीं करता है ?

- (A) अध्यापक सभी विद्यार्थियों के साथ असमान रूप से और अनादर के साथ व्यवहार करते हैं।
(B) अध्यापक सभी विद्यार्थियों के साथ समान रूप से और सम्मान के साथ व्यवहार करते हैं।
(C) अध्यापक सभी विद्यार्थियों के साथ सम्मान के साथ व्यवहार करते हैं।
(D) अध्यापक सभी विद्यार्थियों के साथ समान व्यवहार करते हैं।

76. Teacher's commitment to Students' well-being and learning is not through _____.

- (A) positive influence
(B) professional judgement
(C) empathy in practice
(D) maintaining strictness

छात्रों के कल्याण और सीखने के प्रति शिक्षक की प्रतिबद्धता _____ के माध्यम से नहीं है।

- (A) सकारात्मक प्रभाव
(B) पेशेवर निर्णय
(C) अभ्यास में समानुभूति
(D) सख्ती बनाए रखना

77. What is STEM curriculum ?

- (A) Science Technology Education & Mathematics
(B) Science Teaching Evaluation & Mathematics
(C) Science Technology Engineering & Mathematics
(D) Sociology Technology Education & Mathematics

एसटीईएम (STEM) पाठ्यक्रम क्या है ?

- (A) साइंस टेक्नोलॉजी एज्युकेशन एंड मैथेमेटिक्स
(B) साइंस टीचिंग इवेल्यूएशन एंड मैथेमेटिक्स
(C) साइंस टेक्नोलॉजी इंजीनियरिंग एंड मैथेमेटिक्स
(D) सोशियोलॉजी टेक्नोलॉजी एज्युकेशन एंड मैथेमेटिक्स

78. _____ variations are important consideration with reference to dependence-independence.

- (A) Attitude (B) Aptitude
(C) Age (D) Interest

निर्भरता-स्वतंत्रता के संदर्भ में _____ विविधताएँ महत्वपूर्ण विचार हैं।

- (A) मनोवृत्ति (B) योग्यता
(C) आयु (D) दिलचस्पी

79. How does a student get socially mature ?

(A) A student can become socially matured when he is exposed to a few people with whom he/she is comfortable and can develop his thoughts accordingly.

(B) A student can become socially matured when he is exposed to those people who are socially mature so that he can pattern his behaviour accordingly.

(C) A student can become socially matured when he is exposed to self and develop an understanding of society on his own.

(D) None of these

एक छात्र सामाजिक रूप से परिपक्व कैसे होता है ?

(A) एक छात्र सामाजिक रूप से परिपक्व तब हो सकता है जब वह कुछ ऐसे लोगों के संपर्क में आता है जिनके साथ वह सहज होता है और तदनुसार अपने विचारों को विकसित कर सकता है।

(B) एक छात्र सामाजिक रूप से परिपक्व तब हो सकता है जब वह उन लोगों के संपर्क में आता है जो सामाजिक रूप से परिपक्व हैं ताकि वह उसके अनुसार अपने व्यवहार को उसी के अनुरूप बना सके।

(C) एक छात्र सामाजिक रूप से परिपक्व तब हो सकता है जब वह स्वयं के संपर्क में आता है और अपने दम पर समाज की समझ विकसित करता है।

(D) इनमें से कोई नहीं

80. During the process of _____ students learn to live up to the expectations of the society in which they live.

- (A) Social Adjustment
(B) Social Maturity
(C) Social Growth
(D) Social Justice

_____ की प्रक्रिया के दौरान छात्र उस समाज की अपेक्षाओं पर खरा उतरना सीखते हैं जिसमें वे रहते हैं।

- (A) सामाजिक समायोजन
(B) सामाजिक परिपक्वता
(C) सामाजिक विकास
(D) सामाजिक न्याय

81. _____ helps student to know what is desirable and expected from him.

- (A) Providing motivation
(B) Providing a strict & targeted atmosphere
(C) Allowing students to do as per their wish (Flexible atmosphere)
(D) Providing appropriate role models

_____ छात्र को यह जानने में मदद करता है कि उससे क्या वांछनीय और अपेक्षित है।

- (A) प्रेरणा प्रदान करना
(B) सख्त और लक्षित वातावरण प्रदान करना
(C) छात्रों को उनकी इच्छा के अनुसार करने की अनुमति देना। (सुविधाजनक वातावरण)
(D) उपयुक्त प्रेरणास्रोत प्रदान करना।

82. Who introduced 'Play way' method ?

- (A) Caldwell Cook (B) Froebel
(C) Montessori (D) Blooms

किसने 'प्ले वे' ('Play way') पद्धति की शुरुआत की ?

- (A) काल्डवेल कुक (B) फ्रोबेल
(C) मोंटेसरी (D) ब्लूम

83. Which factor influences that students studying in a secondary school understand that society does not expect him to regress to childhood behaviour at this age ?

- (A) Concept of dependence-independence
(B) Self-control
(C) Stress
(D) Social maturity

कौन सा कारक प्रभावित करता है कि एक माध्यमिक विद्यालय में पढ़ने वाला छात्र यह समझे कि समाज उनसे इस उम्र में बचपन के व्यवहार की ओर लौटने की उम्मीद नहीं करता है ?

- (A) निर्भरता-स्वतंत्रता की अवधारणा
(B) आत्म-नियंत्रण
(C) तनाव
(D) सामाजिक परिपक्वता



84. Match the following :

List - I
(Parameters)

List - II
(Description)

- | | |
|-------------------------------|--|
| a. Flexibility | 1. Ability to set clear expectations and parameters for performance |
| b. Holding people accountable | 2. Ability and willingness to adapt to the needs of situations and change tactics |
| c. Managing Pupils | 3. Ability to support pupils and to help them become confident independent learner |
| d. Passion for Learning | 4. ability to provide clear direction and to enthuse and motivate them |

निम्नलिखित को सुमेलित कीजिए :

सूची - I
(मापदंड)

सूची - II
(विवरण)

- | | |
|-----------------------------|--|
| a. नम्यता | 1. प्रदर्शन के लिए स्पष्ट अपेक्षाएँ और मापदंडों को सेट करने की क्षमता |
| b. लोगों को जवाबदेह ठहराना | 2. परिस्थितियों की जरूरतों के अनुकूल होने और रणनीति बदलने की क्षमता और इच्छा |
| c. विद्यार्थियों का प्रबंधन | 3. विद्यार्थियों की सहायता करने और उन्हें आत्मविश्वासी स्वतंत्र शिक्षार्थी बनने में मदद करने की क्षमता |
| d. सीखने का जुनून | 4. स्पष्ट दिशा प्रदान करने और उन्हें उत्साहित करने और प्रेरित करने की क्षमता |

(A) a - 2, b - 1, c - 4, d - 3

(B) b - 1, c - 3, d - 2, a - 4

(C) c - 3, d - 4, a - 1, b - 2

(D) d - 4, a - 2, b - 3, c - 1

85. Which of the following defines the concept of leadership ?

- (A) influence, crucial, expectations
(B) influence, expectations, relationships
(C) influence, relationships, voluntary effort
(D) influence, voluntary effort, goal achievement

निम्नलिखित में से क्या नेतृत्व की अवधारणा को परिभाषित करता है ?

- (A) प्रभाव, निर्णायक, उम्मीदें
(B) प्रभाव, उम्मीदें, संबंध
(C) प्रभाव, संबंध, स्वैच्छिक प्रयास
(D) प्रभाव, स्वैच्छिक प्रयास, लक्ष्य उपलब्धि

86. In leadership, _____ transforms potential into reality.

(A) analyst (B) catalyst

(C) educationalist (D) facilitator

नेतृत्व में, _____ क्षमता को वास्तविकता में बदल देता है।

(A) विश्लेषक (B) उत्प्रेरक

(C) शिक्षाशास्त्री (D) सुविधाप्रदाता

87. Match the following :

List - I
(Leadership Myth)

List - II
(Description)

- | | |
|--|---------------------|
| a. Everyone can be a leader. | i. Rarely |
| b. Leaders can deliver results. | ii. Not necessarily |
| c. People who get to the top becomes leader. | iii. Not always |
| d. Leaders are great coaches. | iv. Not True |

निम्नलिखित को सुमेलित कीजिए :

सूची - I
(नेतृत्व मिथक)

सूची - II
(विवरण)

- | | |
|--|------------------------|
| a. हर कोई नेता बन सकता है। | i. शायद ही कभी |
| b. नेता परिणाम दे सकते हैं। | ii. आवश्यक रूप से नहीं |
| c. शिखर पर पहुँचने वाले नेता बनते हैं। | iii. हमेशा नहीं |
| d. नेता महान प्रशिक्षक होते हैं। | iv. सही नहीं है। |

(A) d - i, a - ii, b - iv, c - iii

(B) b - i, c - iii, d - iv, a - ii

(C) a - iv, b - iii, c - ii, d - i

(D) c - i, d - ii, a - iii, d - iv

88. Use of ICT for quality education was highlighted by

(A) NCF-2005 (B) NCF-2009

(C) NEP-1968 (D) NEP-2020

गुणवत्तापूर्ण शिक्षा के लिए आईसीटी (ICT) के उपयोग पर _____ द्वारा प्रकाश डाला गया था।

(A) एनसीएफ (NCF) -2005

(B) एनसीएफ (NCF) -2009

(C) एनईपी (NEP)-1968

(D) एनईपी (NEP)-2020

89. Below given are the strong basis for leadership development. Match List - I with List II :

List-I

List-II

- | | |
|------------------------|---|
| a. Responsible Leaders | i. Possess a long term plan for their school as well as career and personal life. |
| b. Focus | ii. Take psychological ownerships for their actions. |
| c. Ideation | iii. Needs recognition that goes with success. |
| d. Credibility | iv. constantly feeding their minds with new ideas. |

नीचे दिए गए नेतृत्व विकास के लिए मजबूत आधार हैं। सूची-I को सूची II से सुमेलित कीजिए :

सूची-I

सूची-II

- | | |
|-------------------|---|
| a. जिम्मेदार नेता | i. उनके स्कूल के साथ-साथ आजीविका और व्यक्तिगत जीवन के लिए एक दीर्घकालिक योजना रखें। |
| b. केंद्रित करना | ii. उनके कार्यों के लिए मनोवैज्ञानिक स्वामित्व लें। |
| c. उद्भावना | iii. पहचान की जरूरत होती है जो सफलता के साथ जाती है। |
| d. विश्वसनीयता | iv. लगातार उनके दिमाग को नए विचारों से भरते रहें। |

- (A) a - ii, b - i, c - iv, d - iii
 (B) b - ii, c - i, d - iv, a - iii
 (C) c - ii, d - i, a - iv, b - iii
 (D) d - ii, a - i, b - iv, c - iii

90. Which of the following are the characteristics of leadership in an educational system ?

- lead by example and inspiration.
- guide personal programs, but rely on his decision.
- produce cohesiveness without which co-operation is impossible.
- don't resolve differences which arise in growing organisation because priority is the growth of the organization.
- contribute to the group by advancing useful suggestions.

निम्नलिखित में से कौन सी शैक्षिक प्रणाली में नेतृत्व की विशेषताएँ हैं ?

- उदाहरण और प्रेरणा से नेतृत्व करें।
- व्यक्तिगत कार्यक्रमों का मार्गदर्शन करें, लेकिन उनके फैसले पर भरोसा करें।
- सामंजस्य उत्पन्न करें जिसके बिना सहयोग असंभव है।
- बढ़ते हुए संगठन में उत्पन्न होने वाले मतभेदों को हल न करें क्योंकि प्राथमिकता संगठन की वृद्धि है।
- उपयोगी सुझावों को आगे बढ़ाकर समूह में योगदान दें।

- (A) i, iii, iv
 (B) ii, iii, v
 (C) i, iii, v
 (D) ii, iii, iv

91. The communication of leader's vision, making his/her dreams apparent to others and aligning people with them is

- (A) Management of Attention
 (B) Management of Meaning
 (C) Management of Trust
 (D) Management of Self

नेता की दूरदर्शिता का संचार, अपने सपनों को दूसरों के सामने प्रकट करना और लोगों को उनके साथ जोड़ना _____ है।

- (A) ध्यान का प्रबंधन (B) अर्थ का प्रबंधन
 (C) विश्वास का प्रबंधन (D) स्वयं का प्रबंधन

92. Which are the most essential factors in leadership ?

- (A) follower, leader and situation
 (B) follower, situation and communication
 (C) leader, situation and communication
 (D) leader, follower, situation and communication

नेतृत्व में सबसे आवश्यक कारक कौन से हैं ?

- (A) अनुयायी, नेता और स्थिति
 (B) अनुयायी, स्थिति और संचार
 (C) नेता, स्थिति और संचार
 (D) नेता, अनुयायी, स्थिति और संचार

93. Evaluation that monitors the learning progress during teaching is

- (A) Summative Evaluation
 (B) Placement Evaluation
 (C) Formative Evaluation
 (D) Diagnosis Evaluation

शिक्षण के दौरान सीखने की प्रगति की निगरानी करने वाला मूल्यांकन _____ है।

- (A) योगात्मक मूल्यांकन
 (B) प्लेसमेंट मूल्यांकन
 (C) अविरत (formative) मूल्यांकन
 (D) नैदानिक मूल्यांकन

94. According to Kohlberg a teacher can instill moral values in students by:

- (A) Laying clean rules of behaviour
 (B) Giving strict punishment
 (C) Discussing moral issues with them
 (D) Giving importance to religious teaching

कोलबर्ग के अनुसार, एक शिक्षक विद्यार्थियों में नैतिक मूल्यों की स्थापना _____ द्वारा कर सकता है।

- (A) व्यवहार के स्वच्छ नियम बनाना।
 (B) कड़ी सजा देना।
 (C) उनके साथ नैतिक मुद्दों पर चर्चा करना।
 (D) धार्मिक शिक्षण को महत्व देना।



95. The word communication is derived from latin word 'communis' means _____.

- (A) To make common
(B) To share
(C) To exchange
(D) To know

संचार शब्द लैटिन शब्द 'कम्युनिस' (communis) से लिया गया है जिसका अर्थ है _____।

- (A) सामान्य बनाने के लिए
(B) साझा करने के लिए
(C) विनिमय करने के लिए
(D) ज्ञात करने के लिए

96. How students can decode the message sent by an audio programme ?

- (A) Through visualization
(B) Through demonstration
(C) Through understanding
(D) Through interpretation

छात्र एक ऑडियो प्रोग्राम द्वारा भेजे गए संदेश का कूटानुवाद कैसे कर सकते हैं ?

- (A) दृश्यावलोकन के माध्यम से
(B) प्रदर्शन के माध्यम से
(C) समझ के माध्यम से
(D) व्याख्या के माध्यम से

97. Given below are the components of communication process. Select the appropriate sequence.

- (A) sender, receiver, feedback, noise
(B) sender, receiver, medium, noise, feedback
(C) sender, message, medium, receiver
(D) sender, message, medium, receiver, feedback, noise

संचार प्रक्रिया के घटक नीचे दिए गए हैं। उपयुक्त क्रम का चयन करें।

- (A) प्रेषक, प्राप्तकर्ता, प्रतिपुष्टि, शोर
(B) प्रेषक, प्राप्तकर्ता, माध्यम, शोर, प्रतिपुष्टि
(C) प्रेषक, संदेश, माध्यम, प्राप्तकर्ता
(D) प्रेषक, संदेश, माध्यम, प्राप्तकर्ता, प्रतिपुष्टि, शोर

98. Communication starts with the conceptualization and _____ by the sender.

- (A) development of an idea
(B) development of message
(C) transmission of message
(D) receiving of message

संचार प्रेषक द्वारा संकल्पन और _____ से शुरू होता है।

- (A) विचार के विकास (B) संदेश के विकास
(C) संदेश के संचरण (D) संदेश प्राप्त करना

99. _____ communication carefully plans the message and delivers it effectively so as to invoke self-communication among students.

- (A) Intrapersonal (B) Verbal
(C) Non-verbal (D) Interpersonal

_____ संचार सावधानी से संदेश की योजना बनाता है और इसे प्रभावी ढंग से पहुँचाता है ताकि छात्रों के बीच आत्म-संचार का आह्वान किया जा सके।

- (A) पारस्परिक (B) मौखिक
(C) गैर-मौखिक (D) अंतर्वैयक्तिक

100. Suppose you plan to teach a content (concept) using an audio programme. Then, you have to write the script required for the audio programme. So, the content to be transacted in the classroom is _____ into script.

- (A) Encoded
(B) Decoded
(C) Both Encoded and Decoded
(D) none of these

मान लीजिए कि आप एक ऑडियो कार्यक्रम का उपयोग करके एक विषयवस्तु (अवधारणा) को पढ़ाने की योजना बना रहे हैं। फिर, आपको ऑडियो प्रोग्राम के लिए आवश्यक लिपि लिखनी होगी। इसलिए, कक्षा में दी जाने वाली सामग्री _____ लिपि में है।

- (A) एन्कोडेड
(B) डीकोडेड
(C) दोनों एन्कोडेड और डीकोडेड
(D) इनमें से कोई नहीं

Section-C / भाग-स
General Awareness / सामान्य जागरूकता

101. Which of the following presents the most significant feature of the Indus Valley civilization?
(A) Burnt brick buildings
(B) First true arches
(C) Buildings of worship
(D) Art and architecture
निम्नलिखित में से कौन सा सिंधु घाटी सभ्यता की सबसे महत्वपूर्ण विशेषता प्रस्तुत करता है?
(A) जली हुई ईंट की इमारतें
(B) पहले वास्तविक मेहराब
(C) पूजा की इमारतें
(D) कला और वास्तुकला
102. The Brahmanas are books that deal with
(A) the Bhakti theory (B) ritualism
(C) yoga (D) meditation
ब्राह्मण ग्रन्थ वे पुस्तकें हैं जिनका संबंध है
(A) भक्ति सिद्धांत से (B) कर्मकांड से
(C) योग से (D) ध्यान से
103. The paintings of Ajanta depict stories of the
(A) Ramayana (B) Mahabharata
(C) Jatakas (D) Panchatantra
अजंता के चित्र किसकी कहानियों को चित्रित करते हैं ?
(A) रामायण (B) महाभारत
(C) जातक (D) पंचतंत्र
104. Freedom fighter Shri Surajmal Basaniya belonged to _____.
(A) Bikaner (B) Banswara
(C) Jaisalmer (D) Jodhpur
स्वतंत्रता सेनानी श्री सूरजमल बसानिया _____ के थे।
(A) बीकानेर (B) बांसवाड़ा
(C) जैसलमेर (D) जोधपुर
105. The Ashoka pillar at Allahabad provides information about the reign of
(A) Chandragupta Maurya
(B) Chandragupta I
(C) Samudragupta
(D) Chandragupta II
इलाहाबाद का अशोक स्तंभ किसके शासनकाल के बारे में जानकारी प्रदान करता है ?
(A) चंद्रगुप्त मौर्य (B) चंद्रगुप्त प्रथम
(C) समुद्रगुप्त (D) चंद्रगुप्त द्वितीय
106. The mighty gateways found at the temples of South India are called
(A) Shikhars (B) Gopurams
(C) Minaras (D) None of these
दक्षिण भारत के मंदिरों में पाए जाने वाले शक्तिशाली प्रवेशद्वार कहलाते हैं
(A) शिखर (B) गोपुरम
(C) मीनार (D) इनमें से कोई नहीं
107. Which of the following ruler known as “Abhinav Bhartacharya” ?
(A) Rana Pratap
(B) Rana Kumbha
(C) Hem Chandra Vikramaditya
(D) Maharaja Suraj Mal
निम्नलिखित में से किस शासक को “अभिनव भारताचार्य” के नाम से जाना जाता है ?
(A) राणा प्रताप
(B) राणा कुंभा
(C) हेमचंद्र विक्रमादित्य
(D) महाराजा सूरजमल
108. The ‘August Offer’ of 1940 sought to conciliate the Congress by guaranteeing
(A) the setting up of a representative Indian body to frame a new constitution.
(B) government’s assurance to protect the political rights of minorities.
(C) that there would be no partition of India.
(D) that separate electorates would not be provided for the depressed classes.
1940 के ‘अगस्त प्रस्ताव’ ने _____ की गारंटी देकर कांग्रेस से समझौता करने की कोशिश की।
(A) एक नया संविधान बनाने के लिए एक प्रतिनिधि भारतीय निकाय की स्थापना
(B) अल्पसंख्यकों के राजनीतिक अधिकारों की रक्षा के लिए सरकार का आश्वासन
(C) भारत का कोई विभाजन नहीं होगा
(D) दलित वर्गों के लिए अलग निर्वाचक मंडल प्रदान नहीं किया जाएगा
109. The northernmost limit of India is
(A) 36°4' N latitude (B) 37°8' N latitude
(C) 37°6' N latitude (D) 36°12' N latitude
भारत की सबसे उत्तरी सीमा है
(A) 36° 4' N अक्षांश
(B) 37° 8' N अक्षांश
(C) 37° 6' N अक्षांश
(D) 36° 12' N अक्षांश
110. World’s Longest Highway Tunnel above 10,000 Feet located on which national highway ?
(A) NH 3 (B) NH 8
(C) NH 12 (D) NH 18
10,000 फीट से ऊपर विश्व की सबसे लंबी राजमार्ग सुरंग किस राष्ट्रीय राजमार्ग पर स्थित है ?
(A) राष्ट्रीय राजमार्ग 3 (B) राष्ट्रीय राजमार्ग 8
(C) राष्ट्रीय राजमार्ग 12 (D) राष्ट्रीय राजमार्ग 18

111. What is the most important characteristic of the islands (Indian) located in the Arabian Sea ?
 (A) They are all very small in size.
 (B) They are all of coral origin.
 (C) They have a very dry climate.
 (D) They are extended parts of the mainland.
 अरब सागर में स्थित द्वीपों (भारतीय) की सबसे महत्वपूर्ण विशेषता क्या है ?
 (A) वे सभी आकार में बहुत छोटे हैं।
 (B) वे सभी प्रवाल मूल के हैं।
 (C) उनके पास बहुत शुष्क जलवायु है।
 (D) वे मुख्य भूमि के विस्तारित हिस्से हैं।
112. In the heart of the Intertropical Convergence Zone in the northwest, the dry and hot winds known as '____',
 (A) Loo (B) Mango Shower
 (C) Nor Westers (D) Blossom Wind
 उत्तर-पश्चिम में अंतर-उष्णकटिबंधीय अभिसरण क्षेत्र के मध्य में, शुष्क और गर्म हवाओं को '____' के रूप में जाना जाता है।
 (A) लू (B) मैंगो शावर
 (C) नोर वेस्टर्स (D) ब्लोसम विंड
113. India is the world's largest producer of ____
 (A) Groundnut (B) Wheat
 (C) Rice (D) Pulses
 भारत _____ का विश्व का सबसे बड़ा उत्पादक है।
 (A) मूँगफली (B) गेहूँ
 (C) चावल (D) दालों
114. In which of the following states, Tumallapalle, where huge reserves of Uranium are found, is situated ?
 (A) Jharkhand (B) Kerala
 (C) Tamil Nadu (D) Andhra Pradesh
 तुमल्लापल्ले, जहाँ यूरेनियम के विशाल भंडार पाए जाते हैं, निम्नलिखित में से किस राज्य में स्थित है ?
 (A) झारखंड (B) केरल
 (C) तमिलनाडु (D) आंध्र प्रदेश
115. Which of the following state has area-wise the largest forest cover in the country as per FSI 2021 ?
 (A) Madhya Pradesh
 (B) Gujarat
 (C) Karnataka
 (D) Andhra Pradesh
 FSI 2021 के अनुसार, निम्नलिखित में से किस राज्य में क्षेत्रफल के हिसाब से देश का सबसे बड़ा वन क्षेत्र है ?
 (A) मध्य प्रदेश (B) गुजरात
 (C) कर्नाटक (D) आंध्र प्रदेश
116. The Ahom tribes migrated from
 (A) Sri Lanka (B) Afghanistan
 (C) Myanmar (D) Iran
 अहोम जनजातियाँ कहाँ से प्रवासित हुईं ?
 (A) श्रीलंका (B) अफ़गानिस्तान
 (C) म्यांमार (D) ईरान
117. Which of the following was the first Indian woman who went into space ?
 (A) Shirisha Bandla (B) Sunita Williams
 (C) Koneru Humpy (D) Kalpana Chawla
 निम्नलिखित में से कौन पहली भारतीय महिला थी जो अंतरिक्ष में गई थी ?
 (A) शिरिषा बंदला (B) सुनीता विलियम्स
 (C) कोनेरू हम्पी (D) कल्पना चावला
118. Who of the following never became an Acting President ?
 (A) V.V. Giri (B) Zakir Hussain
 (C) B.D. Jatti (D) M. Hidayatullah
 निम्नलिखित में से कौन कभी कार्यवाहक राष्ट्रपति नहीं बना ?
 (A) वी.वी. गिरि (B) जाकिर हुसैन
 (C) बी.डी. जत्ती (D) एम. हिदायतुल्लाह
119. Who of the following ladies is popularly known as "Grand Old Lady" of the independence movement ?
 (A) Sarojini Naidu
 (B) Sucheta Kripalani
 (C) Aruna Asaf Ali
 (D) Annie Besant
 निम्नलिखित में से किस महिला को स्वतंत्रता आंदोलन की "ग्रैंड ओल्ड लेडी" के रूप में जाना जाता है ?
 (A) सरोजिनी नायडू (B) सुचेता कृपलानी
 (C) अरुणा आसफ अली (D) एनी बेसेंट
120. Which person is called "Bird Man of India" ?
 (A) Salim Ali
 (B) Dr. Rahendra Prasad
 (C) Dr. Srikrishna Singh
 (D) Salman Khan
 किस व्यक्ति को "भारत का बर्ड मैन" कहा जाता है ?
 (A) सलीम अली (B) डॉ. रंहेद्र प्रसाद
 (C) डॉ. श्रीकृष्ण सिंह (D) सलमान खान
121. Amjad Ali Khan is associated with which of the following musical instruments ?
 (A) Guitar (B) Veena
 (C) Sitar (D) Sarod
 अमजद अली खान निम्नलिखित में से किस वाद्य यंत्र से संबंधित हैं ?
 (A) गिटार (B) वीणा
 (C) सितार (D) सरोद

122. Yamini Krishnamurti is an accomplished exponent of
 (A) Kathak (B) Bharatnatyam
 (C) Odisi (D) None of these
 यामिनी कृष्णमूर्ति निपुण प्रतिपादक हैं
 (A) कथक की (B) भरतनाट्यम की
 (C) ओडिसी की (D) इनमें से कोई नहीं
123. _____ is famously known as Flying Sikh.
 (A) Maninder Singh (B) Yuvraj Singh
 (C) Sandeep Singh (D) Milkha Singh
 _____ को लोकप्रिय रूप से फ्लाईंग सिख के नाम से जाना जाता है।
 (A) मनिंदर सिंह (B) युवराज सिंह
 (C) संदीप सिंह (D) मिल्खा सिंह
124. The first Indian Scientist to win a Nobel Prize was
 (A) Amartya Sen
 (B) C.V. Raman
 (C) Hargobind Khorana
 (D) Subrahmanyam Chandrasekhar
 नोबेल पुरस्कार जीतने वाले पहले भारतीय वैज्ञानिक थे
 (A) अमर्त्य सेन (B) सी.वी. रमन
 (C) हरगोबिंद खुराना (D) सुब्रमण्यन चंद्रशेखर
125. Who is called as Shakespeare of India ?
 (A) Mahakavi Kalidas
 (B) Rabindranath Tagore
 (C) Mother Teresa
 (D) Bharathiyar
 भारत का शेक्सपियर किसे कहा जाता है ?
 (A) महाकवि कालिदास (B) रबींद्रनाथ टैगोर
 (C) मदर टेरेसा (D) भारथियार
126. Which of the following is the primary agenda of the Kyoto Protocol ?
 (A) Control anthropogenic sources of greenhouse gases
 (B) Regulation of hazardous wastes
 (C) Regulate the production of nuclear energy
 (D) Regulation of Global warming
 निम्नलिखित में से कौन सा क्योटो प्रोटोकॉल का प्राथमिक एजेंडा है ?
 (A) ग्रीनहाउस गैसों के मानवजनित स्रोतों को नियंत्रित करें।
 (B) खतरनाक अपशिष्ट का विनियमन
 (C) परमाणु ऊर्जा के उत्पादन को विनियमित करें।
 (D) ग्लोबल वार्मिंग का विनियमन
127. Which are the main pillars of "Namami Gange" project ?
 (A) Sewerage Treatment Infrastructure
 (B) River-Front Development
 (C) River-Surface Cleaning
 (D) All of these
 'नमामि गंगे' परियोजना के मुख्य स्तंभ कौन से हैं ?
 (A) मल उपचार आधारभूत-संरचना
 (B) रिवर-फ्रंट विकास
 (C) रिवर - सतह सफाई
 (D) ये सभी
128. What is Ramsar Conservation ?
 (A) It is about conservation and wise use of wetlands.
 (B) It is about conservation of forests.
 (C) It is about conservation of mineral resources.
 (D) None of these
 रामसर संरक्षण क्या है ?
 (A) यह आर्द्रभूमि के संरक्षण और विवेकपूर्ण उपयोग के बारे में है।
 (B) यह वनों के संरक्षण के बारे में है।
 (C) यह खनिज संसाधनों के संरक्षण के बारे में है।
 (D) इनमें से कोई नहीं
129. Which of the following Acts, deals with the rights of the communities that dwell in forest over land and other resources ?
 (A) Indian Forest Act, 1927
 (B) Forest Rights Act (FRA), 2006
 (C) Indian Forest Amendment Act, 2019
 (D) None of these
 निम्नलिखित में से कौन सा अधिनियम, भूमि और अन्य संसाधनों पर जंगल में रहने वाले समुदायों के अधिकारों से संबंधित है ?
 (A) भारतीय वन अधिनियम, 1927
 (B) वन अधिकार अधिनियम(FRA), 2006
 (C) भारतीय वन संशोधन अधिनियम, 2019
 (D) इनमें से कोई नहीं
130. Which of the following is the convention to protect ozone layer ?
 (A) Basel Convention
 (B) Bonn Convention
 (C) Vienna Convention
 (D) None of these
 ओजोन परत की रक्षा के लिए निम्नलिखित में से कौन सा सम्मेलन है ?
 (A) बेसल सम्मेलन (B) बॉन सम्मेलन
 (C) वियना सम्मेलन (D) इनमें से कोई नहीं
131. Which of these gases is not permitted to be released beyond certain limits by the Prevention and Control of Pollution Act by the Government ?
 (A) Sulphur dioxide (B) Carbon dioxide
 (C) Nitrogen (D) None of these
 इनमें से किस गैस को सरकार द्वारा प्रदूषण निवारण और नियंत्रण अधिनियम द्वारा निश्चित सीमा से अधिक जारी करने की अनुमति नहीं है ?
 (A) सल्फर डाइऑक्साइड
 (B) कार्बन डाइऑक्साइड
 (C) नाइट्रोजन
 (D) इनमें से कोई नहीं

132. What is the impact of climate change on forests ?
 (A) Increased biodiversity
 (B) Increased productivity
 (C) Increased carbon sequestration
 (D) Increased wildfires and pest outbreaks
 जलवायु परिवर्तन का वनों पर क्या प्रभाव पड़ रहा है ?
 (A) जैव-विविधता में वृद्धि
 (B) उत्पादकता में वृद्धि
 (C) कार्बन पृथक्करण में वृद्धि
 (D) जंगल की आग और कीट के प्रकोप में वृद्धि
133. Acid rain corrodes the marble of the monument. The phenomenon is also called _____.
 (A) Marble growth (B) Marble evolution
 (C) Marble cancer (D) Marble warp
 अम्लीय वर्षा स्मारक के संगमरमर को संक्षारित करती है। घटना को _____ भी कहा जाता है।
 (A) संगमरमर वृद्धि (B) संगमरमर विकास
 (C) संगमरमर कैंसर (D) संगमरमर अनियमता
134. Which of the following is not a heritage site as per UNESCO list ?
 (A) Keoladeo National Park
 (B) Jaipur city
 (C) The Jantar Mantar
 (D) Bikaner Fort
 निम्नलिखित में से कौन सा यूनेस्को सूची के अनुसार एक विरासत स्थल नहीं है ?
 (A) केवलादेव राष्ट्रीय उद्यान
 (B) जयपुर शहर
 (C) जंतर मंतर
 (D) बीकानेर का किला
135. What is the State Dance of Rajasthan ?
 (A) Mundari (B) Ghoomar
 (C) Bhangra (D) Powada
 राजस्थान का राज्य नृत्य क्या है ?
 (A) मुंडारी (B) घूमर
 (C) भांगड़ा (D) पोवाड़ा
136. _____ art of Rajasthan is a minute painting on glass using gold.
 (A) Devra (B) Thewa
 (C) Phad (D) None of these
 राजस्थान की _____ कला सोने का उपयोग कर काँच पर एक सूक्ष्म चित्रकारी (मिनट पेंटिंग) है।
 (A) देवरा (B) थेवा
 (C) फड (D) इनमें से कोई नहीं
137. Which of the following rivers drains into Bay of Bengal ?
 (A) Ghaggar (B) Luni
 (C) Mahi (D) Chambal
 निम्नलिखित में से कौन सी नदी बंगाल की खाड़ी में गिरती है ?
 (A) घग्गर (B) लूनी
 (C) माही (D) चंबल
138. In which district of Rajasthan, Kalibangan, a pre-historic site, is located ?
 (A) Bikaner (B) Jaipur
 (C) Jaisalmer (D) Hanumangarh
 प्रागैतिहासिक स्थल कालीबंगन राजस्थान के किस जिले में स्थित है ?
 (A) बीकानेर (B) जयपुर
 (C) जैसलमेर (D) हनुमानगढ़
139. What is the tagline of Rajasthan Tourism ?
 (A) Land of gods
 (B) God's Own Country
 (C) The Incredible State of India
 (D) Full of Surprises
 राजस्थान पर्यटन की टैगलाइन क्या है ?
 (A) लैंड ऑफ गोड्स
 (B) गोड्स ओन कंट्री
 (C) द इन्क्रेडिबल स्टेट ऑफ इंडिया
 (D) फुल ऑफ सरप्राइजेज
140. Who was defeated by Rana Sanga in the battle of Khatoli ?
 (A) Ibrahim Lodi (B) Akbar
 (C) Sikandar Lodi (D) Babur
 खतौली के युद्ध में राणा सांगा ने किसे हराया था ?
 (A) इब्राहिम लोदी (B) अकबर
 (C) सिकंदर लोदी (D) बाबर
141. The Tejaji fair is held every year at which of the following places in Rajasthan ?
 (A) Bhiwadi (B) Udaipur
 (C) Beawar (D) Parbatsar
 तेजाजी मेला हर साल राजस्थान में निम्नलिखित में से किस स्थान पर आयोजित किया जाता है ?
 (A) भिवाड़ी (B) उदयपुर
 (C) ब्यावर (D) परबतसर

142. Rajasthan became the first state in India to surpass _____ GW of cumulative large-scale solar installations.
राजस्थान भारत का पहला ऐसा राज्य बन गया है जिसने बड़े पैमाने पर संचयी सौर प्रतिष्ठानों के _____ GW को पार कर लिया है।
(A) 15 (B) 10
(C) 20 (D) 23
143. Sports For All (SFA) sporting services joined as the powered-by sponsor of which event?
(A) Women U-19 World Cup
(B) Khelo India Youth Games
(C) FIH Women's Hockey
(D) Khelo India University Games
स्पोर्ट्स फॉर ऑल (SFA) स्पोर्टिंग सर्विसेज किस इवेंट के पावर्ड-बाय स्पॉन्सर के रूप में शामिल हुई?
(A) वुमेन अंडर -19 वर्ल्ड कप
(B) खेलो इंडिया यूथ गेम्स
(C) एफआईएच वुमेन हॉकी
(D) खेलो इंडिया यूनिवर्सिटी गेम्स
144. VAYAM RAKSHAMAH (We Protect) is the motto of which armed force?
(A) Indian Coast Guard
(B) Indian Navy
(C) Indian Air Force
(D) Indian Army
वयम रक्षामह (हम रक्षा करते हैं) किस सशस्त्र बल का आदर्श-वाक्य है?
(A) भारतीय तट रक्षक (B) भारतीय नौसेना
(C) भारतीय वायु सेना (D) भारतीय सेना
145. Under which scheme of Rajasthan Government, 12 sanitary napkins are being provided free of cost every month to women and adolescent girls for better health management of women?
(A) Udaan (B) Shakti
(C) Pankh (D) Pragya
राजस्थान सरकार की किस योजना के तहत महिलाओं के बेहतर स्वास्थ्य प्रबंधन के लिए महिलाओं और किशोरियों को हर महीने 12 सैनिटरी नैपकिन मुफ्त प्रदान किए जा रहे हैं?
(A) उड़ान (B) शक्ति
(C) पंख (D) प्रज्ञा
146. In which of the following cities, Ayush Ministry organised Scientific Convention on World Homeopathy Day?
(A) Jaipur (B) New Delhi
(C) Bhopal (D) Shimla
निम्नलिखित में से किस शहर में आयुष मंत्रालय ने विश्व होम्योपैथी दिवस पर वैज्ञानिक सम्मेलन आयोजित किया?
(A) जयपुर (B) नई दिल्ली
(C) भोपाल (D) शिमला
147. Which of the following airports in Karnataka was inaugurated by Prime Minister Shri Narendra Modi on 27th February?
(A) Mysuru Airport
(B) Kempegowda Airport
(C) Mangalore Airport
(D) Shivamogga Airport
27 फरवरी को प्रधानमंत्री श्री नरेंद्र मोदी द्वारा कर्नाटक में निम्नलिखित में से किस हवाई-अड्डे का उद्घाटन किया गया था?
(A) मैसूरु हवाई-अड्डा
(B) केम्पेगौडा हवाई-अड्डा
(C) मैंगलोर हवाई-अड्डा
(D) शिवमोग्गा हवाई-अड्डा
148. Which country is known as a tax haven, has introduced 'Federal Corporate Tax' for the first time?
(A) Finland (B) Mauritius
(C) UAE (D) Switzerland
किस देश को टैक्स हेवन के रूप में जाना जाता है, जिसने पहली बार 'फेडरल कॉर्पोरेट टैक्स' प्रस्तावित किया है?
(A) फिनलैंड (B) मॉरीशस
(C) संयुक्त अरब अमीरात (D) स्विट्जरलैंड
149. Which city is the host of '5th ASEAN-India Business Summit' in 2023?
(A) New Delhi (B) Kuala Lumpur
(C) Dhaka (D) Singapore City
कौन सा शहर 2023 में '5वें आसियान-भारत व्यापार शिखर-सम्मेलन' का मेजबान है?
(A) नई दिल्ली (B) कुआलालंपुर
(C) ढाका (D) सिंगापुर शहर
150. TLMAL is a joint venture between India's Tata Group and which country's counterpart?
(A) USA (B) Israel
(C) France (D) Japan
TLMAL भारत के टाटा समूह और किस देश के समकक्ष के बीच एक संयुक्त उद्यम है?
(A) यूएसए (B) इजरायल
(C) फ्रांस (D) जापान

Section-D / भाग-द
English / अंग्रेजी

151. Which sentence contains an infinitive ?
(A) She gave him the book.
(B) They made dinner for themselves.
(C) **To sing is her passion.**
(D) He saw the car accident.
152. Fill in the blank using appropriate forms of the verbs out of the given options :
Not only you but your friend also _____ to be blamed.
(A) **is** (B) are
(C) has (D) have
153. Which sentence contains an appositive ?
(A) The car is blue.
(B) **My friend, a doctor, is coming to visit.**
(C) She runs every day.
(D) The movie was emotional as well as thrilling.
154. Which sentence contains an indirect object ?
(A) She bought a very nice book.
(B) **They showed him the way.**
(C) He played football.
(D) The flowers bloomed beautifully.
155. Find out synonym for the underlined word :
Petrarch cultivated his fame and was the first genuine literary celebrity.
(A) **developed** (B) sequence
(C) despair (D) demonstrated
156. Which sentence contains a transitive verb ?
(A) The bird flew away.
(B) She slept soundly.
(C) The children played in the park.
(D) **He ate the pizza.**
157. Which sentence contains a co-ordinating conjunction ?
(A) The sun was shining brightly in the sky since there were no clouds.
(B) **She had a headache, but she continued to teach her students.**
(C) After she had finished her work, she went for a walk.
(D) He is tall, dark, and handsome.
158. Department for military stores and supplies is known as
(A) Ordinance (B) **Ordnance**
(C) Ordination (D) Ordinary
159. Which sentence contains an adjective clause ?
(A) **The girl who won the race was very happy.**
(B) He rode his bike to the store that was very near to his house.
(C) She sang a song for the class.
(D) We ate pizza and watched a movie.
160. Which sentence contains a gerund ?
(A) **He enjoys running in the morning.**
(B) She is reading a book.
(C) They played tennis after school.
(D) The bird sang a beautiful song.
161. "War and Peace" is a book _____ by Tolstoy.
(A) write (B) **written**
(C) wrote (D) writing
162. Which sentence is an active sentence ?
(A) The cake was baked by my mother.
(B) The car was driven by my brother.
(C) **She sang a song for the class.**
(D) The movie was watched by everyone in the theatre.
163. Which sentence is an imperative sentence ?
(A) I think we should go to the beach.
(B) **Please turn off the lights when you leave.**
(C) He is reading a book about history.
(D) They played basketball in the gym.
164. Put the correct word from the options :
I have been waiting here _____ the last two hours.
(A) since (B) **for**
(C) in (D) over
165. Which sentence is a declarative sentence ?
(A) Can you pass the salt, please ?
(B) What is your favorite colour ?
(C) **The sun is shining today.**
(D) Wow! That was an amazing performance!
166. Identify the complex sentence in the following options.
(A) The dog barked and the cat ran away.
(B) **She went to the store after she finished her homework.**
(C) He is a great athlete who also excels in academics.
(D) They played soccer for hours and then had a picnic.
167. Which sentence is in the interrogative form ?
(A) The movie was very entertaining.
(B) She went to the store and bought some milk.
(C) **What time is the meeting ?**
(D) He ran three miles this morning.
168. Which sentence is a simple sentence ?
(A) The dog barked and the cat ran away.
(B) The sun is shining and the birds are singing.
(C) I walked to the store and bought some milk.
(D) **She loves to read books and magazines.**
169. Which sentence has a subject-verb agreement error ?
(A) **The boy and the girl is walking to school.**
(B) The flowers in the garden are blooming.
(C) He has two sisters and one brother.
(D) She sings and dances on the stage.
170. She _____ my request for travelling together to UK.
(A) **turned down** (B) turn off
(C) turn on (D) turn out

171. 'So... that' and 'Such.... .that' are the phrases which express _____ .
 (A) Adverb clause of noun
 (B) Adverb clause of verb
 (C) Adverb clause of manner
 (D) Adverb clause of result
172. Which is the correct active sentence of the following passive sentence ?
 I was taken to the public library by my sister before I was able to read.
 (A) Before I was able to read, I was taken to the public library by my sister.
 (B) Before I was abled to read, my sister took me to the public library.
 (C) Before I was able to read, my sister took me to the public library.
 (D) I was taken to the public library before I knew how to read, by my sister.
173. Give one word for : Irrational fear of crowds
 (A) Sitophobia (B) Ochlophobia
 (C) Astrophobia (D) Claustrophobia
174. Choose the correct verb for the following sentence :
 Either the manager or the associates _____ the merchandise.
 (A) orders
 (B) order
 (C) is suppose to order
 (D) are supposed to orders
175. A/An _____ is a word of exclamatory, expressing a sudden feeling or excitement.
 (A) verb (B) adverb
 (C) interjection (D) noun
176. "The sun smiled down on us."
 The above is an example of _____
 (A) Irony
 (B) Metaphor
 (C) Personification
 (D) Both (Metaphor) and (Personification)
177. Choose the correct meaning of the idiom or phrase given :
 To make clean breast of
 (A) To gain prominence
 (B) To praise oneself
 (C) To confess without of reserve
 (D) To destroy before it blooms
178. Choose the one which best expresses the given sentence in Indirect speech :
 Manna asked Rohan, "Have you sat in a trolley bus before ?"
 (A) Manna asked Rohan had he sat in a trolley bus earlier.
 (B) Manna asked Rohan had he sat in a trolley bus before.
 (C) Manna asked Rohan if he sat on a trolley bus before.
 (D) Manna asked Rohan if he has ever sat in a trolley bus.
179. Find the correct word to complete the following proverb and familiar expression :
 Strike while the _____ is hot.
 (A) iron (B) water
 (C) metal (D) book
180. Choose the most appropriate articles for the given sentence:
 _____ heavy rainfall last week was _____ disaster to crops that were already _____ in _____ dismal state.
 (A) No article required, an, no article required
 (B) no article required, a, the
 (C) The, a, a
 (D) The, no article required, the
181. Which of the following best expresses the same sentence in Passive Voice :
 Do you understand what I mean ?
 (A) What I mean is that understood by you ?
 (B) Was what I mean understood by you ?
 (C) Is what I mean understood by you ?
 (D) What I mean is understood by you ?
182. Which of the following options has the correct order of words to form an interrogative sentence ?
 (A) A villian /was he/ not to do/ such a deed ?
 (B) Was he/ not to do/ a villain/ such a deed ?
 (C) He was / a villain/ such a deed/ not to do ?
 (D) Was he/ not a villain /to do/ such a deed ?
183. No sooner had she read the telegram _____ she fainted.
 (A) then (B) than
 (C) therefore (D) there
184. What is the meaning of the word 'vernacular language' ?
 (A) formal language
 (B) informal language
 (C) foreign language
 (D) native language
185. Use suitable prefix to make the opposite of the given word :
 Contented
 (A) im (B) in
 (C) into (D) dis
186. Which one of the following is an example of "Collective noun" ?
 (A) Dog (B) Man
 (C) Federation (D) Milk
187. Which word is an antonym for 'generous' ?
 (A) stingy (B) charitable
 (C) kind-hearted (D) benevolent

Read the passage given below and answer the questions from Que. No. 188 to 192 by choosing the answers from the given options :

Reading is an essential skill that students need to develop in order to be successful in their academic and professional lives. It is important to remember that reading is not just about decoding words on a page, but about understanding the meaning behind those words. Reading comprehension is the ability to understand, analyze, and interpret what you read.

There are several strategies that students can use to improve their reading comprehension. One of the most important strategies is to preview the text before reading it. This means looking at the title, headings, and any pictures or graphics to get an idea of what the text is about. Another strategy is to ask questions as you read. This can help you to clarify any confusion you may have and to stay focused on the main ideas of the text.

It's also important to note that reading comprehension is not just about understanding the words on the page, but also about making connections between the text and your own experiences or knowledge. This can help you to remember the information better and to apply it in different contexts.

Finally, reading comprehension is a skill that can be improved with practice. The more you read, the more opportunities you have to develop your comprehension skills. So, whether you're reading for pleasure or for work, take the time to practice and improve your reading comprehension skills.

- 188.** According to the passage, what is reading comprehension ?
 (A) The ability to read words on a page
(B) The ability to understand, analyze, and interpret what you read
 (C) The ability to read quickly
 (D) The ability to write about what you read
- 189.** What is one strategy students can use to improve their reading comprehension ?
 (A) Only read the first and last sentences of each paragraph
 (B) Skip over any pictures or graphics
(C) Preview the text before reading it
 (D) Only read texts that are easy and familiar
- 190.** Why is it important to make connections between the text and your own experiences or knowledge ?
 (A) To confuse yourself
(B) To remember the information better and to apply it in different contexts
 (C) To ignore the text
 (D) To make the text more difficult to understand
- 191.** According to the passage, how can reading comprehension be improved ?
 (A) By avoiding difficult texts
 (B) By only reading for pleasure
(C) By practicing reading
 (D) By skipping over any pictures or graphics
- 192.** What is the main idea of the passage ?
(A) Reading is an essential skill for success.
 (B) Students should only read texts that are easy and familiar.
 (C) Previewing the text is not an important strategy for improving reading comprehension.
 (D) Making connections between the text and your own experiences is not helpful for improving comprehension.
- 193.** One should _____ oneself to whatever circumstances one is placed in.
(A) adapt (B) adopt
 (C) adept (D) acquire
- 194.** What is the meaning of the word 'quintessential' ?
 (A) common (B) ordinary
(C) typical (D) exceptional
- 195.** Socrates was _____ wisest of Greek philosophers.
(A) the (B) a
 (C) an (D) no article
- 196.** Which of the following is an example of a preposition ?
 (A) sing (B) happy
(C) with (D) quickly
- 197.** Which of the following is an example of a conjunction ?
 (A) of **(B) because**
 (C) beautiful (D) this
- 198.** Select the word for the study of rhythm, sound, pause, stress and pitch features of a language particularly in poetry and speech.
 (A) programme **(B) prosody**
 (C) prospect (D) protagonist
- 199.** Which of the following is an example of a possessive pronoun ?
 (A) my (B) her
 (C) its **(D) all of these**
- 200.** He is here, _____ ? Put question tag
 (A) didn't he ? (B) won't he ?
(C) isn't he ? (D) needn't he ?

Section-D / भाग-द
Hindi / हिन्दी

151. किस विकल्प में शब्द-युग्म का अर्थ-भेद सही नहीं है ?
- | शब्द-युग्म | अर्थ-भेद |
|----------------|-------------------|
| (A) सबल - संबल | शक्तिशाली - सहारा |
| (B) हिय - हय | हृदय - घोड़ा |
| (C) हेम - हिम | स्वर्ण - पर्वत |
| (D) शोक - शौक | दुःख - आदत |
152. 'छछूंदर के सिर पर चमेली का तेल' कहावत का सही अर्थ बताइये ।
- (A) योग्य पात्र को अच्छी वस्तु की प्राप्ति
(B) अयोग्य पात्र को अच्छी वस्तु की प्राप्ति
(C) तेल की खुशबू
(D) सिर में दर्द होना
153. 'टाट उलटना' - मुहावरे का अर्थ है
- (A) चालाकी से ले लेना
(B) बेकार का काम करना
(C) दिवाला निकलना
(D) बेइज्जती करना
154. निम्नलिखित में से किस विकल्प के सभी शब्दों में उपसर्ग तथा प्रत्यय (दोनों) का प्रयोग हुआ है ?
- (A) अभिमुख, अधिगृह
(B) अधिकार, प्रतिनायक
(C) प्रतिनिधित्व, पारिश्रमिक
(D) स्वदेशी, प्रतिकूल
155. किस शब्द में 'आवट' प्रत्यय नहीं है ?
- (A) रुकावट (B) महावट
(C) सजावट (D) थकावट
156. निम्न में से किस शब्द का संधि विच्छेद सही नहीं है ?
- (A) सम् + विधान (B) नमः + कार
(C) महा + उष्ण (D) गा + अक
157. 'समुद्रोर्मि' शब्द किस संधि से बना है ?
- (A) दीर्घ संधि (B) वृद्धि संधि
(C) गुण संधि (D) यण संधि
158. इनमें से कौन बहुव्रीहि समास का उदाहरण नहीं है ?
- (A) नीलकंठ (B) गिरिधारी
(C) चन्द्रभाल (D) कमलनयन
159. किसी सार्थक शब्द का प्रयोग वाक्य में होता है तो उसे कहते हैं
- (A) पद (B) शब्द
(C) वाक्य (D) प्रोक्ति
160. इनमें से सकर्मक क्रिया का उदाहरण नहीं है
- (A) रमेश कविता लिखता है ।
(B) अध्यापक पुस्तक लाता है ।
(C) मोहन रोता है ।
(D) माँ रोटी पकाती है ।
161. किस विकल्प में पुलिङ्ग शब्द नहीं है ?
- (A) मोती, नियम (B) अनुमान, विहार
(C) मिठास, उदासी (D) साधन, पोषण
162. निम्नलिखित शब्दों पर विचार कीजिए :
1. अतिशयोक्ति 2. दुरगति
3. ज्योत्स्ना 4. नौरधि
- किस विकल्प में सभी शब्द शुद्ध हैं ?
- (A) 2, 3 और 4 (B) 1 और 2
(C) 1, 3 और 4 (D) 2 और 3
163. निम्नलिखित में से किस विकल्प में मिश्र वाक्य नहीं है ?
- (A) उसने कहा कि मैं निर्दोष हूँ ।
(B) रमेश चित्र दिखा रहा है और गीता चित्र बना रही है ।
(C) जो लड़का गाता है, वह आ रहा है ।
(D) यह पका आम है इसीलिए मीठा है ।
164. व्याकरण की दृष्टि से निम्न में से कौन सा शुद्ध वाक्य है ?
- (A) फल बच्चे को काटकर खिलाओ ।
(B) वह मेरे बाद पैदा हुआ था ।
(C) कृष्ण राधा रास कर रही हैं ।
(D) क्या आप यह पत्र पढ़ लिए हैं ?
165. किस वाक्यांश के लिए प्रयुक्त शब्द सार्थक नहीं है ?
- (A) बरसात के चार महीने - चातुर्मास्य
(B) तीन वेदों को जानने वाला - त्रिवेदी
(C) जिसकी इच्छा की गई हो - परिहार्य
(D) शक्ति का उपासक - शाक्त
166. 'रमा चली आ ।' में उद्देश्य है
- (A) चली (B) रमा
(C) आ (D) कोई नहीं
167. एक मूल शब्द से दूसरा नया शब्द बनाने की प्रक्रिया को कहते हैं -
- (A) प्रपत्ति (B) व्युत्पत्ति
(C) निर्मिति (D) रीति
168. जिस धातु से सूचित होने वाला व्यापार और उसका फल कर्ता ही पर पड़े उसे _____ धातु कहते हैं ।
- (A) अकर्मक (B) सकर्मक
(C) सजातीय (D) विजातीय
169. जब एक ही शब्दभेद के दो शब्दों के बीच में समुच्चयबोधक न हो, तब इस चिह्न का प्रयोग होता है-
- (A) पूर्णविराम (B) अर्द्धविराम
(C) अल्पविराम (D) आश्चर्यचिह्न
170. 'तौलिया' किस भाषा का शब्द है ?
- (A) पुर्तगाली (B) अंग्रेजी
(C) बांगला (D) उर्दू

171. इसका प्रयोग एक विभाग से दूसरे विभाग को तथा अपने संबद्ध तथा अधीनस्थ कार्यालयों के साथ होता है
(A) अर्द्ध सरकारी पत्र (B) परिपत्र
(C) कार्यालय ज्ञापन (D) सरकारी पत्र
172. निम्न में से कौन सा शब्द तद्भव है ?
(A) साँझ (B) भिक्षा
(C) शिला (D) कूप
173. बाह्य प्रयत्न के ग्यारह भेदों में से दो प्रकार हैं
(A) विवृत - स्पृष्ट (B) अघोष - घोष
(C) ईषत - स्पृष्ट (D) ईषत - विवृत
174. 'मैया मोरी मैं नहिं माखन खायो' में निम्नलिखित में से कौन सा रस है ?
(A) अद्भुत (B) वीर
(C) शृंगार (D) वात्सल्य
175. 'अगर वह काम करता होता, तो अब तक चतुर हो जाता।' में है -
(A) संभाव्य वर्तमान काल
(B) संदिग्ध वर्तमान काल
(C) अपूर्ण संकेतार्थ काल
(D) अपूर्ण भूतकाल
176. जातिवाचक संज्ञा का उदाहरण है
(A) घर (B) धीरज
(C) पीड़ा (D) दौड़
177. तद्धित प्रत्यय के योग से बना शब्द है
(A) मनगढ़ंत (B) पियक्कड़
(C) खारू (D) कुम्भकार
178. अनिश्चयवाचक सर्वनाम का उदाहरण कौन सा है ?
(A) सो (B) कोई
(C) कौन (D) क्या
179. 'पाँच वटों का समाहार' को इंगित करता सार्थक शब्द है
(A) पंचानन (B) पंचामृत
(C) पंचवट (D) पंचमी
180. कोढ़ में खाज होना - मुहावरे का अर्थ है
(A) एक दुःख पर दूसरा दुःख होना
(B) बुरी तरह पीछे पड़ना
(C) जान-बूझकर अन्याय सहना
(D) अत्यधिक साहसी होना
181. निम्नलिखित में से किस विकल्प में संयुक्त वाक्य है ?
(A) काम पूरा करो और जाओ।
(B) यदि काम पूरा नहीं हुआ तो शिक्षा होगी।
(C) ज्यादा बारिश होने पर सब बरबाद हो जाएगा।
(D) उसने गलत काम करके अवश्य कमाया।

182. निम्नलिखित में से कौन से शब्द की वर्तनी शुद्ध है ?
(A) व्यावारिक (B) व्यावहारीक
(C) व्यवहारिक (D) व्यवाहारिक

(प्र.सं. 183 से 187) अनुच्छेद को पढ़कर पूछे गए प्रश्नों के उत्तर दीजिए :

यदि हम किसी के बोझ को हलका कर सकें, यदि हम किसी के खेद को कम कर सकें, यदि हम किसी के कष्ट को नष्ट कर सकें, यदि हम किसी के दुःख में सहानुभूति की शीतल कोमल वर्षा कर सकें - तो इस प्रकार की मानसिक शक्ति से हमें जो लाभ प्राप्त होगा, वह अन्य किसी भी प्रकार की योग्यता से प्राप्त नहीं हो सकता। आशा का सूर्योदय होते ही निराशा की निशा लुप्त हो जाती है, मुस्कान तथा हँसी के प्रकट होते ही खिन्नता तथा उदासी दूर हो जाती है। उल्लास की भावना मन में आते ही चिंता नष्ट हो जाती है और दयालुता तथा परोपकार की भावना मन में आते ही अपना दुःख दूर हो जाता है। आनंद से परिपूर्ण आत्मा वाले मनुष्य के आते ही लोग मुस्कान द्वारा उसका स्वागत करते हैं, उनसे वार्तालाप करते हुए असीम प्रसन्नता का अनुभव करते हैं और सम्पूर्ण वातावरण में हर्ष और प्रसन्नता की सुरभि -सी प्रसारित हो जाती है। यदि आप अपने काम-धंधे का वीतर और विकास करना चाहते हैं और इससे अधिक अच्छा अन्य उपाय कोई नहीं हो सकता की आप अपना स्वभाव प्रसन्नातामय, उल्लासमय और हर्ष-समन्वित बना लें। चित्त में दूसरों की सेवा की भावना जाग्रत कर लें। सामाजिक संबंधों में सौमनस्य लाने के लिए इससे उत्तम उपाय है ही नहीं। उल्लास तथा परोपकार मन में लाते ही आपको व्यापार के पीछे नहीं भागना पड़ेगा, अपितु वह स्वयं आपकी ओर उमड़ा आएगा। मित्र आपसे मिलने के लिए लालायित रहेंगे और आपका व्यवसाय दिन-दूनी रात -चौगुनी गति से उन्नति करेगा।

183. उल्लास और परोपकार का भाव मन में लाने से कौन सा परिवर्तन नहीं होगा ?
(A) चिंता नष्ट हो जाएगी।
(B) सुख-दुःख का अभाव हो जाएगा।
(C) व्यापार स्वयं आपकी ओर उमड़ा आएगा।
(D) मित्र आपसे मिलने के लिए लालायित रहेंगे।
184. आपका व्यवसाय दिन-दूनी रात-चौगुनी उन्नति करेगा। 'दिन-दूनी रात-चौगुनी उन्नति' मुहावरे का कौन सा सही अर्थ है ?
(A) दिन ईद और रात शब्बेरात होना।
(B) दिन फिर जाना।
(C) दिन भारी हो जाना।
(D) अच्छी तरक्की होना।

185. आनंद से परिपूर्ण आत्मा वाले मनुष्य के संपर्क से कौन सा प्रभाव पड़ता है ?
 (A) लोग मुस्कान द्वारा उसका स्वागत करते हैं ।
 (B) कुछ लोग निराशा के कूप में डूब जाते हैं ।
 (C) वार्तालाप करते हुए लोग असीम विकलता का अनुभव करते हैं ।
 (D) सम्पूर्ण वातावरण में नैराश्य और अवसन्नता सी प्रसारित हो जाती है ।
186. आपको व्यापार के पीछे नहीं भागना पड़ेगा, यदि आप
 (A) व्यापार में चतुराई से काम करेंगे ।
 (B) आनंद से परिपूर्ण आत्मा वाले मनुष्य से मिलेंगे ।
 (C) अपना स्वभाव प्रसन्नातामय, उल्लासमय और हर्ष-समन्वित बना लेंगे ।
 (D) जीवन में निराशा के कारणों का विश्लेषण करेंगे ।
187. अनुच्छेद का उपयुक्त शीर्षक है
 (A) मानसिक शक्ति
 (B) उल्लास तथा परोपकार की महत्ता
 (C) आशावादिता
 (D) जीवन के प्रति स्वस्थ दृष्टिकोण
188. किस विकल्प में दोनों वर्ण अल्प प्राण हैं ?
 (A) छ, झ (B) ठ, थ
 (C) क, ग (D) अ, आ
189. निम्नलिखित में से कौन सा शब्द देशज नहीं है ?
 (A) तेंदुआ (B) कचोट
 (C) करवट (D) कंचन
190. निम्नलिखित में से अर्ध स्वर कौन सा है ?
 (A) य (B) प
 (C) त्र (D) क्ष
191. किस विकल्प में सभी घोष ध्वनियाँ हैं ?
 (A) क, ग (B) ग, घ
 (C) च, झ (D) त, ध
192. किस विकल्प में सभी शब्द परस्पर पर्यायवाची नहीं हैं ?
 (A) कुबेर, वैश्रवण, यक्षराज
 (B) चाप, धनु, चपला
 (C) निर्वाण, केवल्य, मुक्ति
 (D) रसना, जिह्वा, जीभ
193. किस विकल्प में 'Integration' शब्द का समकक्ष हिंदी पारिभाषिक शब्द सही है ?
 (A) एकीकरण (B) मूल्यांकन
 (C) मानदेय (D) अधिवास
194. किस विकल्प में सभी शब्द परस्पर पर्यायवाची हैं ?
 (A) शार्दूल, केशरी, गजराज
 (B) अनुपम, अद्भुत, अनूठा
 (C) आगार, भंडार, अंगार
 (D) सविता, सूर्य, स्त्री
195. किस विकल्प में सभी शब्द परस्पर पर्यायवाची हैं ?
 (A) हृदय, मन, उरग
 (B) निकेतन, सदन, ग्रह
 (C) आम्र, रसाल, अमृतफल
 (D) हाथी, द्विप, मृगेंद्र
196. किस विकल्प में सभी शब्द परस्पर पर्यायवाची हैं ?
 (A) मीनाक्षी, सुंदरी, मछली
 (B) सुमन, प्रसून, पुहुप
 (C) पराग, सुकुमार, सुगंध
 (D) विषाद, वेदना, हर्ष
197. किस विकल्प में सही विलोम-युग्म नहीं है ?
 (A) अमावस्या × पूर्णिमा
 (B) सदाचार × दुराचार
 (C) एकत्र × विकीर्ण
 (D) तीव्र × द्रुत
198. किस विकल्प में सही विलोम-युग्म है ?
 (A) आर्द्र × शुष्क (B) कीर्ति × उपकीर्ति
 (C) वृद्धि × विस्तार (D) भोगी × विलासी
199. किस विकल्प में सही विलोम-युग्म नहीं है ?
 (A) समास-व्यास (B) भोक्ता-भोग्य
 (C) प्रसन्न-विषण्ण (D) दुर्गम-सुगम
200. किस विकल्प में शब्द-युग्म का अर्थ-भेद सही नहीं है ?
 शब्द-युग्म अर्थ-भेद
 (A) अनल - अनिल आग - हवा
 (B) दामन - दमन आँचल - दबाना
 (C) विषण्ण - विपन्न प्रसन्न - अवसादित
 (D) अवर - प्रवर कनिष्ठ - श्रेष्ठ

SPACE FOR ROUGH WORK / रफ कार्य के लिए स्थान