

National Testing Agency

Question Paper Name :	Museology Hin 12th June 2023 Shift 3
Subject Name :	Museology Hin
Creation Date :	2023-06-12 20:46:02
Duration :	120
Total Marks :	400
Display Marks:	Yes

Museology

Group Number :	1
Group Id :	920906152
Group Maximum Duration :	0
Group Minimum Duration :	120
Show Attended Group? :	No
Edit Attended Group? :	No
Break time :	0
Group Marks :	400
Is this Group for Examiner? :	No
Examiner permission :	Cant View
Show Progress Bar? :	No

Part A

Section Id :	920906303
Section Number :	1
Section type :	Online
Mandatory or Optional :	Mandatory
Number of Questions :	21
Number of Questions to be attempted :	21
Section Marks :	100
Enable Mark as Answered Mark for Review and Clear Response :	Yes
Maximum Instruction Time :	0
Sub-Section Number :	1
Sub-Section Id :	920906490
Question Shuffling Allowed :	No
Is Section Default? :	null

Question Id : 92090615285 Question Type : COMPREHENSION Sub Question Shuffling Allowed : Yes Group Comprehension Questions : No Question Pattern Type : NonMatrix Calculator : None Response Time : N.A Think Time : N.A Minimum Instruction Time : 0

Question Numbers : (1 to 5)

Question Label : Comprehension

भारत सहित विश्व के कई समाजों में पत्नी को भी अधीनस्थ की श्रेणी में रखा जा सकता है। यों, यहाँ स्त्री को पुरुष का अधीनस्थ कहा जा सकता है, चाहे वह उसकी बहन, बेटी अथवा माँ भी क्यों न हो। स्वाभाविक रूप से इस प्रकार के समाज में स्त्री वर्ग और पुरुष वर्ग की भाषा में भी अन्तर मिलता है। भारत जैसे देशों में स्त्रियों को बोलने की पूरी छूट नहीं है। परिवार में पुरुषों की बातचीत में उनका हस्तक्षेप पूर्णतया प्रतिबन्धित ही है। यह ठीक है कि महानगरों में परिदृश्य कुछ परिवर्तित हो रहा है, परन्तु सामान्यतः अभी उपर्युक्त स्थिति ही है। स्त्रियों की भाषा में विनम्रता का गुण स्वाभाविक रूप से पाया जाता है। यह अधीनस्थ का स्थायी भाव ही बना जाता है। विश्व के लगभग सभी देशों में स्त्रियों की भाषा पुरुषों की तुलना में अधिक परिष्कृत होती है। उनमें वर्जित एवं अश्लील शब्दों का प्रयोग नहीं होता। इसी प्रकार उनकी भाषा में सम्मान देनेवाले शब्दों का प्रयोग अधिक होता है। उदाहरणार्थ, हिन्दी भाषी पुरुष महिलाओं के संदर्भ में 'तू' और 'तुम' सर्वनाम का प्रयोग अधिक करते हैं तो महिलाएँ प्रायः सर्वनाम 'आप' का प्रयोग करती हैं।

धार्मिक क्षेत्र में पण्डा-पुजारी-संत वर्ग और मन्दिर, चर्च, गुरुद्वारा जानेवाले व्यक्ति और भक्त का वर्ग बनाया जा सकता है। पण्डा-पुजारी वर्ग प्रायः औपचारिक और प्रवचनमयी भाषा का प्रयोग करता है जबकि उसकी तुलना में भक्त आदि विनीत भाव से बातचीत करते हैं। इसी प्रकार अनेक स्थलों पर दोनों की भाषा में भी अन्तर होता है। उदाहरणार्थ, भारत के हिन्दी क्षेत्र में धार्मिक कृत्य सम्पन्न कराने वाले ब्राह्मण वर्ग के लिए संस्कृत का ज्ञान और प्रयोग अनिवार्य है। यह अलग बात है कि आज अधिकांश ब्राह्मणों को संस्कृत का ज्ञान नहीं है और वे अशुद्ध एवं भ्रष्ट भाषा का प्रयोग करते हैं। परन्तु ऐसे ब्राह्मणों को समाज अधिक सम्मान भी नहीं देता। सम्मानीय ब्राह्मण के लिए संस्कृत का अच्छा ज्ञान आवश्यक है। विश्व के कई अन्य देशों में भी उनकी प्राचीन एवं क्लासिक भाषाओं - ग्रीक, लैटिन आदि का ज्ञान धार्मिक गुरुओं के लिए आवश्यक माना जाता है।

Sub questions

Question Number : 1 Question Id : 92090615286 Question Type : MCQ Option Shuffling : No Is Question Mandatory : No Calculator : None Response Time : N.A Think Time : N.A Minimum Instruction Time : 0

Correct Marks : 4 Wrong Marks : 1

स्त्री को पुरुष का क्या कहा जाता है ?

- | | |
|----------|-------------|
| (1) अधीन | (2) अधीनस्थ |
| (3) समान | (4) विशेष |

Options :

- 92090660401. 1
- 92090660402. 2
- 92090660403. 3
- 92090660404. 4

Question Number : 2 Question Id : 92090615287 Question Type : MCQ Option Shuffling : No Is Question Mandatory : No Calculator : None Response Time : N.A Think Time : N.A Minimum Instruction Time : 0

Correct Marks : 4 Wrong Marks : 1

भारत जैसे देशों में स्त्रियों को बोलने की कैसी स्थिति है?

- | | |
|--------------|-------------------|
| (1) पाबंदी | (2) छूट |
| (3) पूरी छूट | (4) पूरी छूट नहीं |

Options :

- 92090660405. 1
- 92090660406. 2
- 92090660407. 3
- 92090660408. 4

Question Number : 3 Question Id : 92090615288 Question Type : MCQ Option Shuffling : No Is Question Mandatory : No Calculator : None Response Time : N.A Think Time : N.A Minimum Instruction Time : 0

Correct Marks : 4 Wrong Marks : 1

स्त्रियों की भाषा पुरुषों की तुलना में कैसी होती है?

- | | |
|--------------|-------------|
| (1) माननीकृत | (2) सामान्य |
| (3) परिष्कृत | (4) विषिष्ट |

Options :

- 92090660409. 1
- 92090660410. 2
- 92090660411. 3
- 92090660412. 4

Question Number : 4 Question Id : 92090615289 Question Type : MCQ Option Shuffling : No Is Question Mandatory : No Calculator : None Response Time : N.A Think Time : N.A Minimum Instruction Time : 0

Correct Marks : 4 Wrong Marks : 1

पण्डा-पुजारी वर्ग प्रायः कैसी भाषा का प्रयोग करते हैं?

- | | |
|--------------------------|------------------|
| (1) औपचारिक व सामान्य | (2) अनौपचारिक |
| (3) औपचारिक और प्रवचनमयी | (4) संस्कृतनिष्ठ |

Options :

- 92090660413. 1
- 92090660414. 2
- 92090660415. 3

Question Number : 5 Question Id : 92090615290 Question Type : MCQ Option Shuffling : No Is Question Mandatory : No Calculator : None Response Time : N.A Think Time : N.A Minimum Instruction Time : 0

Correct Marks : 4 Wrong Marks : 1

ब्राह्मण वर्ग के लिए किसका ज्ञान आवश्यक है ?

- | | |
|----------------|----------------|
| (1) भाषा का | (2) संस्कृत का |
| (3) व्यापार का | (4) हिन्दी का |

Options :

92090660417. 1

92090660418. 2

92090660419. 3

92090660420. 4

Question Id : 92090615285 Question Type : COMPREHENSION Sub Question Shuffling Allowed : Yes Group Comprehension Questions : No Question Pattern Type : NonMatrix Calculator : None Response Time : N.A Think Time : N.A Minimum Instruction Time : 0

Question Numbers : (1 to 5)

Question Label : Comprehension

भारत सहित विश्व के कई समाजों में पत्नी को भी अधीनस्थ की श्रेणी में रखा जा सकता है। यों, यहाँ स्त्री को पुरुष का अधीनस्थ कहा जा सकता है, चाहे वह उसकी बहन, बेटी अथवा माँ भी क्यों न हो। स्वाभाविक रूप से इस प्रकार के समाज में स्त्री वर्ग और पुरुष वर्ग की भाषा में भी अन्तर मिलता है। भारत जैसे देशों में स्त्रियों को बोलने की पूरी छूट नहीं है। परिवार में पुरुषों की बातचीत में उनका हस्तक्षेप पूर्णतया प्रतिबन्धित ही है। यह ठीक है कि महानगरों में परिदृश्य कुछ परिवर्तित हो रहा है, परन्तु सामान्यतः अभी उपर्युक्त स्थिति ही है। स्त्रियों की भाषा में विनम्रता का गुण स्वाभाविक रूप से पाया जाता है। यह अधीनस्थ का स्थायी भाव ही बना जाता है। विश्व के लगभग सभी देशों में स्त्रियों की भाषा पुरुषों की तुलना में अधिक परिष्कृत होती है। उनमें वर्जित एवं अश्लील शब्दों का प्रयोग नहीं होता। इसी प्रकार उनकी भाषा में सम्मान देनेवाले शब्दों का प्रयोग अधिक होता है। उदाहरणार्थ, हिन्दी भाषी पुरुष महिलाओं के संदर्भ में 'तू' और 'तुम' सर्वनाम का प्रयोग अधिक करते हैं तो महिलाएँ प्रायः सर्वनाम 'आप' का प्रयोग करती हैं।

धार्मिक क्षेत्र में पण्डा-पुजारी-संत वर्ग और मन्दिर, चर्च, गुरुद्वारा जानेवाले व्यक्ति और भक्त का वर्ग बनाया जा सकता है। पण्डा-पुजारी वर्ग प्रायः औपचारिक और प्रवचनमयी भाषा का प्रयोग करता है जबकि उसकी तुलना में भक्त आदि विनीत भाव से बातचीत करते हैं। इसी प्रकार अनेक स्थलों पर दोनों की भाषा में भी अन्तर होता है। उदाहरणार्थ, भारत के हिन्दी क्षेत्र में धार्मिक कृत्य सम्पन्न कराने वाले ब्राह्मण वर्ग के लिए संस्कृत का ज्ञान और प्रयोग अनिवार्य है। यह अलग बात है कि आज अधिकांश ब्राह्मणों को संस्कृत का ज्ञान नहीं है और वे अशुद्ध एवं भ्रष्ट भाषा का प्रयोग करते हैं। परन्तु ऐसे ब्राह्मणों को समाज अधिक सम्मान भी नहीं देता। सम्मानीय ब्राह्मण के लिए संस्कृत का अच्छा ज्ञान आवश्यक है। विश्व के कई अन्य देशों में भी उनकी प्राचीन एवं क्लासिक भाषाओं—ग्रीक, लैटिन आदि का ज्ञान धार्मिक गुरुओं के लिए आवश्यक माना जाता है।

Sub questions

Question Number : 1 Question Id : 92090615286 Question Type : MCQ Option Shuffling : No Is Question Mandatory : No Calculator : None Response Time : N.A Think Time : N.A Minimum Instruction Time : 0

Correct Marks : 4 Wrong Marks : 1

स्त्री को पुरुष का क्या कहा जाता है ?

- | | |
|----------|-------------|
| (1) अधीन | (2) अधीनस्थ |
| (3) समान | (4) विशेष |

Options :

- 92090660401. 1
- 92090660402. 2
- 92090660403. 3
- 92090660404. 4

Question Number : 2 Question Id : 92090615287 Question Type : MCQ Option Shuffling : No Is Question Mandatory : No Calculator : None Response Time : N.A Think Time : N.A Minimum Instruction Time : 0

Correct Marks : 4 Wrong Marks : 1

भारत जैसे देशों में स्त्रियों को बोलने की कैसी स्थिति है?

- | | |
|--------------|-------------------|
| (1) पाबंदी | (2) छूट |
| (3) पूरी छूट | (4) पूरी छूट नहीं |

Options :

- 92090660405. 1
- 92090660406. 2
- 92090660407. 3
- 92090660408. 4

Question Number : 3 Question Id : 92090615288 Question Type : MCQ Option Shuffling : No Is Question Mandatory : No Calculator : None Response Time : N.A Think Time : N.A Minimum Instruction Time : 0

Correct Marks : 4 Wrong Marks : 1

स्त्रियों की भाषा पुरुषों की तुलना में कैसी होती है?

- | | |
|--------------|-------------|
| (1) माननीकृत | (2) सामान्य |
| (3) परिष्कृत | (4) विषिष्ट |

Options :

- 92090660409. 1
- 92090660410. 2

92090660411. 3

92090660412. 4

Question Number : 4 Question Id : 92090615289 Question Type : MCQ Option Shuffling : No Is Question Mandatory : No Calculator : None Response Time : N.A Think Time : N.A Minimum Instruction Time : 0

Correct Marks : 4 Wrong Marks : 1

पण्डा-पुजारी वर्ग प्रायः कैसी भाषा का प्रयोग करते हैं?

- | | |
|--------------------------|------------------|
| (1) औपचारिक व सामान्य | (2) अनौपचारिक |
| (3) औपचारिक और प्रवचनमयी | (4) संस्कृतनिष्ठ |

Options :

92090660413. 1

92090660414. 2

92090660415. 3

92090660416. 4

Question Number : 5 Question Id : 92090615290 Question Type : MCQ Option Shuffling : No Is Question Mandatory : No Calculator : None Response Time : N.A Think Time : N.A Minimum Instruction Time : 0

Correct Marks : 4 Wrong Marks : 1

ब्राह्मण वर्ग के लिए किसका ज्ञान आवश्यक है ?

- | | |
|----------------|----------------|
| (1) भाषा का | (2) संस्कृत का |
| (3) व्यापार का | (4) हिन्दी का |

Options :

92090660417. 1

92090660418. 2

92090660419. 3

92090660420. 4

Sub-Section Number :

2

Sub-Section Id :

920906491

Question Shuffling Allowed :

Yes

Is Section Default? :

null

Question Number : 6 Question Id : 92090615291 Question Type : MCQ Option Shuffling : No Is Question Mandatory : No Calculator : None Response Time : N.A Think Time : N.A Minimum Instruction Time : 0

Correct Marks : 4 Wrong Marks : 1

'यथाविधि' कौन सा समास है?

- | | |
|---------------|--------------|
| (1) तत्पुरुष | (2) द्वन्द्व |
| (3) अव्ययीभाव | (4) कर्मधारय |

Options :

92090660421. 1
92090660422. 2
92090660423. 3
92090660424. 4

Question Number : 6 Question Id : 92090615291 Question Type : MCQ Option Shuffling : No Is Question Mandatory : No Calculator : None Response Time : N.A Think Time : N.A Minimum Instruction Time : 0

Correct Marks : 4 Wrong Marks : 1

'यथाविधि' कौन सा समास है?

- | | |
|---------------|--------------|
| (1) तत्पुरुष | (2) द्वन्द्व |
| (3) अव्ययीभाव | (4) कर्मधारय |

Options :

92090660421. 1
92090660422. 2
92090660423. 3
92090660424. 4

Question Number : 7 Question Id : 92090615292 Question Type : MCQ Option Shuffling : No Is Question Mandatory : No Calculator : None Response Time : N.A Think Time : N.A Minimum Instruction Time : 0

Correct Marks : 4 Wrong Marks : 1

सही शब्द (संधि) का चयन किजिए:

- A. वधु + उत्सव → वधूत्सव
- B. देव + इच्छा → देवीच्छा
- C. कपी+ ईश → कपीश
- D. भू + उदार → भूद्दार
- E. महि + ईश → महेश

नीचे दिए गए विकल्पों में से सबसे उपयुक्त उत्तर का चयन कीजिए:

- (1) केवल A व B
- (2) केवल C
- (3) केवल D
- (4) केवल E व C

Options :

- 92090660425. 1
- 92090660426. 2
- 92090660427. 3
- 92090660428. 4

Question Number : 7 Question Id : 92090615292 Question Type : MCQ Option Shuffling : No Is Question Mandatory : No Calculator : None Response Time : N.A Think Time : N.A Minimum Instruction Time : 0

Correct Marks : 4 Wrong Marks : 1

सही शब्द (संधि) का चयन कीजिए:

- A. वधु + उत्सव → वधूत्सव
- B. देव + इच्छा → देवीच्छा
- C. कपी + ईश → कपीश
- D. भू + उदार → भूद्दार
- E. महि + ईश → महेश

नीचे दिए गए विकल्पों में से सबसे उपयुक्त उत्तर का चयन कीजिए:

- (1) केवल A व B
- (2) केवल C
- (3) केवल D
- (4) केवल E व C

Options :

- 92090660425. 1
- 92090660426. 2
- 92090660427. 3
- 92090660428. 4

Question Number : 8 Question Id : 92090615293 Question Type : MCQ Option Shuffling : No Is Question Mandatory : No Calculator : None Response Time : N.A Think Time : N.A Minimum Instruction Time : 0

Correct Marks : 4 Wrong Marks : 1

'वर्षा हो रही है' वाक्य में कौन सी क्रिया है ?

- (1) अकर्मक
- (2) सकर्मक
- (3) सहायक
- (4) संयुक्त

Options :

- 92090660429. 1
- 92090660430. 2
- 92090660431. 3
- 92090660432. 4

Question Number : 8 Question Id : 92090615293 Question Type : MCQ Option Shuffling : No Is Question Mandatory : No Calculator : None Response Time : N.A Think Time : N.A Minimum Instruction Time : 0

Correct Marks : 4 Wrong Marks : 1

'वर्षा हो रही है' वाक्य में कौन सी क्रिया है ?

- | | |
|------------|-------------|
| (1) अकर्मक | (2) सकर्मक |
| (3) सहायक | (4) संयुक्त |

Options :

92090660429. 1
92090660430. 2
92090660431. 3
92090660432. 4

Question Number : 9 Question Id : 92090615294 Question Type : MCQ Option Shuffling : No Is Question Mandatory : No Calculator : None Response Time : N.A Think Time : N.A Minimum Instruction Time : 0

Correct Marks : 4 Wrong Marks : 1

'परिश्रमी लोगों' को अधिक समय तक निराश नहीं होना पड़ता। उपरोक्त वाक्य में वाक्य का कौन-सा भेद है:

- A. सरल वाक्य
B. संयुक्त वाक्य
C. मिश्रित वाक्य
D. इच्छार्थक वाक्य
E. आज्ञार्थक वाक्य

नीचे दिए गए विकल्पों में से सही उत्तर का चयन कीजिए:

- (1) D व B
(2) B व C
(3) केवल A
(4) केवल E

Options :

92090660433. 1
92090660434. 2
92090660435. 3
92090660436. 4

Question Number : 9 Question Id : 92090615294 Question Type : MCQ Option Shuffling : No Is Question Mandatory : No Calculator : None Response Time : N.A Think Time : N.A Minimum Instruction Time : 0

Correct Marks : 4 Wrong Marks : 1

'परिश्रमी लोगों' को अधिक समय तक निराश नहीं होना पड़ता। उपरोक्त वाक्य में वाक्य का कौन-सा भेद है:

- A. सरल वाक्य
- B. संयुक्त वाक्य
- C. मिश्रित वाक्य
- D. इच्छार्थक वाक्य
- E. आज्ञार्थक वाक्य

नीचे दिए गए विकल्पों में से सही उत्तर का चयन कीजिए:

- (1) D व B
- (2) B व C
- (3) केवल A
- (4) केवल E

Options :

- 92090660433. 1
- 92090660434. 2
- 92090660435. 3
- 92090660436. 4

Question Number : 10 Question Id : 92090615295 Question Type : MCQ Option Shuffling : No Is Question Mandatory : No Calculator : None Response Time : N.A Think Time : N.A Minimum Instruction Time : 0

Correct Marks : 4 Wrong Marks : 1

सूची I के साथ सूची II का मिलान कीजिए

सूची-I (भाषा)	सूची -II (शब्द)
(A) फारसी	(I) अलमारी
(B) तुर्की	(II) टिकट
(C) अंग्रेजी	(III) दुश्मन
(D) पुर्तगाली	(IV) सरकार

नीचे दिए गए विकल्पों में से सही उत्तर का चयन कीजिए:

- (1) (A)-(I), (B)-(II), (C)-(III), (D)-(IV)
- (2) (A)-(IV), (B)-(III), (C)-(II), (D)-(I)
- (3) (A)-(III), (B)-(IV), (C)-(I), (D)-(II)
- (4) (A)-(II), (B)-(I), (C)-(IV), (D)-(III)

Options :

92090660437. 1
92090660438. 2
92090660439. 3
92090660440. 4

Question Number : 10 Question Id : 92090615295 Question Type : MCQ Option Shuffling : No Is Question Mandatory : No Calculator : None Response Time : N.A Think Time : N.A Minimum Instruction Time : 0

Correct Marks : 4 Wrong Marks : 1

सूची I के साथ सूची II का मिलान कीजिए

सूची-I (भाषा)	सूची -II (शब्द)
(A) फारसी	(I) अलमारी
(B) तुर्की	(II) टिकट
(C) अंग्रेजी	(III) दुश्मन
(D) पुर्तगाली	(IV) सरकार

नीचे दिए गए विकल्पों में से सही उत्तर का चयन कीजिए:

- (1) (A)-(I), (B)-(II), (C)-(III), (D)-(IV)
- (2) (A)-(IV), (B)-(III), (C)-(II), (D)-(I)
- (3) (A)-(III), (B)-(IV), (C)-(I), (D)-(II)
- (4) (A)-(II), (B)-(I), (C)-(IV), (D)-(III)

Options :

92090660437. 1
92090660438. 2
92090660439. 3
92090660440. 4

Question Number : 11 Question Id : 92090615296 Question Type : MCQ Option Shuffling : No Is Question Mandatory : No Calculator : None Response Time : N.A Think Time : N.A Minimum Instruction Time : 0

Correct Marks : 4 Wrong Marks : 1

एक नाव धारा के अनुकूल 12 km की दूरी एक घंटे में तय करती है तथा धारा का प्रतिकूल 6 km की दूरी एक घंटे में तय करती है। धारा की गति km/h में है:

- (1) 2 (2) 3
(3) 4 (4) 5

Options :

92090660441. 1
92090660442. 2
92090660443. 3
92090660444. 4

Question Number : 11 Question Id : 92090615296 Question Type : MCQ Option Shuffling : No Is Question Mandatory : No Calculator : None Response Time : N.A Think Time : N.A Minimum Instruction Time : 0

Correct Marks : 4 Wrong Marks : 1

एक नाव धारा के अनुकूल 12 km की दूरी एक घंटे में तय करती है तथा धारा का प्रतिकूल 6 km की दूरी एक घंटे में तय करती है। धारा की गति km/h में है:

- (1) 2 (2) 3
(3) 4 (4) 5

Options :

92090660441. 1
92090660442. 2
92090660443. 3
92090660444. 4

Question Number : 12 Question Id : 92090615297 Question Type : MCQ Option Shuffling : No Is Question Mandatory : No Calculator : None Response Time : N.A Think Time : N.A Minimum Instruction Time : 0

Correct Marks : 4 Wrong Marks : 1

$x = 3$ के लिए, $x^5 + x^4 - x^3 - x^2 + x - 1$ का मान होगा :

- (1) 280 (2) 270
(3) 290 (4) 300

Options :

92090660445. 1
92090660446. 2
92090660447. 3
92090660448. 4

Question Number : 12 Question Id : 92090615297 Question Type : MCQ Option Shuffling : No Is Question Mandatory : No Calculator : None Response Time : N.A Think Time : N.A Minimum Instruction Time : 0

Correct Marks : 4 Wrong Marks : 1

$x = 3$ के लिए, $x^5 + x^4 - x^3 - x^2 + x - 1$ का मान होगा :

- (1) 280 (2) 270
(3) 290 (4) 300

Options :

92090660445. 1
92090660446. 2
92090660447. 3
92090660448. 4

Question Number : 13 Question Id : 92090615298 Question Type : MCQ Option Shuffling : No Is Question Mandatory : No Calculator : None Response Time : N.A Think Time : N.A Minimum Instruction Time : 0

Correct Marks : 4 Wrong Marks : 1

धातु के बने तीन ठोस घनों की भुजाएँ क्रमशः 30 cm, 40 cm तथा 50 cm हैं। इन तीनों घनों को पिघलाकर बने नए घन की भुजा (cm में) ज्ञात करें।

- (1) 60 (2) 120
(3) 90 (4) 80

Options :

92090660449. 1
92090660450. 2
92090660451. 3
92090660452. 4

Question Number : 13 Question Id : 92090615298 Question Type : MCQ Option Shuffling : No Is Question Mandatory : No Calculator : None Response Time : N.A Think Time : N.A Minimum Instruction Time : 0

Correct Marks : 4 Wrong Marks : 1

धातु के बने तीन ठोस घनों की भुजाएँ क्रमशः 30 cm, 40 cm तथा 50 cm हैं। इन तीनों घनों को पिघलाकर बने नए घन की भुजा (cm में) ज्ञात करें।

- | | |
|--------|---------|
| (1) 60 | (2) 120 |
| (3) 90 | (4) 80 |

Options :

92090660449. 1
92090660450. 2
92090660451. 3
92090660452. 4

Question Number : 14 Question Id : 92090615299 Question Type : MCQ Option Shuffling : No Is Question Mandatory : No Calculator : None Response Time : N.A Think Time : N.A Minimum Instruction Time : 0

Correct Marks : 4 Wrong Marks : 1

अंकित की अपने क्रेडिट कार्ड पर ₹ 42,580 की देनदारी है परन्तु वह केवल ₹12,580 ही दे पाता है। यदि चक्रवृद्धि ब्याज की वार्षिक दर 10% हो, तो 4 वर्ष पश्चात् उस पर कितनी देनदारी होगी?

- | | |
|--------------|--------------|
| (1) ₹ 42,580 | (2) ₹ 43,000 |
| (3) ₹ 43,923 | (4) ₹ 44,228 |

Options :

92090660453. 1
92090660454. 2
92090660455. 3
92090660456. 4

Question Number : 14 Question Id : 92090615299 Question Type : MCQ Option Shuffling : No Is Question Mandatory : No Calculator : None Response Time : N.A Think Time : N.A Minimum Instruction Time : 0

Correct Marks : 4 Wrong Marks : 1

अंकित की अपने क्रेडिट कार्ड पर ₹ 42,580 की देनदारी है परन्तु वह केवल ₹12,580 ही दे पाता है। यदि चक्रवृद्धि ब्याज की वार्षिक दर 10% हो, तो 4 वर्ष पश्चात् उस पर कितनी देनदारी होगी?

- | | |
|--------------|--------------|
| (1) ₹ 42,580 | (2) ₹ 43,000 |
| (3) ₹ 43,923 | (4) ₹ 44,228 |

Options :

92090660453. 1
92090660454. 2
92090660455. 3
92090660456. 4

Question Number : 15 Question Id : 92090615300 Question Type : MCQ Option Shuffling : No Is Question Mandatory : No Calculator : None Response Time : N.A Think Time : N.A Minimum Instruction Time : 0

Correct Marks : 4 Wrong Marks : 1

किसी वस्तु को ₹50 में बेचने पर हुई हानि प्रतिशत तथा ₹70 में बेचने पर हुआ लाभ प्रतिशत बराबर हैं । वस्तु पर हुआ लाभ या हानि प्रतिशत है:

- (1) 10% (2) 12%
(3) $16\frac{2}{3}\%$ (4) $8\frac{1}{3}\%$

Options :

92090660457. 1
92090660458. 2
92090660459. 3
92090660460. 4

Question Number : 15 Question Id : 92090615300 Question Type : MCQ Option Shuffling : No Is Question Mandatory : No Calculator : None Response Time : N.A Think Time : N.A Minimum Instruction Time : 0

Correct Marks : 4 Wrong Marks : 1

किसी वस्तु को ₹50 में बेचने पर हुई हानि प्रतिशत तथा ₹70 में बेचने पर हुआ लाभ प्रतिशत बराबर हैं । वस्तु पर हुआ लाभ या हानि प्रतिशत है:

- (1) 10% (2) 12%
(3) $16\frac{2}{3}\%$ (4) $8\frac{1}{3}\%$

Options :

92090660457. 1
92090660458. 2
92090660459. 3
92090660460. 4

Question Number : 16 Question Id : 92090615301 Question Type : MCQ Option Shuffling : No Is Question Mandatory : No Calculator : None Response Time : N.A Think Time : N.A Minimum Instruction Time : 0

Correct Marks : 4 Wrong Marks : 1

संख्याओं के क्रम में अगली संख्या क्या होगी ?

0, 5, 22, 57, 116, _____

(1) 216

(2) 205

(3) 207

(4) 192

Options :

92090660461. 1

92090660462. 2

92090660463. 3

92090660464. 4

Question Number : 16 Question Id : 92090615301 Question Type : MCQ Option Shuffling : No Is Question Mandatory : No Calculator : None Response Time : N.A Think Time : N.A Minimum Instruction Time : 0

Correct Marks : 4 Wrong Marks : 1

संख्याओं के क्रम में अगली संख्या क्या होगी ?

0, 5, 22, 57, 116, _____

(1) 216

(2) 205

(3) 207

(4) 192

Options :

92090660461. 1

92090660462. 2

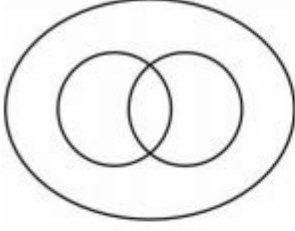
92090660463. 3

92090660464. 4

Question Number : 17 Question Id : 92090615302 Question Type : MCQ Option Shuffling : No Is Question Mandatory : No Calculator : None Response Time : N.A Think Time : N.A Minimum Instruction Time : 0

Correct Marks : 4 Wrong Marks : 1

निम्न में से इस चित्र को कौन सा समूह भलीभाँति प्रस्तुत करता है:



- A. आदमी, नागरिक, शिक्षित
- B. व्यवसायिक, डॉक्टर, वकील
- C. रोग, कुष्ठ, रक्तरोग
- D. पृथ्वी, पहाड़ा, जंगल
- E. वातावरण, जल, हाइड्रोजन

नीचे दिए गए विकल्पों में से सही उत्तर का चयन कीजिए:

- (1) केवल A और B
- (2) केवल B और D
- (3) केवल A और D
- (4) केवल C और E

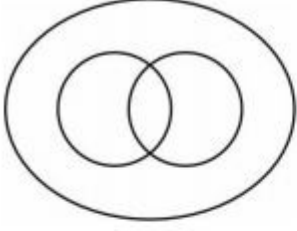
Options :

- 92090660465. 1
- 92090660466. 2
- 92090660467. 3
- 92090660468. 4

Question Number : 17 Question Id : 92090615302 Question Type : MCQ Option Shuffling : No Is Question Mandatory : No Calculator : None Response Time : N.A Think Time : N.A Minimum Instruction Time : 0

Correct Marks : 4 Wrong Marks : 1

निम्न में से इस चित्र को कौन सा समूह भलीभाँति प्रस्तुत करता है:



- A. आदमी, नागरिक, शिक्षित
- B. व्यवसायिक, डॉक्टर, वकील
- C. रोग, कुष्ठ, रक्तरोग
- D. पृथ्वी, पहाड़ा, जंगल
- E. वातावरण, जल, हाइड्रोजन

नीचे दिए गए विकल्पों में से सही उत्तर का चयन कीजिए:

- (1) केवल A और B
- (2) केवल B और D
- (3) केवल A और D
- (4) केवल C और E

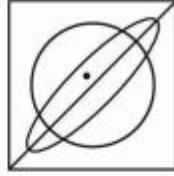
Options :

- 92090660465. 1
- 92090660466. 2
- 92090660467. 3
- 92090660468. 4

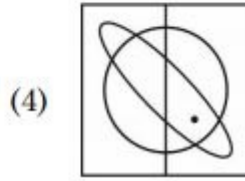
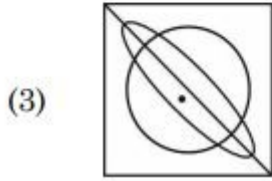
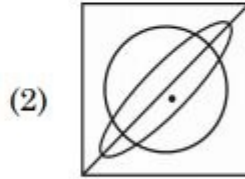
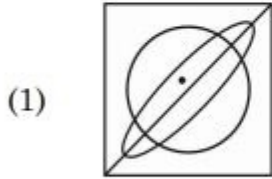
Question Number : 18 Question Id : 92090615303 Question Type : MCQ Option Shuffling : No Is Question Mandatory : No Calculator : None Response Time : N.A Think Time : N.A Minimum Instruction Time : 0

Correct Marks : 4 Wrong Marks : 1

चित्र (X) के जल प्रतिबिम्ब को पहचानिए।



चित्र (X)



Options :

92090660469. 1

92090660470. 2

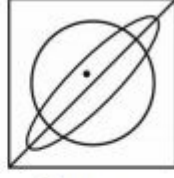
92090660471. 3

92090660472. 4

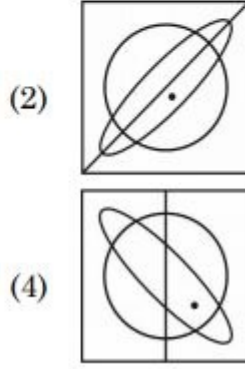
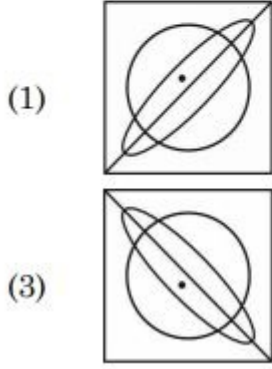
Question Number : 18 Question Id : 92090615303 Question Type : MCQ Option Shuffling : No Is Question Mandatory : No Calculator : None Response Time : N.A Think Time : N.A Minimum Instruction Time : 0

Correct Marks : 4 Wrong Marks : 1

चित्र (X) के जल प्रतिबिम्ब को पहचानिए।



चित्र (X)



Options :

- 92090660469. 1
- 92090660470. 2
- 92090660471. 3
- 92090660472. 4

Question Number : 19 Question Id : 92090615304 Question Type : MCQ Option Shuffling : No Is Question Mandatory : No Calculator : None Response Time : N.A Think Time : N.A Minimum Instruction Time : 0

Correct Marks : 4 Wrong Marks : 1

यदि एक निश्चित भाषा के GRASP को BMVNK लिखा जाता है, तो बताइए कि CRANE को कैसे लिखा जाएगा?

- (1) FUDQH
- (2) GVERI
- (3) HWFSJ
- (4) BQZMD

Options :

- 92090660473. 1
- 92090660474. 2
- 92090660475. 3
- 92090660476. 4

Question Number : 19 Question Id : 92090615304 Question Type : MCQ Option Shuffling : No Is Question Mandatory : No Calculator : None Response Time : N.A Think Time : N.A Minimum Instruction Time : 0

Correct Marks : 4 Wrong Marks : 1

यदि एक निश्चित भाषा के GRASP को BMVNK लिखा जाता है, तो बताइए कि CRANE को कैसे लिखा जाएगा?

- (1) FUDQH (2) GVERI
(3) HWFSJ (4) BQZMD

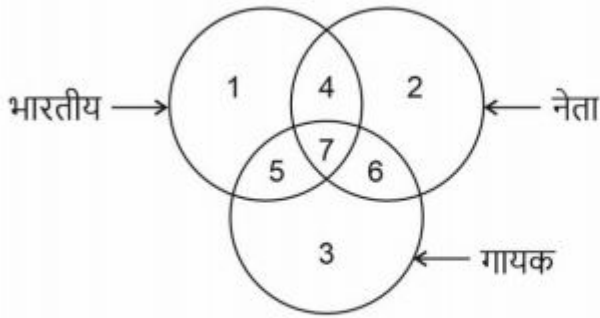
Options :

92090660473. 1
92090660474. 2
92090660475. 3
92090660476. 4

Question Number : 20 Question Id : 92090615305 Question Type : MCQ Option Shuffling : No Is Question Mandatory : No Calculator : None Response Time : N.A Think Time : N.A Minimum Instruction Time : 0

Correct Marks : 4 Wrong Marks : 1

कौन-सा भाग ऐसे नेताओं को दर्शाता है जो न तो गायक हैं और न ही भारतीय?



- (1) 3 (2) 6
(3) 2 (4) 4

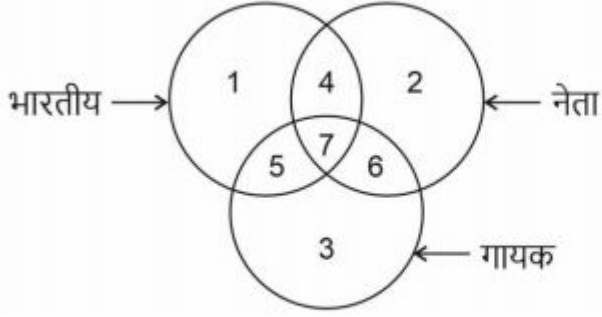
Options :

92090660477. 1
92090660478. 2
92090660479. 3
92090660480. 4

Question Number : 20 Question Id : 92090615305 Question Type : MCQ Option Shuffling : No Is Question Mandatory : No Calculator : None Response Time : N.A Think Time : N.A Minimum Instruction Time : 0

Correct Marks : 4 Wrong Marks : 1

कौन-सा भाग ऐसे नेताओं को दर्शाता है जो न तो गायक है और न ही भारतीय?



(1) 3

(2) 6

(3) 2

(4) 4

Options :

92090660477. 1

92090660478. 2

92090660479. 3

92090660480. 4

Question Number : 21 Question Id : 92090615306 Question Type : MCQ Option Shuffling : No Is Question Mandatory : No Calculator : None Response Time : N.A Think Time : N.A Minimum Instruction Time : 0

Correct Marks : 4 Wrong Marks : 1

कटक, उड़ीसा में हुये उड़ीसा ओपन बैडमिन्टन टूर्नामेंट में किसने वूमैन्स सिंगल टाइटल 2022 को जीता?

(1) अशली बर्टी

(2) उन्नति हुडा

(3) पी.वी. सिन्धु

(4) सायना नेहवाल

Options :

92090660481. 1

92090660482. 2

92090660483. 3

92090660484. 4

Question Number : 21 Question Id : 92090615306 Question Type : MCQ Option Shuffling : No Is Question Mandatory : No Calculator : None Response Time : N.A Think Time : N.A Minimum Instruction Time : 0

Correct Marks : 4 Wrong Marks : 1

कटक, उड़ीसा में हुये उड़ीसा ओपन बैडमिन्टन टूर्नामेंट मे किसने वूमेन्स सिंगल टाइटल 2022 को जीता?

- | | |
|-------------------|------------------|
| (1) अशली बर्टी | (2) उन्नति हुडा |
| (3) पी.वी. सिन्धु | (4) सायना नेहवाल |

Options :

92090660481. 1
92090660482. 2
92090660483. 3
92090660484. 4

Question Number : 22 Question Id : 92090615307 Question Type : MCQ Option Shuffling : No Is Question Mandatory : No Calculator : None Response Time : N.A Think Time : N.A Minimum Instruction Time : 0

Correct Marks : 4 Wrong Marks : 1

पं. शिवकुमार शर्मा जिनका देहांत मई 2022 में हुआ, वादक थे:

- | | |
|-------------|-----------|
| (1) बांसुरी | (2) संतूर |
| (3) तबला | (4) एसराज |

Options :

92090660485. 1
92090660486. 2
92090660487. 3
92090660488. 4

Question Number : 22 Question Id : 92090615307 Question Type : MCQ Option Shuffling : No Is Question Mandatory : No Calculator : None Response Time : N.A Think Time : N.A Minimum Instruction Time : 0

Correct Marks : 4 Wrong Marks : 1

पं. शिवकुमार शर्मा जिनका देहांत मई 2022 में हुआ, वादक थे:

- | | |
|-------------|-----------|
| (1) बांसुरी | (2) संतूर |
| (3) तबला | (4) एसराज |

Options :

92090660485. 1
92090660486. 2
92090660487. 3
92090660488. 4

Question Number : 23 Question Id : 92090615308 Question Type : MCQ Option Shuffling : No Is Question Mandatory : No Calculator : None Response Time : N.A Think Time : N.A Minimum Instruction Time : 0

Correct Marks : 4 Wrong Marks : 1

भारत की सबसे लम्बी गैस पाइप लाइन किस कम्पनी द्वारा चालित होती है?

- | | |
|-------------------------|---------------------|
| (1) रिलायन्स पेट्रोलियम | (2) GAIL |
| (3) ONGC | (4) भारत पेट्रोलियम |

Options :

- 92090660489. 1
- 92090660490. 2
- 92090660491. 3
- 92090660492. 4

Question Number : 23 Question Id : 92090615308 Question Type : MCQ Option Shuffling : No Is Question Mandatory : No Calculator : None Response Time : N.A Think Time : N.A Minimum Instruction Time : 0

Correct Marks : 4 Wrong Marks : 1

भारत की सबसे लम्बी गैस पाइप लाइन किस कम्पनी द्वारा चालित होती है?

- | | |
|-------------------------|---------------------|
| (1) रिलायन्स पेट्रोलियम | (2) GAIL |
| (3) ONGC | (4) भारत पेट्रोलियम |

Options :

- 92090660489. 1
- 92090660490. 2
- 92090660491. 3
- 92090660492. 4

Question Number : 24 Question Id : 92090615309 Question Type : MCQ Option Shuffling : No Is Question Mandatory : No Calculator : None Response Time : N.A Think Time : N.A Minimum Instruction Time : 0

Correct Marks : 4 Wrong Marks : 1

इनमें से कौन सी वस्तु शत प्रतिशत रीसाइकल की जा सकती है?

- (1) अवशिष्ट खाद्य
- (2) कांच की बोतल
- (3) एल्यूमीनियम केन्स
- (4) कार्ड बोर्ड

Options :

- 92090660493. 1

92090660494. 2

92090660495. 3

92090660496. 4

Question Number : 24 Question Id : 92090615309 Question Type : MCQ Option Shuffling : No Is Question Mandatory : No Calculator : None Response Time : N.A Think Time : N.A Minimum Instruction Time : 0

Correct Marks : 4 Wrong Marks : 1

इनमें से कौन सी वस्तु शत प्रतिशत रीसाइकल की जा सकती है?

- (1) अवशिष्ट खाद्य
- (2) कांच की बोतल
- (3) एल्यूमीनियम केन्स
- (4) कार्ड बोर्ड

Options :

92090660493. 1

92090660494. 2

92090660495. 3

92090660496. 4

Question Number : 25 Question Id : 92090615310 Question Type : MCQ Option Shuffling : No Is Question Mandatory : No Calculator : None Response Time : N.A Think Time : N.A Minimum Instruction Time : 0

Correct Marks : 4 Wrong Marks : 1

कथन I : "लोकसभा और राज्य विधान सभाओं के कार्यकाल का 5 साल तक बहाल करना" भारतीय संविधान के 52 वें संशोधन के तहत पारित किया गया ।

कथन II : भारतीय संविधान के 99वें संशोधन में राष्ट्रीय न्यायिक नियुक्ति आयोग के गठन का प्रावधान है।

उपरोक्त कथन के आलोक में, नीचे दिए गए विकल्पों में से सही उत्तरका चयन कीजिए

- (1) दोनों कथन I व कथन II दोनों सही हैं
- (2) दोनों कथन I व कथन II दोनों गलत हैं
- (3) कथन I सही किन्तु कथन II गलत है
- (4) कथन I गलत किन्तु कथन II सही है

Options :

92090660497. 1

92090660498. 2

92090660499. 3

92090660500. 4

Question Number : 25 Question Id : 92090615310 Question Type : MCQ Option Shuffling : No Is Question Mandatory : No Calculator : None Response Time : N.A Think Time : N.A Minimum Instruction Time : 0

Correct Marks : 4 Wrong Marks : 1

कथन I : "लोकसभा और राज्य विधान सभाओं के कार्यकाल का 5 साल तक बहाल करना" भारतीय संविधान के 52 वें संशोधन के तहत पारित किया गया ।

कथन II : भारतीय संविधान के 99वें संशोधन में राष्ट्रीय न्यायिक नियुक्ति आयोग के गठन का प्रावधान है।

उपरोक्त कथन के आलोक में, नीचे दिए गए विकल्पों में से सही उत्तरका चयन कीजिए

- (1) दोनों कथन I व कथन II दोनों सही हैं
- (2) दोनों कथन I व कथन II दोनों गलत हैं
- (3) कथन I सही किन्तु कथन II गलत है
- (4) कथन I गलत किन्तु कथन II सही है

Options :

92090660497. 1

92090660498. 2

92090660499. 3

92090660500. 4

Part B: Museology

Section Id :	920906304
Section Number :	2
Section type :	Online
Mandatory or Optional :	Mandatory
Number of Questions :	75
Number of Questions to be attempted :	75
Section Marks :	300
Enable Mark as Answered Mark for Review and Clear Response :	Yes
Maximum Instruction Time :	0
Sub-Section Number :	1
Sub-Section Id :	920906492
Question Shuffling Allowed :	Yes
Is Section Default? :	null

Question Number : 26 Question Id : 92090615311 Question Type : MCQ Option Shuffling : No Is Question Mandatory : No Calculator : None Response Time : N.A Think Time : N.A Minimum Instruction Time : 0

Correct Marks : 4 Wrong Marks : 1

The Buddha of Bamiyan were 6th century monumental statues carved into the side of a cliff in the Bamiyan Valley in-

- | | |
|-----------------|---------------|
| (1) Iran | (2) Sri Lanka |
| (3) Afghanistan | (4) China |

Options :

- 92090660501. 1
- 92090660502. 2
- 92090660503. 3
- 92090660504. 4

Question Number : 26 Question Id : 92090615311 Question Type : MCQ Option Shuffling : No Is Question Mandatory : No Calculator : None Response Time : N.A Think Time : N.A Minimum Instruction Time : 0

Correct Marks : 4 Wrong Marks : 1

बामियान में बुद्ध की 6ठी शताब्दी की स्मारक मूर्तियाँ थीं जिन्हें बामियान घाटी के पहाड़ों पर किस देश में बनाया गया था?

- | | |
|-----------------|--------------|
| (1) इरान | (2) श्रीलंका |
| (3) अफगानिस्तान | (4) चीन |

Options :

- 92090660501. 1
- 92090660502. 2
- 92090660503. 3
- 92090660504. 4

Question Number : 27 Question Id : 92090615312 Question Type : MCQ Option Shuffling : No Is Question Mandatory : No Calculator : None Response Time : N.A Think Time : N.A Minimum Instruction Time : 0

Correct Marks : 4 Wrong Marks : 1

The ancient Buddhist University is located at-

- | | |
|------------|-------------------|
| (1) Bihar | (2) Odisha |
| (3) Punjab | (4) Uttar Pradesh |

Options :

- 92090660505. 1
- 92090660506. 2
- 92090660507. 3
- 92090660508. 4

Question Number : 27 Question Id : 92090615312 Question Type : MCQ Option Shuffling : No Is Question Mandatory : No Calculator : None Response Time : N.A Think Time : N.A Minimum Instruction Time : 0

Correct Marks : 4 Wrong Marks : 1

प्राचीन बौद्ध विश्वविद्यालय कहां अवस्थित है?

- | | |
|-----------|------------------|
| (1) बिहार | (2) ओडिशा |
| (3) पंजाब | (4) उत्तर प्रदेश |

Options :

- 92090660505. 1
- 92090660506. 2
- 92090660507. 3
- 92090660508. 4

Question Number : 28 Question Id : 92090615313 Question Type : MCQ Option Shuffling : No Is Question Mandatory : No Calculator : None Response Time : N.A Think Time : N.A Minimum Instruction Time : 0

Correct Marks : 4 Wrong Marks : 1

Terracotta means:

- | | |
|----------------|------------|
| (1) Mud | (2) Fossil |
| (3) Baked clay | (4) Sand |

Options :

- 92090660509. 1
- 92090660510. 2
- 92090660511. 3
- 92090660512. 4

Question Number : 28 Question Id : 92090615313 Question Type : MCQ Option Shuffling : No Is Question Mandatory : No Calculator : None Response Time : N.A Think Time : N.A Minimum Instruction Time : 0

Correct Marks : 4 Wrong Marks : 1

टेराकोटा का अर्थ है-

- | | |
|--------------------|-------------|
| (1) कीचड़ | (2) जीवाश्म |
| (3) पकाई गई मिट्टी | (4) बालू |

Options :

- 92090660509. 1
- 92090660510. 2
- 92090660511. 3

92090660512. 4

Question Number : 29 Question Id : 92090615314 Question Type : MCQ Option Shuffling : No Is Question Mandatory : No Calculator : None Response Time : N.A Think Time : N.A Minimum Instruction Time : 0

Correct Marks : 4 Wrong Marks : 1

The term sculpture is derived from the Latin word 'Sculptura'; it means-

- | | |
|--------------------------|---------------------------------|
| (1) To build stone house | (2) To carve a stone |
| (3) To make a pottery | (4) To draw a painting on stone |

Options :

- 92090660513. 1
- 92090660514. 2
- 92090660515. 3
- 92090660516. 4

Question Number : 29 Question Id : 92090615314 Question Type : MCQ Option Shuffling : No Is Question Mandatory : No Calculator : None Response Time : N.A Think Time : N.A Minimum Instruction Time : 0

Correct Marks : 4 Wrong Marks : 1

'स्कल्पचर' शब्द की व्युत्पत्ति लैटिन शब्द 'स्कल्पतुरा' से हुई है; इसका अर्थ है -

- | | |
|-----------------------|-----------------------------|
| (1) पत्थर का घर बनाना | (2) पत्थर का उत्कीर्णन करना |
| (3) भांडकर्म | (4) पत्थर पर चित्र बनाना |

Options :

- 92090660513. 1
- 92090660514. 2
- 92090660515. 3
- 92090660516. 4

Question Number : 30 Question Id : 92090615315 Question Type : MCQ Option Shuffling : No Is Question Mandatory : No Calculator : None Response Time : N.A Think Time : N.A Minimum Instruction Time : 0

Correct Marks : 4 Wrong Marks : 1

The Nile River is associated with-

- | | |
|------------------------------|---------------------------|
| (1) Mesopotamia Civilization | (2) Egyptian Civilization |
| (3) Harappa Civilization | (4) Greek Civilization |

Options :

- 92090660517. 1

92090660518. 2

92090660519. 3

92090660520. 4

Question Number : 30 Question Id : 92090615315 Question Type : MCQ Option Shuffling : No Is Question Mandatory : No Calculator : None Response Time : N.A Think Time : N.A Minimum Instruction Time : 0

Correct Marks : 4 Wrong Marks : 1

नील नदी किससे संबंधित है?

- | | |
|----------------------------|----------------------|
| (1) मेसोपोटामिया की सभ्यता | (2) इजिप्ट की सभ्यता |
| (3) हड़प्पा सभ्यता | (4) यूनानी सभ्यता |

Options :

92090660517. 1

92090660518. 2

92090660519. 3

92090660520. 4

Question Number : 31 Question Id : 92090615316 Question Type : MCQ Option Shuffling : No Is Question Mandatory : No Calculator : None Response Time : N.A Think Time : N.A Minimum Instruction Time : 0

Correct Marks : 4 Wrong Marks : 1

Mona Lisa was created by:

- | | |
|-----------------------|----------------------|
| (1) Raphael | (2) Pablo Picasso |
| (3) Leonardo Da Vinci | (4) Vincent Van Gogh |

Options :

92090660521. 1

92090660522. 2

92090660523. 3

92090660524. 4

Question Number : 31 Question Id : 92090615316 Question Type : MCQ Option Shuffling : No Is Question Mandatory : No Calculator : None Response Time : N.A Think Time : N.A Minimum Instruction Time : 0

Correct Marks : 4 Wrong Marks : 1

मोनालिसा की रचना किसने की?

- | | |
|-------------------------|---------------------|
| (1) रफायेल | (2) पाबलो पिकासो |
| (3) लियानार्डो दा विंसी | (4) विंसेंट वॉन गॉग |

Options :

92090660521. 1
92090660522. 2
92090660523. 3
92090660524. 4

Question Number : 32 Question Id : 92090615317 Question Type : MCQ Option Shuffling : No Is Question Mandatory : No Calculator : None Response Time : N.A Think Time : N.A Minimum Instruction Time : 0

Correct Marks : 4 Wrong Marks : 1

Which Art Gallery is famous for the painting of Raja Rabi Varma?

- (1) Dogra Art Gallery (2) Ashutosh Museum of Indian Art
(3) Jayachamarajendra Art Gallery (4) Jahangir Art Gallery

Options :

92090660525. 1
92090660526. 2
92090660527. 3
92090660528. 4

Question Number : 32 Question Id : 92090615317 Question Type : MCQ Option Shuffling : No Is Question Mandatory : No Calculator : None Response Time : N.A Think Time : N.A Minimum Instruction Time : 0

Correct Marks : 4 Wrong Marks : 1

राजा रवि वर्मा की चित्रकारी के लिए कौन सी कला दीर्घा प्रसिद्ध है?

- (1) डोगरा कला दीर्घा (2) आशुतोष म्युजियम ऑफ इंडियन आर्ट
(3) जयचामराजेंद्र कला दीर्घा (4) जहांगीर कला दीर्घा

Options :

92090660525. 1
92090660526. 2
92090660527. 3
92090660528. 4

Question Number : 33 Question Id : 92090615318 Question Type : MCQ Option Shuffling : No Is Question Mandatory : No Calculator : None Response Time : N.A Think Time : N.A Minimum Instruction Time : 0

Correct Marks : 4 Wrong Marks : 1

Ragamala miniatures were painted during the reign of -

- (1) Akbar (2) Aurangzeb
(3) Shah Jahan (4) Jahangir

Options :

- 92090660529. 1
- 92090660530. 2
- 92090660531. 3
- 92090660532. 4

Question Number : 33 Question Id : 92090615318 Question Type : MCQ Option Shuffling : No Is Question Mandatory : No Calculator : None Response Time : N.A Think Time : N.A Minimum Instruction Time : 0

Correct Marks : 4 Wrong Marks : 1

रागमाला लघुचित्र किसके शासन काल में चित्रित किए गए थे?

- | | |
|-------------|-------------|
| (1) अकबर | (2) औरंगजेब |
| (3) शाहजहां | (4) जहांगीर |

Options :

- 92090660529. 1
- 92090660530. 2
- 92090660531. 3
- 92090660532. 4

Question Number : 34 Question Id : 92090615319 Question Type : MCQ Option Shuffling : No Is Question Mandatory : No Calculator : None Response Time : N.A Think Time : N.A Minimum Instruction Time : 0

Correct Marks : 4 Wrong Marks : 1

Jantar-Mantar is a phenomenal piece of architecture in the form of:

- | | |
|--------------|-------------|
| (1) Palace | (2) Temple |
| (3) Monument | (4) Sundial |

Options :

- 92090660533. 1
- 92090660534. 2
- 92090660535. 3
- 92090660536. 4

Question Number : 34 Question Id : 92090615319 Question Type : MCQ Option Shuffling : No Is Question Mandatory : No Calculator : None Response Time : N.A Think Time : N.A Minimum Instruction Time : 0

Correct Marks : 4 Wrong Marks : 1

वास्तुकला की अद्भुत कृति जंतर मंतर किस स्वरूप में है?

- | | |
|------------|--------------|
| (1) महल | (2) मंदिर |
| (3) स्मारक | (4) सूर्यघडी |

Options :

92090660533. 1
92090660534. 2
92090660535. 3
92090660536. 4

Question Number : 35 Question Id : 92090615320 Question Type : MCQ Option Shuffling : No Is Question Mandatory : No Calculator : None Response Time : N.A Think Time : N.A Minimum Instruction Time : 0

Correct Marks : 4 Wrong Marks : 1

Cultural landscape of Bali consists of five_____ terraces and their water temples.

- | | |
|-----------|-----------|
| (1) Rice | (2) Wheat |
| (3) Bajra | (4) Maize |

Options :

92090660537. 1
92090660538. 2
92090660539. 3
92090660540. 4

Question Number : 35 Question Id : 92090615320 Question Type : MCQ Option Shuffling : No Is Question Mandatory : No Calculator : None Response Time : N.A Think Time : N.A Minimum Instruction Time : 0

Correct Marks : 4 Wrong Marks : 1

बाली के सांस्कृतिक भूदृश्य में पांच _____ के छज्जे (टेरेस) और उनके जल मंदिर शामिल है

- | | |
|-----------|-----------|
| (1) चावल | (2) गेहूं |
| (3) बाजरा | (4) मक्का |

Options :

92090660537. 1
92090660538. 2
92090660539. 3
92090660540. 4

Question Number : 36 Question Id : 92090615321 Question Type : MCQ Option Shuffling : No Is Question Mandatory : No Calculator : None Response Time : N.A Think Time : N.A Minimum

Instruction Time : 0

Correct Marks : 4 Wrong Marks : 1

Lumbini in Nepal is famous for:

- | | |
|------------------------------------|-----------------------------------|
| (1) Birth place of Vikramaditya II | (2) Birth place of Mahavir |
| (3) Birth place of Ashoka | (4) Birth place of Gautama Buddha |

Options :

- 92090660541. 1
- 92090660542. 2
- 92090660543. 3
- 92090660544. 4

Question Number : 36 Question Id : 92090615321 Question Type : MCQ Option Shuffling : No Is Question Mandatory : No Calculator : None Response Time : N.A Think Time : N.A Minimum Instruction Time : 0

Correct Marks : 4 Wrong Marks : 1

नेपाल का लुंबिनी किस लिए प्रसिद्ध है?

- | | |
|-----------------------------------|------------------------------|
| (1) विक्रमादित्य II का जन्म स्थान | (2) महावीर का जन्म स्थान |
| (3) अशोक का जन्म स्थान | (4) गौतम बुद्ध का जन्म स्थान |

Options :

- 92090660541. 1
- 92090660542. 2
- 92090660543. 3
- 92090660544. 4

Question Number : 37 Question Id : 92090615322 Question Type : MCQ Option Shuffling : No Is Question Mandatory : No Calculator : None Response Time : N.A Think Time : N.A Minimum Instruction Time : 0

Correct Marks : 4 Wrong Marks : 1

Mithila painting is also known as:

- | | |
|-------------------------|------------------------|
| (1) Rajasthani painting | (2) Basholi painting |
| (3) Kalighat painting | (4) Madhubani painting |

Options :

- 92090660545. 1
- 92090660546. 2
- 92090660547. 3
- 92090660548. 4

Question Number : 37 Question Id : 92090615322 Question Type : MCQ Option Shuffling : No Is Question Mandatory : No Calculator : None Response Time : N.A Think Time : N.A Minimum Instruction Time : 0

Correct Marks : 4 Wrong Marks : 1

मिथिला पेंटिंग को किस अन्य नाम से भी जाना जाता है?

- | | |
|-----------------------|-------------------|
| (1) राजस्थानी पेंटिंग | (2) बशोली पेंटिंग |
| (3) कालीघाट पेंटिंग | (4) मधुबनी लोककला |

Options :

92090660545. 1
92090660546. 2
92090660547. 3
92090660548. 4

Question Number : 38 Question Id : 92090615323 Question Type : MCQ Option Shuffling : No Is Question Mandatory : No Calculator : None Response Time : N.A Think Time : N.A Minimum Instruction Time : 0

Correct Marks : 4 Wrong Marks : 1

Patachitra refers to the folk painting of the state of:

- | | |
|--------------|------------|
| (1) Punjab | (2) Odisha |
| (3) Nagaland | (4) Kerala |

Options :

92090660549. 1
92090660550. 2
92090660551. 3
92090660552. 4

Question Number : 38 Question Id : 92090615323 Question Type : MCQ Option Shuffling : No Is Question Mandatory : No Calculator : None Response Time : N.A Think Time : N.A Minimum Instruction Time : 0

Correct Marks : 4 Wrong Marks : 1

पटचित्र किस राज्य की लोक चित्रकला से संबंधित है?

- | | |
|--------------|-----------|
| (1) पंजाब | (2) ओडिशा |
| (3) नागालैंड | (4) केरल |

Options :

92090660549. 1
92090660550. 2
92090660551. 3
92090660552. 4

Question Number : 39 Question Id : 92090615324 Question Type : MCQ Option Shuffling : No Is Question Mandatory : No Calculator : None Response Time : N.A Think Time : N.A Minimum Instruction Time : 0

Correct Marks : 4 Wrong Marks : 1

Elephanta caves are dedicated to:

- | | |
|--------------|------------|
| (1) Shiva | (2) Buddha |
| (3) Mahavira | (4) Sun |

Options :

- 92090660553. 1
- 92090660554. 2
- 92090660555. 3
- 92090660556. 4

Question Number : 39 Question Id : 92090615324 Question Type : MCQ Option Shuffling : No Is Question Mandatory : No Calculator : None Response Time : N.A Think Time : N.A Minimum Instruction Time : 0

Correct Marks : 4 Wrong Marks : 1

एलिफैंटा की गुफायें किसको समर्पित हैं?

- | | |
|------------|-----------|
| (1) शिव | (2) बुद्ध |
| (3) महावीर | (4) सूर्य |

Options :

- 92090660553. 1
- 92090660554. 2
- 92090660555. 3
- 92090660556. 4

Question Number : 40 Question Id : 92090615325 Question Type : MCQ Option Shuffling : No Is Question Mandatory : No Calculator : None Response Time : N.A Think Time : N.A Minimum Instruction Time : 0

Correct Marks : 4 Wrong Marks : 1

Golden temple is splendid example of:

- | | |
|--------------------------|--------------------------------------|
| (1) Gothic style | (2) French architecture |
| (3) Kalinga architecture | (4) Indo Islamic Mughal architecture |

Options :

- 92090660557. 1
- 92090660558. 2
- 92090660559. 3

92090660560. 4

Question Number : 40 Question Id : 92090615325 Question Type : MCQ Option Shuffling : No Is Question Mandatory : No Calculator : None Response Time : N.A Think Time : N.A Minimum Instruction Time : 0

Correct Marks : 4 Wrong Marks : 1

स्वर्ण मंदिर किसका शानदार उदाहरण है?

- | | |
|---------------------|---------------------------------|
| (1) गोथिक शैली | (2) फ्रेंच वास्तुकला |
| (3) कलिंग वास्तुकला | (4) ईडो इस्लामिक मुगल वास्तुकला |

Options :

92090660557. 1
92090660558. 2
92090660559. 3
92090660560. 4

Question Number : 41 Question Id : 92090615326 Question Type : MCQ Option Shuffling : No Is Question Mandatory : No Calculator : None Response Time : N.A Think Time : N.A Minimum Instruction Time : 0

Correct Marks : 4 Wrong Marks : 1

Kashmiri King, Lalitaditya Muktapida built a temple in 8th century at Martand in Anantnag it was a:

- | | |
|---------------------|-----------------|
| (1) Buddhist Temple | (2) Sun Temple |
| (3) Shiva Temple | (4) Jain Temple |

Options :

92090660561. 1
92090660562. 2
92090660563. 3
92090660564. 4

Question Number : 41 Question Id : 92090615326 Question Type : MCQ Option Shuffling : No Is Question Mandatory : No Calculator : None Response Time : N.A Think Time : N.A Minimum Instruction Time : 0

Correct Marks : 4 Wrong Marks : 1

कश्मीरी राजा, ललितादित्य मुक्तापीड ने अनंतनाग के मार्तंड में 8 वीं शताब्दी में एक मंदिर का निर्माण कराया था यह था :-

- | | |
|-----------------|-----------------|
| (1) बौद्ध मंदिर | (2) सूर्य मंदिर |
| (3) शिव मंदिर | (4) जैन मंदिर |

Options :

- 92090660561. 1
- 92090660562. 2
- 92090660563. 3
- 92090660564. 4

Question Number : 42 Question Id : 92090615327 Question Type : MCQ Option Shuffling : No Is Question Mandatory : No Calculator : None Response Time : N.A Think Time : N.A Minimum Instruction Time : 0

Correct Marks : 4 Wrong Marks : 1

Gothic style is related to:

- | | |
|------------|-----------|
| (1) France | (2) Egypt |
| (3) China | (4) India |

Options :

- 92090660565. 1
- 92090660566. 2
- 92090660567. 3
- 92090660568. 4

Question Number : 42 Question Id : 92090615327 Question Type : MCQ Option Shuffling : No Is Question Mandatory : No Calculator : None Response Time : N.A Think Time : N.A Minimum Instruction Time : 0

Correct Marks : 4 Wrong Marks : 1

गोथिक शैली किससे संबंधित है?

- | | |
|-------------|------------|
| (1) फ़्रांस | (2) इजिप्ट |
| (3) चीन | (4) भारत |

Options :

- 92090660565. 1
- 92090660566. 2
- 92090660567. 3
- 92090660568. 4

Question Number : 43 Question Id : 92090615328 Question Type : MCQ Option Shuffling : No Is Question Mandatory : No Calculator : None Response Time : N.A Think Time : N.A Minimum Instruction Time : 0

Correct Marks : 4 Wrong Marks : 1

The colosseum in Rome was primarily for:

- | | |
|-------------------------|-----------------------------|
| (1) Residential Complex | (2) Amphitheater |
| (3) Market | (4) Educational Institution |

Options :

92090660569. 1
92090660570. 2
92090660571. 3
92090660572. 4

Question Number : 43 Question Id : 92090615328 Question Type : MCQ Option Shuffling : No Is Question Mandatory : No Calculator : None Response Time : N.A Think Time : N.A Minimum Instruction Time : 0

Correct Marks : 4 Wrong Marks : 1

रोम का कोलोसियम मुख्यतः क्या था?

- | | |
|------------------|----------------------|
| (1) आवासीय परिसर | (2) एम्पीथिएटर |
| (3) बाजार | (4) शैक्षणिक संस्थान |

Options :

92090660569. 1
92090660570. 2
92090660571. 3
92090660572. 4

Question Number : 44 Question Id : 92090615329 Question Type : MCQ Option Shuffling : No Is Question Mandatory : No Calculator : None Response Time : N.A Think Time : N.A Minimum Instruction Time : 0

Correct Marks : 4 Wrong Marks : 1

What was the art of painting in the 19th century of India?

- | | |
|------------------------|--------------------------|
| (1) Pahari painting | (2) Bengal school of Art |
| (3) Miniature painting | (4) Ragmala painting |

Options :

92090660573. 1
92090660574. 2
92090660575. 3
92090660576. 4

Question Number : 44 Question Id : 92090615329 Question Type : MCQ Option Shuffling : No Is Question Mandatory : No Calculator : None Response Time : N.A Think Time : N.A Minimum Instruction Time : 0

Correct Marks : 4 Wrong Marks : 1

भारत में 19 वीं शताब्दी में कौन सी चित्रकला थी?

- | | |
|---------------------|-------------------------|
| (1) पहाड़ी चित्रकला | (2) बंगाल स्कूल ऑफ आर्ट |
| (3) लघु चित्रकला | (4) रागमाला चित्रकला |

Options :

- 92090660573. 1
- 92090660574. 2
- 92090660575. 3
- 92090660576. 4

Question Number : 45 Question Id : 92090615330 Question Type : MCQ Option Shuffling : No Is Question Mandatory : No Calculator : None Response Time : N.A Think Time : N.A Minimum Instruction Time : 0

Correct Marks : 4 Wrong Marks : 1

The Last Supper was created by:

- | | |
|-----------------------|-------------------|
| (1) Van Gagh | (2) Pablo Picasso |
| (3) Leonardo da Vinci | (4) Michelangelo |

Options :

- 92090660577. 1
- 92090660578. 2
- 92090660579. 3
- 92090660580. 4

Question Number : 45 Question Id : 92090615330 Question Type : MCQ Option Shuffling : No Is Question Mandatory : No Calculator : None Response Time : N.A Think Time : N.A Minimum Instruction Time : 0

Correct Marks : 4 Wrong Marks : 1

द लास्ट सपर किसकी रचना है?

- | | |
|-------------------------|------------------|
| (1) वॉन गाग | (2) पाबलो पिकासो |
| (3) लियानार्डो दा विंसी | (4) माईकल ऐंजेलो |

Options :

- 92090660577. 1
- 92090660578. 2
- 92090660579. 3
- 92090660580. 4

Question Number : 46 Question Id : 92090615331 Question Type : MCQ Option Shuffling : No Is Question Mandatory : No Calculator : None Response Time : N.A Think Time : N.A Minimum Instruction Time : 0

Correct Marks : 4 Wrong Marks : 1

Which is the popular Dance of Gujarat?

- | | |
|-------------|-------------|
| (1) Bihu | (2) Dandia |
| (3) Katthak | (4) Bhangra |

Options :

- 92090660581. 1
- 92090660582. 2
- 92090660583. 3
- 92090660584. 4

Question Number : 46 Question Id : 92090615331 Question Type : MCQ Option Shuffling : No Is Question Mandatory : No Calculator : None Response Time : N.A Think Time : N.A Minimum Instruction Time : 0

Correct Marks : 4 Wrong Marks : 1

गुजरात का लोकप्रिय नृत्य कौन सा है?

- | | |
|----------|-------------|
| (1) बीहू | (2) डांडिया |
| (3) कथक | (4) भांगरा |

Options :

- 92090660581. 1
- 92090660582. 2
- 92090660583. 3
- 92090660584. 4

Question Number : 47 Question Id : 92090615332 Question Type : MCQ Option Shuffling : No Is Question Mandatory : No Calculator : None Response Time : N.A Think Time : N.A Minimum Instruction Time : 0

Correct Marks : 4 Wrong Marks : 1

The word hieroglyph is-

- | | |
|------------|-------------|
| (1) French | (2) English |
| (3) Greek | (4) Spanish |

Options :

- 92090660585. 1
- 92090660586. 2
- 92090660587. 3

92090660588. 4

Question Number : 47 Question Id : 92090615332 Question Type : MCQ Option Shuffling : No Is Question Mandatory : No Calculator : None Response Time : N.A Think Time : N.A Minimum Instruction Time : 0

Correct Marks : 4 Wrong Marks : 1

‘हायारोग्लिफ’ शब्द किस भाषा का है?

- | | |
|------------|--------------|
| (1) फ्रेंच | (2) अंग्रेजी |
| (3) यूनानी | (4) स्पैनिश |

Options :

92090660585. 1

92090660586. 2

92090660587. 3

92090660588. 4

Question Number : 48 Question Id : 92090615333 Question Type : MCQ Option Shuffling : No Is Question Mandatory : No Calculator : None Response Time : N.A Think Time : N.A Minimum Instruction Time : 0

Correct Marks : 4 Wrong Marks : 1

Painting Avalokitesvara-Padmapani found in:

- | | |
|---------------|------------|
| (1) Bagh | (2) Ellora |
| (3) Bhimbetka | (4) Ajanta |

Options :

92090660589. 1

92090660590. 2

92090660591. 3

92090660592. 4

Question Number : 48 Question Id : 92090615333 Question Type : MCQ Option Shuffling : No Is Question Mandatory : No Calculator : None Response Time : N.A Think Time : N.A Minimum Instruction Time : 0

Correct Marks : 4 Wrong Marks : 1

अवलोकितेश्वर – पद्मपाणि पेंटिंग कहां पाई गई थी ?

- | | |
|--------------|-----------|
| (1) बाघ | (2) एलोरा |
| (3) भीमबेटका | (4) अजंता |

Options :

92090660589. 1

92090660590. 2

92090660591. 3

92090660592. 4

Question Number : 49 Question Id : 92090615334 Question Type : MCQ Option Shuffling : No Is Question Mandatory : No Calculator : None Response Time : N.A Think Time : N.A Minimum Instruction Time : 0

Correct Marks : 4 Wrong Marks : 1

The famous traditional dance Rauf in associated with_____

- | | |
|----------------------|-------------|
| (1) Himachal Pradesh | (2) Punjab |
| (3) Kashmir | (4) Gujarat |

Options :

92090660593. 1

92090660594. 2

92090660595. 3

92090660596. 4

Question Number : 49 Question Id : 92090615334 Question Type : MCQ Option Shuffling : No Is Question Mandatory : No Calculator : None Response Time : N.A Think Time : N.A Minimum Instruction Time : 0

Correct Marks : 4 Wrong Marks : 1

प्रसिद्ध पारंपारिक नृत्य राऊफ किससे संबंधित है?

- | | |
|-------------------|------------|
| (1) हिमाचल प्रदेश | (2) पंजाब |
| (3) कश्मीर | (4) गुजरात |

Options :

92090660593. 1

92090660594. 2

92090660595. 3

92090660596. 4

Question Number : 50 Question Id : 92090615335 Question Type : MCQ Option Shuffling : No Is Question Mandatory : No Calculator : None Response Time : N.A Think Time : N.A Minimum Instruction Time : 0

Correct Marks : 4 Wrong Marks : 1

Which is a world Heritage site in Gujarat?

- | | |
|---------------------------|--------------------|
| (1) Sun temple at Modhera | (2) Dilwara temple |
| (3) Akshardham temple | (4) Rani ka Vav |

Options :

- 92090660597. 1
- 92090660598. 2
- 92090660599. 3
- 92090660600. 4

Question Number : 50 Question Id : 92090615335 Question Type : MCQ Option Shuffling : No Is Question Mandatory : No Calculator : None Response Time : N.A Think Time : N.A Minimum Instruction Time : 0

Correct Marks : 4 Wrong Marks : 1

गुजरात में कौन सा वैश्विक धरोहर स्थल है?

- | | |
|---------------------------|--------------------|
| (1) मोधेरा का सूर्य मंदिर | (2) दिलवाड़ा मंदिर |
| (3) अक्षरधाम मंदिर | (4) रानी का वाव |

Options :

- 92090660597. 1
- 92090660598. 2
- 92090660599. 3
- 92090660600. 4

Question Number : 51 Question Id : 92090615336 Question Type : MCQ Option Shuffling : No Is Question Mandatory : No Calculator : None Response Time : N.A Think Time : N.A Minimum Instruction Time : 0

Correct Marks : 4 Wrong Marks : 1

Which is the famous prehistoric painting site?

- | | |
|---------------|------------|
| (1) Bhimbetka | (2) Bagh |
| (3) Ellora | (4) Ajanta |

Options :

- 92090660601. 1
- 92090660602. 2
- 92090660603. 3
- 92090660604. 4

Question Number : 51 Question Id : 92090615336 Question Type : MCQ Option Shuffling : No Is Question Mandatory : No Calculator : None Response Time : N.A Think Time : N.A Minimum Instruction Time : 0

Correct Marks : 4 Wrong Marks : 1

कौन प्रसिद्ध प्राक्ऐतिहासिक चित्रकारी स्थल है?

- (1) भीमबेटका (2) बाघ
(3) एलोरा (4) अजंता

Options :

92090660601. 1
92090660602. 2
92090660603. 3
92090660604. 4

Question Number : 52 Question Id : 92090615337 Question Type : MCQ Option Shuffling : No Is Question Mandatory : No Calculator : None Response Time : N.A Think Time : N.A Minimum Instruction Time : 0

Correct Marks : 4 Wrong Marks : 1

Kathakali style of dance is famous from_____

- (1) Karnataka (2) Kerala
(3) Uttar Pradesh (4) Tamil Nadu

Options :

92090660605. 1
92090660606. 2
92090660607. 3
92090660608. 4

Question Number : 52 Question Id : 92090615337 Question Type : MCQ Option Shuffling : No Is Question Mandatory : No Calculator : None Response Time : N.A Think Time : N.A Minimum Instruction Time : 0

Correct Marks : 4 Wrong Marks : 1

प्रसिद्ध नृत्य शैली कथकली कहाँ से संबंधित है?

- (1) कर्नाटक (2) केरल
(3) उत्तर प्रदेश (4) तमिलनाडु

Options :

92090660605. 1
92090660606. 2
92090660607. 3
92090660608. 4

Question Number : 53 Question Id : 92090615338 Question Type : MCQ Option Shuffling : No Is Question Mandatory : No Calculator : None Response Time : N.A Think Time : N.A Minimum Instruction Time : 0

Correct Marks : 4 Wrong Marks : 1

Which is the largest Buddhist temple in World?

- | | |
|---------------|----------------|
| (1) Mahabodhi | (2) Angkor Wat |
| (3) Borobudur | (4) Chaitya |

Options :

92090660609. 1
92090660610. 2
92090660611. 3
92090660612. 4

Question Number : 53 Question Id : 92090615338 Question Type : MCQ Option Shuffling : No Is Question Mandatory : No Calculator : None Response Time : N.A Think Time : N.A Minimum Instruction Time : 0

Correct Marks : 4 Wrong Marks : 1

विश्व का सबसे बड़ा बौद्ध मंदिर कौन सा है?

- | | |
|---------------|----------------|
| (1) महाबोधि | (2) अंगकोर वाट |
| (3) बोरोबुदुर | (4) चैत्य |

Options :

92090660609. 1
92090660610. 2
92090660611. 3
92090660612. 4

Question Number : 54 Question Id : 92090615339 Question Type : MCQ Option Shuffling : No Is Question Mandatory : No Calculator : None Response Time : N.A Think Time : N.A Minimum Instruction Time : 0

Correct Marks : 4 Wrong Marks : 1

Hari-Hara deity is:

- | | |
|-----------------------------|---------------------------|
| (1) Half Siva Half Brahma | (2) Half Vishnu Half Siva |
| (3) Half Brahma Half Vishnu | (4) Half Siva Half Surya |

Options :

92090660613. 1
92090660614. 2
92090660615. 3
92090660616. 4

Question Number : 54 Question Id : 92090615339 Question Type : MCQ Option Shuffling : No Is Question Mandatory : No Calculator : None Response Time : N.A Think Time : N.A Minimum

Instruction Time : 0

Correct Marks : 4 Wrong Marks : 1

हरिहर देवता है:

- | | |
|----------------------------------|------------------------------|
| (1) अर्द्ध शिव अर्द्ध ब्रह्मा | (2) अर्द्ध विष्णु अर्द्ध शिव |
| (3) अर्द्ध ब्रह्मा अर्द्ध विष्णु | (4) अर्द्ध शिव अर्द्ध सूर्य |

Options :

- 92090660613. 1
- 92090660614. 2
- 92090660615. 3
- 92090660616. 4

Question Number : 55 Question Id : 92090615340 Question Type : MCQ Option Shuffling : No Is Question Mandatory : No Calculator : None Response Time : N.A Think Time : N.A Minimum Instruction Time : 0

Correct Marks : 4 Wrong Marks : 1

Who is the King painter of Indonesia?

- | | |
|------------------|-----------------|
| (1) Ahmad Sadali | (2) Mochtar Api |
| (3) Raden Saleh | (4) Sudjojono |

Options :

- 92090660617. 1
- 92090660618. 2
- 92090660619. 3
- 92090660620. 4

Question Number : 55 Question Id : 92090615340 Question Type : MCQ Option Shuffling : No Is Question Mandatory : No Calculator : None Response Time : N.A Think Time : N.A Minimum Instruction Time : 0

Correct Marks : 4 Wrong Marks : 1

इंडोनेशिया का चित्रकार सुल्तान कौन था?

- | | |
|-----------------|----------------|
| (1) अहमद सदाली | (2) मोचतर अपी |
| (3) रादेन सालेह | (4) सुदजो जोनो |

Options :

- 92090660617. 1
- 92090660618. 2
- 92090660619. 3
- 92090660620. 4

Question Number : 56 Question Id : 92090615341 Question Type : MCQ Option Shuffling : No Is Question Mandatory : No Calculator : None Response Time : N.A Think Time : N.A Minimum Instruction Time : 0

Correct Marks : 4 Wrong Marks : 1

Which miniature painting is made in Himachal Pradesh?

- | | |
|-------------------------------|-----------------------------------|
| (1) Mughal miniature painting | (2) Kangra miniature painting |
| (3) Jain miniature painting | (4) Rajasthani miniature painting |

Options :

- 92090660621. 1
- 92090660622. 2
- 92090660623. 3
- 92090660624. 4

Question Number : 56 Question Id : 92090615341 Question Type : MCQ Option Shuffling : No Is Question Mandatory : No Calculator : None Response Time : N.A Think Time : N.A Minimum Instruction Time : 0

Correct Marks : 4 Wrong Marks : 1

हिमाचल प्रदेश में कौन सी लघु चित्रकला मिलती है?

- | | |
|------------------------|-----------------------------|
| (1) मुगल लघु चित्रकारी | (2) कांगरा लघु चित्रकारी |
| (3) जैन लघु चित्रकारी | (4) राजस्थानी लघु चित्रकारी |

Options :

- 92090660621. 1
- 92090660622. 2
- 92090660623. 3
- 92090660624. 4

Question Number : 57 Question Id : 92090615342 Question Type : MCQ Option Shuffling : No Is Question Mandatory : No Calculator : None Response Time : N.A Think Time : N.A Minimum Instruction Time : 0

Correct Marks : 4 Wrong Marks : 1

The most famous Egyptian Pyramids are found in-

- | | |
|--------------|------------|
| (1) Istambul | (2) Giza |
| (3) Ankora | (4) Bagdad |

Options :

- 92090660625. 1
- 92090660626. 2
- 92090660627. 3
- 92090660628. 4

Question Number : 57 Question Id : 92090615342 Question Type : MCQ Option Shuffling : No Is Question Mandatory : No Calculator : None Response Time : N.A Think Time : N.A Minimum Instruction Time : 0

Correct Marks : 4 Wrong Marks : 1

इजिप्ट के सर्वप्रसिद्ध पिरामिड कहां पाये जाते हैं?

- | | |
|---------------|-----------|
| (1) ईस्तांबुल | (2) गिजा |
| (3) अंकारा | (4) बगदाद |

Options :

92090660625. 1
92090660626. 2
92090660627. 3
92090660628. 4

Question Number : 58 Question Id : 92090615343 Question Type : MCQ Option Shuffling : No Is Question Mandatory : No Calculator : None Response Time : N.A Think Time : N.A Minimum Instruction Time : 0

Correct Marks : 4 Wrong Marks : 1

The code of Hammurabi is the most important art in-

- | | |
|-----------------|-------------|
| (1) Harappa | (2) Sumeria |
| (3) Mesopotamia | (4) Western |

Options :

92090660629. 1
92090660630. 2
92090660631. 3
92090660632. 4

Question Number : 58 Question Id : 92090615343 Question Type : MCQ Option Shuffling : No Is Question Mandatory : No Calculator : None Response Time : N.A Think Time : N.A Minimum Instruction Time : 0

Correct Marks : 4 Wrong Marks : 1

हम्बुराबी की संहिता किसमें सर्वाधिक महत्वपूर्ण कला थी?

- | | |
|------------------|--------------------|
| (1) हड़प्पा | (2) सुमेरिया |
| (3) मेसोपोटामिया | (4) पश्चिमी सभ्यता |

Options :

92090660629. 1
92090660630. 2
92090660631. 3

92090660632. 4

Question Number : 59 Question Id : 92090615344 Question Type : MCQ Option Shuffling : No Is Question Mandatory : No Calculator : None Response Time : N.A Think Time : N.A Minimum Instruction Time : 0

Correct Marks : 4 Wrong Marks : 1

Kandariya Mahadeva Temple, Khajuraho was built by:

- | | |
|------------------|--------------------|
| (1) Bhoja King | (2) Kalachuri King |
| (3) Chauhan King | (4) Chandella King |

Options :

- 92090660633. 1
- 92090660634. 2
- 92090660635. 3
- 92090660636. 4

Question Number : 59 Question Id : 92090615344 Question Type : MCQ Option Shuffling : No Is Question Mandatory : No Calculator : None Response Time : N.A Think Time : N.A Minimum Instruction Time : 0

Correct Marks : 4 Wrong Marks : 1

कंडारिया महादेव मंदिर, खजुराहो का निर्माण किसने कराया?

- | | |
|----------------|------------------|
| (1) राजा भोज | (2) कालचुरी राजा |
| (3) चौहान राजा | (4) चंदेल राजा |

Options :

- 92090660633. 1
- 92090660634. 2
- 92090660635. 3
- 92090660636. 4

Question Number : 60 Question Id : 92090615345 Question Type : MCQ Option Shuffling : No Is Question Mandatory : No Calculator : None Response Time : N.A Think Time : N.A Minimum Instruction Time : 0

Correct Marks : 4 Wrong Marks : 1

Which of the following is famous for Buddhist mural painting in Sri Lanka?

- | | |
|-------------------------|----------------------------------|
| (1) Naguleswaram Temple | (2) Thiru Konamalai Temple |
| (3) Shaktipeeth | (4) Rangiri Dambulla Cave Temple |

Options :

- 92090660637. 1
- 92090660638. 2

92090660639. 3

92090660640. 4

Question Number : 60 Question Id : 92090615345 Question Type : MCQ Option Shuffling : No Is Question Mandatory : No Calculator : None Response Time : N.A Think Time : N.A Minimum Instruction Time : 0

Correct Marks : 4 Wrong Marks : 1

निम्नलिखित में से कौन श्रीलंका में बौद्ध भित्ति चित्रों के लिए प्रसिद्ध है?

- | | |
|----------------------|--------------------------------|
| (1) नागलेश्वरम मंदिर | (2) थिरु कोनमलाई मंदिर |
| (3) शक्ति पीठ | (4) रणगिरी दाम्बुला गुफा मंदिर |

Options :

92090660637. 1

92090660638. 2

92090660639. 3

92090660640. 4

Question Number : 61 Question Id : 92090615346 Question Type : MCQ Option Shuffling : No Is Question Mandatory : No Calculator : None Response Time : N.A Think Time : N.A Minimum Instruction Time : 0

Correct Marks : 4 Wrong Marks : 1

Which City is famous for Terracotta in India?

- | | |
|--------------|-----------------|
| (1) Karimpur | (2) Bishnupur |
| (3) Mysore | (4) Gandhinagar |

Options :

92090660641. 1

92090660642. 2

92090660643. 3

92090660644. 4

Question Number : 61 Question Id : 92090615346 Question Type : MCQ Option Shuffling : No Is Question Mandatory : No Calculator : None Response Time : N.A Think Time : N.A Minimum Instruction Time : 0

Correct Marks : 4 Wrong Marks : 1

भारत का कौन सा शहर टेराकोटा के लिए प्रसिद्ध है?

- | | |
|-------------|---------------|
| (1) करीमपुर | (2) विष्णुपुर |
| (3) मैसुर | (4) गांधीनगर |

Options :

92090660641. 1
92090660642. 2
92090660643. 3
92090660644. 4

Question Number : 62 Question Id : 92090615347 Question Type : MCQ Option Shuffling : No Is Question Mandatory : No Calculator : None Response Time : N.A Think Time : N.A Minimum Instruction Time : 0

Correct Marks : 4 Wrong Marks : 1

'Nemes' in Egypt is-

- (1) A throne (2) A royal head dress
(3) A Pyramid (4) A God

Options :

92090660645. 1
92090660646. 2
92090660647. 3
92090660648. 4

Question Number : 62 Question Id : 92090615347 Question Type : MCQ Option Shuffling : No Is Question Mandatory : No Calculator : None Response Time : N.A Think Time : N.A Minimum Instruction Time : 0

Correct Marks : 4 Wrong Marks : 1

इजिप्ट में 'नेमिस' है

- (1) एक राजगद्दी (2) एक शाही पगड़ी
(3) एक पिरामीड (4) एक देवता

Options :

92090660645. 1
92090660646. 2
92090660647. 3
92090660648. 4

Question Number : 63 Question Id : 92090615348 Question Type : MCQ Option Shuffling : No Is Question Mandatory : No Calculator : None Response Time : N.A Think Time : N.A Minimum Instruction Time : 0

Correct Marks : 4 Wrong Marks : 1

The architectural plan of Aihole Durga Temple is:

- (1) Rectangular (2) Square
(3) Circular (4) Apsidal

Options :

- 92090660649. 1
- 92090660650. 2
- 92090660651. 3
- 92090660652. 4

Question Number : 63 Question Id : 92090615348 Question Type : MCQ Option Shuffling : No Is Question Mandatory : No Calculator : None Response Time : N.A Think Time : N.A Minimum Instruction Time : 0

Correct Marks : 4 Wrong Marks : 1

ऐहोल दुर्गा मंदिर की वास्तुकला योजना है:

- | | |
|--------------|---------------|
| (1) आयताकार | (2) वर्गाकार |
| (3) चक्राकार | (4) गजपृष्ठीय |

Options :

- 92090660649. 1
- 92090660650. 2
- 92090660651. 3
- 92090660652. 4

Question Number : 64 Question Id : 92090615349 Question Type : MCQ Option Shuffling : No Is Question Mandatory : No Calculator : None Response Time : N.A Think Time : N.A Minimum Instruction Time : 0

Correct Marks : 4 Wrong Marks : 1

Given below are two statements: One is labelled as Assertion (A) and the other is labelled as Reason (R).

Assertion (A): The terracotta art of the shunga-Kushana cultural phase in Bengal is essentially a product of the Early historical urbanization of the region.

Reasons (R): This urbanization was an extension of that of the upper valley of Brahmaputra River.

In the light of the above statements, choose the most appropriate answer from the options given below :

- (1) Both (A) and (R) are correct and (R) is the correct explanation of (A)
- (2) Both (A) and (R) are correct but (R) is not the correct explanation of (A)
- (3) (A) is correct but (R) is not correct
- (4) (A) is not correct but (R) is correct

Options :

- 92090660653. 1

92090660654. 2

92090660655. 3

92090660656. 4

Question Number : 64 Question Id : 92090615349 Question Type : MCQ Option Shuffling : No Is Question Mandatory : No Calculator : None Response Time : N.A Think Time : N.A Minimum Instruction Time : 0

Correct Marks : 4 Wrong Marks : 1

नीचे दो कथन दिए गए हैं: एक अभिकथन (Assertion A) के रूप में लिखित है तो दूसरा उसके कारण (Reason R) के रूप में;

अभिकथन A : बंगाल के शुंग – कुषाण सांस्कृतिक युग की टेराकोटा कला मूलतः उस क्षेत्र के प्रारंभिक ऐतिहासिक शहरीकरण की उत्पत्ति थी।

कारण R : यह शहरीकरण ब्रह्मपुत्र नदी की उपरी घाटी का विस्तार था।

उपरोक्त कथन के आलोक में, नीचे दिए गए विकल्पों में से सबसे उपयुक्त उत्तर का चयन कीजिए

- (1) A और R दोनों सही हैं और R, A की सही व्याख्या है
- (2) A और R दोनों सही हैं, लेकिन R, A की सही व्याख्या नहीं है
- (3) A सही है, लेकिन R सही नहीं है
- (4) A सही नहीं है, लेकिन R सही है

Options :

92090660653. 1

92090660654. 2

92090660655. 3

92090660656. 4

Question Number : 65 Question Id : 92090615350 Question Type : MCQ Option Shuffling : No Is Question Mandatory : No Calculator : None Response Time : N.A Think Time : N.A Minimum Instruction Time : 0

Correct Marks : 4 Wrong Marks : 1

Given below are two statements: One is labelled as Assertion (A) and the other is labelled as Reason (R).

Assertion (A): Cuneiform was created by Sumerian

Reasons (R): The system of writing used in the ancient Asia is called cuneiform.

In the light of the above statements, choose the most appropriate answer from the options given below :

- (1) Both (A) and (R) are correct and (R) is the correct explanation of (A)
- (2) Both (A) and (R) are correct but (R) is not the correct explanation of (A)
- (3) (A) is correct but (R) is not correct
- (4) (A) is not correct but (R) is correct

Options :

- 92090660657. 1
- 92090660658. 2
- 92090660659. 3
- 92090660660. 4

Question Number : 65 Question Id : 92090615350 Question Type : MCQ Option Shuffling : No Is Question Mandatory : No Calculator : None Response Time : N.A Think Time : N.A Minimum Instruction Time : 0

Correct Marks : 4 Wrong Marks : 1

नीचे दो कथन दिए गए हैं: एक अभिकथन (Assertion A) के रूप में लिखित है तो दूसरा उसके कारण (Reason R) के रूप में;

अभिकथन A : कंसीफॉर्म सुमेरियन लोगों द्वारा सृजित किया गया था.

कारण R : प्राचीन एशिया में प्रयुक्त लेखन पद्धति कंसीफॉर्म कहलाती है

उपरोक्त कथन के आलोक में, नीचे दिए गए विकल्पों में से सबसे उपयुक्त उत्तर का चयन कीजिए

- (1) A और R दोनों सही हैं और R, A की सही व्याख्या है
- (2) A और R दोनों सही हैं, लेकिन R, A की सही व्याख्या नहीं है
- (3) A सही है, लेकिन R सही नहीं है
- (4) A सही नहीं है, लेकिन R सही है

Options :

- 92090660657. 1
- 92090660658. 2
- 92090660659. 3
- 92090660660. 4

Question Number : 66 Question Id : 92090615351 Question Type : MCQ Option Shuffling : No Is Question Mandatory : No Calculator : None Response Time : N.A Think Time : N.A Minimum Instruction Time : 0

Correct Marks : 4 Wrong Marks : 1

Given below are two statements : One is labelled as Assertion (A) and the other is labelled as Reason (R).

Assertion (A) : Terracotta Temple in Bishnupur are getting damaged because terracotta has hygroscopic characteristic.

Reasons (R) : Bengal experience high humidity throughout the year.

In the light of the above statements, choose the most appropriate answer from the options given below :

- (1) Both (A) and (R) are correct and (R) is the correct explanation of (A)
- (2) Both (A) and (R) are correct but (R) is not the correct explanation of (A)
- (3) (A) is correct but (R) is not correct
- (4) (A) is not correct but (R) is correct

Options :

- 92090660661. 1
- 92090660662. 2
- 92090660663. 3
- 92090660664. 4

Question Number : 66 Question Id : 92090615351 Question Type : MCQ Option Shuffling : No Is Question Mandatory : No Calculator : None Response Time : N.A Think Time : N.A Minimum Instruction Time : 0

Correct Marks : 4 Wrong Marks : 1

नीचे दो कथन दिए गए हैं: एक अभिकथन (Assertion A) के रूप में लिखित है तो दूसरा उसके कारण (Reason R) के रूप में;

अभिकथन A : विष्णुपुर के टेराकोटा मंदिर नष्ट हो रहे हैं क्योंकि टेराकोटा में हाईग्रोस्कोपिक गुण होते हैं।

कारण R : बंगाल में सालों भर उच्च आर्द्रता रहती है।

उपरोक्त कथन के आलोक में, नीचे दिए गए विकल्पों में से सबसे उपयुक्त उत्तर का चयन कीजिए

- (1) A और R दोनों सही हैं और R, A की सही व्याख्या है
- (2) A और R दोनों सही हैं, लेकिन R, A की सही व्याख्या नहीं है
- (3) A सही है, लेकिन R सही नहीं है
- (4) A सही नहीं है, लेकिन R सही है

Options :

92090660661. 1
92090660662. 2
92090660663. 3
92090660664. 4

Question Number : 67 Question Id : 92090615352 Question Type : MCQ Option Shuffling : No Is Question Mandatory : No Calculator : None Response Time : N.A Think Time : N.A Minimum Instruction Time : 0

Correct Marks : 4 Wrong Marks : 1

Given below are two statements : One is labelled as Assertion (A) and the other is labelled as Reason (R).

Assertion (A) : Originally the Hellenistic Greeks used the 'Meso Potamas', "The land between the rivers".

Reasons (R) : The land specially refer to the region between the Tigris and Nile.

In the light of the above statements, choose the most appropriate answer from the options given below :

- (1) Both (A) and (R) are correct and (R) is the correct explanation of (A)
- (2) Both (A) and (R) are correct but (R) is not the correct explanation of (A)
- (3) (A) is correct but (R) is not correct
- (4) (A) is not correct but (R) is correct

Options :

92090660665. 1
92090660666. 2
92090660667. 3

Question Number : 67 Question Id : 92090615352 Question Type : MCQ Option Shuffling : No Is Question Mandatory : No Calculator : None Response Time : N.A Think Time : N.A Minimum Instruction Time : 0

Correct Marks : 4 Wrong Marks : 1

नीचे दो कथन दिए गए हैं: एक अभिकथन (Assertion A) के रूप में लिखित है तो दूसरा उसके कारण (Reason R) के रूप में;

अभिकथन A : मूलतः हेलेनिस्टिक यूनानियों ने 'मेसोपोटामस' "नदियों के बीच की भूमि" का प्रयोग किया।

कारण R : उस भूमि का संदर्भ विशेषतः टायग्रिस और नील नदी के बीच पड़ते वाले क्षेत्र से है।

उपरोक्त कथन के आलोक में, नीचे दिए गए विकल्पों में से सबसे उपयुक्त उत्तर का चयन कीजिए

- (1) A और R दोनों सही हैं और R, A की सही व्याख्या है
- (2) A और R दोनों सही हैं, लेकिन R, A की सही व्याख्या नहीं है
- (3) A सही है, लेकिन R सही नहीं है
- (4) A सही नहीं है, लेकिन R सही है

Options :

92090660665. 1

92090660666. 2

92090660667. 3

92090660668. 4

Question Number : 68 Question Id : 92090615353 Question Type : MCQ Option Shuffling : No Is Question Mandatory : No Calculator : None Response Time : N.A Think Time : N.A Minimum Instruction Time : 0

Correct Marks : 4 Wrong Marks : 1

Given below are two statements : One is labelled as Assertion (A) and the other is labelled as Reason (R).

Assertion (A) : Ravi Varma did succeed in transforming popular taste and consumption of Pictorial material.

Reasons (R) : He had to resort to oleograph (lithograph) Versions, as well as documented evidence that his prints reached virtually all corners of the country.

In the light of the above statements, choose the correct answer from the options given below :

- (1) Both (A) and (R) are correct and (R) is the correct explanation of (A)
- (2) Both (A) and (R) are correct but (R) is not the correct explanation of (A)
- (3) (A) is true but (R) is false
- (4) (A) is false but (R) is true

Options :

92090660669. 1
92090660670. 2
92090660671. 3
92090660672. 4

Question Number : 68 Question Id : 92090615353 Question Type : MCQ Option Shuffling : No Is Question Mandatory : No Calculator : None Response Time : N.A Think Time : N.A Minimum Instruction Time : 0

Correct Marks : 4 Wrong Marks : 1

नीचे दो कथन दिए गए हैं: एक अभिकथन (Assertion A) के रूप में लिखित है तो दूसरा उसके कारण (Reason R) के रूप में;

अभिकथन A : रवि वर्मा चित्र सामग्री के लोकप्रिय आस्वादन और सरहाना को रूपांतरित करने में सफल हुए।

कारण R : उन्हें ओलियोग्राफ (लिथोग्राफ) संस्करण और प्रलेखित साक्ष्य का सहारा लेना पड़ा जिससे उनके चित्र वस्तुतः देश के हर कोने तक पहुंच गए।

उपरोक्त कथन के आलोक में, नीचे दिए गए विकल्पों में से सबसे उपयुक्त उत्तर का चयन कीजिए

- (1) A और R दोनों सही हैं और R, A की सही व्याख्या है
- (2) A और R दोनों सही हैं, लेकिन R, A की सही व्याख्या नहीं है
- (3) A सही है, लेकिन R सही नहीं है
- (4) A सही नहीं है, लेकिन R सही है

Options :

- 92090660669. 1
- 92090660670. 2
- 92090660671. 3
- 92090660672. 4

Question Number : 69 Question Id : 92090615354 Question Type : MCQ Option Shuffling : No Is Question Mandatory : No Calculator : None Response Time : N.A Think Time : N.A Minimum Instruction Time : 0

Correct Marks : 4 Wrong Marks : 1

Given below are two statements : One is labelled as Assertion (A) and the other is labelled as Reason (R).

Assertion (A) : The rich sculptural tradition of Mathura is distinguished by its principal medium, the white spotted red sandstone.

Reasons (R) : White spotted red Sandstone is locally available in Mathura region.

In the light of the above statements, choose the most appropriate answer from the options given below :

- (1) Both (A) and (R) are correct and (R) is the correct explanation of (A)
- (2) Both (A) and (R) are correct but (R) is not the correct explanation of (A)
- (3) (A) is correct but (R) is not correct
- (4) (A) is not correct but (R) is correct

Options :

- 92090660673. 1
- 92090660674. 2
- 92090660675. 3
- 92090660676. 4

Question Number : 69 Question Id : 92090615354 Question Type : MCQ Option Shuffling : No Is Question Mandatory : No Calculator : None Response Time : N.A Think Time : N.A Minimum Instruction Time : 0

Correct Marks : 4 Wrong Marks : 1

नीचे दो कथन दिए गए हैं: एक अभिकथन (Assertion A) के रूप में लिखित है तो दूसरा उसके कारण (Reason R) के रूप में;

अभिकथन A : मथुरा की समृद्ध मूर्तिकला परंपरा की पहचान इसका मुख्य माध्यम, सफ़ेद धब्बों वाला लाल बलुआ पत्थर है।

कारण R : सफ़ेद धब्बों वाला लाल बलुआ पत्थर मथुरा क्षेत्र में स्थानीय स्तर पर उपलब्ध होता है।

उपरोक्त कथन के आलोक में, नीचे दिए गए विकल्पों में से सबसे उपयुक्त उत्तर का चयन कीजिए

- (1) A और R दोनों सही हैं और R, A की सही व्याख्या है
- (2) A और R दोनों सही हैं, लेकिन R, A की सही व्याख्या नहीं है
- (3) A सही है, लेकिन R सही नहीं है
- (4) A सही नहीं है, लेकिन R सही है

Options :

92090660673. 1
92090660674. 2
92090660675. 3
92090660676. 4

Question Number : 70 Question Id : 92090615355 Question Type : MCQ Option Shuffling : No Is Question Mandatory : No Calculator : None Response Time : N.A Think Time : N.A Minimum Instruction Time : 0

Correct Marks : 4 Wrong Marks : 1

Given below are two statements : One is labelled as Assertion (A) and the other is labelled as Reason (R).

Assertion (A) : All Asokan Pillars were produced at a time.

Reasons (R) : The crowning animals of Asokan Pillars are different.

In the light of the above statements, choose the most appropriate answer from the options given below :

- (1) Both (A) and (R) are correct and (R) is the correct explanation of (A)
- (2) Both (A) and (R) are correct but (R) is not the correct explanation of (A)
- (3) (A) is correct but (R) is not correct
- (4) (A) is not correct but (R) is correct

Options :

92090660677. 1
92090660678. 2
92090660679. 3

92090660680. 4

Question Number : 70 Question Id : 92090615355 Question Type : MCQ Option Shuffling : No Is Question Mandatory : No Calculator : None Response Time : N.A Think Time : N.A Minimum Instruction Time : 0

Correct Marks : 4 Wrong Marks : 1

नीचे दो कथन दिए गए हैं: एक अभिकथन (Assertion A) के रूप में लिखित है तो दूसरा उसके कारण (Reason R) के रूप में;

अभिकथन A : सभी अशोक स्तंभों का निर्माण एक साथ कराया गया था।

कारण R : अशोक स्तंभों के शीर्ष पर भिन्न भिन्न जीव हैं।

उपरोक्त कथन के आलोक में, नीचे दिए गए विकल्पों में से सबसे उपयुक्त उत्तर का चयन कीजिए

- (1) A और R दोनों सही हैं और R, A की सही व्याख्या है
- (2) A और R दोनों सही हैं, लेकिन R, A की सही व्याख्या नहीं है
- (3) A सही है, लेकिन R सही नहीं है
- (4) A सही नहीं है, लेकिन R सही है

Options :

92090660677. 1

92090660678. 2

92090660679. 3

92090660680. 4

Question Number : 71 Question Id : 92090615356 Question Type : MCQ Option Shuffling : No Is Question Mandatory : No Calculator : None Response Time : N.A Think Time : N.A Minimum Instruction Time : 0

Correct Marks : 4 Wrong Marks : 1

Given below are two statements : One is labelled as Assertion (A) and the other is labelled as Reason (R).

Assertion (A) : Cubism Painting developed India late 19th century by the influence of western Art.

Reasons (R) : Many Western Artists came in India during British Rule.

In the light of the above statements, choose the most appropriate answer from the options given below :

- (1) Both (A) and (R) are correct and (R) is the correct explanation of (A)
- (2) Both (A) and (R) are correct but (R) is NOT the correct explanation of (A)
- (3) (A) is correct but (R) is not correct
- (4) (A) is not correct but (R) is correct

Options :

- 92090660681. 1
- 92090660682. 2
- 92090660683. 3
- 92090660684. 4

Question Number : 71 Question Id : 92090615356 Question Type : MCQ Option Shuffling : No Is Question Mandatory : No Calculator : None Response Time : N.A Think Time : N.A Minimum Instruction Time : 0

Correct Marks : 4 Wrong Marks : 1

नीचे दो कथन दिए गए हैं: एक अभिकथन (Assertion A) के रूप में लिखित है तो दूसरा उसके कारण (Reason R) के रूप में;

अभिकथन A : क्यूबिज्म पेंटिंग भारत में 19 वीं सदी के अंतिम वर्षों में पश्चिमी कला के प्रभाव से विकसित हुई।

कारण R : अंग्रेजों के शासनकाल के दौरान अनेक पश्चिमी कलाकार भारत आए।

उपरोक्त कथन के आलोक में, नीचे दिए गए विकल्पों में से सबसे उपयुक्त उत्तर का चयन कीजिए

- (1) A और R दोनों सही हैं और R, A की सही व्याख्या है
- (2) A और R दोनों सही हैं, लेकिन R, A की सही व्याख्या नहीं है
- (3) A सही है, लेकिन R सही नहीं है
- (4) A सही नहीं है, लेकिन R सही है

Options :

- 92090660681. 1
- 92090660682. 2

92090660683. 3

92090660684. 4

Question Number : 72 Question Id : 92090615357 Question Type : MCQ Option Shuffling : No Is Question Mandatory : No Calculator : None Response Time : N.A Think Time : N.A Minimum Instruction Time : 0

Correct Marks : 4 Wrong Marks : 1

Arrange chronologically the religious teachers in the sub continent (Oldest one first).

- (A) Ramanujacharya in Tamil Nadu
- (B) Muinuddin Chisti in Rajasthan
- (C) Baba Guru Nanak in Punjab
- (D) Sri Chaitanya in Bengal

Choose the correct answer from the options given below :

- (1) (A), (B), (C), (D)
- (2) (B), (C), (A), (D)
- (3) (C), (B), (D), (A)
- (4) (D), (A), (B), (C)

Options :

92090660685. 1

92090660686. 2

92090660687. 3

92090660688. 4

Question Number : 72 Question Id : 92090615357 Question Type : MCQ Option Shuffling : No Is Question Mandatory : No Calculator : None Response Time : N.A Think Time : N.A Minimum Instruction Time : 0

Correct Marks : 4 Wrong Marks : 1

उपमहाद्वीप के धार्मिक शिक्षकों को कालक्रमानुसार व्यवस्थित करें (सर्वप्रथम सबसे पुराना)

- A. तमिलनाडु में रामानुजाचार्य
- B. राजस्थान में मोईनुद्दीन चिश्ती
- C. पंजाब में बाबा गुरु नानक
- D. बंगाल में श्री चैतन्य

नीचे दिए गए विकल्पों में से सही उत्तर का चयन कीजिए :

- (1) A, B, C, D
- (2) B, C, A, D
- (3) C, B, D, A
- (4) D, A, B, C

Options :

- 92090660685. 1
- 92090660686. 2
- 92090660687. 3
- 92090660688. 4

Question Number : 73 Question Id : 92090615358 Question Type : MCQ Option Shuffling : No Is Question Mandatory : No Calculator : None Response Time : N.A Think Time : N.A Minimum Instruction Time : 0

Correct Marks : 4 Wrong Marks : 1

Arrange personalities of Indian painters according to their Birth (oldest one first):

- (A) S. H. Raja
- (B) Jamini Roy
- (C) Abanindra Nath Tagore
- (D) Raja Ravi Varma

Choose the correct answer from the options given below :

- (1) (D), (C), (B), (A)
- (2) (C), (B), (A), (D)
- (3) (A), (C), (B), (D)
- (4) (B), (A), (D), (C)

Options :

- 92090660689. 1
- 92090660690. 2

92090660691. 3

92090660692. 4

Question Number : 73 Question Id : 92090615358 Question Type : MCQ Option Shuffling : No Is Question Mandatory : No Calculator : None Response Time : N.A Think Time : N.A Minimum Instruction Time : 0

Correct Marks : 4 Wrong Marks : 1

भारतीय चित्रकारों को उनके जन्म के अनुसार व्यवस्थित क्रम में लिखें. (सर्वप्रथम पहला)

- A. एस.एच. राजा
- B. जेमिनी रॉय
- C. अबनिंद्र नाथ टैगोर
- D. राजा रवि वर्मा

नीचे दिए गए विकल्पों में से सही उत्तर का चयन कीजिए :

- 1. D, C, B, A
- 2. C, B, A, D
- 3. A, C, B, D
- 4. B, A, D, C

Options :

92090660689. 1

92090660690. 2

92090660691. 3

92090660692. 4

Question Number : 74 Question Id : 92090615359 Question Type : MCQ Option Shuffling : No Is Question Mandatory : No Calculator : None Response Time : N.A Think Time : N.A Minimum Instruction Time : 0

Correct Marks : 4 Wrong Marks : 1

Arrange the following school of paintings according to their periods of origin (oldest first)

- (A) Bengal School
- (B) Mughal Paintings
- (C) Pala School of painting
- (D) Cave Paintings

Choose the correct answer from the options given below :

- (1) (A), (B), (C), (D)
- (2) (B), (C), (D), (A)
- (3) (D), (C), (B), (A)
- (4) (D), (B), (A), (C)

Options :

- 92090660693. 1
- 92090660694. 2
- 92090660695. 3
- 92090660696. 4

Question Number : 74 Question Id : 92090615359 Question Type : MCQ Option Shuffling : No Is Question Mandatory : No Calculator : None Response Time : N.A Think Time : N.A Minimum Instruction Time : 0

Correct Marks : 4 Wrong Marks : 1

चित्रकारी की निम्नलिखित शाखाओं को उनकी उत्पत्ति की अवधि के अनुसार व्यवस्थित करें (सर्वप्रथम सबसे पुराना)

- A. बंगाल स्कूल
- B. मुगल चित्रकला
- C. पाल स्कूल ऑफ पेंटिंग्स
- D. गुहा चित्रकला

नीचे दिए गए विकल्पों में से सही उत्तर का चयन कीजिए :

- 1. A,B,C,D
- 2. B,C,D,A
- 3. D,C,B,A
- 4. D,B,A,C

Options :

- 92090660693. 1

92090660694. 2

92090660695. 3

92090660696. 4

Question Number : 75 Question Id : 92090615360 Question Type : MCQ Option Shuffling : No Is Question Mandatory : No Calculator : None Response Time : N.A Think Time : N.A Minimum Instruction Time : 0

Correct Marks : 4 Wrong Marks : 1

Chronologically arrange the following Mughal Emperers:

- (A) Jahangir
- (B) Akbar
- (C) Humayun
- (D) Shah Jahan

Choose the correct answer from the options given below :

- (1) (C), (B), (A), (D)
- (2) (B), (A), (C), (D)
- (3) (A), (B), (C), (D)
- (4) (D), (A), (B), (C)

Options :

92090660697. 1

92090660698. 2

92090660699. 3

92090660700. 4

Question Number : 75 Question Id : 92090615360 Question Type : MCQ Option Shuffling : No Is Question Mandatory : No Calculator : None Response Time : N.A Think Time : N.A Minimum Instruction Time : 0

Correct Marks : 4 Wrong Marks : 1

निम्नलिखित मुगल बादशाहों को काल क्रमानुसार व्यवस्थित करे:

- A. जहांगीर
- B. अकबर
- C. हुमायुं
- D. शाहजहां

नीचे दिए गए विकल्पों में से सही उत्तर का चयन कीजिए :

- 1. C,B,A,D
- 2. B,A,C,D
- 3. A,B,C,D
- 4. D,A,B,C

Options :

- 92090660697. 1
- 92090660698. 2
- 92090660699. 3
- 92090660700. 4

Question Number : 76 Question Id : 92090615361 Question Type : MCQ Option Shuffling : No Is Question Mandatory : No Calculator : None Response Time : N.A Think Time : N.A Minimum Instruction Time : 0

Correct Marks : 4 Wrong Marks : 1

Arrange the followings chronologically-

- (A) Early Upanishads
- (B) First Stupas
- (C) Early Vedic traditions
- (D) Earliest temple

Choose the correct answer from the options given below :

- (1) (B), (C), (A), (D)
- (2) (A), (D), (B), (C)
- (3) (C), (A), (B), (D)
- (4) (D), (B), (C), (A)

Options :

- 92090660701. 1
- 92090660702. 2
- 92090660703. 3

92090660704. 4

Question Number : 76 Question Id : 92090615361 Question Type : MCQ Option Shuffling : No Is Question Mandatory : No Calculator : None Response Time : N.A Think Time : N.A Minimum Instruction Time : 0

Correct Marks : 4 Wrong Marks : 1

निम्नलिखित को काल क्रमानुसार व्यवस्थित करे:

- A. प्रारंभिक उपनिषद
- B. प्रथम स्तूप
- C. प्रारंभिक वैदिक परंपरायें
- D. प्राचीनतम मंदिर

नीचे दिए गए विकल्पों में से सही उत्तर का चयन कीजिए :

- 1. B, C, A, D
- 2. A, D, B, C
- 3. C, A, B, D
- 4. D, B, C, A

Options :

- 92090660701. 1
- 92090660702. 2
- 92090660703. 3
- 92090660704. 4

Question Number : 77 Question Id : 92090615362 Question Type : MCQ Option Shuffling : No Is Question Mandatory : No Calculator : None Response Time : N.A Think Time : N.A Minimum Instruction Time : 0

Correct Marks : 4 Wrong Marks : 1

Arrange the followings chronologically-

- (A) Chinese Pilgrim xuam Zang comes in search of Buddhist texts
- (B) Rise of chalukyas
- (C) Accession of Kanishka
- (D) Urbanisation in the Ganga Valley

Choose the correct answer from the options given below :

- (1) (D), (C), (B), (A)
- (2) (A), (B), (C), (D)
- (3) (B), (C), (D), (A)
- (4) (C), (D), (A), (B)

Options :

- 92090660705. 1
- 92090660706. 2
- 92090660707. 3
- 92090660708. 4

Question Number : 77 Question Id : 92090615362 Question Type : MCQ Option Shuffling : No Is Question Mandatory : No Calculator : None Response Time : N.A Think Time : N.A Minimum Instruction Time : 0

Correct Marks : 4 Wrong Marks : 1

निम्नलिखित को काल क्रमानुसार सुव्यवस्थित करें:

- A. चीनी तीर्थयात्री युआन चांग बौद्ध धर्मग्रंथों की खोज में भारत आया
- B. चालुक्यों का उत्थान
- C. कनिष्क का अधिग्रहण
- D. गंगा घाटी में शहरीकरण

नीचे दिए गए विकल्पों में से सही उत्तर का चयन कीजिए :

- 1. D,C,B,A
- 2. A,B,C,D,
- 3. B,C,D,A
- 4. C,D,A,B

Options :

- 92090660705. 1
- 92090660706. 2
- 92090660707. 3

92090660708. 4

Question Number : 78 Question Id : 92090615363 Question Type : MCQ Option Shuffling : No Is Question Mandatory : No Calculator : None Response Time : N.A Think Time : N.A Minimum Instruction Time : 0

Correct Marks : 4 Wrong Marks : 1

Arrange the followings chronologically-

- (A) Sanchi Museum
- (B) Nalanda Museum
- (C) Sarnath Museum
- (D) Hampi Museum

Choose the correct answer from the options given below :

- (1) (B), (D), (C), (A)
- (2) (C), (B), (A), (D)
- (3) (B), (A), (C), (D)
- (4) (D), (C), (A), (B)

Options :

- 92090660709. 1
- 92090660710. 2
- 92090660711. 3
- 92090660712. 4

Question Number : 78 Question Id : 92090615363 Question Type : MCQ Option Shuffling : No Is Question Mandatory : No Calculator : None Response Time : N.A Think Time : N.A Minimum Instruction Time : 0

Correct Marks : 4 Wrong Marks : 1

निम्नलिखित संग्रहालयों को कालक्रमानुसार व्यवस्थित करें

- A. साँची संग्रहालय
- B. नालंदा संग्रहालय
- C. सारनाथ संग्रहालय
- D. हम्पी संग्रहालय

नीचे दिए गए विकल्पों में से सही उत्तर का चयन कीजिए :

- 1. B,D,C,A
- 2. C,B,A,D
- 3. B,A,C,D
- 4. D,C,A,B

Options :

- 92090660709. 1
- 92090660710. 2
- 92090660711. 3
- 92090660712. 4

Question Number : 79 Question Id : 92090615364 Question Type : MCQ Option Shuffling : No Is Question Mandatory : No Calculator : None Response Time : N.A Think Time : N.A Minimum Instruction Time : 0

Correct Marks : 4 Wrong Marks : 1

Given below are two statements :

Statement I : The Tanjavur school is famous for the special style of decorative paintings.

Statement II : They are unique because of the use of brilliant colour patterns and the liberal use of gold leaf.

In the light of the above statements, choose the most appropriate answer from the options given below :

- (1) Both Statement I and Statement II are correct
- (2) Both Statement I and Statement II are incorrect
- (3) Statement I is correct but Statement II is incorrect
- (4) Statement I is incorrect but Statement II is correct

Options :

- 92090660713. 1
- 92090660714. 2

92090660715. 3

92090660716. 4

Question Number : 79 Question Id : 92090615364 Question Type : MCQ Option Shuffling : No Is Question Mandatory : No Calculator : None Response Time : N.A Think Time : N.A Minimum Instruction Time : 0

Correct Marks : 4 Wrong Marks : 1

नीचे दो कथन दिए गए हैं:

कथन I : तंजावुर स्कूल सजावटी चित्रों की विशिष्ट शैली के लिए प्रसिद्ध है

कथन II : वे स्वर्ण पत्तियों के उदार प्रयोग और शानदार रंग पैटर्न के कारण विशिष्ट हैं

उपरोक्त कथन के आलोक में, नीचे दिए गए विकल्पों में से सबसे उपयुक्त उत्तर का चयन कीजिए

- (1) कथन I और II दोनों सही हैं
- (2) कथन I और II दोनों गलत हैं
- (3) कथन I सही है, लेकिन कथन II गलत है
- (4) कथन I गलत है, लेकिन कथन II सही है

Options :

92090660713. 1

92090660714. 2

92090660715. 3

92090660716. 4

Question Number : 80 Question Id : 92090615365 Question Type : MCQ Option Shuffling : No Is Question Mandatory : No Calculator : None Response Time : N.A Think Time : N.A Minimum Instruction Time : 0

Correct Marks : 4 Wrong Marks : 1

Given below are two statements :

Statement I : Mughal painting famous and spread after Jahangir's death in 1627.

Statement II : Shah Jahan was not interested in painting but his true enthusiasm was for architecture.

In the light of the above statements, choose the correct answer from the options given below :

- (1) Both Statement I and Statement II are true
- (2) Both Statement I and Statement II are false
- (3) Statement I is true but Statement II is false
- (4) Statement I is false but Statement II is true

Options :

92090660717. 1

92090660718. 2

92090660719. 3

92090660720. 4

Question Number : 80 Question Id : 92090615365 Question Type : MCQ Option Shuffling : No Is Question Mandatory : No Calculator : None Response Time : N.A Think Time : N.A Minimum Instruction Time : 0

Correct Marks : 4 Wrong Marks : 1

नीचे दो कथन दिए गए हैं:

कथन I : 1627 में जहांगीर की मृत्यु के पश्चात मुगल चित्रकला प्रसिद्ध और विस्तृत हुई।

कथन II : शाहजहां की चित्रकला में रुचि नहीं थी, किंतु वास्तुकला में उसकी बहुत रुचि थी।

उपरोक्त कथन के आलोक में, नीचे दिए गए विकल्पों में से सबसे उपयुक्त उत्तर का चयन कीजिए

- (1) कथन I और II दोनों सही हैं
- (2) कथन I और II दोनों गलत हैं
- (3) कथन I सही है, लेकिन कथन II गलत है
- (4) कथन I गलत है, लेकिन कथन II सही है

Options :

92090660717. 1

92090660718. 2

92090660719. 3

92090660720. 4

Question Number : 81 Question Id : 92090615366 Question Type : MCQ Option Shuffling : No Is Question Mandatory : No Calculator : None Response Time : N.A Think Time : N.A Minimum Instruction Time : 0

Correct Marks : 4 Wrong Marks : 1

Given below are two statements :

Statement I : Culture is transmitted and carried forward from generation to next generation.

Statement II : The culture we inherit from our predecessors is called our cultural heritage.

In the light of the above statements, choose the correct answer from the options given below :

- (1) Both Statement I and Statement II are true
- (2) Both Statement I and Statement II are false
- (3) Statement I is true but Statement II is false
- (4) Statement I is false but Statement II is true

Options :

92090660721. 1

92090660722. 2

92090660723. 3

92090660724. 4

Question Number : 81 Question Id : 92090615366 Question Type : MCQ Option Shuffling : No Is Question Mandatory : No Calculator : None Response Time : N.A Think Time : N.A Minimum Instruction Time : 0

Correct Marks : 4 Wrong Marks : 1

नीचे दो कथन दिए गए हैं:

कथन I: संस्कृति एक पीढ़ी से दूसरी पीढ़ी में संचारित होती रहेती है।

कथन II : जो संस्कृति हम अपने पूर्वजों से प्राप्त करते हैं, वह सांस्कृतिक विरासत कहलाती है।

उपरोक्त कथन के आलोक में, नीचे दिए गए विकल्पों में से सही उत्तर का चयन कीजिए

- (1) कथन I और II दोनों सत्य हैं
- (2) कथन I और II दोनों असत्य हैं
- (3) कथन I सत्य है, लेकिन कथन II असत्य है
- (4) कथन I असत्य है, लेकिन कथन II सत्य है

Options :

- 92090660721. 1
- 92090660722. 2
- 92090660723. 3
- 92090660724. 4

Question Number : 82 Question Id : 92090615367 Question Type : MCQ Option Shuffling : No Is Question Mandatory : No Calculator : None Response Time : N.A Think Time : N.A Minimum Instruction Time : 0

Correct Marks : 4 Wrong Marks : 1

Given below are two statements :

Statement I: The Gandhara region extending from Arunachal Pradesh to the borders of China.

Statement II : Owing to its location the Gandhara school of Art imbibed all kinds of foreign influences like Persian, Greek, Roman, Saka and kushan.

In the light of the above statements, choose the correct answer from the options given below :

- (1) Both Statement I and Statement II are true
- (2) Both Statement I and Statement II are false
- (3) Statement I is true but Statement II is false
- (4) Statement I is false but Statement II is true

Options :

- 92090660725. 1
- 92090660726. 2
- 92090660727. 3
- 92090660728. 4

Question Number : 82 Question Id : 92090615367 Question Type : MCQ Option Shuffling : No Is Question Mandatory : No Calculator : None Response Time : N.A Think Time : N.A Minimum Instruction Time : 0

Correct Marks : 4 Wrong Marks : 1

नीचे दो कथन दिए गए हैं:

कथन I : गंधार क्षेत्र अरुणाचल प्रदेश से चीन की सीमा तक फैला है।

कथन II : अपनी अवस्थिति के कारण गंधार कला शाखा में सभी प्रकार के विदेशी प्रभाव, जैसे पर्सियन, ग्रीक, रोमन, ससानी और कुशान, आ गये।

उपरोक्त कथन के आलोक में, नीचे दिए गए विकल्पों में से **सही उत्तर** का चयन कीजिए

- (1) कथन I और II दोनों सत्य हैं
- (2) कथन I और II दोनों असत्य हैं
- (3) कथन I सत्य है, लेकिन कथन II असत्य है
- (4) कथन I असत्य है, लेकिन कथन II सत्य है

Options :

92090660725. 1
92090660726. 2
92090660727. 3
92090660728. 4

Question Number : 83 Question Id : 92090615368 Question Type : MCQ Option Shuffling : No Is Question Mandatory : No Calculator : None Response Time : N.A Think Time : N.A Minimum Instruction Time : 0

Correct Marks : 4 Wrong Marks : 1

Given below are two statements :

Statement I : The paintings at Ajanta, Bagh and Badami known as classical Art by the modern Art historians.

Statement II : The modelling quality of the line of the Art that brings out in full the three-dimensional rounded volume of the mass as well as its plasticity.

In the light of the above statements, choose the correct answer from the options given below :

- (1) Both Statement I and Statement II are true
- (2) Both Statement I and Statement II are false
- (3) Statement I is true but Statement II is false
- (4) Statement I is false but Statement II is true

Options :

92090660729. 1

92090660730. 2

92090660731. 3

92090660732. 4

Question Number : 83 Question Id : 92090615368 Question Type : MCQ Option Shuffling : No Is Question Mandatory : No Calculator : None Response Time : N.A Think Time : N.A Minimum Instruction Time : 0

Correct Marks : 4 Wrong Marks : 1

नीचे दो कथन दिए गए हैं:

कथन I : अजंता, बाहा और बादामी की चित्रकलाओं को आधुनिक कला इतिहासकार क्लासिकल आर्ट की संज्ञा देते हैं।

कथन II : कला की माडलिंग गुणवत्ता पदार्थ के त्रिआयामी गोलाकार परिमाण और इसकी कृत्रिमता को इसकी संपूर्णता में उभारती है।

उपरोक्त कथन के आलोक में, नीचे दिए गए विकल्पों में से सही उत्तर का चयन कीजिए

- (1) कथन I और II दोनों सत्य हैं
- (2) कथन I और II दोनों असत्य हैं
- (3) कथन I सत्य है, लेकिन कथन II असत्य है
- (4) कथन I असत्य है, लेकिन कथन II सत्य है

Options :

92090660729. 1

92090660730. 2

92090660731. 3

92090660732. 4

Question Number : 84 Question Id : 92090615369 Question Type : MCQ Option Shuffling : No Is Question Mandatory : No Calculator : None Response Time : N.A Think Time : N.A Minimum Instruction Time : 0

Correct Marks : 4 Wrong Marks : 1

Given below are two statements :

Statement I : Painting is the one of the most delicate forms of Art giving expression to human thoughts and feelings through the media of line and colour.

Statement II : Many thousands of years before the dawn of history, when man was only a cave dweller, he painted his rock shelters to satisfy his aesthetic sensitivity and creative urge.

In the light of the above statements, choose the correct answer from the options given below :

- (1) Both Statement I and Statement II are true
- (2) Both Statement I and Statement II are false
- (3) Statement I is true but Statement II is false
- (4) Statement I is false but Statement II is true

Options :

92090660733. 1
92090660734. 2
92090660735. 3
92090660736. 4

Question Number : 84 Question Id : 92090615369 Question Type : MCQ Option Shuffling : No Is Question Mandatory : No Calculator : None Response Time : N.A Think Time : N.A Minimum Instruction Time : 0

Correct Marks : 4 Wrong Marks : 1

नीचे दो कथन दिए गए हैं:

कथन I : चित्रकला सर्वाधिक कोमल कला रूप है जो आरेखों और चित्रों के माध्यम से मानवीय विचारों और भावनाओं से अभिव्यक्ति देती है।

कथन II : इतिहास के उद्गम के हजारों वर्ष पूर्व जब मनुष्य केवल गुफाओं में रहता था, उसने पत्थरों के अपने आश्रय स्थलों पर चित्रकारी की ताकि वह अपनी सौंदर्य पर संवेदनशीलता और रचनात्मक इच्छा की पूर्ति कर सके।

उपरोक्त कथन के आलोक में, नीचे दिए गए विकल्पों में से सही उत्तर का चयन कीजिए

- (1) कथन I और II दोनों सत्य हैं
- (2) कथन I और II दोनों असत्य हैं
- (3) कथन I सत्य है, लेकिन कथन II असत्य है
- (4) कथन I असत्य है, लेकिन कथन II सत्य है

Options :

- 92090660733. 1
- 92090660734. 2
- 92090660735. 3
- 92090660736. 4

Question Number : 85 Question Id : 92090615370 Question Type : MCQ Option Shuffling : No Is Question Mandatory : No Calculator : None Response Time : N.A Think Time : N.A Minimum Instruction Time : 0

Correct Marks : 4 Wrong Marks : 1

Given below are two statements :

Statement I : Anubis was the God of embalming and the protector of mummies in the potentially dangerous transition between death and rebirth in the afterlife.

Statement II : Anubis was often portrayed as a human with the head of lion.

In the light of the above statements, choose the correct answer from the options given below :

- (1) Both Statement I and Statement II are true
- (2) Both Statement I and Statement II are false
- (3) Statement I is true but Statement II is false
- (4) Statement I is false but Statement II is true

Options :

- 92090660737. 1
- 92090660738. 2
- 92090660739. 3
- 92090660740. 4

Question Number : 85 Question Id : 92090615370 Question Type : MCQ Option Shuffling : No Is Question Mandatory : No Calculator : None Response Time : N.A Think Time : N.A Minimum Instruction Time : 0

Correct Marks : 4 Wrong Marks : 1

नीचे दो कथन दिए गए हैं:

कथन I : अनुबीस आलेपन के देवता थे और वे उत्तर जीवन अवधि में मृत्यु और पुनर्जन्म के बीच के खतरनाक संक्रमण काल में ममियों का संरक्षण करते थे।

कथन II : अनुबीस को प्रायः एक मनुष्य के रूप में दर्शाया गया है जिसका सिर सिंह का होता है।

उपरोक्त कथन के आलोक में, नीचे दिए गए विकल्पों में से सही उतर का चयन कीजिए

- (1) कथन I और II दोनों सत्य हैं
- (2) कथन I और II दोनों असत्य हैं
- (3) कथन I सत्य है, लेकिन कथन II असत्य है
- (4) कथन I असत्य है, लेकिन कथन II सत्य है

Options :

92090660737. 1
92090660738. 2
92090660739. 3
92090660740. 4

Question Number : 86 Question Id : 92090615371 Question Type : MCQ Option Shuffling : No Is Question Mandatory : No Calculator : None Response Time : N.A Think Time : N.A Minimum Instruction Time : 0

Correct Marks : 4 Wrong Marks : 1

Which of the following persons were associated with the excavation of Harappa?

- (A) S. S. Biswas
- (B) John Marshall
- (C) R. D. Banerjee
- (D) Rakhal Das Bandopadhyaya

Choose the correct answer from the options given below :

- (1) (A) and (C) only
- (2) (A) and (D) only
- (3) (B) and (D) only
- (4) (B) and (C) only

Options :

92090660741. 1
92090660742. 2
92090660743. 3
92090660744. 4

Question Number : 86 Question Id : 92090615371 Question Type : MCQ Option Shuffling : No Is Question Mandatory : No Calculator : None Response Time : N.A Think Time : N.A Minimum Instruction Time : 0

Correct Marks : 4 Wrong Marks : 1

निम्नलिखित में से कौन से व्यक्ति हड़प्पा के उत्खनन से संबंधित थे?

- A. एस.एस.विस्वास
- B. जॉन मार्शल
- C. आर.डी. बनर्जी
- D. रखाल दास बंद्योपाध्याय

नीचे दिए गए विकल्पों में से सही उत्तर का चयन कीजिए :

- (1) केवल A और C
- (2) केवल A और D
- (3) केवल B और D
- (4) केवल B और C

Options :

- 92090660741. 1
- 92090660742. 2
- 92090660743. 3
- 92090660744. 4

Question Number : 87 Question Id : 92090615372 Question Type : MCQ Option Shuffling : No Is Question Mandatory : No Calculator : None Response Time : N.A Think Time : N.A Minimum Instruction Time : 0

Correct Marks : 4 Wrong Marks : 1

Which of the following paintings are found in Ajanta caves?

- (A) Apsara, Buddha
- (B) Surasundari, A Divine couple
- (C) Shiva, Avalokitesvara
- (D) Monks, Lotus

Choose the correct answer from the options given below :

- (1) (A), (B), (C) only
- (2) (A), (D), (B) only
- (3) (B), (C), (D) only
- (4) (A), (C), (D) only

Options :

- 92090660745. 1
- 92090660746. 2
- 92090660747. 3
- 92090660748. 4

Question Number : 87 Question Id : 92090615372 Question Type : MCQ Option Shuffling : No Is Question Mandatory : No Calculator : None Response Time : N.A Think Time : N.A Minimum Instruction Time : 0

Correct Marks : 4 Wrong Marks : 1

अजंता की गुफाओं में निम्नलिखित में से कौन से चित्र मिलते हैं?

- A. अप्सरा, बुद्ध
- B. सुरासुंदरी, एक दैवी युगल
- C. शिव, अवलोकितेश्वर
- D. भिक्षु, कमल

नीचे दिए गए विकल्पों में से **सही उत्तर** का चयन कीजिए :

- (1) केवल A, B, C
- (2) केवल A, D, B
- (3) केवल B, C, D
- (4) केवल A, C, D

Options :

- 92090660745. 1
- 92090660746. 2

92090660747. 3

92090660748. 4

Question Number : 88 Question Id : 92090615373 Question Type : MCQ Option Shuffling : No Is Question Mandatory : No Calculator : None Response Time : N.A Think Time : N.A Minimum Instruction Time : 0

Correct Marks : 4 Wrong Marks : 1

Which are the correct major forms of sculptures?

- (A) Intaglio
- (B) Reliefs
- (C) Mould
- (D) Pitcher

Choose the correct answer from the options given below :

- (1) (A) and (C) only
- (2) (C) and (D) only
- (3) (A) and (B) only
- (4) (B) and (C) only

Options :

92090660749. 1

92090660750. 2

92090660751. 3

92090660752. 4

Question Number : 88 Question Id : 92090615373 Question Type : MCQ Option Shuffling : No Is Question Mandatory : No Calculator : None Response Time : N.A Think Time : N.A Minimum Instruction Time : 0

Correct Marks : 4 Wrong Marks : 1

निम्नलिखित में से कौन मूर्तिकला के सही प्रमुख रूप हैं?

- A. उत्कीर्ण आकृति (इंटैगलियो)
- B. रिलीफ
- C. साँचा (मोल्ड)
- D. घड़ा (पिचर)

नीचे दिए गए विकल्पों में से सबसे उपयुक्त उत्तर का चयन कीजिए :

- (1) केवल A, और C
- (2) केवल C और D,
- (3) केवल A और B,
- (4) केवल B और C

Options :

- 92090660749. 1
- 92090660750. 2
- 92090660751. 3
- 92090660752. 4

Question Number : 89 Question Id : 92090615374 Question Type : MCQ Option Shuffling : No Is Question Mandatory : No Calculator : None Response Time : N.A Think Time : N.A Minimum Instruction Time : 0

Correct Marks : 4 Wrong Marks : 1

The distinct features of Indo- Islamic architecture were the-

- (A) Dome
- (B) Round base
- (C) Balconies
- (D) Tower of minarets

Choose the correct answer from the options given below :

- (1) (A) and (B) only
- (2) (A) and (D) only
- (3) (B) and (C) only
- (4) (B) and (D) only

Options :

- 92090660753. 1
- 92090660754. 2

92090660755. 3

92090660756. 4

Question Number : 89 Question Id : 92090615374 Question Type : MCQ Option Shuffling : No Is Question Mandatory : No Calculator : None Response Time : N.A Think Time : N.A Minimum Instruction Time : 0

Correct Marks : 4 Wrong Marks : 1

इंडो इस्लामिक वास्तुकला की मूलभूत विशेषतायें थीं :-

- A. गुंबद
- B. गोल आधार
- C. बालकनी
- D. मीनारों का स्तंभ

नीचे दिए गए विकल्पों में से सबसे उपयुक्त उत्तर का चयन कीजिए :

- (1) केवल A, और B
- (2) केवल A और D
- (3) केवल B और C,
- (4) केवल B और D

Options :

92090660753. 1

92090660754. 2

92090660755. 3

92090660756. 4

Question Number : 90 Question Id : 92090615375 Question Type : MCQ Option Shuffling : No Is Question Mandatory : No Calculator : None Response Time : N.A Think Time : N.A Minimum Instruction Time : 0

Correct Marks : 4 Wrong Marks : 1

Which of the following climatic conditions can damage oil painting?

- (A) High humidity
- (B) Insect
- (C) High temperature
- (D) Fungus

Choose the correct answer from the options given Below:

- (1) (A) and (B) only
- (2) (C) and (D) only
- (3) (B) and (D) only
- (4) (A) and (C) only

Options :

- 92090660757. 1
- 92090660758. 2
- 92090660759. 3
- 92090660760. 4

Question Number : 90 Question Id : 92090615375 Question Type : MCQ Option Shuffling : No Is Question Mandatory : No Calculator : None Response Time : N.A Think Time : N.A Minimum Instruction Time : 0

Correct Marks : 4 Wrong Marks : 1

निम्नलिखित में से कौन सी जलवायु परिस्थितियां तैल चित्रों को क्षति पहुंचा सकती हैं?

- A. उच्च आर्द्रता
- B. कीट
- C. उच्च तापमान
- D. कवक

नीचे दिए गए विकल्पों में से सबसे उपयुक्त उत्तर का चयन कीजिए :

- (1) केवल A, और B
- (2) केवल C और D,
- (3) केवल B और D,
- (4) केवल A और C

Options :

- 92090660757. 1
- 92090660758. 2
- 92090660759. 3
- 92090660760. 4

Question Number : 91 Question Id : 92090615376 Question Type : MCQ Option Shuffling : No Is Question Mandatory : No Calculator : None Response Time : N.A Think Time : N.A Minimum Instruction Time : 0

Correct Marks : 4 Wrong Marks : 1

The cave temples of Ellora are the creations of three faiths:

- (A) Buddhism
- (B) Christian
- (C) Sikhism
- (D) Jainism
- (E) Hinduism

Choose the correct answer from the options given Bellow :

- (1) (A), (B), (C) only
- (2) (B), (C), (D) only
- (3) (A), (D), (E) only
- (4) (A), (C), (D) only

Options :

92090660761. 1

92090660762. 2

92090660763. 3

92090660764. 4

Question Number : 91 Question Id : 92090615376 Question Type : MCQ Option Shuffling : No Is Question Mandatory : No Calculator : None Response Time : N.A Think Time : N.A Minimum Instruction Time : 0

Correct Marks : 4 Wrong Marks : 1

एलोरा के गुफा मंदिर तीन धर्मों के संगम हैं:

- A. बौद्ध
- B. इसाई
- C. सिख
- D. जैन
- E. हिंदू

नीचे दिए गए विकल्पों में से **सही उत्तर** का चयन कीजिए :

- (1) केवल A, B, C
- (2) केवल B, C, D
- (3) केवल A, D, E
- (4) केवल A, C, D

Options :

- 92090660761. 1
- 92090660762. 2
- 92090660763. 3
- 92090660764. 4

Question Number : 92 Question Id : 92090615377 Question Type : MCQ Option Shuffling : No Is Question Mandatory : No Calculator : None Response Time : N.A Think Time : N.A Minimum Instruction Time : 0

Correct Marks : 4 Wrong Marks : 1

Which of the following places have Buddhist stupas?

- (A) Tamluk
- (B) Sanchi
- (C) Amaravati
- (D) Shimla

Choose the correct answer from the options given below :

- (1) (A) and (B) only
- (2) (B) and (C) only
- (3) (C) and (D) only
- (4) (A) and (D) only

Options :

- 92090660765. 1
- 92090660766. 2

92090660767. 3

92090660768. 4

Question Number : 92 Question Id : 92090615377 Question Type : MCQ Option Shuffling : No Is Question Mandatory : No Calculator : None Response Time : N.A Think Time : N.A Minimum Instruction Time : 0

Correct Marks : 4 Wrong Marks : 1

निम्नलिखित में से किन स्थानों पर बौद्ध स्तूप हैं?

- A. तामलुक
- B. साँची
- C. अमरावती
- D. शिमला

नीचे दिए गए विकल्पों में से सबसे उपयुक्त उत्तर का चयन कीजिए :

- (1) केवल A, और B
- (2) केवल B और C
- (3) केवल C और D
- (4) केवल A और D

Options :

92090660765. 1

92090660766. 2

92090660767. 3

92090660768. 4

Question Number : 93 Question Id : 92090615378 Question Type : MCQ Option Shuffling : No Is Question Mandatory : No Calculator : None Response Time : N.A Think Time : N.A Minimum Instruction Time : 0

Correct Marks : 4 Wrong Marks : 1

Match List I with List II :

List I	List II
(A) Mahabodhi Temple Complex	(I) Mughal Style
(B) Rock Shelters	(II) Bodh Gaya
(C) Group of Monuments at Pattadakal	(III) Bhimbetka
(D) Fatehpur sikri	(IV) Chalukya dynasty

Choose the correct answer from the options given below :

- (1) (A)-(II), (B)-(III), (C)-(IV), (D)-(I)
- (2) (A)-(II), (B)-(III), (C)-(IV), (D)-(I)
- (3) (A)-(III), (B)-(IV), (C)-(II), (D)-(I)
- (4) (A)-(IV), (B)-(III), (C)-(I), (D)-(II)

Options :

- 92090660769. 1
- 92090660770. 2
- 92090660771. 3
- 92090660772. 4

Question Number : 93 Question Id : 92090615378 Question Type : MCQ Option Shuffling : No Is Question Mandatory : No Calculator : None Response Time : N.A Think Time : N.A Minimum Instruction Time : 0

Correct Marks : 4 Wrong Marks : 1

सूची I के साथ सूची II का मिलान कीजिए

सूची-I

- A. महाबोधि मंदिर परिसर
- B. चट्टान गृह
- C. पट्टडकल में स्मारक समूह
- D. फतेहपुर सीकरी

सूची-II

- I. मुगल शैली
- II. बोध गया
- III. भीम बेटका
- IV. चालुक्य वंश

नीचे दिए गए विकल्पों में से सही उत्तर का चयन कीजिए:

- 1 A-II, B-III, C-IV, D-I
- 2 A-II, B-III, C-IV, D-I
- 3 A-III, B-IV, C-II, D-I
- 4 A-IV, B-III, C-I, D-II

Options :

- 92090660769. 1
- 92090660770. 2
- 92090660771. 3
- 92090660772. 4

Question Number : 94 Question Id : 92090615379 Question Type : MCQ Option Shuffling : No Is Question Mandatory : No Calculator : None Response Time : N.A Think Time : N.A Minimum Instruction Time : 0

Correct Marks : 4 Wrong Marks : 1

Match List I with List II :

List I	List II
(A) Ninteenth century court Arts of India	(I) S. N. Das gupta
(B) Fundamentals of Indian Art	(II) S. S. Biswas, Julekha Haque
(C) Terracotta temples of Bengal	(III) Marika Sardar
(D) Museum Basics	(IV) T. Ambrose and C. painc

Choose the correct answer from the options given below :

- (1) (A)-(III), (B)-(I), (C)-(II), (D)-(IV)
- (2) (A)-(III), (B)-(II), (C)-(I), (D)-(IV)
- (3) (A)-(IV), (B)-(III), (C)-(II), (D)-(I)
- (4) (A)-(II), (B)-(IV), (C)-(III), (D)-(I)

Options :

- 92090660773. 1
- 92090660774. 2
- 92090660775. 3
- 92090660776. 4

Question Number : 94 Question Id : 92090615379 Question Type : MCQ Option Shuffling : No Is Question Mandatory : No Calculator : None Response Time : N.A Think Time : N.A Minimum Instruction Time : 0

Correct Marks : 4 Wrong Marks : 1

सूची I के साथ सूची II का मिलान कीजिए

सूची-I

- A भारत में 19वीं सदी की दरबारी कला
- B भारतीय कला के मूल तत्त्व
- C बंगाल के टेराकोटा मंदिर
- D संग्रहालय के मूल तत्त्व

सूची -II

- I एस.एन. दासगुप्त
- II एस.एस.बिस्वास, जुलेखा हक
- III मरिका सरदार
- IV टी. एम्ब्रोस और सी. पेन

नीचे दिए गए विकल्पों में से सही उत्तर का चयन कीजिए:

- 1 A-III, B-I, C-II, D-IV
- 2 A-III, B-II, C-I, D-IV
- 3 A- IV, B- III, C-II, D-I
- 4 A-II, B-IV, C-III, D-I

Options :

- 92090660773. 1
- 92090660774. 2
- 92090660775. 3
- 92090660776. 4

Question Number : 95 Question Id : 92090615380 Question Type : MCQ Option Shuffling : No Is Question Mandatory : No Calculator : None Response Time : N.A Think Time : N.A Minimum Instruction Time : 0

Correct Marks : 4 Wrong Marks : 1

Match List I with List II :

List I

- (A) The marriage of the virgin
- (B) The Last Supper
- (C) Sistine Chapel
- (D) Wheat field with crows

List II

- (I) Leonardo da vinci
- (II) Michelangelo
- (III) Vincent van Gogh
- (IV) Raphael

Choose the correct answer from the options given below :

- (1) (A)-(IV), (B)-(I), (C)-(II), (D)-(III)
- (2) (A)-(III), (B)-(II), (C)-(I), (D)-(IV)
- (3) (A)-(II), (B)-(IV), (C)-(III), (D)-(I)
- (4) (A)-(I), (B)-(III), (C)-(IV), (D)-(II)

Options :

92090660777. 1
92090660778. 2
92090660779. 3
92090660780. 4

Question Number : 95 Question Id : 92090615380 Question Type : MCQ Option Shuffling : No Is Question Mandatory : No Calculator : None Response Time : N.A Think Time : N.A Minimum Instruction Time : 0

Correct Marks : 4 Wrong Marks : 1

सूची I के साथ सूची II का मिलान कीजिए

सूची-I	सूची -II
A द मैरिज ऑफ द वर्जिन	I. लियानार्डो दा विंसी
B द लास्ट सपर	II. माइकल एंजेलो
C सिस्टीन चैपल	III. विंसेंट वॉन गॉग
D व्हीट फिल्ड विद क्रोज	IV. रफायेल

नीचे दिए गए विकल्पों में से सही उत्तर का चयन कीजिए:

- (1) A-IV, B-I, C-II, D-III
(2) A-III, B-II, C-I, D-IV
(3) A- II, B-IV, C-III, D-I
(4) A-I, B-III, C-IV, D-II

Options :

92090660777. 1
92090660778. 2
92090660779. 3
92090660780. 4

Question Number : 96 Question Id : 92090615381 Question Type : MCQ Option Shuffling : No Is Question Mandatory : No Calculator : None Response Time : N.A Think Time : N.A Minimum Instruction Time : 0

Correct Marks : 4 Wrong Marks : 1

Match List I with List II :

List I	List II
(A) Veiled Rebecca	(I) Patna Museum
(B) Didar gunj Yakshi	(II) National Museum
(C) Dancing girl	(III) Indian Museum
(D) Bharhut gallery	(IV) Salar Jung Museum

Choose the correct answer from the options given below :

- (1) (A)-(IV), (B)-(I), (C)-(II), (D)-(III)
- (2) (A)-(I), (B)-(III), (C)-(IV), (D)-(II)
- (3) (A)-(II), (B)-(I), (C)-(III), (D)-(IV)
- (4) (A)-(II), (B)-(III), (C)-(IV), (D)-(I)

Options :

92090660781. 1
92090660782. 2
92090660783. 3
92090660784. 4

Question Number : 96 Question Id : 92090615381 Question Type : MCQ Option Shuffling : No Is Question Mandatory : No Calculator : None Response Time : N.A Think Time : N.A Minimum Instruction Time : 0

Correct Marks : 4 Wrong Marks : 1

सूची I के साथ सूची II का मिलान कीजिए

सूची-I

- A वेल्ड रेबेका
B दीदारगंज यक्षी
C डांसिंग गर्ल
D भरहुत गैलरी

सूची-II

- I. पटना संग्रहालय
II. राष्ट्रीय संग्रहालय
III भारतीय संग्रहालय
IV सालार जंग संग्रहालय

नीचे दिए गए विकल्पों में से सही उत्तर का चयन कीजिए:

- (1) A-IV, B-I, C-II, D-III
- (2) A-I, B-III, C-IV, D-II
- (3) A- II, B-I, C-III, D-IV
- (4) A-II, B-III, C-IV, D-I

Options :

92090660781. 1
92090660782. 2
92090660783. 3
92090660784. 4

Question Number : 97 Question Id : 92090615382 Question Type : MCQ Option Shuffling : No Is Question Mandatory : No Calculator : None Response Time : N.A Think Time : N.A Minimum Instruction Time : 0

Correct Marks : 4 Wrong Marks : 1

Match List I with List II :

List I	List II
(A) Bismillakhan	(I) Bansuri
(B) Amjad Khan	(II) Table
(C) Ustad Rakkha	(III) Sarod
(D) Hari Prasad Chaurasia	(IV) Shenai

Choose the correct answer from the options given below :

- (1) (A)-(IV), (B)-(II), (C)-(I), (D)-(III)
(2) (A)-(I), (B)-(II), (C)-(III), (D)-(IV)
(3) (A)-(IV), (B)-(III), (C)-(II), (D)-(I)
(4) (A)-(III), (B)-(I), (C)-(IV), (D)-(II)

Options :

92090660785. 1
92090660786. 2
92090660787. 3
92090660788. 4

Question Number : 97 Question Id : 92090615382 Question Type : MCQ Option Shuffling : No Is Question Mandatory : No Calculator : None Response Time : N.A Think Time : N.A Minimum Instruction Time : 0

Correct Marks : 4 Wrong Marks : 1

सूची I के साथ सूची II का मिलान कीजिए

सूची-I

- A बिस्मिल्ला खान
- B अमजद खान
- C उस्ताद रक्खा
- D हरि प्रसाद चौरसिया

सूची -II

- I. बांसुरी
- II. तबला
- III सरोद
- IV शहनाई

नीचे दिए गए विकल्पों में से सही उत्तर का चयन कीजिए:

- (1) A-IV, B-II, C-I, D-III
- (2) A-I, B-II, C-III, D-IV
- (3) A- IV, B-III, C-II, D-I
- (4) A-III, B-I, C-IV, D-II

Options :

- 92090660785. 1
- 92090660786. 2
- 92090660787. 3
- 92090660788. 4

Question Number : 98 Question Id : 92090615383 Question Type : MCQ Option Shuffling : No Is Question Mandatory : No Calculator : None Response Time : N.A Think Time : N.A Minimum Instruction Time : 0

Correct Marks : 4 Wrong Marks : 1

Match List I with List II :

List I	List II
(A) 2500-2000 BC	(I) Mahavira was born
(B) 1000-600 BC	(II) The Aryans settled through Northen India
(C) 6 th century BC	(III) Expansion of Indus Valley Civilisation in Sindh
(D) 327 BC	(IV) Expedition of Alexander the great to the punjab and sindh

Choose the correct answer from the options given below :

- (1) (A)-(I), (B)-(II), (C)-(III), (D)-(IV)
- (2) (A)-(III), (B)-(II), (C)-(IV), (D)-(I)
- (3) (A)-(II), (B)-(III), (C)-(I), (D)-(IV)
- (4) (A)-(III), (B)-(II), (C)-(I), (D)-(IV)

Options :

- 92090660789. 1
- 92090660790. 2
- 92090660791. 3
- 92090660792. 4

Question Number : 98 Question Id : 92090615383 Question Type : MCQ Option Shuffling : No Is Question Mandatory : No Calculator : None Response Time : N.A Think Time : N.A Minimum Instruction Time : 0

Correct Marks : 4 Wrong Marks : 1

सूची I के साथ सूची II का मिलान कीजिए

सूची-I

- A. 2500 – 2000 B C
- B. 1000 - 600 B C
- C. 6 ठी शताब्दी B C
- D. 327 B C

सूची-II

- I महावीर का जन्म
- II आर्यों की पूरे भारत में बस्तियां
- III सिंधु घाटी सभ्यता का सिंध में विस्तार
- IV पंजाब और सिंध में सिकंदर महान का आगमन

नीचे दिए गए विकल्पों में से सही उत्तर का चयन कीजिए:

- (1) A-I, B-II, C-III, D-IV
- (2) A-III, B-II, C-IV, D-I
- (3) A- II, B-III, C-I, D-IV
- (4) A-III, B-II, C-I, D-IV

Options :

- 92090660789. 1
- 92090660790. 2
- 92090660791. 3
- 92090660792. 4

Question Number : 99 Question Id : 92090615384 Question Type : MCQ Option Shuffling : No Is Question Mandatory : No Calculator : None Response Time : N.A Think Time : N.A Minimum Instruction Time : 0

Correct Marks : 4 Wrong Marks : 1

Match List I with List II :

List I

- (A) The Gandhara school of Art.
- (B) The Mathura school of Art.
- (C) Odisha school
- (D) Dravida school

List II

- (I) Lingaraj Temple
- (II) Graeco-Buddhist school
- (III) Kushan
- (IV) Brihadeswara temple, Tanjavur

Choose the correct answer from the options given below :

- (1) (A)-(II), (B)-(III), (C)-(IV), (D)-(I)
- (2) (A)-(I), (B)-(II), (C)-(IV), (D)-(III)
- (3) (A)-(II), (B)-(III), (C)-(I), (D)-(IV)
- (4) (A)-(III), (B)-(IV), (C)-(II), (D)-(I)

Options :

92090660793. 1
92090660794. 2
92090660795. 3
92090660796. 4

**Question Number : 99 Question Id : 92090615384 Question Type : MCQ Option Shuffling : No Is
Question Mandatory : No Calculator : None Response Time : N.A Think Time : N.A Minimum
Instruction Time : 0**

Correct Marks : 4 Wrong Marks : 1

सूची I के साथ सूची II का मिलान कीजिए

- | सूची-I | सूची-II |
|------------------------|------------------------------|
| A. गंधार स्कूल ऑफ आर्ट | I. लिंगराज मंदिर |
| B. मथुरा स्कूल ऑफ आर्ट | II. ग्रीको - बुद्धिस्ट स्कूल |
| C. ओडिशा स्कूल | III. कुशान |
| D. द्रविड़ स्कूल | IV. बृहदेश्वर मंदिर तंजावुर |

नीचे दिए गए विकल्पों में से सही उत्तर का चयन कीजिए:

- (1) A-II, B-III, C-IV, D-I
(2) A-I, B-II, C-IV, D-III
(3) A- II, B-III, C-I, D-IV
(4) A-III, B-IV, C-II, D-I

Options :

92090660793. 1
92090660794. 2
92090660795. 3
92090660796. 4

**Question Number : 100 Question Id : 92090615385 Question Type : MCQ Option Shuffling : No Is
Question Mandatory : No Calculator : None Response Time : N.A Think Time : N.A Minimum
Instruction Time : 0**

Correct Marks : 4 Wrong Marks : 1

Match List I with List II :

List I	List II
(A) Vincent Van Gogh	(I) Italian Painter
(B) Pablo Picasso	(II) Spanish Painter
(C) Leonardo da vinci	(III) Dutch Painter
(D) Oskar- claudio Monet	(IV) French Painter

Choose the correct answer from the options given below :

- (1) (A)-(IV), (B)-(II), (C)-(I), (D)-(III)
- (2) (A)-(III), (B)-(II), (C)-(I), (D)-(IV)
- (3) (A)-(I), (B)-(IV), (C)-(III), (D)-(II)
- (4) (A)-(II), (B)-(III), (C)-(IV), (D)-(I)

Options :

92090660797. 1
92090660798. 2
92090660799. 3
92090660800. 4

Question Number : 100 Question Id : 92090615385 Question Type : MCQ Option Shuffling : No Is Question Mandatory : No Calculator : None Response Time : N.A Think Time : N.A Minimum Instruction Time : 0

Correct Marks : 4 Wrong Marks : 1

सूची I के साथ सूची II का मिलान कीजिए

सूची-I	सूची - II
A. विसेंट वॉर्न गॉग	I. इतालवी पेंट
B. पाबलो पिकासो	II. स्पैनिश पेंट
C. लियानार्डो दा विंसी	III. डच पेंट
D. ऑस्कर – क्लाउडो मोनेट	IV. फ्रेंच पेंट

नीचे दिए गए विकल्पों में से सही उत्तर का चयन कीजिए:

- (1) A-IV, B-II, C-I, D-III
- (2) A-III, B-II, C-I, D-IV
- (3) A- I, B-IV, C-III, D-II
- (4) A-II, B-III, C-IV, D-I

Options :

92090660797. 1
92090660798. 2

92090660799. 3

92090660800. 4