

# National Testing Agency

<b>Question Paper Name :</b>	Anthropology Hin 26th June 2023 Shift 2
<b>Subject Name :</b>	Anthropology Hin
<b>Creation Date :</b>	2023-06-26 18:29:28
<b>Duration :</b>	120
<b>Total Marks :</b>	400
<b>Display Marks:</b>	Yes

## Anthropology

<b>Group Number :</b>	1
<b>Group Id :</b>	920906265
<b>Group Maximum Duration :</b>	0
<b>Group Minimum Duration :</b>	120
<b>Show Attended Group? :</b>	No
<b>Edit Attended Group? :</b>	No
<b>Break time :</b>	0
<b>Group Marks :</b>	400
<b>Is this Group for Examiner? :</b>	No
<b>Examiner permission :</b>	Cant View
<b>Show Progress Bar? :</b>	No

## Part A

<b>Section Id :</b>	920906529
<b>Section Number :</b>	1
<b>Section type :</b>	Online
<b>Mandatory or Optional :</b>	Mandatory
<b>Number of Questions :</b>	21
<b>Number of Questions to be attempted :</b>	21
<b>Section Marks :</b>	100
<b>Enable Mark as Answered Mark for Review and Clear Response :</b>	Yes
<b>Maximum Instruction Time :</b>	0
<b>Sub-Section Number :</b>	1
<b>Sub-Section Id :</b>	920906859
<b>Question Shuffling Allowed :</b>	No
<b>Is Section Default? :</b>	null

**Question Id : 92090626725 Question Type : COMPREHENSION Sub Question Shuffling Allowed : Yes Group Comprehension Questions : No Question Pattern Type : NonMatrix Calculator : None Response Time : N.A Think Time : N.A Minimum Instruction Time : 0**

**Question Numbers : (1 to 5)**

**Question Label : Comprehension**

निम्नलिखित गद्यांश के आधार पर प्रश्नों के उत्तर दीजिए -

सदियों से अज्ञान और अंधविश्वास फैलाने वाली इन ताकतों ने सामान्य पीड़ित जन के मन में ऐसी झूठी श्रद्धाएँ, निष्ठाएँ और विश्वास जमा दिये हैं कि गुलाम आजाद होने को तैयार नहीं होता। अन्याय का शिकार न्याय स्वीकार करने को प्रस्तुत नहीं। वंचित अधिकार की प्राप्ति से मुँह मोड़ता है। शोषण का शिकार शोषणहीन व्यवस्था का खुद विरोध करने लगता है। जब तक वास्तविकता की सही पहचान कराके सही चेतना का निर्माण नहीं किया जाता, मुक्ति दिलाने वाला खुद उनके विरोध का शिकार होता है, जिन्हें वह मुक्त कराना चाहता है।

अफगानिस्तान में समाजवादी सरकार के बाद भूमि-सुधार लागू हुए। हजारों एकड़ों के भूमि मालिक खानों की जमीन छीनकर भूमिहीन किसानों को दी जाने लगी। सदियों से वंचित और शोषित भूमिहीन किसानों से जब कहा – उस खान की जमीन में से ये बीस एकड़ तुम ले लो, तो कई ने जवाब दिया – लाहौल बिला कूवत! दूसरे की जमीन पर कब्जा कैसे कर लें? अरे, क्या दोजख की आग में जलना है! कयामत पर खुदा को क्या जवाब देंगे। तौबा-तौबा! हमें नहीं चाहिए किसी की जमीन!

**Sub questions**

**Question Number : 1 Question Id : 92090626726 Question Type : MCQ Option Shuffling : No Is Question Mandatory : No Calculator : None Response Time : N.A Think Time : N.A Minimum Instruction Time : 0**

**Correct Marks : 4 Wrong Marks : 1**

अंधविश्वास फैलाने वाली ताकतों ने झूठी श्रद्धा, निष्ठा और विश्वास कहाँ जमा दिये हैं?

- |                                 |                       |
|---------------------------------|-----------------------|
| (1) भूमि मालिकों के मन में      | (2) शोषकों के मन में  |
| (3) सामान्य पीड़ित जन के मन में | (4) किसानों के मन में |

**Options :**

920906105601. 1

920906105602. 2

920906105603. 3

920906105604. 4

**Question Number : 2 Question Id : 92090626727 Question Type : MCQ Option Shuffling : No Is Question Mandatory : No Calculator : None Response Time : N.A Think Time : N.A Minimum Instruction Time : 0**

**Correct Marks : 4 Wrong Marks : 1**

अन्याय का शिकार क्या स्वीकार करने को तैयार नहीं है?

- |           |            |
|-----------|------------|
| (1) धर्म  | (2) कर्म   |
| (3) न्याय | (4) अन्याय |

**Options :**

920906105605. 1  
920906105606. 2  
920906105607. 3  
920906105608. 4

**Question Number : 3 Question Id : 92090626728 Question Type : MCQ Option Shuffling : No Is Question Mandatory : No Calculator : None Response Time : N.A Think Time : N.A Minimum Instruction Time : 0**

**Correct Marks : 4 Wrong Marks : 1**

अफगानिस्तान में भूमि सुधार कब लागू हुए?

- |                           |                           |
|---------------------------|---------------------------|
| (1) समाजवादी सरकार के बाद | (2) कांग्रेस सरकार के बाद |
| (3) भाजपा सरकार के बाद    | (4) लोकदल सरकार के बाद    |

**Options :**

920906105609. 1  
920906105610. 2  
920906105611. 3  
920906105612. 4

**Question Number : 4 Question Id : 92090626729 Question Type : MCQ Option Shuffling : No Is Question Mandatory : No Calculator : None Response Time : N.A Think Time : N.A Minimum Instruction Time : 0**

**Correct Marks : 4 Wrong Marks : 1**

'लाहौल बिला कूवत' का क्या अर्थ है?

- |   |                      |
|---|----------------------|
| (1) भागना बहादुरी का कार्य है।          | (2) नाचना एक कला है। |
| (3) दूसरे की जमीन पर कब्जा कैसे कर लें। | (4) गाना एक कला है।  |

**Options :**

920906105613. 1  
920906105614. 2  
920906105615. 3  
920906105616. 4

**Question Number : 5 Question Id : 92090626730 Question Type : MCQ Option Shuffling : No Is Question Mandatory : No Calculator : None Response Time : N.A Think Time : N.A Minimum Instruction Time : 0**

**Correct Marks : 4 Wrong Marks : 1**

मुक्ति दिलाने वाला खुद किसके विरोध का शिकार है?

- (1) जिन्हें वह मुक्त कराना चाहता है। (2) जिनसे वह मुक्त होना चाहता है।  
(3) जिन्हें वह मुक्त नहीं कराना चाहता है। (4) जिन्हें उनका सहयोग मिला है।

**Options :**

920906105617. 1

920906105618. 2

920906105619. 3

920906105620. 4

**Question Id : 92090626725 Question Type : COMPREHENSION Sub Question Shuffling Allowed : Yes Group Comprehension Questions : No Question Pattern Type : NonMatrix Calculator : None Response Time : N.A Think Time : N.A Minimum Instruction Time : 0**

**Question Numbers : (1 to 5)**

Question Label : Comprehension

निम्नलिखित गद्यांश के आधार पर प्रश्नों के उत्तर दीजिए -

सदियों से अज्ञान और अंधविश्वास फैलाने वाली इन ताकतों ने सामान्य पीड़ित जन के मन में ऐसी झूठी श्रद्धाएँ, निष्ठाएँ और विश्वास जमा दिये हैं कि गुलाम आजाद होने को तैयार नहीं होता। अन्याय का शिकार न्याय स्वीकार करने को प्रस्तुत नहीं। वंचित अधिकार की प्राप्ति से मुँह मोड़ता है। शोषण का शिकार शोषणहीन व्यवस्था का खुद विरोध करने लगता है। जब तक वास्तविकता की सही पहचान कराके सही चेतना का निर्माण नहीं किया जाता, मुक्ति दिलाने वाला खुद उनके विरोध का शिकार होता है, जिन्हें वह मुक्त कराना चाहता है।

अफगानिस्तान में समाजवादी सरकार के बाद भूमि-सुधार लागू हुए। हजारों एकड़ों के भूमि मालिक खानों की जमीन छीनकर भूमिहीन किसानों को दी जाने लगी। सदियों से वंचित और शोषित भूमिहीन किसानों से जब कहा – उस खान की जमीन में से ये बीस एकड़ तुम ले लो, तो कई ने जवाब दिया – लाहौल बिला कूवत! दूसरे की जमीन पर कब्जा कैसे कर लें? अरे, क्या दोजख की आग में जलना है! कयामत पर खुदा को क्या जवाब देंगे। तौबा-तौबा! हमें नहीं चाहिए किसी की जमीन!

**Sub questions**

**Question Number : 1 Question Id : 92090626726 Question Type : MCQ Option Shuffling : No Is Question Mandatory : No Calculator : None Response Time : N.A Think Time : N.A Minimum Instruction Time : 0**

**Correct Marks : 4 Wrong Marks : 1**

अंधविश्वास फैलाने वाली ताकतों ने झूठी श्रद्धा, निष्ठा और विश्वास कहाँ जमा दिये हैं?

- |                                 |                       |
|---------------------------------|-----------------------|
| (1) भूमि मालिकों के मन में      | (2) शोषकों के मन में  |
| (3) सामान्य पीड़ित जन के मन में | (4) किसानों के मन में |

**Options :**

920906105601. 1  
920906105602. 2  
920906105603. 3  
920906105604. 4

**Question Number : 2 Question Id : 92090626727 Question Type : MCQ Option Shuffling : No Is Question Mandatory : No Calculator : None Response Time : N.A Think Time : N.A Minimum Instruction Time : 0**

**Correct Marks : 4 Wrong Marks : 1**

अन्याय का शिकार क्या स्वीकार करने को तैयार नहीं है?

- |           |            |
|-----------|------------|
| (1) धर्म  | (2) कर्म   |
| (3) न्याय | (4) अन्याय |

**Options :**

920906105605. 1  
920906105606. 2  
920906105607. 3  
920906105608. 4

**Question Number : 3 Question Id : 92090626728 Question Type : MCQ Option Shuffling : No Is Question Mandatory : No Calculator : None Response Time : N.A Think Time : N.A Minimum Instruction Time : 0**

**Correct Marks : 4 Wrong Marks : 1**

अफगानिस्तान में भूमि सुधार कब लागू हुए?

- |                           |                           |
|---------------------------|---------------------------|
| (1) समाजवादी सरकार के बाद | (2) कांग्रेस सरकार के बाद |
| (3) भाजपा सरकार के बाद    | (4) लोकदल सरकार के बाद    |

**Options :**

920906105609. 1  
920906105610. 2  
920906105611. 3  
920906105612. 4

**Question Number : 4 Question Id : 92090626729 Question Type : MCQ Option Shuffling : No Is Question Mandatory : No Calculator : None Response Time : N.A Think Time : N.A Minimum Instruction Time : 0**

**Correct Marks : 4 Wrong Marks : 1**

‘लाहौल बिला कूवत’ का क्या अर्थ है?

- (1) भागना बहादुरी का कार्य है। (2) नाचना एक कला है।  
(3) दूसरे की जमीन पर कब्जा कैसे कर लें। (4) गाना एक कला है।

**Options :**

920906105613. 1  
920906105614. 2  
920906105615. 3  
920906105616. 4

**Question Number : 5 Question Id : 92090626730 Question Type : MCQ Option Shuffling : No Is Question Mandatory : No Calculator : None Response Time : N.A Think Time : N.A Minimum Instruction Time : 0**

**Correct Marks : 4 Wrong Marks : 1**

मुक्ति दिलाने वाला खुद किसके विरोध का शिकार है?

- (1) जिन्हें वह मुक्त कराना चाहता है। (2) जिनसे वह मुक्त होना चाहता है।  
(3) जिन्हें वह मुक्त नहीं कराना चाहता है। (4) जिन्हें उनका सहयोग मिला है।

**Options :**

920906105617. 1  
920906105618. 2  
920906105619. 3  
920906105620. 4

**Sub-Section Number :**

2

**Sub-Section Id :**

920906860

**Question Shuffling Allowed :**

Yes

**Is Section Default? :**

null

**Question Number : 6 Question Id : 92090626731 Question Type : MCQ Option Shuffling : No Is Question Mandatory : No Calculator : None Response Time : N.A Think Time : N.A Minimum Instruction Time : 0**

**Correct Marks : 4 Wrong Marks : 1**

निम्नलिखित में से तालव्य ध्वनि चिन्हित कीजिए :

- |       |       |
|-------|-------|
| (1) क | (2) ज |
| (3) ट | (4) प |

**Options :**

920906105621. 1  
920906105622. 2  
920906105623. 3  
920906105624. 4

**Question Number : 6 Question Id : 92090626731 Question Type : MCQ Option Shuffling : No Is Question Mandatory : No Calculator : None Response Time : N.A Think Time : N.A Minimum Instruction Time : 0**

**Correct Marks : 4 Wrong Marks : 1**

निम्नलिखित में से तालव्य ध्वनि चिन्हित कीजिए :

- |       |       |
|-------|-------|
| (1) क | (2) ज |
| (3) ट | (4) प |

**Options :**

920906105621. 1  
920906105622. 2  
920906105623. 3  
920906105624. 4

**Question Number : 7 Question Id : 92090626732 Question Type : MCQ Option Shuffling : No Is Question Mandatory : No Calculator : None Response Time : N.A Think Time : N.A Minimum Instruction Time : 0**

**Correct Marks : 4 Wrong Marks : 1**

'संतोष' में कौन सा उपसर्ग है?

- |        |         |
|--------|---------|
| (1) सः | (2) सम् |
| (3) सु | (4) सन् |

**Options :**

920906105625. 1  
920906105626. 2  
920906105627. 3  
920906105628. 4

**Question Number : 7 Question Id : 92090626732 Question Type : MCQ Option Shuffling : No Is Question Mandatory : No Calculator : None Response Time : N.A Think Time : N.A Minimum Instruction Time : 0**

**Correct Marks : 4 Wrong Marks : 1**

‘संतोष’ में कौन सा उपसर्ग है?

- |        |         |
|--------|---------|
| (1) सः | (2) सम् |
| (3) सु | (4) सन् |

**Options :**

920906105625. 1

920906105626. 2

920906105627. 3

920906105628. 4

**Question Number : 8 Question Id : 92090626733 Question Type : MCQ Option Shuffling : No Is Question Mandatory : No Calculator : None Response Time : N.A Think Time : N.A Minimum Instruction Time : 0**

**Correct Marks : 4 Wrong Marks : 1**

‘बहादुरों की पूजा की जाती है।’ में बहादुर क्या है?

- |            |            |
|------------|------------|
| (1) क्रिया | (2) कारक   |
| (3) संज्ञा | (4) विशेषण |

**Options :**

920906105629. 1

920906105630. 2

920906105631. 3

920906105632. 4

**Question Number : 8 Question Id : 92090626733 Question Type : MCQ Option Shuffling : No Is Question Mandatory : No Calculator : None Response Time : N.A Think Time : N.A Minimum Instruction Time : 0**

**Correct Marks : 4 Wrong Marks : 1**

‘बहादुरों की पूजा की जाती है।’ में बहादुर क्या है?

- |            |            |
|------------|------------|
| (1) क्रिया | (2) कारक   |
| (3) संज्ञा | (4) विशेषण |



**Options :**

- 920906105629. 1
- 920906105630. 2
- 920906105631. 3
- 920906105632. 4

**Question Number : 9 Question Id : 92090626734 Question Type : MCQ Option Shuffling : No Is Question Mandatory : No Calculator : None Response Time : N.A Think Time : N.A Minimum Instruction Time : 0**

**Correct Marks : 4 Wrong Marks : 1**

निम्नलिखित में से ईकारान्त शब्दों में कौन सा शब्द पुल्लिंग है?

- |          |          |
|----------|----------|
| (1) पानी | (2) नदी  |
| (3) बकरी | (4) रोटी |

**Options :**

- 920906105633. 1
- 920906105634. 2
- 920906105635. 3
- 920906105636. 4

**Question Number : 9 Question Id : 92090626734 Question Type : MCQ Option Shuffling : No Is Question Mandatory : No Calculator : None Response Time : N.A Think Time : N.A Minimum Instruction Time : 0**

**Correct Marks : 4 Wrong Marks : 1**

निम्नलिखित में से ईकारान्त शब्दों में कौन सा शब्द पुल्लिंग है?

- |          |          |
|----------|----------|
| (1) पानी | (2) नदी  |
| (3) बकरी | (4) रोटी |

**Options :**

- 920906105633. 1
- 920906105634. 2
- 920906105635. 3
- 920906105636. 4

**Question Number : 10 Question Id : 92090626735 Question Type : MCQ Option Shuffling : No Is Question Mandatory : No Calculator : None Response Time : N.A Think Time : N.A Minimum Instruction Time : 0**

**Correct Marks : 4 Wrong Marks : 1**

निम्नलिखित में से शुद्ध वाक्य पहचानिए:

- |                           |                           |
|---------------------------|---------------------------|
| (1) एक गिलास पानी लाओ।    | (2) एक पानी का गिलास लाओ। |
| (3) एक गिलास पानी का लाओ। | (4) पानी का एक गिलास लाओ। |

**Options :**

920906105637. 1  
920906105638. 2  
920906105639. 3  
920906105640. 4

**Question Number : 10 Question Id : 92090626735 Question Type : MCQ Option Shuffling : No Is Question Mandatory : No Calculator : None Response Time : N.A Think Time : N.A Minimum Instruction Time : 0**

**Correct Marks : 4 Wrong Marks : 1**

निम्नलिखित में से शुद्ध वाक्य पहचानिए:

- |                           |                           |
|---------------------------|---------------------------|
| (1) एक गिलास पानी लाओ।    | (2) एक पानी का गिलास लाओ। |
| (3) एक गिलास पानी का लाओ। | (4) पानी का एक गिलास लाओ। |

**Options :**

920906105637. 1  
920906105638. 2  
920906105639. 3  
920906105640. 4

**Question Number : 11 Question Id : 92090626736 Question Type : MCQ Option Shuffling : No Is Question Mandatory : No Calculator : None Response Time : N.A Think Time : N.A Minimum Instruction Time : 0**

**Correct Marks : 4 Wrong Marks : 1**

यदि  $5 \tan \theta = 12$ , तो  $\cos \theta - \sin \theta$  का मान ज्ञात कीजिए।

- |                     |                     |
|---------------------|---------------------|
| (1) $-1$            | (2) $\frac{5}{13}$  |
| (3) $-\frac{7}{13}$ | (4) $\frac{27}{20}$ |

**Options :**

920906105641. 1

920906105642. 2

920906105643. 3

920906105644. 4

**Question Number : 11 Question Id : 92090626736 Question Type : MCQ Option Shuffling : No Is Question Mandatory : No Calculator : None Response Time : N.A Think Time : N.A Minimum Instruction Time : 0**

**Correct Marks : 4 Wrong Marks : 1**

यदि  $5 \tan \theta = 12$ , तो  $\cos \theta - \sin \theta$  का मान ज्ञात कीजिए।

- |                     |                     |
|---------------------|---------------------|
| (1) -1              | (2) $\frac{5}{13}$  |
| (3) $-\frac{7}{13}$ | (4) $\frac{27}{20}$ |

**Options :**

920906105641. 1

920906105642. 2

920906105643. 3

920906105644. 4

**Question Number : 12 Question Id : 92090626737 Question Type : MCQ Option Shuffling : No Is Question Mandatory : No Calculator : None Response Time : N.A Think Time : N.A Minimum Instruction Time : 0**

**Correct Marks : 4 Wrong Marks : 1**

किसी कार्यालय में 60% कर्मचारी पुरुष हैं। कार्यालय के एक चुनाव में 40% महिलाओं तथा 60% पुरुषों ने अन्जू के पक्ष में वोट दिया। अन्जू को मिले वोटों का प्रतिशत है:

- |         |         |
|---------|---------|
| (1) 42% | (2) 50% |
| (3) 52% | (4) 54% |

**Options :**

920906105645. 1

920906105646. 2

920906105647. 3

920906105648. 4

**Question Number : 12 Question Id : 92090626737 Question Type : MCQ Option Shuffling : No Is Question Mandatory : No Calculator : None Response Time : N.A Think Time : N.A Minimum Instruction Time : 0**

**Correct Marks : 4 Wrong Marks : 1**

किसी कार्यालय में 60% कर्मचारी पुरुष हैं। कार्यालय के एक चुनाव में 40% महिलाओं तथा 60% पुरुषों ने अन्जू के पक्ष में वोट दिया। अन्जू को मिले वोटों का प्रतिशत है:

- |         |         |
|---------|---------|
| (1) 42% | (2) 50% |
| (3) 52% | (4) 54% |

**Options :**

- 920906105645. 1
- 920906105646. 2
- 920906105647. 3
- 920906105648. 4

**Question Number : 13 Question Id : 92090626738 Question Type : MCQ Option Shuffling : No Is Question Mandatory : No Calculator : None Response Time : N.A Think Time : N.A Minimum Instruction Time : 0**

**Correct Marks : 4 Wrong Marks : 1**

A की कार्यक्षमता B से दुगुनी है। दोनों मिलकर किसी कार्य को 24 दिन में पूरा करते हैं। B अकेला उस कार्य को कितने दिन में पूरा कर सकेगा?

- |        |        |
|--------|--------|
| (1) 36 | (2) 54 |
| (3) 72 | (4) 90 |

**Options :**

- 920906105649. 1
- 920906105650. 2
- 920906105651. 3
- 920906105652. 4

**Question Number : 13 Question Id : 92090626738 Question Type : MCQ Option Shuffling : No Is Question Mandatory : No Calculator : None Response Time : N.A Think Time : N.A Minimum Instruction Time : 0**

**Correct Marks : 4 Wrong Marks : 1**

A की कार्यक्षमता B से दुगुनी है। दोनों मिलकर किसी कार्य को 24 दिन में पूरा करते हैं। B अकेला उस कार्य को कितने दिन में पूरा कर सकेगा?

- |        |        |
|--------|--------|
| (1) 36 | (2) 54 |
| (3) 72 | (4) 90 |

**Options :**

- 920906105649. 1

920906105650. 2

920906105651. 3

920906105652. 4

**Question Number : 14 Question Id : 92090626739 Question Type : MCQ Option Shuffling : No Is Question Mandatory : No Calculator : None Response Time : N.A Think Time : N.A Minimum Instruction Time : 0**

**Correct Marks : 4 Wrong Marks : 1**

A तथा B की आय में 2 : 3 का अनुपात है तथा उनके व्यय 4 : 5 के अनुपात में हैं। यदि उनकी बचत क्रमशः ₹ 9,000 तथा, ₹ 17,500 है, तो A की आय ज्ञात कीजिए।

(1) ₹ 12,500

(2) ₹ 25,000

(3) ₹ 37,500

(4) ₹ 50,000

**Options :**

920906105653. 1

920906105654. 2

920906105655. 3

920906105656. 4

**Question Number : 14 Question Id : 92090626739 Question Type : MCQ Option Shuffling : No Is Question Mandatory : No Calculator : None Response Time : N.A Think Time : N.A Minimum Instruction Time : 0**

**Correct Marks : 4 Wrong Marks : 1**

A तथा B की आय में 2 : 3 का अनुपात है तथा उनके व्यय 4 : 5 के अनुपात में हैं। यदि उनकी बचत क्रमशः ₹ 9,000 तथा, ₹ 17,500 है, तो A की आय ज्ञात कीजिए।

(1) ₹ 12,500

(2) ₹ 25,000

(3) ₹ 37,500

(4) ₹ 50,000

**Options :**

920906105653. 1

920906105654. 2

920906105655. 3

920906105656. 4

**Question Number : 15 Question Id : 92090626740 Question Type : MCQ Option Shuffling : No Is Question Mandatory : No Calculator : None Response Time : N.A Think Time : N.A Minimum Instruction Time : 0**

**Correct Marks : 4 Wrong Marks : 1**

नितिन ने दो वस्तुओं में से प्रत्येक को ₹ 4,000 में बेचा और कुल मिलाकर उसे न कोई लाभ हुआ और न ही कोई हानि। यदि एक वस्तु 25% लाभ के साथ बेची गई तो दूसरी वस्तु बेचने पर हानि हुई:

(1) 20%

(2)  $18\frac{2}{9}\%$

(3)  $16\frac{2}{3}\%$

(4)  $15\frac{3}{4}\%$

**Options :**

920906105657. 1

920906105658. 2

920906105659. 3

920906105660. 4

**Question Number : 15 Question Id : 92090626740 Question Type : MCQ Option Shuffling : No Is Question Mandatory : No Calculator : None Response Time : N.A Think Time : N.A Minimum Instruction Time : 0**

**Correct Marks : 4 Wrong Marks : 1**

नितिन ने दो वस्तुओं में से प्रत्येक को ₹ 4,000 में बेचा और कुल मिलाकर उसे न कोई लाभ हुआ और न ही कोई हानि। यदि एक वस्तु 25% लाभ के साथ बेची गई तो दूसरी वस्तु बेचने पर हानि हुई:

(1) 20%

(2)  $18\frac{2}{9}\%$

(3)  $16\frac{2}{3}\%$

(4)  $15\frac{3}{4}\%$

**Options :**

920906105657. 1

920906105658. 2

920906105659. 3

920906105660. 4

**Question Number : 16 Question Id : 92090626741 Question Type : MCQ Option Shuffling : No Is Question Mandatory : No Calculator : None Response Time : N.A Think Time : N.A Minimum Instruction Time : 0**

**Correct Marks : 4 Wrong Marks : 1**

एक निश्चित कूट भाषा में, CHIRCAR को 3214384 के रूप में और CROADS को 345867 के रूप में कूटित किया जाता है। उस भाषा में HARTROADS को किस के रूप में कूटित किया जाएगा?

- (1) 812448567 (2) 281448576  
(3) 284145867 (4) 285154876

**Options :**

920906105661. 1  
920906105662. 2  
920906105663. 3  
920906105664. 4

**Question Number : 16 Question Id : 92090626741 Question Type : MCQ Option Shuffling : No Is Question Mandatory : No Calculator : None Response Time : N.A Think Time : N.A Minimum Instruction Time : 0**

**Correct Marks : 4 Wrong Marks : 1**

एक निश्चित कूट भाषा में, CHIRCAR को 3214384 के रूप में और CROADS को 345867 के रूप में कूटित किया जाता है। उस भाषा में HARTROADS को किस के रूप में कूटित किया जाएगा?

- (1) 812448567 (2) 281448576  
(3) 284145867 (4) 285154876

**Options :**

920906105661. 1  
920906105662. 2  
920906105663. 3  
920906105664. 4

**Question Number : 17 Question Id : 92090626742 Question Type : MCQ Option Shuffling : No Is Question Mandatory : No Calculator : None Response Time : N.A Think Time : N.A Minimum Instruction Time : 0**

**Correct Marks : 4 Wrong Marks : 1**

3 बजकर 30 मिनट होने पर घड़ी की सुइयों के बीच का कोण ज्ञात कीजिए।

- (1)  $65^\circ$  (2)  $75^\circ$   
(3)  $85^\circ$  (4)  $105^\circ$

**Options :**

920906105665. 1  
920906105666. 2  
920906105667. 3  
920906105668. 4

**Question Number : 17 Question Id : 92090626742 Question Type : MCQ Option Shuffling : No Is Question Mandatory : No Calculator : None Response Time : N.A Think Time : N.A Minimum Instruction Time : 0**

**Correct Marks : 4 Wrong Marks : 1**

3 बजकर 30 मिनट होने पर घड़ी की सुइयों के बीच का कोण ज्ञात कीजिए।

- (1)  $65^\circ$  (2)  $75^\circ$   
(3)  $85^\circ$  (4)  $105^\circ$

**Options :**

920906105665. 1  
920906105666. 2  
920906105667. 3  
920906105668. 4

**Question Number : 18 Question Id : 92090626743 Question Type : MCQ Option Shuffling : No Is Question Mandatory : No Calculator : None Response Time : N.A Think Time : N.A Minimum Instruction Time : 0**

**Correct Marks : 4 Wrong Marks : 1**

दिए गए युग्म के जल-प्रतिबिम्ब का सही चयन कीजिए “V A Y U 8 4 3 6”

- (1)  $\wedge \vee \lambda \cap 8 4 \varepsilon 9$   
(2)  $\wedge \vee \lambda \cap 8 \dagger 3 9$   
(3)  $\wedge \vee \lambda \cap 8 \dagger 3 \varepsilon$   
(4)  $\wedge \vee \lambda \cap 8 \dagger \varepsilon \varepsilon$

**Options :**

920906105669. 1  
920906105670. 2  
920906105671. 3  
920906105672. 4

**Question Number : 18 Question Id : 92090626743 Question Type : MCQ Option Shuffling : No Is Question Mandatory : No Calculator : None Response Time : N.A Think Time : N.A Minimum Instruction Time : 0**

**Correct Marks : 4 Wrong Marks : 1**



दिए गए युग्म के जल-प्रतिबिम्ब का सही चयन कीजिए “V A Y U 8 4 3 6”

- (1)  $\wedge \vee \lambda \cap 8 4 \varepsilon 9$
- (2)  $\wedge \vee \lambda \cap 8 \dagger 3 9$
- (3)  $\wedge \vee \lambda \cap 8 \dagger 3 \varrho$
- (4)  $\wedge \vee \lambda \cap 8 \dagger \varepsilon \varrho$

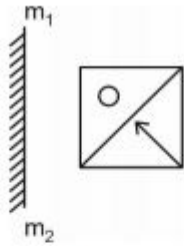
**Options :**

- 920906105669. 1
- 920906105670. 2
- 920906105671. 3
- 920906105672. 4

**Question Number : 19 Question Id : 92090626744 Question Type : MCQ Option Shuffling : No Is Question Mandatory : No Calculator : None Response Time : N.A Think Time : N.A Minimum Instruction Time : 0**

**Correct Marks : 4 Wrong Marks : 1**

आकृति (X) का सही दर्पण-प्रतिबिम्ब चुनिए :



आकृति (X)

- (1)
- (2)
- (3)
- (4)

**Options :**

- 920906105673. 1

920906105674. 2

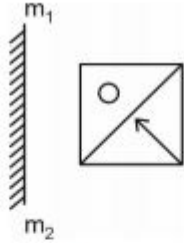
920906105675. 3

920906105676. 4

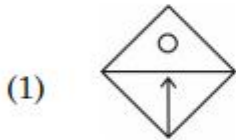
**Question Number : 19 Question Id : 92090626744 Question Type : MCQ Option Shuffling : No Is Question Mandatory : No Calculator : None Response Time : N.A Think Time : N.A Minimum Instruction Time : 0**

**Correct Marks : 4 Wrong Marks : 1**

आकृति (X) का सही दर्पण-प्रतिबिम्ब चुनिए :



आकृति (X)



**Options :**

920906105673. 1

920906105674. 2

920906105675. 3

920906105676. 4

**Question Number : 20 Question Id : 92090626745 Question Type : MCQ Option Shuffling : No Is Question Mandatory : No Calculator : None Response Time : N.A Think Time : N.A Minimum Instruction Time : 0**

**Correct Marks : 4 Wrong Marks : 1**

नीचे दो कथन दिए गए हैं: एक अभिकथन A के रूप में लिखित है तो दूसरा उसके कारण R के रूप में है।

अभिकथन A : गर्म हवा के गुब्बारे आकाश में ऊपर उठते हैं, क्योंकि ठंडी हवा की तुलना में गर्म हवा कम सघन होती है।

कारण R : तापमान बढ़ाने पर गैस का आयतन बढ़ता है।

उपरोक्त कथन के आलोक में, नीचे दिए गए विकल्पों में से सही उत्तर का चयन कीजिए :

- (1) A और R दोनों सही हैं और R, A की सही व्याख्या है
- (2) A और R दोनों सही हैं, लेकिन R, A की सही व्याख्या नहीं है
- (3) A सही है, लेकिन R सही नहीं है
- (4) A सही नहीं है, लेकिन R सही है

**Options :**

920906105677. 1  
920906105678. 2  
920906105679. 3  
920906105680. 4

**Question Number : 20 Question Id : 92090626745 Question Type : MCQ Option Shuffling : No Is Question Mandatory : No Calculator : None Response Time : N.A Think Time : N.A Minimum Instruction Time : 0**

**Correct Marks : 4 Wrong Marks : 1**

नीचे दो कथन दिए गए हैं: एक अभिकथन A के रूप में लिखित है तो दूसरा उसके कारण R के रूप में है।

अभिकथन A : गर्म हवा के गुब्बारे आकाश में ऊपर उठते हैं, क्योंकि ठंडी हवा की तुलना में गर्म हवा कम सघन होती है।

कारण R : तापमान बढ़ाने पर गैस का आयतन बढ़ता है।

उपरोक्त कथन के आलोक में, नीचे दिए गए विकल्पों में से सही उत्तर का चयन कीजिए :

- (1) A और R दोनों सही हैं और R, A की सही व्याख्या है
- (2) A और R दोनों सही हैं, लेकिन R, A की सही व्याख्या नहीं है
- (3) A सही है, लेकिन R सही नहीं है
- (4) A सही नहीं है, लेकिन R सही है

**Options :**

920906105677. 1  
920906105678. 2  
920906105679. 3  
920906105680. 4

**Question Number : 21 Question Id : 92090626746 Question Type : MCQ Option Shuffling : No Is  
Question Mandatory : No Calculator : None Response Time : N.A Think Time : N.A Minimum  
Instruction Time : 0  
Correct Marks : 4 Wrong Marks : 1**

राष्ट्रीय महामार्ग के विकास के लिए स्वर्णिम चतुर्भुज परियोजना \_\_\_\_\_ के द्वारा शुरू की गई।

- |                         |                        |
|-------------------------|------------------------|
| (1) पी.वी. नरसिम्हा राव | (2) आई.के. गुजराल      |
| (3) मनमोहन सिंह         | (4) अटल बिहारी वाजपेयी |

**Options :**

920906105681. 1  
920906105682. 2  
920906105683. 3  
920906105684. 4

**Question Number : 21 Question Id : 92090626746 Question Type : MCQ Option Shuffling : No Is  
Question Mandatory : No Calculator : None Response Time : N.A Think Time : N.A Minimum  
Instruction Time : 0  
Correct Marks : 4 Wrong Marks : 1**

राष्ट्रीय महामार्ग के विकास के लिए स्वर्णिम चतुर्भुज परियोजना \_\_\_\_\_ के द्वारा शुरू की गई।

- |                         |                        |
|-------------------------|------------------------|
| (1) पी.वी. नरसिम्हा राव | (2) आई.के. गुजराल      |
| (3) मनमोहन सिंह         | (4) अटल बिहारी वाजपेयी |

**Options :**

920906105681. 1  
920906105682. 2  
920906105683. 3  
920906105684. 4

**Question Number : 22 Question Id : 92090626747 Question Type : MCQ Option Shuffling : No Is  
Question Mandatory : No Calculator : None Response Time : N.A Think Time : N.A Minimum  
Instruction Time : 0  
Correct Marks : 4 Wrong Marks : 1**

नीचे दो कथन दिए गए हैं:

कथन I : अलाउद्दीन खिलजी ने मंगोलों से निपटने के लिए रक्त और लौह की नीति अपनायी थी।

कथन II : अमीर खुसरो और मीर हसन देहलवी अलाउद्दीन खिलजी के दरबार के कवि थे।

उपरोक्त कथन के आलोक में, नीचे दिए गए विकल्पों में से सही उत्तर का चयन कीजिए

- (1) कथन I और II दोनों सही हैं
- (2) कथन I और II दोनों गलत हैं
- (3) कथन I सही है, लेकिन कथन II गलत है
- (4) कथन I गलत है, लेकिन कथन II सही है

**Options :**

920906105685. 1
920906105686. 2
920906105687. 3
920906105688. 4

**Question Number : 22 Question Id : 92090626747 Question Type : MCQ Option Shuffling : No Is Question Mandatory : No Calculator : None Response Time : N.A Think Time : N.A Minimum Instruction Time : 0**

**Correct Marks : 4 Wrong Marks : 1**

नीचे दो कथन दिए गए हैं:

कथन I : अलाउद्दीन खिलजी ने मंगोलों से निपटने के लिए रक्त और लौह की नीति अपनायी थी।

कथन II : अमीर खुसरो और मीर हसन देहलवी अलाउद्दीन खिलजी के दरबार के कवि थे।

उपरोक्त कथन के आलोक में, नीचे दिए गए विकल्पों में से सही उत्तर का चयन कीजिए

- (1) कथन I और II दोनों सही हैं
- (2) कथन I और II दोनों गलत हैं
- (3) कथन I सही है, लेकिन कथन II गलत है
- (4) कथन I गलत है, लेकिन कथन II सही है

**Options :**

920906105685. 1
920906105686. 2
920906105687. 3
920906105688. 4

**Question Number : 23 Question Id : 92090626748 Question Type : MCQ Option Shuffling : No Is Question Mandatory : No Calculator : None Response Time : N.A Think Time : N.A Minimum Instruction Time : 0**

**Correct Marks : 4 Wrong Marks : 1**

निम्नलिखित में से कौन सा युग्म उचित रूप से मेल नहीं खाता है।

- |                            |                              |
|----------------------------|------------------------------|
| (1) रिलायंस – मुकेश अंबानी | (2) विप्रो – आर. कृष्णमूर्ति |
| (3) एयरटेल – भारती मित्तल  | (4) नैनो कार – रतन टाटा      |

**Options :**

- 920906105689. 1
- 920906105690. 2
- 920906105691. 3
- 920906105692. 4

**Question Number : 23 Question Id : 92090626748 Question Type : MCQ Option Shuffling : No Is Question Mandatory : No Calculator : None Response Time : N.A Think Time : N.A Minimum Instruction Time : 0**

**Correct Marks : 4 Wrong Marks : 1**

निम्नलिखित में से कौन सा युग्म उचित रूप से मेल नहीं खाता है।

- |                            |                              |
|----------------------------|------------------------------|
| (1) रिलायंस – मुकेश अंबानी | (2) विप्रो – आर. कृष्णमूर्ति |
| (3) एयरटेल – भारती मित्तल  | (4) नैनो कार – रतन टाटा      |

**Options :**

- 920906105689. 1
- 920906105690. 2
- 920906105691. 3
- 920906105692. 4

**Question Number : 24 Question Id : 92090626749 Question Type : MCQ Option Shuffling : No Is Question Mandatory : No Calculator : None Response Time : N.A Think Time : N.A Minimum Instruction Time : 0**

**Correct Marks : 4 Wrong Marks : 1**

सूची I के साथ सूची II का मिलान कीजिए

सूची-I (पुस्तक)	सूची-II (लेखक)
(A) अनहैप्पी इंडिया	(I) जवाहरलाल नेहरु
(B) इंडिया डिवाइडेड	(II) लाला लाजपत राय
(C) द डिस्कवरी आफ इंडिया	(III) ज्योतिबा फूले
(D) गुलाम गिरि	(IV) राजेन्द्र प्रसाद

नीचे दिए गए विकल्पों में से सही उत्तर का चयन कीजिए:

- (1) A-(II), B-(IV), C-(I), D-(III)
- (2) A-(II), B-(IV), C-(III), D-(I)
- (3) A-(IV), B-(II), C-(I), D-(III)
- (4) A-(III), B-(IV), C-(I), D-(II)

**Options :**

920906105693. 1  
920906105694. 2  
920906105695. 3  
920906105696. 4

**Question Number : 24 Question Id : 92090626749 Question Type : MCQ Option Shuffling : No Is Question Mandatory : No Calculator : None Response Time : N.A Think Time : N.A Minimum Instruction Time : 0**

**Correct Marks : 4 Wrong Marks : 1**

सूची I के साथ सूची II का मिलान कीजिए

सूची-I (पुस्तक)	सूची-II (लेखक)
(A) अनहैप्पी इंडिया	(I) जवाहरलाल नेहरू
(B) इंडिया डिवाइडेड	(II) लाला लाजपत राय
(C) द डिस्कवरी आफ इंडिया	(III) ज्योतिबा फूले
(D) गुलाम गिरि	(IV) राजेन्द्र प्रसाद

नीचे दिए गए विकल्पों में से सही उत्तर का चयन कीजिए:

- (1) A-(II), B-(IV), C-(I), D-(III)
- (2) A-(II), B-(IV), C-(III), D-(I)
- (3) A-(IV), B-(II), C-(I), D-(III)
- (4) A-(III), B-(IV), C-(I), D-(II)

**Options :**

920906105693. 1  
920906105694. 2  
920906105695. 3  
920906105696. 4

**Question Number : 25 Question Id : 92090626750 Question Type : MCQ Option Shuffling : No Is Question Mandatory : No Calculator : None Response Time : N.A Think Time : N.A Minimum Instruction Time : 0**

**Correct Marks : 4 Wrong Marks : 1**

एक कम्पित तार के व्यवहार का अध्ययन के लिए \_\_\_\_\_ यंत्र का उपयोग किया जाता है।

- (1) हाइग्रोमीटर
- (2) सोनोमीटर
- (3) बैरोमीटर
- (4) हाइड्रोमीटर

**Options :**

920906105697. 1  
920906105698. 2  
920906105699. 3  
920906105700. 4

**Question Number : 25 Question Id : 92090626750 Question Type : MCQ Option Shuffling : No Is Question Mandatory : No Calculator : None Response Time : N.A Think Time : N.A Minimum Instruction Time : 0**



Correct Marks : 4 Wrong Marks : 1

एक कम्पित तार के व्यवहार का अध्ययन के लिए \_\_\_\_\_ यंत्र का उपयोग किया जाता है।

- |                 |                 |
|-----------------|-----------------|
| (1) हाइग्रोमीटर | (2) सोनोमीटर    |
| (3) बैरोमीटर    | (4) हाइड्रोमीटर |

Options :

920906105697. 1  
920906105698. 2  
920906105699. 3  
920906105700. 4

## Part B: Anthropology

Section Id :	920906530
Section Number :	2
Section type :	Online
Mandatory or Optional :	Mandatory
Number of Questions :	75
Number of Questions to be attempted :	75
Section Marks :	300
Enable Mark as Answered Mark for Review and Clear Response :	Yes
Maximum Instruction Time :	0
Sub-Section Number :	1
Sub-Section Id :	920906861
Question Shuffling Allowed :	Yes
Is Section Default? :	null

Question Number : 26 Question Id : 92090626751 Question Type : MCQ Option Shuffling : No Is Question Mandatory : No Calculator : None Response Time : N.A Think Time : N.A Minimum Instruction Time : 0

Correct Marks : 4 Wrong Marks : 1

Neo-Lamarckian Scientists opined that 'adaptations' are universal and it happens through causal relationship of:

1. Structure, function and environment
2. DNA, genes and chromosomes
3. Shape, size and usability
4. Fertility, mortality and morbidity

Options :

- 920906105701. 1
- 920906105702. 2
- 920906105703. 3
- 920906105704. 4

**Question Number : 26 Question Id : 92090626751 Question Type : MCQ Option Shuffling : No Is Question Mandatory : No Calculator : None Response Time : N.A Think Time : N.A Minimum Instruction Time : 0**

**Correct Marks : 4 Wrong Marks : 1**

नव-लैमार्कवादी वैज्ञानिकों का मत था कि 'अनुकूलन' सार्वजिक है तथा ये \_\_\_\_\_ के कारणात्मक संबंधों के माध्यम से होते हैं।

1. संरचना, कार्य तथा पर्यावरण
2. डी. एन. ए, जीन तथा गुणसूत्र
3. आकार, आमाप तथा उपयोग
4. उर्वरकता, नश्वरता तथा रूग्णता

**Options :**

- 920906105701. 1
- 920906105702. 2
- 920906105703. 3
- 920906105704. 4

**Question Number : 27 Question Id : 92090626752 Question Type : MCQ Option Shuffling : No Is Question Mandatory : No Calculator : None Response Time : N.A Think Time : N.A Minimum Instruction Time : 0**

**Correct Marks : 4 Wrong Marks : 1**

According to Neo-Darwinism, what is the prime source of variation in a population?

1. Mutation
2. DNA Polymerase reaction
3. Mitochondrial Divergence
4. DNA Proof reading and Repair

**Options :**

- 920906105705. 1
- 920906105706. 2
- 920906105707. 3
- 920906105708. 4

**Question Number : 27 Question Id : 92090626752 Question Type : MCQ Option Shuffling : No Is Question Mandatory : No Calculator : None Response Time : N.A Think Time : N.A Minimum Instruction Time : 0**

**Correct Marks : 4 Wrong Marks : 1**

नव- डार्विनवाद के अनुसार जनसंख्या में विभिन्नता का मूल स्रोत क्या है?

1. उत्परिवर्तन
2. डी. एन. ए. पॉलीमेरेस अभिक्रिया
3. माइटोकॉन्ड्रिया में अपसरण
4. डी. एन. ए. को परखना तथा प्रतिपूर्ति

**Options :**

920906105705. 1  
920906105706. 2  
920906105707. 3  
920906105708. 4

**Question Number : 28 Question Id : 92090626753 Question Type : MCQ Option Shuffling : No Is Question Mandatory : No Calculator : None Response Time : N.A Think Time : N.A Minimum Instruction Time : 0**

**Correct Marks : 4 Wrong Marks : 1**

What is Synthetic Theory of Evolution?

1. A theory that describes the process by which new species arise
2. A theory that combines the ideas of natural selection and genetics
3. A theory that explains the origin of life on earth
4. A theory that describes the structure and evolution of DNA

**Options :**

920906105709. 1  
920906105710. 2  
920906105711. 3  
920906105712. 4

**Question Number : 28 Question Id : 92090626753 Question Type : MCQ Option Shuffling : No Is Question Mandatory : No Calculator : None Response Time : N.A Think Time : N.A Minimum Instruction Time : 0**

**Correct Marks : 4 Wrong Marks : 1**

क्रम- विकल्प का सिन्थैटिक (संश्लिष्ट) सिद्धांत क्या है?

1. एक ऐसा सिद्धांत जो नई स्पीशज़ की उत्पत्ति की प्रक्रिया का विवरण देता है
2. एक ऐसा सिद्धांत जो प्राकृत चयन तथा आनुवंशवाद के विचारों का संयोजन करता है
3. एक ऐसा सिद्धांत जो पृथ्वी पर जीवन की उत्पत्ति की वाख्या करता है
4. एक ऐसा सिद्धांत जो डी. एन. ए. की संरचना तथा क्रम विकास का विवरण देता है

**Options :**

- 920906105709. 1
- 920906105710. 2
- 920906105711. 3
- 920906105712. 4

**Question Number : 29 Question Id : 92090626754 Question Type : MCQ Option Shuffling : No Is Question Mandatory : No Calculator : None Response Time : N.A Think Time : N.A Minimum Instruction Time : 0**

**Correct Marks : 4 Wrong Marks : 1**

Which of the following nitrogenous bases is NOT found in DNA?

- 1. Adenine
- 2. Guanine
- 3. Uracil
- 4. Thymine

**Options :**

- 920906105713. 1
- 920906105714. 2
- 920906105715. 3
- 920906105716. 4

**Question Number : 29 Question Id : 92090626754 Question Type : MCQ Option Shuffling : No Is Question Mandatory : No Calculator : None Response Time : N.A Think Time : N.A Minimum Instruction Time : 0**

**Correct Marks : 4 Wrong Marks : 1**

निम्नलिखित में से कौन सा नाइट्रोजनी क्षरक डी.एन.ए में नहीं पाया जाता?

- 1. एडनीन
- 2. ग्वानीन
- 3. यूरेसिल
- 4. थायमीन

**Options :**

- 920906105713. 1
- 920906105714. 2
- 920906105715. 3
- 920906105716. 4

**Question Number : 30 Question Id : 92090626755 Question Type : MCQ Option Shuffling : No Is Question Mandatory : No Calculator : None Response Time : N.A Think Time : N.A Minimum Instruction Time : 0**

**Correct Marks : 4 Wrong Marks : 1**

What is the role of ribosome in protein synthesis?

1. To synthesize RNA
2. To bind to DNA during transcription
3. To carry amino acids to the growing protein chain
4. To link amino acids together to form a protein

**Options :**

- 920906105717. 1
- 920906105718. 2
- 920906105719. 3
- 920906105720. 4

**Question Number : 30 Question Id : 92090626755 Question Type : MCQ Option Shuffling : No Is Question Mandatory : No Calculator : None Response Time : N.A Think Time : N.A Minimum Instruction Time : 0**

**Correct Marks : 4 Wrong Marks : 1**

प्रोटीन संश्लेषण में राइबोसोम की क्या भूमिका है?

1. आर. एन. ए. का संश्लेषण करना
2. अनु लेखन के दौरान डी.एन.ए को बाँधना
3. बढ़ती हुई प्रोटीन की श्रृंखला में अमीनो अम्लों को पहुँचाना
4. प्रोटीन बनाने के लिए अमीनो अम्लों का परस्पर संबद्ध करना

**Options :**

- 920906105717. 1
- 920906105718. 2
- 920906105719. 3
- 920906105720. 4

**Question Number : 31 Question Id : 92090626756 Question Type : MCQ Option Shuffling : No Is Question Mandatory : No Calculator : None Response Time : N.A Think Time : N.A Minimum Instruction Time : 0**

**Correct Marks : 4 Wrong Marks : 1**

Heteroploidy refers to the condition where an organism has an abnormal number of which of the following?

1. Antigens
2. Chromosomes
3. Antibodies
4. Proteins

**Options :**

- 920906105721. 1
- 920906105722. 2
- 920906105723. 3
- 920906105724. 4

**Question Number : 31 Question Id : 92090626756 Question Type : MCQ Option Shuffling : No Is Question Mandatory : No Calculator : None Response Time : N.A Think Time : N.A Minimum Instruction Time : 0**

**Correct Marks : 4 Wrong Marks : 1**

विषम गुणिता (हेटरोप्लॉयडी) एक ऐसी स्थिति है जिसमें जीव में \_\_\_\_\_ की असामान्य संख्या पाई जाती है।

- 1. एन्टीजन
- 2. गुणसूत्र
- 3. एन्टीबाडीज़
- 4. प्रोटीन

**Options :**

- 920906105721. 1
- 920906105722. 2
- 920906105723. 3
- 920906105724. 4

**Question Number : 32 Question Id : 92090626757 Question Type : MCQ Option Shuffling : No Is Question Mandatory : No Calculator : None Response Time : N.A Think Time : N.A Minimum Instruction Time : 0**

**Correct Marks : 4 Wrong Marks : 1**

Which of the following is true about linked genes?

- 1. They are located on the same chromosome
- 2. They are located on different chromosomes
- 3. They always cause diseases
- 4. They are always inherited separately

**Options :**

- 920906105725. 1
- 920906105726. 2
- 920906105727. 3
- 920906105728. 4

**Question Number : 32 Question Id : 92090626757 Question Type : MCQ Option Shuffling : No Is Question Mandatory : No Calculator : None Response Time : N.A Think Time : N.A Minimum**

**Instruction Time : 0**

**Correct Marks : 4 Wrong Marks : 1**

सहलग्न जीनों के विषय में निम्न में से क्या सत्य है?

1. वह एक ही गुणसूत्र पर अवस्थित होते हैं
2. यह विभिन्न गुणसूत्रों पर अवस्थित होते हैं
3. यह हमेशा बिमारी पैदा करते हैं
4. यह सदा पृथक रूप से वंशागत होते हैं

**Options :**

920906105725. 1

920906105726. 2

920906105727. 3

920906105728. 4

**Question Number : 33 Question Id : 92090626758 Question Type : MCQ Option Shuffling : No Is Question Mandatory : No Calculator : None Response Time : N.A Think Time : N.A Minimum Instruction Time : 0**

**Correct Marks : 4 Wrong Marks : 1**

Which of the following describes the genetic constitution a population?

1. Genotype
2. Phenotype
3. gene pool
4. Mutation rate

**Options :**

920906105729. 1

920906105730. 2

920906105731. 3

920906105732. 4

**Question Number : 33 Question Id : 92090626758 Question Type : MCQ Option Shuffling : No Is Question Mandatory : No Calculator : None Response Time : N.A Think Time : N.A Minimum Instruction Time : 0**

**Correct Marks : 4 Wrong Marks : 1**

किसी जनसंख्या का आनुवंशिक संघटन का वर्णन निम्न में से कौन करता है?

1. (जीनोटाइप) जीन प्ररूप
2. (फीनोटाइप) समलक्षणी
3. जीन पूल
4. उत्परिवर्तन की दर

**Options :**

- 920906105729. 1
- 920906105730. 2
- 920906105731. 3
- 920906105732. 4

**Question Number : 34 Question Id : 92090626759 Question Type : MCQ Option Shuffling : No Is Question Mandatory : No Calculator : None Response Time : N.A Think Time : N.A Minimum Instruction Time : 0**

**Correct Marks : 4 Wrong Marks : 1**

How many rounds of cell-division occur during meiosis?

- 1. One
- 2. Two
- 3. Three
- 4. Four

**Options :**

- 920906105733. 1
- 920906105734. 2
- 920906105735. 3
- 920906105736. 4

**Question Number : 34 Question Id : 92090626759 Question Type : MCQ Option Shuffling : No Is Question Mandatory : No Calculator : None Response Time : N.A Think Time : N.A Minimum Instruction Time : 0**

**Correct Marks : 4 Wrong Marks : 1**

अर्धसूत्री विभाजन में कोशिका विभाजन के कितने (आवर्तन) चक्र होते हैं?

- 1. एक
- 2. दो
- 3. तीन
- 4. चार

**Options :**

- 920906105733. 1
- 920906105734. 2
- 920906105735. 3
- 920906105736. 4

**Question Number : 35 Question Id : 92090626760 Question Type : MCQ Option Shuffling : No Is Question Mandatory : No Calculator : None Response Time : N.A Think Time : N.A Minimum Instruction Time : 0**

**Correct Marks : 4 Wrong Marks : 1**



Baboons and Macaques are:

1. Old World monkeys
2. New World monkeys
3. Intermediate world monkeys
4. Extinct monkeys

**Options :**

920906105737. 1  
920906105738. 2  
920906105739. 3  
920906105740. 4

**Question Number : 35 Question Id : 92090626760 Question Type : MCQ Option Shuffling : No Is Question Mandatory : No Calculator : None Response Time : N.A Think Time : N.A Minimum Instruction Time : 0**

**Correct Marks : 4 Wrong Marks : 1**

बैबून तथा मँकाक \_\_\_\_\_ हैं।

1. प्राचीनकाल के वानर
2. नष्ट- विश्व के वानर
3. मध्यवर्ती विश्व के वानर
4. विलुप्त वानर

**Options :**

920906105737. 1  
920906105738. 2  
920906105739. 3  
920906105740. 4

**Question Number : 36 Question Id : 92090626761 Question Type : MCQ Option Shuffling : No Is Question Mandatory : No Calculator : None Response Time : N.A Think Time : N.A Minimum Instruction Time : 0**

**Correct Marks : 4 Wrong Marks : 1**

The Cranium of Australopithecus africanus was discovered by:

1. Raymond Dart
2. Robert Broom
3. Eugene Dubois
4. Davidson Black

**Options :**

- 920906105741. 1
- 920906105742. 2
- 920906105743. 3
- 920906105744. 4

**Question Number : 36 Question Id : 92090626761 Question Type : MCQ Option Shuffling : No Is Question Mandatory : No Calculator : None Response Time : N.A Think Time : N.A Minimum Instruction Time : 0**

**Correct Marks : 4 Wrong Marks : 1**

ऑस्ट्रेलोपाइथेकस आफरेकेन्स का कपाल किसके द्वारा खोजा गया था?

- 1. रेमण्ड डार्ट
- 2. रॉबर्ट ब्रूम
- 3. यूजीन ड्यूबोयस
- 4. डेविडसन ब्लैक

**Options :**

- 920906105741. 1
- 920906105742. 2
- 920906105743. 3
- 920906105744. 4

**Question Number : 37 Question Id : 92090626762 Question Type : MCQ Option Shuffling : No Is Question Mandatory : No Calculator : None Response Time : N.A Think Time : N.A Minimum Instruction Time : 0**

**Correct Marks : 4 Wrong Marks : 1**

The village of La Chapelle-aux-Saints in central France is famous for the discovery of fossil remains related to:

- 1. Neanderthals
- 2. Proconsul major
- 3. Australopithecus afarensis
- 4. Grimaldi man

**Options :**

- 920906105745. 1
- 920906105746. 2
- 920906105747. 3
- 920906105748. 4

**Question Number : 37 Question Id : 92090626762 Question Type : MCQ Option Shuffling : No Is Question Mandatory : No Calculator : None Response Time : N.A Think Time : N.A Minimum**

**Instruction Time : 0**

**Correct Marks : 4 Wrong Marks : 1**

फ्रांस के मध्य भाग में ला चैपल-ऑक्स-सेन्ट का गाँव निम्न में से किसके अवशेषों की खोज के लिए प्रसिद्ध है

1. निएनडर्थल
2. मुख्य प्रांतपित
3. ऑस्ट्रालोपाइथेकस आफरेन्सिस
4. ग्राइमाल्दी पुरुष

**Options :**

920906105745. 1

920906105746. 2

920906105747. 3

920906105748. 4

**Question Number : 38 Question Id : 92090626763 Question Type : MCQ Option Shuffling : No Is Question Mandatory : No Calculator : None Response Time : N.A Think Time : N.A Minimum Instruction Time : 0**

**Correct Marks : 4 Wrong Marks : 1**

Which of the following is Not an anthropometric index?

1. Body Mass Index (BMI)
2. Waist to Hip Ratio (WHR)
3. Arm to Height Ratio (AHR)
4. Blood Pressure Index (BPI)

**Options :**

920906105749. 1

920906105750. 2

920906105751. 3

920906105752. 4

**Question Number : 38 Question Id : 92090626763 Question Type : MCQ Option Shuffling : No Is Question Mandatory : No Calculator : None Response Time : N.A Think Time : N.A Minimum Instruction Time : 0**

**Correct Marks : 4 Wrong Marks : 1**

निम्न में से कौन सा मानवनिधि सूचकांक नहीं है?

1. बॉडी मास इंडैक्स (BMI)
2. नितंब का कमर से अनुपात का सूचकांक (WHR)
3. भुजा से ऊँचाई के अनुपात का सूचकांक (AHR)
4. रक्त चाप सूचकांक (BPI)

**Options :**

920906105749. 1  
920906105750. 2  
920906105751. 3  
920906105752. 4

**Question Number : 39 Question Id : 92090626764 Question Type : MCQ Option Shuffling : No Is Question Mandatory : No Calculator : None Response Time : N.A Think Time : N.A Minimum Instruction Time : 0**

**Correct Marks : 4 Wrong Marks : 1**

Which is the longest bone in human body?

1. Femur
2. Tibia
3. Fibula
4. Ulna

**Options :**

920906105753. 1  
920906105754. 2  
920906105755. 3  
920906105756. 4

**Question Number : 39 Question Id : 92090626764 Question Type : MCQ Option Shuffling : No Is Question Mandatory : No Calculator : None Response Time : N.A Think Time : N.A Minimum Instruction Time : 0**

**Correct Marks : 4 Wrong Marks : 1**

मानव शरीर में सबसे लम्बी अस्थि कौन सी है?

1. फीमर
2. टिबिया
3. फिबुला
4. अल्ना

**Options :**

920906105753. 1

920906105754. 2

920906105755. 3

920906105756. 4

**Question Number : 40 Question Id : 92090626765 Question Type : MCQ Option Shuffling : No Is Question Mandatory : No Calculator : None Response Time : N.A Think Time : N.A Minimum Instruction Time : 0**

**Correct Marks : 4 Wrong Marks : 1**

The gradual deterioration of functional characteristics of humans is called:

1. Renascence
2. Adolescence
3. Senescence
4. Decadescence

**Options :**

920906105757. 1

920906105758. 2

920906105759. 3

920906105760. 4

**Question Number : 40 Question Id : 92090626765 Question Type : MCQ Option Shuffling : No Is Question Mandatory : No Calculator : None Response Time : N.A Think Time : N.A Minimum Instruction Time : 0**

**Correct Marks : 4 Wrong Marks : 1**

मानवों के कार्यात्मक लक्षणों के क्रमिक हास को क्या कहते हैं?

1. पुनर्जीवन
2. किशोरावस्था
3. वृद्धावस्था
4. डेकाडेन्स

**Options :**

920906105757. 1

920906105758. 2

920906105759. 3

920906105760. 4

**Question Number : 41 Question Id : 92090626766 Question Type : MCQ Option Shuffling : No Is Question Mandatory : No Calculator : None Response Time : N.A Think Time : N.A Minimum Instruction Time : 0**

**Correct Marks : 4 Wrong Marks : 1**

Given below are two statements: one is labelled as Assertion A and the other is labelled as Reason R

**Assertion A:** Human evolution is characterized by bipedalism which is the ability to walk on two legs

**Reason R:** Bipedalism is unique to humans and is believed to have evolved around 4 million years ago as a response to the changes in environment

In the light of the above statements, choose the most appropriate answer from the options given below:

1. Both A and R are correct and R is the correct explanation of A
2. Both A and R are correct but R is NOT the correct explanation of A
3. A is correct but R is not correct
4. A is not correct but R is correct

**Options :**

920906105761. 1

920906105762. 2

920906105763. 3

920906105764. 4

**Question Number : 41 Question Id : 92090626766 Question Type : MCQ Option Shuffling : No Is Question Mandatory : No Calculator : None Response Time : N.A Think Time : N.A Minimum Instruction Time : 0**

**Correct Marks : 4 Wrong Marks : 1**

नीचे दे कथन दिए गे हैं: एक अभिकथन (Assertion A) के रूप में लिखित हैं तो दूसरा उसके कारण (Reason R) के रूप में;

अभिकथन A: मानव के क्रमिक विकास को द्वि-पादत्त द्वारा अभिलाक्षणिक माना गया है, जिसका अर्थ है दो टाँगों से चलने की क्षमता।

कारण R: द्वि- पादता मानवों का एक अद्वितीय लक्षण है जिसे लगभग 4 मिलियन वर्ष पर्यावरण में आए परिवर्तन के लिए हुई अनुक्रिया के रूप में हुआ विकास माना जाता है।

उपरोक्त कथन के आलोक में, नीचे दिए गए विकल्पों में से सबसे उपयुक्त उत्तर का चयन कीजिए:

1. A और R दोनों सही हैं और R, A की सही व्याख्या है
2. A और R दोनों सही हैं और R, A की सही व्याख्या नहीं है
3. A सही है लेकिन R सही नहीं है
4. A सही नहीं है लेकिन R सही है

**Options :**

920906105761. 1  
920906105762. 2  
920906105763. 3  
920906105764. 4

**Question Number : 42 Question Id : 92090626767 Question Type : MCQ Option Shuffling : No Is Question Mandatory : No Calculator : None Response Time : N.A Think Time : N.A Minimum Instruction Time : 0**

**Correct Marks : 4 Wrong Marks : 1**

Given below are two statements: one is labelled as Assertion A and the other is labelled as Reason R

**Assertion A:** The volume of cranium has undergone significant decrease in prolonged course of evolutionary history of humans

**Reason R:** The increase in brain size and complexity is linked to the development of language and the ability to use tools

In the light of the above statements, choose the correct answer from the options given below:

1. Both A and R are correct and R is the correct explanation of A
2. Both A and R are correct but R is NOT the correct explanation of A
3. A is correct but R is not correct
4. A is not correct but R is correct

**Options :**

920906105765. 1  
920906105766. 2  
920906105767. 3  
920906105768. 4

**Question Number : 42 Question Id : 92090626767 Question Type : MCQ Option Shuffling : No Is Question Mandatory : No Calculator : None Response Time : N.A Think Time : N.A Minimum Instruction Time : 0**

**Correct Marks : 4 Wrong Marks : 1**

नीचे दे कथन दिए गे हैं: एक अभिकथन (Assertion A) के रूप में लिखित हैं तो दूसरा उसके कारण (Reason R) के रूप में;

अभिकथन A: मानवों के क्रमिक विकास के लम्बे इतिहास में कपाल के आयतन में अर्यपूर्ण निम्नता आई है।

कारण R: मस्तिष्क के प्रामाण में वृद्धि तथा जटिलता भाषा के विकास तथा औज़ारों को उपयोग करने योग्यता के विकास के साथ संबंधित है।

उपरोक्त कथन के आलोक में, नीचे दिए गए विकल्पों में से सबसे उपयुक्त उत्तर का चयन कीजिए:

1. A और R दोनों सही हैं और R, A की सही व्याख्या है
2. A और R दोनों सही हैं और R, A की सही व्याख्या नहीं है
3. A सही है लेकिन R सही नहीं है
4. A सही नहीं है लेकिन R सही है

**Options :**

920906105765. 1

920906105766. 2

920906105767. 3

920906105768. 4

**Question Number : 43 Question Id : 92090626768 Question Type : MCQ Option Shuffling : No Is Question Mandatory : No Calculator : None Response Time : N.A Think Time : N.A Minimum Instruction Time : 0**

**Correct Marks : 4 Wrong Marks : 1**

Arrange the following hominid fossils in chronological order from the earliest to the most recent:

- A. Homo erectus
- B. Australopithecus afarensis
- C. Neanderthals
- D. Cro-Magnon
- E. Homo sapiens

Choose the correct answer from the options given below:

1. B, C, A, D, E
2. C, B, A, D, E
3. B, A, C, D, E
4. C, A, B, D, E

**Options :**



920906105769. 1  
920906105770. 2  
920906105771. 3  
920906105772. 4

**Question Number : 43 Question Id : 92090626768 Question Type : MCQ Option Shuffling : No Is Question Mandatory : No Calculator : None Response Time : N.A Think Time : N.A Minimum Instruction Time : 0**  
**Correct Marks : 4 Wrong Marks : 1**

निम्नलिखित होमीनिड (मानवी) जीवाश्मों को प्राचीन से नवीनतम तक क्रमानुसार व्यवस्थित करें।

- A. होमो इरेक्ट्स
- B. ऑस्ट्रालोपाइथेक अफारेन्सिस
- C. निएनडरथल
- D. क्रो- मैग्रॉन
- E. होमो सेपियन्स (मानव)

नीचे दिए गए विकल्पों में से सबसे उपयुक्त उत्तर का चयन कीजिए:

- 1. B, C, A, D, E
- 2. C, B, A, D, E
- 3. B, A, C, D, E
- 4. C, A, B, D, E

**Options :**

920906105769. 1  
920906105770. 2  
920906105771. 3  
920906105772. 4

**Question Number : 44 Question Id : 92090626769 Question Type : MCQ Option Shuffling : No Is Question Mandatory : No Calculator : None Response Time : N.A Think Time : N.A Minimum Instruction Time : 0**  
**Correct Marks : 4 Wrong Marks : 1**

Arrange the following scientists related to biological/ physical anthropology in a sequence based on their time period, starting from the earliest:

- A. Charles Darwin
- B. Gregor Mendel
- C. Louis Leakey
- D. Jane Goodall
- E. Jean Baptiste Lamarck

Choose the correct answer from the options given below:

- 1. C, B, A, D, E
- 2. B, C, A, E, D
- 3. E, A, B, C, D
- 4. C, A, B, D, E

**Options :**

- 920906105773. 1
- 920906105774. 2
- 920906105775. 3
- 920906105776. 4

**Question Number : 44 Question Id : 92090626769 Question Type : MCQ Option Shuffling : No Is Question Mandatory : No Calculator : None Response Time : N.A Think Time : N.A Minimum Instruction Time : 0**

**Correct Marks : 4 Wrong Marks : 1**

प्राचीनतम से प्रारम्भ करके निम्नलिखित जीवविज्ञान/ शारीरिक मानवविज्ञान से संबंधित वैज्ञानिकों को उनकी समयाविधि के क्रमानुसार व्यवस्थित करें।

- A. चार्ल्स डार्विन
- B. ग्रेगर मेडल
- C. लुई लीकी
- D. जेन गुडाल
- E. जीन बापटिस्टे लैमार्क

नीचे दिए गए विकल्पों में से सबसे उपयुक्त उत्तर का चयन कीजिए:

- 1. C, B, A, D, E
- 2. B, C, A, E, D
- 3. E, A, B, C, D
- 4. C, A, B, D, E

**Options :**

- 920906105773. 1

920906105774. 2

920906105775. 3

920906105776. 4

**Question Number : 45 Question Id : 92090626770 Question Type : MCQ Option Shuffling : No Is Question Mandatory : No Calculator : None Response Time : N.A Think Time : N.A Minimum Instruction Time : 0**

**Correct Marks : 4 Wrong Marks : 1**

Given below are two statements:

**Statement I:** In the evolutionary history of Homo sapiens, Neanderthals were relatively more developed than archaic humans

**Statement II:** In the evolutionary history of Homo sapiens, Neanderthals were relatively less developed than Homo erectus

In the light of the above statements, choose the most appropriate answer from the options given below:

1. Both Statement I and Statement II are correct
2. Both Statement I and Statement II are incorrect
3. Statement I is correct but Statement II is incorrect
4. Statement I is incorrect but Statement II is correct

**Options :**

920906105777. 1

920906105778. 2

920906105779. 3

920906105780. 4

**Question Number : 45 Question Id : 92090626770 Question Type : MCQ Option Shuffling : No Is Question Mandatory : No Calculator : None Response Time : N.A Think Time : N.A Minimum Instruction Time : 0**

**Correct Marks : 4 Wrong Marks : 1**

नीचे दो कथन दिए हैं:

कथन I: होमो (मानव) सेपियन्स के क्रमिक विकास के इतिहास में पुराकालीन मानवों की अपेक्षा निएंडरथल अधिक विकसित थे।

कथन II: होमोसेपियन्स (मानव) के क्रमिक विकास के इतिहास में, निएंडरथल होमो इरेक्टस की अपेक्षा कम विकसित थे।

उपरोक्त कथन के आलोक में, नीचे दिए गए विकल्पों में से सही उत्तर का चयन कीजिए:

1. कथन I और II दोनों सही हैं
2. कथन I और II दोनों गलत हैं
3. कथन I सही है, लेकिन कथन II गलत है
4. कथन I गलत है, लेकिन कथन II सही है

**Options :**

920906105777. 1  
920906105778. 2  
920906105779. 3  
920906105780. 4

**Question Number : 46 Question Id : 92090626771 Question Type : MCQ Option Shuffling : No Is Question Mandatory : No Calculator : None Response Time : N.A Think Time : N.A Minimum Instruction Time : 0**

**Correct Marks : 4 Wrong Marks : 1**

Given below are two statements:

**Statement I:** The size of chimpanzee's brain is equal to that of Homo sapiens

**Statement II:** Among primates, chimpanzees are the closest living relatives of Homo sapiens

In the light of the above statements, choose the correct answer from the options given below:

1. Both Statement I and Statement II are true
2. Both Statement I and Statement II are false
3. Statement I is true but Statement II is false
4. Statement I is false but Statement II is true

**Options :**

920906105781. 1  
920906105782. 2  
920906105783. 3  
920906105784. 4

**Question Number : 46 Question Id : 92090626771 Question Type : MCQ Option Shuffling : No Is Question Mandatory : No Calculator : None Response Time : N.A Think Time : N.A Minimum Instruction Time : 0**

**Correct Marks : 4 Wrong Marks : 1**

नीचे दो कथन दिए हैं:

कथन I: चिम्पांजी के मस्तिष्क का आमाप होमो (मानव) सेपयन्स के मस्तिष्क के बराबर होता है।

कथन II: नर वानर गणों में चिम्पांजी, होमो (मानव) सेपियन्स के सबसे नज़दीकी जीवित संबंधी हैं।

उपरोक्त कथन के आलोक में, नीचे दिए गए विकल्पों में से सही उत्तर का चयन कीजिए:

1. कथन I और II दोनों सत्य हैं
2. कथन I और II दोनों असत्य हैं
3. कथन I सत्य है, लेकिन कथन II असत्य है
4. कथन I असत्य है, लेकिन कथन II सत्य है

**Options :**

920906105781. 1

920906105782. 2

920906105783. 3

920906105784. 4

**Question Number : 47 Question Id : 92090626772 Question Type : MCQ Option Shuffling : No Is Question Mandatory : No Calculator : None Response Time : N.A Think Time : N.A Minimum Instruction Time : 0**

**Correct Marks : 4 Wrong Marks : 1**

Which of the following statements are correct?

- A. Race is a social construct
- B. Racism is closely linked to genetic variation
- C. There is no scientific basis for differentiating among human stocks
- D. Racism helps in understanding differences among human stocks
- E. Genetics has proved that discriminatory attitudes are due to linked genes

Choose the correct answer from the options given below:

1. B, D, E only
2. A and C only
3. A, B, E only
4. B, C, E only

**Options :**

- 920906105785. 1
- 920906105786. 2
- 920906105787. 3
- 920906105788. 4

**Question Number : 47 Question Id : 92090626772 Question Type : MCQ Option Shuffling : No Is Question Mandatory : No Calculator : None Response Time : N.A Think Time : N.A Minimum Instruction Time : 0**

**Correct Marks : 4 Wrong Marks : 1**

निम्नलिखित में से कौन से कथन सही हैं?

- A. प्रजाति एक सामाजिक संरचना है।
- B. प्रजातिवाद का आनुवंशिक विभिन्नता के साथ नज़दीकी संबंध है।
- C. मानव वंश में विभेदन करने का कोई वैज्ञानिक आधार नहीं है।
- D. मानव वंश को विभिन्नताओं को समझने में प्रजातिवाद सहायक है।
- E. आनुवंशिकी द्वारा यह प्रमाणित हुआ है कि भेदमूलक अभिवृत्ति जीन सहलग्नता के कारण होती है।

नीचे दिए गए विकल्पों में से सबसे उपयुक्त उत्तर का चयन कीजिए:

- 1. केवल B, D, E
- 2. केवल A और C
- 3. केवल A, B, E
- 4. केवल B, C, E

**Options :**

- 920906105785. 1
- 920906105786. 2
- 920906105787. 3
- 920906105788. 4

**Question Number : 48 Question Id : 92090626773 Question Type : MCQ Option Shuffling : No Is Question Mandatory : No Calculator : None Response Time : N.A Think Time : N.A Minimum Instruction Time : 0**

**Correct Marks : 4 Wrong Marks : 1**

Which of the following are correct?

- A. Charles Darwin opposed the idea of Genetic equilibrium
- B. Law of Segregation was proved wrong by Gregor Mendel
- C. Human gametes contain 23 chromosomes
- D. Neanderthals were bipedal

Choose the correct answer from the options given below:

- 1. A and D only
- 2. B and D only
- 3. C and D only
- 4. A and C only

**Options :**

- 920906105789. 1
- 920906105790. 2
- 920906105791. 3
- 920906105792. 4

**Question Number : 48 Question Id : 92090626773 Question Type : MCQ Option Shuffling : No Is Question Mandatory : No Calculator : None Response Time : N.A Think Time : N.A Minimum Instruction Time : 0**

**Correct Marks : 4 Wrong Marks : 1**

निम्नलिखित में से कौन सा/से सही है/हैं?

- A. चार्ल्स डार्विन ने आनुवंशिक संतुलन के मत का विरोध किया।
- B. ग्रेगर मंडल द्वारा पृथक्करण के सिद्धांत को गलत सिद्ध किया।
- C. मानव युग्मकों में 23 गुणसूत्र होते हैं।
- D. निंडरथाल द्विपदी थे।

नीचे दिए गए विकल्पों में से सबसे उपयुक्त उत्तर का चयन कीजिए:

- 1. केवल A और D
- 2. केवल B और D
- 3. केवल C और D
- 4. केवल A और C

**Options :**

- 920906105789. 1
- 920906105790. 2
- 920906105791. 3
- 920906105792. 4

Question Number : 49 Question Id : 92090626774 Question Type : MCQ Option Shuffling : No Is Question Mandatory : No Calculator : None Response Time : N.A Think Time : N.A Minimum Instruction Time : 0

Correct Marks : 4 Wrong Marks : 1

Match List I with List II

LIST I

LIST II

- |                            |                                |
|----------------------------|--------------------------------|
| A. Karl Landsteiner        | I. Genetic Variation           |
| B. Hardy-Weinberg          | II. Human Somatotype           |
| C. Raymond Dart            | III. ABO Blood Groups          |
| D. William Herbert Sheldon | IV. Australopithecus africanus |

1. A-I, B-II, C-III, D-IV
2. A-IV, B-II, C-III, D-I
3. A-III, B-I, C-IV, D-II
4. A-II, B-IV, C-I, D-III

Options :

920906105793. 1  
920906105794. 2  
920906105795. 3  
920906105796. 4

Question Number : 49 Question Id : 92090626774 Question Type : MCQ Option Shuffling : No Is Question Mandatory : No Calculator : None Response Time : N.A Think Time : N.A Minimum Instruction Time : 0

Correct Marks : 4 Wrong Marks : 1

सूची I का सूची II से मिलान कीजिए

सूची I	सूची II
A. कार्ल लैंडस्टीनर	I. आनुवंशिक विभिन्नता
B. हार्डी वेनबर्ग	II. मानव कायप्रकार
C. रिमण्ड डार्ट	III. ABO रक्त समूह
D. विलियम हरबर्ट शैल्डन	IV. ऑस्ट्रालोपाइथेकस अफ्रीकेनस

1. A-I, B-II, C-III, D-IV
2. A-IV, B-II, C-III, D-I
3. A-III, B-I, C-IV, D-II
4. A-II, B-IV, C-I, D-III

Options :

920906105793. 1



920906105794. 2

920906105795. 3

920906105796. 4

**Question Number : 50 Question Id : 92090626775 Question Type : MCQ Option Shuffling : No Is Question Mandatory : No Calculator : None Response Time : N.A Think Time : N.A Minimum Instruction Time : 0**

**Correct Marks : 4 Wrong Marks : 1**

Match List I with List II

LIST I

LIST II

- |                   |                                |
|-------------------|--------------------------------|
| A. S-shaped spine | I. Java man                    |
| B. Protruding Jaw | II. Acceleration of Maturation |
| C. Bipedalism     | III. Homo sapiens              |
| D. Secular Trend  | IV. Australopithecines         |

1. A-I, B-II, C-III, D-IV

2. A-II, B-I, C-IV, D-III

3. A-I, B-III, C-II, D-IV

4. A-III, B-IV, C-I, D-II

**Options :**

920906105797. 1

920906105798. 2

920906105799. 3

920906105800. 4

**Question Number : 50 Question Id : 92090626775 Question Type : MCQ Option Shuffling : No Is Question Mandatory : No Calculator : None Response Time : N.A Think Time : N.A Minimum Instruction Time : 0**

**Correct Marks : 4 Wrong Marks : 1**

सूची I का सूची II से मिलान कीजिए

सूची I	सूची II
A. S-आकार वाला मेरुदण्ड	I. जावा मानव
B. बहिर्विष्ट जबड़ा	II. त्वरित परिपक्वन
C. द्वि- पादिता	III. होमोसेपियन्स (मानव)
D. दीर्घकालिक प्रवृत्ति	IV. ऑस्ट्रालोपाइथेसिन्स

1. A-I, B-II, C-III, D-IV
2. A-II, B-I, C-IV, D-III
3. A-I, B-III, C-II, D-IV
4. A-III, B-IV, C-I, D-II

**Options :**

920906105797. 1  
920906105798. 2  
920906105799. 3  
920906105800. 4

**Question Number : 51 Question Id : 92090626776 Question Type : MCQ Option Shuffling : No Is Question Mandatory : No Calculator : None Response Time : N.A Think Time : N.A Minimum Instruction Time : 0**

**Correct Marks : 4 Wrong Marks : 1**

The concept of Great tradition and little tradition as bipolar model of civilization was given by:

1. Robert Redfield
2. M. C. Burkit
3. Edmund Leach
4. Levi-strauss

**Options :**

920906105801. 1  
920906105802. 2  
920906105803. 3  
920906105804. 4

**Question Number : 51 Question Id : 92090626776 Question Type : MCQ Option Shuffling : No Is Question Mandatory : No Calculator : None Response Time : N.A Think Time : N.A Minimum Instruction Time : 0**

**Correct Marks : 4 Wrong Marks : 1**

सभ्यता के द्विध्रुवीय मॉडल के रूप में महान परंपरा तथा निम्न परम्परा की अवधारणा किसके द्वारा दी गई है?

1. रॉबर्ट रेडफील्ड
2. एम.सी. बर्किट
3. एडमंड लीच
4. लेवी स्ट्रॉस

**Options :**

920906105801. 1

920906105802. 2

920906105803. 3

920906105804. 4

**Question Number : 52 Question Id : 92090626777 Question Type : MCQ Option Shuffling : No Is Question Mandatory : No Calculator : None Response Time : N.A Think Time : N.A Minimum Instruction Time : 0**

**Correct Marks : 4 Wrong Marks : 1**

Which tribe in India is largest in terms of population size?

1. Gond
2. Gaddi
3. Raji
4. Bhil

**Options :**

920906105805. 1

920906105806. 2

920906105807. 3

920906105808. 4

**Question Number : 52 Question Id : 92090626777 Question Type : MCQ Option Shuffling : No Is Question Mandatory : No Calculator : None Response Time : N.A Think Time : N.A Minimum Instruction Time : 0**

**Correct Marks : 4 Wrong Marks : 1**

जनसंख्या के आकार के संदर्भ में भारत की कौन सी जनजाति सबसे अधिक संख्या में है?

1. गौड
2. गद्दी
3. राजी
4. भील

**Options :**

920906105805. 1  
920906105806. 2  
920906105807. 3  
920906105808. 4

**Question Number : 53 Question Id : 92090626778 Question Type : MCQ Option Shuffling : No Is Question Mandatory : No Calculator : None Response Time : N.A Think Time : N.A Minimum Instruction Time : 0**

**Correct Marks : 4 Wrong Marks : 1**

What is the constitutional provision to provide special financial assistance for Tribal Welfare?

1. Article 342
2. Article 275 (1)
3. Article 365
4. Article 30

**Options :**

920906105809. 1  
920906105810. 2  
920906105811. 3  
920906105812. 4

**Question Number : 53 Question Id : 92090626778 Question Type : MCQ Option Shuffling : No Is Question Mandatory : No Calculator : None Response Time : N.A Think Time : N.A Minimum Instruction Time : 0**

**Correct Marks : 4 Wrong Marks : 1**

जनजातियों के कल्याण के लिए विशिष्ट आर्थिक सहायता प्रदान करने के लिए संवैधानिक प्रावधान क्या है?

1. अनुच्छेद 342
2. अनुच्छेद 275 (1)
3. अनुच्छेद 365
4. अनुच्छेद 30

**Options :**

920906105809. 1  
920906105810. 2  
920906105811. 3  
920906105812. 4

**Question Number : 54 Question Id : 92090626779 Question Type : MCQ Option Shuffling : No Is Question Mandatory : No Calculator : None Response Time : N.A Think Time : N.A Minimum Instruction Time : 0**

**Correct Marks : 4 Wrong Marks : 1**

The four-fold scheme of development of political organization-"band, tribe, chiefdom and the state"-was espoused by :

1. Marshall Sahlins
2. G. P. Murdock
3. E. B. Tylor
4. Elman Service

**Options :**

- 920906105813. 1
- 920906105814. 2
- 920906105815. 3
- 920906105816. 4

**Question Number : 54 Question Id : 92090626779 Question Type : MCQ Option Shuffling : No Is Question Mandatory : No Calculator : None Response Time : N.A Think Time : N.A Minimum Instruction Time : 0**

**Correct Marks : 4 Wrong Marks : 1**

किसी राजनैतिक संगठन के विकास के लिए निम्नलिखित चतुर्यामी "दल, जनजाति, मुखिया तथा राज्य"- किसके द्वारा प्रतिपादित किया गया था?

1. मार्शल साहलिंग्स
2. जी. पी. मरडॉक
3. ई.बी. टायलर
4. एलमैन सर्विस

**Options :**

- 920906105813. 1
- 920906105814. 2
- 920906105815. 3
- 920906105816. 4

**Question Number : 55 Question Id : 92090626780 Question Type : MCQ Option Shuffling : No Is Question Mandatory : No Calculator : None Response Time : N.A Think Time : N.A Minimum Instruction Time : 0**

**Correct Marks : 4 Wrong Marks : 1**

The study of sound used in speech is called:

1. Morphology
2. Syntax
3. Semantics
4. Phonology

**Options :**

920906105817. 1  
920906105818. 2  
920906105819. 3  
920906105820. 4

**Question Number : 55 Question Id : 92090626780 Question Type : MCQ Option Shuffling : No Is Question Mandatory : No Calculator : None Response Time : N.A Think Time : N.A Minimum Instruction Time : 0**

**Correct Marks : 4 Wrong Marks : 1**

बोली में उपयोग में लाई जाने वाली ध्वनियों के अध्ययन को क्या कहते हैं?

1. आकृति विज्ञान
2. वाक्य- विन्यास
3. अर्थ- विज्ञान
4. स्वर- विज्ञान

**Options :**

920906105817. 1  
920906105818. 2  
920906105819. 3  
920906105820. 4

**Question Number : 56 Question Id : 92090626781 Question Type : MCQ Option Shuffling : No Is Question Mandatory : No Calculator : None Response Time : N.A Think Time : N.A Minimum Instruction Time : 0**

**Correct Marks : 4 Wrong Marks : 1**

Who said that social stratification in India is based on "purity and pollution"?

1. Louis Dumont
2. M. N. Srinivas
3. Leela Dube
4. F.G. Bailey

**Options :**

920906105821. 1
920906105822. 2
920906105823. 3
920906105824. 4

**Question Number : 56 Question Id : 92090626781 Question Type : MCQ Option Shuffling : No Is Question Mandatory : No Calculator : None Response Time : N.A Think Time : N.A Minimum Instruction Time : 0**

**Correct Marks : 4 Wrong Marks : 1**

भारत में सामाजिक स्तरीकरण "शुद्धता तथा प्रदूषण" पर आधारित हैं। यह शब्द किसने कहे हैं?

1. लुईस ड्यूमेट
2. एम. एन. श्रीनिवास
3. लीला दूबे
4. एफ. जी. बैले

**Options :**

920906105821. 1
920906105822. 2
920906105823. 3
920906105824. 4

**Question Number : 57 Question Id : 92090626782 Question Type : MCQ Option Shuffling : No Is Question Mandatory : No Calculator : None Response Time : N.A Think Time : N.A Minimum Instruction Time : 0**

**Correct Marks : 4 Wrong Marks : 1**

Which of the following is not a tribal movement?

1. Chipko movement
2. Kol insurrection
3. Tana Bhagat
4. Jangal Katai Andolan

**Options :**

920906105825. 1
920906105826. 2
920906105827. 3
920906105828. 4

**Question Number : 57 Question Id : 92090626782 Question Type : MCQ Option Shuffling : No Is Question Mandatory : No Calculator : None Response Time : N.A Think Time : N.A Minimum**

**Instruction Time : 0**

**Correct Marks : 4 Wrong Marks : 1**

निम्न में से कौन सा जनजातियों का आंदोलन नहीं है?

1. चिपको आंदोलन
2. कोल विद्रोह
3. ताना भगत
4. जंगल कटाई आंदोलन

**Options :**

920906105825. 1

920906105826. 2

920906105827. 3

920906105828. 4

**Question Number : 58 Question Id : 92090626783 Question Type : MCQ Option Shuffling : No Is Question Mandatory : No Calculator : None Response Time : N.A Think Time : N.A Minimum Instruction Time : 0**

**Correct Marks : 4 Wrong Marks : 1**

The prohibition of sagotra marriage is an example of:

1. Class exogamy
2. Caste exogamy
3. Racial Taboo
4. Clan exogamy

**Options :**

920906105829. 1

920906105830. 2

920906105831. 3

920906105832. 4

**Question Number : 58 Question Id : 92090626783 Question Type : MCQ Option Shuffling : No Is Question Mandatory : No Calculator : None Response Time : N.A Think Time : N.A Minimum Instruction Time : 0**

**Correct Marks : 4 Wrong Marks : 1**

सगोत्र विवाद का निषेध निम्न में से किसका उदाहरण है?

1. वर्ग बहिर्विवाह
2. जाति बहिर्विवाह
3. प्रजातिगत निषिद्धता
4. गोत्र बहिर्विवाह



**Options :**

- 920906105829. 1
- 920906105830. 2
- 920906105831. 3
- 920906105832. 4

**Question Number : 59 Question Id : 92090626784 Question Type : MCQ Option Shuffling : No Is Question Mandatory : No Calculator : None Response Time : N.A Think Time : N.A Minimum Instruction Time : 0 Correct Marks : 4 Wrong Marks : 1**

Historical particularism as an anthropological approach was proposed by:

- 1. Franz Boas
- 2. Ruth Benedict
- 3. Robert Merton
- 4. E. E. Evans-Pritchard

**Options :**

- 920906105833. 1
- 920906105834. 2
- 920906105835. 3
- 920906105836. 4

**Question Number : 59 Question Id : 92090626784 Question Type : MCQ Option Shuffling : No Is Question Mandatory : No Calculator : None Response Time : N.A Think Time : N.A Minimum Instruction Time : 0 Correct Marks : 4 Wrong Marks : 1**

ऐतिहासिक एकनिष्ठवाद को मानविज्ञान द्रष्टीकोण के रूप में किसने प्रस्तावित किया?

- 1. फ्रांज बाओस
- 2. रुथ बेनेडिक्ट
- 3. रॉबर्ट मर्टन
- 4. ई.ई. ईवान्स- प्रिचर्ड

**Options :**

- 920906105833. 1
- 920906105834. 2
- 920906105835. 3
- 920906105836. 4

**Question Number : 60 Question Id : 92090626785 Question Type : MCQ Option Shuffling : No Is Question Mandatory : No Calculator : None Response Time : N.A Think Time : N.A Minimum**

**Instruction Time : 0**

**Correct Marks : 4 Wrong Marks : 1**

The inheritance rule that makes the eldest child heir of the property is called:

1. Ultimogeniture
2. Equigeniture
3. Primogeniture
4. Patriarchy

**Options :**

920906105837. 1

920906105838. 2

920906105839. 3

920906105840. 4

**Question Number : 60 Question Id : 92090626785 Question Type : MCQ Option Shuffling : No Is Question Mandatory : No Calculator : None Response Time : N.A Think Time : N.A Minimum Instruction Time : 0**

**Correct Marks : 4 Wrong Marks : 1**

उत्तराधिकार का नियम जो केवल सबसे बड़ी संतान को ही संपत्ति का एकाधिकार देता है, उसे क्या कहते हैं?

1. कनिष्ठाधिकार
2. समाधिकार
3. ज्येष्ठाधिकार
4. पितृसत्तात्मक

**Options :**

920906105837. 1

920906105838. 2

920906105839. 3

920906105840. 4

**Question Number : 61 Question Id : 92090626786 Question Type : MCQ Option Shuffling : No Is Question Mandatory : No Calculator : None Response Time : N.A Think Time : N.A Minimum Instruction Time : 0**

**Correct Marks : 4 Wrong Marks : 1**

Marriage of a person to Fathers Brother's children or Mother's sister's children is referred as:

1. Cross-cousin marriage
2. Parallel cousin marriage
3. Dydic marriage
4. Exogamous marriage

**Options :**

- 920906105841. 1
- 920906105842. 2
- 920906105843. 3
- 920906105844. 4

**Question Number : 61 Question Id : 92090626786 Question Type : MCQ Option Shuffling : No Is Question Mandatory : No Calculator : None Response Time : N.A Think Time : N.A Minimum Instruction Time : 0**

**Correct Marks : 4 Wrong Marks : 1**

पिता के भाई के बच्चों अथवा माता की बहिन के बच्चों के साथ विवाह को क्या कहते हैं?

1. क्रॉस- कज़िन विवाह
2. समांतर कज़िन विवाह
3. द्विकीय विवाह
4. बहिर्विवाह

**Options :**

- 920906105841. 1
- 920906105842. 2
- 920906105843. 3
- 920906105844. 4

**Question Number : 62 Question Id : 92090626787 Question Type : MCQ Option Shuffling : No Is Question Mandatory : No Calculator : None Response Time : N.A Think Time : N.A Minimum Instruction Time : 0**

**Correct Marks : 4 Wrong Marks : 1**

Applied Anthropology as a domain of knowledge relates to:

1. Theoretical conceptualization
2. Narrative analysis
3. Literary criticism
4. Use of Anthropology for public good

**Options :**

- 920906105845. 1
- 920906105846. 2
- 920906105847. 3
- 920906105848. 4

**Question Number : 62 Question Id : 92090626787 Question Type : MCQ Option Shuffling : No Is Question Mandatory : No Calculator : None Response Time : N.A Think Time : N.A Minimum Instruction Time : 0**

**Correct Marks : 4 Wrong Marks : 1**

व्यावहारिक मानविज्ञान ज्ञान के किस क्षेत्र से संबंधित है?

1. सैद्धान्तिक संप्रत्यथीकरण
2. विवरणात्मक विश्लेषण
3. साहित्यिक आलोचना
4. मानवविज्ञान का सार्वजनिक हित के लिए उपयोग

**Options :**

- 920906105845. 1
- 920906105846. 2
- 920906105847. 3
- 920906105848. 4

**Question Number : 63 Question Id : 92090626788 Question Type : MCQ Option Shuffling : No Is Question Mandatory : No Calculator : None Response Time : N.A Think Time : N.A Minimum Instruction Time : 0**

**Correct Marks : 4 Wrong Marks : 1**

Hindu philosophy advocates different stages of a human life. Arranged sequence of these stages is:

1. Bramhacharya - Grihastha - Vanprastha - Sanyas
2. Bramacharya - Vanprastha - Grihastha - Sanyas
3. Bramacharya - Sanyas - Grihastha - Vanprastha
4. Bramacharya - Vanprastha - Sanyas - Grihastha

**Options :**

- 920906105849. 1
- 920906105850. 2
- 920906105851. 3
- 920906105852. 4

**Question Number : 63 Question Id : 92090626788 Question Type : MCQ Option Shuffling : No Is Question Mandatory : No Calculator : None Response Time : N.A Think Time : N.A Minimum Instruction Time : 0**

**Correct Marks : 4 Wrong Marks : 1**

हिन्दू दर्शन मानव जीवन की विभिन्न अवस्थाओं को समर्थन है। इन अवस्थाओं का सही क्रम इस प्रकार है-

- 1. ब्रह्मचर्य, गृहस्थ, वानप्रस्थ, सन्यास
- 2. ब्रह्मचर्य, वानप्रस्थ, गृहस्थ, सन्यास
- 3. ब्रह्मचर्य, सन्यास, वानप्रस्थ, गृहस्थ
- 4. ब्रह्मचर्य, वानप्रस्थ, सन्यास, गृहस्थ

**Options :**

- 920906105849. 1
- 920906105850. 2
- 920906105851. 3
- 920906105852. 4

**Question Number : 64 Question Id : 92090626789 Question Type : MCQ Option Shuffling : No Is Question Mandatory : No Calculator : None Response Time : N.A Think Time : N.A Minimum Instruction Time : 0**

**Correct Marks : 4 Wrong Marks : 1**

The distinction of state and stateless society was given by:

- 1. Edmund Leach
- 2. B. Malinowski
- 3. Radcliffe Brown
- 4. E. E. Evans-Pritchard

**Options :**

- 920906105853. 1
- 920906105854. 2
- 920906105855. 3
- 920906105856. 4

**Question Number : 64 Question Id : 92090626789 Question Type : MCQ Option Shuffling : No Is Question Mandatory : No Calculator : None Response Time : N.A Think Time : N.A Minimum**

**Instruction Time : 0**

**Correct Marks : 4 Wrong Marks : 1**

सनागरिकता तथा नाहरिकताहीन समाज में अंतर निम्न में से किसके द्वारा दिया गया था?

1. एडमंड लीच
2. बी. मैलीनोवस्की
3. रैडक्लिफ ब्राउन
4. ई. ई. ईवान्स-प्रिचर्ड

**Options :**

920906105853. 1

920906105854. 2

920906105855. 3

920906105856. 4

**Question Number : 65 Question Id : 92090626790 Question Type : MCQ Option Shuffling : No Is Question Mandatory : No Calculator : None Response Time : N.A Think Time : N.A Minimum Instruction Time : 0**

**Correct Marks : 4 Wrong Marks : 1**

The term "Rites de passage" associated with transition of an individual from one stage to other stage of life was proposed by:

1. Emile Durkheim
2. L. H. Morgan
3. Arnold Van Gennep
4. Franz Boas

**Options :**

920906105857. 1

920906105858. 2

920906105859. 3

920906105860. 4

**Question Number : 65 Question Id : 92090626790 Question Type : MCQ Option Shuffling : No Is Question Mandatory : No Calculator : None Response Time : N.A Think Time : N.A Minimum Instruction Time : 0**

**Correct Marks : 4 Wrong Marks : 1**

'राइट्स डि पैसेज' शब्द मनुष्य के जीवन की एक अवस्था से दूसरी अवस्था में परिवर्तन से संबंधित ही यह किसने प्रतिपादित किया था?

1. एमिली ड्यूरेखेम
2. एल. एच. मौरगन
3. आर्नोल्ड वान जेनेप
4. फ्रांज बोआस

**Options :**

920906105857. 1  
920906105858. 2  
920906105859. 3  
920906105860. 4

**Question Number : 66 Question Id : 92090626791 Question Type : MCQ Option Shuffling : No Is Question Mandatory : No Calculator : None Response Time : N.A Think Time : N.A Minimum Instruction Time : 0**

**Correct Marks : 4 Wrong Marks : 1**

Given below are two statements: one is labelled as Assertion A and the other is labelled as Reason R

**Assertion A:** The word globalization is often used to refer to "the massive flow of goods, people, information, and capital across the globe."

**Reason R:** The process of globalization has resulted in the worldwide spread of cultural features, particularly in the domain of economics and international trade.

In the light of the above statements, choose the most appropriate answer from the options given below:

1. Both A and R are correct and R is the correct explanation of A
2. Both A and R are correct but R is NOT the correct explanation of A
3. A is correct but R is not correct
4. A is not correct but R is correct

**Options :**

920906105861. 1  
920906105862. 2  
920906105863. 3  
920906105864. 4

**Question Number : 66 Question Id : 92090626791 Question Type : MCQ Option Shuffling : No Is Question Mandatory : No Calculator : None Response Time : N.A Think Time : N.A Minimum Instruction Time : 0**

**Correct Marks : 4 Wrong Marks : 1**

नीचे दे कथन दिए गे हैं: एक अभिकथन (Assertion A) के रूप में लिखित हैं तो दूसरा उसके कारण (Reason R) के रूप में;

अभिकथन A: वैश्वीकरण शब्द का उपयोग अक्सर ही "वस्तुओं, लोगों, सूचनाओं तथा पूँजी की विश्व में व्यापक प्रवाह" के संदर्भ में किया जाता है।

कारण R: वैश्वीकरण की प्रक्रिया का परिणाम सांस्कृतिक विशेषताओं, विशेषतः आर्थिक तथा अंतर्राष्ट्रीय व्यापार का विश्व-व्यापी विस्तार है।

उपरोक्त कथन के आलोक में, नीचे दिए गए विकल्पों में से सबसे उपयुक्त उत्तर का चयन कीजिए:

1. A और R दोनों सही हैं और R, A की सही व्याख्या है
2. A और R दोनों सही हैं और R, A की सही व्याख्या नहीं है
3. A सही है लेकिन R सही नहीं है
4. A सही नहीं है लेकिन R सही है

**Options :**

920906105861. 1
920906105862. 2
920906105863. 3
920906105864. 4

**Question Number : 67 Question Id : 92090626792 Question Type : MCQ Option Shuffling : No Is Question Mandatory : No Calculator : None Response Time : N.A Think Time : N.A Minimum Instruction Time : 0**

**Correct Marks : 4 Wrong Marks : 1**

Given below are two statements: one is labelled as Assertion A and the other is labelled as Reason R

**Assertion A:** The efforts to make people give up subsistence economy are intended to get everyone to participate in the cash economy

**Reason R:** The state views hunting, gathering, shifting cultivation and fishing as incompatible with individual ownership, cash cropping and the creation of surplus

In the light of the above statements, choose the correct answer from the options given below:

1. Both A and R are correct and R is the correct explanation of A
2. Both A and R are correct but R is NOT the correct explanation of A
3. A is correct but R is not correct
4. A is not correct but R is correct



**Options :**

- 920906105865. 1
- 920906105866. 2
- 920906105867. 3
- 920906105868. 4

**Question Number : 67 Question Id : 92090626792 Question Type : MCQ Option Shuffling : No Is Question Mandatory : No Calculator : None Response Time : N.A Think Time : N.A Minimum Instruction Time : 0**

**Correct Marks : 4 Wrong Marks : 1**

नीचे दे कथन दिए गे हैं: एक अभिकथन (Assertion A) के रूप में लिखित हैं तो दूसरा उसके कारण (Reason R) के रूप में;

अभिकथन A: लोगों द्वारा जीवन निर्वाह अर्थव्यवस्था को छोड़ देने के प्रयासों का आशय है प्रत्येक का नकदी अर्थव्यवस्था में भाग लेना ।

कारण R: शिकर- संग्रहण, स्थानांतरित कृषि तथा मत्स्य- ग्रहण राज्य की दृष्टि में व्यक्तिगत स्वामित्व, नकदी फसल तथा अधिशेष निर्माण के साथ असंगत हैं।

उपरोक्त कथन के आलोक में, नीचे दिए गए विकल्पों में से सबसे उपयुक्त उत्तर का चयन कीजिए:

1. A और R दोनों सत्य हैं और R, A की सही व्याख्या है
2. A और R दोनों सत्य हैं और R, A की सही व्याख्या नहीं है
3. A सत्य है लेकिन R असत्य है
4. A असत्य है लेकिन R सत्य है

**Options :**

- 920906105865. 1
- 920906105866. 2
- 920906105867. 3
- 920906105868. 4

**Question Number : 68 Question Id : 92090626793 Question Type : MCQ Option Shuffling : No Is Question Mandatory : No Calculator : None Response Time : N.A Think Time : N.A Minimum Instruction Time : 0**

**Correct Marks : 4 Wrong Marks : 1**

Lewis Henry Morgan proposed unilinear progress of society. The progress formulated by him sequenced from simple to complex is:

- A. Barbarism
- B. Lower Savagery
- C. Upper Savagery
- D. Civilization
- E. Middle Savagery

Choose the correct answer from the options given below:

- 1. E, D, B, C, A
- 2. B, E, C, A, D
- 3. A, D, C, B, E
- 4. D, A, C, E, A

**Options :**

- 920906105869. 1
- 920906105870. 2
- 920906105871. 3
- 920906105872. 4

**Question Number : 68 Question Id : 92090626793 Question Type : MCQ Option Shuffling : No Is Question Mandatory : No Calculator : None Response Time : N.A Think Time : N.A Minimum Instruction Time : 0**

**Correct Marks : 4 Wrong Marks : 1**

लेविस हेनरी मोर्गन ने प्रतिपादित किया कि समाज की प्रगति एकरेखीय होती है। सरल से जटिल के क्रम में उसके द्वारा बनाई गई प्रगति की अवस्थाएँ निम्न प्रकार से हैं।

- A. बर्बरता
- B. निम्न जंगलीपण
- C. उच्च जंगलीपण
- D. सभ्यता
- E. मध्य जंगलीपण

नीचे दिए गए विकल्पों में से सबसे उपयुक्त उत्तर का चयन कीजिए:

- 1. E, D, B, C, A
- 2. B, E, C, A, D
- 3. A, D, C, B, E
- 4. D, A, C, E, A

**Options :**

920906105869. 1  
920906105870. 2  
920906105871. 3  
920906105872. 4

**Question Number : 69 Question Id : 92090626794 Question Type : MCQ Option Shuffling : No Is Question Mandatory : No Calculator : None Response Time : N.A Think Time : N.A Minimum Instruction Time : 0**

**Correct Marks : 4 Wrong Marks : 1**

Arrange the sequence of theoretical constructs from newest to oldest.

- A. Heliolithic Diffusion
- B. Etic and Emic
- C. Structural forms
- D. Patterns of culture
- E. Psychic unity of mankind

Choose the correct answer from the options given below:

- 1. A, B, C, D, E
- 2. E, A, D, C, B
- 3. B, A, D, C, E
- 4. A, D, C, B, E

**Options :**

920906105873. 1  
920906105874. 2  
920906105875. 3  
920906105876. 4

**Question Number : 69 Question Id : 92090626794 Question Type : MCQ Option Shuffling : No Is Question Mandatory : No Calculator : None Response Time : N.A Think Time : N.A Minimum Instruction Time : 0**

**Correct Marks : 4 Wrong Marks : 1**

नवीनतम से प्राचीनतम के क्रम में निम्न सैद्धान्तिक संप्रत्ययों को व्यवस्थित करें।

- A. सौरपाषाण विकीर्णन
- B. एटिक तथा एमिक
- C. संरचनात्मक रूप
- D. संस्कृति के पैटर्न
- E. मानवता की आत्मिक एकता

नीचे दिए गए विकल्पों में से सबसे उपयुक्त उत्तर का चयन कीजिए:

- 1. A, B, C, D, E
- 2. E, A, D, C, B
- 3. B, A, D, C, E
- 4. A, D, C, B, E

**Options :**

- 920906105873. 1
- 920906105874. 2
- 920906105875. 3
- 920906105876. 4

**Question Number : 70 Question Id : 92090626795 Question Type : MCQ Option Shuffling : No Is Question Mandatory : No Calculator : None Response Time : N.A Think Time : N.A Minimum Instruction Time : 0**

**Correct Marks : 4 Wrong Marks : 1**

Given below are two statements:

**Statement I:** The most and rapid way culture can change is by revolution a usually aggressive and violent replacement of the society's rulers.

**Statement II:** All people who are suppressed, conquered or colonized will essentially rebel and successfully revolt against established authority.

In the light of the above statements, choose the most appropriate answer from the options given below:

- 1. Both Statement I and Statement II are correct
- 2. Both Statement I and Statement II are incorrect
- 3. Statement I is correct but Statement II is incorrect
- 4. Statement I is incorrect but Statement II is correct

**Options :**

- 920906105877. 1
- 920906105878. 2
- 920906105879. 3
- 920906105880. 4

**Question Number : 70 Question Id : 92090626795 Question Type : MCQ Option Shuffling : No Is Question Mandatory : No Calculator : None Response Time : N.A Think Time : N.A Minimum Instruction Time : 0**

**Correct Marks : 4 Wrong Marks : 1**

नीचे दो कथन दिए हैं:

कथन I: क्रांति- जो अधिकांशतः समाज के शासकों का आक्रमक तथा हिंसक प्रतिस्थापन है, द्वारा संस्कृति को परिवर्तित करने की प्रबलतम तथा शीघ्रकारी विधि है।

कथन II: वे सभी लोग जो दमित हैं, अधीन अथवा उपनिवेशित हैं, स्थापित अधिकारियों के विरुद्ध अनिवार्य रूप से विरोध तथा विद्रोह करेंगे।

उपरोक्त कथन के आलोक में, नीचे दिए गए विकल्पों में से सही उत्तर का चयन कीजिए:

1. कथन I और II दोनों सही हैं
2. कथन I और II दोनों गलत हैं
3. कथन I सही है, लेकिन कथन II गलत है
4. कथन I गलत है, लेकिन कथन II सही है

**Options :**

920906105877. 1

920906105878. 2

920906105879. 3

920906105880. 4

**Question Number : 71 Question Id : 92090626796 Question Type : MCQ Option Shuffling : No Is Question Mandatory : No Calculator : None Response Time : N.A Think Time : N.A Minimum Instruction Time : 0**

**Correct Marks : 4 Wrong Marks : 1**

Given below are two statements:

**Statement I:** Societies with a band type of organization are composed of fairly small, usually nomadic groups

**Statement II:** Band is politically autonomous, with informal authority and leadership role within the group

In the light of the above statements, choose the correct answer from the options given below:

1. Both Statement I and Statement II are true
2. Both Statement I and Statement II are false
3. Statement I is true but Statement II is false
4. Statement I is false but Statement II is true

**Options :**

920906105881. 1

920906105882. 2

920906105883. 3

920906105884. 4

**Question Number : 71 Question Id : 92090626796 Question Type : MCQ Option Shuffling : No Is Question Mandatory : No Calculator : None Response Time : N.A Think Time : N.A Minimum Instruction Time : 0**

**Correct Marks : 4 Wrong Marks : 1**

नीचे दो कथन दिए हैं:

कथन I: दलीय प्रकार के संगठनों वाले समाज समुचित रूप से छोटे तथा सामान्यतः खानाबदोश समूहों से मिलकर बने होते हैं।

कथन II: दल राजनैतिक रूप से स्वतंत्र तथा समूह के अंतर्गत अनौपचारिक अधिकारों तथा नेतृत्व की भूमिका वाले होते हैं।

उपरोक्त कथन के आलोक में, नीचे दिए गए विकल्पों में से सही उत्तर का चयन कीजिए:

1. कथन I और II दोनों सत्य हैं
2. कथन I और II दोनों असत्य हैं
3. कथन I सत्य है, लेकिन कथन II असत्य है
4. कथन I असत्य है, लेकिन कथन II सत्य है

**Options :**

920906105881. 1

920906105882. 2

920906105883. 3

920906105884. 4

**Question Number : 72 Question Id : 92090626797 Question Type : MCQ Option Shuffling : No Is Question Mandatory : No Calculator : None Response Time : N.A Think Time : N.A Minimum Instruction Time : 0**

**Correct Marks : 4 Wrong Marks : 1**

Identify the Indian anthropologists associated with concept of sacred complex.

- A. M. N. Srinivas
- B. S. C Dube
- C. L. P. Vidyarthi
- D. Makhan Jha
- E. S.C. Roy

Choose the correct answer from the options given below:

- 1. C and D only
- 2. A and B only
- 3. A and C only
- 4. D and E only

**Options :**

- 920906105885. 1
- 920906105886. 2
- 920906105887. 3
- 920906105888. 4

**Question Number : 72 Question Id : 92090626797 Question Type : MCQ Option Shuffling : No Is Question Mandatory : No Calculator : None Response Time : N.A Think Time : N.A Minimum Instruction Time : 0**

**Correct Marks : 4 Wrong Marks : 1**

पवित्र संकल से संबंधित भारतीय मानव विज्ञानियों की पहचान करें।

- A. एम. एन. श्रीनिवास
- B. एस. सी. दूबे
- C. एल. पी. विद्यार्थी
- D. माखन झा
- E. एस. सी. रॉय

नीचे दिए गए विकल्पों में से सबसे उपयुक्त उत्तर का चयन कीजिए:

- 1. केवल C और D
- 2. केवल A और B
- 3. केवल A और C
- 4. केवल D और E

**Options :**

- 920906105885. 1
- 920906105886. 2
- 920906105887. 3
- 920906105888. 4

**Question Number : 73 Question Id : 92090626798 Question Type : MCQ Option Shuffling : No Is Question Mandatory : No Calculator : None Response Time : N.A Think Time : N.A Minimum Instruction Time : 0**

**Correct Marks : 4 Wrong Marks : 1**

What are the major language families in India?

- A. Indo-Aryan
- B. Turko-Iranian
- C. Austro-Asiatic
- D. Dravidian

Choose the correct answer from the options given below:

- 1. A and C only
- 2. A and B only
- 3. A, C and D only
- 4. A, B and C only

**Options :**

- 920906105889. 1
- 920906105890. 2



920906105891. 3

920906105892. 4

**Question Number : 73 Question Id : 92090626798 Question Type : MCQ Option Shuffling : No Is Question Mandatory : No Calculator : None Response Time : N.A Think Time : N.A Minimum Instruction Time : 0**

**Correct Marks : 4 Wrong Marks : 1**

भारत में प्रमुख भाषा परिवार कौन से है?

- A. इंडो- आर्यन
- B. तुरको-इरानियन
- C. ऑस्ट्रो-एशियाई
- D. द्रवीडियन

नीचे दिए गए विकल्पों में से सबसे उपयुक्त उत्तर का चयन कीजिए:

1. केवल A और C
2. केवल A और B
3. केवल A, C और D
4. केवल A, B और C

**Options :**

920906105889. 1

920906105890. 2

920906105891. 3

920906105892. 4

**Question Number : 74 Question Id : 92090626799 Question Type : MCQ Option Shuffling : No Is Question Mandatory : No Calculator : None Response Time : N.A Think Time : N.A Minimum Instruction Time : 0**

**Correct Marks : 4 Wrong Marks : 1**

Match List I with List II

LIST I

LIST II

- |                             |                      |
|-----------------------------|----------------------|
| A. Cross-cousin Marriage    | I. Nuer              |
| B. Parallel-cousin Marriage | II. Chippewa Indians |
| C. Polyandry                | III. Toda            |
| D. Ghost Marriage           | IV. Kurds            |

1. A-I, B-II, C-IV, D-III
2. A-II, B-IV, C-III, D-I
3. A-I, B-IV, C-III, D-II
4. A-III, B-II, C-I, D-IV

**Options :**

920906105893. 1  
920906105894. 2  
920906105895. 3  
920906105896. 4

**Question Number : 74 Question Id : 92090626799 Question Type : MCQ Option Shuffling : No Is Question Mandatory : No Calculator : None Response Time : N.A Think Time : N.A Minimum Instruction Time : 0**

**Correct Marks : 4 Wrong Marks : 1**

सूची I का सूची II से मिलान कीजिए

सूची I	सूची II
A. क्रॉस कज़िन विवाह	I. न्यूअर
B. समांतर- कज़िन विवाह	II. चिप्पेवा इन्डियन्ज़
C. बहुपतित्व	III. टोडा
D. परोक्ष विवाह	IV. कुर्द

1. A-I, B-II, C-IV, D-III
2. A-II, B-IV, C-III, D-I
3. A-I, B-IV, C-III, D-II
4. A-III, B-II, C-I, D-IV

**Options :**

920906105893. 1  
920906105894. 2  
920906105895. 3  
920906105896. 4

Question Number : 75 Question Id : 92090626800 Question Type : MCQ Option Shuffling : No Is Question Mandatory : No Calculator : None Response Time : N.A Think Time : N.A Minimum Instruction Time : 0

Correct Marks : 4 Wrong Marks : 1

Match List I with List II

LIST I

LIST II

- |                       |                           |
|-----------------------|---------------------------|
| A. Margaret Mead      | I. Symbolic Anthropology  |
| B. Lewis Henry Morgan | II. Structuralism         |
| C. Clifford Geertz    | III. Cultural Personality |
| D. Levi-Strauss       | IV. Evolutionism          |

1. A-III, B-II, C-I, D-IV
2. A-IV, B-I, C-II, D-III
3. A-I, B-III, C-II, D-IV
4. A-III, B-IV, C-I, D-II

Options :

920906105897. 1
920906105898. 2
920906105899. 3
920906105900. 4

Question Number : 75 Question Id : 92090626800 Question Type : MCQ Option Shuffling : No Is Question Mandatory : No Calculator : None Response Time : N.A Think Time : N.A Minimum Instruction Time : 0

Correct Marks : 4 Wrong Marks : 1

सूची I का सूची II से मिलान कीजिए

सूची I	सूची II
A. माग्रेट मीड	I. प्रतीकात्मक मानव विज्ञान
B. लेविस हेनरी मॉर्गन	II. संरचनावाद
C. क्लिफर्ड गीर्टज़	III. संस्कृति तथा व्यक्तित्व
D. लेवी- स्ट्रॉस,	IV. विकासवाद

1. A-III, B-II, C-I, D-IV
2. A-IV, B-I, C-II, D-III
3. A-I, B-III, C-II, D-IV
4. A-III, B-IV, C-I, D-II

Options :

920906105897. 1

920906105898. 2

920906105899. 3

920906105900. 4

**Question Number : 76 Question Id : 92090626801 Question Type : MCQ Option Shuffling : No Is Question Mandatory : No Calculator : None Response Time : N.A Think Time : N.A Minimum Instruction Time : 0**

**Correct Marks : 4 Wrong Marks : 1**

The earliest identified stone tool found so far came from:

1. Gona, Ethiopia
2. Narmada valley, India
3. Tepotzlan, Mexico
4. Anatolian Highland, Turkey

**Options :**

920906105901. 1

920906105902. 2

920906105903. 3

920906105904. 4

**Question Number : 76 Question Id : 92090626801 Question Type : MCQ Option Shuffling : No Is Question Mandatory : No Calculator : None Response Time : N.A Think Time : N.A Minimum Instruction Time : 0**

**Correct Marks : 4 Wrong Marks : 1**

अभी तक पाये गए सब से प्राचीन पहचानयोग्य पाषण औज़ार \_\_\_\_\_ से प्राप्त हुए।

1. गोना, इथियोपिया
2. नर्मदा घाटी, भारत
3. टेपोट्जलैन, मैक्सिको
4. अनाटोलियन हाइलैंड, तुर्की

**Options :**

920906105901. 1

920906105902. 2

920906105903. 3

920906105904. 4

**Question Number : 77 Question Id : 92090626802 Question Type : MCQ Option Shuffling : No Is Question Mandatory : No Calculator : None Response Time : N.A Think Time : N.A Minimum Instruction Time : 0**

**Correct Marks : 4 Wrong Marks : 1**

The Lower Palaeolithic stone tool tradition is linked with:

1. Ramapithecus
2. Sivapithecus
3. Homo erectus
4. Homo sapiens

**Options :**

- 920906105905. 1
- 920906105906. 2
- 920906105907. 3
- 920906105908. 4

**Question Number : 77 Question Id : 92090626802 Question Type : MCQ Option Shuffling : No Is Question Mandatory : No Calculator : None Response Time : N.A Think Time : N.A Minimum Instruction Time : 0**

**Correct Marks : 4 Wrong Marks : 1**

निम्न पुरापाषाणकाल में पाषाण औज़ारों की परम्परा किससे संबंधित हैं?

1. रामापाइथेकस
2. शिवापाइथेकस
3. होमो इरेक्टस
4. होमो सेपियन्स

**Options :**

- 920906105905. 1
- 920906105906. 2
- 920906105907. 3
- 920906105908. 4

**Question Number : 78 Question Id : 92090626803 Question Type : MCQ Option Shuffling : No Is Question Mandatory : No Calculator : None Response Time : N.A Think Time : N.A Minimum Instruction Time : 0**

**Correct Marks : 4 Wrong Marks : 1**

One of the most common and characteristic tools in the Acheulean tool kit is:

1. Bow and Arrow
2. Hand Axe
3. Needle
4. Knife blade

**Options :**

920906105909. 1  
920906105910. 2  
920906105911. 3  
920906105912. 4

**Question Number : 78 Question Id : 92090626803 Question Type : MCQ Option Shuffling : No Is Question Mandatory : No Calculator : None Response Time : N.A Think Time : N.A Minimum Instruction Time : 0**

**Correct Marks : 4 Wrong Marks : 1**

एश्यूलिन टूल किट में सबसे अधिक पाया जाने वाला तथा सबसे विशेष औज़ार कौन सा है?

1. धनुष और बाण
2. हस्त- कुठार (कुल्हाड़ी)
3. सुई
4. छुरा

**Options :**

920906105909. 1  
920906105910. 2  
920906105911. 3  
920906105912. 4

**Question Number : 79 Question Id : 92090626804 Question Type : MCQ Option Shuffling : No Is Question Mandatory : No Calculator : None Response Time : N.A Think Time : N.A Minimum Instruction Time : 0**

**Correct Marks : 4 Wrong Marks : 1**

Levallois method of flake tool making belongs to:

1. Mesolithic Period
2. Neolithic Period
3. Lower chalcolithic Period
4. Middle Paleolithic Period

**Options :**

920906105913. 1  
920906105914. 2  
920906105915. 3  
920906105916. 4

**Question Number : 79 Question Id : 92090626804 Question Type : MCQ Option Shuffling : No Is Question Mandatory : No Calculator : None Response Time : N.A Think Time : N.A Minimum Instruction Time : 0**

**Correct Marks : 4 Wrong Marks : 1**

शल्क औज़ार बनाने की लैवलॉयज़िन विधि किससे संबंधित है?

1. मध्यपाषाण काल
2. नवपाषाण काल
3. निम्न ताम्रप्रस्तर काल
4. मध्य पुरापाषाण काल

**Options :**

920906105913. 1  
920906105914. 2  
920906105915. 3  
920906105916. 4

**Question Number : 80 Question Id : 92090626805 Question Type : MCQ Option Shuffling : No Is Question Mandatory : No Calculator : None Response Time : N.A Think Time : N.A Minimum Instruction Time : 0**

**Correct Marks : 4 Wrong Marks : 1**

The earliest stone weapons in the Americans are Clovis points. They are dated back to:

1. 50,000 years ago
2. 90,000 years ago
3. 11,000 years ago
4. 2,000 years ago

**Options :**

920906105917. 1  
920906105918. 2  
920906105919. 3  
920906105920. 4

**Question Number : 80 Question Id : 92090626805 Question Type : MCQ Option Shuffling : No Is Question Mandatory : No Calculator : None Response Time : N.A Think Time : N.A Minimum Instruction Time : 0**

**Correct Marks : 4 Wrong Marks : 1**

अमेरीका में आद्य पाषाण हथियार क्लोविस बिन्दु है। उनका काल कितने वर्ष पूर्व का निर्धारित माना गया है?

1. 50,000 वर्ष पूर्व
2. 90,000 वर्ष पूर्व
3. 11,000 वर्ष पूर्व
4. 2,000 वर्ष पूर्व

**Options :**

920906105917. 1  
920906105918. 2  
920906105919. 3  
920906105920. 4

**Question Number : 81 Question Id : 92090626806 Question Type : MCQ Option Shuffling : No Is Question Mandatory : No Calculator : None Response Time : N.A Think Time : N.A Minimum Instruction Time : 0**

**Correct Marks : 4 Wrong Marks : 1**

The archaeological period defined in terms of presence of domesticated plants and animals is termed as:

1. Chalcolithic
2. Mesolithic
3. Neolithic
4. Palaeolithic

**Options :**

920906105921. 1  
920906105922. 2  
920906105923. 3  
920906105924. 4

**Question Number : 81 Question Id : 92090626806 Question Type : MCQ Option Shuffling : No Is Question Mandatory : No Calculator : None Response Time : N.A Think Time : N.A Minimum Instruction Time : 0**

**Correct Marks : 4 Wrong Marks : 1**



उगाए गए पौधों तथा पालतू जानवरों की उपस्थिति के संदर्भ में परिभाषित विज्ञानी काल को \_\_\_\_\_ के रूप में जाना जाता है।

1. ताम्रप्रस्तर युग
2. मध्यपाषाण काल
3. नवपाषाण काल
4. पुरापाषाण काल

**Options :**

- 920906105921. 1
- 920906105922. 2
- 920906105923. 3
- 920906105924. 4

**Question Number : 82 Question Id : 92090626807 Question Type : MCQ Option Shuffling : No Is Question Mandatory : No Calculator : None Response Time : N.A Think Time : N.A Minimum Instruction Time : 0**

**Correct Marks : 4 Wrong Marks : 1**

The dating methods giving indirect estimates are called relative dating methods. One example of such dating method is:

1. Seriation
2. Carbon-dating
3. Obsidian hydration
4. Racemization

**Options :**

- 920906105925. 1
- 920906105926. 2
- 920906105927. 3
- 920906105928. 4

**Question Number : 82 Question Id : 92090626807 Question Type : MCQ Option Shuffling : No Is Question Mandatory : No Calculator : None Response Time : N.A Think Time : N.A Minimum Instruction Time : 0**

**Correct Marks : 4 Wrong Marks : 1**

वे काल निर्धारण विधियों जो अप्रत्यक्ष अनुमान देती हैं, उन्हें सापेक्ष काल निर्धारण कहते हैं।  
ऐसी काल निर्धारण विधियों का उदाहरण \_\_\_\_\_ है।

1. कणक्रमण
2. कार्बन- काल निर्धारण
3. ऑक्सीडियन जलयोजन
4. रेसीमाईजेशन

**Options :**

920906105925. 1  
920906105926. 2  
920906105927. 3  
920906105928. 4

**Question Number : 83 Question Id : 92090626808 Question Type : MCQ Option Shuffling : No Is  
Question Mandatory : No Calculator : None Response Time : N.A Think Time : N.A Minimum  
Instruction Time : 0**

**Correct Marks : 4 Wrong Marks : 1**

Burin type tools are typically found at Lower Palaeolithic sites. Burin can be prepared on:

1. Flake only
2. Flake and Blade
3. Blade and wood
4. Flake, blade and core

**Options :**

920906105929. 1  
920906105930. 2  
920906105931. 3  
920906105932. 4

**Question Number : 83 Question Id : 92090626808 Question Type : MCQ Option Shuffling : No Is  
Question Mandatory : No Calculator : None Response Time : N.A Think Time : N.A Minimum  
Instruction Time : 0**

**Correct Marks : 4 Wrong Marks : 1**

तक्षणी प्रकार के औज़ार विशेष रूप से निम्न पुरापाषाण स्थलों पर पाए जाते हैं। तक्षणी को किस पर तैयार किया जा सकता है?

1. केवल शल्क
2. शल्क तथा धार
3. धार तथा काष्ठ
4. शल्क, धार तथा कोर

**Options :**

- 920906105929. 1
- 920906105930. 2
- 920906105931. 3
- 920906105932. 4

**Question Number : 84 Question Id : 92090626809 Question Type : MCQ Option Shuffling : No Is Question Mandatory : No Calculator : None Response Time : N.A Think Time : N.A Minimum Instruction Time : 0**

**Correct Marks : 4 Wrong Marks : 1**

The warm period between two glacial periods is called:

- 1. Intersterial
- 2. Interglacial
- 3. Interval
- 4. Interpluvial

**Options :**

- 920906105933. 1
- 920906105934. 2
- 920906105935. 3
- 920906105936. 4

**Question Number : 84 Question Id : 92090626809 Question Type : MCQ Option Shuffling : No Is Question Mandatory : No Calculator : None Response Time : N.A Think Time : N.A Minimum Instruction Time : 0**

**Correct Marks : 4 Wrong Marks : 1**

दो हिमानी अवधियों के बीच के उष्ण काल को क्या कहते हैं?

- 1. इंटरस्टेडियल
- 2. अंतराहिमनदीय
- 3. अंतराल
- 4. अंतराप्लूवियल

**Options :**

- 920906105933. 1
- 920906105934. 2
- 920906105935. 3
- 920906105936. 4

**Question Number : 85 Question Id : 92090626810 Question Type : MCQ Option Shuffling : No Is Question Mandatory : No Calculator : None Response Time : N.A Think Time : N.A Minimum Instruction Time : 0**

**Correct Marks : 4 Wrong Marks : 1**

The examples of Pit Dwelling has been discovered at :

1. Chirand
2. Lothal
3. Burzahom
4. Bhimbetka

**Options :**

920906105937. 1  
920906105938. 2  
920906105939. 3  
920906105940. 4

**Question Number : 85 Question Id : 92090626810 Question Type : MCQ Option Shuffling : No Is Question Mandatory : No Calculator : None Response Time : N.A Think Time : N.A Minimum Instruction Time : 0**

**Correct Marks : 4 Wrong Marks : 1**

गर्तवास के उदाहरण निम्न में से कहाँ पाए गए हैं?

1. चिरांड
2. लोथल
3. बुर्जहोम
4. भीमबेटका

**Options :**

920906105937. 1  
920906105938. 2  
920906105939. 3  
920906105940. 4

**Question Number : 86 Question Id : 92090626811 Question Type : MCQ Option Shuffling : No Is Question Mandatory : No Calculator : None Response Time : N.A Think Time : N.A Minimum Instruction Time : 0**

**Correct Marks : 4 Wrong Marks : 1**

Which of the following sites represents the Lower palaeolithic culture?

1. Attirampakkam
2. Bhimbetka
3. Bagor
4. Daojali Hading

**Options :**

920906105941. 1  
920906105942. 2  
920906105943. 3  
920906105944. 4

**Question Number : 86 Question Id : 92090626811 Question Type : MCQ Option Shuffling : No Is Question Mandatory : No Calculator : None Response Time : N.A Think Time : N.A Minimum Instruction Time : 0**

**Correct Marks : 4 Wrong Marks : 1**

निम्नलिखित में से कौन स्थल निम्न पुरापाषाण काल संस्कृति को प्रदर्शित करता है?

1. अट्टीरमपक्कम
2. भीमबेटका
3. बागोर
4. दाओजली हेडिंग

**Options :**

920906105941. 1  
920906105942. 2  
920906105943. 3  
920906105944. 4

**Question Number : 87 Question Id : 92090626812 Question Type : MCQ Option Shuffling : No Is Question Mandatory : No Calculator : None Response Time : N.A Think Time : N.A Minimum Instruction Time : 0**

**Correct Marks : 4 Wrong Marks : 1**

Which of the following sites represents the Neolithic Culture?

1. Belan Valley
2. Birbhanpur
3. Burzahom
4. Bhimbetka

**Options :**

- 920906105945. 1
- 920906105946. 2
- 920906105947. 3
- 920906105948. 4

**Question Number : 87 Question Id : 92090626812 Question Type : MCQ Option Shuffling : No Is Question Mandatory : No Calculator : None Response Time : N.A Think Time : N.A Minimum Instruction Time : 0**

**Correct Marks : 4 Wrong Marks : 1**

निम्नलिखित में से कौन सा स्थल नवापाषाण संस्कृति को प्रदर्शित करता है?

- 1. बेलन घाटी
- 2. बिरभानपुर
- 3. बुर्जहोम
- 4. भीमबेटका

**Options :**

- 920906105945. 1
- 920906105946. 2
- 920906105947. 3
- 920906105948. 4

**Question Number : 88 Question Id : 92090626813 Question Type : MCQ Option Shuffling : No Is Question Mandatory : No Calculator : None Response Time : N.A Think Time : N.A Minimum Instruction Time : 0**

**Correct Marks : 4 Wrong Marks : 1**

'Copper Hoard' culture of Chalcolithic India has been found from:

- 1. Kungi
- 2. Rajpur Parsu
- 3. Sohan Valley
- 4. Daojali Hading

**Options :**

- 920906105949. 1
- 920906105950. 2
- 920906105951. 3
- 920906105952. 4

**Question Number : 88 Question Id : 92090626813 Question Type : MCQ Option Shuffling : No Is Question Mandatory : No Calculator : None Response Time : N.A Think Time : N.A Minimum Instruction Time : 0**

**Correct Marks : 4 Wrong Marks : 1**

ताम्रप्रस्तर युगमी भारत की ' ताम्र संग्रह' संस्कृति कहाँ पर पाई गई है?

1. कुंगी
2. राजपुर परसू
3. सोहन घाटी
4. दाओजली हेडिंग

**Options :**

920906105949. 1  
920906105950. 2  
920906105951. 3  
920906105952. 4

**Question Number : 89 Question Id : 92090626814 Question Type : MCQ Option Shuffling : No Is Question Mandatory : No Calculator : None Response Time : N.A Think Time : N.A Minimum Instruction Time : 0**

**Correct Marks : 4 Wrong Marks : 1**

Mesolithic Period is well-known for:

1. Ring stones
2. Microliths
3. Megaliths
4. Celts

**Options :**

920906105953. 1  
920906105954. 2  
920906105955. 3  
920906105956. 4

**Question Number : 89 Question Id : 92090626814 Question Type : MCQ Option Shuffling : No Is Question Mandatory : No Calculator : None Response Time : N.A Think Time : N.A Minimum Instruction Time : 0**

**Correct Marks : 4 Wrong Marks : 1**

मध्यपाषाण युग को निम्न में से किसके लिए भलीभाँति जाना जाता है?

1. वलयित प्रकार के पत्थर
2. सूक्ष्म सूचिकाश्म
3. मैगालिथ
4. पुरा कुठार

**Options :**

920906105953. 1

920906105954. 2

920906105955. 3

920906105956. 4

**Question Number : 90 Question Id : 92090626815 Question Type : MCQ Option Shuffling : No Is Question Mandatory : No Calculator : None Response Time : N.A Think Time : N.A Minimum Instruction Time : 0**

**Correct Marks : 4 Wrong Marks : 1**

Which of the following is a site of Indus Valley Civilization?

1. Rajpur Parsu
2. Surkotada
3. Cachar
4. Burzahom

**Options :**

920906105957. 1

920906105958. 2

920906105959. 3

920906105960. 4

**Question Number : 90 Question Id : 92090626815 Question Type : MCQ Option Shuffling : No Is Question Mandatory : No Calculator : None Response Time : N.A Think Time : N.A Minimum Instruction Time : 0**

**Correct Marks : 4 Wrong Marks : 1**

निम्न में से कौन सा सिन्धु घाटी सभ्यता का स्थल है?

1. राजपुरा परसू
2. सर्कोटाडा
3. कछार
4. बुर्ज़होम

**Options :**

920906105957. 1

920906105958. 2

920906105959. 3

920906105960. 4

**Question Number : 91 Question Id : 92090626816 Question Type : MCQ Option Shuffling : No Is Question Mandatory : No Calculator : None Response Time : N.A Think Time : N.A Minimum Instruction Time : 0**

**Correct Marks : 4 Wrong Marks : 1**



Given below are two statements: one is labelled as Assertion A and the other is labelled as Reason R

**Assertion A:** Technologically advanced and complex tools were discovered from neolithic and chalcolithic sites.

**Reason R:** Increased Cranial capacity and bipedalism among archaic Homo sapiens led to upgradation in tool quality and complexity.

In the light of the above statements, choose the most appropriate answer from the options given below:

1. Both A and R are correct and R is the correct explanation of A
2. Both A and R are correct but R is NOT the correct explanation of A
3. A is correct but R is not correct
4. A is not correct but R is correct

**Options :**

920906105961. 1

920906105962. 2

920906105963. 3

920906105964. 4

**Question Number : 91 Question Id : 92090626816 Question Type : MCQ Option Shuffling : No Is Question Mandatory : No Calculator : None Response Time : N.A Think Time : N.A Minimum Instruction Time : 0**

**Correct Marks : 4 Wrong Marks : 1**

नीचे दे कथन दिए गे हैं: एक अभिकथन (Assertion A) के रूप में लिखित हैं तो दूसरा उसके कारण (Reason R) के रूप में;

अभिकथन A: नवपाषाण तथा ताम्रप्रस्तरयुगीन स्थलों से तकनीकी रूप से उन्नत एवं जटिल औज़ार पाये गए थे।

कारण R: आद्य होमोसेपियन्स (मानव) में बढ़ी हुई कपाल क्षमता तथा द्विपादिता औज़ारों की गुणवत्ता तथा जटिलता की उन्नति को अग्रसर किया।

उपरोक्त कथन के आलोक में, नीचे दिए गए विकल्पों में से सबसे उपयुक्त उत्तर का चयन कीजिए:

1. A और R दोनों सही हैं और R, A की सही व्याख्या है
2. A और R दोनों सही हैं और R, A की सही व्याख्या नहीं है
3. A सही है लेकिन R सही नहीं है
4. A सही नहीं है लेकिन R सही है

**Options :**

920906105961. 1

920906105962. 2

920906105963. 3

920906105964. 4

**Question Number : 92 Question Id : 92090626817 Question Type : MCQ Option Shuffling : No Is Question Mandatory : No Calculator : None Response Time : N.A Think Time : N.A Minimum Instruction Time : 0**

**Correct Marks : 4 Wrong Marks : 1**

Given below are two statements: one is labelled as Assertion A and the other is labelled as Reason R

**Assertion A:** The environmental changes during glacial period led to emergence of various forms of flora, fauna as well as Acheulian stone age culture.

**Reason R:** The glacial period, also known as the Glacial Age, was a period of repeated advances and retreats of large ice sheets.

In the light of the above statements, choose the correct answer from the options given below:

1. Both A and R are correct and R is the correct explanation of A
2. Both A and R are correct but R is NOT the correct explanation of A
3. A is correct but R is not correct
4. A is not correct but R is correct

**Options :**

920906105965. 1

920906105966. 2

920906105967. 3

920906105968. 4

**Question Number : 92 Question Id : 92090626817 Question Type : MCQ Option Shuffling : No Is Question Mandatory : No Calculator : None Response Time : N.A Think Time : N.A Minimum Instruction Time : 0**

**Correct Marks : 4 Wrong Marks : 1**

नीचे दे कथन दिए गे हैं: एक अभिकथन (Assertion A) के रूप में लिखित हैं तो दूसरा उसके कारण (Reason R) के रूप में;

अभिकथन A: हिमानी युग में पर्यावरणीय परिवर्तनों ने पादपों, पशुओं तथा एश्यूलियन पाषाण युगीन संस्कृति के विभिन्न रूपों के आविर्भाव को अग्रसर किया।

कारण R: हिमानी युग में बर्फ का युग भी कहा जाता है। यह विकास की पुनरावृत्ति तथा वृद्ध बर्फ की चादरों के अपरसरण की अवधि है।

उपरोक्त कथन के आलोक में, नीचे दिए गए विकल्पों में से सबसे उपयुक्त उत्तर का चयन कीजिए:

1. A और R दोनों सत्य हैं और R, A की सही व्याख्या है
2. A और R दोनों असत्य हैं और R, A की सही व्याख्या है
3. A सत्य है लेकिन R असत्य है
4. A असत्य है लेकिन R सत्य है

**Options :**

920906105965. 1
920906105966. 2
920906105967. 3
920906105968. 4

**Question Number : 93 Question Id : 92090626818 Question Type : MCQ Option Shuffling : No Is Question Mandatory : No Calculator : None Response Time : N.A Think Time : N.A Minimum Instruction Time : 0**

**Correct Marks : 4 Wrong Marks : 1**

Arrange the following tool fabrication techniques from simple to compound in chronological order:

- A. Retouching
- B. Cylinder Hammer
- C. Direct Percussion
- D. Pressure Flaking
- E. Grinding Polishing

Choose the correct answer from the options given below:

1. A, B, C, D, E
2. E, A, D, B, C
3. C, B, D, A, E
4. E, B, C, B, A

**Options :**

920906105969. 1  
920906105970. 2  
920906105971. 3  
920906105972. 4

**Question Number : 93 Question Id : 92090626818 Question Type : MCQ Option Shuffling : No Is Question Mandatory : No Calculator : None Response Time : N.A Think Time : N.A Minimum Instruction Time : 0**

**Correct Marks : 4 Wrong Marks : 1**

निम्नलिखित औज़ार बनाने की तकनीकों को उनकी सरल से संयुक्त प्रकृति के आधार पर कालक्रमानुसार व्यवस्थित करें।

- A. परिष्करण
- B. बेलनाकार हथौड़ा
- C. प्रत्यक्ष आघात
- D. प्रेशर फ्लेकिंग
- E. घिसना व पॉलिश करना

नीचे दिए गए विकल्पों में से सबसे उपयुक्त उत्तर का चयन कीजिए:

- 1. A, B, C, D, E
- 2. E, A, D, B, C
- 3. C, B, D, A, E
- 4. E, B, C, B, A

**Options :**

920906105969. 1  
920906105970. 2  
920906105971. 3  
920906105972. 4

**Question Number : 94 Question Id : 92090626819 Question Type : MCQ Option Shuffling : No Is Question Mandatory : No Calculator : None Response Time : N.A Think Time : N.A Minimum Instruction Time : 0**

**Correct Marks : 4 Wrong Marks : 1**

Arrange the following archaeological sites on the basis of age of artifacts found at each site, starting from the oldest to the most recent:

- A. Brahmagiri
- B. Belan Valley
- C. Langhnaj
- D. Adamgarh
- E. Sohan

Choose the correct answer from the options given below:

- 1. B, C, A, D, E
- 2. E, B, D, C, A
- 3. B, A, C, D, E
- 4. A, E, B, D, C

**Options :**

- 920906105973. 1
- 920906105974. 2
- 920906105975. 3
- 920906105976. 4

**Question Number : 94 Question Id : 92090626819 Question Type : MCQ Option Shuffling : No Is Question Mandatory : No Calculator : None Response Time : N.A Think Time : N.A Minimum Instruction Time : 0**

**Correct Marks : 4 Wrong Marks : 1**

निम्न पुरातत्वाविज्ञान स्थलों को प्रत्येक स्थल पर पाये गए शिल्पों की आयु के आधार पर पुरातन से नवीनतम के क्रमानुसार व्यवस्थित करें।

- A. ब्रह्मगिरी
- B. बेलन घाटी
- C. लाँघनाज
- D. आदमगढ़
- E. सोहन

नीचे दिए गए विकल्पों में से सबसे उपयुक्त उत्तर का चयन कीजिए:

- 1. B, C, A, D, E
- 2. E, B, D, C, A
- 3. B, A, C, D, E
- 4. A, E, B, D, C

**Options :**

- 920906105973. 1

920906105974. 2

920906105975. 3

920906105976. 4

**Question Number : 95 Question Id : 92090626820 Question Type : MCQ Option Shuffling : No Is Question Mandatory : No Calculator : None Response Time : N.A Think Time : N.A Minimum Instruction Time : 0**

**Correct Marks : 4 Wrong Marks : 1**

Given below are two statements:

**Statement I** : The upper Palaeolithic is characterized by the emergence of art, population growth and new invention such as bow and arrow.

**Statement II** : The period of cultural history known as upper Palaeolithic dates from 40,000 years ago to about 14,000 years ago.

In the light of the above statements, choose the most appropriate answer from the options given below:

1. Both Statement I and Statement II are correct
2. Both Statement I and Statement II are incorrect
3. Statement I is correct but Statement II is incorrect
4. Statement I is incorrect but Statement II is correct

**Options :**

920906105977. 1

920906105978. 2

920906105979. 3

920906105980. 4

**Question Number : 95 Question Id : 92090626820 Question Type : MCQ Option Shuffling : No Is Question Mandatory : No Calculator : None Response Time : N.A Think Time : N.A Minimum Instruction Time : 0**

**Correct Marks : 4 Wrong Marks : 1**

नीचे दो कथन दिए हैं:

कथन I: उच्च पुरापाषाणकाल में कला, जनसंख्या वृद्धि तथा धनुष-बाण जैसे नए आविष्कारों के आविर्भाव की विशेषता पाई गई है।

कथन II: उच्च पुरापाषाणकाल के सांस्कृतिक इतिहास की अवधि 40,000 वर्ष पूर्व से लगभग 14,000 वर्ष पूर्व तक है।

उपरोक्त कथन के आलोक में, नीचे दिए गए विकल्पों में से सही उत्तर का चयन कीजिए:

1. कथन I और II दोनों सही हैं
2. कथन I और II दोनों गलत हैं
3. कथन I सही है, लेकिन कथन II गलत है
4. कथन I गलत है, लेकिन कथन II सही है

**Options :**

920906105977. 1

920906105978. 2

920906105979. 3

920906105980. 4

**Question Number : 96 Question Id : 92090626821 Question Type : MCQ Option Shuffling : No Is Question Mandatory : No Calculator : None Response Time : N.A Think Time : N.A Minimum Instruction Time : 0**

**Correct Marks : 4 Wrong Marks : 1**

Given below are two statements:

**Statement I:** Bhimbetka is the name of a cluster of a large number of caves and rock-shelters in the Raisen district of Madhya Pradesh

**Statement II:** In the caves and rock-shelters of Bhimbetka evidences of rice cultivation have been found

In the light of the above statements, choose the correct answer from the options given below:

1. Both Statement I and Statement II are true
2. Both Statement I and Statement II are false
3. Statement I is true but Statement II is false
4. Statement I is false but Statement II is true

**Options :**

920906105981. 1

920906105982. 2

920906105983. 3

920906105984. 4

**Question Number : 96 Question Id : 92090626821 Question Type : MCQ Option Shuffling : No Is Question Mandatory : No Calculator : None Response Time : N.A Think Time : N.A Minimum Instruction Time : 0**

**Correct Marks : 4 Wrong Marks : 1**

नीचे दो कथन दिए हैं:

कथन I: मध्य प्रदेश के रायसेन जिले में बड़ी संख्या में गुफाओं तथा चट्टानी आश्रयों के समूह का नाम भीमबेटका है।

कथन II: भीमबेटका की गुफाओं तथा चट्टानी आश्रयों में धान की खेती के साक्ष्य पाए गए हैं। उपरोक्त कथन के आलोक में, नीचे दिए गए विकल्पों में से सही उत्तर का चयन कीजिए:

1. कथन I और II दोनों सत्य हैं
2. कथन I और II दोनों असत्य हैं
3. कथन I सत्य है, लेकिन कथन II असत्य है
4. कथन I असत्य है, लेकिन कथन II सत्य है

**Options :**

920906105981. 1

920906105982. 2

920906105983. 3

920906105984. 4

**Question Number : 97 Question Id : 92090626822 Question Type : MCQ Option Shuffling : No Is Question Mandatory : No Calculator : None Response Time : N.A Think Time : N.A Minimum Instruction Time : 0**

**Correct Marks : 4 Wrong Marks : 1**

Which of the following are the major types of Megalith?

- A. Menhir
- B. Hand-Axe
- C. Dolmen
- D. Cist
- E. Chopper

Choose the correct answer from the options given below:

1. C, D and E only
2. A, B and C only
3. A, C and D only
4. A, B and E only

**Options :**

920906105985. 1



920906105986. 2

920906105987. 3

920906105988. 4

**Question Number : 97 Question Id : 92090626822 Question Type : MCQ Option Shuffling : No Is Question Mandatory : No Calculator : None Response Time : N.A Think Time : N.A Minimum Instruction Time : 0**

**Correct Marks : 4 Wrong Marks : 1**

निम्नलिखित में से मुख्य प्रकार के महापाषाण कौन से हैं?

- A. दीर्घाश्म स्तंभ
- B. हस्त- कुठार
- C. महापाषाण तुंब
- D. सिस्ट
- E. गँडास / घुरा

नीचे दिए गए विकल्पों में से सबसे उपयुक्त उत्तर का चयन कीजिए:

- 1. केवल C, D और E
- 2. केवल A, B और C
- 3. केवल A, C और D
- 4. केवल A, B और E

**Options :**

920906105985. 1

920906105986. 2

920906105987. 3

920906105988. 4

**Question Number : 98 Question Id : 92090626823 Question Type : MCQ Option Shuffling : No Is Question Mandatory : No Calculator : None Response Time : N.A Think Time : N.A Minimum Instruction Time : 0**

**Correct Marks : 4 Wrong Marks : 1**

Which of the following are the terms used to refer to Geological epoch?

- A. Eocene
- B. Cretaceous
- C. Ordovician
- D. Holocene

Choose the most appropriate answer from the options given below:

- 1. A and B only
- 2. A and C only
- 3. B and D only
- 4. A and D only

**Options :**

- 920906105989. 1
- 920906105990. 2
- 920906105991. 3
- 920906105992. 4

**Question Number : 98 Question Id : 92090626823 Question Type : MCQ Option Shuffling : No Is Question Mandatory : No Calculator : None Response Time : N.A Think Time : N.A Minimum Instruction Time : 0**

**Correct Marks : 4 Wrong Marks : 1**

निम्नलिखित में से किसे भूवैज्ञानिक युग के संदर्भ में उपयोग में लाया जाता है?

- A. आदिनूतन युग
- B. करीटेशियन
- C. ओरडोविशियन
- D. अभिनव युग

नीचे दिए गए विकल्पों में से सबसे उपयुक्त उत्तर का चयन कीजिए:

- 1. केवल A और B
- 2. केवल A और C
- 3. केवल A और D
- 4. केवल A, B, C और D

**Options :**

- 920906105989. 1
- 920906105990. 2
- 920906105991. 3
- 920906105992. 4

Question Number : 99 Question Id : 92090626824 Question Type : MCQ Option Shuffling : No Is Question Mandatory : No Calculator : None Response Time : N.A Think Time : N.A Minimum Instruction Time : 0

Correct Marks : 4 Wrong Marks : 1

Match List I with List II

LIST I	LIST II
A. Kalibangan	I. Rajasthan
B. Harappa	II. Haryana
C. Lothal	III. Gujarat
D. Banwali	IV. Pakistan

1. A-I, B-II, C-IV, D-III
2. A-III, B-IV, C-I, D-II
3. A-I, B-IV, C-III, D-II
4. A-II, B-I, C-III, D-IV

Options :

920906105993. 1  
920906105994. 2  
920906105995. 3  
920906105996. 4

Question Number : 99 Question Id : 92090626824 Question Type : MCQ Option Shuffling : No Is Question Mandatory : No Calculator : None Response Time : N.A Think Time : N.A Minimum Instruction Time : 0

Correct Marks : 4 Wrong Marks : 1

सूची I का सूची II से मिलान कीजिए

सूची I	सूची II
A. कालीबंगन	I. राजस्थान
B. हड़प्पा	II. हरियाणा
C. लोथल	III. गुजरात
D. बनवली	IV. पाकिस्तान

1. A-I, B-II, C-IV, D-III
2. A-III, B-IV, C-I, D-II
3. A-I, B-IV, C-III, D-II
4. A-II, B-I, C-III, D-IV

Options :

920906105993. 1

920906105994. 2

920906105995. 3

920906105996. 4

**Question Number : 100 Question Id : 92090626825 Question Type : MCQ Option Shuffling : No Is  
Question Mandatory : No Calculator : None Response Time : N.A Think Time : N.A Minimum  
Instruction Time : 0**

**Correct Marks : 4 Wrong Marks : 1**

Match List I with List II

LIST I

LIST II

- |                 |                   |
|-----------------|-------------------|
| A. Palaeolithic | I. Daojali Hading |
| B. Mesolithic   | II. Langhnaj      |
| C. Neolithic    | III. Ahar         |
| D. Chalcolithic | IV. Attirampakkam |

1. A-I, B-II, C-IV, D-III
2. A-IV, B-II, C-I, D-III
3. A-IV, B-II, C-III, D-I
4. A-IV, B-III, C-II, D-I

**Options :**

920906105997. 1

920906105998. 2

920906105999. 3

920906106000. 4

**Question Number : 100 Question Id : 92090626825 Question Type : MCQ Option Shuffling : No Is  
Question Mandatory : No Calculator : None Response Time : N.A Think Time : N.A Minimum  
Instruction Time : 0**

**Correct Marks : 4 Wrong Marks : 1**

सूची I का सूची II से मिलान कीजिए

सूची I	सूची II
A. पुरापाषाण काल	I. दाओजली हेडिंग
B. मध्यपाषाण काल	II. लाँगनाज
C. नव पाषाण काल	III. अहर
D. ताम्रप्रस्तर युमीन	IV. अट्टीरमपक्कम

1. A-I, B-II, C-IV, D-III
2. A-IV, B-II, C-I, D-III
3. A-IV, B-II, C-III, D-I
4. A-IV, B-III, C-II, D-I

**Options :**

920906105997. 1
920906105998. 2
920906105999. 3
920906106000. 4