

Telangana State Council Higher Education

Notations :

- 1.Options shown in green color and with ✓ icon are correct.
- 2.Options shown in red color and with ✗ icon are incorrect.

Question Paper Name :	EDCET 2024 23rd May 2024 Shift 1
Subject Name :	EDCET 2024
Creation Date :	2024-05-23 15:33:37
Duration :	120
Total Marks :	150
Display Marks:	No
Share Answer Key With Delivery Engine :	Yes
Actual Answer Key :	Yes
Calculator :	None
Magnifying Glass Required? :	No
Ruler Required? :	No
Eraser Required? :	No
Scratch Pad Required? :	No
Rough Sketch/Notepad Required? :	No
Protractor Required? :	No
Show Watermark on Console? :	Yes
Highlighter :	No
Auto Save on Console?	Yes
Change Font Color :	No
Change Background Color :	No
Change Theme :	No
Help Button :	No

Show Reports : No
Show Progress Bar : No

TS EdCET

Group Number : 1
Group Id : 3819064
Group Maximum Duration : 0
Group Minimum Duration : 120
Show Attended Group? : No
Edit Attended Group? : No
Break time : 0
Group Marks : 150
Is this Group for Examiner? : No
Examiner permission : Cant View
Show Progress Bar? : No

Subject

Section Id : 38190616
Section Number : 1
Section type : Online
Mandatory or Optional : Mandatory
Number of Questions : 60
Number of Questions to be attempted : 60
Section Marks : 60
Enable Mark as Answered Mark for Review and Clear Response : Yes
Maximum Instruction Time : 0
Sub-Section Number : 1

Sub-Section Id : 38190619

Question Shuffling Allowed : Yes

Is Section Default? : null

Question Number : 1 Question Id : 381906454 Question Type : MCQ Option Shuffling : No
Display Question Number : Yes Is Question Mandatory : No Calculator : None Response Time
: N.A Think Time : N.A Minimum Instruction Time : 0

Correct Marks : 1 Wrong Marks : 0

Among the following, a number that is NOT an irrational number

ఈ క్రింది వాటిలో కరణీయసంఖ్య కాని సంఖ్య ఏది?

Options :

1. ✘ $\sqrt{2}$

2. ✘ π

3. ✘ 1.12112111211112

4. ✔ $1.\overline{36}$

Question Number : 2 Question Id : 381906455 Question Type : MCQ Option Shuffling : No
Display Question Number : Yes Is Question Mandatory : No Calculator : None Response Time
: N.A Think Time : N.A Minimum Instruction Time : 0

Correct Marks : 1 Wrong Marks : 0

The value of $2 \log 10 - \log 4 - \log 25$ is

$2 \log 10 - \log 4 - \log 25$ విలువ ఎంత?

Options :

1. ✔ 0

2. ✖ 1

3. ✖ 10

4. ✖ 100

Question Number : 3 Question Id : 381906456 Question Type : MCQ Option Shuffling : No
Display Question Number : Yes Is Question Mandatory : No Calculator : None Response Time
: N.A Think Time : N.A Minimum Instruction Time : 0

Correct Marks : 1 Wrong Marks : 0

If the polynomial $p(x) = x^3 - x^2 + 3x + k$ is divided by $(x - 1)$,
the remainder obtained is 3, then the value of 'k' is

బహుపది $p(x) = x^3 - x^2 + 3x + k$ ని $(x - 1)$ చే భాగించగా వచ్చు శేషం 3,
అయిన 'k' విలువ ఎంత?

Options :

1. ✔ 0

2. ✖ 1

3. ✖ 3

4. ✖ -3

Question Number : 4 Question Id : 381906457 Question Type : MCQ Option Shuffling : No
Display Question Number : Yes Is Question Mandatory : No Calculator : None Response Time

: N.A Think Time : N.A Minimum Instruction Time : 0

Correct Marks : 1 Wrong Marks : 0

Among the following, a number which is exactly divisible by 8
ఈ క్రింది వాటిలో 8 చే నిశ్శేషంగా భాగించబడే సంఖ్య ఏది?

Options :

1. ✘ 32466

2. ✘ 32476

3. ✘ 32486

4. ✔ 32456

Question Number : 5 Question Id : 381906458 Question Type : MCQ Option Shuffling : No

Display Question Number : Yes Is Question Mandatory : No Calculator : None Response Time

: N.A Think Time : N.A Minimum Instruction Time : 0

Correct Marks : 1 Wrong Marks : 0

The value of $\sec 16^\circ \operatorname{cosec} 74^\circ - \cot 74^\circ \tan 16^\circ$ is
 $\sec 16^\circ \operatorname{cosec} 74^\circ - \cot 74^\circ \tan 16^\circ$ విలువ ఎంత?

Options :

1. ✔ 0

2. ✘ 1

3. ✘ 2

4. ✘ $\frac{1}{2}$

Question Number : 6 Question Id : 381906459 Question Type : MCQ Option Shuffling : No
Display Question Number : Yes Is Question Mandatory : No Calculator : None Response Time
: N.A Think Time : N.A Minimum Instruction Time : 0

Correct Marks : 1 Wrong Marks : 0

The value of 'k' for which the pair of equations $3x + 2y = 6$ and $9x + ky = 7$ will become inconsistent is

$3x + 2y = 6$ మరియు $9x + ky = 7$ సమీకరణాల జత అసంగత సమీకరణాలు కావడానికి 'k' విలువ ఎంత ఉండాలి?

Options :

1. ✘ 8

2. ✘ 7

3. ✔ 6

4. ✘ 5

Question Number : 7 Question Id : 381906460 Question Type : MCQ Option Shuffling : No
Display Question Number : Yes Is Question Mandatory : No Calculator : None Response Time
: N.A Think Time : N.A Minimum Instruction Time : 0

Correct Marks : 1 Wrong Marks : 0

If a number is 132 smaller than its square, then the number is
ఒక సంఖ్య, దాని వర్గము కన్నా 132 తక్కువ, అయిన ఆ సంఖ్య ఏది?

Options :

1. ✘ 11

2. ✘ 8

3. ✘ 9

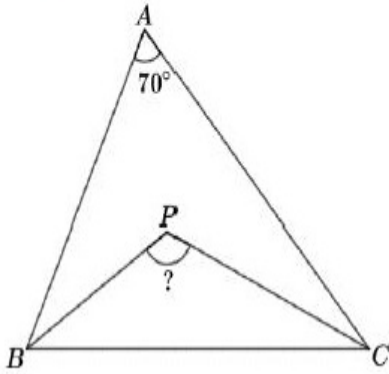
4. ✔ 12

Question Number : 8 Question Id : 381906461 Question Type : MCQ Option Shuffling : No
Display Question Number : Yes Is Question Mandatory : No Calculator : None Response Time
: N.A Think Time : N.A Minimum Instruction Time : 0

Correct Marks : 1 Wrong Marks : 0

In triangle ABC, $\angle A = 70^\circ$. If BP and CP are angular bisectors of $\angle B$ and $\angle C$ respectively, then the measure of $\angle BPC$ is

ప్రభుజం ABCలో $\angle A = 70^\circ$, BP మరియు CP లు వరుసగా $\angle B$ మరియు $\angle C$ ల కోణ సమద్విఖండన రేఖలు అయిన $\angle BPC$ కొలత ఎంత?



Options :

1. ✘ 70°

2. ✔ 125°

3. ✘ 55°

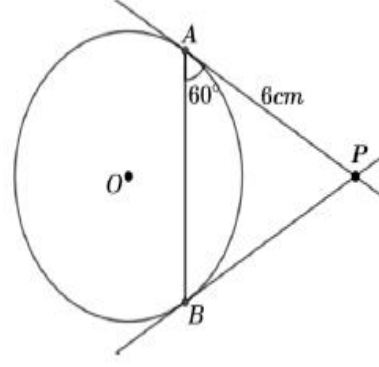
4. ✘ 140°

Question Number : 9 Question Id : 381906462 Question Type : MCQ Option Shuffling : No
Display Question Number : Yes Is Question Mandatory : No Calculator : None Response Time
: N.A Think Time : N.A Minimum Instruction Time : 0

Correct Marks : 1 Wrong Marks : 0

In the given figure, PA and PB are tangents to the circle with center 'O'. If PA = 6 cm and $\angle PAB = 60^\circ$ then the length of chord AB (in cm) is

ఇచ్చిన పటంలో, 'O' కేంద్రంగా గల వృత్తానికి PA మరియు PBలు స్పర్శ రేఖలు. PA = 6 సెం. మీ. మరియు $\angle PAB = 60^\circ$ అయిన జ్యా AB పొడవు (సెం. మీ. లలో)



Options :

1. ✔ 6

2. ✘ 5

3. ✘ 7

4. ✘ 4

Question Number : 10 Question Id : 381906463 Question Type : MCQ Option Shuffling : No
Display Question Number : Yes Is Question Mandatory : No Calculator : None Response Time
: N.A Think Time : N.A Minimum Instruction Time : 0

Correct Marks : 1 Wrong Marks : 0

The common difference of an arithmetic progression in which

$$a_{25} - a_{12} = -52 \text{ is}$$

ఒక అంక శ్రేణిలో, $a_{25} - a_{12} = -52$ అయిన దాని సామాన్య భేదము ఎంత?

Options :

1. ✓ - 4

2. ✗ 4

3. ✗ 3

4. ✗ -3

Question Number : 11 Question Id : 381906464 Question Type : MCQ Option Shuffling : No

Display Question Number : Yes Is Question Mandatory : No Calculator : None Response Time

: N.A Think Time : N.A Minimum Instruction Time : 0

Correct Marks : 1 Wrong Marks : 0

If $2^{7x-7} = 1$, then the value of 'x' is

$2^{7x-7} = 1$ అయిన 'x' విలువ ఎంత?

Options :

1. ✓ 1

2. ✗ 2

3. ✗ 0

4. ✘ 3

Question Number : 12 Question Id : 381906465 Question Type : MCQ Option Shuffling : No
Display Question Number : Yes Is Question Mandatory : No Calculator : None Response Time
: N.A Think Time : N.A Minimum Instruction Time : 0

Correct Marks : 1 Wrong Marks : 0

If the perimeters of two similar triangles are 20 cm and 30 cm respectively,
then the ratio of their areas in the same order is

రెండు సరూప త్రిభుజాల చుట్టుకొలతలు వరుసగా 20 సెం.మీ. మరియు

30 సెం.మీ., అయిన అదే క్రమంలో వాటి వైశాల్యాలు ఏ నిష్పత్తిలో ఉంటాయి?

Options :

1. ✘ 2 : 3

2. ✘ 3 : 2

3. ✔ 4 : 9

4. ✘ 9 : 4

Question Number : 13 Question Id : 381906466 Question Type : MCQ Option Shuffling : No
Display Question Number : Yes Is Question Mandatory : No Calculator : None Response Time
: N.A Think Time : N.A Minimum Instruction Time : 0

Correct Marks : 1 Wrong Marks : 0

The compound interest on ₹ 1000 at 10 % per annum compounded annually
for 2 years is

₹ 1000 లపై సంవత్సరానికి 10 % వడ్డీ రేటు చొప్పున, సంవత్సరానికి ఒకసారి వడ్డీ
తిరుగకట్టు పద్ధతిలో 2 సంవత్సరాలకు అయ్యే చక్ర వడ్డీ ఎంత?

Options :

1. ✘ ₹ 1200

2. ✘ ₹ 200

3. ✔ ₹ 210

4. ✘ ₹ 1210

Question Number : 14 Question Id : 381906467 Question Type : MCQ Option Shuffling : No Display Question Number : Yes Is Question Mandatory : No Calculator : None Response Time : N.A Think Time : N.A Minimum Instruction Time : 0

Correct Marks : 1 Wrong Marks : 0

Sum of the distances from A (3,4) to X axis and from B (5,7) to Y axis is

బిందువు A (3,4) నుండి X అక్షానికి, బిందువు B (5,7) నుండి Y అక్షానికి గల దూరాల మొత్తం ఎంత?

Options :

1. ✘ 8

2. ✘ 10

3. ✘ 11

4. ✔ 9

Question Number : 15 Question Id : 381906468 Question Type : MCQ Option Shuffling : No
Display Question Number : Yes Is Question Mandatory : No Calculator : None Response Time
: N.A Think Time : N.A Minimum Instruction Time : 0

Correct Marks : 1 Wrong Marks : 0

If a car travels 80 km with 5 liters of petrol, then distance (in km) covered by it with 15 liters of petrol is
ఒక కారు 5 లీటర్ల పెట్రోలు తో 80 కి.మీ.దూరం ప్రయాణించినపుడు, 15 లీటర్ల పెట్రోలు తో అది ఎంత దూరం (కి.మీ.) ప్రయాణించగలదు?

Options :

1. ✘ 400

2. ✔ 240

3. ✘ 200

4. ✘ 100

Question Number : 16 Question Id : 381906469 Question Type : MCQ Option Shuffling : No
Display Question Number : Yes Is Question Mandatory : No Calculator : None Response Time
: N.A Think Time : N.A Minimum Instruction Time : 0

Correct Marks : 1 Wrong Marks : 0

If a card is drawn from a well shuffled deck of 52 cards, then the probability of
getting a black king is

బాగుగా కలుపబడిన 52 ముక్కలుగల పేకకట్టనుండి, ఒక పేక ముక్కను యాదృచ్ఛికంగా
తీస్తే, అది నల్ల రంగు రాజు అయ్యే సంభావ్యత ఏమి?

Options :

1. ✘ $\frac{1}{52}$

2. ✘

$$\frac{1}{4}$$

3. ✓ $\frac{1}{26}$

4. ✗ $\frac{1}{13}$

Question Number : 17 Question Id : 381906470 Question Type : MCQ Option Shuffling : No
Display Question Number : Yes Is Question Mandatory : No Calculator : None Response Time
: N.A Think Time : N.A Minimum Instruction Time : 0

Correct Marks : 1 Wrong Marks : 0

A sphere is exactly fitted in a cube of edge 'a' units, then the volume of the sphere (in cubic units) is

'a' యూనిట్లు అంచు పొడవు గల ఒక సమఘనములో ఒక గోళము సరిగ్గా అమరినట్లున్న, ఆ గోళము ఘనపరిమాణము (ఘనపు యూనిట్లలో) ఎంత?

Options :

1. ✗ $\frac{1}{3}\pi a^3$

2. ✓ $\frac{1}{6}\pi a^3$

3. ✗ $\frac{4}{3}\pi a^3$

4. ✗ $\frac{8}{3}\pi a^3$

Question Number : 18 Question Id : 381906471 Question Type : MCQ Option Shuffling : No
Display Question Number : Yes Is Question Mandatory : No Calculator : None Response Time
: N.A Think Time : N.A Minimum Instruction Time : 0

Correct Marks : 1 Wrong Marks : 0

If $A = \{x: x \in N, 2 < x \leq 7\}$, then the roster form of set A is

$A = \{x: x \in N, 2 < x \leq 7\}$ అయిన సమితి A యొక్క జాబితా రూపము ఏది?

Options :

1. ✘ $\{2, 3, 4, 5, 6, 7\}$

2. ✘ $\{3, 4, 5, 6\}$

3. ✘ $\{2, 3, 4, 5, 6\}$

4. ✔ $\{3, 4, 5, 6, 7\}$

Question Number : 19 Question Id : 381906472 Question Type : MCQ Option Shuffling : No
Display Question Number : Yes Is Question Mandatory : No Calculator : None Response Time
: N.A Think Time : N.A Minimum Instruction Time : 0

Correct Marks : 1 Wrong Marks : 0

The mean of five (5) observations is 12. If 4 is subtracted from each observation,
then the mean of the new observations formed is

5 రాశుల సగటు 12. ప్రతీ రాశి నుండి 4ను తీసివేయగా ఏర్పడిన నూతన రాశుల సగటు ఎంత?

Options :

1. ✘ 9

2. ✘ 7

3. ✔ 8

4. ✘ 16

Question Number : 20 Question Id : 381906473 Question Type : MCQ Option Shuffling : No
Display Question Number : Yes Is Question Mandatory : No Calculator : None Response Time
: N.A Think Time : N.A Minimum Instruction Time : 0

Correct Marks : 1 Wrong Marks : 0

Marked price of a shirt is ₹ 1450. If 10% discount is given, then the selling price of the shirt is

ఒక చొక్కా ప్రకటనవెల ₹ 1450. దానిపై 10% డిస్కాంట్ ఇచ్చిన, ఆ చొక్కా అమ్మకపు వెల ఎంత?

Options :

1. ✘ ₹ 1350

2. ✔ ₹ 1305

3. ✘ ₹ 1035

4. ✘ ₹ 1053

Question Number : 21 Question Id : 381906474 Question Type : MCQ Option Shuffling : No
Display Question Number : Yes Is Question Mandatory : No Calculator : None Response Time
: N.A Think Time : N.A Minimum Instruction Time : 0

Correct Marks : 1 Wrong Marks : 0

Choose the correct statements from the following about the nature of poles of magnets.

అయస్కాంత ధృవాల స్వభావానికి సంబంధించి క్రింది వాటిలో సరైనవి ఏవి?

- i. South pole attracts South pole
దక్షిణ ధృవం దక్షిణ ధృవాన్ని ఆకర్షిస్తుంది
- ii. South pole repels South pole
దక్షిణ ధృవం దక్షిణ ధృవాన్ని వికర్షిస్తుంది
- iii. North pole attracts North pole
ఉత్తర ధృవం ఉత్తర ధృవాన్ని ఆకర్షిస్తుంది
- iv. North pole repels North pole
ఉత్తర ధృవం ఉత్తర ధృవాన్ని వికర్షిస్తుంది

Options :

1. ✘ i,iii

2. ✘ i, iv

3. ✘ ii, iii

4. ✔ ii, iv

Question Number : 22 Question Id : 381906475 Question Type : MCQ Option Shuffling : No

Display Question Number : Yes Is Question Mandatory : No Calculator : None Response Time

: N.A Think Time : N.A Minimum Instruction Time : 0

Correct Marks : 1 Wrong Marks : 0

$Zn + Hcl \rightarrow Zncl_2 + H_2$ is an example for

$Zn + Hcl \rightarrow Zncl_2 + H_2$ అనునది ఏ రకమైన చర్యకు ఉదాహరణ?

Options :

1. ✘

Chemical combination

రసాయన సంయోగం

Chemical decomposition

2. ✖ రసాయన వియోగం

Displacement reaction

3. ✔ స్థానభ్రంశ ప్రతిచర్య

Double displacement reaction

4. ✖ ద్విద్వి వియోగ ప్రతిచర్య

Question Number : 23 Question Id : 381906476 Question Type : MCQ Option Shuffling : No
Display Question Number : Yes Is Question Mandatory : No Calculator : None Response Time
: N.A Think Time : N.A Minimum Instruction Time : 0

Correct Marks : 1 Wrong Marks : 0

We see the formation of small drops of water on the outer surface of a glass which has chilled water in it. This is an example for
అతి శీతలమైన నీటితో నింపబడిన గ్లాసు యొక్క బయటి తలంపై నీటి బిందువులు ఏర్పడటం మనం గమనిస్తూ ఉంటాం. ఇది క్రింది వాటిలో దేనిని సూచిస్తుంది ?

Options :

Evaporation

1. ✖ భాష్పీ భవనం

Condensation

2. ✔ సాంద్రీకరణం

3. ✖ Melting
ద్రవీభవనం

4. ✖ Crystallization
స్పటికీకరణం

Question Number : 24 Question Id : 381906477 Question Type : MCQ Option Shuffling : No
Display Question Number : Yes Is Question Mandatory : No Calculator : None Response Time
: N.A Think Time : N.A Minimum Instruction Time : 0

Correct Marks : 1 Wrong Marks : 0

Symbol for Sodium element
'సోడియం' మూలకం యొక్క సంకేతం ఏది?

Options :

1. ✖ S

2. ✖ So

3. ✖ N

4. ✔ Na

Question Number : 25 Question Id : 381906478 Question Type : MCQ Option Shuffling : No
Display Question Number : Yes Is Question Mandatory : No Calculator : None Response Time
: N.A Think Time : N.A Minimum Instruction Time : 0

Correct Marks : 1 Wrong Marks : 0

According to the driver of a moving bus, the passenger in that bus is
కదులుతున్న బస్సులో డ్రైవర్ పరంగా ప్రయాణికుడు ఆ బస్సులో ఎలా ఉంటాడు?

Options :

1. ✘ Moving with acceleration
త్వరణంతో చలిస్తుంటాడు
2. ✘ Moving with Uniform speed
సమవేగంతో చలిస్తుంటాడు
3. ✘ Moving with Non-Uniform speed
అసమాన వేగంతో చలిస్తుంటాడు
4. ✔ At rest
నిశ్చల స్థితిలో ఉంటాడు

Question Number : 26 Question Id : 381906479 Question Type : MCQ Option Shuffling : No
Display Question Number : Yes Is Question Mandatory : No Calculator : None Response Time
: N.A Think Time : N.A Minimum Instruction Time : 0

Correct Marks : 1 Wrong Marks : 0

Units used for temperature in clinical thermometer
ధర్మామీటర్ లో ఉష్ణోగ్రత కు వాడే ప్రమాణాలు

Options :

1. ✘ $^{\circ}C$
2. ✔ $^{\circ}F$
3. ✘ $^{\circ}K$

4. ✖ K

Question Number : 27 Question Id : 381906480 Question Type : MCQ Option Shuffling : No
Display Question Number : Yes Is Question Mandatory : No Calculator : None Response Time
: N.A Think Time : N.A Minimum Instruction Time : 0

Correct Marks : 1 Wrong Marks : 0

Which of the following is called artificial silk
క్రింది వాటిలో కృత్రిమ పట్టు గా పిలువబడేది ఏది?

Options :

1. ✖ Nylon
నైలాన్

2. ✖ Polyester
పాలిస్టర్

3. ✔ Rayon
రేయాన్

4. ✖ Acrylic
అక్రిలిక్

Question Number : 28 Question Id : 381906481 Question Type : MCQ Option Shuffling : No
Display Question Number : Yes Is Question Mandatory : No Calculator : None Response Time
: N.A Think Time : N.A Minimum Instruction Time : 0

Correct Marks : 1 Wrong Marks : 0

The reason for a rolling ball on the ground come to rest after some time
నేలపై దొర్లుతున్న బంతి కొంత సేపటి తర్వాత ఆగిపోవడానికి కారణం ఏమిటి?

Options :

1. ✘ Gravitational force
గురుత్వాకర్షణ బలం

2. ✔ Friction
ఘర్షణ

3. ✘ Lack of acceleration
త్వరణం లేకపోవడం

4. ✘ Lack of velocity
వేగం లేకపోవడం

Question Number : 29 Question Id : 381906482 Question Type : MCQ Option Shuffling : No
Display Question Number : Yes Is Question Mandatory : No Calculator : None Response Time
: N.A Think Time : N.A Minimum Instruction Time : 0

Correct Marks : 1 Wrong Marks : 0

The substances that turn blue litmus to red litmus are
నీలి లిట్మస్ ను ఎరుపు లిట్మస్ గా మార్చే పదార్థాలు ఎలా ఉంటాయి?

Options :

1. ✔ Acidic in nature
అమ్ల స్వభావాన్ని కలిగి ఉంటాయి

2. ✘ Basic in nature
క్షార స్వభావాన్ని కలిగి ఉంటాయి

Neutral in nature

3. ✖ తటస్థ స్వభావాన్ని కలిగి ఉంటాయి

Metallic in nature

4. ✖ లోహ స్వభావాన్ని కలిగి ఉంటాయి

Question Number : 30 Question Id : 381906483 Question Type : MCQ Option Shuffling : No
Display Question Number : Yes Is Question Mandatory : No Calculator : None Response Time
: N.A Think Time : N.A Minimum Instruction Time : 0

Correct Marks : 1 Wrong Marks : 0

Sound do not travel in
క్రింది వాటిలో దేనిలో ధ్వని ప్రసరించదు?

Options :

Vacuum

1. ✔ శూన్యం

Water

2. ✖ నీరు

Wood

3. ✖ చెక్క

Air

4. ✖ గాలి

Question Number : 31 Question Id : 381906484 Question Type : MCQ Option Shuffling : No
Display Question Number : Yes Is Question Mandatory : No Calculator : None Response Time

: N.A Think Time : N.A Minimum Instruction Time : 0

Correct Marks : 1 Wrong Marks : 0

Which among the following is NOT a water borne disease?
కింది వాటిలో కలుషితమైన నీటి ద్వారా సంక్రమించని వ్యాధి ఏది?

Options :

1. ✘ Cholera
కలరా
2. ✘ Typhoid
టైఫాయిడ్
3. ✘ Dysentery
విరేచనాలు
4. ✔ Pneumonia
న్యూమోనియా

Question Number : 32 Question Id : 381906485 Question Type : MCQ Option Shuffling : No
Display Question Number : Yes Is Question Mandatory : No Calculator : None Response Time
: N.A Think Time : N.A Minimum Instruction Time : 0

Correct Marks : 1 Wrong Marks : 0

Identify the INCORRECT pair from the following
కింది వాటిలో సరికాని జతను గుర్తించండి

Options :

1. ✘ Gibberellin - Stimulation of flowering
జిబ్బెరిల్లిన్ పుష్పించడాన్ని ప్రేరేపించడం

2. ✓ Ethylene - Promotes aging of leaves
ఇథిలీన్ అకుల వయోవృద్ధిని ప్రోత్సహించడం

3. ✘ Abscisic acid - Closing of stomata
అబ్సిసిక్ ఆమ్లం పత్ర రంధ్రాలు మూసుకునేలా చేయడం

4. ✘ Cytokinins - Opening of stomata
సైటోకైనిన్స్ పత్ర రంధ్రాలు తెరుచుకునేలా చేయడం

Question Number : 33 Question Id : 381906486 Question Type : MCQ Option Shuffling : No
Display Question Number : Yes Is Question Mandatory : No Calculator : None Response Time
: N.A Think Time : N.A Minimum Instruction Time : 0

Correct Marks : 1 Wrong Marks : 0

The part of Human sperm cell occupied by numerous mitochondria is
మానవ శుక్రకణంలో ఎక్కువ మైటోకాండ్రీయాలు కలిగి ఉన్న భాగం ఏది?

Options :

1. ✘ Tail
తోక

2. ✘ Neck
మెడ

3. ✘ Head
తల

4. ✓

Middle piece

మధ్య భాగం

Question Number : 34 Question Id : 381906487 Question Type : MCQ Option Shuffling : No
Display Question Number : Yes Is Question Mandatory : No Calculator : None Response Time
: N.A Think Time : N.A Minimum Instruction Time : 0

Correct Marks : 1 Wrong Marks : 0

Identify the CORRECT Sentence from the following :

కింది వాటిలో సరైన వాక్యాన్ని గుర్తించండి.

Options :

1. ✘ Marine mammals have blubber for losing heat from their body
సముద్రపు క్షీరదాలు వేడి నుంచి కాపాడుకొనుటకు ఉష్ణ బంధకంలాంటి కొవ్వు పొరని కలిగి ఉంటాయి

2. ✘ Shrinking of lungs is disadvantage to aquatic mammals
సముద్ర లోతులలో ఈదే క్షీరదాల ఊపిరితిత్తులు కుంచించుకు పొవడం వాటికి ప్రతికూలంగా ఉంటుంది

3. ✔ Bottom dwellers rely mostly on smell and auditory senses rather than vision
to acquire food
నీటి అడుగు భాగంలోని జంతువులు అహార సేకరణ కోసం దృష్టి కంటే వినిపిడి జ్ఞానం పైన ఎక్కువ
ఆధారపడుతాయి

4. ✘ For every 10 metres depth in the sea water pressure decreases by one atmosphere
సముద్రపు నీటిలో ప్రతి 10మీ.లకు ఒకటి చొప్పున వాతావరణ పీడనం తగ్గుతుంది

Question Number : 35 Question Id : 381906488 Question Type : MCQ Option Shuffling : No
Display Question Number : Yes Is Question Mandatory : No Calculator : None Response Time
: N.A Think Time : N.A Minimum Instruction Time : 0

Correct Marks : 1 Wrong Marks : 0

Which of the following plant is **NOT** endangered species?

కింది వాటిలో అంతరించే ప్రమాదం ఉన్న మొక్క కానిది ఏది?

Options :

1. ✘ Orchid
అర్కిడ్

2. ✔ Water hyacinth
గుర్రపుడెక్క

3. ✘ Rouwalfia serpentina
సర్పగంధి

4. ✘ Cycas
సైకస్

Question Number : 36 Question Id : 381906489 Question Type : MCQ Option Shuffling : No

Display Question Number : Yes Is Question Mandatory : No Calculator : None Response Time

: N.A Think Time : N.A Minimum Instruction Time : 0

Correct Marks : 1 Wrong Marks : 0

The percentage of Nitrogen gas in the air is ...

గాలిలో నత్రజని శాతం ఎంత ఉంటుంది?

Options :

1. ✘ 21 percent
21 శాతం

2. ✔

78 percent

78 శాతం

87 percent

87 శాతం

3. ✖

12 percent

12 శాతం

4. ✖

Question Number : 37 Question Id : 381906490 Question Type : MCQ Option Shuffling : No
Display Question Number : Yes Is Question Mandatory : No Calculator : None Response Time
: N.A Think Time : N.A Minimum Instruction Time : 0

Correct Marks : 1 Wrong Marks : 0

Dandelion plant seeds are dispersed through

డాండెలైన్ మొక్క విత్తనాలు దీని ద్వారా వ్యాప్తి చెందుతాయి

Options :

Wind

1. ✔ గాలి

Water

2. ✖ నీరు

Animals

3. ✖ జంతువులు

Bursting of fruits

4. ✖ పండ్లు పగలడం ద్వారా

Question Number : 38 Question Id : 381906491 Question Type : MCQ Option Shuffling : No
Display Question Number : Yes Is Question Mandatory : No Calculator : None Response Time
: N.A Think Time : N.A Minimum Instruction Time : 0

Correct Marks : 1 Wrong Marks : 0

Identify the CORRECT pair from the following
కింది వాటిలో సరైన జతను గుర్తించండి

Options :

1. ✘ Tocopherol - Severe bleeding
టోకోఫెరాల్ తీవ్ర రక్తస్రావం

2. ✘ Ascorbic acid - Anaemia
అస్కార్బిక్ ఆమ్లం రక్తహీనత

3. ✔ Retinol - Night blindness
రెటినాల్ రేచీకటి

4. ✘ Calciferol - Sterility
కాల్సిఫెరాల్ వంధ్యత్వం

Question Number : 39 Question Id : 381906492 Question Type : MCQ Option Shuffling : No
Display Question Number : Yes Is Question Mandatory : No Calculator : None Response Time
: N.A Think Time : N.A Minimum Instruction Time : 0

Correct Marks : 1 Wrong Marks : 0

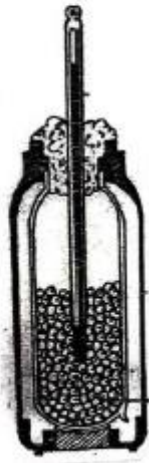
Lichens are formed by the symbiotic association of
ఏ సమూహాల సహజీవన సంబంధంతో లైకెన్ లు ఏర్పడుతాయి ?

Options :

1. ✓ Algae and fungi
శైవలాలు మరియు శిలీంధ్రాలు
2. ✘ Bacteria and virus
బ్యాక్టీరియాలు మరియు వైరస్లు
3. ✘ Fungi and bacteria
శిలీంధ్రాలు మరియు బ్యాక్టీరియాలు
4. ✘ Virus and Algae
వైరస్లు మరియు శైవలాలు

Question Number : 40 Question Id : 381906493 Question Type : MCQ Option Shuffling : No
Display Question Number : Yes Is Question Mandatory : No Calculator : None Response Time
: N.A Think Time : N.A Minimum Instruction Time : 0
Correct Marks : 1 Wrong Marks : 0

The experiment given in the picture illustrates
చిత్రంలో ఇచ్చిన ప్రయోగం దీనిని వివరిస్తుంది



Options :

1. ✘

Light is necessary for photosynthesis
కిరణజన్య సంయోగక్రియలో కాంతి అవసరం

2. ✘ Carbondioxide is necessary for photosynthesis
కిరణజన్య సంయోగక్రియలో కార్బన్ డైఆక్సైడ్ అవసరం

3. ✘ Oxygen is released during respiration
శ్వాసక్రియలో ఆక్సిజన్ విడుదలవుతుంది

4. ✔ Heat is evolved during respiration
శ్వాస క్రియలో ఉష్ణం విడుదలవుతుంది

Question Number : 41 Question Id : 381906494 Question Type : MCQ Option Shuffling : No
Display Question Number : Yes Is Question Mandatory : No Calculator : None Response Time
: N.A Think Time : N.A Minimum Instruction Time : 0

Correct Marks : 1 Wrong Marks : 0

Which of the following towns is located in the lower Telangana plateaus?

ఈ క్రింది పట్టణం దిగువ తెలంగాణ పీఠభూమి ఏ ప్రాంతంలో ఉన్నది?

Options :

1. ✔ Warangal
వరంగల్

2. ✘ Nalgonda
నల్గొండ

3. ✘

Mahabubnagar

మహబూబ్ నగర్

Hyderabad

హైదరాబాద్

4. ✖

Question Number : 42 Question Id : 381906495 Question Type : MCQ Option Shuffling : No
Display Question Number : Yes Is Question Mandatory : No Calculator : None Response Time
: N.A Think Time : N.A Minimum Instruction Time : 0

Correct Marks : 1 Wrong Marks : 0

Mehrauli Iron Pillar is in:

మెహ్రౌలి ఇనుప స్తంభం గల ప్రదేశం :

Options :

Fathepur Sikri

ఫతేపూర్ సిక్రి

1. ✖

Qutub Minar Complex

ఖుతుబ్ మినార్ కాంప్లెక్స్

2. ✔

Red fort

ఎర్ర కోట

3. ✖

Sanchi Stupa

సాంచి స్థూపం

4. ✖

Question Number : 43 Question Id : 381906496 Question Type : MCQ Option Shuffling : No
Display Question Number : Yes Is Question Mandatory : No Calculator : None Response Time
: N.A Think Time : N.A Minimum Instruction Time : 0

Correct Marks : 1 Wrong Marks : 0

Find odd one :

క్రింది వాటిలో ఏది మిగతా వాటితో భిన్నమైంది?

Options :

1. ✘ Kalibangan
కాళిబంగన్

2. ✔ Mohenjodaro
మొహెంజోదారో

3. ✘ Lothal
లోథాల్

4. ✘ Surkotada
సుర్కోటాడ

Question Number : 44 Question Id : 381906497 Question Type : MCQ Option Shuffling : No
Display Question Number : Yes Is Question Mandatory : No Calculator : None Response Time
: N.A Think Time : N.A Minimum Instruction Time : 0

Correct Marks : 1 Wrong Marks : 0

- i. He is popularly known as Rao Saheb
ఈయనను రావు సాహెబ్ అనే పేరుతో పిలిచేవారు
- ii. In Nizam's Government he worked in PWD department
నిజాం ప్రభుత్వ ప్రజా పనుల శాఖలో ఆయన పని చేసారు
- iii. He presided over Bombay Presidency Mahar Conference in 1936. Who is he?
1936 బొంబాయిలో జరిగిన బొంబాయి ప్రెసిడెన్సీ మహర్ సమావేశానికి అధ్యక్షత వహించాడు. ఈయన ఎవరు?

Options :

1. ✘ Dr. B. R. Ambedkar
డా॥ బి.ఆర్.అంబేద్కర్

2. ✔ B.S. Venkat Rao
బి.యస్. వెంకట్రావ్

3. ✘ Ramaswamy Iyengar
రామస్వామి అయ్యంగార్

4. ✘ Bhagya Reddy Varma
భాగ్య రెడ్డి వర్మ

Question Number : 45 Question Id : 381906498 Question Type : MCQ Option Shuffling : No
Display Question Number : Yes Is Question Mandatory : No Calculator : None Response Time
: N.A Think Time : N.A Minimum Instruction Time : 0

Correct Marks : 1 Wrong Marks : 0

Match the following

సరియైన జతలను గుర్తించండి

	<u>Kingdom</u>	<u>Capital</u>
i.	Bahmani బహమని	a). Vijayanagara విజయనగరం
ii.	Saluva సాళువ	b) Golkonda గోల్కొండ
iii.	Qutubshahi ఖుతుబ్ షాహి	c) Gulbarga గుల్బర్గా
iv.	Chola ఛోళ	d) Tanjore తంజావూరు

Options :

1. ✘ i-a, ii-b, iii-c, iv-d

2. ✘ i-d, ii-c, iii-b, iv-a

3. ✘ i-b, ii-c, iii-a, iv-d

4. ✔ i-c, ii-a, iii-b, iv-d

Question Number : 46 Question Id : 381906499 Question Type : MCQ Option Shuffling : No
Display Question Number : Yes Is Question Mandatory : No Calculator : None Response Time
: N.A Think Time : N.A Minimum Instruction Time : 0

Correct Marks : 1 Wrong Marks : 0

Every day rhythmic rise and fall in the level of ocean water is called as
సముద్రపు నీటి మట్టంలో ప్రతి రోజు లయ బద్ధంగా పెరుగుదల మరియు తగ్గుదలను ఏమంటారు?

Options :

1. ✓ Tides
ఆటుపోట్లు

2. ✘ Currents
ప్రవాహాలు

3. ✘ Waves
తరంగాలు

4. ✘ Tsunami
సునామి

Question Number : 47 Question Id : 381906500 Question Type : MCQ Option Shuffling : No
Display Question Number : Yes Is Question Mandatory : No Calculator : None Response Time
: N.A Think Time : N.A Minimum Instruction Time : 0

Correct Marks : 1 Wrong Marks : 0

An Important source for historians Kitab-al-Hind was written by
చరిత్రకారులకు ముఖ్య ఆధార గ్రంథమైన కితాబ్-అల్-హింద్ రచించినవారు ఎవరు?

Options :

1. ✘ Mohammad Ghori
మహ్మద్ ఘోరి

2. ✓ Alberuni
అల్ బెరూని

Babar

3. ✘ బాబర్

Fa-Hien

4. ✘ ఫాహియాన్

Question Number : 48 Question Id : 381906501 Question Type : MCQ Option Shuffling : No
Display Question Number : Yes Is Question Mandatory : No Calculator : None Response Time
: N.A Think Time : N.A Minimum Instruction Time : 0

Correct Marks : 1 Wrong Marks : 0

To attain Purna Swarajya, Congress launched the following movement

పూర్ణ స్వరాజ్యం సాధించడానికి కాంగ్రెస్ ఈ క్రింది ఉద్యమాన్ని ప్రారంభించింది

Options :

Home Rule

1. ✘ హోమ్ రూల్

Khilafat

2. ✘ ఖిలాఫత్

Civil disobedience

3. ✔ శాసనోల్లంఘన

Vandemataram

4. ✘ వందేమాతరం

Question Number : 49 Question Id : 381906502 Question Type : MCQ Option Shuffling : No

Display Question Number : Yes Is Question Mandatory : No Calculator : None Response Time : N.A Think Time : N.A Minimum Instruction Time : 0

Correct Marks : 1 Wrong Marks : 0

The following State has only one Lok Sabha constituency

ఈ క్రింది వాటిలో ఒకే ఒక లోక్ సభ నియోజక వర్గం గల రాష్ట్రం

Options :

1. ✘ Tripura
త్రిపుర
2. ✔ Sikkim
సిక్కిం
3. ✘ Meghalaya
మేఘాలయ
4. ✘ Manipur
మణిపూర్

Question Number : 50 Question Id : 381906503 Question Type : MCQ Option Shuffling : No Display Question Number : Yes Is Question Mandatory : No Calculator : None Response Time : N.A Think Time : N.A Minimum Instruction Time : 0

Correct Marks : 1 Wrong Marks : 0

Nayankara System was followed by :

నాయంకర్ పద్ధతిని పాటించిన వారు

Options :

1. ✔ Kakatiyas
కాకతీయులు

2. ✖ Cholas
చోళులు

3. ✖ Nizam rulers
నిజాం పాలకులు

4. ✖ Satavahanas
శాతవాహనులు

Question Number : 51 Question Id : 381906504 Question Type : MCQ Option Shuffling : No
Display Question Number : Yes Is Question Mandatory : No Calculator : None Response Time
: N.A Think Time : N.A Minimum Instruction Time : 0

Correct Marks : 1 Wrong Marks : 0

_____ is responsible for regulating the debates and proceedings of the state Assembly
రాష్ట్ర విధాన సభలో చర్చలను మరియు కార్యకలాపాలను నియంత్రించే బాధ్యత _____ పై ఉంటుంది

Options :

1. ✔ Speaker
స్పీకర్

2. ✖ Chief Minister
ముఖ్యమంత్రి

3. ✖ Governor
గవర్నర్

Deputy Chief Minister

4. ✘ ఉప ముఖ్యమంత్రి

Question Number : 52 Question Id : 381906505 Question Type : MCQ Option Shuffling : No
Display Question Number : Yes Is Question Mandatory : No Calculator : None Response Time
: N.A Think Time : N.A Minimum Instruction Time : 0

Correct Marks : 1 Wrong Marks : 0

Choose the correct pairs
సరియైన జతలను గుర్తించండి

Name of the Hot winds - ఉష్ణగాలి పేరు	Region ప్రాంతము
i. Chinook - చినుక్	a) Arabian desert అరేబియా ఎడారి
ii. Loo - లూ	b) North India ఉత్తర భారతదేశం
iii. Simmon - సిమాన్	c) USA – Canada అమెరికా - కెనడా
iv. Norwester - నార్వెస్టర్	d) New Zealand న్యూజిలాండ్

Options :

1. ✘ i-a, ii- b, iii-c, iv-d

2. ✔ i-c, ii-b, iii-a, iv-d

3. ✘ i-a, ii-c, iii-d, iv-b

4.

✘ i-c, ii-a, iii-b, iv-d

Question Number : 53 Question Id : 381906506 Question Type : MCQ Option Shuffling : No
Display Question Number : Yes Is Question Mandatory : No Calculator : None Response Time
: N.A Think Time : N.A Minimum Instruction Time : 0

Correct Marks : 1 Wrong Marks : 0

The largest continental shelf is present in the following ocean

అతి పెద్ద ఖండతీరపు అంచుగల మహాసముద్రము ఏది?

Options :

Pacific Ocean

1. ✘ పసిఫిక్ మహాసముద్రము

Arctic Ocean

2. ✔ ఆర్కిటిక్ మహాసముద్రము

Atlantic Ocean

3. ✘ అట్లాంటిక్ మహాసముద్రము

Indian Ocean

4. ✘ హిందూ మహాసముద్రము

Question Number : 54 Question Id : 381906507 Question Type : MCQ Option Shuffling : No
Display Question Number : Yes Is Question Mandatory : No Calculator : None Response Time
: N.A Think Time : N.A Minimum Instruction Time : 0

Correct Marks : 1 Wrong Marks : 0

Boers means

బోయర్స్ అనగా

Options :

British People living in cape town

1. ✘ కేప్ టౌన్ లో నివసించిన బ్రిటిషు వారు

Africans lived in the Cape of Good hope region

2. ✔ కేప్ ఆఫ్ గుడ్ హోప్ ప్రాంతంలో నివసించిన ఆఫ్రికా వాసులు

Dutch people lived in South Africa

3. ✘ దక్షిణ ఆఫ్రికా ప్రాంతంలో నివసించిన డచ్ వారు

The African tribes

4. ✘ ఆఫ్రికాలోని ఒక తెగ వారు

Question Number : 55 Question Id : 381906508 Question Type : MCQ Option Shuffling : No

Display Question Number : Yes Is Question Mandatory : No Calculator : None Response Time

: N.A Think Time : N.A Minimum Instruction Time : 0

Correct Marks : 1 Wrong Marks : 0

If highest number of votes are polled for NOTA then:

ఒక వేళ అత్యధిక ఓట్లు నోటాకు (NOTA) పోలైతే

Options :

The elections would be cancelled

1. ✘ ఎన్నికలు రద్దు చేయబడతాయి

2. ✓ The candidate who secured second position would be declared as winner
రెండవ స్థానంలో ఉన్న అభ్యర్థిని విజేతగా ప్రకటిస్తారు

3. ✘ Re- election would be conducted with same candidates
అదే అభ్యర్థులతో మళ్లీ ఎన్నికలు నిర్వహిస్తారు

4. ✘ Election commission have the right to declare any candidate as winner
ఏ అభ్యర్థినైనా విజేతగా ప్రకటించే అధికారం ఎన్నికల సంఘానికి ఉంటుంది

Question Number : 56 Question Id : 381906509 Question Type : MCQ Option Shuffling : No
Display Question Number : Yes Is Question Mandatory : No Calculator : None Response Time
: N.A Think Time : N.A Minimum Instruction Time : 0

Correct Marks : 1 Wrong Marks : 0

According to the Indian Constitution life is in the following Article
భారత రాజ్యంగములోని ఈ క్రింది ప్రకరణలో జీవించే హక్కు పొందుపరచబడింది.

Options :

1. ✘ Article 13
ఆర్టికల్ 13

2. ✓ Article 21
ఆర్టికల్ 21

3. ✘ Article 11
ఆర్టికల్ 11

4. ✘ Article 3
ఆర్టికల్ 3

Question Number : 57 Question Id : 381906510 Question Type : MCQ Option Shuffling : No
Display Question Number : Yes Is Question Mandatory : No Calculator : None Response Time
: N.A Think Time : N.A Minimum Instruction Time : 0

Correct Marks : 1 Wrong Marks : 0

Disguised unemployment is noticed in
ప్రచ్ఛన్న నిరుద్యోగం ఈ రంగంలో కనబడుతుంది

Options :

1. ✓ Agriculture sector
వ్యవసాయ రంగం

2. ✘ Industrial sector
పరిశ్రమల రంగం

3. ✘ Service sector
సేవా రంగం

4. ✘ Foreign sector
విదేశీ రంగం

Question Number : 58 Question Id : 381906511 Question Type : MCQ Option Shuffling : No
Display Question Number : Yes Is Question Mandatory : No Calculator : None Response Time
: N.A Think Time : N.A Minimum Instruction Time : 0

Correct Marks : 1 Wrong Marks : 0

Removing of trade barriers or restrictions set by the government is known as
ప్రభుత్వం విధించిన వాణిజ్య అడ్డంకులు లేదా పరిమితులను తొలగించడాన్ని ఏమంటారు?

Options :

1. ✘ Privatisation
ప్రయివేటీకరణ

2. ✘ Globalisation
ప్రపంచీకరణ

3. ✔ Liberalisation
సరళీకరణ

4. ✘ Nationalisation
జాతీయీకరణ

Question Number : 59 Question Id : 381906512 Question Type : MCQ Option Shuffling : No
Display Question Number : Yes Is Question Mandatory : No Calculator : None Response Time
: N.A Think Time : N.A Minimum Instruction Time : 0

Correct Marks : 1 Wrong Marks : 0

Human Development Index is published by
మానవాభివృద్ధి సూచికలు ప్రచురించే వారు

Options :

1. ✘ World Trade Organization
ప్రపంచ వాణిజ్య సంస్థ

2. ✘ World Bank
ప్రపంచ బ్యాంకు

UNICEF

యునిసెఫ్

3. ✘

UNDP

యు యన్ డి పి

4. ✔

Question Number : 60 Question Id : 381906513 Question Type : MCQ Option Shuffling : No
Display Question Number : Yes Is Question Mandatory : No Calculator : None Response Time
: N.A Think Time : N.A Minimum Instruction Time : 0

Correct Marks : 1 Wrong Marks : 0

Related to Internet Banking, IFSC means

ఇంటర్నెట్ బ్యాంకింగ్ కు సంబంధించిన IFSC అనగా ఏమిటి?

Options :

Indian Financial Service Code

ఇండియన్ ఫైనాన్షియల్ సర్వీస్ కోడ్

1. ✘

Indian Forex Service Corporation

ఇండియన్ ఫారెక్స్ సర్వీస్ కార్పొరేషన్

2. ✘

Indian Financial System Code

ఇండియన్ ఫైనాన్షియల్ సిస్టమ్ కోడ్

3. ✔

Indian Financial System Corporation

ఇండియన్ ఫైనాన్షియల్ సిస్టమ్ కార్పొరేషన్

4. ✘

Teaching Aptitude

Section Id :	38190617
Section Number :	2
Section type :	Online
Mandatory or Optional :	Mandatory
Number of Questions :	20
Number of Questions to be attempted :	20
Section Marks :	20
Enable Mark as Answered Mark for Review and Clear Response :	Yes
Maximum Instruction Time :	0
Sub-Section Number :	1
Sub-Section Id :	38190620
Question Shuffling Allowed :	Yes
Is Section Default? :	null

Question Number : 61 Question Id : 381906514 Question Type : MCQ Option Shuffling : No
Display Question Number : Yes Is Question Mandatory : No Calculator : None Response Time : N.A Think Time : N.A Minimum Instruction Time : 0
Correct Marks : 1 Wrong Marks : 0

What are the three basic characteristics of professionalism?

వృత్తి నైపుణ్యం యొక్క మూడు ప్రాథమిక లక్షణాలు ఏవి?

Options :

1. ✓ specialized knowledge, ethics, and licensing
ప్రత్యేక జ్ఞానం, నైతికత మరియు అనుజ్ఞాన పత్రము

2. ✘ code, ethics, and licensing
కోడ్, నైతికత మరియు అనుజ్ఞాన పత్రము

3. ✖ training, knowledge, and morals
శిక్షణ, జ్ఞానం మరియు నైతికత

4. ✖ flexibility, relevance, and licensing
వశ్యత, ఔచిత్యం మరియు అనుజ్ఞానపత్రము

Question Number : 62 Question Id : 381906515 Question Type : MCQ Option Shuffling : No
Display Question Number : Yes Is Question Mandatory : No Calculator : None Response Time
: N.A Think Time : N.A Minimum Instruction Time : 0

Correct Marks : 1 Wrong Marks : 0

The most significant component of effective teaching is to:

ప్రభావవంతమైన బోధన యొక్క అత్యంత ముఖ్యమైన భాగం

Options :

1. ✖ Take attendance regularly
క్రమం తప్పకుండా హాజరు తీసుకోవడం

2. ✖ Create a disciplined classroom environment
క్రమశిక్షణతో కూడిన తరగతి గది వాతావరణం ఏర్పాటు చేయడం

3. ✖ Teachers' commitment and integrity
ఉపాధ్యాయుల నిబద్ధత మరియు సమగ్రత

4. ✔ Teacher's efforts to foster learning and understanding
అభ్యసన మరియు అవగాహన పెంపొందించడానికి ఉపాధ్యాయుల ప్రయత్నం

Question Number : 63 Question Id : 381906516 Question Type : MCQ Option Shuffling : No
Display Question Number : Yes Is Question Mandatory : No Calculator : None Response Time
: N.A Think Time : N.A Minimum Instruction Time : 0

Correct Marks : 1 Wrong Marks : 0

Questioning in teaching, is most useful in:
బోధనలో ప్రశ్నించడం ఎందుకు అత్యంత అవసరం:

Options :

1. ✘ Disciplining learners
అభ్యాసకులను క్రమశిక్షణగా ఉంచడం
2. ✘ Preparing learners for examination
అభ్యాసకులను పరీక్షకు సిద్ధం చేయడం
3. ✘ Rote memorization of facts by learners
అభ్యాసకులు వాస్తవాలను కంఠస్థం చేయడం
4. ✔ Ensuring active participation of learners in class
తరగతి లో అభ్యాసకుల క్రియాశీల భాగస్వామ్యాన్ని నిర్ధారించుటకు

Question Number : 64 Question Id : 381906517 Question Type : MCQ Option Shuffling : No
Display Question Number : Yes Is Question Mandatory : No Calculator : None Response Time
: N.A Think Time : N.A Minimum Instruction Time : 0

Correct Marks : 1 Wrong Marks : 0

Technology is essential in education because it:
విద్యలో సాంకేతికత చాల అవసరం ఎందువలనంటే

Options :

1. ✔ Makes teaching effective and efficient
బోధనను ప్రభావవంతంగా మరియు సమర్థవంతంగా చేయటానికి

2. ✖ Maintains high standards of education
విద్య యొక్క ఉన్నత ప్రమాణాలను నిర్వహించడం

3. ✖ Makes teaching less burdensome
బోధనా భారాన్ని తగ్గిస్తుంది

4. ✖ Is adopted by elite institutions
ఉన్నత సంస్థలచే స్వీకరించబడింది

Question Number : 65 Question Id : 381906518 Question Type : MCQ Option Shuffling : No
Display Question Number : Yes Is Question Mandatory : No Calculator : None Response Time
: N.A Think Time : N.A Minimum Instruction Time : 0

Correct Marks : 1 Wrong Marks : 0

The most important factor for the success of a new teacher is his / her:
కొత్త గా చేరిన ఉపాధ్యాయుని విజయానికి అత్యంత ముఖ్యమైన అంశం, అతను /ఆమె యొక్క

Options :

1. ✖ Attractive personality
ఆకర్షణీయమైన రూపం

2. ✖ Sound knowledge of content and pedagogy
విషయ మరియు బోధనా శాస్త్ర జ్ఞానం

3. ✔ Communication ability
భావవ్యక్తీకరణ సామర్థ్యం

4.

Organizational ability

✖ సంస్థాగత సామర్థ్యం

Question Number : 66 Question Id : 381906519 Question Type : MCQ Option Shuffling : No
Display Question Number : Yes Is Question Mandatory : No Calculator : None Response Time
: N.A Think Time : N.A Minimum Instruction Time : 0

Correct Marks : 1 Wrong Marks : 0

Effective teaching signifies all of the following except:

ప్రభావవంతమైన బోధన కింది వాటిలో ఏది మినహాయించి అన్నింటినీ సూచిస్తుంది?

Options :

1. ✓ Encouraging students during class discussion
తరగతి చర్చ సమయంలో విద్యార్థులను ప్రోత్సహించడం

2. ✖ Teaching with passion
బోధనే ఆరాధ్యంగా భావించడం

3. ✖ Maintaining high discipline in the classroom
తరగతి గదిలో అత్యధిక క్రమశిక్షణను నిర్వహించడం

4. ✖ Using variety of teaching resources
వివిధ రకాల బోధన వనరులను ఉపయోగించడం

Question Number : 67 Question Id : 381906520 Question Type : MCQ Option Shuffling : No
Display Question Number : Yes Is Question Mandatory : No Calculator : None Response Time
: N.A Think Time : N.A Minimum Instruction Time : 0

Correct Marks : 1 Wrong Marks : 0

Some of the students repeatedly misbehave with a teacher in the classroom. How will you respond to the problem?

కొంతమంది విద్యార్థులు తరగతి గదిలో ఉపాధ్యాయునితో పదే పదే దురుసుగా ప్రవర్తించినప్పుడు మీరైతే ఈ సమస్యకు ఎలా స్పందిస్తారు ?

Options :

1. ✓ Improve their behaviour by setting an example in good behavior
మంచి ప్రవర్తనకు ఒక ఉదాహరణగా చూపి వారి ప్రవర్తనను మెరుగుపరుస్తాను
2. ✘ Deduct marks from their internal assessment score
వారి అంతర్గత మదింపు స్కోర్ నుండి మార్కులను తీసివేస్తాను
3. ✘ Report to their parents
వారి తల్లిదండ్రులకు నివేదిస్తాను
4. ✘ Do not allow them to attend your lecture
నా బోధనకు హాజరు కావటానికి వారిని అనుమతించను?

Question Number : 68 Question Id : 381906521 Question Type : MCQ Option Shuffling : No
Display Question Number : Yes Is Question Mandatory : No Calculator : None Response Time : N.A Think Time : N.A Minimum Instruction Time : 0

Correct Marks : 1 Wrong Marks : 0

Use of teaching aids can help teachers make:

బోధనోపకరణాలు ఉపయోగించటం ఉపాధ్యాయులకు ఏ విధంగా ఉపకరిస్తాయి?

Options :

1. ✘ Lessons seem fancy
పాఠాలు ఫ్యాన్సీగా అనిపిస్తాయి
- 2.

Teaching less burdensome

✖ బోధన భారం తగ్గుతుంది

Teaching interesting

3. ✔ బోధన ఆసక్తికరంగా ఉంటుంది

Content easy and concrete

4. ✖ విషయం సులభతరం మరియు మూర్తంగా ఉంటుంది

Question Number : 69 Question Id : 381906522 Question Type : MCQ Option Shuffling : No

Display Question Number : Yes Is Question Mandatory : No Calculator : None Response Time

: N.A Think Time : N.A Minimum Instruction Time : 0

Correct Marks : 1 Wrong Marks : 0

A sensitive teacher is always ready to:

సున్నితమైన ఉపాధ్యాయుడు ఎల్లప్పుడు దీనికి సిద్ధంగా ఉంటాడు

Options :

Provide notes to the students

1. ✖ విద్యార్థులకు నోట్స్ అందిప్పడానికి

Solve problems of the students

2. ✔ విద్యార్థుల సమస్యలను పరిష్కరించుటకు

Help the poor students

3. ✖ పేద విద్యార్థులకు సహాయం చేయుటకు

Help the gifted students

4. ✖ ప్రతిభావంతులైన విద్యార్థులకు సహాయం చేయుటకు

Question Number : 70 Question Id : 381906523 Question Type : MCQ Option Shuffling : No
Display Question Number : Yes Is Question Mandatory : No Calculator : None Response Time
: N.A Think Time : N.A Minimum Instruction Time : 0

Correct Marks : 1 Wrong Marks : 0

Which of the following qualities is an essential requirement of a successful teacher?

విజయవంతమైన ఉపాధ్యాయునికి క్రింది లక్షణాలలో ఏది అవసరం?

Options :

1. ✘ Command over technology
సాంకేతిక పరిజ్ఞానం పై పట్టు

2. ✘ Command over the language
భాషపై పట్టు

3. ✘ Command over the students
విద్యార్థులపై పట్టు

4. ✔ Command over the subject
విషయ పరిజ్ఞానం పై పట్టు

Question Number : 71 Question Id : 381906524 Question Type : MCQ Option Shuffling : No
Display Question Number : Yes Is Question Mandatory : No Calculator : None Response Time
: N.A Think Time : N.A Minimum Instruction Time : 0

Correct Marks : 1 Wrong Marks : 0

As a teacher, you are asked to give your preference for the workload.
What will be your ideal choice?

ఉపాధ్యాయునిగా, పనిభారానికి మీ ప్రాధాన్యత ఇవ్వాలని మిమ్మల్ని అడిగితే,
క్రింది వాటిలో మీ ఆదర్శ ఎంపిక ఏది?

Options :

Only teaching classes

తరగతి గదిలో బోధన మాత్రమే

1. ✘

Teaching classes and tutorials to students

విద్యార్థులకు తరగతులు మరియు ట్యూటోరియల్స్ ను నిర్వహించడం

2. ✔

Fewer teaching classes and more administrative work

తక్కువ తరగతి బోధన మరియు ఎక్కువ పరిపాలన పని

3. ✘

Less teaching classes and more co-curricular responsibilities

తక్కువ తరగతి బోధన మరియు ఎక్కువ సహపాఠ్య బాధ్యతలు

4. ✘

Question Number : 72 Question Id : 381906525 Question Type : MCQ Option Shuffling : No

Display Question Number : Yes Is Question Mandatory : No Calculator : None Response Time

: N.A Think Time : N.A Minimum Instruction Time : 0

Correct Marks : 1 Wrong Marks : 0

A teacher can assess the progress of his / her students by:

ఉపాధ్యాయుడు / ఉపాధ్యాయిని యొక్క విద్యార్థుల పురోగతిని ఏవిధంగా అంచనా వేయును?

Options :

Systematically maintaining the record of students' responses and learning behaviours

విద్యార్థుల యొక్క ప్రతిస్పందనల మరియు అభ్యాస ప్రవర్తనల రికార్డును క్రమపద్ధతిలో

నిర్వహించటం ద్వారా

1. ✔

2. ✘ Conducting examinations
పరీక్షలను నిర్వహించడం ద్వారా

3. ✘ Asking the student to write self-report
స్వీయ ప్రగతిని రాయమని విద్యార్థులను అడగటం ద్వారా

4. ✘ Asking students to do peer assessment
విద్యార్థులను తమ తోటి వారిని అంచనావేయమని చెప్పడం ద్వారా

Question Number : 73 Question Id : 381906526 Question Type : MCQ Option Shuffling : No
Display Question Number : Yes Is Question Mandatory : No Calculator : None Response Time
: N.A Think Time : N.A Minimum Instruction Time : 0

Correct Marks : 1 Wrong Marks : 0

The correct indicator of a teacher's competency is:
ఉపాధ్యాయుని సామర్థ్యానికి సరైన సూచిక

Options :

1. ✔ Results of the students
విద్యార్థుల ఫలితాలు

2. ✘ Degrees and awards
డిగ్రీలు మరియు అవార్డులు

3. ✘ Member of academic bodies
విద్యా సంస్థల సభ్యుడిగా ఉండటం

Personality of the teacher

ఉపాధ్యాయుని వ్యక్తిత్వం

4. ✖

Question Number : 74 Question Id : 381906527 Question Type : MCQ Option Shuffling : No
Display Question Number : Yes Is Question Mandatory : No Calculator : None Response Time
: N.A Think Time : N.A Minimum Instruction Time : 0

Correct Marks : 1 Wrong Marks : 0

The role of the teacher is to:

ఉపాధ్యాయుని పాత్ర

Options :

Cover the syllabus

1. ✖ సిలబస్ ను పూర్తిచేయడం

Discipline the students

2. ✖ విద్యార్థులను క్రమశిక్షణ లో పెట్టడం

Guide the student and facilitate knowledge construction

3. ✔ విద్యార్థికి మార్గనిర్దేశం చేయడం మరియు జ్ఞాన నిర్మాణాన్ని సులభతరం చేయడం

Evaluate homework and give grades

4. ✖ ఇంటి పనిని మూల్యాంకనం చేసి గ్రేడ్లు ఇవ్వడం

Question Number : 75 Question Id : 381906528 Question Type : MCQ Option Shuffling : No
Display Question Number : Yes Is Question Mandatory : No Calculator : None Response Time
: N.A Think Time : N.A Minimum Instruction Time : 0

Correct Marks : 1 Wrong Marks : 0

While you are teaching in the classroom, one of your students identifies your mistake and points it out in front of the whole class. How will you react to this?

మీరు తరగతి గదిలో బోధిస్తున్నప్పుడు, మీ విద్యార్థుల్లో ఒకరు మీ తప్పును గుర్తించి మొత్తం

తరగతి ముందు దానిని ఎత్తి చూపినప్పుడు, మీరు ఎలా స్పందిస్తారు?

Options :

You will ignore the situation

1. ✘ మీరు ఆ పరిస్థితిని పట్టించుకోరు

You will accept your mistake humbly and thank the student for correcting you

2. ✔ మీరు మీ తప్పును వినయంగా అంగీకరించి మరియు మిమ్మల్ని సరిదిద్దినందుకు

విద్యార్థికి కృతజ్ఞతలు చెబుతారు

You will scold the student and charge him with misbehavior in the class

3. ✘ మీరు విద్యార్థిని తిట్టి, తరగతిలో దురుసుగా ప్రవర్తించారని అభియోగం మోపుతారు

You will step out of the class showing your displeasure

4. ✘ మీరు మీ అసంతృప్తిని ప్రదర్శిస్తూ తరగతి నుండి బయటికి వస్తారు

Question Number : 76 Question Id : 381906529 Question Type : MCQ Option Shuffling : No

Display Question Number : Yes Is Question Mandatory : No Calculator : None Response Time

: N.A Think Time : N.A Minimum Instruction Time : 0

Correct Marks : 1 Wrong Marks : 0

Verbal guidance is least effective while a teacher is teaching about:

ఉపాధ్యాయుడు ఏ అంశంను బోధిస్తున్నప్పుడు మౌఖిక మార్గదర్శకత్వం తక్కువ

ప్రభావవంతంగా ఉంటుంది?

Options :

1. ✓ Skills
నైపుణ్యాలు

2. ✘ Attitudes
వైఖరులు

3. ✘ Relationships
సంబంధాలు

4. ✘ Concepts and related facts
భావనలు మరియు సంబంధిత వాస్తవాలు

Question Number : 77 Question Id : 381906530 Question Type : MCQ Option Shuffling : No
Display Question Number : Yes Is Question Mandatory : No Calculator : None Response Time
: N.A Think Time : N.A Minimum Instruction Time : 0

Correct Marks : 1 Wrong Marks : 0

A teacher who is not able to draw the attention of his students should:
తన విద్యార్థుల దృష్టిని ఆకర్షించలేని ఉపాధ్యాయుడు చేయవలసినది ఏది?

Options :

1. ✘ Find fault in his / her students
అతని/ఆమె విద్యార్థులలో తప్పులు ఎత్తిచూపడం

2. ✘ Start dictating
నిర్దేశిస్తారు

Resign from his / her post

అతను / ఆమె పదవికి రాజీనామా చేయడం

3. ✘

Evaluate his / her teaching method and improve the same

అతను / ఆమె బోధన విధానాన్ని మూల్యాంకనం చేసి దానిని మెరుగుపరచడం

4. ✔

Question Number : 78 Question Id : 381906531 Question Type : MCQ Option Shuffling : No
Display Question Number : Yes Is Question Mandatory : No Calculator : None Response Time
: N.A Think Time : N.A Minimum Instruction Time : 0

Correct Marks : 1 Wrong Marks : 0

As a teacher, you will demonstrate your impartial behaviour by:

ఉపాధ్యాయునిగా, మీరు మీ నిష్పాక్షిక ప్రవర్తనను దేని ద్వారా ప్రదర్శిస్తారు

Options :

Making your own behaviour more balanced and fairer

మీ స్వంత ప్రవర్తనను మరింత సమతుల్యంగా మరియు న్యాయమైనదిగా చేయడం

1. ✔

Criticizing the teaching community

ఉపాధ్యాయ సమాజాన్ని విమర్శించడం

2. ✘

Maintain high self-esteem and egoistic behavior

అధిక ఆత్మ గౌరవం మరియు అహంభావ ప్రవర్తనను కొనసాగించడం

3. ✘

Assaulting students

విద్యార్థుల పై దాడి చేయడం

4. ✘

Question Number : 79 Question Id : 381906532 Question Type : MCQ Option Shuffling : No

Display Question Number : Yes Is Question Mandatory : No Calculator : None Response Time : N.A Think Time : N.A Minimum Instruction Time : 0

Correct Marks : 1 Wrong Marks : 0

Of the following, the most unreliable predictor of educational achievement is:

కింది వాటిలో, విద్యా విషయక సాధనలకు సంబంధించి అత్యంత విశ్వసనీయత లేనిది ఏది?

Options :

1. ✘ Family background and training
కుటుంబ నేపథ్యం మరియు శిక్షణ
2. ✘ Classroom experiences
తరగతి గది అనుభవాలు
3. ✘ Ethnic origin of parents
తల్లిదండ్రుల జాతి మూలాలు
4. ✔ Inherited biological potential for learning
నేర్చుకోవడం కోసం వారసత్వంగా వచ్చిన జీవ సంభావ్యత

Question Number : 80 Question Id : 381906533 Question Type : MCQ Option Shuffling : No Display Question Number : Yes Is Question Mandatory : No Calculator : None Response Time : N.A Think Time : N.A Minimum Instruction Time : 0

Correct Marks : 1 Wrong Marks : 0

You find that a particular instructional strategy is effective in teaching your subject but none of your colleagues agree with you. You will:

మీ పాఠ్యంశాన్ని ఒక నిర్దిష్టమైన బోధనా వ్యూహంతో ప్రభావవంతంగా బోధించటాన్ని కనుగొన్నప్పుడు

మీ సహోద్యోగులు మీతో ఏకీభవించనప్పుడు, మీరు ఏ విధంగా ప్రతిస్పందిస్తారు?

Options :

- 1.

Design action research that will prove the efficacy of the appropriate strategy

సరైన వ్యూహం యొక్క సామర్థ్యాన్ని రుజువు చేసే కార్యచరణ పరిశోధన రూపకల్పన చేస్తారు



Agree to disagree

విభేదించడాన్ని అంగీకరిస్తారు

2. ✖

Give up your strategy as none of the other teachers agree with it

వ్యూహాన్ని ఇతర ఉపాధ్యాయులెవ్వరూ అంగీకరించనందున దానిని వదులుకుంటాను

3. ✖

Look for a theoretical justification of the strategy from the books available in the library

గ్రంథాలయంలో అందుబాటులో ఉన్న పుస్తకాల నుండి వ్యూహం యొక్క సైద్ధాంతిక సమర్థన కోసం చూస్తాను.

4. ✖

General English

Section Id :	38190618
Section Number :	3
Section type :	Online
Mandatory or Optional :	Mandatory
Number of Questions :	16
Number of Questions to be attempted :	16
Section Marks :	20
Enable Mark as Answered Mark for Review and Clear Response :	Yes
Maximum Instruction Time :	0
Sub-Section Number :	1

Sub-Section Id : 38190621

Question Shuffling Allowed : No

Is Section Default? : null

Question Id : 381906534 Question Type : COMPREHENSION Sub Question Shuffling Allowed :

No Group Comprehension Questions : No Question Pattern Type : NonMatrix Calculator :

None Response Time : N.A Think Time : N.A Minimum Instruction Time : 0

Question Numbers : (81 to 85)

Read the passage carefully and mark the correct answer for the questions

Out of the mouths of Babes

Last Friday I took my wife and my six-year old daughter Sudha to see the Taj Mahal at Agra. We went by the Taj Express and Sudha was very excited because she had never travelled by train before. She sat near the window and looked at trees and houses flying with shining eyes. At one station a fat woman about 50 years old, came into our compartment and sat facing us.

When the train steamed out of the station, the woman opened her hand bag, took out a lip-stick and began to make up her lips. 'Why are you doing that?' asked Sudha. 'To make my face beautiful', said the woman, frowning. 'But your face is still ugly', said Sudha. You can imagine how embarrassed my wife and I were! We apologized to the woman and told Sudha sternly that she should not be rude to people. Sudha concentrated on the countryside flying past the window and did not look at the woman again.

Sub questions

Question Number : 81 Question Id : 381906535 Question Type : MCQ Option Shuffling : No

Display Question Number : Yes Is Question Mandatory : No Calculator : None Response Time

: N.A Think Time : N.A Minimum Instruction Time : 0

Correct Marks : 1 Wrong Marks : 0

How did Sudha, my wife and I go to see the Taj?

Options :

1. ✘ by bus

2. ✓ by train

3. ✘ by car

4. ✘ by aeroplane

Question Number : 82 Question Id : 381906536 Question Type : MCQ Option Shuffling : No Display Question Number : Yes Is Question Mandatory : No Calculator : None Response Time : N.A Think Time : N.A Minimum Instruction Time : 0

Correct Marks : 1 Wrong Marks : 0

Sudha was excited because:

Options :

1. ✓ this was her first journey by train

2. ✘ she was a very little girl

3. ✘ her parents were with her

4. ✘ they were travelling very fast

Question Number : 83 Question Id : 381906537 Question Type : MCQ Option Shuffling : No Display Question Number : Yes Is Question Mandatory : No Calculator : None Response Time : N.A Think Time : N.A Minimum Instruction Time : 0

Correct Marks : 1 Wrong Marks : 0

Where did the fat woman sit?

Options :

1. ✘ sat next to Sudha
2. ✘ sat by the window
3. ✔ sat in the seat opposite
4. ✘ sat in a different coach

Question Number : 84 Question Id : 381906538 Question Type : MCQ Option Shuffling : No Display Question Number : Yes Is Question Mandatory : No Calculator : None Response Time : N.A Think Time : N.A Minimum Instruction Time : 0

Correct Marks : 1 Wrong Marks : 0

What did she take out of her hand bag?

Options :

1. ✘ her spectacles
2. ✘ her travel ticket
3. ✘ some money
4. ✔ her lipstick

Question Number : 85 Question Id : 381906539 Question Type : MCQ Option Shuffling : No
Display Question Number : Yes Is Question Mandatory : No Calculator : None Response Time
: N.A Think Time : N.A Minimum Instruction Time : 0

Correct Marks : 1 Wrong Marks : 0

What did Sudha do after she got a scolding?

Options :

1. ✓ she continued looking out of the window
2. ✘ she continued to look at the woman
3. ✘ she started crying like a child
4. ✘ she shouted back at her mother

Sub-Section Number :	2
Sub-Section Id :	38190622
Question Shuffling Allowed :	Yes
Is Section Default? :	null

Question Number : 86 Question Id : 381906540 Question Type : MCQ Option Shuffling : No
Display Question Number : Yes Is Question Mandatory : No Calculator : None Response Time
: N.A Think Time : N.A Minimum Instruction Time : 0

Correct Marks : 1 Wrong Marks : 0

Choose the correct prefix for the word 'logical'

Options :

1. ✘ un-

2. ✘ a-

3. ✔ il-

4. ✘ in-

Question Number : 87 Question Id : 381906541 Question Type : MCQ Option Shuffling : No
Display Question Number : Yes Is Question Mandatory : No Calculator : None Response Time
: N.A Think Time : N.A Minimum Instruction Time : 0

Correct Marks : 1 Wrong Marks : 0

Which of the following words has been spelt correctly?

Options :

1. ✘ connoisire

2. ✘ conoisuer

3. ✔ connoisseur

4. ✘ connoissure

Question Number : 88 Question Id : 381906542 Question Type : MCQ Option Shuffling : No
Display Question Number : Yes Is Question Mandatory : No Calculator : None Response Time
: N.A Think Time : N.A Minimum Instruction Time : 0

Correct Marks : 1 Wrong Marks : 0

Fill in the blanks with a suitable article;

We go to school every morning. On _____ way we see _____ beautiful house.

Options :

1. ✓ the, a
2. ✗ a, an
3. ✗ an, the
4. ✗ the, an

Question Number : 89 Question Id : 381906543 Question Type : MCQ Option Shuffling : No Display Question Number : Yes Is Question Mandatory : No Calculator : None Response Time : N.A Think Time : N.A Minimum Instruction Time : 0

Correct Marks : 1 Wrong Marks : 0

When I go back home, I find my mother busy in _____ kitchen.

Options :

1. ✗ a
2. ✓ the
3. ✗ an
4. ✗ No article

Question Number : 90 Question Id : 381906544 Question Type : MCQ Option Shuffling : No
Display Question Number : Yes Is Question Mandatory : No Calculator : None Response Time
: N.A Think Time : N.A Minimum Instruction Time : 0

Correct Marks : 1 Wrong Marks : 0

Complete the sentence by choosing a correct preposition.
Ramu looked very tired. He had just come back _____ the gym.

Options :

1. ✘ by

2. ✘ of

3. ✘ to

4. ✔ from

Question Number : 91 Question Id : 381906545 Question Type : MCQ Option Shuffling : No
Display Question Number : Yes Is Question Mandatory : No Calculator : None Response Time
: N.A Think Time : N.A Minimum Instruction Time : 0

Correct Marks : 1 Wrong Marks : 0

Choose the correct synonym for the word underlined.
After lunch, the children were given a bowl of ice-cream.

Options :

1. ✘ sweet

2. ✓ dessert

3. ✘ appetiser

4. ✘ left over

Question Number : 92 Question Id : 381906546 Question Type : MCQ Option Shuffling : No
Display Question Number : Yes Is Question Mandatory : No Calculator : None Response Time
: N.A Think Time : N.A Minimum Instruction Time : 0

Correct Marks : 1 Wrong Marks : 0

Choose the correct antonym for the word underlined.
An elephant is known for being sanguine.

Options :

1. ✓ friendly

2. ✘ wild

3. ✘ dangerous

4. ✘ foolish

Question Number : 93 Question Id : 381906547 Question Type : MCQ Option Shuffling : No
Display Question Number : Yes Is Question Mandatory : No Calculator : None Response Time
: N.A Think Time : N.A Minimum Instruction Time : 0

Correct Marks : 1 Wrong Marks : 0

Fill in the blank with a phrasal verb:

The teacher was angry with the student who was _____ the window.

Options :

1. ✓ looking out of
2. ✗ looking into
3. ✗ looking for
4. ✗ looking after

Question Number : 94 Question Id : 381906548 Question Type : MCQ Option Shuffling : No Display Question Number : Yes Is Question Mandatory : No Calculator : None Response Time : N.A Think Time : N.A Minimum Instruction Time : 0

Correct Marks : 1 Wrong Marks : 0

Which is the correct passive form of the given sentence?
I bought this book two days ago in the exhibition.

Options :

1. ✗ This book bought two days ago in the exhibition.
2. ✗ Two days ago, I bought this book in the exhibition.
3. ✓ This book was bought by me two days ago in the exhibition.

4. ✘ This book was bought by the exhibition two days ago.

Question Number : 95 Question Id : 381906549 Question Type : MCQ Option Shuffling : No
Display Question Number : Yes Is Question Mandatory : No Calculator : None Response Time
: N.A Think Time : N.A Minimum Instruction Time : 0

Correct Marks : 1 Wrong Marks : 0

Identify the correct past tense form of the sentence given.
Plants are green when you water them every day.

Options :

1. ✘ Plants are green when you watered them every day.

2. ✔ Plants were green when you watered them every day.

3. ✘ Plants will be green when you water them every day.

4. ✘ Plants have to be green when you water then every day.

Question Number : 96 Question Id : 381906550 Question Type : MCQ Option Shuffling : No
Display Question Number : Yes Is Question Mandatory : No Calculator : None Response Time
: N.A Think Time : N.A Minimum Instruction Time : 0

Correct Marks : 1 Wrong Marks : 0

Join the two given sentences using a proper conjunction.

i. The teacher in the class taught the lessons very well.

ii. The teacher was strict and got angry easily.

Options :

1. ✘ and

2. ✘ also

3. ✘ even

4. ✔ but

Question Number : 97 Question Id : 381906551 Question Type : MCQ Option Shuffling : No Display Question Number : Yes Is Question Mandatory : No Calculator : None Response Time : N.A Think Time : N.A Minimum Instruction Time : 0

Correct Marks : 1 Wrong Marks : 0

Add a question tag to the given statement.

He always gets the first rank, he is very intelligent, _____

Options :

1. ✘ isn't it?

2. ✘ doesn't he?

3. ✔ isn't he?

4. ✘ does he?

Question Number : 98 Question Id : 381906552 Question Type : MCQ Option Shuffling : No

Display Question Number : Yes Is Question Mandatory : No Calculator : None Response Time : N.A Think Time : N.A Minimum Instruction Time : 0

Correct Marks : 1 Wrong Marks : 0

Which word has the same meaning as the following sentence?

Fill in the blank with an appropriate conjunction to complete the sentence.

My teacher has written and published many stories. He/She is _____

Options :

1. ✓ an author

2. ✗ a story teller

3. ✗ a writer

4. ✗ an intelligent person

Question Number : 99 Question Id : 381906553 Question Type : MCQ Option Shuffling : No

Display Question Number : Yes Is Question Mandatory : No Calculator : None Response Time : N.A Think Time : N.A Minimum Instruction Time : 0

Correct Marks : 1 Wrong Marks : 0

Which of the following sentences is correct?

Options :

1. ✗ There are a book on my table

2. ✗ There are book on my table

3. ✘ There books are on my table

4. ✔ There are books on my table

Question Number : 100 Question Id : 381906554 Question Type : MCQ Option Shuffling : No
Display Question Number : Yes Is Question Mandatory : No Calculator : None Response Time
: N.A Think Time : N.A Minimum Instruction Time : 0

Correct Marks : 1 Wrong Marks : 0

Here are four sentences a, b, c, and d. Put them in order to make a paragraph. The possible orders are suggested below.

- a. The doctor gave me an injection.
- b. I could not get up from the bed.
- c. My mother took me to a doctor.
- d. The doctor saw I had high fever.

Options :

1. ✘ a,b,c,d

2. ✔ b, c, d, a

3. ✘ c, b, a, d

4. ✘ d, a, b, c

General Knowledge and Educational Issues

Section Id :	38190619
Section Number :	4
Section type :	Online
Mandatory or Optional :	Mandatory
Number of Questions :	30
Number of Questions to be attempted :	30
Section Marks :	30
Enable Mark as Answered Mark for Review and Clear Response :	Yes
Maximum Instruction Time :	0
Sub-Section Number :	1
Sub-Section Id :	38190623
Question Shuffling Allowed :	Yes
Is Section Default? :	null

Question Number : 101 Question Id : 381906555 Question Type : MCQ Option Shuffling : No
Display Question Number : Yes Is Question Mandatory : No Calculator : None Response Time
: N.A Think Time : N.A Minimum Instruction Time : 0

Correct Marks : 1 Wrong Marks : 0

Bhagath Singh was executed into which of the following cases

భగత్ సింగ్ ఏ కేసులో అరెస్ట్ అయ్యారు?

Options :

Lahore conspiracy case

లాహోర్ కుట్రకేసు

1. ✓

2. ✗

Central Assembly Bomb case

కేంద్ర అసెంబ్లీ బాంబ్ కేసు

Kakori case

కాకోరి కేసు

3. ✘

Dalhousie square Bomb case

డల్హౌసీ స్కేర్ బాంబ్ కేసు

4. ✘

Question Number : 102 Question Id : 381906556 Question Type : MCQ Option Shuffling : No
Display Question Number : Yes Is Question Mandatory : No Calculator : None Response Time
: N.A Think Time : N.A Minimum Instruction Time : 0

Correct Marks : 1 Wrong Marks : 0

Which king has started the organization of “Kumbh Fair” at Allahabad?

అలహాబాద్ నందు ‘కుంబ మేళా’ మొదటి సారిగా నిర్వహించిన రాజు ఎవరు?

Options :

Harshavardhana

హర్షవర్ధన్

1. ✔

Dhruwasana II

ధృవసన - II

2. ✘

Narasimha Varman

నరసింహ వర్మన్

3. ✘

Akbar

4. ✘ అక్షర్

Question Number : 103 Question Id : 381906557 Question Type : MCQ Option Shuffling : No
Display Question Number : Yes Is Question Mandatory : No Calculator : None Response Time
: N.A Think Time : N.A Minimum Instruction Time : 0

Correct Marks : 1 Wrong Marks : 0

“Upanishads” are books on

“ఉపనిషద్” లు వేటి ఆధారంగా వ్రాయబడిన గ్రంథాలు?

Options :

Politics

1. ✘ రాజకీయాలు

Philosophy

2. ✔ తత్వశాస్త్రం

Medicine

3. ✘ వైద్యశాస్త్రం

Social life

4. ✘ సాంఘిక జీవితం

Question Number : 104 Question Id : 381906558 Question Type : MCQ Option Shuffling : No
Display Question Number : Yes Is Question Mandatory : No Calculator : None Response Time
: N.A Think Time : N.A Minimum Instruction Time : 0

Correct Marks : 1 Wrong Marks : 0

“Pankaj Udhas” who passed away recently associated with which fields?

ఇటీవల కాలంలో మరణించిన “పంకజ్ ఉధాస్ ” క్రింది వాటిలోని దేనితో సంబంధం కలిగి ఉన్నారు ?

Options :

Politics

రాజకీయం

1. ✘

Sports

క్రీడలు

2. ✘

Singing

పాడటం

3. ✔

Science

విజ్ఞాన శాస్త్రం

4. ✘

Question Number : 105 Question Id : 381906559 Question Type : MCQ Option Shuffling : No
Display Question Number : Yes Is Question Mandatory : No Calculator : None Response Time
: N.A Think Time : N.A Minimum Instruction Time : 0

Correct Marks : 1 Wrong Marks : 0

What is the theme of “World NGO Day 2024”?

“వరల్డ్ ఎన్జిఓ (NGO) డే 2024” యొక్క థీమ్ ఏమిటి?

Options :

Building a sustainable future : The role of NGOs in Achieving the SDGS

సుస్థిర భవిష్యత్ నిర్మాణం: సుస్థిర అభివృద్ధి లక్ష్యాలను (SDGS) సాధించుటలో NGOs పాత్ర

1. ✔

2. ✘

Building a more equitable world

విశ్వసమానత్వం నెలకొల్పడం

Empowering Communities for Sustainable Development

3. ✘ సుస్థిర అభివృద్ధి కోసం సంఘాల సాధికారత

Celebrating Community Heroes

4. ✘ సంఘనాయకులను గూర్చి వేడుకలు చేసుకోవడం

Question Number : 106 Question Id : 381906560 Question Type : MCQ Option Shuffling : No
Display Question Number : Yes Is Question Mandatory : No Calculator : None Response Time
: N.A Think Time : N.A Minimum Instruction Time : 0

Correct Marks : 1 Wrong Marks : 0

Recently, which Institute has launched the 'India's largest Drone Pilot Training Organization'?

'భారత దేశ అతిపెద్ద డ్రోన్ పైలట్ తర్ఫీదు ఇన్స్టిట్యూట్ ' ను ప్రారంభించిన సంస్థ ఏది?

Options :

IIT Bombay

1. ✘ IIT బాంబే

IIT Guwahati

2. ✓ IIT గౌహతి

IIT Roorkey

3. ✘ IIT రూర్కీ

IIT Kanpur
IIT కాన్పూర్

4. ✘

Question Number : 107 Question Id : 381906561 Question Type : MCQ Option Shuffling : No
Display Question Number : Yes Is Question Mandatory : No Calculator : None Response Time
: N.A Think Time : N.A Minimum Instruction Time : 0

Correct Marks : 1 Wrong Marks : 0

“Digital Detox” Initiative recently seen in the news is associated with which state
ఇటీవల కాలంలో “డిజిటల్ డిటాక్స్” అను భావనను పరిచయం చేస్తూ వార్తల్లో నిలిచిన రాష్ట్రం ఏది?

Options :

1. ✘ Kerala
కేరళ

2. ✓ Karnataka
కర్ణాటక

3. ✘ Rajasthan
రాజస్థాన్

4. ✘ Maharashtra
మహారాష్ట్ర

Question Number : 108 Question Id : 381906562 Question Type : MCQ Option Shuffling : No
Display Question Number : Yes Is Question Mandatory : No Calculator : None Response Time
: N.A Think Time : N.A Minimum Instruction Time : 0

Correct Marks : 1 Wrong Marks : 0

General Dong Jung, who was recently in news is the defence Minister of which country?

ఇటీవల వార్తల్లోకెక్కిన జనరల్ డాంగ్ జంగ్ ఏ దేశ రక్షణ మంత్రిగా ఉన్నారు ?

Options :

China

1. ✓ చైనా

Taiwan

2. ✗ తైవాన్

South Korea

3. ✗ సౌత్ కొరియా

North Korea

4. ✗ నార్త్ కొరియా

Question Number : 109 Question Id : 381906563 Question Type : MCQ Option Shuffling : No

Display Question Number : Yes Is Question Mandatory : No Calculator : None Response Time

: N.A Think Time : N.A Minimum Instruction Time : 0

Correct Marks : 1 Wrong Marks : 0

“Global Waste Management Outlook 2024” recently seen in

news is published by which one of the following organization

ఇటీవల వార్తల్లోకెక్కిన “గ్లోబల్ వేస్ట్ మేనేజ్మెంట్ ఔట్ లుక్ 2024” ను ప్రచురించిన సంస్థ ఏది?

Options :

UNEP

1. ✓ యూఎన్ఇపి

UNDP

2. ✘ యూఎన్‌డిపి

UNESCO

3. ✘ యూనెస్కో

IMF

4. ✘ ఐఎమ్‌ఎఫ్

Question Number : 110 Question Id : 381906564 Question Type : MCQ Option Shuffling : No
Display Question Number : Yes Is Question Mandatory : No Calculator : None Response Time
: N.A Think Time : N.A Minimum Instruction Time : 0

Correct Marks : 1 Wrong Marks : 0

Recently which South American country has declared a health emergency due to the rising of Dengue Fever?

సౌత్ అమెరికా లోని ఏ దేశంలో డెంగ్యూ వ్యాధి తీవ్రంగా ప్రభలుతున్న నేపథ్యంలో హెల్త్ ఎమర్జెన్సీని ప్రకటించారు?

Options :

Chile

1. ✘ చిలీ

Peru

2. ✔ పెరు

Argentina

3. ✘ అర్జెంటీనా

Bolivia

4. ✖ బోలీవియా

Question Number : 111 Question Id : 381906565 Question Type : MCQ Option Shuffling : No
Display Question Number : Yes Is Question Mandatory : No Calculator : None Response Time
: N.A Think Time : N.A Minimum Instruction Time : 0

Correct Marks : 1 Wrong Marks : 0

“Vantara” initiative recently seen in the news, is associated with which of the following?

ఇటీవల కాలంలో ప్రాచుర్యం పొందిన “వంతారా” అంశానికి సంబంధించినదాన్ని గుర్తించండి

Options :

Animal welfare

1. ✖ జంతు సంక్షేమం

Climate change

2. ✔ వాతావరణ మార్పు

Environmental protection

3. ✖ పర్యావరణ పరిరక్షణ

Historical monuments

4. ✖ చారిత్రక కట్టడాలు

Question Number : 112 Question Id : 381906566 Question Type : MCQ Option Shuffling : No
Display Question Number : Yes Is Question Mandatory : No Calculator : None Response Time
: N.A Think Time : N.A Minimum Instruction Time : 0

Correct Marks : 1 Wrong Marks : 0

Which Institution constituted a taskforce to examine the impact of Digital personal Data protection Act on Insurance Sector

ఇన్సూరెన్స్ పర్సనల్ డేటా ప్రొటెక్షన్ యాక్ట్ ప్రభావాన్ని పరిశీలించడానికి టాస్క్ ఫోర్స్‌ను అభివృద్ధిపరిచిన సంస్థ ఏది?

Options :

Ministry of Electronics & IT

ఐటి మరియు ఎలక్ట్రానిక్స్ మంత్రిత్వ శాఖ

1. ✘

IRDAI

ఐ ఆర్ డి ఎ ఐ

2. ✔

RBI

ఆర్ బి ఐ

3. ✘

SEBI

యస్ ఇ బి ఐ

4. ✘

Question Number : 113 Question Id : 381906567 Question Type : MCQ Option Shuffling : No Display Question Number : Yes Is Question Mandatory : No Calculator : None Response Time : N.A Think Time : N.A Minimum Instruction Time : 0

Correct Marks : 1 Wrong Marks : 0

Funds raised through “Social Bonds on Bombay Stock Exchange” as listed in NABARD would be used to reference in which one of the following scheme?

నాబార్డ్ లో పేర్కొన్న “సోషల్ బాండ్స్ ఆన్ బాంబే స్టాక్ ఎక్స్చేంజ్” ద్వారా సమకూరే నిధి,

ఏ స్కీమ్ యొక్క నిర్దేశం ద్వారా వాడబడుతుంది ?

Options :

1. ✘

PMAY

పి ఎమ్ ఎ వై

PM SVANidhi

2. ✘ పి.ఎమ్ స్వానిధి

Jal Jeevan Mission

3. ✔ జల్ జీవన్ మిషన్

PMGSY

4. ✘ పి ఎమ్ జి ఎస్ వై

Question Number : 114 Question Id : 381906568 Question Type : MCQ Option Shuffling : No
Display Question Number : Yes Is Question Mandatory : No Calculator : None Response Time
: N.A Think Time : N.A Minimum Instruction Time : 0

Correct Marks : 1 Wrong Marks : 0

Which region of India is richest in Iron & Coal deposits?

భారతదేశంలో ఏ ప్రాంతంలో ఇనుము బొగ్గు గనులు ఎక్కువగా ఉన్నాయి?

Options :

Thar Desert

1. ✘ థార్ ఎడారి

The Southern region

2. ✘ దక్షిణ ప్రాంతం

Himalayan region

హిమాలయ ప్రాంతం

3. ✘

Chota Nagpur plateau

చోటా నాగపూర్ పీఠభూమి

4. ✔

Question Number : 115 Question Id : 381906569 Question Type : MCQ Option Shuffling : No
Display Question Number : Yes Is Question Mandatory : No Calculator : None Response Time
: N.A Think Time : N.A Minimum Instruction Time : 0
Correct Marks : 1 Wrong Marks : 0

Bihu Naas is a dance form prevalently practiced in which State?

బీహు నాస్ నృత్య కళారీతి ఏ రాష్ట్రానికి సంబంధించిన నృత్యం?

Options :

West Bengal

పశ్చిమ బెంగాల్

1. ✘

Bihar

బీహార్

2. ✘

Assam

అస్సాం

3. ✔

Karnataka

కర్ణాటక

4. ✘

Question Number : 116 Question Id : 381906570 Question Type : MCQ Option Shuffling : No
Display Question Number : Yes Is Question Mandatory : No Calculator : None Response Time
: N.A Think Time : N.A Minimum Instruction Time : 0

Correct Marks : 1 Wrong Marks : 0

To create scientific temperament, initiative amongst the Indian students, Central Government has started ATL Lab. What is the full form of ATL?

విద్యార్థుల్లో శాస్త్రీయ దృక్పథాన్ని పెంపొందించుటకై కేంద్ర ప్రభుత్వం ద్వారా ల్యాబ్ అవిష్కరించబడింది.
దీనిలో ATL విస్తీకరణ ఏది?

Options :

1. ✘ Applied Techno Lab
అప్లైడ్ టెక్నో ల్యాబ్

2. ✔ Atal Tinkering Lab
అటల్ టింకరింగ్ ల్యాబ్

3. ✘ Alternate Technique Lab
అల్టర్నేట్ టెక్నిక్ ల్యాబ్

4. ✘ Atal Technology Lab
అటల్ టెక్నాలజీ ల్యాబ్

Question Number : 117 Question Id : 381906571 Question Type : MCQ Option Shuffling : No
Display Question Number : Yes Is Question Mandatory : No Calculator : None Response Time
: N.A Think Time : N.A Minimum Instruction Time : 0

Correct Marks : 1 Wrong Marks : 0

First cyber law which provides the Legal infrastructure for e – commerce in India is
భారతదేశంలో ఏ సైబర్ చట్టం మొదటి సారిగ లీగల్ ఇన్ఫ్రాస్ట్రక్చర్ ఫర్ ఇ- కామర్స్ ను రూపొందించింది?

Options :

1. ✘ The information technology Act, 1996
ది ఇన్ఫర్మేషన్ టెక్నాలజీ యాక్ట్, 1996

2. ✔ The Information Technology Act, 2000
ది ఇన్ఫర్మేషన్ టెక్నాలజీ యాక్ట్, 2000

3. ✘ The Information Technology Act, 1998
ది ఇన్ఫర్మేషన్ టెక్నాలజీ యాక్ట్, 1998

4. ✘ The Information Technology Act, 1990
ది ఇన్ఫర్మేషన్ టెక్నాలజీ యాక్ట్, 1990

Question Number : 118 Question Id : 381906572 Question Type : MCQ Option Shuffling : No
Display Question Number : Yes Is Question Mandatory : No Calculator : None Response Time
: N.A Think Time : N.A Minimum Instruction Time : 0

Correct Marks : 1 Wrong Marks : 0

Which state is set to host the “Mahakumbh 2025” event?

“మహాకుంభ -2025” కి ఏరాష్ట్రం ప్రాతినిధ్యం వహిస్తుంది ?

Options :

1. ✔ Uttar Pradesh
ఉత్తర ప్రదేశ్

2. ✘ Karnataka
కర్ణాటక

3. ✘

Odisha

ଓଡ଼ିଶା

West Bengal

పశ్చిమ బెంగాల్

4. ✖

Question Number : 119 Question Id : 381906573 Question Type : MCQ Option Shuffling : No
Display Question Number : Yes Is Question Mandatory : No Calculator : None Response Time
: N.A Think Time : N.A Minimum Instruction Time : 0

Correct Marks : 1 Wrong Marks : 0

Bhopal gas tragedy is associated with the leakage of
భోపాల్ గ్యాస్ విపత్తు కు కారణమైన వాయువేదో గుర్తించండి

Options :

Carbon dioxide

కార్బన్ డయాక్సైడ్

1. ✖

Nitrogen dioxide

నైట్రోజన్ డయాక్సైడ్

2. ✖

Sulphur dioxide

సల్ఫర్ డయాక్సైడ్

3. ✖

Methyl Isocyanate

మిథైల్ ఐసోసైనేట్

4. ✔

Question Number : 120 Question Id : 381906574 Question Type : MCQ Option Shuffling : No
Display Question Number : Yes Is Question Mandatory : No Calculator : None Response Time
: N.A Think Time : N.A Minimum Instruction Time : 0

Correct Marks : 1 Wrong Marks : 0

Which Sate has launched “Indias First Village Atlas”?

“ భారతదేశ మొదటి గ్రామ అట్లాస్ ” ను అవిష్కరించిన రాష్ట్రం ఏది?

Options :

Rajasthan

1. ✘ రాజస్థాన్

Goa

2. ✔ గోవా

Jharkhand

3. ✘ జార్ఖండ్

Chattisgarh

4. ✘ చత్తీస్ఘుడ్

Question Number : 121 Question Id : 381906575 Question Type : MCQ Option Shuffling : No
Display Question Number : Yes Is Question Mandatory : No Calculator : None Response Time
: N.A Think Time : N.A Minimum Instruction Time : 0

Correct Marks : 1 Wrong Marks : 0

Which ministries and departments are involved in ‘PM Gati Shakti National Master Plan’?

‘ప్రధాన మంత్రి గతిశక్తి జాతీయ మాస్టర్ ప్లాన్ ’ లో ఏ యే మంత్రిత్వ శాఖలు మరియు విభాగాలు పాల్గొంటాయి?

Options :

1. ✘

Railways and Roadways

రైలు మార్గాలు మరియు రోడ్డు మార్గాలు

Civil Aviation and Shipping

పౌర విమానయానం మరియు ఓడరేవులు

2. ✘

Railways, Civil Aviation, MEITY, Shipping, and Road Transport

రైలు మార్గాలు, పౌర విమానయానం, ఎలక్ట్రానిక్స్, ఇన్ఫర్మేషన్ టెక్నాలజీ మంత్రిత్వ శాఖ (MEIT),

3. ✔

ఓడరేవులు, రోడ్డు మార్గాల మంత్రిత్వ శాఖలు

Railways, Roadways, and Civil Aviation

4. ✘

రైలు మార్గాలు, రోడ్డు మార్గాలు, మరియు పౌర విమానయాన మంత్రిత్వ శాఖలు

Question Number : 122 Question Id : 381906576 Question Type : MCQ Option Shuffling : No
Display Question Number : Yes Is Question Mandatory : No Calculator : None Response Time
: N.A Think Time : N.A Minimum Instruction Time : 0

Correct Marks : 1 Wrong Marks : 0

Which Indian state is known for its traditional dance form called “Perini”?

భారత రాష్ట్రాల్లో ఏ రాష్ట్రం పేరిణి అనే సాంప్రదాయ నృత్య రూపానికి ప్రసిద్ధి చెందింది ?

Options :

Tamil Nadu

1. ✘

తమిళనాడు

Kerala

2. ✘

కేరళ

3. ✘

Karnataka

ಕರ್ನಾಟಕ

Telangana

తెలంగాణ

4. ✓

Question Number : 123 Question Id : 381906577 Question Type : MCQ Option Shuffling : No
Display Question Number : Yes Is Question Mandatory : No Calculator : None Response Time
: N.A Think Time : N.A Minimum Instruction Time : 0

Correct Marks : 1 Wrong Marks : 0

Which policy proposed the establishment of PARAKH?

PARAKH ఏర్పాటు ను ఏ పాలసీ ప్రతిపాదించింది ?

Options :

New Education Policy - 2020

1. ✓

నూతన విద్యా విధానం -2020

National Assessment Policy -2019

2. ✘

జాతీయ అసెస్‌మెంట్ విధానం - 2019

Educational Reform Policy -2021

3. ✘

విద్యా సంస్కరణల విధానం -2021

Holistic Development Policy - 2018

4. ✘

సమగ్ర అభివృద్ధి విధానం -2018

Question Number : 124 Question Id : 381906578 Question Type : MCQ Option Shuffling : No
Display Question Number : Yes Is Question Mandatory : No Calculator : None Response Time
: N.A Think Time : N.A Minimum Instruction Time : 0

Correct Marks : 1 Wrong Marks : 0

Who plays the central role in enacting holistic teaching methods?
సమగ్ర బోధనా పద్ధతులను అమలు చేయడంలో ఎవరు ప్రధాన పాత్ర పోషిస్తారు ?

Options :

1. ✘ Friends
స్నేహితులు
2. ✘ Classmates
సహోధ్యాయులు
3. ✔ Teachers
ఉపాధ్యాయులు
4. ✘ Parents
తల్లిదండ్రులు

Question Number : 125 Question Id : 381906579 Question Type : MCQ Option Shuffling : No
Display Question Number : Yes Is Question Mandatory : No Calculator : None Response Time
: N.A Think Time : N.A Minimum Instruction Time : 0

Correct Marks : 1 Wrong Marks : 0

What is the purpose of learning objectives in a lesson?
పాఠ్యాంశం లోని అభ్యసన లక్ష్యాల యొక్క ఉద్దేశ్యం ఏమిటి?

Options :

1. ✔

To outline what students should be able to do or know by the end of the lesson
పాఠం పూర్తయ్యే సమయానికి ఏమి చేయగలరో ఏమి తెలుసుకోగలరో అనే విషయాన్ని తెలుపడం కోసం

To promote competition among students

విద్యార్థుల మధ్య పోటీని ప్రోత్సహించడం కోసం

2. ✘

To focus solely on academic achievements

పూర్తిగా విద్యా ప్రగతిపై దృష్టి నిలపడం కోసం

3. ✘

To guide the planning and instruction of the lesson

పాఠ్యాంశమునకు తగిన సూచనలను మార్గదర్శనం చేయడానికి

4. ✘

Question Number : 126 Question Id : 381906580 Question Type : MCQ Option Shuffling : No
Display Question Number : Yes Is Question Mandatory : No Calculator : None Response Time
: N.A Think Time : N.A Minimum Instruction Time : 0

Correct Marks : 1 Wrong Marks : 0

According to NEP 2020, what is the new curricular structure that replaces
the current 10+2+3 system?

ప్రస్తుత 10+2+3 విధానం లో, జాతీయ విద్యా విధానం (NEP) 2020 ప్రకారం కొత్త
విద్యా విధానం నిర్మాణం ఏమిటి?

Options :

1. ✘ 3+4+4+5

2. ✔ 5+3+3+4

3. ✘ 4+3+3+5

4. ✘ 5+4+3+3

Question Number : 127 Question Id : 381906581 Question Type : MCQ Option Shuffling : No
Display Question Number : Yes Is Question Mandatory : No Calculator : None Response Time
: N.A Think Time : N.A Minimum Instruction Time : 0

Correct Marks : 1 Wrong Marks : 0

Which of the following is **not** a reason for the socio-economic disadvantage faced by marginalized communities in India?

భారతదేశం లోని అట్టడుగు వర్గాలు ఎదుర్కొంటున్న సామాజిక, ఆర్థిక ప్రతికూలతలకు క్రింది వాటిలో కారణం కానిదేది?

Options :

1. ✘ Caste-based discrimination
కుల ఆధారిత వివక్ష
2. ✘ Lack of access to quality education
నాణ్యమైన విద్య అందుబాటులో లేకపోవడం
3. ✘ Limited economic opportunities
పరిమితమైన ఆర్థిక అవకాశాలు
4. ✔ Availability of social welfare programs
సామాజిక సంక్షేమ పథకాల లభ్యత

Question Number : 128 Question Id : 381906582 Question Type : MCQ Option Shuffling : No
Display Question Number : Yes Is Question Mandatory : No Calculator : None Response Time
: N.A Think Time : N.A Minimum Instruction Time : 0

Correct Marks : 1 Wrong Marks : 0

Which article of the Indian Constitution prohibits discrimination on the grounds of religion, race, caste, sex, or place of birth?

జాతి, కుల, మత, లింగ జన్మ స్థలాల ఆధారంగా వివక్ష ను నిషేధించే భారత రాజ్యాంగ నిబంధన (ఆర్టికల్) ఏది?

Options :

1. ✓ Article 14
ఆర్టికల్ 14

2. ✗ Article 19
ఆర్టికల్ 19

3. ✗ Article 21
ఆర్టికల్ 21

4. ✗ Article 24
ఆర్టికల్ 24

Question Number : 129 Question Id : 381906583 Question Type : MCQ Option Shuffling : No Display Question Number : Yes Is Question Mandatory : No Calculator : None Response Time : N.A Think Time : N.A Minimum Instruction Time : 0

Correct Marks : 1 Wrong Marks : 0

Which amendment of the Indian Constitution introduced the 'Right to Education' as a Fundamental Right?

విద్యా హక్కును 'ప్రాథమిక హక్కుగా' ప్రవేశపెట్టిన భారత రాజ్యాంగ సవరణ ఏది?

Options :

1. ✓ 86th Amendment
86 వ సవరణ

2. ✘ 92nd Amendment
92 వ సవరణ

3. ✘ 97th Amendment
97 వ సవరణ

4. ✘ 104th Amendment
104 వ సవరణ

Question Number : 130 Question Id : 381906584 Question Type : MCQ Option Shuffling : No
Display Question Number : Yes Is Question Mandatory : No Calculator : None Response Time
: N.A Think Time : N.A Minimum Instruction Time : 0

Correct Marks : 1 Wrong Marks : 0

Which Government body is responsible for monitoring the implementation of the
Samagra Shiksha Abhiyan program?

సమగ్ర శిక్షా అభియాన్ కార్యక్రమ అమలు తీరును పర్యవేక్షించే భార్యత ఏ ప్రభుత్వ సంస్థపై ఉంది?

Options :

1. ✓ Ministry of Education
విద్యా మంత్రిత్వ శాఖ

2. ✘ National Human Rights Commission
జాతీయ మానవ హక్కుల కమిషన్

3.

National Council of Educational Research and Training

జాతీయ విద్యా పరిశోధన శిక్షణా మండలి

✖

National Institute of Open Schooling

జాతీయ ఓపెన్ స్కూల్ విద్యా సంస్థ

4. ✖

Computer Awareness

Section Id :	38190620
Section Number :	5
Section type :	Online
Mandatory or Optional :	Mandatory
Number of Questions :	20
Number of Questions to be attempted :	20
Section Marks :	20
Enable Mark as Answered Mark for Review and Clear Response :	Yes
Maximum Instruction Time :	0
Sub-Section Number :	1
Sub-Section Id :	38190624
Question Shuffling Allowed :	Yes
Is Section Default? :	null

Question Number : 131 Question Id : 381906585 Question Type : MCQ Option Shuffling : No
Display Question Number : Yes Is Question Mandatory : No Calculator : None Response Time
: N.A Think Time : N.A Minimum Instruction Time : 0
Correct Marks : 1 Wrong Marks : 0

A computer converts data into this.

కంప్యూటర్ దత్తాంశాన్ని ఇలా మారుస్తుంది

Options :

1. ✘ Charts
వివరణ పటం
2. ✔ Information
సమాచారం
3. ✘ Input / output
ఇన్పుట్ / అవుట్పుట్
4. ✘ Software
సాఫ్ట్వేర్

Question Number : 132 Question Id : 381906586 Question Type : MCQ Option Shuffling : No
Display Question Number : Yes Is Question Mandatory : No Calculator : None Response Time
: N.A Think Time : N.A Minimum Instruction Time : 0

Correct Marks : 1 Wrong Marks : 0

Which type of software would you use to make the computer perform a specific task, such as writing a letter or drawing a picture?

లేఖను వ్రాయడం లేదా చిత్రాన్ని గీయడం వంటి నిర్దిష్ట పనులను చేయడానికి మీరు ఏ సాఫ్ట్వేర్ ను ఉపయోగించడానికి ప్రాధాన్యతనిస్తారు?

Options :

1. ✘ Utility software
యుటిలిటీ సాఫ్ట్వేర్

2.

Operating system software

ఆపరేటింగ్ సిస్టమ్ సాఫ్ట్‌వేర్

✘

System software

సిస్టమ్ సాఫ్ట్‌వేర్

3. ✘

Application software

అప్లికేషన్ సాఫ్ట్‌వేర్

4. ✔

Question Number : 133 Question Id : 381906587 Question Type : MCQ Option Shuffling : No
Display Question Number : Yes Is Question Mandatory : No Calculator : None Response Time
: N.A Think Time : N.A Minimum Instruction Time : 0

Correct Marks : 1 Wrong Marks : 0

In most programs, you can press this key to get help.

చాలా ప్రోగ్రామ్ లలో సహాయం కోసం ఈ కీని నొక్క వచ్చు

Options :

1. ✘ Alt

2. ✘ Esc

3. ✔ F₁

4. ✘ F₁₀

Question Number : 134 Question Id : 381906588 Question Type : MCQ Option Shuffling : No

Display Question Number : Yes Is Question Mandatory : No Calculator : None Response Time : N.A Think Time : N.A Minimum Instruction Time : 0

Correct Marks : 1 Wrong Marks : 0

To use a microphone for input, you must install a _____ on your computer.

మైక్రోఫోన్ ని ఇన్పుట్ కోసం ఉపయోగించడానికి మీరు తప్పనిసరిగా మీ కంప్యూటర్ లో _____ ని ప్రవేశ పెట్టాలి

Options :

1. ✘ Acoustic card
అకౌస్టిక్ కార్డ్

2. ✔ Sound card
ధ్వని కార్డ్

3. ✘ Audio card
శ్రవణ కార్డ్

4. ✘ Aural cord
అరల్ కార్డ్

Question Number : 135 Question Id : 381906589 Question Type : MCQ Option Shuffling : No Display Question Number : Yes Is Question Mandatory : No Calculator : None Response Time : N.A Think Time : N.A Minimum Instruction Time : 0

Correct Marks : 1 Wrong Marks : 0

Resolution is determined by the computer's _____ .

స్పష్టత అనేది కంప్యూటర్ యొక్క _____ చేత నిర్ణయించబడుతుంది

Options :

1. ✔

Video controller
వీడియో కంట్రోలర్

2. ✘ CPU
సి పి యు

3. ✘ System unit
సిస్టమ్ యూనిట్

4. ✘ Monitor
మానిటర్

Question Number : 136 Question Id : 381906590 Question Type : MCQ Option Shuffling : No
Display Question Number : Yes Is Question Mandatory : No Calculator : None Response Time
: N.A Think Time : N.A Minimum Instruction Time : 0

Correct Marks : 1 Wrong Marks : 0

Laser printers use heat and pressure to bind the tiny particles of a _____ to paper.

లేజర్ ప్రింటర్స్ వేడిని మరియు ఒత్తిడిని ఉపయోగించి చిన్న కణాల ను కాగితం పై దేనితో బంధిస్తాయి.

Options :

1. ✘ Ink
సిర

2. ✔ Toner
టోనర్

3. ✘ Wax
వ్యాక్స్

4. ✘ Dye
రంగు వేయడం

Question Number : 137 Question Id : 381906591 Question Type : MCQ Option Shuffling : No
Display Question Number : Yes Is Question Mandatory : No Calculator : None Response Time
: N.A Think Time : N.A Minimum Instruction Time : 0

Correct Marks : 1 Wrong Marks : 0

A computer's CPU consists of millions of tiny switches called _____ .
లక్షలకొద్ది చిన్న స్విచ్‌లను కలిగిన కంప్యూటర్ సిపియు ని ఇలా అంటారు

Options :

1. ✔ Transistors
ట్రాన్సిస్టర్స్

2. ✘ Registers
రిజిస్టర్స్

3. ✘ Bits
బిట్స్

4. ✘ Bytes
బైట్స్

Question Number : 138 Question Id : 381906592 Question Type : MCQ Option Shuffling : No
Display Question Number : Yes Is Question Mandatory : No Calculator : None Response Time
: N.A Think Time : N.A Minimum Instruction Time : 0

Correct Marks : 1 Wrong Marks : 0

A list of command choices in an operating system or application is called a _____.
ఒక ఆపరేటింగ్ సిస్టమ్ లేదా అప్లికేషన్ అప్లికేషన్ ఎంపికల జాబితాను ఇలా అంటారు

Options :

1. ✘ Check box
చెక్ బాక్స్

2. ✘ Drop-down list
డ్రాప్ డౌన్ లిస్ట్

3. ✔ Menu
మెనూ

4. ✘ Command line
కమాండ్ లైన్

Question Number : 139 Question Id : 381906593 Question Type : MCQ Option Shuffling : No
Display Question Number : Yes Is Question Mandatory : No Calculator : None Response Time
: N.A Think Time : N.A Minimum Instruction Time : 0

Correct Marks : 1 Wrong Marks : 0

The hypertext transfer protocol uses Internet addresses in a special
format, called a _____ Resource Locator.

హైపర్ టెక్స్ట్ ట్రాన్స్ఫర్ ప్రోటోకాల్ అంతర్జాల చిరునామాలను ప్రత్యేక పద్ధతిలో ఉపయోగించడాన్ని
రిసోర్స్ లొకేటర్ అని అంటారు

Options :

1. ✘ United
యునైటెడ్

2. ✓ Uniform
యునిఫామ్

3. ✘ Unvarying
అన్వేరింగ్

4. ✘ Unified
యునిఫైడ్

Question Number : 140 Question Id : 381906594 Question Type : MCQ Option Shuffling : No
Display Question Number : Yes Is Question Mandatory : No Calculator : None Response Time
: N.A Think Time : N.A Minimum Instruction Time : 0

Correct Marks : 1 Wrong Marks : 0

The Internet tool which is used to copy files from one computer to another is known as _____.

ఒక కంప్యూటర్ నుండి మరొక కంప్యూటర్ కు ఫైల్స్‌లను పంపించుటకు ఉపయోగించే అంతర్జాల సాధనాన్ని ఇలా అంటారు

Options :

1. ✘ SMTP

2. ✓ FTP

3. ✘ TCP

4. ✘ ITP

Question Number : 141 Question Id : 381906595 Question Type : MCQ Option Shuffling : No
Display Question Number : Yes Is Question Mandatory : No Calculator : None Response Time
: N.A Think Time : N.A Minimum Instruction Time : 0

Correct Marks : 1 Wrong Marks : 0

_____ is the generic name given for the station that is installed, when an organization contracts with an ISP.

_____ అనేది ఒక సంస్థ ISP తో ఒప్పందం చేసుకున్నప్పుడు, ఇన్స్టాల్ చేయబడిన స్టేషన్ కు ఇవ్వబడిన సాధారణ పేరు

Options :

1. ✘ TASV

2. ✔ VSAT

3. ✘ ASTV

4. ✘ SATV

Question Number : 142 Question Id : 381906596 Question Type : MCQ Option Shuffling : No
Display Question Number : Yes Is Question Mandatory : No Calculator : None Response Time
: N.A Think Time : N.A Minimum Instruction Time : 0

Correct Marks : 1 Wrong Marks : 0

In MS-Word, if you wish to replace original text with new text, you use the following shortcut for Replace function:

ఈ క్రింది వాటిలో ఎమ్ ఎస్ -వర్డ్ లో అసలు టెక్స్టు ను కొత్త టెక్స్టుతో మార్చే విధికి వినియోగించే షార్ట్ కట్ ఏది ?

Options :

1. ✘ Ctrl + R

2. ✘ Ctrl + F

3. ✔ Ctrl + H

4. ✘ Ctrl + S

Question Number : 143 Question Id : 381906597 Question Type : MCQ Option Shuffling : No
Display Question Number : Yes Is Question Mandatory : No Calculator : None Response Time
: N.A Think Time : N.A Minimum Instruction Time : 0

Correct Marks : 1 Wrong Marks : 0

To create a chart in a slide, you enter data in a separate window called as _____.
స్లైడ్లలో పటాన్ని రూపొందించడానికి ప్రత్యేక విండోలో దత్తాంశాన్ని నమోదు చేయడాన్ని ఇలా అంటారు.

Options :

spreadsheet
1. ✘ స్ప్రెడ్‌షీట్

rapsheet
2. ✘ రాప్‌షీట్

worksheet
3. ✘ వర్క్‌షీట్

datasheet
4. ✔ డేటాషీట్

Question Number : 144 Question Id : 381906598 Question Type : MCQ Option Shuffling : No
Display Question Number : Yes Is Question Mandatory : No Calculator : None Response Time
: N.A Think Time : N.A Minimum Instruction Time : 0

Correct Marks : 1 Wrong Marks : 0

Spreadsheets work with four basic kinds of data labels, numbers, date and _____.
స్పెడ్షీట్ నాలుగు ప్రాథమిక రకాల దత్తాంశాలతో పనిచేస్తుంది అవి లేబుల్స్, సంఖ్యలు, తేది మరియు _____.

Options :

1. ✘ logical
లాజికల్
2. ✔ formula
ఫార్ములా
3. ✘ image
ఇమేజ్
4. ✘ Boolean
బూలియన్

Question Number : 145 Question Id : 381906599 Question Type : MCQ Option Shuffling : No
Display Question Number : Yes Is Question Mandatory : No Calculator : None Response Time
: N.A Think Time : N.A Minimum Instruction Time : 0

Correct Marks : 1 Wrong Marks : 0

A _____ can convert a printed image into digital format.
ప్రింటెడ్ ఇమేజ్ ని డిజిటల్ ఫార్మాట్ లోకి మార్చగలదేది?

Options :

1. ✘ digital camera
డిజిటల్ కెమెరా

2. ✘ photocopier
ఫోటోకాపీయర్

3. ✘ computer
కంప్యూటర్

4. ✔ scanner
స్కానర్

Question Number : 146 Question Id : 381906600 Question Type : MCQ Option Shuffling : No
Display Question Number : Yes Is Question Mandatory : No Calculator : None Response Time
: N.A Think Time : N.A Minimum Instruction Time : 0
Correct Marks : 1 Wrong Marks : 0

GIF images are often found on www pages, they contain only _____ or fewer colors.

చిత్రాలు తరుచుగా WWW పేజీలో కనిపిస్తాయి అవి _____ లేదా తక్కువ రంగులను మాత్రమే కలిగి ఉంటాయి

Options :

1. ✔ 256

2. ✘ 356

3. ✘ 456

4. ✖ 556

Question Number : 147 Question Id : 381906601 Question Type : MCQ Option Shuffling : No
Display Question Number : Yes Is Question Mandatory : No Calculator : None Response Time
: N.A Think Time : N.A Minimum Instruction Time : 0

Correct Marks : 1 Wrong Marks : 0

Characters that are not used in calculations are usually stored in a _____ .
గణనలలో ఉపయోగించని అక్షరాలు సాధారణంగా దేనిలో నిల్వ చేయబడుతాయి?

Options :

1. ✔ text field
టెక్స్ట్ ఫీల్డ్

2. ✖ date field
డేట్ ఫీల్డ్

3. ✖ binary field
బైనరీ ఫీల్డ్

4. ✖ database
డేటాబేస్

Question Number : 148 Question Id : 381906602 Question Type : MCQ Option Shuffling : No
Display Question Number : Yes Is Question Mandatory : No Calculator : None Response Time
: N.A Think Time : N.A Minimum Instruction Time : 0

Correct Marks : 1 Wrong Marks : 0

The fields which typically include automatic error checking features are _____ .
సాధారణంగా స్వయంచలన తప్పుల తనిఖీ లక్షణాలు కలిగి ఉన్న ఫీల్డ్ లను ఇలా అంటారు

Options :

1. ✘ binary
బైనరీ

2. ✘ text
టెక్స్ట్

3. ✘ numeric
న్యూమెరిక్

4. ✔ date and time
తేది మరియు సమయం

**Question Number : 149 Question Id : 381906603 Question Type : MCQ Option Shuffling : No
Display Question Number : Yes Is Question Mandatory : No Calculator : None Response Time
: N.A Think Time : N.A Minimum Instruction Time : 0**

Correct Marks : 1 Wrong Marks : 0

The order in which program statements are executed is called _____
ప్రోగ్రామ్ స్టేట్‌మెంట్‌లు అమలు చేయబడే క్రమాన్ని ఇలా పిలుస్తారు

Options :

1. ✘ program syntax
ప్రోగ్రాం వాక్య నిర్మాణం

2. ✘ programming language
ప్రోగ్రామింగ్ భాష

3. ✘ program execution
ప్రోగ్రాం అమలు పరుచుట

4. ✔ program control flow
ప్రోగ్రాం నియంత్రణ ప్రవాహం

Question Number : 150 Question Id : 381906604 Question Type : MCQ Option Shuffling : No
Display Question Number : Yes Is Question Mandatory : No Calculator : None Response Time
: N.A Think Time : N.A Minimum Instruction Time : 0

Correct Marks : 1 Wrong Marks : 0

Anti-spyware utilities can detect the spyware and _____ programs.
యాన్టీ-స్పైవేర్ యుటిలిటీస్ ఏ సైవేర్ మరియు క్రింది వానిలోని ప్రోగ్రాంలను గుర్తిస్తాయి?

Options :

1. ✘ viruses
వైరస్లు

2. ✘ net bug
నెట్ బగ్

3. ✘ program bug
ప్రోగ్రామ్ బగ్

4. ✔ web bug
వెబ్ బగ్