



छत्तीसगढ़ माध्यमिक शिक्षा मण्डल रायपुर
द्वारा निर्मित प्रश्न बैंक
2023-24



कक्षा 12

भूगोल (GEOGRAPHY)

अनुक्रमणिका

इकाई	पृ. क्र.
इकाई 1	3
इकाई 2	11
इकाई 3	17
इकाई 4	21
इकाई 5	32
इकाई 6	34
इकाई 7	42
इकाई 8	45
इकाई 9	48

इकाई – 1

दीर्घ उत्तरीय प्रश्न (Long Answers Questions) :-

(प्रत्येक प्रश्न पर 5 अंक निर्धारित है। उत्तर की शब्द सीमा 150 शब्दों तक है।)
(Each question carries 5 marks. Maximum word-limit of answer is 150 words.)

प्र.क्र. 1. मानव भूगोल की परिभाषा देते हुए मानव भूगोल की प्रकृति को समझाइए।

Giving the definition of human geography explain the nature of human geography.

प्र.क्र. 2. प्रकृति का मानवीकरण और मानव का प्राकृतोकरण को समझाइए।

Explain humanization of nature and naturalization of man.

प्र.क्र. 3. ग्रिफिथ टेलर द्वारा प्रस्तुत की गई नवनिश्चयवाद संकल्पना की व्याख्या कीजिए।

Explain the concept of Neodeterminism introduced by Griffith Taylor.

प्र.क्र. 4. मानव भूगोल के विषय क्षेत्र का वर्णन कीजिए।


Describe the subject area of human geography.

प्र.क्र. 5. मानव भूगोल के अध्ययन की तीन नवीन विचारधाराओं का वर्णन कीजिए।

Describe three new ideologies of study of human geography.

प्र.क्र. 6. “प्रकृति तथा मानव अविभाज्य तत्व होते हैं।” इस कथन की पुष्टि कीजिए।

Nature and humans are inseparable elements confirm this statements.



प्र.क्र. 7. आपके विचार से मानव भूगोल की कौन सी विचारधारा मानव भूगोल के विषय क्षेत्र का पोषण करती है? एक तुलनात्मक अध्ययन प्रस्तुत करें।

In your opinion, which ideology of human geography nourishes the subject area of human subject's and present a comparative study?

प्र.क्र. 8. "प्रकृति तथा मानव एक-दूसरे से जटिलता पूर्वक गुंथे हुए हैं।" इस कथन को बनाये रखने के लिए किन मानवीय मूल्यों की आवश्यकता है? स्पष्ट कीजिए।

"Nature and humans are intricately intertwined." What human values are needed to maintain this statement? Explain.

इकाई – 2

अति लघु उत्तरीय प्रश्न (Very Short Answers Questions) :-

(प्रत्येक प्रश्न पर 1 अंक निर्धारित है।)

(Each question carries 1 mark.)

प्र.क्र. 9. तीव्र जनसंख्या की स्थिति को क्या कहते हैं?

What is the condition of rapid population called?

प्र.क्र. 10. विश्व में सर्वाधिक लिंगानुपात किस देश में है?

Which country has the highest sex ratio in the world?

प्र.क्र. 11. विश्व में सबसे अधिक प्रजनन दर वाला देश कौन सा है?

Which country has the highest fertility rate in the world?

प्र.क्र. 12. विश्व में जनसंख्या के हिसाब से भारत का स्थान कौन सा है?

What is the place of India in terms of population in the world?

प्र.क्र. 13. मानव विकास सूचकांक क्या है?

What is Human Development Index?

प्र.क्र. 14. निम्न मानव सूचकांक मूल्य वाले कोई दो देशों के नाम लिखिए।

Name any two countries having low Human Index value.

प्र.क्र. 15. लिंग-अनुपात का अर्थ बताइए।

Give the meaning of sex ratio.

प्र.क्र. 16. कार्यशील जनसंख्या किसे कहते हैं?

What is the working population?

प्र.क्र. 17. जनसंख्या वृद्धि/परिवर्तन किसे कहते हैं?

What is population growth/change?

प्र.क्र. 18. 15 से 59 आयु वर्ग की जनसंख्या को क्या कहते हैं?

What is the population of the age group of 15 to 59 called?

प्र.क्र. 19. आयु संरचना को कितने वर्गों में बाँटा गया है?

Into how many categories is the age structure divided?

प्र.क्र. 20. जन्म दर से आप क्या समझते हैं?

What do you understand by birth rate?

प्र.क्र. 21. मृत्यु दर से आप क्या समझते हैं?

What do you understand by mortality rate?

प्र.क्र. 22. मानव विकास संकल्पना कब और किसने प्रस्तुत किया?

When and who presented the concept of human development?

प्र.क्र. 23. कौन से गोलार्द्ध में विश्व की अधिक जनसंख्या निवासरत है? प्रतिशत में लिखिए।

In which hemisphere does most of the world's population live? Write in percentage.

प्र.क्र. 24. मानव विकास सूचकांक का प्रतिपादन सर्वप्रथम किसने किया?

Who first presented the human development Index?

प्र.क्र. 25. मानव विकास सूचकांक का प्रतिपादन भारत में सर्वप्रथम किसने किया?

Who was the first to formulate human development index in India?

प्र.क्र. 26. मानव का विकास उत्तरी गोलार्द्ध में कितने अक्षांशों के मध्य विकसित हुआ?

At how many latitudes in the Northern Hemisphere did humans evolve?

प्र.क्र. 27. विश्व में सबसे कम लिंगानुपात किस देश में है?

Which country has lowest sex ratio in the world?

लघु उत्तरीय प्रश्न (Short Answers Questions) :-

(प्रत्येक प्रश्न पर 3 अंक निर्धारित है। उत्तर की शब्द सीमा 50 शब्दों तक है।)
(Each question carries 3 marks. The word limit for answer is 50 words.)

प्र.क्र. 28. जन्मदर एवं मृत्युदर में अंतर स्पष्ट कीजिए। (कोई तीन)

Explain the difference between birth rate and death rate. (Any three)

प्र.क्र. 29. जनसंख्या वितरण को प्रभावित करने वाले कोई तीन कारक लिखिए।

Write any three factors affecting population distribution.

प्र.क्र. 30. मानव विकास के प्रमुख स्तंभों का वर्णन कीजिए। (कोई तीन)

Describe the main pillars of human development. (Any three)

प्र.क्र. 31. जनसंख्या घनत्व से आप क्या समझते हैं? जनसंख्या घनत्व का सूत्र लिखिए।

What do you understand by population density? Write the formula for population density.

प्र.क्र. 32. प्रवास से क्या आशय है? प्रवास कितने प्रकार के होते हैं?

What is meant by migration? How many types of migration there?

प्र.क्र. 33. प्रवास को प्रभावित करने वाले कारकों का वर्णन कीजिए। (कोई 3)

Describe the factors affecting migration. (Any 3)

प्र.क्र. 34. प्रवास क्या है? प्रवास कितने प्रकार का होता है?

What is migration? How many types of migration are there?

प्र.क्र. 35. चिंतन करे विश्व के छोटे भू-भाग पर अधिक जनसंख्या तथा बड़े भू-भाग पर कम जनसंख्या पाई जाती है, क्यों?

Think about why more population is found in smaller areas of the world and less population in larger areas?

प्र.क्र. 36. आपके विचार से जनांकिकीय संक्रमण की कौन सी अवस्था जनसंख्या की अनुकूल स्थिति को दर्शाती है?

In your opinion which stage of the demographic transition reflects the favorable condition of the population?

दीर्घ उत्तरीय प्रश्न (Long Answers Questions) :-


(प्रत्येक प्रश्न पर 5 अंक निर्धारित है। उत्तर की शब्द सीमा 150 शब्दों तक है।)
(Each question carries 5 marks. The word limit of the answer is 150 words.)

प्र.क्र. 37. जनांकिकीय संक्रमण सिद्धांत के तीन अवस्थाओं का वर्णन करते हुए सचित्र व्याख्या कीजिए।

Give a pictorial explanation describing the three stages of the demographic transition theory.

प्र.क्र. 38. जनसंख्या वृद्धि के आर्थिक एवं सामाजिक कारकों का वर्णन कीजिए।

Describe the economic and social factors of population growth.




प्र.क्र. 39. मानव विकास अवधारणा के अंतर्गत समता और सतत् पोषणीयता से आप क्या समझते हैं?

What do you understand by equity and sustainability under the concept of human development?

प्र.क्र. 40. आयु-लिंग पिरामिड से क्या प्रदर्शित किया जाता है? रेखाचित्र बनाकर स्पष्ट कीजिए।

Explain by drawing a diagram. What is shown by the age-sex pyramid?




प्र.क्र. 41. साक्षरता को प्रभावित करने वाले कारकों का वर्णन कीजिए। (कोई पाँच)

Describe the factors affecting literacy. (Any five)

प्र.क्र. 42. मानव विकास से क्या तात्पर्य है? मानव विकास के स्तंभों की व्याख्या कीजिए।

What is meant by human development? Explain the pillars of human development.



प्र.क्र. 43. ग्रामीण जनसंख्या का नगरों की ओर प्रवास के कारणों को स्पष्ट कीजिए। (कोई पाँच)

Explain the reasons for migration of rural population towards cities. (Any five)

प्र.क्र. 44. विश्व में महिलाओं के लिंगानुपात प्रतिकूल होने के कोई पाँच कारण बताइए।

Give any five reasons for the unfavorable sex ratio of women in the world.



प्र.क्र. 45. स्थिर जनसंख्या और ह्रासमान जनसंख्या में अंतर बताइए। (कोई पाँच)

Differentiate between a fixed population and a diminishing population. (Any five)

प्र.क्र. 46. जनसंख्या के ग्रामीण – नगरीय संघटन का वर्णन कीजिए।

Describe the rural-urban composition of the population.

प्र.क्र. 47. क्या जनसंख्या के वितरण और घनत्व को प्रभावित करने में भौतिक कारकों की भूमिका महत्वपूर्ण होती है? यदि हाँ तो प्रमुख भौतिक कारकों की व्याख्या कर स्पष्ट करें।

Do physical factor play an important role in influencing the distribution and density of population? If yes then explain the major physical factor. Please clarify.

इकाई – 3

अति लघु उत्तरीय प्रश्न (Very Short Answers Questions) :-

(प्रत्येक प्रश्न पर 1 अंक निर्धारित है।)

(Each question carries 1 mark.)

प्र.क्र. 48. प्राथमिक क्रियाएं किसे कहते हैं?

What are primary activities called?

प्र.क्र. 49. खनन किसे कहते हैं?

What is mining called?

प्र.क्र. 50. ट्रक फॉर्मिंग कृषि किसे कहते हैं?

What is Truck Farming Agriculture?

प्र.क्र. 51. च्यूइंगम कैसे बनता है?

How is chewing gum made?

प्र.क्र. 52. जंग का कटोरा किसे कहते हैं?

What is called rust bowl?

प्र.क्र. 53. लाल कॉलर से क्या तात्पर्य है?

What is meant by red collar?

प्र.क्र. 54. पंचम क्रियाकलाप से क्या आशय है?

What is meant by the fifth activity?

प्र.क्र. 55. प्रौद्योगिकी ध्रुव किसे कहते हैं?

Who is the technology pole?

प्र.क्र. 56. साइबर स्पेस से क्या आशय है?

What is meant by cyber space?

प्र.क्र. 57. नाफ्टा (NAFTA) क्या है?

What is NAFTA?

प्र.क्र. 58. साफ्टा (SAFTA) क्या है?

What is SAFTA?

प्र.क्र. 59. विनिर्माण से क्या आशय है?

What is meant by manufacturing?

प्र.क्र. 60. महामार्ग किसे कहा जाता है?

Which is called a highway?

प्र.क्र. 61. जापान का डेट्रायट किस शहर को कहा जाता है?

Which city is called Detroit of Japan?

प्र.क्र. 62. सैलेरी शब्द की व्याख्या कीजिए।

Explain the word salary.

प्र.क्र. 63. मुक्त व्यापार से क्या आशय है?

What is meant by free trade?

प्र.क्र. 64. OPEC ओपेक का मुख्यालय कहाँ है?

Where is the headquarters of OPEC?

प्र.क्र. 65. आशियान (ASEAN) का मुख्यालय कहाँ है?

Where is the headquarters of ASEAN?

प्र.क्र. 66. ट्रॉस साइबेरियन रेलमार्ग कहाँ की जीवन रेखा है?

Where is the lifeline of the Trans-Siberian Rail line?

प्र.क्र. 67. “WHO” का शाब्दिक अर्थ लिखिए?

Write the literal meaning of “WHO”?

प्र.क्र. 68. स्वेज नहर का निर्माण कब हुआ?

When was the Suez Canal built?

प्र.क्र. 69. निष्कर्षण प्रक्रिया किसे कहते हैं?

What is the extraction process called?

प्र.क्र. 70. विश्व का सबसे व्यस्ततम समुद्री मार्ग कौन सा है?

Which is the busiest sea route in the world?

प्र.क्र. 71. फूल की खेती कौन सी कृषि कहलाती है?

Which agriculture is called floriculture?

प्र.क्र. 72. आधारभूत उद्योग किस उद्योग को कहते हैं?

Which industry is called basic industry?

प्र.क्र. 73. मानचस्टर किस उद्योग के लिए प्रसिद्ध है?

Manchester is famous for which industry?

प्र.क्र. 74. कृषि से क्या अभिप्राय है?

What is meant by agriculture?

प्र.क्र. 75. आखेट एवं भोजन संग्रह किस क्रिया कलाप के अंतर्गत आता है?

Hunting and food gathering comes under which activity?

प्र.क्र. 76. कृषि आधारित कोई 2 उद्योगों के नाम लिखिए।

Write the names of any 2 agriculture based industries.

प्र.क्र. 77. रसायन आधारित कोई दो उद्योगों के नाम लिखिए।

Write the names of any two chemical based industries.

प्र.क्र. 78. वन आधारित उद्योगों के नाम लिखिए।

Write the names of forest based industries.

प्र.क्र. 79. पशु आधारित उद्योगों के नाम लिखिए।

Write the names of animal based industries.

प्र.क्र. 80. रूहर औद्योगिक प्रदेश किस देश में स्थित है?

In which country is the Ruhr Industrial Region located?

प्र.क्र. 81. टायोटा कंपनी किस देश में स्थित है?

In which country is Toyota Company located?

प्र.क्र. 82. दूर संचार शब्द से क्या आशय है?

What is meant by the word telecommunication?

प्र.क्र. 83. वस्तु विनियम व्यवस्था से आप क्या समझते हैं?

What do you understand by commodity regulation system?

लघु उत्तरीय प्रश्न (Short Answers Questions) :-

(प्रत्येक प्रश्न पर 3 अंक निर्धारित है। उत्तर की शब्द सीमा 50 शब्दों तक है।)
(Each question carries 3 marks. The word limit of the answer is 50 words.)

प्र.क्र. 84. खनन किसे कहते हैं? खनन की विधियों का वर्णन कीजिए।

What is mining called? Describe the methods of mining.

प्र.क्र. 85. फटकर व्यापार और थोक व्यापार को समझाइए।

Explain retail trade and wholesale trade.

प्र.क्र. 86. जीवकोपार्जन कृषि के अंतर्गत कौन-कौन सी कृषि आती है?

Which agriculture comes under livelihood agriculture?

प्र.क्र. 87. प्राथमिक व्यवसाय के अंतर्गत आने वाले किन्हीं तीन व्यवसाय का वर्णन कीजिए।

Describe any three occupations that come under primary business.

प्र.क्र. 88. डेयरी फॉर्मिंग एक आधुनिक व्यवसाय है। स्पष्ट कीजिए।

Dairy farming is a modern business. Explain.

प्र.क्र. 89. परिवहन के साधनों का महत्व लिखिए। (कोई तीन)

Write the importance of means of transport. (Any three)

प्र.क्र. 90. सूचना प्रौद्योगिकी से आप क्या समझते हैं?

What do you understand by Information Technology?

प्र.क्र. 91. साइबर स्पेस इंटरनेट का महत्व लिखिए।

Write the importance of cyber space internet.

प्र.क्र. 92. अन्तर्राष्ट्रीय व्यापार के आधार को समझाइए। (कोई तीन)

Explain the basis of international trade. (Any three)

प्र.क्र. 93. उपभोक्ता उद्योग से क्या तात्पर्य है? उदाहरण सहित समझाइए।

What is meant by consumer industry? Explain with example.

प्र.क्र. 94. प्राथमिक एवं द्वितीयक गतिविधियों में कोई तीन अंतर बताइए।

State any three differences between primary and secondary activities.

प्र.क्र. 95. कुटीर और लघु उद्योग में अंतर बताइए। (कोई तीन)

Write the difference of cottage and small scale industry. (Any three)

प्र.क्र. 96. बाज़ारीय सब्जी कृषि नगरीय क्षेत्रों के समीप ही क्यों की जाती है।

Why is market vegetable farming done near urban areas?

प्र.क्र. 97. धुएँ की चिमनी वाले उद्योग से क्या तात्पर्य है। स्पष्ट कीजिए।

What is meant by smoke chimney industry? Explain.

प्र.क्र. 98. पारमहाद्वीपीय रेलमार्ग से आप क्या समझते हैं?

What do you understand by transcontinental railway?

प्र.क्र. 99. चावल प्रधान गहन निर्वाह कृषि की तीन विशेषताओं का वर्णन कीजिए।

Describe three characteristics of rice-based intensive subsistence agriculture.

प्र.क्र. 100. विश्व का व्यस्ततम समुद्री मार्ग कौन-सा है और क्यों?

Which is the busiest sea route in the world and why?

प्र.क्र. 101.निम्नलिखित पर टिप्पणी लिखिये :-

- (1) उच्च प्रौद्योगिकी उद्योग (2) विनिर्माण
(3) स्वच्छन्द उद्योग

Write comments on the following:-

- (1) High technology industry (2) Manufacturing
(3) Independent industry

प्र.क्र. 102.पर्वतों, मरुस्थलों तथा बाढ़ संभावित प्रदेशों में स्थल परिवहन की क्या-क्या समस्याएँ हैं?

What are the problems of land transport in mountains, deserts and flood prone areas?

प्र.क्र. 103.जल परिवहन से क्या लाभ हैं? (कोई 3)

What are the benefits of water transportation? (Any 3)

प्र.क्र. 104.“केप काहिरा” रेलमार्ग पर एक संक्षिप्त टिप्पणी लिखिए।

Write a short note on “Cape Kahira” Railway.

प्र.क्र. 105.ओरिएंट एक्सप्रेस रेलमार्ग पर एक टिप्पणी लिखिए।

Write a note on Orient Express Railway.

प्र.क्र. 106.केनेडियन पैसिफिक रेलमार्ग पर एक टिप्पणी लिखिए।


Write a note on Canadian Pacific Railway.

प्र.क्र. 107.अन्तर्राष्ट्रीय व्यापार से देश कैसे लाभ प्राप्त करते हैं?

How do countries benefit from international trade?

प्र.क्र. 108.विश्व व्यापार संगठन के आधारभूत कार्य कौन-से हैं?

What are the basic functions of the World Trade Organization?



प्र.क्र. 109. ऋणात्मक भुगतान संतुलन का होना किसी देश के लिए क्यों हानिकारक होता है?

Why is it harmful for a country to have a negative balance of payments?

प्र.क्र. 110. आयात व निर्यात में अंतर लिखिए।

Write the difference between import and export.

प्र.क्र. 111. स्थानांतरित कृषि का भविष्य अच्छा नहीं है। विवेचना कीजिए।

The future of shifting agriculture is not good. Do the attitude.

प्र.क्र. 112. विस्तृत पैमाने पर डेयरी कृषि की विकास यातायात के साधनों एवं प्रशीतकों के विकास के बाद ही संभव हो सका क्यों?

Why was the development of dairy farming possible on a large scale only after the development of means of transport and refrigeration?

प्र.क्र. 113. अधिकतर देशों में उच्च प्रौद्योगिकी उद्योग प्रमुख महानगरों के परिधि क्षेत्रों में ही क्यों विकसित हो रहे हैं? व्याख्या कीजिए।

Why in most countries are high technology industries developing only in the peripheral areas of major metropolitan cities? Explain.

प्र.क्र. 114. क्या रूहर क्षेत्र का अवसान होना विकास की अवधारणा का एक प्रमुख अंग है? स्पष्ट व्याख्या करें।

Explain clearly whether ruhar region is an important part of the concept of development.

दीर्घ उत्तरीय प्रश्न (Long Answers Questions) :-

(प्रत्येक प्रश्न पर 5 अंक निर्धारित है। उत्तर की शब्द सीमा 150 शब्दों तक है।)

(Each question carries 5 marks. The word limit of the answer is 150 words.)

प्र.क्र. 115.स्थानांतरित कृषि किसे कहते हैं? इसके लक्षणों को लिखिए।

What is called shifted agriculture? Write its characteristics.

प्र.क्र. 116.पनामा नहर एवं स्वेज नहर में तुलना कीजिए। (कोई पाँच)

Compare the Panama Canal and the Suez Canal. (Any five)

प्र.क्र. 117.स्वेज नहर के व्यापारिक महत्व को सचित्र बताइए।

Explain the commercial importance of the Suez Canal.

प्र.क्र. 118.चलवासी पशुचारण और वाणिज्य पशुधन पालन में अंतर लिखिए।
(कोई पाँच)

Differentiate between nomadic pastoralism and commercial livestock rearing. (Any five)

प्र.क्र. 119.जनसंचार के किन्ही पाँच साधनों का वर्णन कीजिए।

Describe any five means of mass communication.

प्र.क्र. 120.उद्योगों के स्थानीयकरण के कारकों का वर्णन कीजिए।

Describe the factors of localization of industries.

प्र.क्र. 121.सं.रा.अमेरिका में महामार्गों का उच्च घनत्व पाया जाता है। कारण बताइए। (कोई पाँच)

The U.S.A. has a high density of highways. Give reason. (Any five)

प्र.क्र. 122.विश्व के प्रमुख सामुद्रिक मार्ग का संक्षिप्त वर्णन कीजिए।

Briefly describe the major sea routes of the world.

प्र.क्र. 123. ट्रांससाइबेरियन रेलमार्ग को साइबेरिया की जीवनरेखा कहा जाता है। क्यों? सचित्र समझाइए।

The Transsiberian Rail line is called the lifeline of Siberia. Why? Explain illustrated.

प्र.क्र. 124. पत्तन किस प्रकार व्यापार के लिये सहायक होते हैं? पत्तनों का वर्गीकरण उनकी अवस्थिति के आधार पर कीजिए।

How are ports helpful for trade? Classify the ports on the basis of their location.

प्र.क्र. 125. पर्यटन से क्या तात्पर्य है? पर्यटन की प्रमुख विशेषताओं तथा पर्यटन को आकर्षित एवं प्रभावित करने वाले प्रमुख कारकों का वर्णन कीजिए।

What is meant by tourism? Describe the main features of tourism and the main factors that attract and influence tourism.

प्र.क्र. 126. संसार में प्रचलित रोपण कृषि की किन्हीं पाँच विशेषताओं का वर्णन कीजिए।

Describe any five characteristics of plantation agriculture prevalent in the world.

प्र.क्र. 127. मिश्रित कृषि का क्या अर्थ है? यह कहाँ की जाती है? इनकी प्रमुख विशेषताएँ लिखिए।

What is meant by mixed farming? Where is this done? Write their main characteristics.

प्र.क्र. 128. आधार भूत उद्योग और उपभोक्ता वस्तु उद्योग में अंतर स्पष्ट कीजिए।

Explain the difference between basic industry and consumer goods industry.

प्र.क्र. 129. लघु उद्योग तथा बड़े पैमाने के उद्योग में अंतर लिखिए।

Write the difference between small scale industry and large scale industry.

प्र.क्र. 130. आधुनिक आर्थिक विकास में सेवा सेक्टर की सार्थकता और वृद्धि की चर्चा कीजिए।

Discuss the significance and growth of service sector in modern economic development.

प्र.क्र. 131. परिवहन और संचार सेवाओं की सार्थकता को विस्तार पूर्वक स्पष्ट कीजिए।

Explain in detail the significance of transport and communication services.

प्र.क्र. 132. सेवाएँ क्या हैं? सेवाओं के विभिन्न वर्गों का संक्षेप में वर्णन कीजिए।

What are the services? Briefly describe the different categories of services.

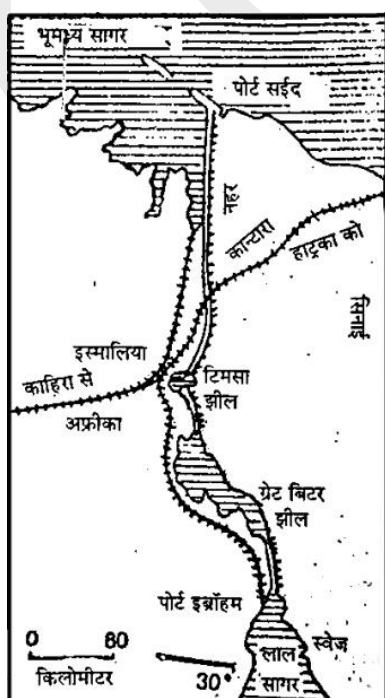
प्र.क्र. 133. पनामा नहर पर सचित्र टिप्पणी लिखिए।

Write a pictorial note on the Panama Canal.

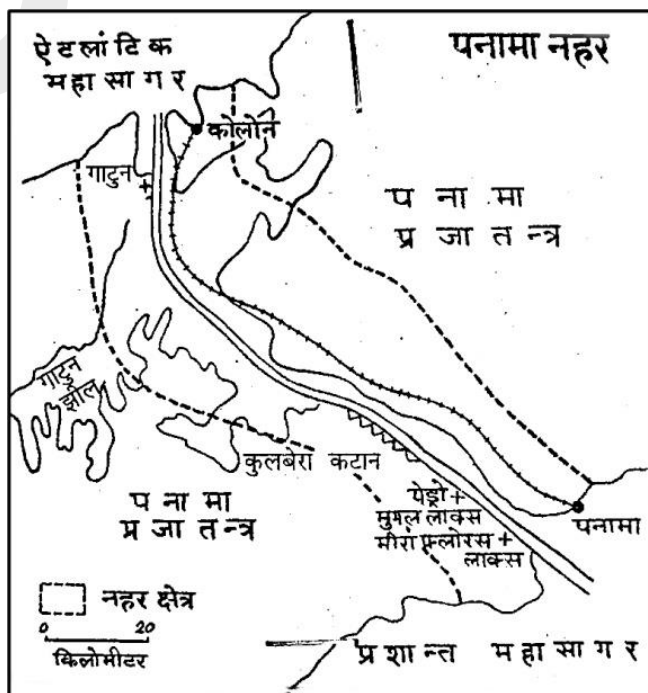
प्र.क्र. 134. चित्र देखकर विस्तृत व्याख्या कीजिए (कोई 1) –

Explain in detail after looking at the picture (Any 1) –

स्वेज नहर



पनामा नहर




इकाई – 4

लघु उत्तरीय प्रश्न (Short Answers Questions) :-

(प्रत्येक प्रश्न पर 3 अंक निर्धारित है। उत्तर की शब्द सीमा 50 शब्दों तक है।)
(Each question carries 3 marks. The word limit of the answer is 50 words.)

प्र.क्र. 135.दिये गए प्रतिरूप को पहचान कर नाम एवं दो विशेषताएँ लिखिए –

Identify the given pattern and write its name and two characteristics.



प्र.क्र. 136.रेखीक प्रतिरूप का चित्र बनाकर दो विशेषताएँ लिखिए।

Draw a diagram of a linear model and write two features.

प्र.क्र. 137.तारा आकार प्रतिरूप की तीन विशेषताएँ लिखिए।

Write three characteristics of star shape pattern.

प्र.क्र. 138.तीरनुमा प्रतिरूप बस्ती का नामांकित चित्र बनाकर समझाइए।

Explain by making a labeled diagram of an arrow-shaped model settlement.

प्र.क्र. 139.टी आकार प्रतिरूप की तीन विशेषताएँ लिखिए।

Write three characteristics of the T shape model.

प्र.क्र. 140.नगरीय बस्ती का वर्गीकरण कीजिए।

Classify the urban settlement.

प्र.क्र. 141. ग्रामीण बस्ती की प्रमुख विशेषताएँ लिखिए।

Write the main features of rural settlement.

प्र.क्र. 142. नीचे दिए गए चित्र को देखकर प्रश्नों के उत्तर दीजिए:—

- (1) इस ग्रामीण बस्ती प्रतिरूप का नाम लिखिए।
- (2) इस प्रतिरूप की दो विशेषताएँ लिखिए।

Look at the picture given below and answer the questions:-

- (1) Write the name of this rural settlement pattern.
- (2) Write two characteristics of this model.

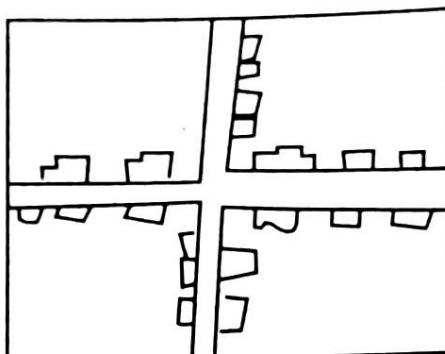


प्र.क्र. 143. नीचे दिए गए चित्र को देखकर प्रश्नों के उत्तर दीजिए:—

- (1) इस ग्रामीण बस्ती प्रतिरूप का नाम लिखिए।
- (2) ऐसे प्रतिरूप कहाँ मिलते हैं?
- (3) इस प्रतिरूप की एक विशेषताएँ लिखिए।

Look at the picture given below and answer the questions:-

- (1) Write the name of this rural settlement pattern.
- (2) Where are such patterns found?
- (3) Write one characteristic of this model.




प्र.क्र. 144. नीचे दिए गए चित्र को देखकर प्रश्नों के उत्तर दीजिए:-

- (1) इस ग्रामीण बस्ती प्रतिरूप का नाम लिखिए।
- (2) ऐसे प्रतिरूप कहाँ मिलते हैं?
- (3) इस प्रतिरूप की एक विशेषताएँ लिखिए।

Look at the picture given below and answer the questions:-

- (1) Write the name of this rural settlement pattern.
- (2) Where are such patterns found?
- (3) Write one characteristic of this model.

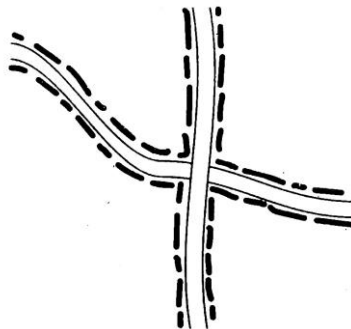



प्र.क्र. 145. नीचे दिए गए चित्र को देखकर प्रश्नों के उत्तर दीजिए:-

- (1) इस ग्रामीण बस्ती प्रतिरूप का नाम लिखिए।
- (2) ऐसे प्रतिरूप कहाँ मिलते हैं?
- (3) इस प्रतिरूप की एक विशेषताएँ लिखिए।

Look at the picture given below and answer the questions:-

- (1) Write the name of this rural settlement pattern.
- (2) Where are such patterns found?
- (3) Write one characteristic of this model.






प्र.क्र. 146. ग्रामीण बस्तियों को आकृति के आधार पर कितने भागों में विभाजित किया गया है?

In how many parts are the rural settlements divided on the basis of shape?

प्र.क्र. 147. अदीस अबाबा क्या है? इसके नियोजन पर प्रकाश डालिए।

What is ADIS Ababa? Throw light on its planning.



प्र.क्र. 148. ग्रामीण बस्तियों की अवस्थिति को प्रभावित करने वाले कारक कौन से हैं?

What are the factors affecting the location of rural settlements?



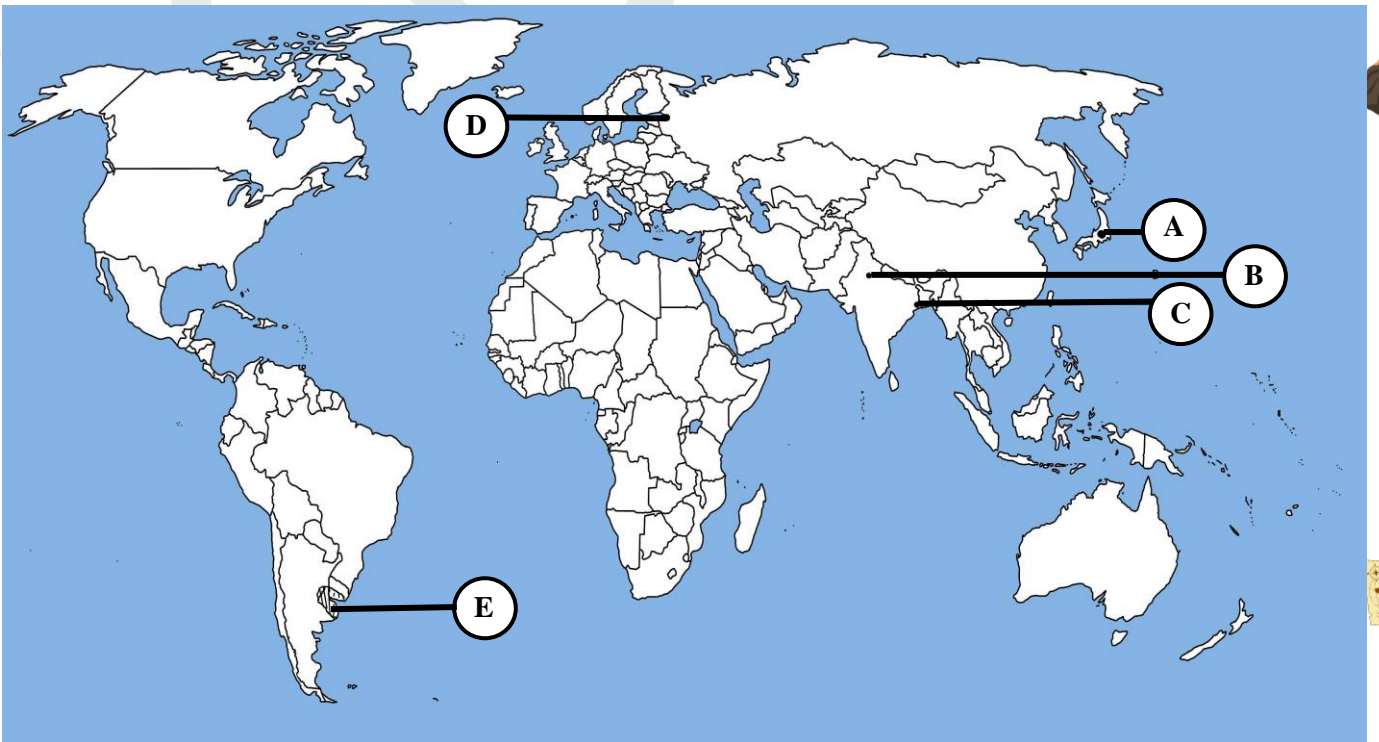
नक्शा कार्य

प्र.क्र. 149. विश्व के राजनीतिक सीमाकार मानचित्र में दर्शाए गए निम्नलिखित बिन्दुओं को पहचानिए तथा उनके नाम अपनी उत्तर पुस्तिका में लिखिए।

- (A) एक मेगासिटी
- (B) एक अंतर्राष्ट्रीय हवाई अड्डा
- (C) एक बड़ा बंदरगाह
- (D) ट्रांस साइबेरियन रेलमार्ग का अंतिम स्टेशन
- (E) दक्षिण अमेरिका का एक घास का मैदान

In the given political outline map of the world, identify the following points and write their names in your answer copy:-

- (A) One Megacity
- (B) One International Airport
- (C) One Major Sea Port
- (D) The Last Station Of The Trans-Siberian Railway
- (E) Grassland in South America



टीप: – दृष्टि बाधित विद्यार्थी जिन प्रश्नों में मानचित्र अंकन दिए गए हैं उनके स्थान पर उनकी प्रसिद्धि विशेषताओं के एक-एक बिन्दु लिखेंगे।

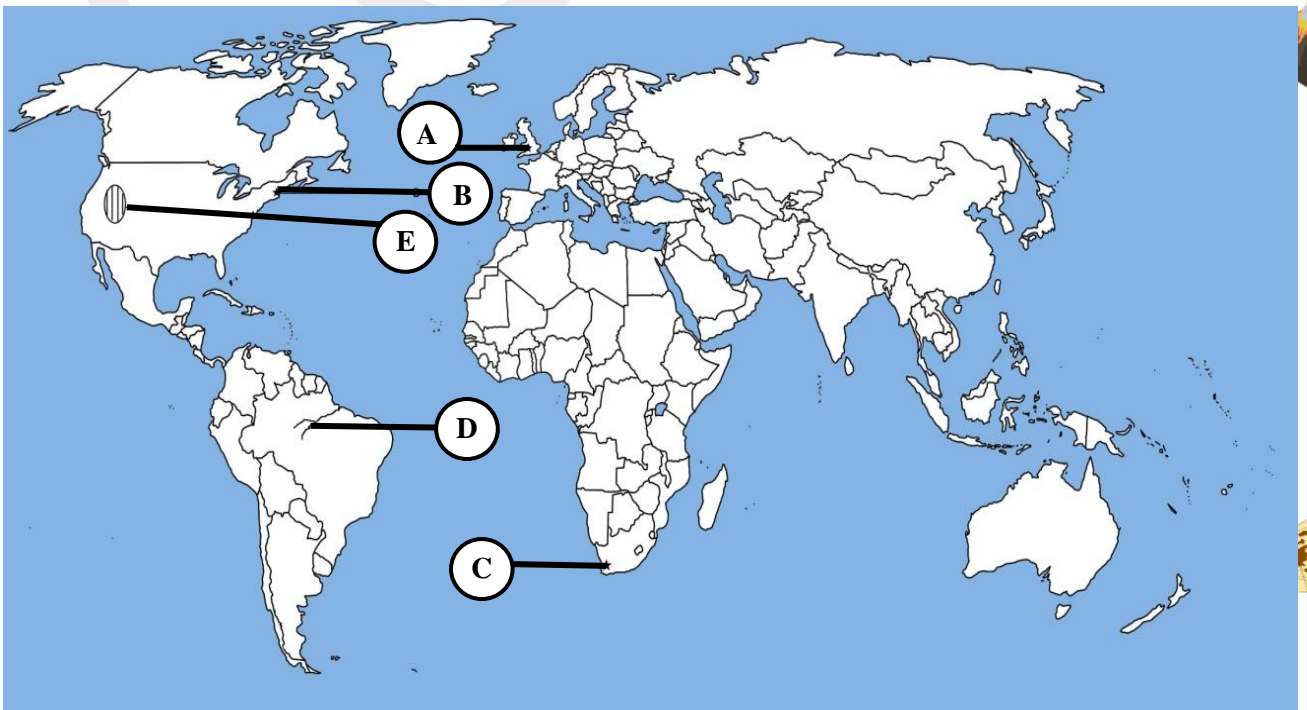
Visually impaired students will write 1-1 point of speciality of those places in the map-making questions.


प्र.क्र. 150. विश्व के राजनीतिक सीमाकार मानचित्र में दर्शाए गए निम्नलिखित बिन्दुओं को पहचानिए तथा उनके नाम अपनी उत्तर पुस्तिका में लिखिए।

- (A) एक मेगासिटी
- (B) एक अंतर्राष्ट्रीय हवाई अड्डा
- (C) एक बड़ा बंदरगाह
- (D) एक प्रमुख नदी
- (E) उत्तर अमेरिका का एक प्रमुख घास का मैदान


In the given political outline map of the world, identify the following points and write their names in your answer copy:-

- (A) One Megacity
- (B) One International Airport
- (C) One Major Sea Port
- (D) Main River
- (E) Grassland In North America







टीप: – दृष्टि बाधित विद्यार्थी जिन प्रश्नों में मानचित्र अंकन दिए गए हैं उनके स्थान पर उनकी प्रसिद्धि विशेषताओं के एक-एक बिन्दु लिखेंगे।



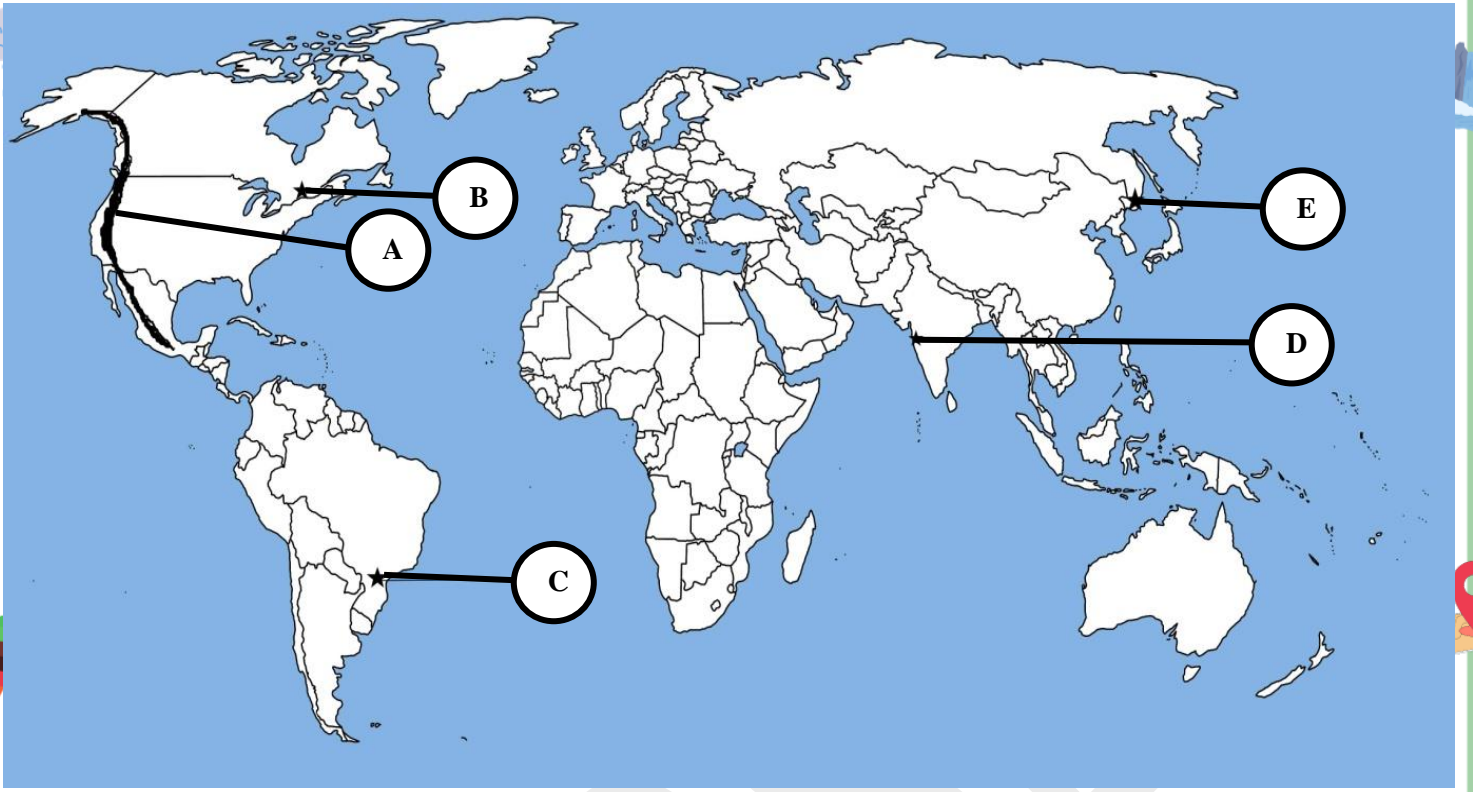
Visually impaired students will write 1-1 point of speciality of those places in the map-making questions.

प्र.क्र. 151. विश्व के राजनीतिक सीमाकार मानचित्र में दर्शाए गए निम्नलिखित बिन्दुओं को पहचानिए तथा उनके नाम अपनी उत्तर पुस्तिका में लिखिए।

- 
- (A) उत्तर अमेरिका की पर्वत श्रृंखला
 - (B) एक मेगासिटी
 - (C) एक प्रमुख बंदरगाह
 - (D) एक अंतर्राष्ट्रीय हवाई अड्डा
 - (E) ट्रांस साइबेरियन रेलमार्ग का प्रथम स्टेशन
- 

In the given political outline map of the world, identify the following points and write their names in your answer copy:-

- (A) Mountain Range In North America
 - (B) Megacity
 - (C) Major Sea Port
 - (D) International Airport
 - (E) The First Station Of The Trans-Siberian Railway
- 
- 
- 
- 



टीप: – दृष्टि बाधित विद्यार्थी जिन प्रश्नों में मानचित्र अंकन दिए गए हैं उनके स्थान पर उनकी प्रसिद्धि विशेषताओं के एक-एक बिन्दु लिखेंगे।

Visually impaired students will write 1-1 point of speciality of those places in the map-making questions.

इकाई – 5

अति लघु उत्तरीय प्रश्न (Very Short Answers Questions) :-

(प्रत्येक प्रश्न पर 1 अंक निर्धारित है।)

(Each question carries 1 mark.)

प्र.क्र. 152. जनसंख्या घनत्व किसे कहते हैं?

What is population density called?

प्र.क्र. 153. 2011 के अनुसार भारत की जनसंख्या कितनी है?

What is the population of India according to 2011?

प्र.क्र. 154. भारत में पहली बार जनगणना कब हुई?

When was the first census conducted in India?

प्र.क्र. 155. प्रवास किसे कहते हैं?

What is called migration?

प्र.क्र. 156. भारत में सर्वाधिक उत्प्रवास किस राज्य से होता है?

From which state is the maximum emigration in India?

प्र.क्र. 157. उत्प्रवास किसे कहते हैं?

What is emigration?

प्र.क्र. 158. अप्रवास किसे कहते हैं?

What is immigration?

प्र.क्र. 159. किस राज्य में प्रवासियों की संख्या सर्वाधिक है?

Which state has the highest number of migrants?

प्र.क्र. 160. भारत में विश्व की कितनी प्रतिशत जनसंख्या निवास करती है?

What percentage of the world's population resides in India?

प्र.क्र. 161. भारत में सर्वाधिक लोगों द्वारा बोली जाने वाली भाषा कौन सी है?

Which language is spoken by most people in India?

प्र.क्र. 162. भारतीय संविधान में कितनी भाषाएँ अनुसूचित हैं?

How many languages are scheduled in the Indian Constitution?

प्र.क्र. 163. प्रवास कितने प्रकार के होते हैं?

What are the types of migration?

प्र.क्र. 164. भारत का पहला प्रवास किस महाद्वीप में हुआ था?

In which continent did India's first migration take place?

प्र.क्र. 165. भारत का जनसंख्या का घनत्व सन् 2011 के अनुसार कितना है?


What is the population density of India as of 2011?

प्र.क्र. 166. सन् 2011 की जनगणना के अनुसार भारत के किस राज्य में जनसंख्या घनत्व सर्वाधिक है?

According to the 2011 census, which state of India has the highest population density?

प्र.क्र. 167. सन् 2011 की जनगणना के अनुसार भारत के किस राज्य की जनसंख्या सर्वाधिक है?

According to the 2011 census, which state of India has the largest population?



प्र.क्र. 168.मानव विकास सूचकांक (2005) के संदर्भ में विश्व के देशों में भारत की कौन सी कोटि क्रम थी?

What was India's rank among the countries of the world in terms of Human Development Index (2005)?

प्र.क्र. 169.भारत के किस राज्य में स्त्री साक्षरता दर निम्न है?

In which state of India is the female literacy rate declined?

प्र.क्र. 170.2011 की जनगणना के अनुसार भारत का जनसंख्या घनत्व कितना है?

What is the population density of India, according to 2011 Census?

प्र.क्र. 171.भारत में विश्व की कितनी प्रतिशत जनसंख्या निवास करती है?

What percentage of the world's population lives in India?

प्र.क्र. 172.जनसंख्या की दृष्टि से भारत का सबसे बड़ा राज्य कौन सा है?

Which is the largest state of India in terms of population?

प्र.क्र. 173.भारत में कितनी प्रतिशत जनसंख्या गाँवों में निवास करती है?

What percentage of population in India lives in villages?

प्र.क्र. 174.भारत में महिला प्रवास के लिए उत्तरदायी प्रमुख कारण क्या है?

What is the main reason, responsible for female migration in India?

प्र.क्र. 175.मानव विकास रिपोर्ट कौन प्रकाशित करता है?

Who publishes human development report?

प्र.क्र. 176.मानव विकास सूचकांक में भारत का कौन सा राज्य उच्चतम कोटि में है?

Which state of India ranks highest in Human Development Index?

लघु उत्तरीय प्रश्न (Short Answers Questions) :-

(प्रत्येक प्रश्न पर 3 अंक निर्धारित है। उत्तर की शब्द सीमा 50 शब्दों तक है।)

(Each question carries 3 marks. The word limit of the answer is 50 words.)

प्र.क्र. 177. प्रवास के जनांकिकीय परिणाम को लिखिए। (कोई तीन)

Write the demographic consequences of migration. (Any three)

प्र.क्र. 178. प्रवास के सामाजिक परिणाम को लिखिए। (कोई तीन)

Write the social consequences of migration. (Any three)

प्र.क्र. 179. भारत में मानव विकास सूचकांक की व्याख्या कीजिए। (कोई तीन)

Write the social consequences of migration. (Any three)

प्र.क्र. 180. मानव विकास क्यों आवश्यक है? व्याख्या कीजिए।

Why is human development necessary? Explain.

प्र.क्र. 181. जनसंख्या वृद्धि को नियंत्रित करने के तीन उपाय लिखिये।

Write three measures to control population growth.

प्र.क्र. 182. प्रवास के कोई तीन कारण लिखिए।

Write any three reasons for migration.

प्र.क्र. 183. ग्रामीण नगरीय जनसंख्या संरचना को स्पष्ट कीजिए।

Explain the rural urban population structure.

प्र.क्र. 184. जनसंख्या वृद्धि से क्या तात्पर्य है? भारत में जनसंख्या वृद्धि की प्रावस्थाओं का वर्णन कीजिए।

What is meant by population growth? Describe the stages of population growth in India.

प्र.क्र. 185. भारत में अंतर्राष्ट्रीय प्रवास के कारणों की विवेचना कीजिए।

Discuss the reasons for international migration to India.

प्र.क्र. 186. समाज शास्त्रियों के अनुसार प्रवास के लिए कौन-कौन से घटक उत्तरदायी हैं?

According to social scientists, which factors are responsible for migration?

प्र.क्र. 187. भारत में प्रवास के आर्थिक परिणामों की व्याख्या कीजिए। (कोई 3)

Explain the economic consequences of migration in India. (Any 3)

प्र.क्र. 188. प्रवास के प्रभावों की विवेचना कीजिए। (कोई 3)

Discuss the effects of migration. (Any 3)

प्र.क्र. 189. भारत के बच्चों में घटते लिंगानुपात के कारण बताइए। (कोई 3)

Explain the reasons for the declining sex ratio among children in India. (Any 3)

प्र.क्र. 190. भारत में सन् 2011 के स्त्री साक्षरता का प्रतिशत कितना है? भारत में स्त्री शिक्षा के स्थानिक प्रारूपों को समझाइए।


What is the percentage of female literacy in India in 2011? Explain the local patterns of women's education in India.

प्र.क्र. 191. भारत क किन क्षेत्रों में जनसंख्या का घनत्व अधिक है और क्यों?

In which region of India the population density is high and why?

प्र.क्र. 192. जनसंख्या वितरण तथा घनत्व को प्रभावित करने वाले कारक कौन-कौन से हैं?

What are the factors affecting population distribution and density?




प्र.क्र. 193. जनसंख्या घनत्व के आधार पर भारत को कितने भागों में बाँटा जा सकता है? लिखिए।

Into how many parts India, can be divided on the basis of population density? Write.

प्र.क्र. 194. भारत में ग्रामीण क्षेत्र से नगरीय प्रवासन अधिक होता है इसके पक्ष में तीन कारण प्रस्तुत कीजिए।

There is more Urban migration from rural areas in India. Present 3 reasons in favor of this.




प्र.क्र. 195. भारत में प्रवास के लिए आकर्षक और प्रतिकर्षक कारक किस प्रकार उत्तरदायी होते हैं? अपने विचार व्यक्त कीजिए।

What are the attractive and repelling factors responsible for migration to India? Express your views.

प्र.क्र. 196. अन्तर्राज्यीय और अन्तर्राष्ट्रीय प्रवास के बीच तीन अन्तर लिखिए।

Write three differences between interstate and international migration.



प्र.क्र. 197. उत्तरी भारत के अधिकांश राज्यों में मानव विकास निम्न स्तर के पाए जाते हैं क्यों? पक्ष में तीन तर्क दीजिए।

Give three arguments in favor of why human development is found to be at a low level in most of the states of Northern India.

इकाई – 6

लघु उत्तरीय प्रश्न (Short Answers Questions) :-

(प्रत्येक प्रश्न पर 3 अंक निर्धारित है। उत्तर की शब्द सीमा 50 शब्दों तक है।)
(Each question carries 3 marks. The word limit of the answer is 50 words.)

प्र.क्र. 198. ग्रामीण बस्ती और नगरीय बस्ती में अंतर बताइए। (कोई तीन)

Differentiate between rural settlement and urban settlement. (Any three)

प्र.क्र. 199. गुच्छित बस्ती और अर्द्ध गुच्छित बस्ती में अंतर बताइए। (कोई तीन)

Distinguish between clustered settlement and semi clustered settlement. (Any three)

प्र.क्र. 200. नियोजित बस्ती किसे कहते हैं? उदाहरण सहित समझाइए।

What is a planned settlement called? Explain with example.

प्र.क्र. 201. ग्रामीण बस्ती की विशेषताएँ लिखिए। (कोई तीन)

Write the characteristics of rural settlement. (Any three)

प्र.क्र. 202. नगरीय बस्ती की विशेषताएँ लिखिए। (कोई तीन)

Write the characteristics of urban settlement. (Any three)

प्र.क्र. 203. कार्यों के आधार पर नगर का वर्गीकरण कीजिए।

Classify the city on the basis of functions.

प्र.क्र. 204. भारतीय नगर के विकास क्रम को समझाइए।

Explain the development sequence of Indian city.

प्र.क्र. 205. गैरिसन नगर किसे कहते हैं? इनका क्या कार्य होता है?

What is Garrison Cities called? What is their function?

प्र.क्र. 206. "भारत गाँवों का देश है" इस कथन कि पुष्टि में अपने तर्क प्रस्तुत कीजिए। (कोई-3)

Present your arguments in support of this statement that India is a country of villages. (Any 3)

प्र.क्र. 207. "भारत के गाँवों में नागरिक सुविधाओं का अभाव है" इस विचार के पक्ष में आप तीन तर्क प्रस्तुत कीजिए।

Present your 3 arguments in support of this statement that India is a country of village?

प्र.क्र. 208. नगर बहुप्रकार्यात्मक होते हैं, क्यों?

Why are cities multifunctional?

प्र.क्र. 209. विभिन्न युगों में विकास के आधार पर भारतीय नगरों को कितने वर्गों में बाँटा जा सकता है? लिखिए।

Write into how many categories Indian cities can be divided on the basis of development in different areas?

इकाई – 7

दीर्घ उत्तरीय प्रश्न (Long Answers Questions) :-

(प्रत्येक प्रश्न पर 5 अंक निर्धारित है। उत्तर की शब्द सीमा 150 शब्दों तक है।)
(Each question carries 5 marks. The word limit of the answer is 150 words.)

प्र.क्र. 210. भारतीय कृषि की समस्याओं का विस्तार से वर्णन कीजिए। (कोई पाँच)

Describe in detail the problems of Indian agriculture. (Any five)

प्र.क्र. 211. भारतीय राष्ट्रीय जलनीति 2002 की प्रमुख विशेषताएँ लिखिए।

Write the main features of Indian National Water Policy 2002.

प्र.क्र. 212. जलसंभर प्रबंधन को समझाइए।

Explain watershed management.

प्र.क्र. 213. ऊर्जा के गैर परंपरागत स्रोतों का वर्णन कीजिए। (कोई पाँच)

Describe the non-conventional sources of energy. (Any five)

प्र.क्र. 214. आर्द्रता के स्रोतों के आधार पर कृषि के कौन-कौन से प्रकार होते हैं?
प्रत्येक का वर्णन कीजिए।

**What are the types of agriculture based on the sources of moisture?
Describe each.**

प्र.क्र. 215. ऋतुओं के आधार पर भारतीय कृषि के प्रकारों का वर्णन कीजिए।

Describe the types of Indian agriculture on the basis of seasons.

प्र.क्र. 216. भारत में स्वतंत्रता प्राप्ति के पश्चात कृषि विकास के महत्वपूर्ण नीतियों का वर्णन कीजिए।

Describe the important policies of agricultural development in India after independence.

प्र.क्र. 217. हरित क्रांति पर निबंध लिखिए।

Write an essay on Green Revolution.

प्र.क्र. 218. भारत में चावल अथवा गेहूँ उत्पादन हेतु निम्न बिंदुओं पर वर्णन कीजिए—

- | | |
|---------------------|------------|
| (1) जलवायु | (2) तापमान |
| (3) वर्षा | (4) मृदा |
| (5) उत्पादक क्षेत्र | |

Describe on the following points for the production of rice or wheat in India

- | | |
|---------------------|-----------------|
| (1) Climate | (2) Temperature |
| (3) Rain | (4) Soil |
| (5) Productive area | |

प्र.क्र. 219. भारत में कपास अथवा जूट उत्पादन हेतु निम्न बिन्दुओं का वर्णन कीजिए—

- | | |
|---------------------|------------|
| (1) जलवायु | (2) तापमान |
| (3) वर्षा | (4) मृदा |
| (5) उत्पादक क्षेत्र | |

Describe the following points for cotton or jute production in India.

- | | |
|---------------------|-----------------|
| (1) Climate | (2) Temperature |
| (3) Rain | (4) Soil |
| (5) Productive area | |

प्र.क्र. 220. भारत में सिंचाई की आवश्यकता क्यों है? प्रमुख 5 कारकों की व्याख्या कीजिए।

Why is irrigation needed in India? Explain the major 5 factors.

प्र.क्र. 221. वर्षा जल संग्रहण के उद्देश्य को बिंदुवार समझाइए। (कोई 5)

Explain the point wise purpose of rain water harvesting. (Any 5)

प्र.क्र. 222. भारत के प्रमुख कोयला उत्पादक क्षेत्रों का विवरण दीजिए।

Give details of the major coal producing areas of India.

प्र.क्र. 223. भूरा हीरा किस खनिज को कहा जाता है? भूरा हीरा भारत में कहाँ-कहाँ पाया जाता है? बताइए।

Which mineral is called brown diamond? Where is the brown diamond found in India? Tell me.

प्र.क्र. 224. चीनी उद्योग एक मौसमी उद्योग है। भारत के प्रमुख चीनी उद्योग केन्द्रों के नाम लिखिए।

Sugar industry is a seasonal industry. Name the major sugar industrial centers of India.

प्र.क्र. 225. गुजरात औद्योगिक प्रदेश की किन्ही पाँच विशेषताओं को लिखिए।

Write any five characteristics of Gujarat industrial region.

प्र.क्र. 226. इंदिरा गांधी नहर कमान क्षेत्र का सिंचाई पर क्या सकारात्मक प्रभाव पड़ा?


What was the positive impact of Indira Gandhi Canal Command Area on irrigation?

प्र.क्र. 227. स्वदेशी आन्दोलन ने सूती वस्त्र उद्योग को किस प्रसार प्रोत्साहन दिया है? विवेचना कीजिए।

Discuss how the Swadeshi movement has encouraged the cotton textile industry?

प्र.क्र. 228. उपयोगिता की दृष्टि से भारतीय कृषि उपजों का वर्गीकरण कीजिए।

Classify Indian agricultural products from the point of view of utility.




प्र.क्र. 229. भारत में भू-राजस्व विभाग द्वारा अपनाये गये भू-उपयोग का संक्षिप्त विवरण दीजिए।

Give a brief description of the land use adopted by the Land Revenue Department in India.

प्र.क्र. 230. जल संसाधनों का ह्रास सामाजिक द्वन्दों और विवादों को जन्म देते हैं। इसे उपयुक्त उदाहरणों सहित समझाइए।

Depletion of water resources gives rise to social conflicts and disputes. This explain with suitable examples.



प्र.क्र. 231. जल-संभर प्रबंधन क्या है? क्या आप सोचते हैं कि यह सतत् पोषणीय विकास में एक महत्वपूर्ण भूमिका अदा करता है?


What is watershed management? Do you think it plays an important role in sustainable development?

प्र.क्र. 232. भारत में जल संसाधनों की कमी के लिए उत्तरदायी किन्ही पाँच कारकों की व्याख्या कीजिए।

Explain any five factors responsible for the shortage of water resources in India.

प्र.क्र. 233. भारत के खनिज संसाधनों का वर्णन कीजिए।

Describe the mineral resources of India.



प्र.क्र. 234. ऊर्जा के कोई दो अपारम्परिक स्रोत कौन-कौन से हैं? सौर ऊर्जा पर टिप्पणी लिखिए।

What are any two non-conventional sources of energy? Write a note on solar energy.

प्र.क्र. 235. भारत में उद्योगों की स्थिति को प्रभावित करने वाले किन्ही पाँच कारकों का वर्णन कीजिए।

Describe any five factors affecting the condition of industries in India.



प्र.क्र. 236.पेट्रो-रसायन उद्योग पर टिप्पणी लिखिए।

Write a note on petrochemical industry.

प्र.क्र. 237.इन्दिरा गांधी नहर कमान क्षेत्र में सतत पोषणीय विकास को बढ़ावा देने के लिये उपाय बताइए।

Suggest measures to promote sustainable development in Indira Gandhi Canal Command area.

प्र.क्र. 238.पिछड़े क्षेत्रों के विकास के लिए बनी राष्ट्रीय समिति ने पहाड़ी क्षेत्रों के विकास के कौन-कौन से सुझाव दिए हैं?

The National Committee formed for the development of backward areas has recommended the development of hilly areas. What suggestions have been given?

प्र.क्र. 239.उपयोग की दृष्टि से भारत में भूमि उपयोग के किन्ही पाँच वर्गों का विस्तार पूर्वक वर्णन कीजिए।


Describe in detail any five Categories of land use in India from the point of view of use.

प्र.क्र. 240.भारतीय कृषि फसलों को कितने वर्गों में बाँटा गया है? समझाइए।

Explain into how many categories Indian agricultural crops have been divided?


प्र.क्र. 241.“शस्य गहनता” शब्द को परिभाषित कीजिए। भारत में शस्य गहनता के असमान वितरण के लिए उत्तरदायी तीन कारणों को उदाहरण सहित स्पष्ट कीजिए।

Define the term crop intensity and explain with examples of the 3 reason responsible for the uneven distribution of crop intensity in India?




प्र.क्र. 242. भारत में वर्षा जल संग्रहण के तीन विधियों को स्पष्ट करते हुए जल संग्रहण के किन्ही दो लाभ लिखिए।


Explaining three methods of rain water harvesting in India, write any two benefits of water harvesting?



प्र.क्र. 243. “बढ़ती जनसंख्या तथा औद्योगीकरण द्वारा जल का अंधाधुंध उपयोग भारत में जलीय गुणवत्ता के अवनयन के लिए प्रमुख रूप से उत्तरदायी है” स्पष्ट कीजिए।



Indiscriminate use of water due to increasing population and industrialization is mainly responsible for the degradation of water quality in India, explain.



प्र.क्र. 244. टिप्पणी लिखिए :-

- (1) पर्वतीय क्षेत्र विकास कार्यक्रम
- (2) सूखा सम्भावी क्षेत्र विकास कार्यक्रम

Write comment:-

- (1) Hill Area Development Program
- (2) Drought Prone Area Development Program.

इकाई – 8

दीर्घ उत्तरीय प्रश्न (Long Answers Questions) :-

(प्रत्येक प्रश्न पर 5 अंक निर्धारित है। उत्तर की शब्द सीमा 150 शब्दों तक है।)
(Each question carries 5 marks. The word limit of the answer is 150 words.)

प्र.क्र. 245. भारत में परिवहन साधनों का चार्ट से प्रदर्शित करते हुए किसी एक का वर्णन कीजिए।

Describe any one with a chart showing the means of transport in India.

प्र.क्र. 246. भारत के आयात एवं निर्यात व्यापार के संयोजन का वर्णन कीजिए।

Describe the composition of India's import and export trade.

प्र.क्र. 247. भारत में पाइप लाइन परिवहन का वर्णन कीजिए।

Describe the pipeline transport in India.

प्र.क्र. 248. भारत में पाइप लाइन परिवहन से लाभ एवं हानि की विवेचना कीजिए।


Discuss the advantages and disadvantages of pipeline transport in India.

प्र.क्र. 249. भारत के आर्थिक विकास में सड़कों की भूमिका का वर्णन कीजिए एवं सड़क परिवहन के लाभ लिखिए।

Describe the role of roads in the economic development of India and write the benefits of road transportation.

प्र.क्र. 250. भारत के विदेश व्यापार नीति का वर्णन कीजिए।

Describe the foreign trade policy of India.



प्र.क्र. 251. परिवहन एवं संचार सेवाओं की सार्थकता को विस्तारपूर्वक स्पष्ट कीजिए।

Explain in detail the importance of transport and communication service?

प्र.क्र. 252. भारत के लोग रेलों को वरीयता क्यों देते हैं? अपने विचार दीजिए।

Give your views on why people of India prefer Railways?

प्र.क्र. 253. स्वर्ण चतुर्भुज राजमार्ग क्या है? इसकी प्रमुख चार विशेषताओं का वर्णन कीजिए।

What is the Golden Quadrilateral, Highway? Describe its main four characteristics.

प्र.क्र. 254. भारत के उपग्रह संचार पर एक टिप्पणी लिखिए।

Write a note on India's Satellite Communication.

इकाई – 9

अति लघु उत्तरीय प्रश्न (Very Short Answers Questions) :-

(प्रत्येक प्रश्न पर 1 अंक निर्धारित है।)

(Each question carries 1 mark.)

प्र.क्र. 255. ध्वनि प्रदूषण किसे कहते हैं?

What is noise pollution called?

प्र.क्र. 256. एशिया के विशालतम गंदी बस्ती का नाम क्या है?

What is the name of the largest slum in Asia?

प्र.क्र. 257. जल प्रदूषण से मुख्यतः कौन-कौन से रोग होते हैं?

Which diseases are mainly caused by water pollution?

प्र.क्र. 258. भू-निम्नीकरण से आप क्या समझते हैं?

What do you understand by land degradation?

प्र.क्र. 259. ध्वनि प्रदूषण से उत्पन्न शारीरिक विकार कौन-कौन से हैं?

What are the physical disorders caused by noise pollution?

प्र.क्र. 260. प्रदूषण से क्या तात्पर्य है?

What is meant by pollution?

प्र.क्र. 261. छत्तीसगढ़ में वन भूमि का प्रतिशत कितना है?

What is the percentage of forest land in Chhattisgarh?

प्र.क्र. 262. छत्तीसगढ़ में सबसे अधिक खनिज कहाँ पाया जाता है?

Where is most of the mineral found in Chhattisgarh?

प्र.क्र. 263. कौन सा खनिज संपूर्ण भारत में केवल छत्तीसगढ़ में मिलता है?

Which mineral is found only in Chhattisgarh in entire India?

प्र.क्र. 264. छत्तीसगढ़ में वन आधारित उद्योग कौन-कौन से हैं?

Which is the forest based industries in Chhattisgarh?

प्र.क्र. 265. छत्तीसगढ़ को धान का कटोरा क्यों कहते हैं?

Why Chhattisgarh is called the rice bowl?

प्र.क्र. 266. छत्तीसगढ़ में सिंचाई का प्रमुख साधन क्या है?

What is the main means of irrigation in Chhattisgarh?

प्र.क्र. 267. छत्तीसगढ़ का एक मात्र एल्युमिनियम उद्योग कहाँ स्थित है?

Where is the only aluminum industry of Chhattisgarh located?

प्र.क्र. 268. छत्तीसगढ़ के प्रमुख खरीफ फसलें कौन-कौन से हैं?

What are the major Kharif crops of Chhattisgarh?

प्र.क्र. 269. सन् 2011 के अनुसार छत्तीसगढ़ की जनसंख्या कितनी है?

What is the population of Chhattisgarh as of 2011?

प्र.क्र. 270. प्रभु वल्लभाचार्य की जन्मभूमि कहाँ पर है?

Where is the birthplace of Prabhu Vallabhacharya?

दीर्घ उत्तरीय प्रश्न (Long Answers Questions) :-

(प्रत्येक प्रश्न पर 5 अंक निर्धारित है। उत्तर की शब्द सीमा 150 शब्दों तक है।)

(Each question carries 5 marks. The word limit of the answer is 150 words.)

प्र.क्र. 271. वायु प्रदूषण किसे कहते हैं? वायु प्रदूषण के कारण एवं प्रभाव को दूर करने के उपाय लिखिए।

What is air pollution? Write measures to remove the causes and effects of air pollution.

प्र.क्र. 272. भू-निम्नीकरण से क्या तात्पर्य है? इसके लिए उत्तरदायी प्रमुख कारण क्या है?

What is meant by land degradation? What are the main reasons responsible for this?

प्र.क्र. 273. भू-निम्नीकरण को कम करने के उपाय बताइए। (कोई 5)

Explain the measures to reduce land degradation. (Any 5)

प्र.क्र. 274. नगरों में अपशिष्ट निपटान संबंधी समस्या बहुत विकराल रूप लेती जा रही है। स्पष्ट कीजिए।


The problem of waste disposal in cities is becoming very serious. Explain.

प्र.क्र. 275. छत्तीसगढ़ में मिलने वाले प्रमुख खनिज पदार्थों का वर्णन कीजिए। (कोई 5)

Describe the main minerals found in Chhattisgarh. (Any 5)

प्र.क्र. 276. छत्तीसगढ़ राज्य के जनसंख्या वितरण एवं घनत्व का वर्णन कीजिए।

Describe the population distribution and density of Chhattisgarh state.



प्र.क्र. 277. छत्तीसगढ़ राज्य में सिंचाई व्यवस्था नहीं होती तो कृषि पर क्या प्रभाव पड़ता? लिखिए।

If there was no irrigation system in the state of Chhattisgarh, what would have been the impact on agriculture? Write.

प्र.क्र. 278. कृषक कृषि कार्य करना बंद कर दे तो हमारे जीवन पर इसका क्या प्रभाव पड़ेगा?

If farmers stop doing agricultural work, what effect will it have on our lives?



प्र.क्र. 279. भिलाई स्टील प्लांट का संक्षिप्त वर्णन कीजिए।


Briefly describe Bhilai Steel Plant.

प्र.क्र. 280. छत्तीसगढ़ में लौह अयस्क के वितरण को बताइए।

State the distribution of iron ore in Chhattisgarh.

प्र.क्र. 281. छत्तीसगढ़ में कोयले के वितरण को बताइए।

State the distribution of coal in Chhattisgarh.





प्र.क्र. 282. क्या चिमनियों से निकलने वाला धुआँ वायु प्रदूषण का कारक है। वायु प्रदूषण का मनुष्य पर पड़ने वाले प्रभाव एवं उसके रोकथाम के उपाय लिखिए?

Is the smoke coming out of chimneys a cause of air pollution? Write the effects of air pollution on humans and measures to prevent it?

प्र.क्र. 283. भिलाई स्टील प्लांट के स्थानीयकरण के कारण को बताते हुए यह स्पष्ट करें कि भिलाई स्टील प्लांट ने छत्तीसगढ़ को राष्ट्रीय स्तर पर पहचान प्रदान की है।

Explaining the reason for localization of Bhilai steel plant, it should be made clear that Bhilai steel plant has given recognition to Chhattisgarh at the national.



नक्शा कार्य

प्र.क्र. 284. भारत के राजनीतिक सीमाकार मानचित्र में निम्नलिखित का पता लगाइए एवं संकेतों के साथ लेबल कीजिए:—

- (A) नर्मदा नदी (B) कच्छ का रन
(C) दिल्ली (D) नीलगिरी पर्वत
(E) चाय उत्पादक क्षेत्र

In the given political outline map of India locate and label the following with symbols:-

- (A) Narmada River (B) Run of Kutch
(C) Delhi (D) Nilgiri Mountain
(E) Tea Production Area

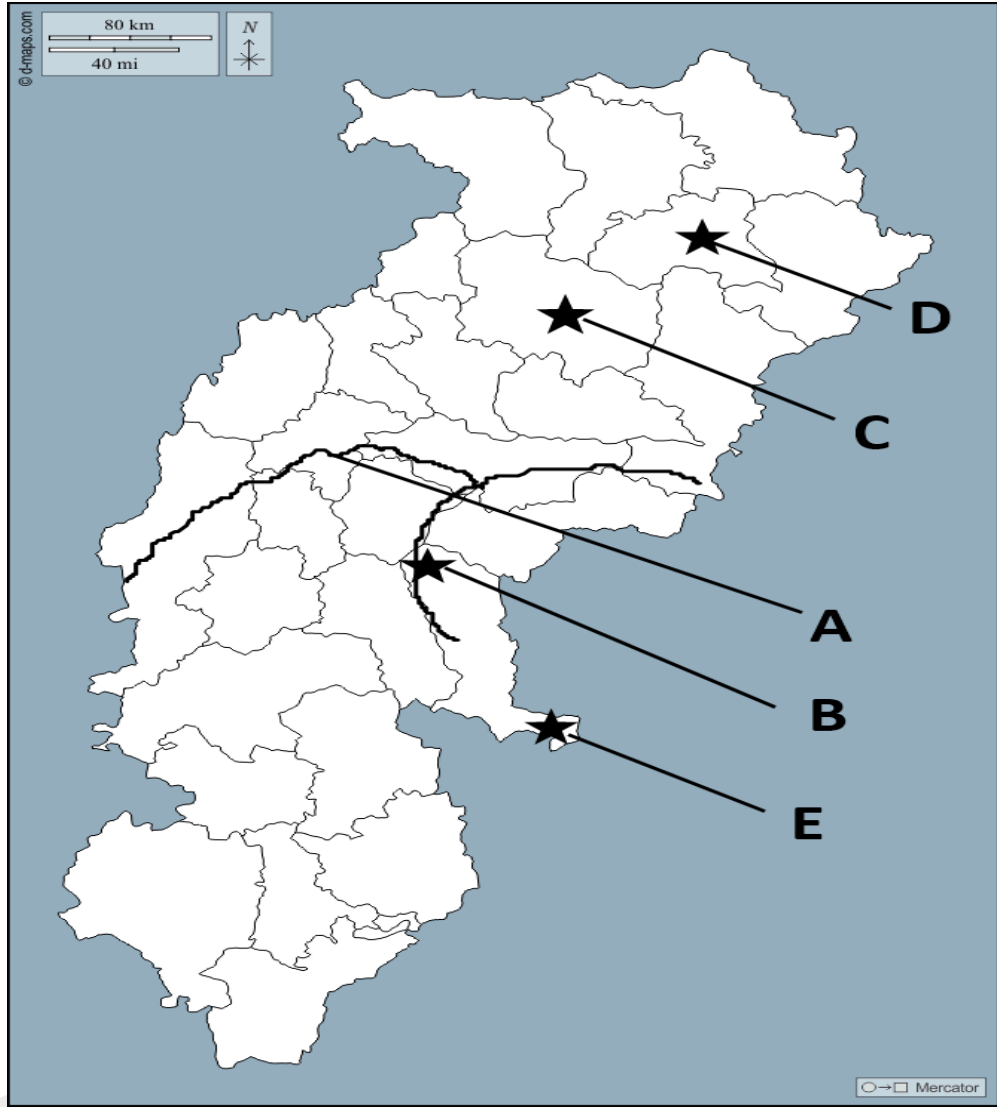
अथवा

छ.ग. के राजनीतिक सीमाकार मानचित्र में दर्शाए गए निम्नलिखित बिन्दुओं को पहचानिए तथा उनके नाम अपनी उत्तर पुस्तिका में लिखिए।

- (A) महानदी की मुख्य सहायक नदी
(B) छ.ग. का प्रयाग
(C) छ.ग. का प्रमुख एल्युमिनियम उद्योग
(D) छ.ग. का शिमला
(E) छ.ग. में हीरा उत्पादक क्षेत्र

In the given political outline map of the C.G., identify the following points and write their names in your answer copy:-

- (A) Main Tributary of Mahanadi
(B) Prayag of C.G.
(C) The Major Aluminium Industry of C.G.
(D) Shimla of C.G.
(E) Diamond Production Area



टीप: – दृष्टि बाधित विद्यार्थी जिन प्रश्नों में मानचित्र अंकन दिए गए हैं उनके स्थान पर उनकी प्रसिद्धि विशेषताओं के एक-एक बिन्दु लिखेंगे।

Visually impaired students will write 1-1 point of speciality of those places in the map-making questions.

प्र.क्र. 285. भारत के राजनीतिक सीमाकार मानचित्र में निम्नलिखित का पता लगाइए एवं संकेतों के साथ लेबल कीजिए:—


- | | |
|---------------------|-------------------------|
| (A) कर्क रेखा | (B) थार का मरुस्थल |
| (C) मन्नार की खाड़ी | (D) छोटा नागपुर का पठार |
| (E) गंगा नदी | |



In the given political outline map of India locate and label the following with symbols:-

- (A) Tropic of Cancer
- (B) Thar Desert
- (C) Gulf of Mannar
- (D) Chota Nagpur Plateau
- (E) Ganga River





अथवा

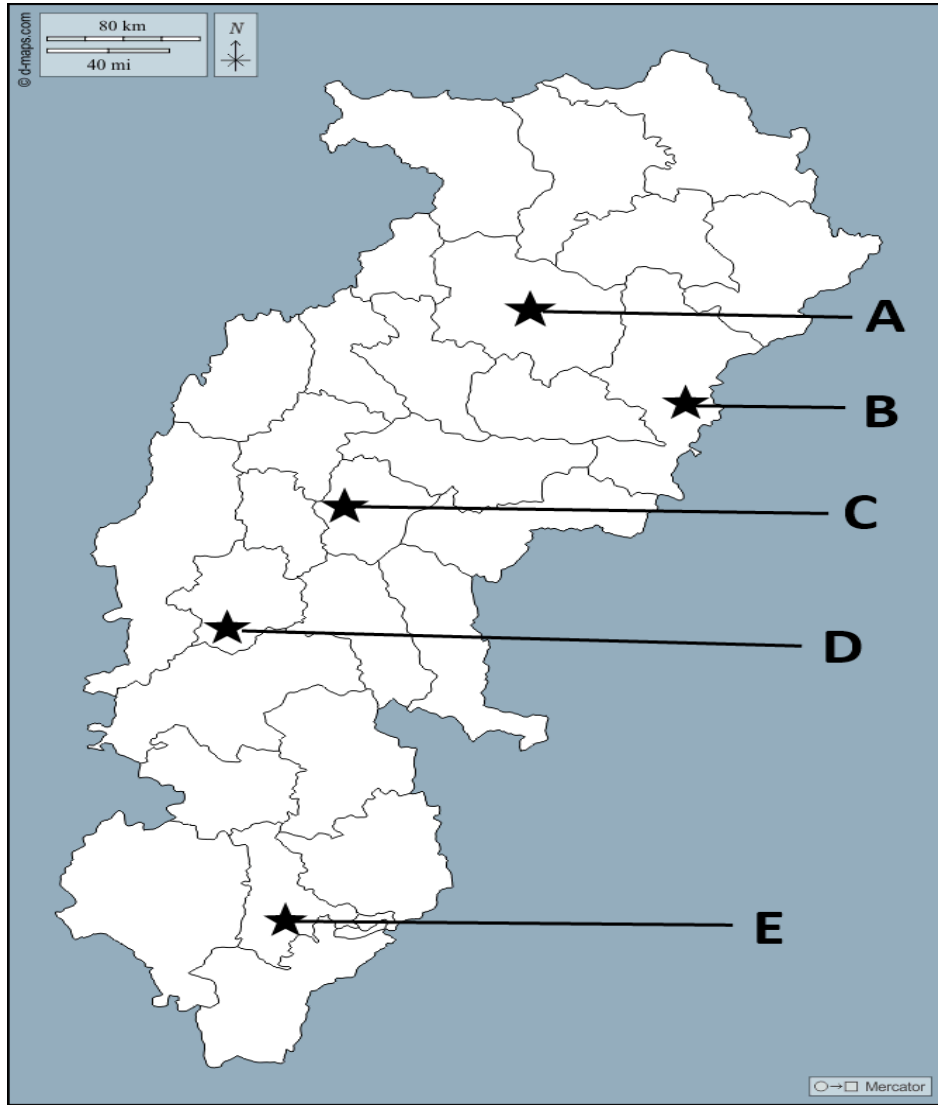


छ.ग. के राजनीतिक सीमाकार मानचित्र में दर्शाए गए निम्नलिखित बिन्दुओं को पहचानिए तथा उनके नाम अपनी उत्तर पुस्तिका में लिखिए।

- (A) सुपर थर्मल पावर केन्द्र
- (B) छ.ग. का जूट उद्योग
- (C) छ.ग. की राजधानी
- (D) दुर्ग (बालोद) का लौह अयस्क खान
- (E) छ.ग. का लौह अयस्क खान

In the given political outline map of the C.G., identify the following points and write their names in your answer copy:-

- (A) Super Thermal Power Station
 - (B) Jute Mill of C.G.
 - (C) Capital of C.G.
 - (D) Iron Ore Mine of Durg (Balod)
 - (E) Iron Ore Mine of C.G.
- 
- 
- 
- 



टीप: – दृष्टि बाधित विद्यार्थी जिन प्रश्नों में मानचित्र अंकन दिए गए हैं उनके स्थान पर उनकी प्रसिद्धि विशेषताओं के एक-एक बिन्दु लिखेंगे।

Visually impaired students will write 1-1 point of speciality of those places in the map-making questions.

प्र.क्र. 286. भारत के राजनीतिक सीमाकार मानचित्र में निम्नलिखित का पता लगाइए एवं संकेतों के साथ लेबल कीजिए:—


- | | |
|---------------------------------|--------------------|
| (A) अरावली पर्वत | (B) मुम्बई |
| (C) चिल्का झील | (D) कांडला बंदरगाह |
| (E) शीतकालीन वर्षा वाला क्षेत्र | |



In the given political outline map of India locate and label the following with symbols:-

- (A) Aravalli Mountain
- (B) Mumbai
- (C) Chilka Lake
- (D) Kandla Seaport
- (E) Winter Rainfall Area


अथवा

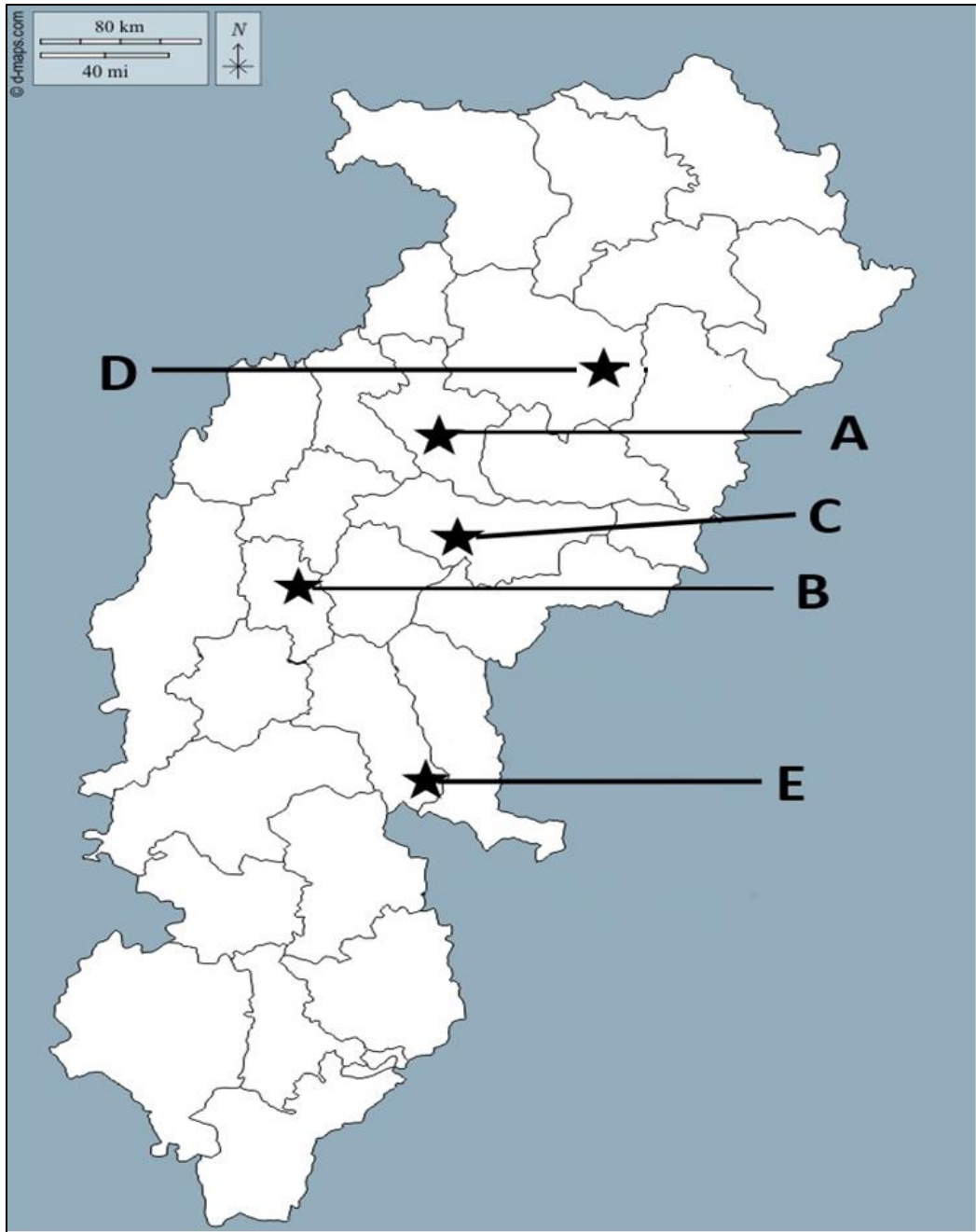


छ.ग. के राजनीतिक सीमाकार मानचित्र में दर्शाए गए निम्नलिखित बिन्दुओं को पहचानिए तथा उनके नाम अपनी उत्तर पुस्तिका में लिखिए।

- (A) छ.ग. की न्यायधानी
- (B) लौह स्पात उद्योग
- (C) छ.ग. का एक सीमेंट कारखाना
- (D) छ.ग. का कत्था उद्योग
- (E) महानदी का उद्गम स्थल

In the given political outline map of the C.G., identify the following points and write their names in your answer copy:-

- (A) Justice of C.G.
 - (B) Iron Steel Industry
 - (C) Cement Plant of C.G.
 - (D) Catechu Industry of C.G.
 - (E) Origin of Mahanadi
- 



टीप: – दृष्टि बाधित विद्यार्थी जिन प्रश्नों में मानचित्र अंकन दिए गए हैं उनके स्थान पर उनकी प्रसिद्धि विशेषताओं के एक-एक बिन्दु लिखेंगे।

Visually impaired students will write 1-1 point of speciality of those places in the map-making questions.

