



Test Date : 04 Sep 2022

Test Slot : Slot 2

Subject : PGQP41-Mass Communication and Journalism

Sl. No.1

QBID:1007176

Choose the correct form of verb to fill in the blank.

The price of oranges _____ rising in the market.

- (1) are (2) have
(3) is (4) had

- (1) 1
(2) 2
(3) 3
(4) 4

निम्नलिखित में कौन-सा शब्द-रूप अशुद्ध है ?

- (1) टोपी (2) टोपियाँ
(3) टोपियें (4) टोपियों

- (1) 1
(2) 2
(3) 3
(4) 4

- 1[Option ID=11201]
2[Option ID=11202]
3[Option ID=11203]
4[Option ID=11204]

Sl. No.2

QBID:1007177

From among the four options given, choose the most appropriate sequence for the four phrases given below to make a meaningful sentence :

- (A) wages were going to be cut and
- (B) the workers were up in
- (C) decided to go on strike
- (D) arms when they heard that their

Choose the correct answer from the options given below:

- (1) (D), (A), (C), (B)
- (2) (B), (D), (A), (C)
- (3) (C), (B), (D), (A)
- (4) (A), (C), (B), (D)

- (1) 1
- (2) 2
- (3) 3
- (4) 4

निम्नलिखित वाक्यांशों को उचित क्रमानुसार व्यवस्थित कीजिए :

- (A) अपना इष्टदेव मानते हैं
 - (B) श्री कृष्ण को
 - (C) वैष्णवधर्म का
 - (D) लोग
 - (E) एक और भेद है कि
- (1) C E D B A
 - (2) A B C D E
 - (3) B C D E A
 - (4) C D A B E

- (1) 1
- (2) 2
- (3) 3
- (4) 4

- 1[Option ID=11205]
- 2[Option ID=11206]
- 3[Option ID=11207]
- 4[Option ID=11208]

Sl. No.3
QBID:1007178

Which two of the following words take 'irregular' verb forms?

- (A) begin
- (B) defy
- (C) manage
- (D) bite

Choose the correct answer from the options given below:

- (1) (A) and (D) only
- (2) (A) and (B) only
- (3) (B) and (C) only
- (4) (B) and (D) only

- (1) 1
- (2) 2
- (3) 3
- (4) 4

“हम किताब पढ़ते रहेंगे”। में प्रयुक्त क्रिया से क्या अर्थ सूचित होता है?

- (1) संभावना
- (2) निश्चय
- (3) संकेत
- (4) संदेह

- (1) 1
- (2) 2
- (3) 3
- (4) 4

- 1[Option ID=11209]
- 2[Option ID=11210]
- 3[Option ID=11211]
- 4[Option ID=11212]

Sl. No.4
QBID:1007179

Match List I with List II :

List I (word)	List II (synonym)
(A) accolades	(I) show
(B) desultory	(II) honour
(C) evince	(III) guess
(D) surmise	(IV) aimless

Choose the correct answer from the options given below :

- (1) (A)-(IV), (B)-(III), (C)-(II), (D)-(I)
- (2) (A)-(I), (B)-(II), (C)-(III), (D)-(IV)
- (3) (A)-(II), (B)-(IV), (C)-(I), (D)-(III)
- (4) (A)-(III), (B)-(I), (C)-(IV), (D)-(II)

- (1) 1
- (2) 2
- (3) 3
- (4) 4

नीचे दो कथन दिए गए हैं : एक अभिकथन (Assertion (A) के रूप में लिखित है तो दूसरा उसके कारण (Reasons (R) के रूप में :

अभिकथन (A) : 'वह चलता है'। सामान्य वर्तमान काल का वाक्य है।

कारण (R) : सामान्य वर्तमान काल से कार्य को पूर्णता का बोध होता है।

उपरोक्त कथन के आलोक में, नीचे दिए गए विकल्पों में से सबसे उपयुक्त उत्तर का चयन कीजिए

- (1) (A) और (R) दोनों सही हैं और (R), (A) की सही व्याख्या है
- (2) (A) और (R) दोनों सही हैं, लेकिन (R), (A) की सही व्याख्या नहीं है
- (3) (A) सही है, लेकिन (R) सही नहीं है
- (4) (A) सही नहीं है, लेकिन (R) सही है

- (1) 1
- (2) 2
- (3) 3
- (4) 4

3[Option ID=11215]
4[Option ID=11216]

Sl. No.5
QBID:1007180

Pick out the correctly spelt word.

- | | |
|-------------|--------------|
| (1) twelth | (2) twelfthe |
| (3) twelfth | (4) towelfth |

- (1) 1
(2) 2
(3) 3
(4) 4

सूची-I के साथ का सूची-II मिलान कीजिए :

सूची-I	सूची-II
(A) बड़ा भाई	(I) अनिर्वचनीय
(B) जिसके बारे में कुछ कहा न जा सके	(II) परोपकारी
(C) जिसके मन में दया न हो	(III) अग्रज
(D) दूसरों का उपकार करने वाला	(IV) निर्दयी

नीचे दिए गए विकल्पों में से सही उत्तर का चयन कीजिए :

- (1) (A)-(I), (B)-(II), (C)-(III), (D)-(IV)
(2) (A)-(IV), (B)-(III), (C)-(II), (D)-(I)
(3) (A)-(III), (B)-(I), (C)-(II), (D)-(IV)
(4) (A)-(III), (B)-(I), (C)-(IV), (D)-(II)

- (1) 1
(2) 2
(3) 3
(4) 4

1[Option ID=11217]
2[Option ID=11218]
3[Option ID=11219]
4[Option ID=11220]

Sl. No.6
QBID:1007181

“The peace talks between the Russia and Ukraine ended in a *stalemate*.”

From the following options pick the correct synonym of the word in italics.

- (1) Agreement (2) Dilemma
(3) Impasse (4) Disagreement

- (1) 1
(2) 2
(3) 3
(4) 4

निम्नलिखित में अधिकरण कारक के वाक्य हैं

- (A) हे प्रभु, हमारी रक्षा करो।
(B) नौकर काम पर है।
(C) आश्विन, तुम कहाँ गए थे?
(D) हममें तुममें कोई भेद नहीं है।
(E) अनन्य का घर एक कोस पर है।

नीचे दिए गए विकल्पों में से सही उत्तर का चयन कीजिए :

- (1) (A), (B) और (C)
(2) (B), (C) और (D)
(3) (B), (C) और (E)
(4) (B), (D) और (E)

- (1) 1
(2) 2
(3) 3
(4) 4

1[Option ID=11221]

2[Option ID=11222]

3[Option ID=11223]

4[Option ID=11224]

Sl. No.7

QBID:1007182

Identify the correct direct speech of the following sentence.

Arshil said that he was very busy then.

- (1) Arshil said, "He is very busy now."
- (2) Arshil told, "I am very busy now."
- (3) Arshil said, "You are very busy now."
- (4) Arshil said, "I am very busy now."

- (1) 1
- (2) 2
- (3) 3
- (4) 4

नीचे दो कथन दिए गए हैं :

कथन I : विशेष अर्थ में निरर्थक ध्वनि भी शब्द कही जाती है।

कथन II : जैसे लड़का 'बा' कहता है। निरर्थक होते हुए भी 'बा' एक शब्द है।

उपरोक्त कथन के आलोक में, नीचे दिए गए विकल्पों में से सबसे उपयुक्त उत्तर का चयन कीजिए :

- (1) कथन I और II दोनों सही हैं
- (2) कथन I और II दोनों गलत हैं
- (3) कथन I सही है, लेकिन कथन II गलत है
- (4) कथन I गलत है, लेकिन कथन II सही है

- (1) 1
- (2) 2
- (3) 3
- (4) 4

1[Option ID=11225]

2[Option ID=11226]

3[Option ID=11227]

4[Option ID=11228]

Sl. No.8

QBID:1007183

Which of the following is a one-word substitute for 'a person who is unsure about God's existence'?

- (1) Renegade
- (2) Atheist
- (3) Irreligious
- (4) Agnostic

- (1) 1
- (2) 2
- (3) 3
- (4) 4

नीचे दो कथन दिए गए हैं :

कथन I : 'ऊपर की आमदनी' मुहावरे का अर्थ है - इधर-उधर से घूस आदि के द्वारा प्राप्त धन।

कथन II : निर्धारित कार्यावधि के बाद अतिरिक्त कार्य के एवज में मिलने वाले धन को भी ऊपर की कमाई कहते हैं।

उपरोक्त कथन के आलोक में, नीचे दिए गए विकल्पों में से सबसे सही उत्तर का चयन कीजिए :

- (1) कथन I और II दोनों सत्य हैं
- (2) कथन I और II दोनों असत्य हैं
- (3) कथन I सत्य है, लेकिन कथन II असत्य है
- (4) कथन I असत्य है, लेकिन कथन II सत्य है

- (1) 1
- (2) 2
- (3) 3
- (4) 4

1[Option ID=11229]

2[Option ID=11230]

3[Option ID=11231]

4[Option ID=11232]

Sl. No.9

QBID:1007184

Choose the correct passive voice of the following sentence.

I was waiting for the minister.

- (1) The minister was being waited for by me.
- (2) The minister was waited by me.
- (3) The minister was waiting for me.
- (4) The minister had been waiting.

(1) 1

(2) 2

(3) 3

(4) 4

निम्नलिखित में से कौन स्त्री के समानार्थी शब्द है?

- (A) प्रियंगु
- (B) नारि
- (C) प्रेयसी
- (D) औरत
- (E) वामा

नीचे दिए गए विकल्पों में से सही उत्तर का चयन कीजिए :

- (1) केवल (A), (B) और (C)
- (2) केवल (B), (C) और (D)
- (3) केवल (B), (D) और (E)
- (4) केवल (C), (D) और (E)

(1) 1

(2) 2

(3) 3

(4) 4

1[Option ID=11233]

2[Option ID=11234]

3[Option ID=11235]

4[Option ID=11236]

Sl. No.10

QBID:1007185

Fill up the blank with the correct form of verb.

Neither food nor water _____ available there.

- (1) were
- (2) will not be
- (3) was
- (4) have being

(1) 1

(2) 2

(3) 3

(4) 4

निम्नलिखित में कौन से विपरीतार्थक शब्द युग्म शुद्ध हैं?

- (A) खालिस-निखालिस
- (B) बाजिब-गैरबाजिब
- (C) गंभीर-गैरगंभीर
- (D) चेत-अचेत
- (E) हाजिर-गैर हाजिर

नीचे दिए गए विकल्पों में से सही उत्तर का चयन कीजिए :

- (1) केवल (A), (B) और (C)
- (2) केवल (B), (C) और (D)
- (3) केवल (B), (D) और (E)
- (4) केवल (C), (D) और (E)

(1) 1

(2) 2

(3) 3

(4) 4

1[Option ID=11237]

2[Option ID=11238]

3[Option ID=11239]

4[Option ID=11240]

Sl. No.11

QBID:1007186

The notification declaring the minority communities / groups is done by :

- (1) The Parliament
- (2) The State Governments
- (3) The Central Government
- (4) Concurrently by State and Central Governments

- (1) 1
- (2) 2
- (3) 3
- (4) 4

अल्पसंख्यक समुदायों। समूहों को घोषित करने वाली अधिसूचना कौन जारी करता है ?

- (1) संसद
- (2) राज्य सरकारें
- (3) केन्द्रीय सरकार
- (4) केन्द्र और राज्य सरकारों द्वारा साथ-साथ

- (1) 1
- (2) 2
- (3) 3
- (4) 4

- 1[Option ID=11241]
2[Option ID=11242]
3[Option ID=11243]
4[Option ID=11244]

Sl. No.12
QBID:1007187

The first image of a black hole captured by Event Horizon Telescope (ETH) has been named as :

- | | |
|---------------------------|----------------------------|
| (1) Stephen Hawking BH*AB | (2) SYr*A |
| (3) Messier 87 | (4) Eienstien Galaxy BH*88 |

- (1) 1
- (2) 2
- (3) 3
- (4) 4

इवेंट हारिजान टेलिस्कोप (ETH) द्वारा किसी कृष्ण-विवर (ब्लैक होल) के खींचे गए पहले प्रतिबिम्ब का क्या नाम है ?

- | | |
|---------------------------|------------------------------|
| (1) स्टीफन हार्किंग BH*AB | (2) SYr*A |
| (3) मेसियर 87 | (4) आइन्स्टीन गैलेक्सी BH*88 |

- (1) 1

(2) 2

(3) 3

(4) 4

1[Option ID=11245]

2[Option ID=11246]

3[Option ID=11247]

4[Option ID=11248]

Sl. No.13

QBID:1007188

The dance form which uses Jayadeva's Gita Govinda in an extensive manner is called :

(1) Kuchipudi

(2) Chau

(3) Manipuri

(4) Odissi

(1) 1

(2) 2

(3) 3

(4) 4

जयदेव के 'गीत-गोविन्द' का व्यापक ढंग से उपयोग करने वाली नाट्य-कला का क्या नाम है?

(1) कुचिपुडी

(2) छाऊ

(3) मणिपुरी

(4) औडिसी

(1) 1

(2) 2

(3) 3

(4) 4

1[Option ID=11249]

2[Option ID=11250]

3[Option ID=11251]

4[Option ID=11252]

Sl. No.14

QBID:1007189

The celebration of National Press Day on November 16 in India was started by :

(1) Press Council of India

(2) Ministry of Information and Broadcasting

(3) United Nations

(4) National Press Club

(1) 1

(2) 2

(3) 3

(4) 4

16 नवम्बर को राष्ट्रीय प्रेस दिवस के रूप में मनाने की शुरुआत किसने की थी?

- (1) भारतीय प्रेस परिषद
- (2) सूचना और प्रसारण मंत्रालय
- (3) संयुक्त राष्ट्र
- (4) राष्ट्रीय प्रेस क्लब

- (1) 1
- (2) 2
- (3) 3
- (4) 4

1[Option ID=11253]
2[Option ID=11254]
3[Option ID=11255]
4[Option ID=11256]

SI. No.15
QBID:1007190

Shyam Benegal's Committee was set up in 2016 for :

- (1) clearing the backlog of films for certification
- (2) regulating the adult films
- (3) develop a strategy for promotion of children's films
- (4) laying down rules for film certification

- (1) 1
- (2) 2
- (3) 3
- (4) 4

2016 में श्याम बेनेगल समिति किस लिए बनाई गई थी?

- (1) प्रमाणन के लिए पहले से बची हुई फिल्मों का प्रमाणन कार्य समाप्त करना
- (2) वयस्क फिल्मों को विनियमित करना
- (3) बाल-फिल्मों को प्रोत्साहित करने के लिए रणनीति विकसित करना
- (4) फिल्म-प्रमाणन के लिए नियम बनाना

- (1) 1
- (2) 2
- (3) 3
- (4) 4

1[Option ID=11257]
2[Option ID=11258]
3[Option ID=11259]
4[Option ID=11260]

SI. No.16

QBID:1007191

If South - East becomes North - West then what will South - West become?

- (1) North - West (2) South
(3) North (4) North - East

- (1) 1
(2) 2
(3) 3
(4) 4

यदि दक्षिण-पूर्व उत्तर-पश्चिम हो जाय तो दक्षिण-पश्चिम क्या होगा ?

- (1) उत्तर-पश्चिम (2) दक्षिण
(3) उत्तर (4) उत्तर-पूर्व

- (1) 1
(2) 2
(3) 3
(4) 4

1[Option ID=11261]

2[Option ID=11262]

3[Option ID=11263]

4[Option ID=11264]

Sl. No.17

QBID:1007192

In the question below statement and assumptions are given. Consider the statement and choose the correct option from the following on the basis of the assumptions.

Statement :

Area welfare society requested the local administration to allow them for converting vacant land into vehicle parking area at their own cost.

Assumptions :

- (i) The local authorities shall be happy to give permission.
(ii) The welfare society shall be able to collect funds to convert the land into vehicle parking area.

- (1) Only (i) is implicit
(2) Only (ii) is implicit
(3) Both (i) and (ii) are implicit
(4) Neither (i) nor (ii) is implicit

- (1) 1
(2) 2
(3) 3

(4) 4

नीचे दिए गए प्रश्न एक वक्तव्य और पूर्व-धारणाएं दी गई हैं। पूर्व-धारणाओं के आधार पर वक्तव्य पर विचार कीजिए और नीचे दिए गए विकल्पों में से सही विकल्प का चयन कीजिए।

वक्तव्य :

एरिया वेलफेयर सोसाइटी ने स्थानीय प्रशासन से निवेदन किया कि उन्हें अपने खर्चे पर एक खाली जमीन को गाड़ियों की का पार्किंग क्षेत्र बनाने की अनुमति दी जाय।

पूर्व-धारणाएं :

- (i) स्थानीय अधिकारी अनुमति देकर प्रसन्न होंगे।
 - (ii) खाली जमीन को गाड़ी-पार्किंग क्षेत्र में बदलने के लिए वेलफेयर सोसाइटी धन-संग्रह करने में सक्षम होगी।
- (1) केवल (i) शंका-रहित है।
 - (2) केवल (ii) शंका-रहित है।
 - (3) दोनों (i) और (ii) शंका रहित हैं।
 - (4) न तो (i) और न ही (ii) शंका रहित है।

(1) 1

(2) 2

(3) 3

(4) 4

1[Option ID=11265]

2[Option ID=11266]

3[Option ID=11267]

4[Option ID=11268]

Sl. No.18

QBID:1007193

Question below consists of a statement and two arguments. Decide which argument is strong and which is a weak argument.

Statement :

Should ban on hunting of tigers in forests be lifted?

Arguments :

Yes, the ban is not effective as tigers are still being killed.

No, the tigers will start roaming in the city.

- (1) Only (i) is strong argument.
- (2) Only (ii) is strong argument.
- (3) Neither (i) nor (ii) are strong arguments.
- (4) Both (i) and (ii) are strong arguments.

- (1) 1
- (2) 2
- (3) 3
- (4) 4

नीचे लिखे प्रश्न में एक वक्तव्य और दो तर्क हैं। निर्णय कीजिए कि कौन सा तर्क प्रबल है और कौन सा तर्क दुर्बल है?

वक्तव्य :

क्या वनों में बाघों के शिकार पर लगा प्रतिबन्ध हटा दिया जाना चाहिए?

तर्क :

- (i) हाँ, प्रतिबन्ध प्रभावकारी नहीं है क्योंकि बाघ अभी भी मारे जा रहे हैं।
 - (ii) नहीं, बाघ शहर में घूमना शुरू कर देंगे।
- (1) केवल (i) प्रबल तर्क है।
 - (2) केवल (ii) प्रबल तर्क है।
 - (3) न तो (i) और न ही (ii) प्रबल तर्क है।
 - (4) दोनों (i) और (ii) प्रबल तर्क हैं।

- (1) 1
- (2) 2
- (3) 3
- (4) 4

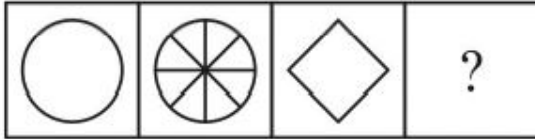
2[Option ID=11270]
3[Option ID=11271]
4[Option ID=11272]

Sl. No.19
QBID:1007194

Select a suitable figure from the answer.

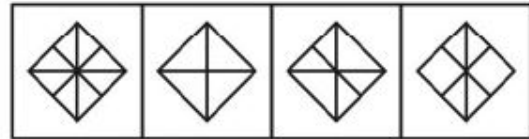
Figures that would replace the question mark (?).

Problem Figures :



(A) (B) (C) (D)

Answer Figures :



(1) (2) (3) (4)

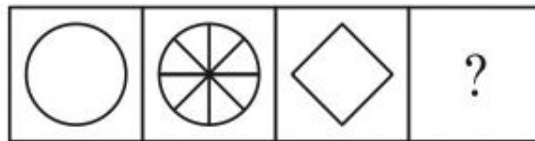
(1) 1
(3) 3

(2) 2
(4) 4

(1) 1
(2) 2
(3) 3
(4) 4

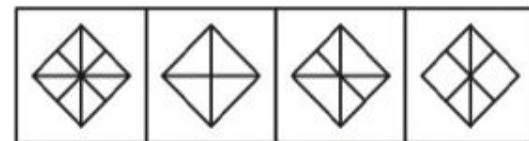
उत्तर-आकृतियों में से एक उचित आकृति का चुनाव कीजिए जो प्रश्नवाचक चिह्न (?) का स्थान ले सके।

प्रश्न - आकृतियाँ



(A) (B) (C) (D)

उत्तर - आकृतियाँ



(1) (2) (3) (4)

(1) 1
(3) 3

(2) 2
(4) 4

(1) 1
(2) 2
(3) 3
(4) 4

1[Option ID=11273]
2[Option ID=11274]
3[Option ID=11275]
4[Option ID=11276]

Sl. No.20
QBID:1007195

Pointing towards Mary, John said 'Only daughter of Father-in-law of her brother's mother is my wife'. How is John related to Mary?

- (1) Brother (2) Uncle
(3) Father (4) Data Insufficient

- (1) 1
(2) 2
(3) 3
(4) 4

मेरी की ओर संकेत करते हुए जॉन बोला, "उसके भाई की मां के ससुर की एकमात्र पुत्री मेरी पत्नी है"। जॉन का मेरी से क्या सम्बन्ध है?

- (1) भाई (2) चाचा
(3) पिता (4) सूचना अपर्याप्त है।

- (1) 1
(2) 2
(3) 3
(4) 4

1[Option ID=11277]
2[Option ID=11278]
3[Option ID=11279]
4[Option ID=11280]

SI. No.21
QBID:1007196

A shop stores x kg of rice. The first customer buys half this amount plus half a kg of rice. The second customer buys half the remaining amount plus half a kg of rice. Then the third customer also buys half the remaining amount plus half a kg of rice. Thereafter, no rice is left in the shop. Which of the following best describes the value of x ?

- (1) $2 \leq x \leq 6$ (2) $5 \leq x \leq 8$
(3) $9 \leq x \leq 12$ (4) $11 \leq x \leq 14$

- (1) 1
(2) 2
(3) 3
(4) 4

एक दुकान में चावल का x किग्रा भंडार है। पहला ग्राहक इस मात्रा का आधा तथा आधा किग्रा चावल और खरीदता है। दूसरा ग्राहक बची हुयी मात्रा का आधा तथा आधा किग्रा चावल और खरीदता है। तीसरा ग्राहक भी बची हुयी मात्रा का आधा तथा आधा किग्रा चावल और खरीदता है। इसके पश्चात दुकान में कुछ भी चावल नहीं बचता है। निम्न में x का मान कौन सबसे सही वर्णित करता है?

(1) $2 \leq x \leq 6$

(2) $5 \leq x \leq 8$

(3) $9 \leq x \leq 12$

(4) $11 \leq x \leq 14$

(1) 1

(2) 2

(3) 3

(4) 4

1[Option ID=11281]

2[Option ID=11282]

3[Option ID=11283]

4[Option ID=11284]

SI. No.22

QBID:1007197

There are two circles of different radius such that radius of the smaller circle is two-fifth that of the larger circle. A square whose area equals 5184 sq cm has its side as thrice the radius of the larger circle. What is the circumference of the smaller circle?

(1) 65.25 cm

(2) 60.34 cm

(3) 49.34 cm

(4) 54.23 cm

(1) 1

(2) 2

(3) 3

(4) 4

भिन्न त्रिज्यो वाले दो वृत्तो के छोटे वृत्त की त्रिज्या बड़े वृत्त की त्रिज्या का $\frac{2}{5}$ वाँ भाग है। एक वर्ग जिसका क्षेत्रफल 5184 वर्ग सेमी है की गुणा बड़े वृत्त की त्रिज्या का तीन गुना है। छोटे वृत्त का परिमाप क्या है?

(1) 65.25 सेमी

(2) 60.34 सेमी

(3) 49.34 सेमी

(4) 54.23 सेमी

(1) 1

(2) 2

(3) 3

(4) 4

1[Option ID=11285]

2[Option ID=11286]

3[Option ID=11287]

4[Option ID=11288]

SI. No.23

QBID:1007198

Ramesh purchased a house worth Rs. 10,00,000 and Amrita purchased a car worth Rs. 16,00,000. The value of house every year increases by 20% of the previous value and the value of car depreciates every year by 25%. What is the difference between the price of house and car after 3 years?

- (1) 10,63,000 (2) 10,53,000
(3) 10,43,000 (4) 11,53,000

(1) 1

(2) 2

(3) 3

(4) 4

रमेश ने रु. 10,00,000 का एक घर खरीदा तथा अमृता ने रु. 16,00,000 की एक कार खरीदी। प्रत्येक वर्ष घर की कीमत पिछले वर्ष की कीमत का 20% बढ़ती है और कार की कीमत पिछले वर्ष की कीमत का 25% घटती है। तीन वर्ष बाद घर तथा कार की कीमतों का अन्तर क्या है?

- (1) 10,63,000 (2) 10,53,000
(3) 10,43,000 (4) 11,53,000

(1) 1

(2) 2

(3) 3

(4) 4

1[Option ID=11289]

2[Option ID=11290]

3[Option ID=11291]

4[Option ID=11292]

SI. No.24

QBID:1007199

Vivek had ₹. 23,000. He invested some amount in scheme A at SI at 20% and the remaining amount in scheme B at CI at 10%. If Vivek got the same amount from both of them at the end of one year, how much (in ₹) did he invest in scheme B?

- (1) ₹. 12,000 (2) ₹. 13,000
(3) ₹. 11,800 (4) ₹. 12,500

(1) 1

(2) 2

(3) 3

(4) 4

विवेक के पास रु. 23,000 हैं। उसने कुछ राशि परियोजना A में 20% साधारण ब्याज पर तथा शेष राशि परियोजना B में 10% चक्रवृद्धि ब्याज पर निवेश किया यदि विवेक को एक वर्ष बाद दोनों योजनाओं के समान राशि मिली, उसने परियोजना B में कितनी राशि का निवेश किया?

- (1) रु. 12,000 (2) रु. 13,000
(3) रु. 11,800 (4) रु. 12,500

- (1) 1
(2) 2
(3) 3
(4) 4

1[Option ID=11293]
2[Option ID=11294]
3[Option ID=11295]
4[Option ID=11296]

SI. No.25
QBID:1007200

Peter marks up all Jeans in his shop 20% higher. He gave 25% discount on $\frac{2}{5}$ th of the total Jeans and 12% discount on $\frac{1}{4}$ th of the total Jeans. If Peter gets an overall profit of 2.3%, then what percentage of discount should be given by Peter to customers on the remaining Jeans?

- (1) 10% (2) 2%
(3) 3% (4) 5%

- (1) 1
(2) 2
(3) 3
(4) 4

पीटर अपनी दुकान में सभी जीन्स की कीमत 20% ज्यादा अंकित करता है। उसने कुछ जीन्स के $\frac{2}{5}$ वें भाग पर 25% छूट तथा कुल जीन्स के $\frac{1}{4}$ वें भाग पर 12% की छूट दी। यदि पीटर को कुल लाभ 2.3% प्राप्त होता है। तब शेष जीन्स पर ग्राहक को कितने प्रतिशत की छूट दी जानी चाहिए?

- (1) 10% (2) 2%
(3) 3% (4) 5%

- (1) 1
(2) 2
(3) 3
(4) 4

1[Option ID=11297]
2[Option ID=11298]
3[Option ID=11299]
4[Option ID=11300]

SI. No.26
QBID:1044001

What does PTI stand for?

- (1) Pioneer Trust of India
- (2) Press Technology Institute
- (3) Press Trust of India
- (4) Pioneer Technology Industry

(1) 1

(2) 2

(3) 3

(4) 4

पीटीआई का पूरा नाम है ?

- (1) पायनियर ट्रस्ट ऑफ इंडिया
- (2) प्रेस टेक्नोलॉजी इंस्टीट्यूट
- (3) प्रेस ट्रस्ट ऑफ इंडिया
- (4) पायनियर टेक्नोलॉजी इंडस्ट्री

(1) 1

(2) 2

(3) 3

(4) 4

1[Option ID=12201]

2[Option ID=12202]

3[Option ID=12203]

4[Option ID=12204]

SI. No.27

QBID:1044002

Which Article of the Indian Constitution guarantees the freedom of speech and expression?

- (1) Article 19(1)
- (2) Article 19(2)
- (3) Article 18(1)
- (4) Article 18(2)

(1) 1

(2) 2

(3) 3

(4) 4

भारतीय संविधान का कौन-सा अनुच्छेद भाषण और अभिव्यक्ति की स्वतंत्रता की गारंटी देता है ?

- (1) अनुच्छेद 19(1)
- (2) अनुच्छेद 19(2)
- (3) अनुच्छेद 18(1)
- (4) अनुच्छेद 18(2)

- (1) 1
- (2) 2
- (3) 3
- (4) 4

1[Option ID=12205]
2[Option ID=12206]
3[Option ID=12207]
4[Option ID=12208]

Sl. No.28
QBID:1044003

What is the Editor's Guild of India ?

- (1) An association for protection of senior journalists.
- (2) An association that stands for the freedom of the press.
- (3) An association that advises the government on defence matters.
- (4) An association that protects the rights of civilians.

- (1) 1
- (2) 2
- (3) 3
- (4) 4

एडिटर्स गिल्ड ऑफ इंडिया क्या है ?

- (1) वरिष्ठ पत्रकारों की सुरक्षा के लिए एक संघ
- (2) एक संघ जो प्रेस की स्वतंत्रता का पक्षधर खड़ा है
- (3) एक संघ जो रक्षा मामलों पर सरकार को सलाह देता है
- (4) एक संघ जो नागरिकों के अधिकारों की रक्षा करता है

- (1) 1
- (2) 2
- (3) 3
- (4) 4

1[Option ID=12209]
2[Option ID=12210]
3[Option ID=12211]
4[Option ID=12212]

Sl. No.29
QBID:1044004

Feedback is possible in which type of communication?

- (1) Vertical
- (2) Circular
- (3) One-way
- (4) Authoritarian

(1) 1

(2) 2

(3) 3

(4) 4

संचार के किस प्रकार में प्रतिपुष्टि संभव है ?

- (1) ऊर्ध्वाधर
- (2) वृत्ताकार
- (3) एकतरफा
- (4) अधिकारवादी

(1) 1

(2) 2

(3) 3

(4) 4

1[Option ID=12213]

2[Option ID=12214]

3[Option ID=12215]

4[Option ID=12216]

Sl. No.30

QBID:1044005

Which of the following is *not* a characteristic of communication?

- (1) It is participatory
- (2) It is a two-way flow
- (3) It guarantees equality
- (4) It requires expression

(1) 1

(2) 2

(3) 3

(4) 4

निम्नलिखित में से कौनसी संचार की विशेषता नहीं है ?

- (1) यह सहभागी है
- (2) यह दोतरफा प्रवाह है
- (3) यह समानता की गारंटी देता है
- (4) इसे अभिव्यक्ति की आवश्यकता है

(1) 1

(2) 2

(3) 3

(4) 4

1[Option ID=12217]

2[Option ID=12218]

3[Option ID=12219]

4[Option ID=12220]

Sl. No.31

QBID:1044006

Which of the following is *not* a real function of mass media?

(1) Corporate business

(2) Empowerment

(3) Awareness

(4) Information

(1) 1

(2) 2

(3) 3

(4) 4

निम्नलिखित में से कौन सा मास मीडिया का वास्तविक कार्य नहीं है ?

(1) कॉरपोरेट व्यवसाय

(2) सशक्तिकरण

(3) जागरूकता

(4) जानकारी

(1) 1

(2) 2

(3) 3

(4) 4

1[Option ID=12221]

2[Option ID=12222]

3[Option ID=12223]

4[Option ID=12224]

Sl. No.32

QBID:1044007

What do you mean by kinesics?

(1) Unfocused interactions

(2) Body language

(3) Paralanguage

(4) Spatial communication

(1) 1

(2) 2

(3) 3

(4) 4

काइनेसिक्स से आप क्या समझते हैं ?

- (1) अ-केंद्रित बातचीत
- (2) कायिक भाषा
- (3) भाषा में संचार के सहायक तत्व
- (4) स्थानिक संचार

- (1) 1
- (2) 2
- (3) 3
- (4) 4

1[Option ID=12225]
2[Option ID=12226]
3[Option ID=12227]
4[Option ID=12228]

SI. No.33

QBID:1044008

PTI, UNI, AFP and AP are all :

- (1) News commissions
- (2) Media corporates
- (3) News agencies
- (4) Media financing bodies

- (1) 1
- (2) 2
- (3) 3
- (4) 4

पी.टी.आई., यू.एन.आई., ए.एफ.पी. और ए.पी. सभी क्या हैं :

- (1) समाचार आयोग
- (2) मीडिया कॉरपोरेट्स
- (3) समाचार ऐजन्सियां
- (4) मीडिया वित्तपोषण निकाय

- (1) 1
- (2) 2
- (3) 3
- (4) 4

1[Option ID=12229]
2[Option ID=12230]
3[Option ID=12231]
4[Option ID=12232]

SI. No.34

QBID:1044009

Which of the following is the highest award in Indian Cinema ?

- (1) Tagore Samman
- (2) Indian Films Academy Award
- (3) Satyajit Ray Rashtriya Puraskar
- (4) Dadasaheb Phalke Award

- (1) 1
- (2) 2
- (3) 3
- (4) 4

निम्नलिखित में से कौन-सा भारतीय सिनेमा में सर्वोच्च पुरस्कार है ?

- (1) टैगोर सम्मान
- (2) भारतीय फिल्म अकादमी पुरस्कार
- (3) सत्यजीत रे राष्ट्रीय पुरस्कार
- (4) दादासाहब फाल्के पुरस्कार

- (1) 1
- (2) 2
- (3) 3
- (4) 4

- 1[Option ID=12233]
2[Option ID=12234]
3[Option ID=12235]
4[Option ID=12236]

Sl. No.35
QBID:1044010

What are puppetry, Ramlila, street theatre and tamasha forms of?

- (1) Folk media
- (2) Rural media
- (3) Mass media
- (4) Ancient media

- (1) 1
- (2) 2
- (3) 3
- (4) 4

कठपुतली, रामलीला, नुक्कड़ नाटक और तमाशा क्या हैं ?

- (1) लोक मीडिया
- (2) ग्रामीण मीडिया
- (3) जन - संचार मीडिया
- (4) प्राचीन मीडिया

- (1) 1

(2) 2

(3) 3

(4) 4

1[Option ID=12237]

2[Option ID=12238]

3[Option ID=12239]

4[Option ID=12240]

SI. No.36

QBID:1044011

Mass media audiences are

- (1) Identifiable
- (2) Anonymous
- (3) Specific Strata
- (4) Concentrated

(1) 1

(2) 2

(3) 3

(4) 4

मास मीडिया के लिए दर्शक हैं

- (1) पहचानयोग्य
- (2) अज्ञात
- (3) विशिष्ट संस्तर
- (4) केंद्रित

(1) 1

(2) 2

(3) 3

(4) 4

1[Option ID=12241]

2[Option ID=12242]

3[Option ID=12243]

4[Option ID=12244]

SI. No.37

QBID:1044012

Which of the following is a recent phenomenon of modern day media in India ?

- (1) Film news
- (2) Paid news
- (3) Sports news
- (4) Featured news

(1) 1

(2) 2

(3) 3

(4) 4

निम्नलिखित में से कौन सी भारत के आधुनिक जनसंचार माध्यमों की परिघटना है ?

- (1) फिल्म न्यूज
- (2) पेड न्यूज
- (3) खेल न्यूज
- (4) फीचर्ड न्यूज

- (1) 1
- (2) 2
- (3) 3
- (4) 4

1[Option ID=12245]
2[Option ID=12246]
3[Option ID=12247]
4[Option ID=12248]

Sl. No.38
QBID:1044013

In which of the following are the expectations of the people being manipulated to the maximum?

- (1) Instructional situation
- (2) Agitative situation
- (3) Persuasive situation
- (4) Personal situation

- (1) 1
- (2) 2
- (3) 3
- (4) 4

निम्नलिखित में से किसमें लोगों की अपेक्षाओं में अधिकतम हेर-फेर किया जाता है ?

- (1) निर्देशात्मक स्थिति
- (2) आंदोलनकारी स्थिति
- (3) विश्वासोत्पादक स्थिति
- (4) व्यक्तिगत स्थिति

- (1) 1
- (2) 2
- (3) 3
- (4) 4

1[Option ID=12249]
2[Option ID=12250]
3[Option ID=12251]
4[Option ID=12252]

Sl. No.39
QBID:1044014

Which of the following has a long term effect on the audience?

- (1) Regular face-to-face interactions
- (2) Listening to a radio jingle
- (3) Reading a book
- (4) Watching a movie

(1) 1

(2) 2

(3) 3

(4) 4

निम्नलिखित में से किसका आग्राहकों (आडिएन्सेज) पर दीर्घकालिक प्रभाव पड़ता है ?

- (1) नियमित आमने-सामने बातचीत
- (2) एक रेडियो जिंगल सुनना
- (3) किताब पढ़ना
- (4) फिल्म देखना

(1) 1

(2) 2

(3) 3

(4) 4

1[Option ID=12253]

2[Option ID=12254]

3[Option ID=12255]

4[Option ID=12256]

SI. No.40

QBID:1044015

Which of the following *cannot* be a part of media studies?

- (1) Psychological effects
- (2) Physiological effects
- (3) Cultural effects
- (4) Sociological effects

(1) 1

(2) 2

(3) 3

(4) 4

निम्नलिखित में से कौन सा मीडिया अध्ययन का हिस्सा नहीं हो सकता है ?

- (1) मनोवैज्ञानिक प्रभाव
- (2) शारीरिक प्रभाव
- (3) सांस्कृतिक प्रभाव
- (4) समाजशास्त्रीय प्रभाव

- (1) 1
- (2) 2
- (3) 3
- (4) 4

1[Option ID=12257]
2[Option ID=12258]
3[Option ID=12259]
4[Option ID=12260]

Sl. No.41

QBID:1044016

What does SITE stand for?

- (1) Satellite Instructional Technology Experiment
- (2) Synchronous Integrated Technology Experiment
- (3) Satellite Instructional Television Experiment
- (4) Synchronous Integrated Television Experiment

- (1) 1
- (2) 2
- (3) 3
- (4) 4

SITE का पूरा नाम क्या है ?

- (1) सैटेलाइट इन्स्ट्रक्शनल टेक्नालॉजी एक्सपेरिमेंट
- (2) सिन्क्रोनस इंटेग्रेटिड टेक्नालॉजी एक्सपेरिमेंट
- (3) सैटेलाइट इन्स्ट्रक्शनल टेलीविजन एक्सपेरिमेंट
- (4) सिन्क्रोनस इंटेग्रेटिड टेलीविजन एक्सपेरिमेंट

- (1) 1
- (2) 2
- (3) 3
- (4) 4

1[Option ID=12261]
2[Option ID=12262]
3[Option ID=12263]
4[Option ID=12264]

Sl. No.42

QBID:1044017

Which of the following is included in media and information literacy?

- (1) Audience accountability
- (2) Corporate credibility
- (3) Audience psychography
- (4) Media analysis

- (1) 1
- (2) 2
- (3) 3
- (4) 4

निम्न में से कौन-सा मीडिया और सूचना साक्षरता में शामिल है ?

- (1) आग्राहक की जवाबदेही
- (2) कारपोरेट की विश्वसनीयता
- (3) आग्राहक मनोवृत्त
- (4) मीडिया विश्लेषण

- (1) 1
- (2) 2
- (3) 3
- (4) 4

- 1[Option ID=12265]
2[Option ID=12266]
3[Option ID=12267]
4[Option ID=12268]

Sl. No.43

QBID:1044018

Which of the followings unaffected by media directly ?

- (1) Literacy rate
- (2) Consumerism
- (3) Desensitisation
- (4) Buyers behaviour

- (1) 1
- (2) 2
- (3) 3
- (4) 4

निम्नलिखित में से कौन-सा सीधे तौर पर मीडिया से अप्रभावित है ?

- (1) साक्षरता दर
- (2) उपभोक्तावाद
- (3) असंवेदीकरण
- (4) खरीदार का व्यवहार

- (1) 1
- (2) 2
- (3) 3
- (4) 4

1[Option ID=12269]
2[Option ID=12270]
3[Option ID=12271]
4[Option ID=12272]

Sl. No.44
QBID:1044019

Which of the following statements is an *incorrect* description of media?

- (1) Media is an agent of social change
 - (2) Media is a magic multiplier
 - (3) Media is an influencer
 - (4) Media affects culture
- (1) 1
 - (2) 2
 - (3) 3
 - (4) 4

निम्नलिखित में से कौन-सा कथन मीडिया का सही विवरण नहीं है ?

- (1) मीडिया सामाजिक परिवर्तन का एक एजेंट है
 - (2) मीडिया एक जादुई गुणक है
 - (3) मीडिया एक प्रभावशाली है
 - (4) मीडिया संस्कृति को प्रभावित करता है
- (1) 1
 - (2) 2
 - (3) 3
 - (4) 4

1[Option ID=12273]
2[Option ID=12274]
3[Option ID=12275]
4[Option ID=12276]

Sl. No.45
QBID:1044020

Which of the following can bring about maximum development in a society?

- (1) Urbanisation
 - (2) Greater consumption
 - (3) People's participation
 - (4) Westernisation
- (1) 1
 - (2) 2
 - (3) 3

(4) 4

निम्नलिखित में से कौन सा विकल्प समाज में अधिकतम विकास ला सकता है ?

- (1) शहरीकरण
- (2) अधिक उपयोग
- (3) लोगों की भागीदारी
- (4) पश्चिमीकरण

(1) 1

(2) 2

(3) 3

(4) 4

1[Option ID=12277]

2[Option ID=12278]

3[Option ID=12279]

4[Option ID=12280]

Sl. No.46

QBID:1044021

Which of the following is *not* a feature of social media?

- (1) Interactivity
- (2) Photo sharing
- (3) Video sharing
- (4) Web series

(1) 1

(2) 2

(3) 3

(4) 4

निम्नलिखित में से कौन-सा सोशल मीडिया की विशेषता नहीं है ?

- (1) अन्योन्यक्रिया
- (2) फोटो साझा करना
- (3) वीडियो साझा करना
- (4) वेब सीरीज

(1) 1

(2) 2

(3) 3

(4) 4

1[Option ID=12281]

2[Option ID=12282]

3[Option ID=12283]

4[Option ID=12284]

Sl. No.47

QBID:1044022

In information communication, what does UGC stand for?

- (1) User Generated Content
- (2) Unique Grammar Code
- (3) Unicode Generated Content
- (4) Unique Genome Code

(1) 1

(2) 2

(3) 3

(4) 4

सूचना संचार में UGC का पूरा नाम क्या है ?

- (1) यूजर जेनेरेटेड कन्टेन्ट
- (2) यूनीक ग्रामर कोड
- (3) यूनिकोड जेनेरेटेड कन्टेन्ट
- (4) यूनीक जीनोम कोड

(1) 1

(2) 2

(3) 3

(4) 4

1[Option ID=12285]

2[Option ID=12286]

3[Option ID=12287]

4[Option ID=12288]

SI. No.48

QBID:1044023

Which of the following is an example of Social Networking sites?

- (1) Instagram
- (2) Google Pay
- (3) Google Maps
- (4) News sites

(1) 1

(2) 2

(3) 3

(4) 4

निम्न में से कौन-सा सोशल नेटवर्किंग साइट्स का एक उदाहरण है ?

- (1) इंस्टाग्राम
- (2) गूगल पे
- (3) गूगल मानचित्र
- (4) समाचार साइट्स

- (1) 1
- (2) 2
- (3) 3
- (4) 4

1[Option ID=12289]
2[Option ID=12290]
3[Option ID=12291]
4[Option ID=12292]

SI. No.49
QBID:1044024

Which of the following is *not* a cryptocurrency?

- (1) Bitcoin
 - (2) Dodgecoin
 - (3) Parthenium
 - (4) Ethereum
- (1) 1
 - (2) 2
 - (3) 3
 - (4) 4

निम्न में से कौन एक क्रिप्टोकॉइन्स नहीं है ?

- (1) बिटकॉइन
 - (2) डॉजाकॉइन
 - (3) पार्थेनियम
 - (4) एथेरियम
- (1) 1
 - (2) 2
 - (3) 3
 - (4) 4

1[Option ID=12293]
2[Option ID=12294]
3[Option ID=12295]
4[Option ID=12296]

SI. No.50
QBID:1044025

Which of the following is *not* a part of visual cultural studies?

- (1) Photo
 - (2) Film
 - (3) Graphics
 - (4) Text
- (1) 1
 - (2) 2
 - (3) 3
 - (4) 4

निम्नलिखित में से कौन सा दृश्य सांस्कृतिक अध्ययन का हिस्सा नहीं है ?

- (1) चित्र
- (2) फिल्म
- (3) ग्राफिक्स
- (4) पाठ

(1) 1

(2) 2

(3) 3

(4) 4

1[Option ID=12297]

2[Option ID=12298]

3[Option ID=12299]

4[Option ID=12300]

Sl. No.51

QBID:1044026

What is NATO?

- (1) An intergovernmental diplomatic alliance
- (2) An intergovernmental military alliance
- (3) An intergovernmental war treaty
- (4) An intergovernmental oil sharing alliance

(1) 1

(2) 2

(3) 3

(4) 4

NATO क्या है ?

- (1) एक अंतर-सरकारी राजनयिक गठबंधन
- (2) एक अंतर-सरकारी सैन्य गठबंधन
- (3) एक अंतर-सरकारी युद्ध संधि
- (4) एक अंतर-सरकारी तेल साझा करने वाला गठबंधन

(1) 1

(2) 2

(3) 3

(4) 4

1[Option ID=12301]

2[Option ID=12302]

3[Option ID=12303]

4[Option ID=12304]

Sl. No.52

QBID:1044027

What do Vishakha Guidelines focus on?

- (1) Sexual harassment at workplace
- (2) Gender sensitivity at public places
- (3) LGBTQ rights
- (4) Equal wages for women

(1) 1

(2) 2

(3) 3

(4) 4

विशाखा दिशानिर्देश किस पर केंद्रित हैं ?

- (1) कार्यस्थल पर यौन उत्पीड़न
- (2) सार्वजनिक स्थान पर लैंगिक संवेदनशीलता
- (3) एल जी बी टी क्यू अधिकार
- (4) महिलाओं के लिए समान वेतन

(1) 1

(2) 2

(3) 3

(4) 4

1[Option ID=12305]

2[Option ID=12306]

3[Option ID=12307]

4[Option ID=12308]

SI. No.53

QBID:1044028

Which of the following is *not* a country's development indicator?

- (1) Gross Domestic Product
- (2) Human Development Index
- (3) Maternal and Child Health Index
- (4) Physical Quality of Life Index

(1) 1

(2) 2

(3) 3

(4) 4

निम्नलिखित में से कौन देश का विकास संकेतक नहीं है ?

- (1) सकल घरेलू उत्पाद
- (2) मानव विकास सूचकांक
- (3) मातृ और बाल स्वास्थ्य सूचकांक
- (4) जीवन का भौतिक गुणवत्ता सूचकांक

(1) 1

(2) 2

(3) 3

(4) 4

1[Option ID=12309]

2[Option ID=12310]

3[Option ID=12311]

4[Option ID=12312]

Sl. No.54

QBID:1044029

Which country is Greta Thunberg a national of?

(1) Switzerland

(2) Sweden

(3) Finland

(4) Australia

(1) 1

(2) 2

(3) 3

(4) 4

ग्रेटा थनबर्ग किस देश की नागरिक है ?

(1) स्विट्ज़रलैंड

(2) स्वीडन

(3) फिनलैंड

(4) ऑस्ट्रेलिया

(1) 1

(2) 2

(3) 3

(4) 4

1[Option ID=12313]

2[Option ID=12314]

3[Option ID=12315]

4[Option ID=12316]

Sl. No.55

QBID:1044030

The rights of LGBTQ communities are given under which article of the Indian Constitution?

(1) Article 370

(2) Article 144

(3) Article 145

(4) Article 377

(1) 1

(2) 2

(3) 3

(4) 4

LGBTQ समुदायों के अधिकार भारतीय संविधान के किस अनुच्छेद के तहत दिए गए हैं ?

- (1) अनुच्छेद 370
- (2) अनुच्छेद 144
- (3) अनुच्छेद 145
- (4) अनुच्छेद 377

- (1) 1
- (2) 2
- (3) 3
- (4) 4

1[Option ID=12317]
2[Option ID=12318]
3[Option ID=12319]
4[Option ID=12320]

Sl. No.56

QBID:1044031

In which year was the National Human Rights Commission established?

- (1) 1948
- (2) 1993
- (3) 1996
- (4) 1949

- (1) 1
- (2) 2
- (3) 3
- (4) 4

राष्ट्रीय मानवाधिकार आयोग की स्थापना किस वर्ष की गई थी ?

- (1) 1948
- (2) 1993
- (3) 1996
- (4) 1949

- (1) 1
- (2) 2
- (3) 3
- (4) 4

1[Option ID=12321]
2[Option ID=12322]
3[Option ID=12323]
4[Option ID=12324]

Sl. No.57

QBID:1044032

Which of the following personalities is an environmental crusader?

- (1) Anna Hazare
- (2) Nihal Singh
- (3) Sundarlal Bahuguna
- (4) Kailash Sathyarthi

(1) 1

(2) 2

(3) 3

(4) 4

निम्नलिखित में से कौन-सा व्यक्तित्व पर्यावरणीय योद्धा है ?

- (1) अन्ना हजारे
- (2) निहाल सिंह
- (3) सुन्दर लाल बहुगुणा
- (4) कैलाश सत्यार्थी

(1) 1

(2) 2

(3) 3

(4) 4

1[Option ID=12325]

2[Option ID=12326]

3[Option ID=12327]

4[Option ID=12328]

Sl. No.58

QBID:1044033

Pick the odd one out :

- (1) Community media
- (2) Alternative media
- (3) Participatory media
- (4) Legacy media

(1) 1

(2) 2

(3) 3

(4) 4

विषम को चुनिए

- (1) सामुदायिक मीडिया
- (2) वैकल्पिक मीडिया
- (3) सहभागी मीडिया
- (4) विरासत मीडिया

(1) 1

(2) 2

(3) 3

(4) 4

1[Option ID=12329]

2[Option ID=12330]

3[Option ID=12331]

4[Option ID=12332]

Sl. No.59

QBID:1044034

Which of the following *cannot* be an advertising appeal?

- (1) Crime
- (2) Logic or reason
- (3) Emotion
- (4) Credibility

(1) 1

(2) 2

(3) 3

(4) 4

निम्नलिखित में से कौन सी विज्ञापन अपील नहीं हो सकती है ?

- (1) अपराध
- (2) तर्क या कारण
- (3) भावना
- (4) साख (विश्वस्नीयता)

(1) 1

(2) 2

(3) 3

(4) 4

1[Option ID=12333]

2[Option ID=12334]

3[Option ID=12335]

4[Option ID=12336]

Sl. No.60

QBID:1044035

Which of the following does a brand represent?

- A. Identity
- B. Value
- C. Price Elasticity
- D. Trust
- E. Class

Choose the correct answer from the options given below :

- (1) Only A, B, C
- (2) Only A, B, D, E
- (3) Only B, C, E
- (4) Only C, D, E

- (1) 1
- (2) 2
- (3) 3
- (4) 4

एक ब्रांड निम्नलिखित में से किसका प्रतिनिधित्व करता है ?

- A. पहचान
- B. महत्व
- C. मूल्य में लचीलापन
- D. विश्वास
- E. वर्ग

नीचे दिए गए विकल्पों में से सही उत्तर का चयन कीजिए :

- (1) केवल A, B, C
- (2) केवल A, B, D, E
- (3) केवल B, C, E
- (4) केवल C, D, E

- (1) 1
- (2) 2
- (3) 3
- (4) 4

- 1[Option ID=12337]
- 2[Option ID=12338]
- 3[Option ID=12339]
- 4[Option ID=12340]

Sl. No.61
QBID:1044036

Which of the following factors is unsuitable for getting insights on mass audiences?

- (1) Demographic
- (2) Geographic
- (3) Genetic
- (4) Psychographic

(1) 1

(2) 2

(3) 3

(4) 4

निम्नलिखित में से कौन-सा कारक बड़े पैमाने पर आग्राहकों की अंतर्दृष्टि प्राप्त करने के लिए उपयुक्त नहीं है ?

- (1) जनसांख्यिकीय
- (2) भौगोलिक
- (3) जेनेटिक
- (4) मानसचित्र संबंधी

(1) 1

(2) 2

(3) 3

(4) 4

1[Option ID=12341]

2[Option ID=12342]

3[Option ID=12343]

4[Option ID=12344]

Sl. No.62

QBID:1044037

What is target audience studied as a part of?

- (1) Production
- (2) Editing
- (3) Promotion
- (4) Research

(1) 1

(2) 2

(3) 3

(4) 4

लक्षित दर्शकों का अध्ययन किसके एक भाग के रूप में किया जाता है ?

- (1) उत्पादन
- (2) संपादन
- (3) पदोन्नति
- (4) शोध

(1) 1

(2) 2

(3) 3

(4) 4

1[Option ID=12345]

2[Option ID=12346]

3[Option ID=12347]

4[Option ID=12348]

SI. No.63

QBID:1044038

Which of the following is the best reason for holding a press conference?

- (1) For making an important announcement
- (2) To create a campaign strategy
- (3) To highlight the recent issues in society
- (4) For making off-the-record statements

(1) 1

(2) 2

(3) 3

(4) 4

प्रेस कांफ्रेंस आयोजित करने का सबसे अच्छा कारण निम्न में से कौन-सा है ?

- (1) एक महत्वपूर्ण घोषणा करने के लिए
- (2) अभियान रणनीति बनाने के लिए
- (3) समाज में हाल के मुद्दों पर प्रकाश डालने के लिए
- (4) ऑफ-द-रिकॉर्ड बयान देने के लिए

(1) 1

(2) 2

(3) 3

(4) 4

1[Option ID=12349]

2[Option ID=12350]

3[Option ID=12351]

4[Option ID=12352]

SI. No.64

QBID:1044039

Who is the current President of Ukraine?

- (1) Vladimir Putin
- (2) Volodymyr Zelensky
- (3) Vladimir Gurevich
- (4) Volodymyr Gorbachev

(1) 1

(2) 2

(3) 3

(4) 4

यूक्रेन के वर्तमान राष्ट्रपति कौन हैं ?

- (1) व्लादिमीर पुतिन
- (2) वोलोदिमीर ज़ेलेन्स्की
- (3) व्लादिमीर ग्युरेविच
- (4) वोलदिमीर गोरबाचेव

(1) 1

(2) 2

(3) 3

(4) 4

1[Option ID=12353]

2[Option ID=12354]

3[Option ID=12355]

4[Option ID=12356]

Sl. No.65

QBID:1044040

How many countries are members of NATO?

- (1) 32
- (2) 33
- (3) 30
- (4) 27

(1) 1

(2) 2

(3) 3

(4) 4

कितने देश NATO के सदस्य हैं ?

- (1) 32
- (2) 33
- (3) 30
- (4) 27

(1) 1

(2) 2

(3) 3

(4) 4

1[Option ID=12357]

2[Option ID=12358]

3[Option ID=12359]

4[Option ID=12360]

Sl. No.66

QBID:1044041

What is the ranking of India in Human Development Index?

- (1) 145
- (2) 138
- (3) 148
- (4) 131

(1) 1

(2) 2

(3) 3

(4) 4

मानव विकास सूचकांक में भारत की रैंकिंग क्या है ?

- (1) 145
- (2) 138
- (3) 148
- (4) 131

(1) 1

(2) 2

(3) 3

(4) 4

1[Option ID=12361]

2[Option ID=12362]

3[Option ID=12363]

4[Option ID=12364]

SI. No.67

QBID:1044042

Which of the following is *not* a tax?

- (1) Insurance duty
- (2) Excise duty
- (3) Corporate tax
- (4) Personal Income Tax

(1) 1

(2) 2

(3) 3

(4) 4

निम्नलिखित में से कौन सा एक कर नहीं है ?

- (1) बीमा शुल्क
- (2) उत्पाद शुल्क
- (3) निगमित कर
- (4) व्यक्तिगत आयकर

(1) 1

(2) 2

(3) 3

(4) 4

1[Option ID=12365]

2[Option ID=12366]

3[Option ID=12367]

4[Option ID=12368]

SI. No.68

QBID:1044043

Which of the following was India's first electric car?

- (1) Mahindra Reva
- (2) Tata Nano EV
- (3) Toyota Lexus
- (4) Volkswagen ID Buzz EV

(1) 1

(2) 2

(3) 3

(4) 4

निम्नलिखित में से कौन सी भारत की पहली इलेक्ट्रिक कार थी ?

- (1) महिंद्रा रेवा
- (2) टाटा नैनो ई वी
- (3) टोयोटा लेक्सस
- (4) वोक्सवैगन आई डी बज़ ई वी

(1) 1

(2) 2

(3) 3

(4) 4

1[Option ID=12369]

2[Option ID=12370]

3[Option ID=12371]

4[Option ID=12372]

SI. No.69

QBID:1044044

The Government has proposed a directive to seek records of Virtual Private Network (VPN) users as it can lead to

- (1) Cyber frauds
- (2) Documenting data
- (3) Controlled access
- (4) Economic revenues

(1) 1

(2) 2

(3) 3

(4) 4

सरकार ने वर्चुअल प्राइवेट नेटवर्क (वीपीएन) के उपयोगकर्ताओं के रिकॉर्ड प्राप्त करने के लिए एक निर्देश का प्रस्ताव किया है क्योंकि इससे

- (1) साइबर धोखाधड़ी हो सकती है
- (2) डेटा दस्तावेजीकरण हो सकता है
- (3) नियंत्रित पहुँच हो सकती है
- (4) आर्थिक राजस्व हो सकता है

(1) 1

(2) 2

(3) 3

(4) 4

1[Option ID=12373]

2[Option ID=12374]

3[Option ID=12375]

4[Option ID=12376]

Sl. No.70

QBID:1044045

Bombay Stock Exchange (BSE) and National Stock Exchange (NSE) help the companies in

- (1) Listing themselves
- (2) Reporting their earnings
- (3) Publishing their annual reports
- (4) Allotment of sectors in which they want to operate

(1) 1

(2) 2

(3) 3

(4) 4

बॉम्बे स्टॉक एक्सचेंज (बी ए सई) और नेशनल स्टॉक एक्सचेंज (एन ए सई) कंपनियों की किस में मदद करते हैं?

- (1) खुद को सूचीबद्ध करना
- (2) उनकी उपार्जित आय को रिपोर्ट करना
- (3) उनकी वार्षिक रिपोर्ट प्रकाशित करना
- (4) सेक्टरों का आवंटन जिसमें वे काम करना चाहते हैं

(1) 1

(2) 2

(3) 3

(4) 4

1[Option ID=12377]

2[Option ID=12378]

3[Option ID=12379]
4[Option ID=12380]

Sl. No.71
QBID:1044046

Which of the following is a public sector enterprise?

- (1) BPCL
- (2) RIL
- (3) Ranbaxy
- (4) Bharat Biotech

- (1) 1
- (2) 2
- (3) 3
- (4) 4

निम्नलिखित में से कौन-सा सार्वजनिक क्षेत्र का उद्यम है ?

- (1) बी पी सी एल
- (2) आर आई एल
- (3) रैनबैक्सी
- (4) भारत बायोटेक

- (1) 1
- (2) 2
- (3) 3
- (4) 4

1[Option ID=12381]
2[Option ID=12382]
3[Option ID=12383]
4[Option ID=12384]

Sl. No.72
QBID:1044047

Which of the following four North-Eastern States is a reason for the rift between India and China for long?

- (1) Meghalaya
- (2) Arunachal Pradesh
- (3) Sikkim
- (4) Nagaland

- (1) 1
- (2) 2
- (3) 3
- (4) 4

निम्नलिखित में से किन चार उत्तरपूर्वी राज्यों को लेकर लम्बे समय से भारत-चीन के बीच विवाद चल रहा है ?

- (1) मेघालय
- (2) अरुणाचल प्रदेश
- (3) सिक्किम
- (4) नागालैण्ड

- (1) 1
- (2) 2
- (3) 3
- (4) 4

1[Option ID=12385]
2[Option ID=12386]
3[Option ID=12387]
4[Option ID=12388]

SI. No.73

QBID:1044048

Which of the following is the Southern most tip of India?

- (1) Kanyakumari
- (2) Thiruvananthapuram
- (3) Malpe
- (4) Indira Point

- (1) 1
- (2) 2
- (3) 3
- (4) 4

निम्नलिखित में से कौन-सा स्थान भारत का दक्षिणतम बिंदु है ?

- (1) कन्याकुमारी
- (2) तिरुवनंथपुरम
- (3) मलपे
- (4) इंदिरा प्वाइंट

- (1) 1
- (2) 2
- (3) 3
- (4) 4

1[Option ID=12389]
2[Option ID=12390]
3[Option ID=12391]
4[Option ID=12392]

SI. No.74

QBID:1044049

The 26th Conference of United Nations Climate Change Conference of Parties, (CoP26) recently concluded in Glasgow. Which of the following are correct with respect to the outcomes of CoP26?

- A. The world leaders decided to act to limit temperature rise.
- B. To accelerate action towards goals of Paris Agreement.
- C. To work with local bodies to bring social change.
- D. To create awareness about environmental issues globally.

Choose the correct answer from the options given below :

- (1) Only A and B
- (2) Only B and C
- (3) Only C and D
- (4) Only A and D

(1) 1

(2) 2

(3) 3

(4) 4

संयुक्त राष्ट्र जलवायु परिवर्तन पार्टियों (CoP26) का 26वां सम्मेलन हाल ही में ग्लासगो में संपन्न हुआ। CoP26 के परिणामों के संबंध में निम्नलिखित में से कौन-सा सही है?

- A. विश्व नेताओं ने तापमान वृद्धि को सीमित करने के लिए कार्य करने का निर्णय लिया।
- B. पेरिस समझौते के लक्ष्यों की दिशा में तेजी से कार्रवाई करना।
- C. सामाजिक परिवर्तन लाने के लिए स्थानीय निकायों के साथ काम करना।
- D. विश्व स्तर पर पर्यावरण के मुद्दों के बारे में जागरूकता पैदा करना।

नीचे दिए गए विकल्पों में से सही उत्तर का चयन कीजिए :

- (1) केवल A और B
- (2) केवल B और C
- (3) केवल C और D
- (4) केवल A और D

(1) 1

(2) 2

(3) 3

(4) 4

1[Option ID=12393]

2[Option ID=12394]

3[Option ID=12395]

4[Option ID=12396]

Sl. No.75

QBID:1044050

The Government in India is unlikely to allow a booster shot that is different from the primary Covid-19 vaccine. Reasons are :

- A. Mixing Covishield and Covaxin did not yield encouraging results.
- B. If the booster is the same as the first two doses, the immunity is boosted better.
- C. It is cheaper to use the same vaccine as booster.
- D. The constant shortage of one vaccine will not allow uniform administering on a large population.

Choose the correct answer from the options given below :

- (1) Only A and C
- (2) Only B and C
- (3) Only A and D
- (4) Only A and B

(1) 1

(2) 2

(3) 3

(4) 4

भारत सरकार द्वारा प्राथमिक कोविड-19 वैक्सीन से अलग बूस्टर शॉट की अनुमति देने की संभावना नहीं है । कारण हैं :

- A. कोविशील्ड और कोवैक्सिन को मिलाने से उत्साहजनक परिणाम नहीं मिले ।
- B. यदि बूस्टर पहली दो खुराक के समान है, तो प्रतिरक्षा को बेहतर तरीके से बढ़ाया जाता है ।
- C. बूस्टर के समान वैक्सीन का उपयोग करना सस्ता है ।
- D. एक टीके की निरंतर कमी एक बड़ी आबादी पर एक समान टीका लगाने की अनुमति नहीं देगी ।

नीचे दिए गए विकल्पों में से सही उत्तर का चयन कीजिए :

- (1) केवल A और C
- (2) केवल B और C
- (3) केवल A और D
- (4) केवल A और B

(1) 1

(2) 2

(3) 3

(4) 4

1[Option ID=12397]

2[Option ID=12398]

3[Option ID=12399]

4[Option ID=12400]

Sl. No.76

QBID:1044051

Internet companies like Facebook and Netflix are facing a growth lull due to

- A. Global competition.
- B. A considerable global population is not online.
- C. Internet connections are not consistent and fast.
- D. These companies have reached their saturation points in the developed world.

Choose the correct answer from the options given below :

- (1) Only A and B
- (2) A, B, C and D
- (3) Only B and C
- (4) Only B, C and D

(1) 1

(2) 2

(3) 3

(4) 4

फेसबुक और नेटफ्लिक्स जैसी इंटरनेट कंपनियां किसके कारण वृद्धि की कमी का सामना कर रही हैं ?

- A. विश्वस्तरीय प्रतियोगिता ।
- B. विश्व स्तर पर काफी वैश्विक आबादी ऑनलाइन नहीं है ।
- C. इंटरनेट कनेक्शन सुसंगत और तेज़ नहीं हैं ।
- D. ये कंपनियां विकसित दुनिया में अपने संतृप्ति बिंदु पर पहुँच गई हैं ।

नीचे दिए गए विकल्पों में से सही उत्तर का चयन कीजिए :

- (1) केवल A और B
- (2) A, B, C, D
- (3) केवल B और C
- (4) केवल B, C और D

(1) 1

(2) 2

(3) 3

(4) 4

1[Option ID=12401]

2[Option ID=12402]

3[Option ID=12403]

4[Option ID=12404]

SI. No.77

QBID:1044052

Digital skills such as cloud computing, artificial intelligence and big data are in top demand. In view of this statement, which of the following are correct ?

- A. Indian IT companies are looking at creating a different set of skills.
- B. Digital tech talent is growing more as compared to core IT.
- C. The attrition levels in IT companies are high.
- D. The active workforce in other sectors is reducing.

Choose the correct answer from the options given below :

- (1) Only A and B
- (2) Only B and C
- (3) Only C and D
- (4) Only A and D

- (1) 1
- (2) 2
- (3) 3
- (4) 4

क्लाउड कंप्यूटिंग, आर्टिफिशियल इंटेलिजेंस और बिग डेटा जैसे डिजिटल स्किल्स की सबसे ज्यादा मांग है। इस कथन को ध्यान में रखते हुए, निम्नलिखित में से कौन-सा सही है ?

- A. भारतीय आई टी कंपनियां कौशल का एक अलग सेट बनाने पर विचार कर रही हैं।
- B. डिजिटल तकनीकी प्रतिभा कोर आई टी की तुलना में अधिक बढ़ रही है।
- C. आई टी कम्पनियों में एट्रिशन स्तर उच्च हैं।
- D. अन्य क्षेत्रों में सक्रिय कार्यबल कम हो रहा है।

नीचे दिए गए विकल्पों में से सही उत्तर का चयन कीजिए :

- (1) केवल A और B
- (2) केवल B और C
- (3) केवल C और D
- (4) केवल A और D

- (1) 1
- (2) 2
- (3) 3
- (4) 4

- 1[Option ID=12405]
- 2[Option ID=12406]
- 3[Option ID=12407]
- 4[Option ID=12408]

Due to increasing cybercrimes, organisations now need to work towards building a robust cyber security infrastructure to tackle any potential security threat.

In the light of this statement, which of the following are correct ?

- A. Investment should be made in strong cloud security measures.
- B. As remote operations continue in post-pandemic era, it is impossible to avoid damage.
- C. The 'go digital' push is not a great idea in such times.
- D. One does not have to be defenceless in the face of cyber attacks.

Choose the most appropriate answer from the options given below :

- (1) Only A and D
- (2) Only B and C
- (3) Only C and D
- (4) Only A and D

(1) 1

(2) 2

(3) 3

(4) 4

बढ़ते साइबर अपराधों के कारण, संगठनों को अब किसी भी संभावित सुरक्षा खतरे से निपटने के लिए एक मजबूत साइबर सुरक्षा बुनियादी ढांचे के निर्माण की दिशा में काम करने की आवश्यकता है। इस कथन के आलोक में, निम्नलिखित में से कौन-सा सही है ?

- A. मजबूत क्लाउड सुरक्षा उपायों में निवेश किया जाना चाहिए।
- B. चूंकि महामारी के बाद के युग में दूरस्थ संचालन जारी है, इसलिए क्षति से बचना असंभव है।
- C. ऐसे समय में 'गो डिजिटल' एक अच्छा विचार नहीं है।
- D. साइबर हमलों का सामना करने के लिए किसी को रक्षाहीन होने की आवश्यकता नहीं है।

नीचे दिए गए विकल्पों में से सबसे उपयुक्त उत्तर का चयन कीजिए :

- (1) केवल A और D
- (2) केवल B और C
- (3) केवल C और D
- (4) केवल A और C

(1) 1

(2) 2

(3) 3

(4) 4

- 1[Option ID=12409]
2[Option ID=12410]
3[Option ID=12411]
4[Option ID=12412]

Sl. No.79

QBID:1044054

Which of the following statements is true of sampling?

- A. It is done for surveys.
B. It is required for audience studies.
C. It is helpful in science experiments only.
D. It does not produce effective results in social sciences.

Choose the correct answer from the options given below :

- (1) Only B and C
(2) Only A and B
(3) Only C and D
(4) Only A and D

- (1) 1
(2) 2
(3) 3
(4) 4

निम्नलिखित में से कौन सा कथन प्रतिचयन के बारे में सही है ?

- A. यह सर्वेक्षण के लिए किया जाता है ।
B. यह आग्राहक अध्ययन के लिए आवश्यक है ।
C. यह केवल विज्ञान के प्रयोगों में सहायक है ।
D. यह सामाजिक विज्ञान में प्रभावी परिणाम नहीं देता है ।

नीचे दिए गए विकल्पों में से सही उत्तर का चयन कीजिए :

- (1) केवल B और C
(2) केवल A और B
(3) केवल C और D
(4) केवल A और D

- (1) 1
(2) 2
(3) 3
(4) 4

- 1[Option ID=12413]
2[Option ID=12414]
3[Option ID=12415]
4[Option ID=12416]

Sl. No.80

QBID:1044055

Match List I with List II :

List I	List II
A. Twitter	I. Programming
B. Instagram	II. Social Media
C. Amazon	III. E-commerce
D. Python	IV. Picture sharing

Choose the correct answer from the options given below :

- (1) A-IV, B-III, C-II, D-I
- (2) A-I, B-II, C-III, D-IV
- (3) A-II, B-IV, C-III, D-I
- (4) A-III, B-II, C-I, D-IV

(1) 1

(2) 2

(3) 3

(4) 4

सूची I के साथ सूची II का मिलान कीजिए :

सूची I	सूची II
A. ट्विटर	I. प्रोग्रामिंग
B. इंस्टाग्राम	II. सोशल मीडिया
C. अमेज़ॉन	III. ई-कॉमर्स
D. पायथन	IV. चित्र साझा करना

नीचे दिए गए विकल्पों में से सही उत्तर का चयन कीजिए :

- (1) A-IV, B-III, C-II, D-I
- (2) A-I, B-II, C-III, D-IV
- (3) A-II, B-IV, C-III, D-I
- (4) A-III, B-II, C-I, D-IV

(1) 1

(2) 2

(3) 3

(4) 4

1[Option ID=12417]

2[Option ID=12418]

3[Option ID=12419]

4[Option ID=12420]

Sl. No.81

QBID:1044056

Match List I with List II :

List I

- A. Virtual Reality
- B. Internet of Things
- C. Artificial Intelligence
- D. Augmented Reality

List II

- I. Connected Appliances
- II. Second Life
- III. Pokemon GO
- IV. Alexa

Choose the correct answer from the options given below :

- (1) A-I, B-II, C-III, D-IV
- (2) A-II, B-I, C-IV, D-III
- (3) A-III, B-IV, C-I, D-II
- (4) A-IV, B-III, C-II, D-I

(1) 1

(2) 2

(3) 3

(4) 4

सूची I के साथ सूची II का मिलान कीजिए :

सूची I

- A. आभासी वास्तविकता (VR)
- B. वस्तुओं का अंतर्जाल (IoT)
- C. कृत्रिम बुद्धि (AI)
- D. संवर्धित वास्तविकता (AR)

सूची II

- I. जुड़े उपकरण
- II. दूसरा जीवन
- III. पोकेमॉन गो
- IV. एलेक्सा

नीचे दिए गए विकल्पों में से सही उत्तर का चयन कीजिए :

- (1) A-I, B-II, C-III, D-IV
- (2) A-II, B-I, C-IV, D-III
- (3) A-III, B-IV, C-I, D-II
- (4) A-IV, B-III, C-II, D-I

(1) 1

(2) 2

(3) 3

(4) 4

1[Option ID=12421]

2[Option ID=12422]

3[Option ID=12423]

4[Option ID=12424]

Sl. No.82

QBID:1044057

Match List I with List II :

List I	List II
A. Web 1·0	I. Community collaboration
B. Web 2·0	II. Personalised searches and records previous searches
C. Web 3·0	III. Read only web
D. Wiki	IV. Interact and collaborate

Choose the correct answer from the options given below :

- (1) A-I, B-III, C-IV, D-II
- (2) A-I, B-II, C-III, D-IV
- (3) A-IV, B-I, C-II, D-III
- (4) A-III, B-IV, C-II, D-I

- (1) 1
- (2) 2
- (3) 3
- (4) 4

सूची I के साथ सूची II का मिलान कीजिए :

सूची I	सूची II
A. वेब 1·0	I. सामुदायिक सहयोग
B. वेब 2·0	II. वैयक्तिकृत खोज और पिछली खोजों को रिकॉर्ड करता है
C. वेब 3·0	III. केवल वेब पढ़ें
D. विकी	IV. परस्पर-क्रिया और सहयोग

नीचे दिए गए विकल्पों में से सही उत्तर का चयन कीजिए :

- (1) A-I, B-III, C-IV, D-II
- (2) A-I, B-II, C-III, D-IV
- (3) A-IV, B-I, C-II, D-III
- (4) A-III, B-IV, C-II, D-I

- (1) 1
- (2) 2
- (3) 3
- (4) 4

- 1[Option ID=12425]
2[Option ID=12426]
3[Option ID=12427]
4[Option ID=12428]

Match List I with List II :

List I	List II
A. Netflix	I. Sundar Pichai
B. Amazon	II. Mark Zuckerberg
C. Facebook	III. Jeff Bezos
D. Google	IV. Reed Hastings

Choose the correct answer from the options given below :

- (1) A-II, B-I, C-IV, D-III
- (2) A-III, B-II, C-I, D-IV
- (3) A-IV, B-III, C-II, D-I
- (4) A-I, B-IV, C-III, D-II

- (1) 1
- (2) 2
- (3) 3
- (4) 4

सूची I के साथ सूची II का मिलान कीजिए :

सूची I	सूची II
A. नेटफ्लिक्स	I. सुंदर पिचाई
B. अमेज़ॉन	II. मार्क ज़करबर्ग
C. फेसबुक	III. जेफ बेजोस
D. गूगल	IV. रीड हेस्टिंग्स

नीचे दिए गए विकल्पों में से सही उत्तर का चयन कीजिए :

- (1) A-II, B-I, C-IV, D-III
- (2) A-III, B-II, C-I, D-IV
- (3) A-IV, B-III, C-II, D-I
- (4) A-I, B-IV, C-III, D-II

- (1) 1
- (2) 2
- (3) 3
- (4) 4

1[Option ID=12429]

2[Option ID=12430]

3[Option ID=12431]

4[Option ID=12432]

Sl. No.84

QBID:1044059

Match List I with List II :

List I		List II	
A.	Lifebuoy	I.	P & G
B.	Pantene	II.	ITC
C.	Aashirvaad	III.	Tata
D.	Tetley	IV.	Unilever

Choose the correct answer from the options given below :

- (1) A-IV, B-I, C-II, D-III
- (2) A-III, B-II, C-I, D-IV
- (3) A-II, B-III, C-IV, D-I
- (4) A-I, B-IV, C-III, D-II

(1) 1

(2) 2

(3) 3

(4) 4

सूची I के साथ सूची II का मिलान कीजिए :

सूची I		सूची II	
A.	लाइफबॉय	I.	पी एंड जी
B.	पैंटीन	II.	आई टी सी
C.	आशीर्वाद	III.	टाटा
D.	टेटली	IV.	यूनिलीवर

नीचे दिए गए विकल्पों में से सही उत्तर का चयन कीजिए :

- (1) A-IV, B-I, C-II, D-III
- (2) A-III, B-II, C-I, D-IV
- (3) A-II, B-III, C-IV, D-I
- (4) A-I, B-IV, C-III, D-II

(1) 1

(2) 2

(3) 3

(4) 4

1[Option ID=12433]

2[Option ID=12434]

3[Option ID=12435]

4[Option ID=12436]

Sl. No.85

QBID:1044060

Match List I with List II :

List I		List II	
A.	Tata	I.	E-Verito
B.	Mahindra	II.	Kona Electric
C.	Hyundai	III.	Nexon EV
D.	Jaguar	IV.	I-Pace

Choose the correct answer from the options given below :

- (1) A-III, B-I, C-II, D-IV
- (2) A-II, B-III, C-I, D-IV
- (3) A-I, B-IV, C-III, D-II
- (4) A-IV, B-II, C-III, D-I

- (1) 1
- (2) 2
- (3) 3
- (4) 4

सूची I के साथ सूची II का मिलान कीजिए :

सूची I		सूची II	
A.	टाटा	I.	ई-वेरिटो
B.	महिंद्रा	II.	कोना इलेक्ट्रिक
C.	हुंडई	III.	नेक्सन ई वी
D.	जैगुआर	IV.	ऑई-पेस

नीचे दिए गए विकल्पों में से सही उत्तर का चयन कीजिए :

- (1) A-III, B-I, C-II, D-IV
- (2) A-II, B-III, C-I, D-IV
- (3) A-I, B-IV, C-III, D-II
- (4) A-IV, B-II, C-III, D-I

- (1) 1
- (2) 2
- (3) 3
- (4) 4

1[Option ID=12437]

2[Option ID=12438]

3[Option ID=12439]

4[Option ID=12440]

Sl. No.86

QBID:1044061

In which chronological order did the following natural calamities happen in the recent years ?

- A. Cyclone Yaas
- B. Amazon Rainforest Fire
- C. Tamil Nadu Floods
- D. Cyclone Amphan

Choose the correct answer from the options given below :

- (1) A, C, B, D
- (2) B, D, C, A
- (3) C, B, D, A
- (4) D, A, C, B

(1) 1

(2) 2

(3) 3

(4) 4

हाल के वर्षों में निम्नलिखित प्राकृतिक आपदाएँ किस कालानुक्रमिक क्रम में घटित हुई हैं ?

- A. चक्रवात यास
- B. अमेज़ॉन वर्षावन की आग
- C. तमिलनाडु बाढ़
- D. चक्रवात अम्फान

नीचे दिए गए विकल्पों में से सही उत्तर का चयन कीजिए :

- (1) A, C, B, D
- (2) B, D, A, C
- (3) C, B, D, A
- (4) D, A, C, B

(1) 1

(2) 2

(3) 3

(4) 4

1[Option ID=12441]

2[Option ID=12442]

3[Option ID=12443]

4[Option ID=12444]

Sl. No.87

QBID:1044062

Explain the process of media production in its correct sequence :

- A. Scripting
- B. Production
- C. Ideation
- D. Editing

Choose the correct answer from the options given below :

- (1) C, A, B, D
- (2) B, C, D, A
- (3) D, B, C, A
- (4) A, B, C, D

- (1) 1
- (2) 2
- (3) 3
- (4) 4

मीडिया उत्पादन की प्रक्रिया के सही क्रम की पहचानें :

- A. स्क्रिप्टिंग
- B. उत्पादन
- C. विचार
- D. संपादन

नीचे दिए गए विकल्पों में से सही उत्तर का चयन कीजिए :

- (1) C, A, B, D
- (2) B, C, D, A
- (3) D, B, C, A
- (4) A, B, C, D

- (1) 1
- (2) 2
- (3) 3
- (4) 4

1[Option ID=12445]

2[Option ID=12446]

3[Option ID=12447]

4[Option ID=12448]

Sl. No.88

QBID:1044063

Indicate the chronological order of evolution of newspapers :

- A. Broadsheet
- B. Corantos
- C. E-Papers
- D. Diurnals

Choose the correct answer from the options given below :

- (1) A, B, C, D
- (2) D, C, B, A
- (3) B, D, A, C
- (4) C, B, D, A

(1) 1

(2) 2

(3) 3

(4) 4

समाचार पत्रों के विकास के कालानुक्रमिक क्रम को इंगित करें :

- A. ब्रॉडशीट्स
- B. कोरांटोस
- C. ई-समाचार पत्र
- D. डायर्नल्स

नीचे दिए गए विकल्पों में से सही उत्तर का चयन कीजिए :

- (1) A, B, C, D
- (2) D, C, B, A
- (3) B, D, A, C
- (4) C, B, D, A

(1) 1

(2) 2

(3) 3

(4) 4

1[Option ID=12449]

2[Option ID=12450]

3[Option ID=12451]

4[Option ID=12452]

Sl. No.89

QBID:1044064

Identify the correct chronological sequencing of the following ages of human civilization :

- A. Industrial Age
- B. Iron Age
- C. Information Age
- D. Stone Age

Choose the correct answer from the options given below :

- (1) A, B, C, D
- (2) D, C, B, A
- (3) D, B, A, C
- (4) C, B, A, D

(1) 1

(2) 2

(3) 3

(4) 4

मानव सभ्यता के निम्नलिखित युगों की कालानुक्रमिक अनुक्रमण की पहचान कीजिए :

- A. औद्योगिक युग
- B. लौह युग
- C. सूचना युग
- D. पाषाण युग

नीचे दिए गए विकल्पों में से सही उत्तर का चयन कीजिए :

- (1) A, B, C, D
- (2) D, C, B, A
- (3) D, B, A, C
- (4) C, B, A, D

(1) 1

(2) 2

(3) 3

(4) 4

1[Option ID=12453]

2[Option ID=12454]

3[Option ID=12455]

4[Option ID=12456]

Sl. No.90

QBID:1044065

Arrange the variants of COVID-19 virus in the sequence of the way they affected the world.

- A. Delta
- B. Beta
- C. Alpha
- D. Omicron

Choose the correct answer from the options given below :

- (1) C, B, A, D
- (2) B, D, C, A
- (3) A, B, C, D
- (4) C, D, A, B

(1) 1

(2) 2

(3) 3

(4) 4

COVID-19 के वायरस के प्रकारों को उस क्रम में व्यवस्थित कीजिए, जिस तरीके से उन्होंने दुनिया को प्रभावित किया था।

- A. डेल्टा
- B. बीटा
- C. अल्फा
- D. ऑमिक्रॉन

नीचे दिए गए विकल्पों में से सही उत्तर का चयन कीजिए :

- (1) C, B, A, D
- (2) B, D, C, A
- (3) A, B, C, D
- (4) C, D, A, B

(1) 1

(2) 2

(3) 3

(4) 4

1[Option ID=12457]

2[Option ID=12458]

3[Option ID=12459]

4[Option ID=12460]

Sl. No.91

QBID:1044066

Trace the evolutionary sequence of new media :

- A. Web 1.0
- B. SNS
- C. ARPANET
- D. Connectivity for network economy

Choose the correct answer from the options given below :

- (1) A, C, B, D
- (2) C, D, A, B
- (3) B, C, A, D
- (4) D, C, B, A

(1) 1

(2) 2

(3) 3

(4) 4

न्यू मीडिया के विकासीय अनुक्रम का पता लगाइए :

- A. वेब 1.0
- B. एसएनएस
- C. अर्पानेट (ARPANET)
- D. नेटवर्क इकोनॉमी के लिए कनेक्टिविटी

नीचे दिए गए विकल्पों में से सही उत्तर का चयन कीजिए :

- (1) A, C, B, D
- (2) C, D, A, B
- (3) B, C, A, D
- (4) D, C, B, A

(1) 1

(2) 2

(3) 3

(4) 4

1[Option ID=12461]

2[Option ID=12462]

3[Option ID=12463]

4[Option ID=12464]

Sl. No.92

QBID:1044067

Identify the steps given below in correct sequence for designing a development campaign :

- A. Strategising
- B. Situation Analysis
- C. Implementation
- D. Identifying Objectives

Choose the correct answer from the options given below :

- (1) A, B, D, C
- (2) B, A, C, D
- (3) B, D, A, C
- (4) D, C, A, B

(1) 1

(2) 2

(3) 3

(4) 4

एक विकास संचार अभियान की रूपरेखा तैयार करने के लिए नीचे दिए गए चरणों के सही क्रम की पहचान कीजिए :

- A. रणनीति
- B. स्थिति विश्लेषण
- C. कार्यान्वयन
- D. उद्देश्यों की पहचान

नीचे दिए गए विकल्पों में से सही उत्तर का चयन कीजिए :

- (1) A, B, D, C
- (2) B, A, C, D
- (3) B, D, A, C
- (4) D, C, A, B

(1) 1

(2) 2

(3) 3

(4) 4

1[Option ID=12465]

2[Option ID=12466]

3[Option ID=12467]

4[Option ID=12468]

Sl. No.93

QBID:1044068

Arrange the following Indian states from North to South :

- A. Telangana
- B. Jharkhand
- C. Andhra Pradesh
- D. Chhattisgarh

Choose the correct answer from the options given below :

- (1) A, B, D, C
- (2) B, D, A, C
- (3) B, D, C, A
- (4) C, D, A, B

(1) 1

(2) 2

(3) 3

(4) 4

निम्नलिखित भारतीय राज्यों को उत्तर से दक्षिण तक व्यवस्थित कीजिए :

- A. तेलंगाना
- B. झारखंड
- C. आंध्र प्रदेश
- D. छत्तीसगढ़

नीचे दिए गए विकल्पों में से सही उत्तर का चयन कीजिए :

- (1) A, B, D, C
- (2) B, D, A, C
- (3) B, D, C, A
- (4) C, D, A, B

(1) 1

(2) 2

(3) 3

(4) 4

1[Option ID=12469]

2[Option ID=12470]

3[Option ID=12471]

4[Option ID=12472]

SI. No.94

QBID:1044069

Given below are two statements : one is labelled as *Assertion A* and the other is labelled as *Reason R*.

Assertion A :

The BBC website carried a report from the Global Witness according to which 227 environmental activists were killed in 2020 for protecting natural resources.

Reason R :

It is important to put people and planet before profit, or climate breakdown and killings would continue.

In the light of the above statements, choose the correct answer from the options given below :

- (1) Both A and R are true and R is the correct explanation of A
- (2) Both A and R are true but R is not the correct explanation A
- (3) A is true but R is false
- (4) A is false but R is true

(1) 1

(2) 2

(3) 3

(4) 4

नीचे दो कथन दिए गए हैं : एक अभिकथन A के रूप में लिखित है तो दूसरा उसके कारण R के रूप में है ।

अभिकथन A :

बीबीसी की वेबसाइट ने वैश्विक गवाह की एक रिपोर्ट प्रकाशित की, जिसके अनुसार 2020 में प्राकृतिक संसाधनों की रक्षा के लिए 227 पर्यावरण कार्यकर्ताओं की हत्या कर दी गई ।

कारण R :

लोगों और पृथ्वी को लाभ के पहले रखने महत्त्वपूर्ण है, अन्यथा जलवायु खराबी और हत्याएँ जारी रहेंगी ।

उपरोक्त कथन के आलोक में, नीचे दिए गए विकल्पों में से सही उत्तर का चयन कीजिए :

- (1) A और R दोनों सत्य हैं और R, A की सही व्याख्या है
- (2) A और R दोनों सत्य हैं, लेकिन R, A की सही व्याख्या नहीं है
- (3) A सत्य है, लेकिन R असत्य है
- (4) A असत्य है, लेकिन R सत्य है

(1) 1

(2) 2

(3) 3

(4) 4

1[Option ID=12473]

2[Option ID=12474]

3[Option ID=12475]

4[Option ID=12476]

Sl. No.95

QBID:1044070

Given below are two statements : one is labelled as *Assertion A* and the other is labelled as *Reason R*.

Assertion A :

According to the World Bank and the UN, an Internet user is anyone who has gone online at least once in the past three months.

Reason R :

Days of easy growth are gone for successful Internet compaines and they need to be innovative in their ideas of reaching the unconnected billions.

In the light of the above statements, choose the correct answer from the options given below :

- (1) Both A and R are true and R is the correct explanation of A
- (2) Both A and R are true but R is not the correct explanation A
- (3) A is true but R is false
- (4) A is false but R is true

- (1) 1
- (2) 2
- (3) 3
- (4) 4

नीचे दो कथन दिए गए हैं : एक *अभिकथन A* के रूप में लिखित है तो दूसरा उसके *कारण R* के रूप में है ।

अभिकथन A :

विश्व बैंक और संयुक्त राष्ट्र के अनुसार, एक इंटरनेट उपयोगकर्ता वह है जो पिछले तीन महीनों में कम-से-कम एक बार ऑनलाइन गया हो ।

कारण R :

सफल इंटरनेट कंपनियों के लिए आसान विकास के दिन लद गए हैं और उन्हें असंबद्ध अरबों लोगों तक पहुँचने के अपने विचारों में नवीन होने की आवश्यकता है । उपरोक्त कथन के आलोक में, नीचे दिए गए विकल्पों में से सही उत्तर का चयन कीजिए :

- (1) A और R दोनों सत्य हैं और R, A की सही व्याख्या है
- (2) A और R दोनों सत्य हैं, लेकिन R, A की सही व्याख्या नहीं है
- (3) A सत्य है, लेकिन R असत्य है
- (4) A असत्य है, लेकिन R सत्य है

- (1) 1
- (2) 2
- (3) 3
- (4) 4

- 1[Option ID=12477]
2[Option ID=12478]
3[Option ID=12479]
4[Option ID=12480]

Sl. No.96
QBID:1044071

Given below are two statements : one is labelled as *Assertion A* and the other is labelled as *Reason R*.

Assertion A :

Media literacy is needed for enlightened individuals and healthy democracy.

Reason R :

Media influences individuals greatly.

In the light of the above statements, choose the correct answer from the options given below :

- (1) Both A and R are true and R is the correct explanation of A
- (2) Both A and R are true but R is not the correct explanation A
- (3) A is true but R is false
- (4) A is false but R is true

- (1) 1

(2) 2

(3) 3

(4) 4

नीचे दो कथन दिए गए हैं : एक *अभिकथन A* के रूप में लिखित है तो दूसरा उसके *कारण R* के रूप में है ।

अभिकथन A :

प्रबुद्ध व्यक्तियों और स्वस्थ लोकतंत्र के लिए मीडिया साक्षरता आवश्यक है ।

कारण R :

मीडिया व्यक्तियों को बहुत प्रभावित करता है ।

उपरोक्त कथन के आलोक में, नीचे दिए गए विकल्पों में से सही उत्तर का चयन कीजिए :

- (1) A और R दोनों सत्य हैं और R, A की सही व्याख्या है
- (2) A और R दोनों सत्य हैं, लेकिन R, A की सही व्याख्या नहीं है
- (3) A सत्य है, लेकिन R असत्य है
- (4) A असत्य है, लेकिन R सत्य है

(1) 1

(2) 2

(3) 3

(4) 4

1[Option ID=12481]

2[Option ID=12482]

3[Option ID=12483]

4[Option ID=12484]

SI. No.97

QBID:1044072

Given below are two statements : one is labelled as *Assertion A* and the other is labelled as *Reason R*.

Assertion A :

According to Denis McQuail, "Communication is a process which increases commonality but also requires elements of commonality for it to occur at all."

Reason R :

You must communicate, because only human beings have the ability to use language for communication.

In the light of the above statements, choose the correct answer from the options given below :

- (1) Both A and R are true and R is the correct explanation of A
- (2) Both A and R are true but R is not the correct explanation A
- (3) A is true but R is false
- (4) A is false but R is true

(1) 1

(2) 2

(3) 3

(4) 4

नीचे दो कथन दिए गए हैं : एक अभिकथन A के रूप में लिखित है तो दूसरा उसके कारण R के रूप में है ।

अभिकथन A :

डेनिस मैकक्वेल के अनुसार, “संचार एक ऐसी प्रक्रिया है जो समानता को बढ़ाती है, लेकिन साथ ही इसके घटित होने के लिए समानता के तत्वों की भी आवश्यकता होती है ।”

कारण R :

आपको संचार करना चाहिए क्योंकि केवल मनुष्य जाति के पास संचार के लिए भाषा का उपयोग करने की क्षमता है ।

उपरोक्त कथन के आलोक में, नीचे दिए गए विकल्पों में से सही उत्तर का चयन कीजिए :

- (1) A और R दोनों सत्य हैं और R, A की सही व्याख्या है
- (2) A और R दोनों सत्य हैं, लेकिन R, A की सही व्याख्या नहीं है
- (3) A सत्य है, लेकिन R असत्य है
- (4) A असत्य है, लेकिन R सत्य है

(1) 1

(2) 2

(3) 3

(4) 4

1[Option ID=12485]

2[Option ID=12486]

3[Option ID=12487]

4[Option ID=12488]

Sl. No.98

QBID:1044073

_____ is a plan or proposal to conduct research

- (1) Research experiment
- (2) Research design
- (3) Research Ethics
- (4) Research Philosophy

(1) 1

(2) 2

(3) 3

(4) 4

..... असुसंधान के निष्पादन की योजना या प्रस्ताव है।

- (1) अनुसंधान प्रयोग
- (2) अनुसंधान अभिकल्प
- (3) अनुसंधान नैतिकता
- (4) अनुसंधान दर्शन

(1) 1

(2) 2

(3) 3

(4) 4

1[Option ID=12489]

2[Option ID=12490]

3[Option ID=12491]

4[Option ID=12492]

Sl. No.99

QBID:1044074

Given below are two statements : one is labelled as *Assertion A* and the other is labelled as *Reason R*.

Assertion A :

Inclusion is not an answer to issues of governance, development policy and development planning for women and marginalised sections of the society.

Reason R :

Development issues should be tackled in ways that can help the poor live a life of dignity and have equal opportunities.

In the light of the above statements, choose the correct answer from the options given below :

- (1) Both A and R are true and R is the correct explanation of A
- (2) Both A and R are true but R is not the correct explanation A
- (3) A is true but R is false
- (4) A is false but R is true

(1) 1

(2) 2

(3) 3

(4) 4

नीचे दो कथन दिए गए हैं : एक अभिकथन A के रूप में लिखित है तो दूसरा उसके कारण R के रूप में है ।

अभिकथन A :

समावेशन महिलाओं और समाज के हाशिए के वर्गों के लिए शासन, विकास नीति और विकास योजना के मुद्दों का जवाब नहीं है ।

कारण R :

विकास के मुद्दों को इस तरह से हल किया जाना चाहिए कि गरीबों को सम्मान का जीवन जीने में मदद मिल सके और उन्हें समान अवसर मिलें ।

उपरोक्त कथन के आलोक में, नीचे दिए गए विकल्पों में से सही उत्तर का चयन कीजिए :

- (1) A और R दोनों सत्य हैं और R, A की सही व्याख्या है
- (2) A और R दोनों सत्य हैं, लेकिन R, A की सही व्याख्या नहीं है
- (3) A सत्य है, लेकिन R असत्य है
- (4) A असत्य है, लेकिन R सत्य है

- (1) 1
- (2) 2
- (3) 3
- (4) 4

- 1[Option ID=12493]
2[Option ID=12494]
3[Option ID=12495]
4[Option ID=12496]

Sl. No.100
QBID:1044075

Give below are two statements :

Statement I :

Information is power that rests with those who can access it and those who have the skills to use it.

Statement II :

Convergence, or merging of technologies for a better output has led to bridging the gap between digital haves and have-nots.

In the light of the above statements, choose the correct answer from the options given below :

- (1) Both statement I and statement II are true
- (2) Both statement I and statement II are false
- (3) Statement I is true but statement II is false
- (4) Statement I is false but statement II is true

- (1) 1
- (2) 2
- (3) 3
- (4) 4

नीचे दो कथन दिए गए हैं :

कथन I :

सूचना शक्ति है, जो उन लोगों के पास है जो इस तक पहुँच सकते हैं, और जिनके पास इसका उपयोग करने का कौशल है ।

कथन II :

बेहतर उत्पादन के लिए प्रौद्योगिकियों के अभिसरण या विलय से “डिजिटल हैक्स” और “हैव-नॉट्स” के बीच की खाई को पाटने में मदद मिली है ।

उपरोक्त कथन के आलोक में, नीचे दिए गए विकल्पों में से सही उत्तर का चयन कीजिए :

- (1) कथन I और II दोनों सत्य हैं
- (2) कथन I और II दोनों असत्य हैं
- (3) कथन I सत्य है, लेकिन कथन II असत्य है
- (4) कथन I असत्य है, लेकिन कथन II सत्य है

(1) 1

(2) 2

(3) 3

(4) 4

1[Option ID=12497]

2[Option ID=12498]

3[Option ID=12499]

4[Option ID=12500]