

A. P. MODEL SCHOOLS

VI CLASS - ADMISSION TEST

2018



సూచన : ఈ ప్రశ్నాపత్రములో 100 ప్రశ్నలు కలవు. ప్రతి ప్రశ్నకు మార్కు ఒకటి (01). ప్రతి ప్రశ్నకు నిగువన నాలుగు సమాధానములు ఇవ్వబడినవి. వాటిలో సరియైన సమాధానముగా గుర్తించిన సమాధాన సంఖ్యను ప్రశ్నకు ఎదురుగా ఉన్న బ్రాకెట్‌నందు వ్రాయవలయును.


తెలుగు


- అచ్చు యంత్రమును కనుగొనిన శాస్త్రవేత్త ఎవరు ? []
(1) గ్రహంబెల్ (2) ఐన్‌స్టీన్ (3) గ్రెగర్ మెండల్ (4) జాన్ గూటెంబర్గ్
- 'కుమార శతకం' వ్రాసిన కవి : []
(1) బద్దేన (2) వేమన (3) నాల్ల చిరంజీవి (4) పక్కిం అప్పల నరసయ్య
- శ్రీశైల ప్రధాన ఆలయానికి తూర్పున ముఖద్వారంగా ఉన్న శైత్రము ఏది ? []
(1) సిద్ధవటం (2) ఆలంపురం (3) త్రిపురాంతకం (4) ఉమామహేశ్వరం
- 'పిపీలిక' అంటే క్రింది వానిలో ఏది ? []
(1) దోమ (2) చీమ (3) ఈగ (4) బొద్దింక
- క్రింది వాటిలో క్రియారహిత వాక్యమును గుర్తించండి. []
(1) పిల్లలు చెట్టు కింద ఆడుకుంటున్నారు. (2) శివయ్య నిద్రపోతున్నాడు.
(3) అరకులోయ అందమైనది. (4) రవి బడికి వెళుతున్నాడు.
- సూర్యుడు ఏ రాశి నుండి మకర రాశిలోనికి మకర సంక్రాంతి అంటారు ? []
(1) కర్కాటక రాశి (2) ధనూ రాశి (3) మిథున రాశి (4) కుంభ రాశి
- క్రింది వాటిలో జరగజోయే పనిని తెలియజేసే క్రియా పదం ఏది ? []
(1) చదివాడు (2) చదువుతూ ఉన్నాడు (3) చదువుతాడు (4) చదివినాడు
- గ్రంథాలయ ఉద్యమమును చేపట్టినవారు ఎవరు ? []
(1) కందుకూరి వీరేశలింగం పంతులుగారు (2) జవహర్‌లాల్ నెహ్రూ గారు
(3) గాడిచర్ల హరిసర్వోత్తమ రావు గారు (4) జంధ్యాల పాపయ్య శాస్త్రి గారు
- 'ఇనుము' కు సమాన అర్థం ఉన్న పదం ఏది ? []
(1) చెట్టు (2) మేఘం (3) సూర్యుడు (4) గాలి
- జెండా వెంకయ్య గారు జన్మించిన జిల్లా పేరేమిటి ? []
(1) గుంటూరు (2) కృష్ణా (3) ప్రకాశం (4) తూర్పుగోదావరి
- భగత్‌సింగ్ గొప్ప దేశభక్తుడు. గీత ఉన్న పదాన్ని ఏ భాషాభాగం అంటారు ? []
(1) నామవాచకం (2) సర్వనామము (3) క్రియ (4) విశేషణము
- కుడివైపు నుండి ఎడమవైపుకు చదువుతూ వెళ్ళే భాష ఏది ? []
(1) తెలుగు (2) తమిళము (3) హిందీ (4) ఉర్దూ
- క్రింది వాటిలో సంయుక్తాక్షర పదం ఏది ? []
(1) ఆంధ్రప్రదేశ్ (2) గుడ్డసంచి (3) అకలి (4) ఊరేగింపు
- ఇవ్వబడిన పదాల వరుసలో సరైన వరుస క్రమాన్ని గుర్తించండి. []
(1) ఆవిరి, నీరు, మేఘం, వర్షం (2) నీరు, మేఘం, ఆవిరి, వర్షం
(3) నీరు, ఆవిరి, మేఘం, వర్షం (4) ఆవిరి, వర్షం, నీరు, మేఘం

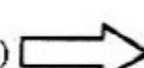
15. ఇవి పువ్వులపై వాలి మకరందాన్ని పీల్చుకుంటాయి. []
 (1) రామచిలుకలు (2) పిచ్చుకలు (3) సీతాకోక చిలుకలు (4) గోరింకలు
16. త్రిలింగ క్షేత్రాలలోని 'దక్షారామం' ఏ జిల్లాలో ఉన్నది ? []
 (1) కృష్ణా (2) తూర్పుగోదావరి (3) కరీంనగర్ (4) కర్నూలు
17. 'బహుమతి' ఈ పదంతో సంబంధం ఉన్న పదాన్ని గుర్తించండి. []
 (1) తిట్లు (2) చప్పట్లు (3) దుప్పట్లు (4) చెట్లు
18. 'మితభాషి' అనగా []
 (1) మరీ ఎక్కువగా మాట్లాడేవారు (2) అనర్థశంకగా మాట్లాడేవారు
 (3) తక్కువగా మాట్లాడేవారు (4) మాటలతో ఎదుటివారిని బోల్తాకొట్టించేవారు
19. క్రింది వాటిలో వర్తమానకాలంలో ఉన్న వాక్యాన్ని గుర్తించండి. []
 (1) అరుణ్, రవి క్రికెట్ పోటీలకు వెళతారు. (2) శ్రీనివాస్ పుస్తకం చదువుతూ ఉన్నాడు.
 (3) రజనీ కూరగాయలు కొన్నది. (4) పిల్లి గిన్నెలోని పాలు తాగింది.
20. 'పాతాళగంగ' అని పిలువడే నది ఏది ? []
 (1) గోదావరి నది (2) కృష్ణా నది (3) పెన్నా నది (4) తుంగభద్రా నది
21. 'తాళపత్ర గ్రంథాలు' వేటితో తయారు చేసేవారు ? []
 (1) అరటి ఆకులతో (2) కొబ్బరి ఆకులతో (3) తాటి ఆకులతో (4) బేకు ఆకులతో
22. "చిరిగిన చొక్కా అయినా తొడుక్కో గాని మంచి పుస్తకం కొనుక్కో" అని చెప్పిన వారు ఎవరు ? []
 (1) కందుకూరి వీరేశలింగం పంతులు గారు (2) గాడిచర్ల హరిసర్వోత్తమరావు గారు
 (3) జవహర్‌లాల్ నెహ్రూ గారు (4) బంధ్యాల పాపయ్య శాస్త్రి గారు
23. క్రింది వాటిలో సంయుక్త వాక్యాన్ని గుర్తించండి. []
 (1) లలిత పాట పాడింది. (2) శారద బిఫిన్ తిన్నది. కాఫీ తాగింది.
 (3) ఆవులు గట్టు ఎక్కి గడ్డి మేశాయి. (4) రాము పాఠశాలకు వెళ్ళాడు.
24. పరిపంట పండించే విధానంలో మొట్టమొదట చేసే పని ఏది ? []
 (1) నారుమడి చేయడం (2) దుక్కి దున్నడం (3) నాట్లు వేయడం (4) కోతలు కోయడం
25. పంచారామాలలో ఒకటైన 'అమరా రామం' ఏ జిల్లాలో ఉంది ? []
 (1) తూర్పు గోదావరి (2) పశ్చిమ గోదావరి (3) గుంటూరు (4) కర్నూలు

గణితం (MATHEMATICS)

26. క్రింది వానిలో 6 యొక్క గుణిజం కానిది ఏది ? []
 Which of the following is not a multiple of "6" ?
 (1) 18 (2) 43 (3) 36 (4) 54
27. ఈ చిత్రాన్ని మడిచేపు $\frac{1}{4}$ వ భాగం త్రిప్పినచో ఏర్పడే చిత్రం ఏది ? []
 Which of the following is the $\frac{1}{4}$ turn on right side of the figure ?
- 
 (1) 

(2) 

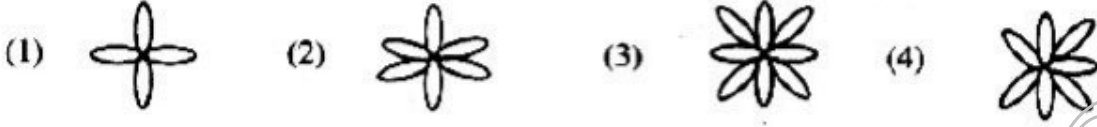
(3) 

(4) 

28. క్రింద ఇచ్చిన అమరికలో తరువాత వచ్చు బొమ్మను గుర్తించండి.

[]

Choose next figure of the pattern.



29. ఒక లారీ 7,500 కి.గ్రా. బరువును మోసుకెళ్ళగలదు. ఆ లారీ ఒక్కొక్కటి 15 కిలో గ్రాముల బరువు గల కార్టన్లు ఎన్ని మోయగలదు ?

[]

A lorry can carry 7500 kg. of weight. If one carton weight is 15 kg. then the how many such cartons can the lorry carry ?

- (1) 450 (2) 600 (3) 300 (4) 500

30. ఒక కప్పులో 60 మి.లీ. టీ పడుతుంది. అలాంటి 15 కప్పులలో ఎంత టీ పడుతుంది ?

[]

A cup can hold 60 ml of tea. How much tea will be there in 15 cups ?

- (1) 600 ml (600 మి.లీ.) (2) 800 ml (800 మి.లీ.)
(3) 750 ml (750 మి.లీ.) (4) 900 ml (900 మి.లీ.)

31. గాయత్రి అవనిగడ్డలో ఉదయం 11.30 నొలకి బయలుదేరి మధ్యాహ్నం 2.00 నొలకి విజయవాడకు చేరుకుంది. ఆమె ప్రయాణించిన కాలం ఎంత ?

[]

- (1) 2 గం. - 00 ని. (2) 2 గం. - 30 ని.
(3) 2 గం. - 45 ని. (4) 2 గం. - 15 ని.

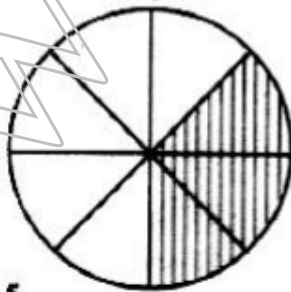
Gayatri started from Avanigadda at 11.30 a.m. and reached Vijayawada at 2.00 p.m. How much time did she travel ?

- (1) 2 h. 00 m (2) 2 h 30 m (3) 2 h 45 m (4) 2 h 15 m

32. క్రింది వృత్తంలో రంగు వేయబడిన భాగాన్ని భిన్న రూపంలో చూపుము.

[]

Express the shaded part of the circle as fraction.



- (1) $\frac{4}{8}$ (2) $\frac{5}{8}$ (3) $\frac{3}{8}$ (4) $\frac{2}{8}$

33. 49, 56, 63, 70, 77, , అమరికలో తరువాత వచ్చు సంఖ్యలు ఏవి ?

[]

45, 56, 63, 70, 77, , carry forward the pattern.

- (1) 77, 84 (2) 84, 91 (3) 84, 98 (4) 77, 91

34. ఒక లీటర్ డీజిల్తో ఒక బస్సు 5 కి.మీ. ల దూరం ప్రయాణిస్తుంది. 55 కి.మీ.ల దూరం ప్రయాణించడానికి ఎన్ని లీటర్ల డీజిల్ కావాలి ? []

A bus can travel 5 km distance with one litres of diesel. How much liters of needed for 55 km of distance?

- (1) 10 (2) 9 (3) 12 (4) 11

35. మూడంకెల మిక్కిలి పెద్ద సంఖ్యకూ, రెండంకెల మిక్కిలి పెద్ద సంఖ్యకు భేదం ఎంత ? []

What is the difference between the three digited largest number and two digited largest number ?

- (1) 900 (2) 1000 (3) 10 (4) 90

36. ఇంటి లోపల గదులను, వస్తువులను, కిటికీలను మరియు తలుపులను చూపే చిత్రాలను ఏమంటారు ? []


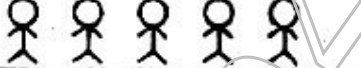



- (1) రోడ్ మ్యాప్ (2) ఫ్లోర్ మ్యాప్
(3) టాప్ మ్యాప్ (4) ఇంటి మ్యాప్

The diagram, which shows the interior rooms, objects, windows and doors of the house is called....

- (1) Road map (2) Floor map (3) Top map (4) House map

37. సీతానగర్ ప్రాథమిక పాఠశాలలో తరగతి వారీగా విద్యార్థుల సంఖ్య క్రింది పట్టికలో ఇవ్వబడింది. []

The class wise strength particulars of Seetanagar Primary School is given in pictograph.

Class తరగతి	Number of students in the class తరగతి వారీ విద్యార్థుల సంఖ్య
1	
2	
3	
4	
5	

పాఠశాలలోని మొత్తం విద్యార్థుల సంఖ్య ఎంత ?

How many students are there in the school ?

- (1) 80 (2) 110 (3) 100 (4) 105

38. ఒక కోటును కుట్టడానికి 4 మీ. 25 సెం.మీ.ల బట్టను వాడతారు. అలాంటివి ఆరు కోట్లు కుట్టడానికి ఎంత బట్ట అవసరం? []

- (1) 25 మీ. 00 సెం.మీ. (2) 25 మీ. 50 సెం.మీ.
(3) 24 మీ. 50 సెం.మీ. (4) 24 మీ. 00 సెం.మీ.

A tailor uses 4 m. 25 cm. of cloth to stitch one coat. How much cloth does he require to stitch six coats?

- (1) 25 m. 00 cm. (2) 25 m. 50 cm. (3) 24 m. 50 cm. (4) 24 m. 00 cm.

39. 8, 5, 0 మరియు 2 అంకెలను ఉపయోగిస్తూ రాయగలిగే నాలుగు అంకెల మిక్కిలి పెద్ద సంఖ్య మరియు మిక్కిలి చిన్న సంఖ్యల మధ్య భేదం ఎంత ? []

What is the difference between the largest four digit number and the smallest four digit number, which make by the digits of 8, 5, 0 and 2 ?

- (1) 6642 (2) 6462 (3) 6246 (4) 6264

40. శ్రీధర్ నెలకు 9,450 రూపాయలు, అతని భార్య 8,750 రూపాయలు సంపాదిస్తున్నారు. వారు నెలకు 13,475 రూపాయలు ఖర్చు చేస్తుంటే, వారు ఎంత పొదుపు చేస్తున్నారు ? []

Sridhar earns ₹ 9,450 per month and his wife earns ₹ 8,750. If they spend ₹ 13,475 per month, how much do they save ?

- (1) ₹ 4527 (2) ₹ 4257 (3) ₹ 4752 (4) ₹ 4725

41. గీత వద్ద 7,485 రూపాయలు కలవు. కమల వద్ద గీత వద్ద కంటే 980 రూపాయలు తక్కువ కలవు. లక్ష్మి వద్ద వారిద్దరి వద్దనున్న మొత్తం కంటే 450 రూపాయలు ఎక్కువ కలవు. వారి ముగ్గురి వద్ద గల మొత్తం ఎంత ? []

Geetha has Rs. 7485. Kamala has Rs. 980 less than Geetha, Lakshmi has Rs. 450 more than Geetha and Kamala have together. Then find total money do the three friends have.

- (1) ₹ 28430 (2) ₹ 38430 (3) ₹ 28340 (4) ₹ 28540

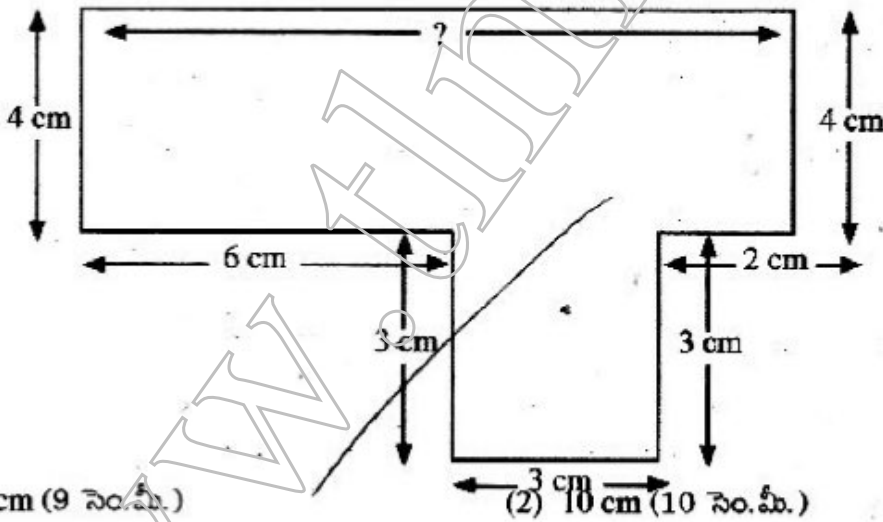
42. ఒక తోటలోని చెట్లు 148 వరుసలలో ఉన్నాయి. ప్రతి వరుసకు 65 చెట్లు ఉన్నాయి. అయినా ఆ తోటలో ఎన్ని చెట్లు ఉన్నాయి ? []

A garden has 148 rows of trees. There are 65 trees in each row. How many trees are there in the garden?

- (1) 7620 (2) 8620 (3) 9620 (4) 9260

43. క్రింది పటం యొక్క చుట్టుకొలత 34 సెం.మీ. అయిన ఇవ్వని భుజం యొక్క పొడవు ఎంత ? []

The perimeter of the below shape is 34 cm. Find the missing length of one side.



- (1) 9 cm (9 సెం.మీ.) (2) 10 cm (10 సెం.మీ.)
(3) 12 cm (12 సెం.మీ.) (4) 8 cm (8 సెం.మీ.)

44. **H** లోని లంబకోణముల సంఖ్య ఎంత ? []

How many right angles are there in **H** ?

- (1) 3 (2) 4 (3) 2 (4) 5

45. 116 వారాలకు ఎన్ని రోజులు ?

How many days are there in 116 weeks ?

(1) 812

(2) 712

(3) 612

(4) 821

46. ఒక రేడియో వ్యాపారి 23 రేడియోలను కొని, దుకాణాదరునికి 9000 రూపాయలు ఇచ్చాడు. వాపువాడు 7 రూపాయలు తిరిగి ఇచ్చాడు. అయిన ఒక్కొక్క రేడియో వెల ఎంత ?

A businessman bought 23 Radios and gave ₹ 9000 to the vender. The vendor in return gave Rs. 7. Then find the cost of each Radio

(1) ₹ 491

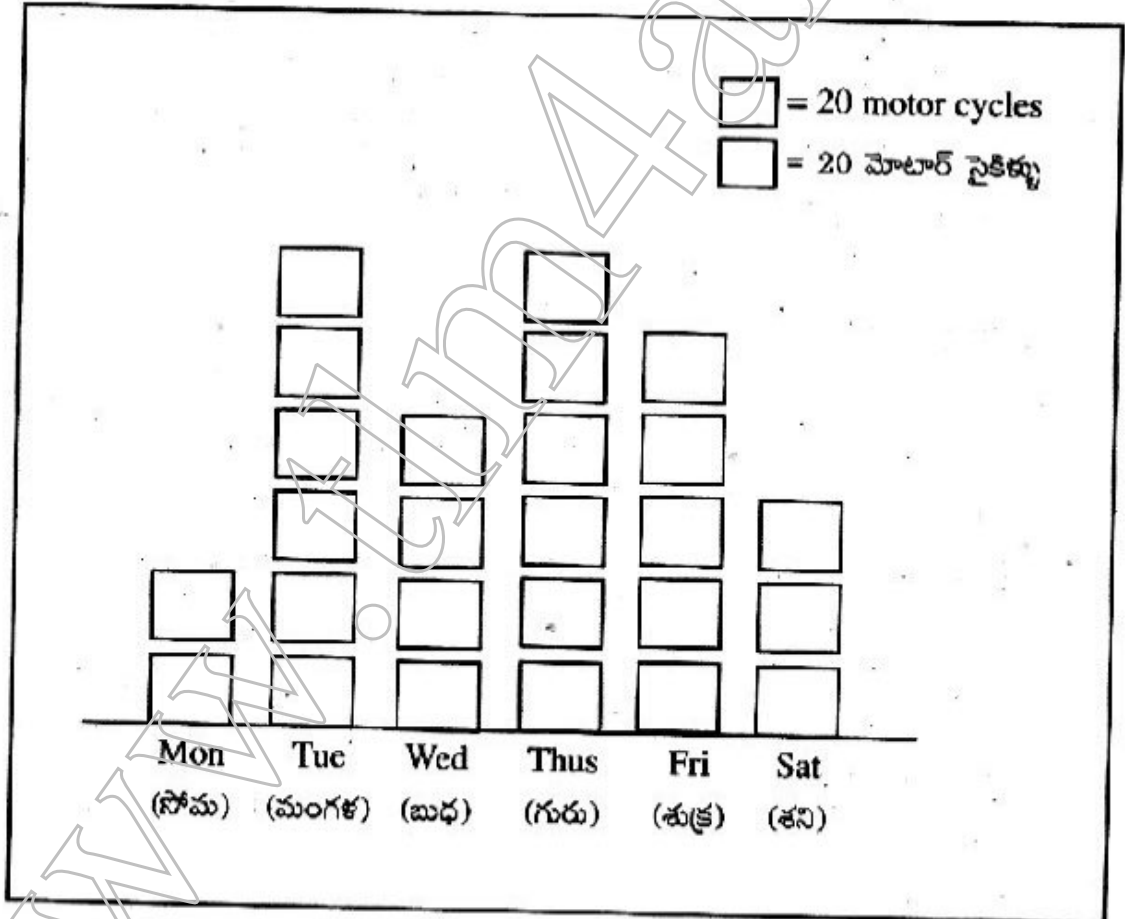
(2) ₹ 391

(3) ₹ 371

(4) ₹ 381

47. ఒక మోటారు సైకిల్ కంపెనీ డీలర్ ఒక వారంలో అమ్మిన మోటారు సైకిళ్ళ సంఖ్యను క్రింది విధంగా బాక్స్ చార్టు ద్వారా చూపాడు.

A motorcycle company dealer showed the sale of motorcycle in a week in the box chart given below.



అతను గురువారం ఎన్ని మోటార్ సైకిళ్ళు అమ్మాడు ?

How many motorcycles did he sold in Thursday ?

(1) 100

(2) 80

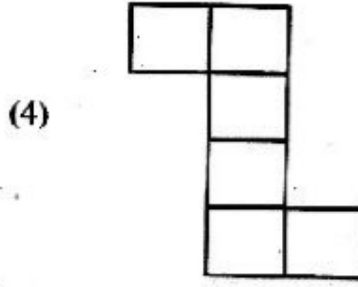
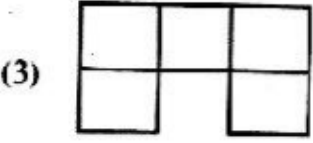
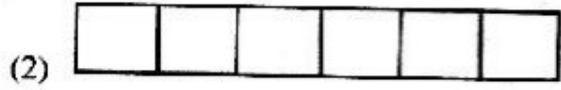
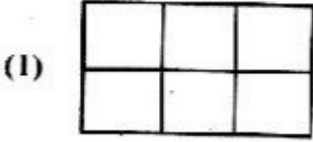
(3) 60

(4) 120

48. ఈ క్రింది వానిలో ఏ వల రూపాన్ని సమ ఘనంగా మలచవచ్చు ?

[]

Which of the following net can be folded into a cube ?



49. క్రింది వానిలో టాన్గ్రాము భాగాలు ఏవి ?

[]

(1) త్రిభుజాలు - 4, చతురస్రాలు - 2, సమాంతర చతుర్భుజం - 1

(2) త్రిభుజాలు - 4, చతురస్రం - 1, సమాంతర చతుర్భుజం - 1

(3) త్రిభుజాలు - 5, చతురస్రం - 1, సమాంతర చతుర్భుజం - 1

(4) త్రిభుజాలు - 5, చతురస్రాలు - 2, సమాంతర చతుర్భుజం - 1

Which of the following parts are appropriate to the "Tangram" ?

(1) Triangles - 4, Squares - 2, Parallelogram - 1.

(2) Triangles - 4, Square - 1, Parallelogram - 1.

(3) Triangles - 5, Square - 1, Parallelogram - 1.

(4) Triangles - 5, Squares - 2, Parallelogram - 1.

50. ఒక తరగతి గది పొడవు 5 మీ., వెడల్పు 3 మీ. అయితే ఆ తరగతి గది వైశాల్యం ఎన్ని చదరపు మీటర్లు []

Length and breadth of a classroom are 5 m. Then find the area of classroom in square meters.

(1) 15

(2) 18

(3) 8

(4) 16

ENGLISH

51. Choose the sentence with correct use of capital letters.

[]

(1) toys are made in different ways.

(2) Toys Are Made in different ways.

(3) Toys are made in different ways.

(4) toys are Made in Different ways.

52. Choose the word the correct spelling.

[]

(1) programe

(2) programme

(3) program

(4) programe

53. Choose the word with wrong spelling.

[]

(1) exhibision

(2) district

(3) luckily

(4) friend

54. Choose the word that has the meaning of "stored wealth".

[]

(1) honesty

(2) treasure

(3) report

(4) waste

55. Choose the word that does not refer to a person. []

- (1) swimmer (2) principal (3) shining (4) uncle

56. Choose the correct pair of rhyming words. []

- (1) bees - buzzing (2) bees - trees (3) play - sheep (4) bees - sheep

57. What are you up to ? []

Choose the meaning of the question above.

- (1) What are you thinking of doing ? (2) How are you ?
(3) Who are you ? (4) When do you come up ?

58. Last week she her birthday with her friends. []

- (1) celebrated (2) took part (3) exhibited (4) arranged

59. This water is salty. It is dirty too. []

The above sentence means

- (1) This water is salty but dirty. (2) This water is salt but dirt.
(3) This water is salty and dirty. (4) This water has no salt and dirt.

60. Rajani is her purse. She kept it somewhere. []

Choose the correct phrasal verb to fill in the blank above.

- (1) looking at (2) looking for (3) looking on (4) looking with

61. Choose the word that does not refer to a place. []

- (1) ground (2) mountain (3) soldier (4) exhibition

62. May I come in, sir ? []

We use this expression ;

- (1) to take permission. (2) to give permission.
(3) to give an order. (4) to take an order.

(63 - 65) Read the following passage and choose correct answers.

Amar opened one eye. The Sun was shining brightly. His mother was in the kitchen. She was making breakfast. His father was in the garden. He was singing and watering the plants.

63. This story took place.....

- (1) in the morning. (2) at midnight. (3) at night. (4) before the sunrise.

64. What was the mood of the father ? []

- (1) happy (2) sad (3) angry (4) unhappy

65. His mother was in the []

- (1) kitchen (2) forest (3) playground (4) exhibition

66. Last night we reached home at 8 p.m. and had our []

Choose the correct word to fill in the blank above.

- (1) breakfast (2) lunch (3) supper (4) lunch

67. Tomorrow is my mother's birthday. []

In the above sentence "Tomorrow" is

- (1) a noun (2) a verb (3) an adverb (4) an adjective

68. My village has two government high schools. []

Choose the meaning of the sentence above.

- (1) There are two high schools in government.
(2) There are two government high schools in my village.
(3) There are two governments in my village.
(4) There are two governments in high schools.

69. Choose the form of adjective. []

- (1) remarkable (2) remark (3) remarkability (4) remarkableness

70. Choose the correct pair with similar (Same) meaning. []

- (1) present - gift (2) present - pleasure (3) present - clever (4) present - delight

71. Choose the opposite word of "pleasant". []

- (1) inpleasant (2) mispleasant (3) displeased (4) unpleasant

72. Helen gave many speeches. She became a famous []

Choose the correct word to fill in the blank.

- (1) speaking (2) speech (3) speak (4) speaker

73. did you eat, a mango or an apple? []

Choose the correct word to fill in the blank.

- (1) How (2) Where (3) What (4) When

74. Choose the correct meaning of "helter-skelter". []

- (1) in good health. (2) in a correct order. (3) in disorder. (4) immediately.

75. Choose the correct meaning of "musicologist". []

- (1) one who writes about music.
(2) one who always listens to music.
(3) one who studies music.
(4) one who watches movies.

పరిసరాల విజ్ఞానము (ENVIRONMENTAL SCIENCE)

76. అంతరిక్షంలో సెకనుకు భూమి వేగం []

- (1) 30 మీ. (2) 30 కి.మీ. (3) 300 కి.మీ. (4) 360 కి.మీ.

Speed of the earth per second in the universe.

- (1) 30 mtrs. (2) 30 kms (3) 300 kms (4) 360 kms.

77. క్రమంలో అమర్చండి. []

Arrange in order.

పంట మార్పిడి
Harvesting

1

దుక్కి దున్నడం
Ploughing

2

పంట కోయడం
Cutting

3

నారు వేయడం
Planting

4

- (1) 2, 1, 4, 3 (2) 1, 2, 3, 4 (3) 2, 4, 1, 3 (4) 2, 4, 3, 1

78. ఇమ్మడి యాదవ నరసింహరాయలు వంశం []

- (1) సంగమ (2) సాళువ (3) పల్లవ (4) శాలివాహన

Immadi Yadava Narasimha Rayalu's dynasty is

- (1) Sangama (2) Saluva (3) Pallava (4) Salivahana

79. తెనాలి రామకృష్ణుని జన్మస్థానం []

- (1) రాజమహేంద్రవరం (2) ఒంటిమిట్ట
(3) చంద్రగిరి (4) హంపి

Birth place of Tenali Ramakrishna

- (1) Rajamahendravaram (2) Ontimitta
(3) Chandragiri (4) Hampi

80. 'రెమో' భాష మాట్లాడే గిరిజన తెగ []

- (1) గోండు (2) నెంచు (3) సవర (4) కులి

The tribe that speaks 'Remo' language

- (1) Gonds (2) Chenchus (3) Savara (4) Kuli

81. రోడ్డు ప్రమాదము సంభవిస్తే []

- (1) 104 నెంబరుకు ఫోన్ చేయాలి. (2) 108 నెంబరుకు ఫోన్ చేయాలి.
(3) 100 నెంబరుకు ఫోన్ చేయాలి. (4) 180 నెంబరుకు ఫోన్ చేయాలి.

If road accident occur

- (1) Make phone call to 104 (2) Make phone cal to 108
(3) Make phone call to 100. (4) Make phone call to 180.

82. ఈ చిత్రంలో ఉన్నది



- (1) ఉదయగిరి కోట (2) చంద్రగిరి కోట (3) భువనగిరి కోట (4) రామగిరి కోట

Find the picture in it.

- (1) Udayagiri Fort (2) Chandragiri Fort
(3) Bhuvanagiri Fort (4) Ramagiri Fort

83. గాలిలో ఎక్కువగా వుండే వాయువు :

- (1) నత్రజని (2) ఆక్సిజన్ (3) కార్బన్-డై-ఆక్సైడ్ (4) హైడ్రోజన్

Higher quantity of gas present in air.

- (1) Nitrogen (2) Oxygen (3) Carbon-di-oxide (4) Hydrogen

84. 'స్టక్కో' అలంకరణ దీనికి చెందినది :

- (1) ఇంటి అలంకరణ (2) భవన నిర్మాణ నైపుణ్యం
(3) పట్టు వస్త్రాలపై కుట్టు అల్లిక (4) ఆభరణాలకో అలంకరణ

'Stucco' design is related to

- (1) House decoration (2) Engineering skill
(3) Embroidery work on silk cloth (4) Decoration with ornaments

85. గోండుల 'గ్రామదేవత'

- (1) నాగోబా (2) ఎల్లమ్మ (3) అమ్మకల్లి (4) అకిపెన్

'Village diety' of Gonds.

- (1) Nagoba (2) Yellamma (3) Amma Thalli (4) Akipen

86. బాసరలోని ప్రసిద్ధ దేవాలయం :

- (1) రామాలయం (2) గౌతమీశ్వర దేవాలయం
(3) జ్ఞాన సరస్వతి దేవాలయం (4) లక్ష్మీ నరసింహ దేవాలయం

Famous temple located at Basara.

- (1) Ramalayam (2) Goutamishwara temple
(3) Saraswathi temple (4) Laxmi Narasimha Swamy temple

87. సముద్రమట్టం నుండి 1000 మీటర్ల ఎత్తుకుపోయే కొలది తగ్గే ఉష్ణోగ్రత :

For every ascent of 1000 mtrs from sea level, the temperature reduces by

- (1) 16°C (2) 8°C (3) 6°C (4) 10°C

88. భారతదేశంలోని రాష్ట్రాలు : కేంద్రపాలిత ప్రాంతాలు :

Indian states : Union territories.

(1) 28 : 5

(2) 23 : 7

(3) 29 : 7

(4) 23 : 5

89. వీటిలో రాత్రి సంచరించే క్షీరదం :

Nocturnal mammal



90. శ్రీశైలం, నాగార్జున సాగర్ ప్రాజెక్టుల ద్వారా ఉత్పత్తి అయ్యే విద్యుత్తు

(1) థర్మల్

(2) జల

(3) పవన

(4) సౌర

Electricity generated by Srisaillam and Nagarjuna Sagar projects is

(1) Thermal Electricity

(2) Hydro Electricity

(3) Wind Energy

(4) Solar Energy

91. భూ ప్రకంపనలను దీనిపై గుర్తిస్తారు :

(1) లైకర్ట్ స్కేలు

(2) కార్డియో స్కేలు

(3) రిక్టర్ స్కేలు

(4) సెక్టర్ స్కేలు

Thermors or vibrations of Earth are noted on

(1) Lykert scale

(2) Cardio scale

(3) Richter scale

(4) Sector scale

92. "బొన్సాయ్" ఈ దేశపు సాంప్రదాయ కళ

(1) అమెరికా

(2) భారతదేశం

(3) జపాన్

(4) ఫ్రాన్స్

'Bonsai' is the traditional art of

(1) America

(2) India

(3) Japan

(4) France

93. విజయనగర రాజులు ఓడిన యుద్ధం :

(1) కలింగ యుద్ధం

(2) హల్ది ఘాట్

(3) రాక్షస తంగడి

(4) కాళీ ఘాట్

Vijayanagara empire defeated in the war of

(1) Kalings

(2) Haldi-ghat

(3) Rakshasa Tangadi

(4) Kali ghat

94.



?

(1) పాచ

(2) కొడవలి

(3) గొర్రు

(4) గడ్డపాచ

(1) Spade

(2) Sickle

(3) Harrow

(4) Crow-bar

95. భారత రాజ్యాంగం గుర్తించిన భాషలు :

Identified languages of Indian Constitution

- (1) 1625 (2) 1652 (3) 1562 (4) 1526

96. మెదడు, నాడుల వ్యాధుల చికిత్సకు సంబంధించిన వైద్యుడు

- (1) కార్డియాలజిస్ట్ (2) గైనకాలజిస్ట్ (3) న్యూరాలజిస్ట్ (4) యూరాలజిస్ట్

Doctor who treats the diseases related to nerves and brain is

- (1) Cardiologist (2) Gynaecologist (3) Neurologist (4) Urologist

97. రోడ్లపై 'మాన్ హోల్స్' తెరిచినట్లు కనిపిస్తే క్రింది వారికి తెలియజేయాలి.

- (1) పౌరసరఫరాల శాఖ (2) మున్సిపల్ కార్పొరేషన్
(3) పోలీసు శాఖ (4) ఆరోగ్య శాఖ

If you find open 'manholes' on the road, inform to

- (1) Civil supplies office (2) Municipal Corporation
(3) Police department (4) Health department

98. అరకు గిరిజనుల నృత్యం :

- (1) ధింసా (2) సంథాలీ (3) గుస్సాడి (4) సుగాలి

Special dance of Araku tribes.

- (1) Dhimsa (2) Santhali (3) Gussadi (4) Sugali

99. గోదావరి జిల్లాలో లభించే అరుదైన చేప.

- (1) పులస (2) గండుమీను (3) వాల్కుగ (4) కొర్రమట్ట

Rare fish seen in the river Godavari

- (1) Pulasa (2) Gandu meenu (3) Vaaluga (4) Korra matta

100. 'గోల్డెన్ అవర్' అంటే

- (1) చివరి నిమిషంలో పందాన్ని గెలవడం (2) ఉరితీతకు ముందు యిచ్చే సమయం
(3) ప్రమాదం జరిగిన మొదటి గంట (4) ఇద్దరు దేశాధ్యక్షుల మధ్య సంభాషణ

Golden hour means.....

- (1) Winning the bet at the last minute (2) Time given before hanging
(3) The first hour after the accident (4) Conversation between two national leaders