

32

825(BAS)

2025

सामाजिक विज्ञान

(Hindi and English Versions)

समय : तीन घण्टे 15 मिनट]

[पूर्णांक : 70

नोट : प्रारम्भ के 15 मिनट परीक्षार्थियों को प्रश्नपत्र पढ़ने के लिए निर्धारित हैं ।

Note : First 15 minutes are allotted for the candidates to read the question paper.

निर्देश :

- i) सभी प्रश्न अनिवार्य हैं ।
- ii) इस प्रश्नपत्र के दो खण्ड, खण्ड - अ तथा खण्ड - ब हैं ।
- iii) खण्ड - अ में 1 अंक के 20 बहुविकल्पीय प्रश्न हैं जिनके उत्तर ओ० एम० आर० उत्तर पत्रक पर नीले अथवा काले बाल प्वाइंट कलम से सही विकल्प वाले गोले को पूर्ण रूप से काला कर चिह्नित करें ।
- iv) खण्ड - अ के प्रत्येक प्रश्न का निर्देश पढ़कर केवल प्रदत्त ओ० एम० आर० उत्तर पत्रक पर ही उत्तर दें । ओ० एम० आर० उत्तर पत्रक पर उत्तर देने के पश्चात उसे नहीं काटें तथा इरेजर अथवा हाइटनर का प्रयोग न करें ।
- v) प्रश्न के अंक उसके सम्मुख अंकित हैं ।
- vi) खण्ड - ब में 50 अंक के वर्णनात्मक प्रश्न हैं । इस खण्ड में वर्णनात्मक-I, वर्णनात्मक-II तथा मानचित्र सम्बन्धी दो प्रश्न हैं ।
- vii) खण्ड - ब में सभी प्रश्नों के उत्तर एक साथ ही करें ।
- viii) प्रथम प्रश्न से आरम्भ कीजिए तथा अन्तिम प्रश्न तक करते जाइए । जो प्रश्न न आता हो उस पर समय नष्ट न कीजिए ।
- ix) दिए गए मानचित्रों को उत्तर-पुस्तिका के साथ मजबूती से संलग्न करना आवश्यक है ।
- x) दृष्टिबाधित परीक्षार्थियों के लिए मानचित्र कार्य के स्थान पर अलग से प्रश्न संख्या 9(A) तथा 9(B) लिखने के लिए दिए गये हैं ।

R/12097



[Turn over

Instructions :

- i) All questions are compulsory.
- ii) This question paper has *two* Parts – **Part-A** and **Part-B**.
- iii) **Part-A** consists of **20** multiple choice questions of one mark each that have to be answered on OMR Answer Sheet by darkening completely the correct circle with **blue or black ballpoint pen**.
- iv) For **Part-A** read the question-wise instructions and mark your answer on the given OMR Answer Sheet only. Do not cut and use eraser or whitener on the OMR Answer Sheet after answering.
- v) Marks of the questions are mentioned against them.
- vi) **Part-B** consists of descriptive type questions of **50** marks. There are Descriptive-I, Descriptive-II and two map related questions in this part.
- vii) All the questions of **Part-B** are to be attempted all at a time.
- viii) Start from the first question and go up to the last question. Do not waste your time on the question you cannot solve.
- ix) Attach firmly the supplied maps in your answer-book.
- x) For visually impaired examinees Question Nos. 9(A) and 9(B) have been given separately for writing answers in lieu of map work.

खण्ड - अ

PART - A

(बहुविकल्पीय प्रश्न)

(Multiple Choice Type Questions)

निर्देश : नीचे दिए गए प्रश्नों के प्रत्येक प्रश्न के चार विकल्प दिए गए हैं। सही विकल्प चुनकर उसे **OMR** उत्तर पत्रक पर चिह्नित करें :

Instruction : Four alternatives are given for each of the following questions. Choose the correct alternative and mark on **OMR** answer sheet :

1. फ्रांस की क्रांति कब हुई थी ?

- (A) 1788 ई० (B) 1789 ई० (C) 1600 ई० (D) 1787 ई०

1

1. When did the French Revolution take place ?

- (A) 1788 AD (B) 1789 AD (C) 1600 AD (D) 1787 AD

1



2. जर्मनी के एकीकरण का जनक कौन था ?

- (A) नेपोलियन (B) हिटलर (C) बिस्मार्क (D) मुसोलिनी 1

2. Who among the following was the father of the unification of Germany ?

- (A) Napolcon (B) Hitler (C) Bismarck (D) Mussolini 1

3. भारत का पहला लौह इस्पात संयंत्र कहाँ स्थापित किया गया था ?

- (A) कानपुर (B) मुम्बई (C) जमशेदपुर (D) अहमदाबाद 1

3. Where was India's first iron and steel plant established ?

- (A) Kanpur (B) Mumbai (C) Jamshedpur (D) Ahmadabad 1

1. अन्तरराष्ट्रीय विश्व बैंक की स्थापना कब की गई ?

- (A) 1945 (B) 1994 (C) 1932 (D) 1944 1

When was International World Bank established ?

- (A) 1945 (B) 1994 (C) 1992 (D) 1944 1

विश्व में आर्थिक महामंदी कब आयी ?

- (A) 1920 (B) 1929 (C) 1919 (D) 1890 1

When did the great economic depression occur in the world ?

- (A) 1920 (B) 1929 (C) 1919 (D) 1890 1

कार्न लॉ किस देश से सम्बन्धित है ?

- (A) जर्मनी (B) संयुक्त राष्ट्र अमेरिका
(C) फ्रांस (D) ब्रिटेन 1


To which country is Corn Law related ?

- (A) Germany (B) U.S.A. (C) France (D) Britain 1

हिन्दी है

- (A) राज्य भाषा (B) राष्ट्र भाषा (C) राज भाषा (D) क्षेत्रीय भाषा 1

7. Hindi is
 (A) State language (B) National language
 (C) Official language (D) Regional language
8. जनसंघ की स्थापना हुई थी
 (A) 1951 (B) 1972 (C) 2014 (D) 1990
8. Jana Sangh was founded in
 (A) 1951 (B) 1972 (C) 2014 (D) 1990
9. निम्न में से किसका सम्बन्ध लोकतन्त्र से नहीं है ?
 (A) जनमत (B) राजनीतिक दल
 (C) उत्तरदायी शासन (D) बहुसंख्यकों का शासन
9. Which of the following is not related to democracy ?
 (A) Public opinion (B) Political party
 (C) Accountable governance (D) Rule of the majority
10. भारत के संविधान में महिलाओं के लिये आरक्षण की व्यवस्था है
 (A) लोकसभा में (B) विधानसभाओं में
 (C) राज्यसभा में (D) स्थानीय संस्थाओं में
10. The provision for reservation for women in the Constitution of India is in
 (A) Lok Sabha (B) Assembly (C) Rajya Sabha (D) Local bodies
11. निम्न में से कौन-सा आर्थिक विकास का लक्ष्य है ?
 (A) रोजगार (B) उपभोग में वृद्धि (C) स्वतंत्रता (D) इनमें से सभी
11. Which of the following is a purpose of economic development ?
 (A) Employment (B) Growth in consumption
 (C) Independence (D) All of these
12. तृतीयक क्षेत्र का व्यवसाय है
 (A) बैंकिंग (B) पशुपालन
 (C) कार के कल-पुर्जे निर्माण (D) कपास बुनना



12. A profession of tertiary sector is

- (A) Banking (B) Animal husbandry
(C) Manufacturing car components (D) Weaving cotton

1

13. निम्नलिखित में से कौन अनौपचारिक साख को नियंत्रित करता है ?

- (A) R.B.I. (B) वित्त मंत्री (C) कर्जदार (D) इनमें से कोई नहीं

1

3. Which one of the following controls informal credits ?

- (A) R.B.I. (B) Finance Minister
(C) Borrower (D) None of these

1

1. निम्नलिखित में से कौन अन्तरराष्ट्रीय व्यापार का अवरोधक है ?

- (A) आयात कर (B) घरेलू व्यापार को संरक्षण
(C) (A) और (B) दोनों (D) इनमें से कोई नहीं

1

Which one of the following is a barrier of international trade ?

- (A) Import duty (B) Protection to domestic industries
(C) Both (A) and (B) (D) None of these

1

उपभोक्ता के शोषण का एक रूप है

- (A) मिलावटी वस्तु (B) अनुचित कीमत लेना
(C) कम वजन तौलना (D) इनमें से सभी

1

A form of consumer exploitation is

- (A) Adulterated goods (B) Inappropriate pricing
(C) Less weight measurement (D) All of these

1

सम्पूर्ण उत्तरी मैदान बना है

- (A) जलोढ़ मृदा से (B) काली मृदा से
(C) लेटराइट मृदा से (D) मरुस्थली मृदा से

1

Whole northern plains are made of

- (A) Alluvial soil (B) Black cotton soil
(C) Laterite soil (D) Desert soil

1



17. निम्नलिखित में से कौन वन संसाधनों के सिकुड़ने का कारण नहीं है ?
 (A) कृषि क्षेत्रफल में वृद्धि (B) वाणिज्य वानिकी में वृद्धि
 (C) खनन क्रियाओं में वृद्धि (D) आरक्षित वनों का विस्तार
17. Which one of the following is not a reason of forest contraction ?
 (A) Increase in agriculture area
 (B) Increase in commercial forestry
 (C) Increase in mining activities
 (D) Growth in reserved forest
18. निम्नलिखित में से कौन भारत में रोपण फसल का उदाहरण नहीं है ?
 (A) गन्ना (B) केला (C) धान (D) कॉफी
18. Which one of the following is not an example of plantation crop in India ?
 (A) Sugarcane (B) Banana (C) Rice (D) Coffee
19. निम्नलिखित में से कौन खनिज उद्योग है ?
 (A) चीनी उद्योग (B) पेट्रो-रसायन उद्योग
 (C) (A) और (B) दोनों (D) इनमें से कोई नहीं
19. Which one of the following is a mineral industry ?
 (A) Sugar industry (B) Petro-chemical industry
 (C) Both (A) and (B) (D) None of these
20. स्वर्णिम चतुर्भुज योजना सम्बन्धित है
 (A) स्वर्ण खनन से (B) महा-राजमार्ग विकास से
 (C) रेल परिवहन के विकास से (D) बाघों के संरक्षण से
20. Golden quadrilateral project is related to
 (A) Gold mining
 (B) Developing National Highways
 (C) Rail transportation development
 (D) Tiger conservation



खण्ड - ब

PART - B

(वर्णनात्मक - I)

(Descriptive - I)

(निम्न प्रश्नों के उत्तर प्रत्येक लगभग 80 शब्दों में दीजिए।)

(Write answers of the following questions in about 80 words each.)

1. भारत की आर्थिक तथा राजनीतिक स्थिति पर प्रथम विश्वयुद्ध के प्रभावों का उल्लेख करें। 2 + 2

अथवा

आर्थिक महामंदी के दो प्रमुख कारणों का उल्लेख करें। 2 + 2

1. Mention the impact of the First World War on the economic and political situation of India. 2 + 2

OR

Mention the two major causes of economic recession. 2 + 2

2. भारतीय राजनीतिक व्यवस्था में क्षेत्रीय दलों के बढ़ते महत्व के दो प्रमुख कारणों का उल्लेख कीजिए। 2 + 2

अथवा

लोकतंत्र की चार प्रमुख विशेषताओं का उल्लेख कीजिए। 1 + 1 + 1 + 1

2. Mention two main reasons for the increasing importance of regional parties in the Indian political system. 2 + 2

OR

Mention four main characteristics of democracy. 1 + 1 + 1 + 1

3. परिवहन क्षेत्र का विकास देश के विकास में कैसे सहायक हो सकता है ? इसके किन्हीं दो लाभ बताइए। 4

अथवा

अयस्क क्या होते हैं ? भारत में लौह अयस्क की दो प्रमुख पेटियाँ कौन-सी हैं ? 2 + 2



25(BAS)

How does development of transportation sector help the development of the country ? Write any *two* benefits of it. 4

OR

What are the ores ? Which are the *two* important belts of iron ores in India ? 2 + 2

सूचना का अधिकार क्या है ? यह किस प्रकार उपभोक्ता की शक्ति में वृद्धि करता है ? 2 + 2

अथवा

भारत सरकार द्वारा विदेशी निवेशों को आकर्षित करने हेतु उठाये जाने वाले दो उपायों का वर्णन कीजिए। 2 + 2

What is right to information ? How does it enhance consumer rights ? 2 + 2

OR

Describe any *two* measures taken by Indian government to attract foreign investments. 2 + 2

(वर्णनात्मक - II)

(Descriptive - II)

(निम्न प्रश्नों के उत्तर प्रत्येक लगभग 150 शब्दों में दीजिए।)

(Write answers of the following questions in about 150 words each.)

भारत में राष्ट्रवाद के उदय के प्रमुख कारणों की व्याख्या कीजिए। 6

अथवा

फ्रांस की क्रान्ति के प्रमुख कारणों का वर्णन कीजिए। 6

Explain the main reasons for the rise of nationalism in India. 6

OR

Describe the main reasons for the French Revolution. 6

भारत की संघात्मक शासन व्यवस्था की प्रमुख विशेषताओं का उल्लेख करें। 6

अथवा

साम्प्रदायिकता से आप क्या समझते हैं ? यह किस प्रकार भारतीय समाज के लिए हानिप्रद है ? 2 + 4



6. Mention the main features of India's federal system of government.

6

OR

What do you understand by communalism ? How is it harmful for the Indian society ?

2 + 4

7. अर्थव्यवस्था के तीन क्षेत्रक कौन कौन-से हैं ? भारत के आर्थिक विकास के साथ विभिन्न क्षेत्रकों की संरचना में हुए परिवर्तन का वर्णन कीजिए।

2 + 4

अथवा

अनौपचारिक साख क्या है ? भारत में साख विस्तार में अनौपचारिक साख की आवश्यकता एवं चुनौतियों को एक-एक उदाहरण द्वारा समझाएँ।

2 + 2 + 2

7. Which are the *three* sectors of an economy ? Describe the changes in the composition of different sectors with the development of Indian economy.

2 + 4

OR

What is informal credit ? Explain, with one example each, the need and challenge of informal credits in the expansion of credit in India.

2 + 2 + 2

8. भारत में वन एवं वन्य जीवों का संरक्षण क्यों आवश्यक है ? इस हेतु उठाये गये किन्हीं दो कदमों को बताइए।

2 + 2 + 2

अथवा

भारत में प्रचलित किन्हीं तीन प्रमुख कृषि के प्रकारों का संक्षिप्त परिचय दीजिए।

2 + 2 + 2

8. Why do forests and wild animals need conservation in India ? Write any *two* steps taken for it.

2 + 2 + 2

OR

Briefly introduce any *three* main types of agriculture methods prevalent in India.

2 + 2 + 2



(मानचित्र सम्बन्धी प्रश्न)

(Map Related Questions)

निर्देश : प्रश्न संख्या 9(A) तथा 9(B) मानचित्र से संबंधित हैं।

Instruction : Question Nos. 9(A) and 9(B) are related to map.






9(A). निम्नलिखित स्थानों को भारत के दिये गये रेखा मानचित्र में ⊙ चिह्न द्वारा नाम सहित दर्शाइए। सही नाम तथा स्थान अंकन के लिए $\frac{1}{2}$, $\frac{1}{2}$ अंक निर्धारित हैं :

- | | | |
|------|--|-----------------------------|
| i) | वह स्थान जहाँ पूर्ण स्वराज की माँग का प्रस्ताव पारित हुआ था। | $\frac{1}{2} + \frac{1}{2}$ |
| ii) | वह स्थान जहाँ दिसम्बर, 1920 में कांग्रेस का अधिवेशन हुआ था। | $\frac{1}{2} + \frac{1}{2}$ |
| iii) | वह जनपद जहाँ जलियाँवाला बाग हत्याकाण्ड हुआ था। | $\frac{1}{2} + \frac{1}{2}$ |
| iv) | वह स्थान जहाँ आनन्द भवन स्थित है। | $\frac{1}{2} + \frac{1}{2}$ |
| v) | वह स्थान जहाँ सूती मिल श्रमिकों ने पहला सत्याग्रह किया था। | $\frac{1}{2} + \frac{1}{2}$ |






9(A). In the given outline map of India, locate the following places by the symbol ⊙ with names. For mentioning correct name and marking of location $\frac{1}{2}$, $\frac{1}{2}$ marks have been allotted.

- | | | |
|------|---|-----------------------------|
| i) | The place where the resolution of complete Swaraj was passed. | $\frac{1}{2} + \frac{1}{2}$ |
| ii) | The place where in December, 1920 Congress Session was held. | $\frac{1}{2} + \frac{1}{2}$ |
| iii) | The district where Jallianwala Bagh Massacre took place. | $\frac{1}{2} + \frac{1}{2}$ |
| iv) | The place where Anand Bhawan is situated. | $\frac{1}{2} + \frac{1}{2}$ |
| v) | The place where the cotton mill workers first launched Satyagraha movement. | $\frac{1}{2} + \frac{1}{2}$ |

निर्देश : दिये गये भारत के रेखा मानचित्र में निम्नलिखित स्थानों को चिह्न द्वारा नाम सहित दर्शाइए :

- पश्चिम भारत स्थित एक सॉफ्टवेयर टेक्नोलॉजी पार्क  चिह्न द्वारा नाम सहित। $\frac{1}{2} + \frac{1}{2}$
- पूर्वी भारत स्थित एक लोहा और इस्पात संयंत्र  चिह्न द्वारा नाम सहित। $\frac{1}{2} + \frac{1}{2}$
- दक्षिण भारत स्थित एक तापीय ऊर्जा संयंत्र  चिह्न द्वारा नाम सहित। $\frac{1}{2} + \frac{1}{2}$
- छत्तीसगढ़ राज्य की राजधानी  चिह्न द्वारा नाम सहित। $\frac{1}{2} + \frac{1}{2}$
- पूर्वी भारत स्थित अन्तरराष्ट्रीय हवाई पत्तन  चिह्न द्वारा नाम सहित। $\frac{1}{2} + \frac{1}{2}$

Instruction : Show the following places by symbols and names on the given outline map of India :

- A software technology park situated in western part of India by  symbol, with name. $\frac{1}{2} + \frac{1}{2}$
- An iron and steel plant situated in eastern part of India by  symbol with name. $\frac{1}{2} + \frac{1}{2}$
- A thermal power plant situated in southern part of India by  symbol with name. $\frac{1}{2} + \frac{1}{2}$
- Capital of Chhattisgarh state by symbol  with name. $\frac{1}{2} + \frac{1}{2}$
- An international airport situated in eastern part of India by  symbol with name. $\frac{1}{2} + \frac{1}{2}$

(केवल दृष्टिबाधित परीक्षार्थियों के लिये मानचित्र कार्य के विकल्प के रूप में)

(Only for visually impaired examinees in lieu of Map work)

निर्देश : निम्नलिखित प्रश्नों के उत्तर अपनी उत्तर-पुस्तिका में लिखिए। मानचित्र का प्रयोग न कीजिए।

- पूर्ण स्वराज की माँग का प्रस्ताव कहाँ पारित हुआ था ? 1
- दिसम्बर, 1920 में कांग्रेस का अधिवेशन कहाँ हुआ था ? 1
- जलियाँवाला बाग हत्याकाण्ड किस जनपद में हुआ था ? 1
- आनन्द भवन कहाँ स्थित है ? 1
- सूती मिल के श्रमिकों ने कहाँ पहला सत्याग्रह किया था ? 1

[Turn over

1) **Instruction :** Write the answers of the following questions in your answer-book.
Do not use map.

- i) Where was the resolution of complete Independence passed ? 1
- ii) Where was the Congress session held in December, 1920 ? 1
- iii) In which district did the Jallianwala Bagh Massacre take place ? 1
- iv) Where is the Anand Bhawan located ? 1
- v) Where did the cotton mill workers first launch Satyagraha ? 1

11). निर्देश : निम्नलिखित प्रश्नों के उत्तर अपनी उत्तर-पुस्तिका में लिखिए। मानचित्र का प्रयोग न कीजिए।

- i) पश्चिम भारत में स्थित एक सॉफ्टवेयर टेक्नोलॉजी पार्क का नाम लिखिए। 1
- ii) पूर्वी भारत में स्थित एक लोहा और इस्पात संयंत्र का नाम लिखिए। 1
- iii) दक्षिण भारत में स्थित एक तापीय ऊर्जा संयंत्र का नाम लिखिए। 1
- iv) छत्तीसगढ़ राज्य की राजधानी का नाम लिखिए। 1
- v) पूर्वी भारत में स्थित एक अन्तरराष्ट्रीय हवाई पटन का नाम लिखिए। 1

12). **Instruction :** Write answers of the following questions in your answer-book. Do not use the map.

- i) Write the name of a software technology park situated in western part of India. 1
- ii) Write the name of an iron and steel plant situated in eastern part of India. 1
- iii) Write the name of a thermal power plant situated in southern part of India. 1
- iv) Write the name of the capital of Chhattisgarh state. 1
- v) Write the name of an international airport situated in eastern part of India. 1